

(أ) وضح كيف يتم تقسيم الدوائر الانتخابية.

(ب) ما النتائج المترتبة على ... ؟

(١) \* إحاطة دولة بدولة أخرى من جميع الجهات.

(٢) التنوع المناخي للدولة سياسياً.

(٣) الإجراءات التي تقدمها بعض الدول المتقدمة أمام العلماء.

(ج) أمامك خريطة صماء لإفريقيا،

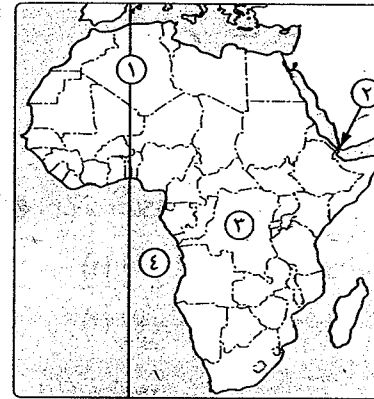
اكتب ما تدل عليه الأرقام :

(١) خط طول .....

(٢) مضيق .....

(٣) دولة ذات شكل مندمج ذو بروز .....

(٤) المحيط .....



(٤) (١) «يتكون نظام الانتخاب في الأساس من مجموعة من المكونات والمكونات».

في ضوء هذه العبارة وضح :

(١) أوجه الاختلاف بين نظام الانتخاب الفردي، ونظام الترشح بالقوائم.

(٢) مكونات النظام الانتخابي.

(٣) دلل جغرافياً على صحة هذه العبارة : «يتميز النظام البرلماني بعدة سمات وخصائص».

(ب) ماذا يحدث إذا ... ؟

(١) كانت الأقلية مركزة جغرافياً في مكان ما في الدولة.

(٢) لم توجد قوة عسكرية لدى أعضاء التكتل الاقتصادي.

(ج) ما المقصود بالمصطلحات الآتية ... ؟

(١) التكتلات الاقتصادية. (٢) النظام السياسي.

(٣) قلب الدولة. (٤) المياه التكميلية.

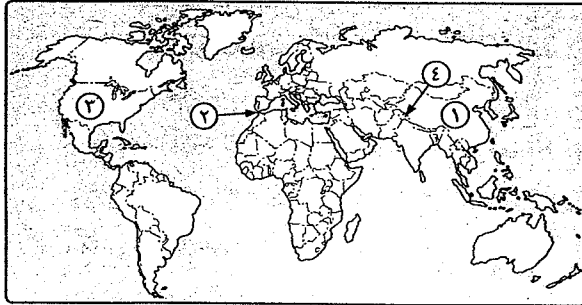
## ثانياً

## نماذج امتحانات كتاب الامتحان

مجان  
عن بعضها

### النموذج الأول

(أ) أمامك خريطة صماء للعالم، اكتب ما تدل عليه الأرقام :



(١) دولة وحدوية ضخمة

المساحة .....

(٢) مضيق .....

(٣) دولة ذات نظام

سياسي رئاسي

.....

(٤) مشكلة حدودية

.....

(ب) اختر الإجابة الصحيحة مما بين القوسين :

(١) تسير الحدود السياسية بين فرنسا وإسبانيا مع جبال .....

( الألب - القوقاز - اليرانس - الأورال )

(٢) جاء الميلاد الحقيقي للجغرافيا السياسية على يد العالم .....

( ابن خلدون - ألفرد ماهان - فريدريك راتزل - ماكيندر )

(٣) ظهرت التكتلات الاقتصادية في صورة مشروعات قدمتها الولايات المتحدة للدول

الأوروبية ودول .....

( شرق آسيا - شمال أفريقيا - أمريكا اللاتينية - الشرق الأوسط )

(٤) أخفق الحلف المركزي في استقطاب بعض الدول العربية مثل .....

( السودان واليمن - تونس والمغرب - مصر وسوريا - الكويت والبحرين )

(ج) ما العلاقة بين ... ؟ (١) حجم السكان في الصين، والعلاقات الدولية.

(٢) الجغرافيا السياسية، والعلوم السياسية.

(١) بم تفسر ... ؟

(١) أهمية الرئيات الفضائية في مجال الجغرافيا السياسية.

(٢) نشأة الجماعة الأوروبية للفحم والصلب عام ١٩٥١م.

(٣) تدهور العلاقات بين الاتحاد السوفيتي (سابقاً)، والولايات المتحدة.

(٤) اعتماد النظام الدولي العالمي الجديد على مبدأ المشروعية الدولية.

(ب) ضع علامة (✓) أمام العبارة الصحيحة، وعلامة (X) أمام العبارة غير الصحيحة.

مع ذكر السبب في الحالتين :

(١) ركزت نظرية قلب الأرض على أهمية القوات البحرية في حسم المعارك

( )

والسيطرة على بقاع مختلفة من العالم.

( )

(٢) المياه الدولية مشاع لدول العالم.

(٣) اختفت أهمية الإنسان في صراع البقاء والتقدم للدول في ظل التكنولوجيا

( )

المتقدمة.

( )

(٤) أثرت أزمة الطاقة في العلاقات الدولية في العالم.

( )

(٥) للجغرافيا السياسية أهمية بالنسبة للسياسيين والعسكريين.

(ج) قارن بين كل من :

(١) المجلس الأوروبي، والبرلمان الأوروبي.

(٢) الجغرافيا السياسية، والجيوبوليتيك.

(١) «الدولة إحدى الظواهر السياسية على خريطة العالم ومحور دراسة الجغرافيا السياسية».

في ضوء هذه العبارة أجب :

(١) ما المقصود بمفهوم الدولة ؟ وما أهم أركانها ؟

(٢) ما أهم الصفات المشتركة لسكان الأمة ؟

(٣) ما أوجه الشبه والاختلاف بين الدولة والأمة ؟

(ب) ما النتائج المترتبة على ... ؟

(١) قيام الحرب الفيتنامية وتأثيرها على دول جنوب شرق آسيا.

(٢) تأثير الحرب العالمية الأولى والثانية على خريطة العالم السياسية.

(٣) تصفية الاستعمار لمستعمراته منذ الحرب العالمية الثانية.

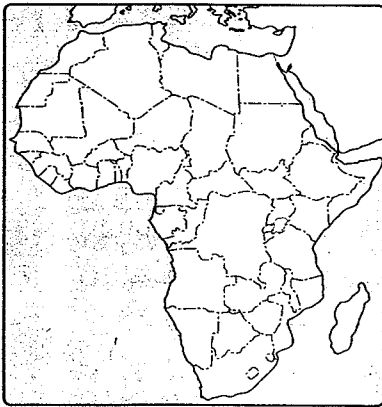
(ج) ما المقصود بكل من ... ؟

(١) العولة.

(٢) النظام السياسي في صورته التنظيمية.

(٣) القوة الديموغرافية.

(٤) الأتهار الدولية.



(١) أمامك خريطة صماء لإفريقيا ،

حدد عليها ما يلي :

(١) مضيق باب المندب.

(٢) دولة محتواة.

(٣) بحيرة فيكتوريا.

(٤) دولة حبيسة.

(ب) دتل على صحة العبارات الآتية :

(١) يسهم التنوع المناخي للدولة في الاقتراب

من درجة الاكتفاء الذاتي.

(٢) للهجرة السكانية آثار إيجابية وأخرى سلبية على الدول المرسله والدول المستقبلة للمهاجرين.

(٣) ساعد النظام العالمي الدولي الجديد على سيطرة الدول الرأسمالية الكبرى على موارد

دول العالم الثالث.

(٤) أضافت نظم الاستشعار عن بُعد والخرائط الإلكترونية إضافة هائلة لعلم الجغرافيا

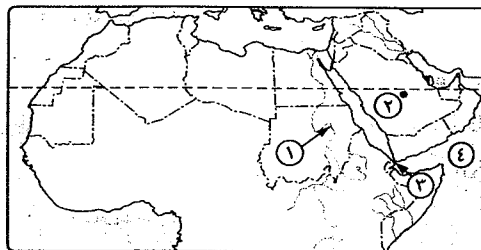
السياسية.

(ج) ماذا يحدث إذا ... ؟

(١) كانت الأقلية مركزة جغرافيًا في مكان ما في الدولة.

(٢) كان هناك عدم ثقة في إجراءات وممارسات العملية الانتخابية.

### النموذج الثاني



(١) أمامك خريطة صماء للوطن العربي،

اكتب ما تدل عليه الأرقام :

(١) نهر دولى .....

(٢) مقر مجلس التعاون لدول

الخليج العربي مدينة .....

(٣) مضيق .....

(٤) مسطح مائي .....

(ب) قارن بين :

(١) الدولة الفيدرالية، والدولة الكونفدرالية من حيث الخصائص، مع ذكر الأمثلة.

(٢) معاهدة باريس ١٨٥٦م، واتفاقية برشلونة عام ١٩٢١م الخاصة بالأنهار الدولية.

(ج) ما النتائج المترتبة على ... ؟

- (١) التقدم العلمي والتكنولوجي وتأثيره على مناخ الدولة.
- (٢) وجود نسبة كبيرة من البطالة بين السكان.
- (٣) احتكار دول الغرب الرأسمالية للسلاح والمال والتكنولوجيا.
- (٤) الحرب الأهلية بين شطرى السودان.

(١) اختر الإجابة الصحيحة مما بين القوسين :

- (١) أحد الأجهزة التابعة للأمم المتحدة ويهدف إلى تطوير التعاون الدولي .....  
( مركز التجارة الدولي - البنك الدولي للإنشاء والتعمير - منظمة الفاو - صندوق النقد الدولي )
- (٢) تُعد دولة ..... آخر الدول الأوروبية التي انضمت إلى الاتحاد الأوروبي حتى عام ٢٠١٣ م.

- (٣) أعلنت دولة ..... حل حلف وارسو رسمياً.  
( روسيا - ألمانيا الشرقية - رومانيا - المجر )
- (٤) رسمت بعض الحدود البحرية وفقاً لاتفاقيات محددة كما هو الحال في بحيرة  
( إيرى - إنباريو - هورن - شيكتوريا )

(ب) «كان للاستعمار أيادي أثرت سلبيًا على خريطة الوطن العربي السياسية».

في ضوء هذه العبارة أجب :

- (١) ما المقصود بـ : المشكلة السياسية ؟
- (٢) ما علاقة الاستعمار بمشكلة سبئية ومليلة ؟
- (٣) وضح أهم التغيرات التي تعرضت لها خريطة العالم في نهاية القرن العشرين.

(ج) ما الفرق بين ... ؟

- (١) العاصمة، وقلب الدولة.
- (٢) البيروسترويك، والجلاسنوست.

(١) اذكر : (١) شروط كوينهاجن للانضمام للاتحاد الأوروبي.

(٢) أسس قيام النظام الدولي العالَمى الجديد.

(ب) يم تفسر ... ؟

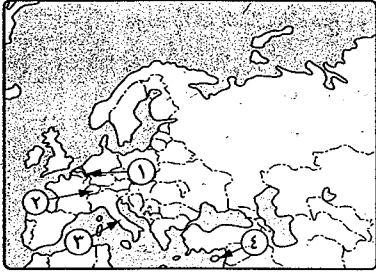
- (١) أهمية الحكومة وعلى رأسها الحاكم بالنسبة للدولة.
- (٢) أوحى الولايات المتحدة الأمريكية لبعض دول جنوب شرق آسيا إقامة حلف عسكري بعد عام ١٩٤٩ م.
- (٣) صعوبة هزيمة واحتلال الدول ذات الحجم الكبير من السكان.
- (٤) النزاع على الأنهار الدولية.

(ج) ما العلاقة بين ... ؟

- (١) المساحة الكبيرة للدولة، وقوة الدولة.
- (٢) المقومات العسكرية، وقيام التكتلات الاقتصادية.

(١) أمامك خريطة لقارة أوروبا،

اكتب ما تدل عليه الأرقام :



- (١) حد سياسى طبيعى .....
- (٢) دولة متعددة اللغات .....
- (٣) دولة ذات شكل مستطيل .....
- (٤) دولة قزمية فى عدد سكانها .....

(ب) أثبت بالأدلة صحة العبارات الآتية :

- (١) موارد الطاقة من أهم الموارد التى لعبت دورًا بارزًا فى الصراعات الدولية.
- (٢) وظيفة الحد المائى لا تقل أهمية وخطورة بالنسبة للدول عن حدها البرى.
- (٣) تشعبت العلاقات الدولية بين دول العالم فى الوقت الحالى.
- (٤) الكثير من عناصر الأمة ليس ضرورى للدولة.

(ج) ما المقصود بكل من ... ؟

- (١) العلاقات الدولية.
- (٢) الجغرافيا السياسية.
- (٣) التقسيم الاجتماعى داخل الدولة.
- (٤) التخوم.

### النموذج الثالث

(١) دلل على صحة أو خطأ العبارات الآتية :

- (١) أصبحت الجغرافيا السياسية «جغرافية حية على الهواء».
- (٢) تم تهجير أهالى النوبة بسبب دوافع قومية.
- (٣) ظهر الاستقطاب العالمى فى بداية التسعينيات بين كتلتين تنازعتا السيادة على خريطة العالم.
- (٤) توجد قاعدة واحدة لتحديد الميكانة الإقليمية تلتزم بها كل دول العالم.
- (٥) يؤثر الموقع الاستراتيجى للدولة فى وزنها السياسى بين الدول.

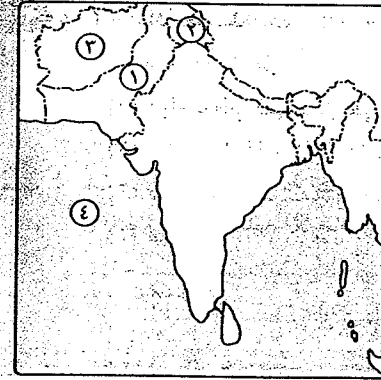
(ب) أمامك خريطة للهند، اكتب

ما تدل عليه الأرقام :

- (١) دولة .....  
 (٢) مشكلة حدودية .....  
 (٣) دولة ذات شكل مندمج ذو بروز .....  
 (٤) مسطح مائي .....

(ج) حدد شكل الدولة التي ينتمى إليها كل من :

- (١) فرنسا .  
 (٢) إندونيسيا .  
 (٣) الكونغو .  
 (٤) منغوليا .



(١) اختر الإجابة الصحيحة مما بين القوسين :

- (١) جامعة الدول العربية من المنظمات .....  
 (العالمية - الإقليمية - الاقتصادية - العسكرية)  
 (٢) اعتبر العالم ..... أن الأراضي هي جسم الدولة وأن العاصمة هي قلبها .  
 ( هالفورد ماكيندر - ابن خلدون - رودلف كيلين - فريدريك راتزل )  
 (٣) من الدول التي تشرف على البحر بواجهة واحدة .....  
 ( السعودية - شيلي - فرنسا - المغرب )  
 (٤) يتولى مسؤولية الحكم في النظام البرلماني .....  
 ( رئيس الدولة - الملك - رئيس الوزراء - رئيس البرلمان )

(ب) ما النتائج المترتبة على ... ؟

- (١) إحاطة دولة بدولة أخرى من جميع الجهات .  
 (٢) التطورات الحديثة التي طرأت على وسائل الحرب بالنسبة لوظيفة الحد الأمن للحدود السياسية .  
 (٣) العولمة وظهور الشركات متعددة الجنسيات .  
 (٤) تفكك الاتحاد السوفيتي ويوغسلافيا (بالنسبة للأقليات) .

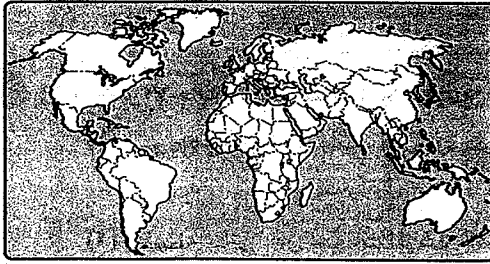
(ج) ما الفرق بين ... ؟

- (١) العواصم الصناعية، والعواصم القسمة، مع ذكر الأمثلة .....  
 (٢) الدول البحرية، والدول الحبيسة مع ذكر الأمثلة .....  
 (٣) الدول الحبيسة، والدول الحبيسة مع ذكر الأمثلة .....  
 (٤) الدول الحبيسة، والدول الحبيسة مع ذكر الأمثلة .....

(١) أمامك خريطة صماء للعالم،

حدد عليها ما يلي :

- (١) دولة يتغلب فيها دين على آخر .  
 (٢) من الدول المرسلات للمهاجرين .  
 (٣) دولة وحدودية لنموذج مثالي .  
 (٤) دولة فيها أقليات قومية .



(ب) بم تفسر ... ؟

- (١) أهمية الدولة كظاهرة سياسية .  
 (٢) تعدد الدولة الكونفدرالية أقل أنواع الدول شيوعاً وأكثرها هشاشة .  
 (٣) تعدد التضاريس من العوامل المؤثرة في قوة الدولة .  
 (٤) فشل وانهيار عصبة الأمم .

(ج) ما العلاقة بين ... ؟

- (١) الحبوب الغذائية، والأمن القومي للدولة .  
 (٢) الخصائص الثقافية للدول، والتكتلات الاقتصادية .  
 (٣) زيادة عدد السكان، وجرفة الرعي .  
 (٤) مساحة الدولة، وقوتها .

(١) «تعد الأحلاف العسكرية قديمة قدم التاريخ، فقد شهد العالم على مر العصور صوراً

مختلفة منها، وقد زاد انتشارها واتسع نطاق الدول التي تشترك فيها، بحيث أصبحت أحد المعالم الرئيسية لسياسة توازن القوى المعاصرة». في ضوء هذه العبارة وضح :

- (١) أهداف حلف جنوب شرق آسيا .  
 (٢) أهم نشاطات حلف شمال الأطلسي في حفظ السلام العالمي .  
 (٣) الطرق التي اتبعها زعماء حلف الناتو لتطوير استراتيجية الحلف .

(ب) ما المقصود بكل من ... ؟

- (١) المياه الإقليمية .  
 (٢) الهجرة الدولية .  
 (٣) الحرب .  
 (٤) الدولة الكونفدرالية .

(ج) ماذا يحدث إذا ... ؟

- (١) لم يتم ترسيم الحدود السياسية وتخطيطها بين الدول .  
 (٢) تواجد حجم سكاني مناسب في الدول التي يضمها التكتل الاقتصادي .

## التمودج الرابع

(١) اختر الإجابة الصحيحة مما بين القوسين :

(١) ظهر مصطلح الجيوبولتيك لأول مرة على يد العالم السويدي .....  
( فرديريك راتزل - ألفرد ماهان - رودلف كيلين - هالفورد ماكيندر )

(٢) يُعتبر ..... من مكونات المركب الإقتصادي للدولة.

( الشكل - المساحة - التضاريس - الموارد المعدنية )

(٣) فقد العالم التوازن في القوى بعد .....

( تكون حلف الناتو - انهيار الاتحاد السوفيتي - التطور المذهل للصين - تكون حلف وارسو )

(٤) اتخذ مجلس التعاون لدول الخليج العربي مدينة ..... مقراً له.

( الرياض - أبو ظبي - المنامة - الشارقة )

(٥) اتجهت الدول لحل النزاعات الدولية بينها في السلم عن طريق .....

( التحكيم - المساعي الحميدة - الوساطة - جميع ما سبق )

(ب) يم تفسر ... ؟

(١) حدوث الهجرة الإيجابية.

(٢) أهمية الموقع البحري للدولة.

(٣) تعتبر الجبال بمثابة خطوط دفاعية.

(٤) تأسيس قوات درع الجزيرة المشتركة عام ١٩٨٢م.

(ج) أمامك خريطة صماء لمصر، اكتب

مدلول الأرقام الموضحة عليها :

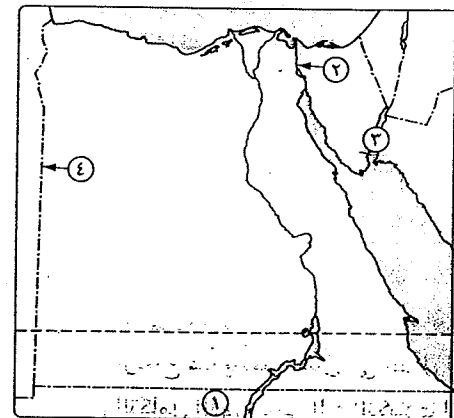
(١) اسم الدولة المجاورة لمصر

جنوبياً .....

(٢) ممر مائي .....

(٣) خليج .....

(٤) خط طول .....



(١) «تطالعنا وسائل الإعلام سواء المرئي أو المسموع من حين لآخر بأن بعض الدول تعاني

من مشكلات سياسية عديدة». في ضوء هذه العبارة وضح أسباب كل مما يأتي :

(١) مشكلة كشمير.

(٢) تمسك إسبانيا بالسيطرة على مدينة سبتة ومليلة.

(٣) قيام بعض الدول القوية بتحديد مناطق لها في وسط المحيط.

(ب) ما أوجه الشبه والاختلاف بين ... ؟

(١) الدولة، والأمة.

(٢) الجغرافيا السياسية، والجيوبولتيك.

(ج) ما المقصود بالمصطلحات الجغرافية الآتية ... ؟

(١) الدول الحبيسة. (٢) الرصيف القاري. (٣) الأحلاف العسكرية.

(١) دلال على صحة أو خطأ العبارات الآتية :

(١) تُعد المناطق المرتفعة في الدولة مناطق ضعف.

(٢) يؤدي المناخ المتطرف إلى الحد من فاعلية الأنشطة البشرية.

(٣) تتعدد وظائف الحدود السياسية في العالم.

(٤) توجد العديد من الإجراءات لتحقيق التكامل الاقتصادي بين الدول.

(٥) تمتلك الدول العربية سلاح اقتصادي يمكنها من تحقيق أهدافها السياسية.

(ب) ماذا يحدث إذا ... ؟

(١) تعاون العالم من أجل مواجهة المشكلات الاقتصادية.

(٢) حاولت دولة ما تكوين قوة عسكرية دون أن يكون لديها موارد اقتصادية.

(ج) ما الفرق بين ... ؟

(١) الأنهار المحلية، والأنهار الدولية.

(٢) الحدود السياسية، والتخوم.

(١) ما النتائج المترتبة على ... ؟

(١) تطور وسائل النقل الجوي والأقمار الصناعية بالنسبة للجغرافيا السياسية.

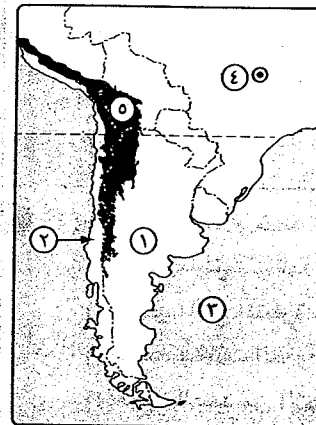
(٢) ارتفاع فئة صغار السن في الدول النامية.

(٣) التكامل الذي تسعى إليه التكتلات الاقتصادية.

(ب) «تُجرى الانتخابات في كل مكان في العالم، فهي لا تقتصر على الجانب السياسي، ولكنها موجودة في كل مجالات المجتمع». في ضوء هذه العبارة وضع :

- (١) مفهوم النظام السياسي في صورته الاجتماعية.
- (٢) شروط ومهام الانتخابات.
- (٣) كيف يتم تقسيم الدوائر الانتخابية.
- (٤) قواعد وأسس النظام الانتخابي.

### النموذج الخامس



(١) أمامك خريطة لجزء من قارة أمريكا الجنوبية ،

اكتب ما تدل عليه الأرقام :

- (١) دولة .....
- (٢) دولة ذات شكل مستطيل .....
- (٣) المحيط .....
- (٤) عاصمة صناعية .....
- (٥) حد سياسي طبيعي .....

(ب) دتل على صحة العبارات الآتية :

- (١) هناك العديد من الأهداف المعلنة للنظام الدولي العالمي الجديد.
- (٢) كان للعلماء المسلمين إسهامات عظيمة في مجال الجغرافيا السياسية.
- (٣) تعد وسائل النقل من الأمور الضرورية للدول العصرية.
- (٤) شهدت خريطة العالم السياسية تغيرات سريعة في أواخر القرن العشرين.

(ج) ما المقصود بكل من ... ؟

- (١) النفوذ.
- (٢) الحدود السياسية.
- (٣) النظام الدولي العالمي الجديد.
- (٤) الشكل الجزأ للدولة.

(١) ضع علامة (✓) أمام العبارة الصحيحة، وعلامة (X) أمام العبارة غير الصحيحة، مع ذكر السبب في الحالتين :

- (١) جاء الميلاد الحقيقي للجغرافيا السياسية على يد هالفورد ماكيندر. ( )
- (٢) يمنح ضخامة عدد سكان الدولة قوة في الحروب. ( )
- (٣) نشأ حلف جنوب شرق آسيا مع ظهور الصين كقوة عظمى في آسيا. ( )
- (٤) أول من طرح فكرة النظام العالمي الجديد هو الرئيس الأمريكي جورج بوش الأب. ( )

(ب) يم تفسر... ؟

- (١) الصراع الراهن في النظام الدولي العالمي حول التكنولوجيا.
  - (٢) انسحاب باكستان من الحلف المركزي.
  - (٣) تمسك إسبانيا بالسيطرة على مدينة سبتة ومليلة.
  - (٤) تُعد الحماية والأمن الوظيفية الأكثر أهمية للحدود السياسية.
- (ج) ما الفرق بين ... ؟ (١) الحدود السابقة، والحدود المنطبقة مع ذكر الأمثلة.
- (٢) نظام الترشيح الفردي، ونظام الترشيح بالقوائم.

(١) وضع : (١) العوامل المؤثرة في نشأة الحدود السياسية بين الدول.

(٢) الأثر الدولي والإقليمي لحلف الناتو.

(ب) اختر الإجابة الصحيحة مما بين القوسين :

- (١) نُقل مقر حلف بغداد إلى ..... بعد نجاح الثورة في العراق عام ١٩٥٨م.
- (إيران - تركيا - باكستان - بريطانيا)
- (٢) من الدول التي منحتها الأمم المتحدة حق الفيتو .....
- (الولايات المتحدة الأمريكية - الصين - روسيا - جميع ما سبق)
- (٣) يفصل مضيق ..... بين اليمن وبين الصومال وجيبوتي.
- (هرمز - باب المندب - ملقا - جبل طارق)
- (٤) تهدف منظمة ..... إلى العناية بالريف بصفة خاصة.
- (الأغذية والزراعة الدولية - البنك الدولي للإنشاء والتعمير - الأمم المتحدة للتنمية الصناعية - صندوق النقد الدولي)

(ج) قارن بين :

- (١) المساحة الكبيرة، والمساحة الصغيرة للدولة من حيث الآثار الإيجابية.
- (٢) الاتحاد الأوروبي، ومجلس التعاون لدول الخليج العربي من حيث الأهداف.

(١) «الدولة وحدة سياسية تحكمها حكومة مستقرة تسيطر على شئونها الداخلية والخارجية ولها حدود مرسومة بكل دقة فرضتها الأوضاع السياسية المحيطة بهذه الدولة».

في ضوء هذه العبارة أجب :

- (١) ما العوامل التي تساعد على اختيار عاصمة للدولة ؟
- (٢) دلال : توجد عدة عوامل تؤثر في أهمية مساحة الدولة.
- (٣) اذكر أنواع مناطق قلب الدولة حسب الأهمية.

(1) «النظام العالمي الجديد هو مجموعة من الإجراءات والقوانين التي تضبط العلاقات الدولية وتحدد الخريطة السياسية لعالم ما بعد الحرب الباردة». في ضوء هذه العبارة وضع :

- (١) المبادئ الحاكمة للنظام الدولي العالمي الجديد.
- (٢) أسس قيام النظام الدولي العالمي الجديد.

(ب) ما العلاقة بين ... ؟

- (١) الجغرافيا السياسية، وعلم العلاقات الدولية.
- (٢) اللغة، وقوة الدولة السياسية.
- (٣) التوزيع الجغرافي للأقلية وتماسك الدولة واستقرارها.

(ج) ما المقصود بالمصطلحات الجغرافية الآتية ... ؟

- (١) الحدود الهندسية. (٢) الأمة. (٣) الرصيف القارى.

(1) يم تفسر ... ؟

- (١) أهمية المراتب الفضائية فى مجال الجغرافيا السياسية.
- (٢) تمثل الغابات مورداً مهماً من الموارد الطبيعية للدولة.
- (٣) يُعد قياس قوة الدولة من الأمور المعقدة ويصعب على الأفراد القيام بها.
- (٤) أهمية الحدود السياسية البحرية والمياه الإقليمية.

(ب) «التكتلات الاقتصادية وسيلة تلجأ إليها دول معينة ضمن حيز مكاني لتحقيق أهداف محددة». فى ضوء هذه العبارة وضع :

- (١) أهداف قيام التكتلات الاقتصادية.
- (٢) أهداف نشأة المجموعة الأوروبية للفحم والصلب عام ١٩٥١م.
- (٣) أسباب نشأة حلف جنوب شرق آسيا.

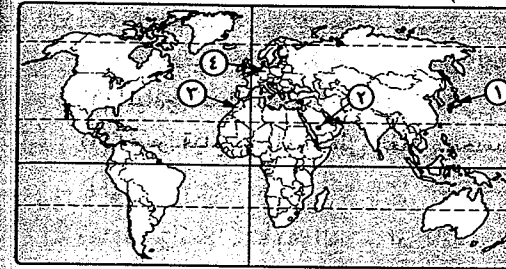
(ج) فى ضوء دراستك للنظام السياسى والانتخابات بالدولة، وضع مكونات النظام الانتخابى.

(1) «تعد الحدود الطبيعية من أقوى الحدود التي تفصل بين الدول». فى ضوء هذه العبارة وضع :

- (١) المقصود بالحدود الطبيعية.
- (٢) مزايا وعيوب الأنهار كحدود سياسية.
- (٣) العوامل والمتغيرات التي تؤثر على مستقبل خريطة العالم السياسية.

(ب) ماذا يحدث إذا ... ؟

- (١) لم يتم ترسيم الحدود السياسية وتخطيطها بين الدول.
- (٢) لم تشتعل الحروب الأهلية فى السودان.



(ب) أمامك خريطة للعالم، اكتب ما

تدل عليه الأرقام التي عليها :

- (١) دولة موحدة ومجزأة .....
- (٢) منطقة قلب ذات أهمية ثقافية ودينية .....
- (٣) دولة تشرف على البحر بوجهتين .....
- (٤) دولة يغلب عليها الطابع السهلى .....

(ج) صنف هذه العواصم وانسبها إلى دولها :

- (١) أمستردام. (٢) طوكيو. (٣) لندن.

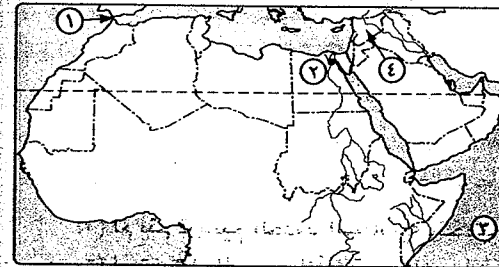
### النموذج السادس

(1) حدد أى العبارات الآتية صحيحة، وأيها خطأ، مع ذكر السبب فى الحالتين :

- (١) تختلف الدول البحرية من حيث إشرافها على المسطحات المائية.
- (٢) الهجرة السكانية لها آثار إيجابية وأخرى سلبية على الدولة المرسله والدولة المستقبلة للمهاجرين.
- (٣) يحق لأى دولة أن تتدخل فى حرية الملاحة فى المياه الدولية.
- (٤) لا تتنوع الخصائص الطبيعية فى الاتحاد الأوروبى.
- (٥) القوة والوزن السياسى للدول على المسرح الدولى وجهان لعملة واحدة.

(ب) ما النتائج المترتبة على ... ؟

- (١) تطور وسائل الاتصالات وتكنولوجيا المعلومات على الجغرافيا السياسية.
- (٢) تركّز سكان الدول فى جهات محددة.
- (٣) إزالة الحواجز الجمركية وتخفيض تكاليف الإنتاج داخل التكتلات الاقتصادية.



(ج) أمامك خريطة للوطن العربى،

اكتب ما تدل عليه الأرقام :

- (١) مضيق .....
- (٢) عاصمة طبيعية .....
- (٣) مسطح مائى .....
- (٤) دولة تشرف بواجهة بحرية واحدة .....

(ج) قارن بين :

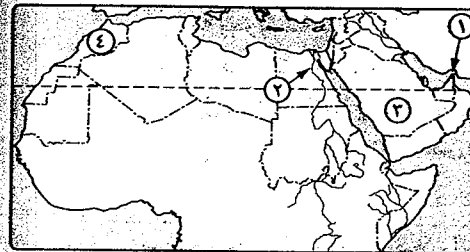
- (١) حلف شمال الأطلسي، وحلف وارسو من حيث :  
\* النشأة. \* الأهداف. \* الأعضاء.
- (٢) خصائص النظام الرئاسي، وخصائص النظام البرلماني.
- (٣) إسهامات أرسطو، وإسهامات ابن خلدون في مجال الجغرافيا السياسية.

### النموذج السابع

(١) اختر الإجابة الصحيحة مما بين القوسين :

- (١) من مجهودات حلف الناتو تدخله للتخفيف من آثار الزلزال الذي ضرب .....  
عام ٢٠٠٦م. (البوسنة - مقدونيا - باكستان - العراق)
- (٢) عدلت دولة ..... حدود مياهها الإقليمية لتصل إلى ٢٠٠ ميل بحري.  
(الصين - الولايات المتحدة الأمريكية - السعودية - مصر)
- (٣) الحد السياسي بين مصر وليبيا حد ..... في معظمه.  
(فلكي - طبيعي - حضاري - جبلي)
- (٤) ظهر مبدأ الفصل بين السلطات على يد الفيلسوف الفرنسي .....  
(راتزل - ماكيندر - هوسهوفر - مونتسكيو)

(ب) أمامك خريطة صماء للوطن العربي، اكتب ما تدل عليه الأرقام :



- (١) مضيق .....
- (٢) من أقدم المناطق المعمورة  
في العالم .....
- (٣) دولة تنتمي لمجلس التعاون  
لدول الخليج العربي .....
- (٤) دولة تشرف بواجهتين بحريتين  
.....

(ج) بم تفسر ... ؟

- (١) الجغرافيا السياسية لها صلة وثيقة بعلم التاريخ.
- (٢) تحاول الدولة أن تكون عاصمتها محصنة وبعيدة عن الحدود.
- (٣) زيادة أهمية المياه للمخاضنة والأرضفة القارية.
- (٤) أهمية التقسيم الاجتماعي داخل الدولة كأحد مكونات المركب الاقتصادي.

(١) «بعد مجلس التعاون لدول الخليج العربي منظمة سياسية واقتصادية إقليمية»

في ضوء هذه العبارة أجب :

- (١) قارن بين : المجلس الأعلى، والمجلس الوزاري كمؤسسات لمجلس التعاون لدول الخليج العربي.
- (٢) وضح أهم الخصائص التي تزيد من تلاحم سكان دول المجلس.
- (٣) أذكر الدول الأعضاء في هذا المجلس.

(ب) ما النتائج المترتبة على ... ؟

- (١) الشكل المستطيل للدولة.
- (٢) التغيير في مكونات وعناصر قوة الدولة نتيجة التطورات التكنولوجية.
- (٣) التغييرات المناخية التي شهدتها دول غرب إفريقيا في سبعينيات وثمانينيات القرن العشرين.
- (٤) إعلان جورجيا تشوف استقلالته من رئاسة الاتحاد السوفيتي.

(ج) ما العلاقة بين ... ؟

- (١) تطور وسائل الاتصالات، وتطور علم الجغرافيا السياسية.
- (٢) دور الهجرة، والصراعات السياسية المعاصرة.

(١) أمامك خريطة صماء لقارة آسيا عام ١٩٨٩م،

اكتب ما تدل عليه الأرقام :

- (١) دولة مؤسسة لحلف وارسو .....
- (٢) دولة بحرية مجزأة .....
- (٣) دولة بها أقاليم دينية .....
- (٤) من دول مجلس التعاون لدول الخليج  
العربي .....

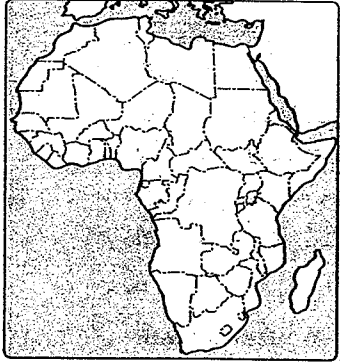
(ب) ما الفرق بين ... ؟

- (١) منطقة الهلال الخارجي، والهلال الداخلي حسب نظرية القوة البرية.
- (٢) القائمة المغلقة، والقائمة المفتوحة في النظام الانتخابي.

(ج) دال على صحة العبارات الجغرافية الآتية :

- (١) للأمم المتحدة دور في حل بعض المشكلات السياسية ولكنها عاجزة عن حل بعض المشكلات.
- (٢) توجد العديد من الاتفاقيات الخاصة بتنظيم حركة الرعاة.
- (٣) تُعد الدوافع الاقتصادية من أهم دوافع الهجرة الدولية.
- (٤) توجد خلفيات تاريخية للنظام الدولي العالمي الجديد.





- (ج) أمامك خريطة لإفريقيا،  
انقلها في كراسة الإجابة،  
ثم حدد عليها ما يلي :
- (١) قناة السويس.
  - (٢) دولة حبيسة.
  - (٣) دولة بحرية.
  - (٤) دولة ذات شكل مندمج وبيروز.

(١) بم تفسر ... ؟

- (١) تعديل الولايات المتحدة الأمريكية لمياهها الإقليمية إلى ٢٠٠ ميل بحري.
- (٢) تحولت تبعية منطقة بانكو من تبعية الولايات المتحدة إلى المكسيك.
- (٣) أهمية الاندماج في أي تكتل في الوقت الحالي.

(ب) ما النتائج المترتبة على ... ؟

- (١) هجمات ١١ سبتمبر ٢٠٠١ م على مركز التجارة العالمي بالنسبة للعلاقات الروسية الأمريكية.
- (٢) التقدم العلمي والتكنولوجي وتأثيره على مناخ الدولة.
- (٣) التطورات الحديثة التي طرأت على وسائل الحرب على وظيفة الحد الأمن.

(ج) ما العلاقة بين ... ؟

- (١) مساحة الدولة، وعلاقاتها الدولية.
- (٢) مجلس الاتحاد الأوروبي، والبرلمان الأوروبي.

(١) «تحتل الجغرافيا السياسية باهتمام كبير في الوقت الحاضر لأهميتها المختلفة».

في ضوء هذه العبارة وضح :

- (١) من وجهة نظرك هل كان للعلماء المسلمين دور في مجال الجغرافيا السياسية وضع ذلك.
- (٢) أوجه الشبه والاختلاف بين الدولة والأمة.
- (٣) يُعد الشكل المنتظم أكثر الأشكال أهمية للدولة في الجغرافيا السياسية. دلل جغرافيًا ؟
- (٤) من وجهة نظرك هل الدولة الأكثر سكانًا في العالم تُعد الأقوى عسكريًا وسياسيًا ؟ ولماذا ؟

(١) «إن المشكلات التي تهدد أمن الدول سواء من الداخل أو من الخارج هي في معظمها

إرث الدول الاستعمارية». في ضوء هذه العبارة أجب :

- (١) ما أسباب مشكلة سبته ومليلة ؟
- (٢) قارن بين : الحجج التي اعتمدت عليها كل من الهند، وباكستان في المطالبة بكشمير.
- (٣) اذكر مقترحات الأمم المتحدة لحل نزاع كشمير.
- (٤) اذكر أهم المشكلات السياسية المزمته التي تهدد أمن الأوطان.

(ب) ما المقصود بكل من ... ؟

- (١) الجغرافيا السياسية.
- (٢) النظام السياسي في صورته الاجتماعية.
- (٣) الحدود التالية.
- (٤) الأنهار المحلية.

(ج) ماذا يحدث إذا ... ؟

- (١) تعاون العالم من أجل مواجهة المشكلات الاقتصادية.
- (٢) تمكنت دولة صغيرة من هزيمة دولة أكبر منها سكانًا.
- (٣) أزيلت الحواجز الجمركية بين الدول العربية.

## النموذج الثامن

(١) اختر الإجابة الصحيحة مما بين القوسين :

- (١) يعتبر ..... أول من وضع مؤلف علمي في الجغرافيا السياسية حمل اسمها الحالي. ( أرسطو - راتزل - رودلف كيلين - هوسهوفر )
- (٢) تتكون أركان الدولة من الأرض والشعب والسلطة و ..... ( السيادة - الموارد الطبيعية - الموارد البشرية - القوانين )
- (٣) مع انهيار الاتحاد السوفيتي انهارت معه منظمة اقتصادية كانت تعرف ب ..... ( الكوميسا - الأوك - النافتا - الكوميكون )
- (٤) تم توقيع ميثاق حلف الناتو في مدينة ..... ( بروكسل - لندن - برلين - واشنطن )
- (٥) تحول اسم السوق الأوروبية المشتركة بتوقيع معاهدة ..... عام ١٩٩٢ م. ( ماسترخيت - روما - مدريد - برشلونة )

(ب) ماذا يحدث إذا ... ؟

- (١) لم توجد قوة عسكرية لدى أعضاء التكتل الاقتصادي.
- (٢) تعاون العالم من أجل مواجهة المشكلات الاقتصادية.

(ب) ما المقصود بالمصطلحات الجغرافية الآتية ... ؟

- (١) العاصمة. (٢) التكنولوجيا.  
(٣) الأقليات. (٤) العولة.

(١) حدد أى العبارات الآتية صحيحة، وأيها خطأ موضحاً السبب :

- (١) نظم الاستعمار عن بُعد تساعد متخذى القرار فى اتخاذ القرارات السياسية.  
(٢) تُعد قارة أوروبا أكثر القارات التى بها دول حبيسة وتليها قارة آسيا.  
(٣) المقومات العسكرية تعتبر شرطاً لقيام أى كتل اقتصادى بين الدول.  
(٤) يُعد سقوط الاتحاد السوفيتى جرس إنذار للدول النامية.

(ب) «الدولة أكثر الظواهر السياسية وضوحاً على خريطة العالم السياسية».

فى ضوء هذه العبارة وضع :

- (١) أسباب أهمية دراسة مقومات الدولة.  
(٢) أهمية الموقع البحرى للدول.  
(٣) مزايا وعيوب المساحة الصغيرة للدولة.  
(٤) نتائج وجود نظام نقل متطور ومتكامل فى الدولة.  
(٥) أنواع القوائم الانتخابية بالدولة.

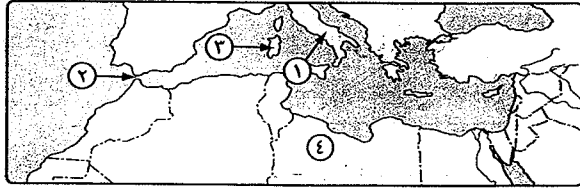
### النموذج التاسع

(١) ضع علامة (✓) أمام العبارة الصحيحة، وعلامة (X) أمام العبارة غير الصحيحة،

مع ذكر السبب فى الحالتين :

- (١) تُعد ظاهرة القوى الكبرى ضمن الظواهر السياسية التى كانت دائماً موجودة على خريطة العالم السياسية. ( )  
(٢) أثر التطور المعرفى والتكنولوجى الذى شهده العالم فى تطور علم الجغرافيا السياسية. ( )  
(٣) اتجه اهتمام الدول الغربية المتقدمة فى ظل النظام العالمى الجديد نحو الدول النامية بدلاً من دول أوروبا الشرقية. ( )  
(٤) تنوع الموارد الاقتصادية الأولية أو الطبيعية عامل أساسى لنجاح التكتلات الاقتصادية. ( )

(ب) أمامك خريطة لدول حوض البحر المتوسط، اكتب ما تدل عليه الأرقام :



- (١) دولة برية بحرية مجزأة ..... (٢) مضيق .....  
(٣) جزيرة ..... (٤) دولة .....

(ج) بم تفسر ... ؟

- (١) أهمية الدولة كمجال لدراسة الجغرافيا السياسية.  
(٢) يُعد أرسطو أشهر من كتب فى الجغرافيا السياسية.  
(٣) تعمل الحدود السياسية على الحماية الاقتصادية للدول.  
(٤) النزاعات السياسية المترتبة على حركة القبائل بين الوحدات السياسية.

(١) «جاءت الحرب العالمية الثانية بنتائج أحدثت تحولات أساسية فى العلاقات الدولية».

فى ضوء هذه العبارة أجب عما يأتى :

- (١) وضع تطور العلاقات الدولية فى العصور القديمة.  
(٢) وضع أهم التغيرات التى طرأت على العلاقات الدولية بعد انتهاء الاتحاد السوفيتى.  
(٣) دال : حدوث مرحلة التعايش السلمى (١٩٥٣-١٩٦٩م) فى العلاقات بين الولايات المتحدة الأمريكية والاتحاد السوفيتى (سابقاً).  
(٤) قارن بين : مرحلة المواجهة ومرحلة تراجع الوفاق فى الحرب الباردة.

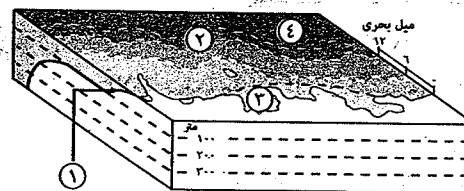
(ب) ما المقصود بكل من ... ؟

- (١) المواقع الاستراتيجية.  
(٢) الحدود المنطبعة.  
(٣) الهجرة الإجبارية.  
(٤) التكتلات الاقتصادية.

(ج) ما العلاقة بين ... ؟

- (١) قوات درع الجزيرة المشتركة، والحرب العراقية الإيرانية.  
(٢) توزيع الثروة على قطاعات الاقتصاد المختلفة، وقوة الدولة.  
(٣) التنظيم الحكومى، وقوة الدولة.

(أ) أمامك رسم تخطيطي لأنواع المناطق المائية، اكتب ما تدل عليه الأرقام الآتية :



- (١) .....
- (٢) .....
- (٣) .....
- (٤) .....

(ب) ما النتائج المترتبة على ... ؟

- (١) الثورة الصناعية على الجغرافيا السياسية.
- (٢) وجود نظام نقل متطور ومتكامل داخل الدولة.
- (٣) انهيار الاتحاد السوفيتي وإلغاء الهيكل العسكري لحلف وارسو عام ١٩٩١م.

(ج) حدد نوع قلب الدولة التي ينتمي إليها كل من :

- (١) إقليم البحيرات العظمى.
- (٢) جنوب أفغانستان.
- (٣) مكة المكرمة.

(١) اختر الإجابة الصحيحة مما بين القوسين :

- (١) أدى انتصار الشيوعية في الحرب الفيتنامية إلى نشأة حلف .....
- (شمال الأطلنطي - وارسو - جنوب شرق آسيا - الحلف المركزي)
- (٢) من أصغر خمس دول في العالم من حيث المساحة .....
- (البحرين - الفاتيكان - سويسرا - لبنان)
- (٣) تم الإعلان رسمياً عن نهاية الحرب الباردة في مؤتمر .....
- (عام ١٩٩١م - لندن - باريس - بروكسل - سان فرانسيسكو)
- (٤) من الدول التي لديها نوع من الاكتفاء الذاتي النسبي من المنتجات الزراعية دولة .....
- (الولايات المتحدة الأمريكية - فرنسا - مصر - العراق)

(ب) دلل على صحة العبارات الآتية ... ؟

- (١) سعى حلف مانبلا إلى تحقيق مجموعة من الأهداف.
- (٢) هناك عدة طرق وأساليب لحل النزاعات الدولية سلمياً.
- (٣) شهدت خريطة العالم السياسية ظاهرة الاستقطاب العالمي في النصف الثاني من القرن العشرين.
- (٤) هناك العديد من المؤشرات التي تدل على أن القوة الاقتصادية من أهم عناصر قوة الدولة.

(ج) ما الفرق بين ... ؟

- (١) مجالات دراسة الجغرافيا السياسية قديماً، وحديثاً.
- (٢) القوة، والنفوذ.

## النموذج العاشر

(أ) حدد أي العبارات الآتية صحيحة، وأيها خطأ موضحاً السبب :

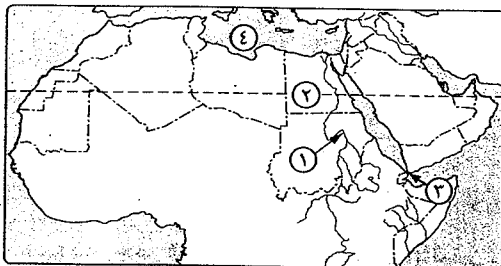
- (١) الأمة مجموعة من السكان تجمعهم خصائص مشتركة.
- (٢) توجد أبعاد وعناصر تسهم في قوة الدولة.
- (٣) لم تتدخل الأمم المتحدة حتى الآن لحل مشكلة كشمير.
- (٤) التكامل الاقتصادي بين الدول يقوم بطبيعته على التشابه لا التنوع.
- (٥) الدولة المحتواة تتبع الدولة التي تحيطها.

(ب) ما النتائج المترتبة على ... ؟

- (١) حصار الاتحاد السوفيتي سابقاً لبرلين عام ١٩٤٨م.
- (٢) وجود نسبة كبيرة من البطالة بين السكان في أي دولة.

(ج) أمامك خريطة صماء للوطن

العربي، اكتب مدلول الأرقام الموضحة عليها :



- (١) نهر دولي .....
- (٢) دائرة عرض .....
- (٣) مضيق .....
- (٤) البحر .....

(أ) يم تفسر ... ؟

- (١) الجغرافيا السياسية لها صلة وثيقة بعلم التاريخ.
- (٢) ظهور أهمية الرصيف القاري.
- (٣) تُعد شعوب أوروبا أول من ساهمت في نشأة التكتلات الاقتصادية.

(ب) ما المقصود بكل من ... ؟

- (١) المياه الدولية.
- (٢) النبات الطبيعي.
- (٣) الكوميسا.

(ج) ما الفرق بين ... ؟

- (١) خصائص الدولة الفيدرالية، وخصائص الدولة الكونفدرالية.
- (٢) النظام الرئاسي، والنظام شبه الرئاسي.

(١) «تعدد وظائف الحدود السياسية باعتبارها خط انتهاء سيادة دولة وبداية سيادة دولة أخرى».

في ضوء هذه العبارة وضع :

(١) الوظيفة السياسية والقانونية للحد.

(٢) الفرق بين : الحدود السابقة والحدود التالية.

(٣) أشكال الحدود السياسية التي تتبعها الأنهار.

(٤) أسباب مطالبة باكستان بضم إقليم كشمير إليها.

(ب) ماذا يحدث إذا ... ؟

(١) تواجد حجم سكاني مناسب في الدول التي يضمها التكتل الاقتصادي.

(٢) اعترضت مزرعة مسار الحد السياسي عند تحديده في الطبيعة.

(١) هل تؤيد أم تعارض كل مما يأتي... ؟ مع ذكر السبب :

(١) اهتمام مصر بالعلاقات الاقتصادية مع جميع دول العالم.

(٢) تحويل مساحات واسعة من المراعي والغابات إلى أراضي زراعية.

(ب) «لا يمكن أن تقوم الدولة دون وجود العنصر البشري الذي يستثمر الأرض ويعطي لها قيمة».

في ضوء هذه العبارة وضع :

(١) مميزات الحجم الكبير للسكان في الدولة.

(٢) تصنيف الدولة وفقاً للتركيب الديني.

(٣) لماذا تعتبر الصناعة ركيزة أساسية من ركائز اقتصاد أي دولة.

(ج) دلل جغرافياً على صحة العبارتين الآتيتين :

(١) للنظام الدولي العالمي الجديد تأثيرات كبيرة على دول العالم المتقدم والنامي.

(٢) تتأثر العلاقات الدولية سلباً وإيجاباً بعوامل كثيرة ومتنوعة.

### النموذج الحادي عشر

(١) أمامك خريطة للعالم، اكتب ما تدل عليه الأرقام :

(١) تكتل اقتصادي

عربي

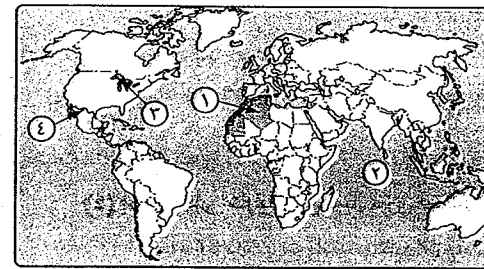
(٢) المحيط

(٣) منطقة قلب ذات أهمية

اقتصادية

(٤) نهر يفصل بين الولايات

المتحدة والمكسيك



(ب) دلل على صحة العبارات الآتية :

(١) تظهر الحدود الهندسية بين الدول في أشكال مختلفة.

(٢) توجد مؤسسات دولية تهتم بالتعاون الدولي لمواجهة المشكلات الاقتصادية.

(٣) تختلف التفرقة العنصرية في دولة جنوب إفريقيا عن الولايات المتحدة الأمريكية.

(٤) يعتبر راتزل المؤسس الحقيقي للجغرافيا السياسية.

(ج) انسب المشكلات السياسية الآتية إلى القارات التي توجد بها، وحدد أطراف هذه المشكلات، مع ذكر أسبابها.

(١) كشمير.

(٢) سبتة ومليلية.

(١) «تمثل الدولة جهود مجموعة بشرية تحول رقعة من الأرض إلى وطن له كيان».

في ضوء هذه العبارة أجب :

(١) ما المقصود بقوة الدولة ؟

(٢) ما هي العناصر التي على أساسها تتحدد قوة الدولة ؟

(٣) اذكر أهم العوامل التي تشكل قوة الدولة حسب دراسة العالم جرمان.

(٤) دلل : تغيرت القوة العسكرية للدولة قديماً وحديثاً.

(ب) ما النتائج المترتبة على ... ؟

(١) التكامل الذي تسعى إليه التكتلات الاقتصادية.

(٢) انهماك الولايات المتحدة والاتحاد السوفيتي (السابق) في سياسة سباق التسلح.

(٣) نشوب الحربين العالميتين الأولى والثانية بالنسبة للعلاقات الدولية.

(٤) إسهامات فرديريك راتزل في الجغرافيا السياسية.

(ج) قارن بين : (١) الحلف المركزي، وحلف جنوب شرق آسيا من حيث : \* المقر. \* أهدافه.

(٢) العواصم الدائمة، والعواصم المستحدثة مع ذكر الأمثلة.

(١) اختر الإجابة الصحيحة مما بين القوسين :

(١) يعد ..... من أهم علماء الجيوبولتيك في الولايات المتحدة.

( فرديريك راتزل - رودلف كيلين - ألفرد ماهان - هالفورد ماكيندر )

(٢) الحدود بين الهند وباكستان حدود ..... ( سابقة - تالية - منطبعة - طبيعية )

(٣) لم توقع ..... على ميثاق حلف وارسو ولكنها تعهدت بدعم الأعضاء في الحلف.

( رومانيا - الاتحاد السوفيتي - الصين - ألمانيا )

(٤) من الأنهار الدولية التي تمثل طرق اتصال بالعالم الخارجي نهر .....

( اللوار - السين - المسيسيبي - الراين )

(ب) حدد أى العبارات الآتية صحيحة، وأيها خطأ موضحاً السبب :

- (١) لبريطانيا دور كبير فى مشكلة كشمير.
- (٢) ارتبط التقدم الصناعى فى اليابان بوجود مصادر الخام الأولية فيها.
- (٣) يتشابه نظام الانتخابات بالأغلبية مع نظام الانتخابات النسبى.
- (٤) تركز السكان فى منطقة محددة بالدولة من عوامل الخطر على سلامتها.

(ج) يم تقسر ... ؟

- (١) أهمية نظام الانتخابات.
- (٢) تقسيم الدول إلى أقسام إدارية (محافظة - مراكز).
- (٣) أهمية الموقع البحرى للدولة.
- (٤) نشأة حلف وارسو فى مايو ١٩٥٥ م.

(١) «تشغل التكتلات الاقتصادية بأشكالها المختلفة حيزًا مكانيًا على خريطة العالم حيث تضم

دولاً مختلفة». فى ضوء هذه العبارة أجب :

- (١) ما المقصود بالتكتلات الاقتصادية ؟ وكيف ظهرت هذه التكتلات ؟
- (٢) ما هى مراحل تكون التكتلات الاقتصادية ؟
- (٣) تتعدد مقومات قيام التكتلات الاقتصادية «أختر اثنين منها وتناولهما بشيء من التفصيل».

(ب) حدد أنواع الأقاليم التى توجد فى كل من :

- (١) روسيا الاتحادية. (٢) الولايات المتحدة. (٣) الصين. (٤) إيران.

(ج) ما المقصود بكل من ... ؟

- (١) المياه التكميلية.
- (٢) التخوم.
- (٣) الدولة الوحيدة.
- (٤) الإقليم.

### النموذج الثانى عشر

(١) اختر الإجابة الصحيحة مما بين القوسين :

- (١) المنظمة العالمية التى تم إنشاءها بعد الحرب العالمية الأولى .....  
( اليونيسيف - الأوبك - عصبة الأمم - الأمم المتحدة )
- (٢) تعد الحدود الفاصلة بين إريتريا وإثيوبيا عام ١٩٩٤ م حدود .....  
( سابقة - تالية - منطبعة - مستحدثة )
- (٣) تعد دولة ..... نموذجًا للنظام شبه الرئاسى.  
( فرنسا - المملكة المتحدة - مصر - الولايات المتحدة )



(٤) تعتبر قارة ..... أكبر قارات العالم التى تحتوى على دول حبيسة.

( أمريكا الجنوبية - أمريكا الشمالية - إفريقيا - أوروبا )

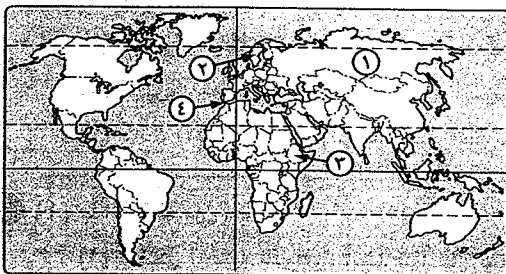
(٥) من الدول غير كاملة العضوية فى الأمم المتحدة دولة .....

( البحرين - فلسطين - جيبوتى - بتسوانا )

(ب) يم تقسر ... ؟

- (١) تصاعد مشكلة سبته ومليلة عام ١٩٨٥ م.
- (٢) تعتبر الجبال بمثابة خطوط دفاعية للدولة.
- (٣) يعتبر المجلس الأوروبى قمة أجهزة الاتحاد الأوروبى.
- (٤) اختفاء التخوم من خريطة العالم السياسية.

(ج) أمامك خريطة للعالم، اكتب مدلول الأرقام الموضحة عليها :



(١) أكبر دول العالم مساحة

(٢) دولة ..... من الدول

ذات الشكل المستطيل.

(٣) دولة حبيسة .....

(٤) مضيق .....

(١) «تؤدى التكتلات الاقتصادية إلى الاندماج الإقليمى والمزيد من التنمية فى الاقتصاد العالمى».

فى ضوء هذه العبارة وضح :

- (١) إجراءات تحقيق التكامل الاقتصادى.
- (٢) العلاقة بين مجلس الاتحاد الأوروبى والبرلمان الأوروبى.
- (٣) تُعد شعوب أوروبا أول من ساهمت فى نشأة التكتلات الاقتصادية.

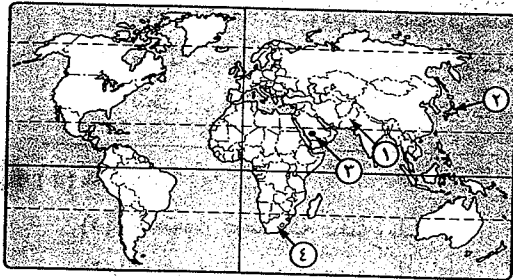
(ب) ما النتائج المترتبة على ... ؟

- (١) تطور وسائل الاتصال وتكنولوجيا المعلومات على الجغرافيا السياسية.
- (٢) تصفية الاستعمار لمستعمراته على نشأة الحدود السياسية.
- (٣) العولة وظهور الشركات متعددة الجنسيات.

(ج) ما المقصود بالمصطلحات الآتية ... ؟

- (١) العواصم التاريخية.
- (٢) المياه المحايدة.
- (٣) الجلاسنوست.

## النموذج الثالث عشر



(1) أمامك خريطة صماء للعالم،

اكتب ما تدل عليه الأرقام :

(1) دولة فيدرالية وتحولت

إلى دولة وحدوية

مركزية .....

(2) دولة بحرية مجزأة .....

(3) منطقة قلب ذات أهمية ثقافية

ودينية .....

(4) دولة عانت من التفرقة العنصرية .....

(ب) بم تفسر ... ؟

(1) للجغرافيا العامة أهمية كبيرة بالنسبة للجغرافيا السياسية.

(2) تمثل العاصمة مركز القوة والسلطة في الدولة.

(3) تمتلك دول مجلس التعاون الخليجي العربي مقومات كثيرة للتكامل بينها.

(4) شكل الدولة ميزة مهمة لتحديد قوة الدولة.

(ج) ما المقصود بكل من ... ؟

(1) الجغرافيا السياسية.

(2) الرصيف القارى.

(3) الاقتراع.

(1) ضع علامة (✓) أمام العبارة الصحيحة، وعلامة (X) أمام العبارة غير الصحيحة،

مع ذكر السبب في الحالتين :

(1) تخلق الحدود النهرية أحياناً مشاكل سياسية بين دول الجوار. ( )

(2) تلعب الحدود السياسية دوراً رئيسياً في الفصل بين الدول. ( )

(3) الاتحاد الكونفدرالى أكثر تماسكاً من الاتحاد الفيدرالى. ( )

(4) يسعى الاتحاد الأوروبى بقوة ليكون على رأس الشكل الهرمى للنظام

الاقتصادى العالمى. ( )

(ب) أجب عما يأتى :

(1) وضح أنواع القوائم الانتخابية، والفرق بينها.

(2) أهم الملاحظات على تأثير التقدم التكنولوجى فى دول العالم.

(1) حدد أى العبارات الآتية صحيحة، وأيها خطأ مع ذكر السبب :

(1) تُعد أوغندا دولة بحرية لامتلاكها ساحل طويل على بحيرة فيكتوريا.

(2) الوظائف السيادية فى الدولة الفيدرالية من اختصاص الحكومات الإقليمية.

(3) تتشابه الدول البحرية من حيث إشرافها على المسطحات المائية.

(4) تُعد اللغة أهم عناصر تكوين القوميات فى العالم.

(5) أثر حصار الاتحاد السوفيتى لبرلين عام ١٩٤٨ م على العلاقات الدولية.

(ب) صنف العواصم الآتية :

(1) القاهرة. (2) لاهى. (3) كانبرا.

(ج) ماذا يحدث إذا ... ؟

(1) لم يتركز سكان الدول فى جهات محددة.

(2) لم يوجد تماثل بين أنظمة الدول السياسية المكونة للتكتل الاقتصادى.

(3) كانت الأقلية منتشرة (موزعة) جغرافياً داخل الدولة.

(1) ما العلاقة بين ... ؟

(1) الشكل المنتظم للدولة، وسيطرتها على مساحتها وسكانها.

(2) الثروات المائية والمصايد، والمياه المحايدة والأرصدة القارية.

(3) الوزن الاقتصادى والسكانى للصين، وعلاقاتها الدولية.

(ب) قارن بين :

(1) إسهامات أرسطو، وآراء ألفرد ماهان فى الجغرافيا السياسية.

(2) الحدود الجبلية والحدود النهرية من حيث :

\* المميزات. \* مثال واحد لكل منهما.

(ج) أمامك خريطة صماء لخصر انقلها فى

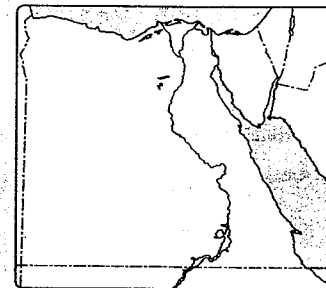
كراسة الإجابة ثم وضع عليها ما يلى :

(1) خليج العقبة.

(2) دائرة عرض ٢٢°

(3) خط طول ٢٥ شرقاً.

(4) قناة السويس.



(ج) ما النتائج المترتبة على ... ؟

- (١) الحرب العالمية الأولى والثانية بالنسبة للعلاقات الدولية.
- (٢) سقوط الاتحاد السوفيتي وتفتته إلى عدة دول.
- (٣) امتلاك بعض الدول موارد اقتصادية هامة مثل البترول واليورانيوم.
- (٤) التطورات التكنولوجية بالنسبة لمكونات وعناصر قوة الدولة.

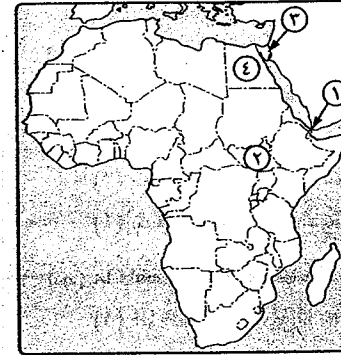
(١) ما العلاقة بين ... ؟

- (١) الاستعمار، ومشكلة سبته وملية.
- (٢) الدوافع الاقتصادية، وهجرة السكان.
- (٣) الصراعات الداخلية في الدولة، والهجرة الإجبارية.

(ب) أمامك خريطة صماء لإفريقيا،

اكتب ما تدل عليه الأرقام :

- (١) مضيق .....
- (٢) دولة حبيسة .....
- (٣) منطقة ذات أهمية استراتيجية .....
- (٤) دولة وحدوية .....



(ج) دلل جغرافياً على صحة العبارات التالية :

- (١) كان للمعاهدات المبرمة بين الدول تأثير واضح في ترسيم الحدود السياسية.
- (٢) اللغة وسيلة هامة لتجانس الدولة وقوتها.
- (٣) للحلف المركزي عدة أهداف.
- (٤) منظمة الأمم المتحدة لها دور فعال في حل بعض المشكلات الدولية.

(١) «لا يجوز في الدول التي توجد بها أقليات عرقية أو دينية أو لغوية أن تحرم الأشخاص

المتنمين إلى الأقليات المذكورة من حق التمتع بثقافتهم الخاصة أو المجاهرة بدينهم

ورقامة شعائرتهم أو استخدام لغتهم». في ضوء هذه العبارة أجب :

- (١) دلل : تهتم الدول والمنظمات بحقوق الأقليات في العالم.
- (٢) وضح التوزيع الجغرافي للأقلية يؤثر على استقرار الدولة.
- (٣) اذكر أنواع الأقليات مع شرح اثنين منهم.

(ب) قارن بين :

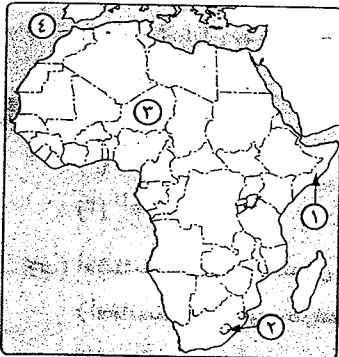
(١) حلف جنوب شرق آسيا ، والحلف المركزي من حيث :  
\* النشأة.  
\* الأهداف.

(٢) المفوضية الأوروبية في الاتحاد الأوروبي، والأمانة العامة لمجلس التعاون لدول الخليج العربي.

(ج) اختر الإجابة الصحيحة مما بين القوسين :

- (١) اتخذ مجلس التعاون لدول الخليج العربي مدينة ..... مقرًا له.  
( الرياض - أبو ظبي - المنامة - الشارقة )
- (٢) الدولة ..... توجد بها حكومة واحدة تسيطر على جميع السلطات المحلية  
في المحافظات. ( الوندوية - الفيدرالية - الكونفدرالية - اللامركزية )
- (٣) تعد دولة ..... من الدول الوحدوية الجزأة.  
( باكستان - الفلبين - البرازيل - الصين )
- (٤) من الدول التي تشرف على البحر من جميع جهاتها .....  
( سوريا - المغرب - فرنسا - بريطانيا )

### النموذج الرابع عشر



(١) أمامك خريطة صماء لقارة إفريقيا،

اكتب مدلول الأرقام التي عليها :

- (١) دولة ذات حدود بحرية .....
- (٢) دولة ذات شكل محتوى .....
- (٣) دولة حبيسة .....
- (٤) مسطح مائي .....

(ب) يم تفسر ... ؟

(١) الطابع السهلي للدولة له آثار إيجابية وأخرى سلبية.

(٢) يتم اختيار عاصمة الدولة بناء على عدة عوامل.

(٣) ظهور سياسة التقارب والانفتاح على أساس المصالح المشتركة بين الولايات المتحدة والاتحاد السوفيتي سابقًا.

(ج) ما العلاقة بين كل من ... ؟

- (١) تطور وسائل الاتصالات، والجغرافيا السياسية.
- (٢) العدد السكاني الضخم للدولة، والمجال الاقتصادي لها.

(1) ضع علامة (✓) أمام العبارة الصحيحة، وعلامة (X) أمام العبارة غير الصحيحة،

مع ذكر السبب في الحالتين :

(1) الجغرافيا السياسية تتسم بالتطور والحركة بينما علم الجيوبولتيك يميل

إلى الثبات.

( )

(2) تتعدد وظائف الحدود السياسية في العالم.

( )

(3) اعتمد النظام الدولي الجديد على مبدأ المشروعية الدولية.

( )

(4) تتعدد المقومات التي تساعد على قيام التكتلات الاقتصادية.

( )

(5) يؤثر الموقع الاستراتيجي للدولة في وزنها السياسي بين الدول.

( )

(ب) ما النتائج المترتبة على ... ؟

(1) التنوع المناخي للدولة سياسياً.

(2) الإغراءات التي تقدمها بعض الدول المتقدمة أمام العلماء.

(3) زيادة عدد السكان في قارة أوروبا وتأثيرها على حدود القارة.

(4) تأثير الثورة الصناعية على الجغرافيا السياسية.

(ج) دلل على رأيك في الأحداث التالية :

(1) لحصار الاتحاد السوفيتي برلين عام 1948م أثره على العلاقات الدولية.

(2) نقل اليابان عاصمتها إلى مدينة طوكيو.

(1) ما المقصود بكل من ... ؟

(1) العواصم الدائمة.

(2) الهجرة غير الشرعية.

(3) الحدود السابقة.

(ب) أمامك مجموعة من الدول ذات أشكال مختلفة استخدمهم لملء الفراغات التالية :

(أفغانستان - شيلي - فرنسا - سويسرا - لاند) :

(1) دولة ذات شكل مستطيل .....

(2) دولة ذات شكل مندمج ذو بروز .....

(3) أفضل شكل للدولة يمثل في دولة ..... بسبب .....

(ج) قارن بين : الاتحاد الأوروبي، ومجلس التعاون لدول الخليج العربي من حيث :

\* الدول الأعضاء \* الأهداف \* أهم المؤسسات التي يعتمد عليها.

(1) ماذا يحدث إذا ... ؟

(1) لم يتم ترسيم الحدود السياسية وتخطيطها بين الدول.

(2) كانت ضفاف نهر الريبوجراند ثابتة بين المكسيك والولايات المتحدة.

(ب) «تقع كشمير في شمال غربي الهند وتنحصر بين الهند وباكستان والصين وأفغانستان».

في ضوء هذه العبارة وضع :

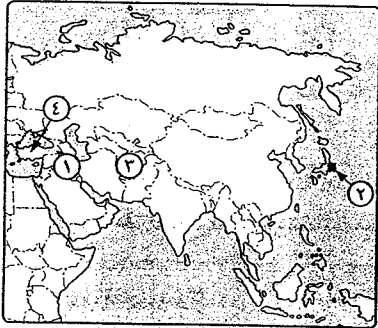
(1) لماذا اشتهرت كشمير بأنها مكان سياحي هام زمن الاحتلال البريطاني.

(2) أسباب مطالبة كل من الهند وباكستان بضم ولاية كشمير إليها.

(3) دور الأمم المتحدة كمنظمة عالمية في مشكلة كشمير.

(ج) وضع أنواع قلب الدولة حسب الأهمية.

### النموذج الخامس عشر



(1) أمامك خريطة صماء للعالم،

اكتب ما تدل عليه الأرقام :

(1) دولة كانت عضواً في تأسيس

حلف بغداد .....

(2) عاصمة مستحقة .....

(3) دول داخلية .....

(4) دولة في انتظار الانضمام إلى

عضوية الاتحاد الأوروبي .....

(ب) «يُعد حجم سكان الدولة مقياساً لقوتها ووزنها السياسي».

في ضوء هذه العبارة أجب :

(1) اذكر مميزات وعيوب حجم السكان الكبير للدولة.

(2) وضع الآثار الإيجابية والسلبية للهجرة السكانية على الدول المرسلة.

(3) ما دور الحكومات بالنسبة لتفاوت الثروة داخل الدولة الواحدة ؟

(ج) دلل على صحة العبارات الآتية :

(1) يتميز مجال سياسية النظام العالمي بالشمولية.

(2) للجغرافيا السياسية دور في اقتراح الحلول للمشكلات السياسية.

(3) لعبت الحشائش دوراً مهماً في التاريخ.

(4) تغيرت القوة العسكرية للدولة قديماً وحديثاً.



(١) اختر الإجابة الصحيحة مما بين القوسين :

- (١) نشأ حلف جنوب شرق آسيا مع ظهور ..... كقوة عظمى في القارة الآسيوية.  
(اليابان - الفلبين - الصين - إندونيسيا)  
(٢) تعتبر ..... دولة داخلية رغم أن لها حدوداً بحيرية على بحيرة فيكتوريا.  
(تشاد - مالي - ليسوتو - أوغندا)  
(٣) تُعد دولة ..... نموذجاً للنظام الرئاسي.  
(فرنسا - بريطانيا - الولايات المتحدة الأمريكية - السعودية)  
(٤) أخذت دولتي ..... بمبدأ ١٢ ميلاً بحرياً حدوداً للمياه الإقليمية بينهما.  
(المغرب وإسبانيا - اليمن وجيبوتي - بيرو وشيلي - مصر والسعودية)

(ب) بم تفسر ... ؟

- (١) كثرة الدول المتجاورة سلاح ذو حدين بالنسبة لقوة الدولة.  
(٢) بالرغم من التطور التكنولوجي الهائل للدول المتقدمة إلا أن الحروب تحتاج إلى قوى بشرية ضخمة.  
(٣) اختلف عدد دول أوروبا في أواخر القرن العشرين.  
(٤) انتشار الأحلاف العسكرية واتساع نطاق الدول المشتركة فيها.

(ج) ماذا يحدث إذا ... ؟

- (١) لم توجد قوة عسكرية لدى أعضاء التكتل الاقتصادي.  
(٢) كان مناخ دولة ما متطرف.

(١) ما المقصود بكل من ... ؟

- (١) البيروسترويكيا.  
(٢) الحدود الهندسية.  
(٢) المياه المحايدة.  
(٤) القوة الديموغرافية للدولة.

(ب) ما النتائج المترتبة على ... ؟

- (١) ثورة الاتصالات الحديثة بالنسبة لخريطة العالم السياسية.  
(٢) إزالة الحواجز الجمركية وتخفيف تكاليف الإنتاج داخل التكتلات الاقتصادية.  
(٣) ارتفاع فئة صغار السن في الدول النامية.  
(٤) سياسة الإصلاح التي اتبعتها الرئيس جورباتشوف في الاتحاد السوفيتي.

(ج) أجب عما يأتي :

- (١) بين الجوانب الإيجابية للمرتفعات في الدولة.  
(٢) اذكر أهداف حلف الناتو.  
(٣) وضع إجراءات تحقيق التكامل الاقتصادي.

(١) قارن بين :

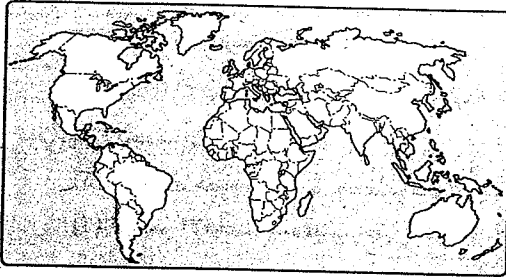
- (١) الحدود السياسية، والتخوم.  
(٢) نظام الانتخاب بالأغلبية، ونظام الانتخاب النسبي.  
(٣) العواصم الطبيعية، والعواصم الصناعية مع ذكر الأمثلة.

(ب) «أثرت الثورة الصناعية منذ بداية القرن الـ ١٩ م في تغيير النظرة إلى الكرة الأرضية كوحدة

ومجال لدراسة الجغرافيا السياسية». في ضوء هذه العبارة أجب عما يأتي :

- (١) اذكر أهم النظريات الاستراتيجية في الجغرافيا السياسية.  
(٢) وضع المقصود بقلب الأرض طبقاً لنظرية ماكيندر، وأهم ما يميزه.  
(٣) ما الفرق بين : الهلال الخارجي، والهلال الداخلي في نظرية ماكيندر ؟

(ج) أمامك خريطة صماء للعالم، حدد عليها ما يلي :

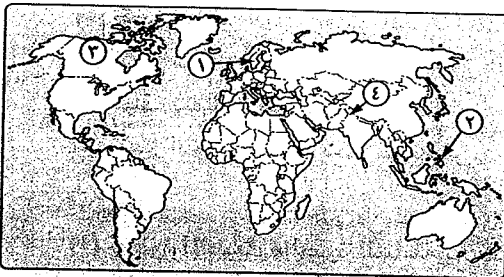


- (١) دولة ذات موقع هامشي.  
(٢) مضيق يفصل بين جزيرة سومطرة وسنغافورة.  
(٣) دولة يغلب عليها الطابع السهلي.

(٤) دولة تقوم على نظام شبه رئاسي.

### النموذج السادس عشر

(١) أمامك خريطة صماء للعالم، وضع مدلول الأرقام الآتية :



- (١) دولة ..... وهي من أمثلة الدول ذات الشكل المستطيل.  
(٢) دولة ..... وهي من أمثلة الدول ذات الشكل المجزأ.  
(٣) دولة ..... وهي من الدول التي يجاورها دولة واحدة.  
(٤) مشكلة سياسية .....

(ب) ما النتائج المترتبة على ... ؟

- (١) ظهور الشركات متعددة الجنسيات.
- (٢) إسهامات فريدريك راتزل في الجغرافيا السياسية.
- (٣) ترسيم الحدود السياسية في إقليم الساكانا الإفريقية بين دول الإقليم.
- (٤) النزاع بين ليبيا وتونس على الحدود البحرية.

(ج) ما المقصود بكل من ... ؟

- (١) النظام الدولي العالی الجديد.
- (٢) التجمعات العالمة والإقليمية.
- (٣) العولمة.

(١) «تعد الحدود السياسية ظاهرة بشرية لأن الإنسان هو الذي قام بتخطيطها تبعاً لمصالحه ...»

في ضوء هذه العبارة أجب عما يأتي :

- (١) ما الفرق بين الحدود السياسية والتخوم ؟
- (٢) دال : تُعد مرحلة التعريف والتخطيط من أهم مراحل تخطيط الحدود السياسية.
- (٣) وضح أشكال الحدود النهرية مع ذكر مثال لكل منها.

(ب) ماذا يحدث إذا ... ؟

- (١) استقلت مصر بصورة جيدة موقعها الجغرافي المتميز.
- (٢) استمر الاتحاد السوفيتي حتى الآن.

(ج) ما الفرق بين ... ؟

- (١) الحدود الهندسية، والحدود الإثنوغرافية.
- (٢) المياه الإقليمية، والمياه التكميلية.

(١) دال جغرافياً على صحة العبارات الآتية :

- (١) يتميز النظام الدولي العالی الجديد بعدد من الخصائص.
- (٢) يتمتع سكان دول مجلس التعاون لدول الخليج بخصائص مشتركة.
- (٣) لحلف شمال الأطلسي عدة أهداف.
- (٤) تتميز الدولة الوحودية بعدة خصائص.

(ب) قارن بين :

- (١) الحدود المنطبعة، والحدود السابقة مع ذكر أمثلة لكل منهما.
- (٢) الأنهار المحلية، والأنهار الدولية مع ذكر أمثلة لكل منهما.

(ج) أجب عما يأتي :

- (١) اذكر أهمية تقسيم الدول إلى أقسام إدارية (محافظات - مراكز).
- (٢) ما الآثار الإيجابية للمساحة الكبيرة في قوة الدولة ؟

(١) اكتب المصطلح الجغرافي الذي تدل عليه كل عبارة مما يأتي :

- (١) منطقة تشكل أهمية وثقلاً اقتصادياً أو ثقافياً في الدولة.
- (٢) العواصم التي ظلت لقرون عديدة المركز الاقتصادي والثقافي الرئيسي في الدولة.
- (٣) حدود سياسية نشأت بعد نشأة المظاهر الحضارية وتفصل بين مجموعات لغوية.
- (٤) مكان تتركز فيه الأقلية وعاشت فيه وتشكلت داخله ملامحها الخاصة.

(ب) ما العلاقة بين ... ؟

- (١) العلاقات الدولية، والثورة الصناعية.
- (٢) الحربين العالميتين الأولى والثانية، والحدود السياسية في أوروبا.
- (٣) موقع مدينة سبته، واحتلال إسبانيا لها.

(ج) يفسر ... ؟

- (١) تلجأ بعض الدول للاعتراف بحرية الأقليات في لغتها القومية.
- (٢) الرقابة في النظام البرلماني تكون متبادلة.
- (٣) قيام التكتلات الاقتصادية.

### النموذج السابع عشر

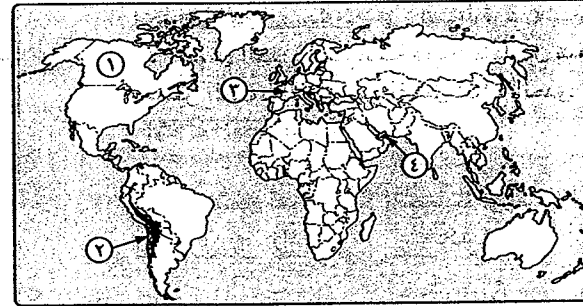
(١) ضع علامة (✓) أمام العبارة الصحيحة، وعلامة (X) أمام العبارة غير الصحيحة،

مع ذكر السبب في الحالتين :

- ( ) (١) تختلف مظاهر السطح لدول الاتحاد الأوروبي.
- ( ) (٢) الدول الوحودية أكثر أنواع الدول هشاشة.
- ( ) (٣) لم تتدخل الأمم المتحدة لحل مشكلة كشمير.
- ( ) (٤) مرت الحرب الباردة بين الولايات المتحدة والاتحاد السوفيتي بعدة مراحل

منها التعايش السلمي والوفاق.

(ب) أمامك خريطة للعالم، اكتب ما تدل عليه الأرقام :



- (١) دولة لها حد سياسي بحيري .....
- (٢) دولة لها حد سياسي طبيعي .....
- (٣) دول ذات شكل مندمج .....
- (٤) مضيق .....

(ج) دلل على صحة العبارات الآتية :

- (١) يمثل حجم السكان قوة بشرية مهمة في الإنتاج الاقتصادي.
- (٢) تتضمن شروط كوبنهاجن شروط اقتصادية وتشريعية وسياسية.
- (٣) مجهودات حلف شمال الأطلسي في حفظ السلام العالمي.
- (٤) يعد الشكل المنتظم من أكثر الأشكال أهمية للدولة في الجغرافيا السياسية.

(١) اختر الإجابة الصحيحة مما بين القوسين :

- (١) إعطاء الفرصة للناخب أن يعيد ترتيب المرشحين من قائمة واحدة اختارها يتمثل في نظام الترشيح بالقائمة ..... ( المغلقة - الحرة - المفتوحة - جميع ما سبق )
- (٢) نهر الريبوجراند الذي يفصل بين الولايات المتحدة والمكسيك من أمثلة الحدود النهرية التي تسير مع ..... ( خط العمق الملاحى - خط المنتصف - أحد ضفتى النهر - خط تقسيم المياه )
- (٣) تُعد مدينة ..... مقر حلف شمال الأطلسي. ( بانكوك - بغداد - برلين - بروكسل )
- (٤) من الأنهار التي تخضع لسلطة سياسية واحدة نهر ..... ( النيل - الريبوجراند - الدانوب - المسيسيبي )

(ب) ما العلاقة بين ... ؟

- (١) الحبوب الغذائية، والأمن القومي للدولة.
- (٢) مناخ الدولة، والأنشطة الاقتصادية.

(ج) بم تفسر ... ؟

- (١) حرص الدولة المحتواه على الاحتفاظ بعلاقات ودية مع الدولة المحيطة بها.
- (٢) لا تفضل الحدود السياسية فصلاً تاماً بين شعوب تنتمي لأصول عرقية مختلفة.
- (٣) تعتبر الحدود الجبلية من أفضل أنواع الحدود السياسية.
- (٤) فشل وانهيار عصبة الأمم.

(١) وضح ما يلي :

- (١) القصد بالدولة، والشروط الضرورية لقيامها.
- (٢) أهداف الجغرافيا السياسية.
- (٣) أهم الحجج التي استندت عليها باكستان في مطالبها بإقليم كشمير.
- (٤) دور الهجرة في الصراعات السياسية المعاصرة.

(ب) ما المقصود بكل من ... ؟

- (١) وطن الأقلية.
- (٢) الأحلاف العسكرية.
- (٣) العلاقات الدولية.
- (٤) قلب الدولة.

(ج) قارن بين كل من :

- (١) مفهوم الجيوبوليتك عند رودلف كيلين، وعند هوسنهوفر.
- (٢) حلف وارسو، وحلف جنوب شرق آسيا من حيث : \* أهدافه. \* أسباب تأسيسه.

(١) «تستطيع الدول كبيرة المساحة أن تعتمد على نظرية الدفاع بالعمق».

وضح المقصود بهذه النظرية مؤيداً إجابتك بالأمثلة.

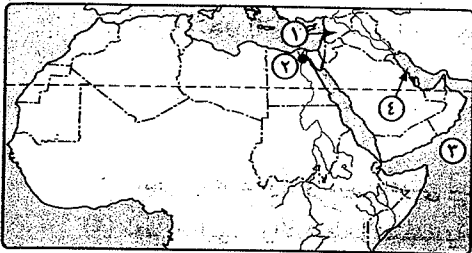
(ب) ما النتائج المترتبة على ... ؟

- (١) استخدام التقنيات الحديثة بالنسبة للحدود السياسية بين الدول.
- (٢) تعدد الأقاليم المناخية في الولايات المتحدة الأمريكية.
- (٣) زيادة عدد السكان في قارة أوروبا وتأثيرها على حدود القارة.
- (٤) حصار الاتحاد السوفيتي السابق لبرلين عام ١٩٤٨م.

(ج) أمامك خريطة صماء للوطن العربي،

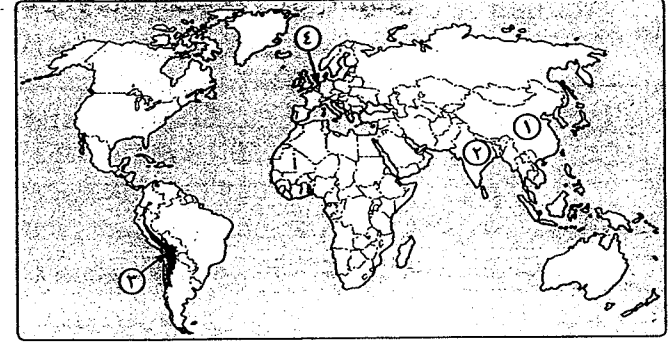
اكتب ما تدل عليه الأرقام :

- (١) دولة تشرف بواجهة بحرية واحدة .....
- (٢) عاصمة دائمة .....
- (٣) البحر .....
- (٤) مسطح مائى .....



## النموذج الثامن عشر

(1) أمامك خريطة للعالم، اكتب ما تدل عليه الأرقام الآتية :



- (1) دولة ذات مساحة كبيرة .....  
 (2) دولة ذات أقلية دينية .....  
 (3) حد جلي سياسى .....  
 (4) دولة ذات عواصم مقسمة .....

(ب) قارن بين :

- (1) الدولة الفيدرالية، والدولة الكونفدرالية من حيث الخصائص مع ذكر الأمثلة.  
 (2) البرلمان الأوروبي والمفوضية الأوروبية.

(ج) ما المقصود بالمصطلحات الجغرافية الآتية ... ؟

- (1) الهجرة الدولية. (2) التقسيم الاجتماعى داخل الدولة. (3) المشكلة السياسية.

(1) دتل على صحة أو خطأ العبارات الآتية :

- (1) للجغرافيا السياسية دور هام فى وضع اقتراح حلول للمشكلات السياسية.  
 (2) تُعاني دولة أفغانستان من الصعوبات فى تجارتها الخارجية.  
 (3) لم يشارك حلف الناتو فى الحفاظ على السلام العالمى.  
 (4) حددت بعض الدول القوية لنفسها مناطق فى وسط المياه المحايدة.

(ب) ماذا يحدث إذا ... ؟

- (1) لم يعلن جورباتشوف استقالته من رئاسة الاتحاد السوفيتى ١٩٩٢م.  
 (2) تركز سكان الدولة فى المدن الكبرى فقط.  
 (3) استطاعت الدول أن تحقق اكتفاءً ذاتيًا من الغذاء.

(ج) بم تفسر ... ؟

- (1) أهمية التكنولوجيا فى حياة الأمم فى الوقت الحاضر.  
 (2) تعد شعوب أوروبا أول من ساهمت فى نشأة التكتلات الاقتصادية

(3) أهمية الرصيف القارى.

(4) تُعد الولايات المتحدة الأمريكية متحفاً لغويًا.

(1) اختر الإجابة الصحيحة مما بين القوسين :

- (1) صاحب نظرية قلب الأرض العالم .....  
 (رودلف كيلين - هوسهوفر - ماكيندر - راتزل)  
 (2) تسيطر دولتى ..... و ..... على مضيق هرمز.  
 (المغرب وإسبانيا - اليمن وجيبوتى - السعودية ومصر - عمان وإيران)  
 (3) تعد الأقليات الروسية فى الدول المجاورة لروسيا نموذج للأقليات .....  
 (القومية - الدينية - اللغوية - العرقية)  
 (4) أسس العالم ..... مدرسة الجيوبولتيك الألمانية فى ميونخ عام ١٩٢٤م.  
 (ماكيندر - راتزل - كيلين - هوسهوفر)

(ب) ما النتائج المترتبة على ... ؟

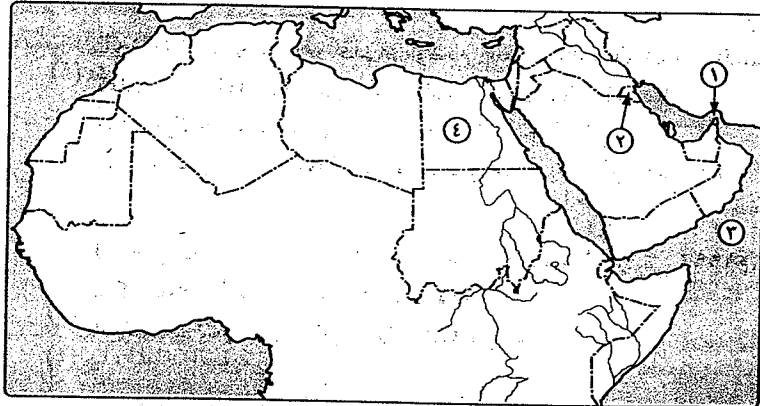
- (1) وجود نظام نقل متطور فى الدولة.  
 (2) انتصار الشيوعية فى حرب فيتنام.  
 (3) الحرب الأهلية بين شطرى السودان.

(ج) «الحدود السياسية وتأمينها أهمية قصوى فى حياة الشعوب والدول».

فى ضوء هذه العبارة وضع :

- (1) المقصود بالحد السياسى.  
 (2) مراحل تخطيط الحدود السياسية.  
 (3) وظائف الحدود السياسية.

(1) أمامك خريطة صماء للوطن العربى، اكتب ما تدل عليه الأرقام الآتية :



- (1) مضيق ..... (2) دولة تنتمى لمجلس التعاون لدول الخليج العربى .....  
 (3) مسطح مائى ..... (4) دولة ذات موقع متركز .....

(ب) «التطورات والتغيرات التي حدثت على الساحة الدولية في السنوات الأخيرة دفعت إلى الإعلان

عن ضرورة قيام نظام عالمي جديد». في ضوء هذه العبارة السابقة أجب عما يأتي :

(١) ما المقصود بالنظام الدولي العالمي الجديد ؟

(٢) اذكر أهداف النظام الدولي العالمي الجديد.

(٣) قارن بين : حلف وارسو، والحلف المركزي من حيث الأهداف.

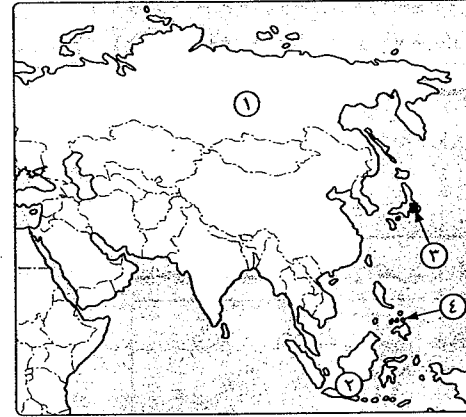
(ج) ما العلاقة بين ... ؟

(١) المساحة الكبيرة للدولة، وقوة الدولة.

(٢) البنية الأساسية، والتكتلات الاقتصادية.

(٣) حجم الأقلية، وقوتها الاقتصادية.

### النموذج التاسع عشر



(١) أمامك خريطة صماء لقارة آسيا،

اكتب ما تدل عليه الأرقام الآتية :

(١) دولة ذات مساحة

كبيرة .....

(٢) دولة بحرية

مجزأة .....

(٣) عاصمة مستحدثة

.....

(٤) دولة تشرف على البحر من

جميع الجهات .....

(ب) دلل على صحة أو خطأ العبارات الآتية :

(١) لم تعد الدول النامية في سلم أولويات الدول الغربية المتقدمة.

(٢) نجح حلف بغداد في استقطاب الدول العربية مثل مصر وسوريا.

(٣) كان لحلف الناتو أثر دولي وآخر إقليمي.

(٤) جاء الميلاد الحقيقي للجغرافيا السياسية على يد هالفورد ماكيندر.

(ج) ما المقصود بكل من ... ؟

(١) صندوق النقد الدولي. (٢) النفوذ. (٣) النظام السياسي في صورته التنظيمية.

(١) بم تفسر ... ؟

(١) تعتبر الجبال بمثابة خطوط دفاعية.

(٢) تركز السكان الشديد في مناطق معينة في الدول يمثل خطراً على سلامة الدولة.

(٣) تقسيم الدولة إلى أقسام إدارية تستمد قراراتها من الحكومة المركزية.

(٤) انتشار الأحلاف العسكرية واتساع نطاق الدول التي تشترك فيها.

(ب) ما الفرق بين ... ؟

(١) الدولة، والإقليم.

(٢) الحدود السابقة، والحدود المنطبعة.

(ج) ماذا يحدث إذا ... ؟

(١) لم تهتم الدول بوضع القوانين والتشريعات لحماية الغابات.

(٢) عدم الثقة في إجراءات وممارسات العملية الانتخابية.

(١) ما النتائج المترتبة على ... ؟

(١) شدة البرودة في شمال روسيا وشمال كندا.

(٢) النظام الدولي العالمي الجديد بالنسبة للدول النامية والدول المتقدمة.

(٣) الشكل المستطيل للدولة.

(ب) «مجلس التعاون لدول الخليج العربي عبارة عن منظمة سياسية واقتصادية وإقليمية».

في ضوء هذه العبارة وضح :

(١) أهم الدول الأعضاء في ذلك المجلس.

(٢) الخصائص المشتركة التي يتمتع بها سكان دول مجلس التعاون والتي زادت من

تلاحمهم.

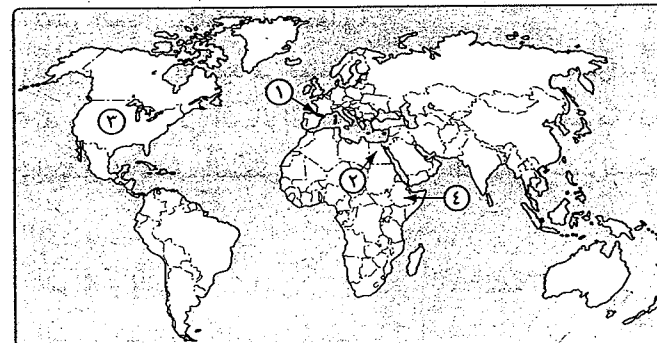
(٣) أهداف مجلس التعاون لدول الخليج العربي.

(ج) ما العلاقة بين ... ؟

(١) الاستعمار، ومشكلة سببته ومليلة.

(٢) زيادة السكان، وحرقة الرعي.

(١) أمامك خريطة للعالم، اكتب ما تدل عليه الأرقام التالية :



(١) حد سياسى طبيعى .....

(٢) دولة ذات شكل مندمج .....

(٣) دولة برية مجزأة .....

(٤) دولة تتعدد فيها الأديان .....

(ب) اختر الإجابة الصحيحة مما بين القوسين ،

(١) من الدول التى يسود فيها دين واحد .....

( لبنان - السعودية - الولايات المتحدة - إثيوبيا )

(٢) ظهر مبدأ الفصل بين السلطات على يد الفيلسوف الفرنسى .....

( راتزل - ماكيندر - هوسهوفر - مونتسكيو )

(٣) تعتبر الجبال ..... من الحدود الجبلية بين الأرجنتين وشيلي.

( الإنديز - روكى - الألب - البرانس )

(٤) ظهر النظام العالمى الجديد للمرة الأولى فى الخطاب السياسى العالمى للرئيس

( جورباتشوف - ويلسون - جورج بوش الأب - جورج بوش الابن )

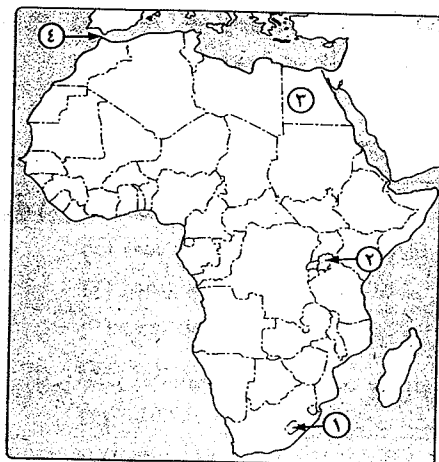
(ج) اذكر ،

(١) أهم خصائص الدولة الوحودية.

(٢) أسباب النزاع على الأنهار الدولية.

(٣) الخصائص المشتركة للأمم.

## النموذج العشرون



(١) أمامك خريطة لقارة إفريقيا،

وضح ما تدل عليه الأرقام ،

(١) دولة ذات شكل

محتوى .....

(٢) بحيرة .....

(٣) دولة تشرف بوجهتين

بحريتين .....

(٤) مضيق .....

(ب) أثبت بالأدلة صحة العبارات الآتية ،

(١) موارد الطاقة من أهم الموارد التى

يدور حولها الصراعات الدولية.

(٢) أصبحت الجغرافيا السياسية جغرافيا حية على الهواء.

(٣) تلجأ بعض الدول إلى الاعتراف بحرية الأقليات فى لغتها القومية.

(٤) للنظام العالمى الدولى الجديد أهداف محددة.

(ج) حدد أطراف الصراع فى كل مشكلة سياسية من المشكلات الآتية ثم اذكر أسباب المشكلة ،

(١) سببة ومليلة. (٢) كشمير.

(١) بم تفسر ... ؟

(١) توجد صعوبة كبيرة فى هزيمة الدول التى تتسم بالكثافة السكانية العالية.

(٢) انسحاب باكستان من حلف بغداد.

(٣) تعد المقومات العسكرية من مقومات نجاح واستمرار التكتل الاقتصادى.

(٤) فشل عصبة الأمم.

(ب) صف الحدود السياسية للدول الآتية تبعاً للمعيار التكويني «الزمنى» أو المعيار المورفولوجى :

(١) الحدود بين الهند والصين. (٢) الحدود بين الهند وباكستان.

(٣) الحدود بين أريتريا وإثيوبيا. (٤) الحدود بين كندا والولايات المتحدة الأمريكية.

(٥) الحدود فى منطقة البرارى بين كندا والولايات المتحدة.

(٦) الحدود بين شيلي والأرجنتين.

(ج) اكتب كلمة (صح) أو كلمة (خطأ)، مع ذكر السبب في الحالتين :

- (١) التعليم أحد الركائز الأساسية لقوة الدولة. ( )
- (٢) تعد الحماية والأمن الوظيفة الأكثر أهمية للحدود السياسية. ( )
- (٣) تقتصر الهجرة غير الشرعية على الدول النامية فقط. ( )
- (٤) لم تتأثر خريطة العالم السياسية بسياسة الاحتواء التي قام بها حلف الناتو في السنوات الأخيرة من القرن العشرين. ( )

(١) ما النتائج المترتبة على ... ؟

- (١) تعدد الأقاليم المناخية في الولايات المتحدة الأمريكية.
- (٢) إعلان جورياتشوف استقالته من رئاسة الاتحاد السوفيتي.
- (٣) وجود حجم سكاني كبير في دول التكتل الاقتصادي.

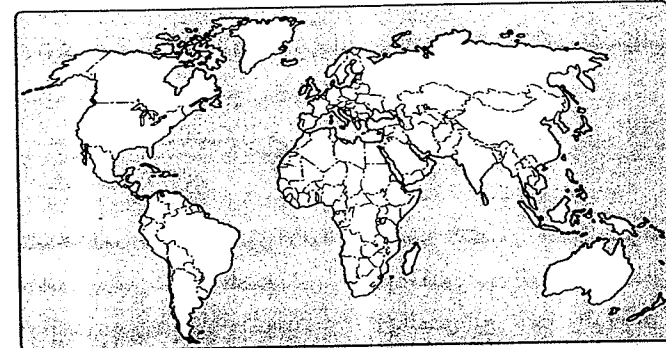
(ب) اختر الإجابة الصحيحة مما بين القوسين :

- (١) دولة ..... من الدول ذات الشكل المندمج. ( تركيا - إيطاليا - مصر - منغوليا )
- (٢) الأقليات في روسيا تعتبر أقليات ..... ( قومية - دينية - لغوية - عرقية )
- (٣) هيئة الأمم المتحدة هي تجمع ..... ( إقليمي - عالمي - محلي - عسكري )
- (٤) نشأت منظمة ..... بعد نهاية الحرب العالمية الثانية واتخذت من نيويورك مقرًا لها. ( الفاو - الأوبك - التجارة العالمية - الأمم المتحدة )

(ج) ما المقصود بكل من ... ؟

- (١) القوة الديموغرافية. (٢) البنك الدولي للإنشاء والتعمير. (٣) التكتلات الاقتصادية.

(١) أمامك خريطة صماء للعالم، حدد عليها ما يلي :



- (١) عاصمة صناعية.
- (٢) دولة وحدوية لنموذج مثالي.
- (٣) دولة يتقلب عليها دين على آخر.
- (٤) دولة ذات شكل مستطيل.

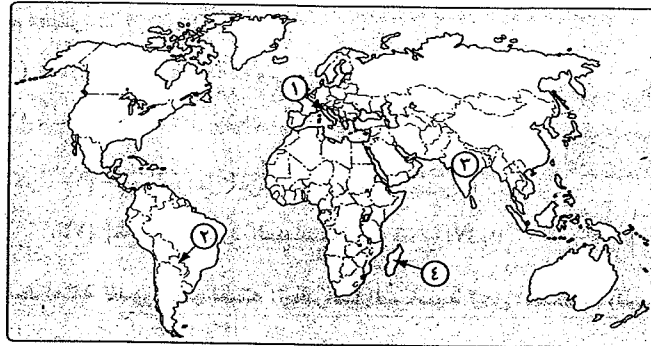
(ب) «عرفت البشرية السلطة والقوة منذ فجر التاريخ، فالسلطة ضرورة لاستقرار الحياة

واستقرار المجتمع». هي ضوء هذه العبارة أجب عن الآتي :

- (١) كيف يمكن قياس قوة الدولة ؟
- (٢) وضع المقصود بكل من : القوة، والنفوذ.
- (٣) ما أهم مؤشرات القوة الاقتصادية ؟
- (٤) ما الفرق بين : نظام الترشح بالقائمة المفتوحة، والقائمة الحرة ؟
- (ج) ما العلاقة بين : الصراعات الداخلية في الدولة، والهجرة الإجبارية ؟

### النموذج الحادي والعشرون

(١) أمامك خريطة للعالم، اكتب ما تدل عليه الأرقام :



(١) دولة ذات شكل مستطيل .....

(٢) دولة حبيسة .....

(٣) دولة عملاقة في عدد سكانها .....

(٤) جزيرة .....

(ب) ما المقصود بـ ... ؟

- (١) الحرب. (٢) الدولة البرية البحرية المجزأة. (٣) الحدود الهندسية.

(ج) في رأيك : هل الدول الأكثر سكاناً في العالم هي الأقوى عسكرياً وسياسياً ؟

(وضح إجابتك بالأدلة).

٢ (١) «يواجه العالم اليوم مشكلات اقتصادية كثيرة مثل الفقر والجوع والجفاف في بعض

الأقطار الآسيوية والإفريقية وأمريكا اللاتينية». من خلال دراستك وضع :

(١) أسباب النزاع على الأنهار الدولية.

(٢) بعض الاتفاقيات الخاصة بالأنهار الدولية.

(٣) العلاقة بين مصادر الطاقة والصراعات الدولية.

(ب) ما الفرق بين : الصورة الاجتماعية والصورة المؤسسية لمفهوم النظام السياسي.

(ج) ما النتائج المترتبة على ... ؟

(١) الحرب الأهلية بين شطري السودان.

(٢) السياسة الإصلاحية التي اتبعها الرئيس السابق جورياتشوف.

٢ (١) بم تفسر ... ؟

(١) فشل وانهيار عصبة الأمم.

(٢) نشأة حلف شمال الأطلسي.

(ب) اذكر : (١) أهم العوامل المؤثرة على نشأة الحدود السياسية.

(٢) أشكال الحدود السياسية التي تتبع الأنهار.

(ج) أعط أمثلة للدور الذي لعبته الجغرافيا السياسية لحل المشكلات السياسية.

٤ (١) دلل على صحة أو خطأ العبارات الآتية :

(١) شهدت الخريطة السياسية العالمية تغيرات مستمرة على مر التاريخ.

(٢) كل عناصر الأمة ضرورية للدولة.

(٣) الطابع السهلي للدولة ليس له آثار سلبية عليها.

(٤) أثر إنشاء السد العالي على أهالي النوبة.

(ب) ماذا يحدث إذا : تعاون العالم من أجل مواجهة المشكلات الاقتصادية ؟

(ج) حدد أوجه الشبه والاختلاف بين التفرقة العنصرية في كل من الولايات المتحدة

الأمريكية، ودول جنوب إفريقيا.

## النموذج الثاني والعشرون

١ (٢) «من المشكلات الاجتماعية ذات البعد السياسي الأقليات والهجرة».

من خلال دراستك أجب عما يأتي :

(١) دلل على اهتمام الدول والمنظمات بحقوق الأقليات في العالم.

(٢) اذكر دوافع الهجرة الإجبارية.

(ب) ما العلاقة بين ... ؟ (١) قوات درع الجزيرة المشتركة، والحرب العراقية الإيرانية.

(٢) الجغرافيا السياسية، وعلم التاريخ.

(ج) اختر الإجابة الصحيحة مما بين القوسين :

(١) كان العالم ..... من أهم أساتذة الجيوبولتيك وكتب عن القوة البحرية.

(أرسطو - راتزل - ألفرد ماهان - رودلف كيلين)

(٢) من مجالات الجغرافيا السياسية قديماً دراسة .....

(العلاقات السياسية بين الدول - التحليل السياسي للقوة - الدولة -

سياسة النظام العالمي)

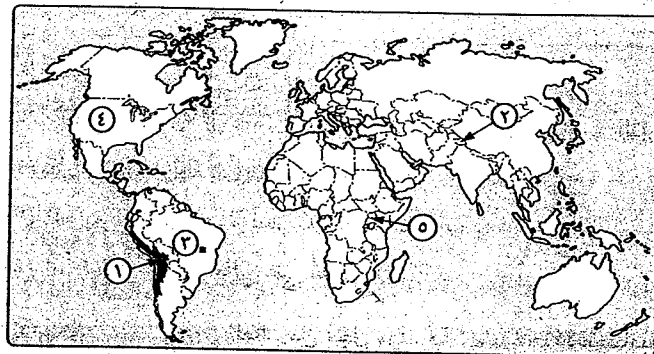
(٣) يستطيع الناخب أن يعيد ترتيب المرشحين من قائمة واحدة اختارها في نظام

الترشح بالقائمة ..... (الحرّة - المغلقة - المفتوحة - جميع ما سبق)

(٤) يتم الاستعانة بالخرائط التفصيلية في رسم الحدود السياسية في .....

(مرحلة التعريف والتخطيط - مرحلة التعيين - مرحلة إدارة الحد - جميع ما سبق)

١ (١) أمامك خريطة للعالم، اكتب ما تدل عليه الأرقام :



(٢) مشكلة حدودية .....

(٤) دولة تتعدد بها اللغات .....

(١) حد سياسي طبيعي .....

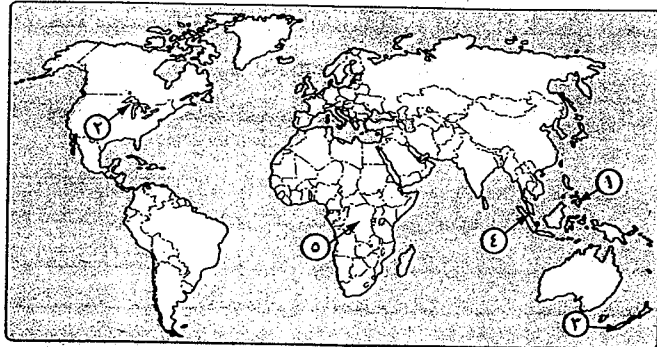
(٢) عاصمة صناعية .....

(٥) دولة حبيسة .....



## النموذج الثالث والعشرون

(١) أمامك خريطة للعالم، اكتب ما تدل عليه الأرقام :



(١) دولة موحدة مجزأة .....

(٢) منطقة قلب ذات أهمية اقتصادية .....

(٣) دولة ذات موقع هامشي .....

(٤) مضيق .....

(٥) دولة ذات شكل مندمج ذو بروز .....

(ب) «جاء الميلاد الحقيقي للجغرافيا السياسية على يد العالم الجغرافي فريدريك راتزل».

من خلال دراستك أجب عما يأتي :

(١) وضع إسهامات راتزل في الجغرافيا السياسية.

(٢) اذكر أهم إسهامات ابن خلدون في الجغرافيا السياسية.

(٣) اذكر أهداف الجغرافيا السياسية.

(ج) ما العلاقة بين ... ؟

(١) الثورة الصناعية، والجغرافيا السياسية.

(٢) الحبوب الغذائية، والأمن القومي للدولة.

(١) ما الفرق بين ... ؟

(١) المواقع المركزية، والمواقع الهامشية للدول.

(٢) عصبة الأمم، والأمم المتحدة.

(ب) قارن بين : (١) خصائص النظام الرئاسي، والنظام شبه الرئاسي.

(٢) الأنهار المحلية، والأنهار الدولية مع ذكر مثال لكل منها.

(ج) من خلال دراستك وضع رأيك بالأدلة :

(١) موقع مصر موقع استراتيجي.

(٢) تمتلك مصر العديد من مظاهر القوة.

(١) بم تفسر ... ؟

(١) عدم انضمام مصر وسوريا للحلف المركزي.

(٢) انتشار الأحلاف العسكرية واتساع نطاق الدول المشتركة فيها.

(٣) أهمية موقع الدولة بالنسبة لدوائر العرض.

(ب) ماذا يحدث إذا ... ؟

(١) ارتفعت نسبة الشيوخ والأطفال في دولة ما.

(٢) استطاعت دولة ما أن تحقق اكتفاء ذاتيًا من الغذاء.

(ج) اذكر أهم زوايا المركب الاقتصادي للدولة.

(١) ما النتائج المترتبة على ... ؟

(١) وجود نظام نقل متطور ومتكامل داخل الدولة.

(٢) وجود مناطق مرتفعة بالدولة.

(ب) ما الفرق بين : الهلال الداخلي، والهلال الخارجي حسب نظرية ماكيندر ؟

(ج) ما المقصود بكل من ... ؟

(١) المياه المحايدة.

(٢) النظام الانتخابي.

(٣) الإقليم.

(٤) قلب الدولة.

(ب) ضع علامة (✓) أمام العبارة الصحيحة، وعلامة (X) أمام العبارة غير الصحيحة، مع ذكر السبب :

- (١) الرقابة فى النظام البرلماني تكون متبادلة. ( )  
 (٢) يضم مجلس التعاون لدول الخليج جميع الدول المطلة على الخليج العربي. ( )  
 (٣) الطابع السهلى للدولة له آثار إيجابية بالنسبة لقوة الدولة. ( )  
 (٤) توجد قاعدة واحدة لتحديد المياه الإقليمية تلتزم بها كل دول العالم. ( )

(ج) ماذا يحدث إذا ... ؟

- (١) تمكنت دولة صغيرة من هزيمة دولة أكبر منها سكاناً.  
 (٢) أصبح المستوى التكنولوجي بين دول الكتلة الاقتصادية غير متقارب.

(١) ما النتائج المترتبة على ... ؟

- (١) إزالة الحواجز الجمركية وتخفيف تكاليف الإنتاج داخل التكتلات الاقتصادية.  
 (٢) حصار الاتحاد السوفيتي لبرلين عام ١٩٤٨م.

(ب) ما المقصود بكل من ... ؟

- (١) العلاقات الدولية.  
 (٢) الجلاسنوست.  
 (٣) وطن الأقلية.  
 (٤) المشكلة السياسية.

(ج) فى رأيك ، هل يمكن قياس قوة الدولة ؟ (وضح رأيك بالأدلة).

(١) «الوزن السياسي لأى دولة هو محصلة مقوماتها الطبيعية والبشرية وبالتالي تؤثر هذه

المقومات فى العلاقات الدولية». من خلال دراستك أجب عما يأتى :

- (١) اذكر أهم المقومات الطبيعية والبشرية المؤثرة فى العلاقات الدولية.  
 (٢) وضح أهم التغيرات التى طرأت على العلاقات الدولية بعد انتهاء الاتحاد السوفيتي.  
 (٣) ما هى طرق حل النزاعات الدولية وقت السلم ؟

(ب) قارن بين ، الحدود السابقة، والحدود المنطبقة مع ذكر مثال لكل منهما.

(ج) بيم تفسر ... ؟

- (١) تُعد الجوانب الاقتصادية من أهم مقومات الدولة.  
 (٢) ارتباط دول العالم مع بعضها البعض فى منظمات وأحلاف عسكرية دولية وإقليمية.

## النموذج الرابع والعشرون

(١) «يُعد نظام الانتخابات أداة للاختيار وعن طريقه يتم الاختيار على أساس المساواة».

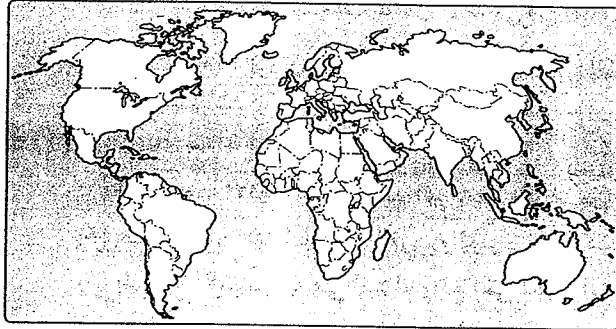
فى ضوء هذه العبارة أجب عما يأتى :

- (١) وضح أهم شروط ومهام الانتخابات.  
 (٢) ما الفرق بين : نظام الانتخاب الفردى ونظام الترشح بالقوائم ؟  
 (٣) هل يوجد نظام مثالى للحكم يصلح لكل الدول ؟ (وضح إجابتك بالأدلة).

(ب) ما المقصود بكل من ... ؟

- (١) البيروسترويكا.  
 (٢) النظام الدولي العالى الجديد.

(١) وضح على خريطة العالم السياسية التى أمامك موقع العواصم الآتية، ثم صفها وفقاً



للمعيار الذى يناسبها :

- (١) أمستردام.  
 (٢) برازيليا.  
 (٣) روما.  
 (٤) طوكيو.  
 (٥) كانبرا.

(ب) بيم تفسر ... ؟

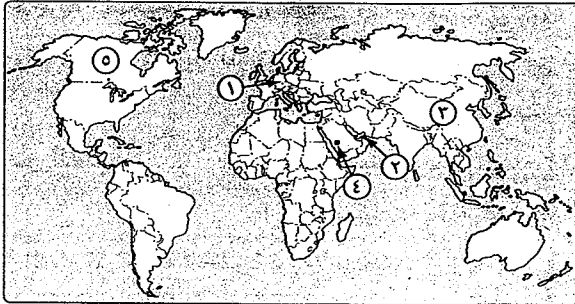
- (١) أهمية الحدود البحرية السياسية والمياه الإقليمية.  
 (٢) تصاعد مشكلتى سبته ومليلة عام ١٩٨٥م.  
 (٣) نشأة حلف جنوب شرق آسيا.

(ج) ما العلاقة بين ... ؟

- (١) المناخ، وقوة الدولة.  
 (٢) تطور وسائل الاتصالات، وتطور علم الجغرافيا السياسية.

## النموذج الخامس والعشرون

(أ) أمامك خريطة العالم، اكتب ما تدل عليه الأرقام :



- (١) دولة ذات طابع سهلي .....
- (٢) مضيق .....
- (٣) دولة عملاقة سكانياً .....
- (٤) منطقة قلب ذات أهمية دينية .....
- (٥) إحدى دول حلف الناتو .....

(ب) دلل على صحة العبارات الآتية :

- (١) ازدهرت الجغرافيا السياسية مع تطور التكنولوجيا والتقنيات الحديثة.
- (٢) توجد خلفية تاريخية للنظام الدولي العالمي الجديد.
- (٣) تطورت أشكال الحدود السياسية عبر العصور.

(ج) ما المقصود بكل من ... ؟

- (١) العولة.
- (٢) العلاقات الدولية.
- (٣) خصائص السكان.

(أ) بم تفسر ... ؟

- (١) أهمية الموقع البحري للدولة.
- (٢) لجوء بعض الدول إلى الاعتراف بحقوق الأقليات.
- (٣) صعوبة قياس الأفراد لقوة الدولة.

(أ) اختر الإجابة الصحيحة مما بين القوسين :

- (١) يعتبر ..... أقدم التكتلات الاقتصادية في العالم.  
(الاتحاد الأوروبي - النافتا - الكوميسا - الأبيك)
- (٢) يعد العالم ..... صاحب نظرية القوة البرية (قلب الأرض).  
(راتزل - ماكيندر - هوسهوفر - كيلين)
- (٣) من الدول ذات الشكل المندمج .....  
(تركيا - إيطاليا - فرنسا - منغوليا)
- (٤) تحولت السوق الأوروبية المشتركة إلى الاتحاد الأوروبي بمقتضى معاهدة .....  
(فرساي - باريس - ماسترخيت - كوبنهاجن)

(ب) «توجد على خريطة العالم السياسية عدد من المنظمات الدولية والإقليمية منها ذو الطابع

السياسي ومنها ذو الطابع الاقتصادي». من خلال دراستك أجب عما يأتي :

- (١) اذكر أمثلة للمنظمات ذات الطابع السياسي والمنظمات ذات الطابع الاقتصادي.
- (٢) وضع دور هيئة الأمم المتحدة في حل المشكلات الدولية.
- (٣) اذكر أهم مجهودات حلف شمال الأطلسي في حفظ السلام الدولي.
- (ج) ماذا يحدث إذا : أزيلت الحواجز الجمركية بين الدول العربية ؟

(أ) برهن على صحة أو خطأ العبارات الآتية :

- (١) استخدمت الأنهار في التحديد السياسي بالرغم من عيوبها.
- (٢) حدود مصر السياسية في الغرب والجنوب حدود هندسية.
- (٣) الدوافع الاقتصادية هي أهم الدوافع التي تحرك السكان عبر الأوطان.
- (٤) نشأ حلف جنوب شرق آسيا مع ظهور الصين كقوة عظمى في آسيا.
- (٥) مرت الحرب الباردة بين الولايات المتحدة والاتحاد السوفيتي بعدة مراحل منها التعايش السلمي والوفاق.

(ب) ما النتائج المترتبة على ... ؟

- (١) انتهاء الاتحاد السوفيتي عام ١٩٩١م بالنسبة للعلاقات الدولية.
- (٢) قيام النظام العالمي الجديد بالنسبة للدول النامية، والمتقدمة.
- (٣) المساحة الكبيرة للدولة.

(ج) وضع أوجه الشبه، والاختلاف بين الدولة والأمة.

(ب) ماذا يحدث إذا ، نجحت سياسة جورباتشوف في إيجاد نظام أكثر تطوراً أثناء حكمه للاتحاد السوفيتي ؟

(ج) اختر الإجابة الصحيحة مما بين القوسين :

(١) تحولت السوق الأوروبية المشتركة إلى الاتحاد الأوروبي في معاهدة .....

( روما - ماسترخيت - مدريد - لندن )

(٢) أسس العالم ..... مدرسة الجيوبولتيك في ميونخ عام ١٩٢٤م.

( رودلف كيلين - هوسهوفر - ألفردماهان - راتزل )

(٣) من الدول غير كاملة العضوية في الأمم المتحدة دولة .....

( البحرين - فلسطين - جيبوتي - صربيا )

(٤) الرئيس يسود ولا يحكم في ظل النظام .....

( البرلماني - الرئاسي - الشبه الرئاسي - جميع ما سبق )

(١) ما النتائج المترتبة على ... ؟

(١) التقدم العلمي والتكنولوجي بالنسبة لناخ الدولة.

(٢) تركيز وسائل الإنتاج في يد فئة قليلة من سكان الدولة.

(ب) «الرعى نشاط يمارسه الإنسان منذ قديم الأزل ويعتقد البعض أنه نشاط ينشأ على حواف

المناطق الزراعية في المناطق التي لا تكفي أمطارها لنشاط الزراعة».

من خلال دراستك أجب عما يأتي :

(١) ما هي أسباب النزاعات السياسية المترتبة على حركة القبائل بين الوحدات السياسية ؟

(٢) اذكر ثلاثة من الاتفاقيات الخاصة بتنظيم حركة الرعاة.

(٣) وضح دور الحشائش في قوة الدولة عبر العصور التاريخية.

(ج) قارن بين :

(١) المناطق السهلية، والمناطق المرتفعة للدولة من حيث :

\* الآثار الإيجابية. \* الآثار السلبية.

(٢) الجغرافيا السياسية، والجيوبولتيك من حيث أوجه الاختلاف.

(١) «الهدف من تكوين الدول للتكتلات الاقتصادية هو تحقيق الأمن الاقتصادي ومزيد من الفرص

للجميع تحت مظلة واحدة». من خلال دراستك وضح :

(١) أهداف قيام التكتلات الاقتصادية.

(٢) مراحل تكون الاتحاد الأوروبي.

(٣) أهم أنشطة مجلس التعاون لدول الخليج العربي.

(ب) ما العلاقة بين ... ؟

(١) التنظيم الحكومي، وقوة الدولة.

(٢) الجغرافيا السياسية، وعلم السياسة.

(ج) وضح كيف يتم تقسيم الدوائر الانتخابية.

### النموذج السادس والعشرون

(١) صنف الحدود السياسية للدول الآتية حسب المعيار الزمني والمعيار المورفولوجي :

(١) الحدود بين الهند والصين.

(٢) الحدود بين الهند وباكستان.

(٣) الحدود بين كوريا الشمالية وجمهورية كوريا.

(٤) الحدود بين الولايات المتحدة وكندا في منطقة البراري.

(٥) الحدود بين فرنسا وإسبانيا.

(ب) ما المقصود بكل من ... ؟

(١) قلب الدولة.

(٢) القوة الديموغرافية.

(٣) الأقليات.

(٤) الأحلاف العسكرية.

(ج) قارن بين :

(١) حجج الهند وحجج باكستان في السيطرة على كشمير.

(٢) إسهامات أرسطو وفردريك راتزل في الجغرافيا السياسية.

(١) بم تفسر ... ؟

(١) يُعد التعليم أحد الركائز لقوة الدولة.

(٢) تقسيم الدول إلى أقسام إدارية تستمد قراراتها من الحكومة المركزية.

(٣) تحاول الدولة أن تكون عاصمتها محصنة وبعيدة عن الجدد.

(٤) أهمية دراسة مقومات الدولة.

(ب) ماذا يحدث إذا ... ؟

- (١) لم توجد قناة السويس وممرات سيناء الجبلية بمصر.  
 (٢) تركزت جميع السلطات فى يد مؤسسة واحدة من مؤسسات الدولة.  
 (ج) ما العلاقة بين : الأنهار الدولية، والمشكلات السياسية ؟

(١) دتل على صحة العبارات الآتية :

- (١) للاستشعار عن بُعد دورًا هامًا فى الجغرافيا السياسية.  
 (٢) تُعد اللغة أهم عناصر تكوين القوميات فى العالم.  
 (٣) غيرت الثورة الصناعية النظرة للكرة الأرضية كوحدة ومجال دراسة للجغرافيا السياسية.  
 (٤) لسكان الأمة خصائص تجمعهم.

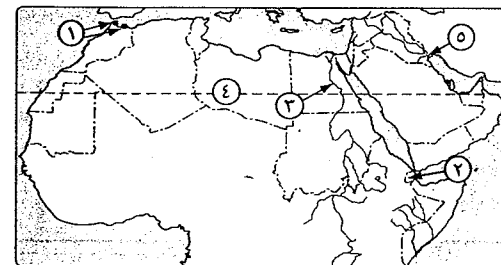
(ب) «شهد العالم على مر العصور صورًا مختلفة من الأحلاف العسكرية وأصبحت أحد المعالم

الرئيسية لسياسة توازن القوى المعاصرة». من خلال دراستك أجب عما يأتى :

- (١) ما الفرق بين البيروسترويكما والجالسنوست ؟  
 (٢) وضع الطرق التى اتبعها زعماء حلف الناتو لتطوير استراتيجية الحلف.  
 (٣) اذكر الأهداف التى قام عليها حلف وارسو.

(ج) قارن بين : الاتحاد الأوروبى، ومجلس التعاون لدول الخليج العربى من حيث :  
 \* الأهداف.  
 \* أهم المؤسسات التى يعتمد عليها كل منها.

(١) أمامك خريطة صماء للوطن العربى، اكتب ما تدل عليه الأرقام :



- (١) مدينتين بهما مشكلة سياسية ..... و .....  
 (٢) دولة ذات موقع استراتيجى ..... (٣) نهر دولى .....  
 (٤) دولة مشتركة فى اتحاد المغرب العربى والكمبوسا .....  
 (٥) منطقة حدود نهريّة .....  
 (٦) دولة ذات موقع استراتيجى ..... (٧) نهر دولى .....

(ب) اختر الإجابة الصحيحة مما بين القوسين :

- (١) من الدول التى ترفض استخدام الأقليات لغتها .....  
 (العراق - إيطاليا - سويسرا - ألمانيا)  
 (٢) تُعد دولة ..... نموذجًا للنظام البرلمانى.  
 (فرنسا - المملكة المتحدة - الولايات المتحدة الأمريكية - مصر)  
 (٣) يفصل مضيق هرمز بين .....  
 (المغرب وإسبانيا - الصومال وجيبوتى - إيران وعمان - جزيرة سومطرة وسنغافورة)  
 (٤) الأقليات الروسية من نماذج الأقليات .....  
 (القومية - الدينية - اللغوية - العرقية)  
 (٥) تُعد دولة ..... من الدول المندمجة الشكل. (إيطاليا - شيلي - فرنسا - اليابان)

### النموذج السابع والعشرون

(١) حدد صحة أو خطأ كل عبارة مما يأتى، مع ذكر السبب :

- (١) تُعد الحماية والأمن الوظيفة الأكثر أهمية للحدود السياسية.  
 (٢) جاء الميلاد الحقيقى للجغرافيا السياسية على يد أرسطو.  
 (٣) الوظائف السيادية فى الدولة الفيدرالية من اختصاصات الحكومات الإقليمية.  
 (٤) قامت الولايات المتحدة الأمريكية بتعديل مياها الإقليمية إلى ٢٠٠ ميل بحرى.

(ب) قارن بين :

- (١) تطور الخريطة السياسية فى النصف الأول من القرن العشرين وفى أواخر القرن العشرين.  
 (٢) خصائص الدولة الفيدرالية والدولة الكونفدرالية.

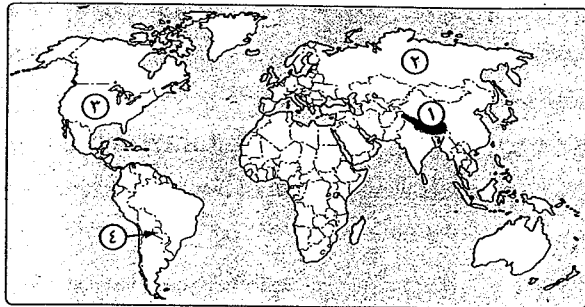
(ج) ما العلاقة بين ... ؟

- (١) التقنيات الحديثة، والحدود السياسية.  
 (٢) المناخ، والتكامل الاقتصادى.

(١) ما النتائج المترتبة على ... ؟

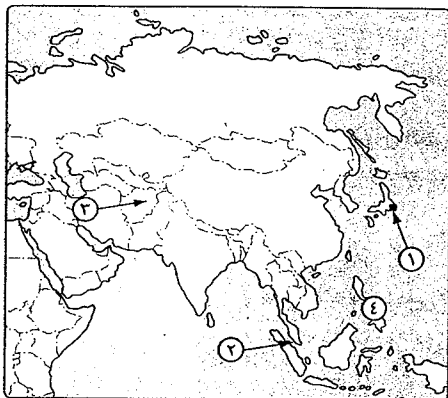
- (١) اختلاف توزيع الثروة داخل الدولة الواحدة.  
 (٢) إحاطة دولة بدولة أخرى من جميع الجهات.  
 (٣) الإجراءات التى تقدمها بعض الدول المتقدمة للعلماء.

(ج) أمامك خريطة لقارة أوروبا، اكتب ما تدل عليه الأرقام :



- (١) حد سياسى جبلى .....  
 (٢) أكبر دول العالم مساحة .....  
 (٣) دولة متعددة اللغات .....  
 (٤) دولة حبيسة .....

### النموذج الثامن والعشرون



(أ) أمامك خريطة لقارة آسيا، اكتب ما تدل عليه الأرقام :

- (١) عاصمة مستحدثة .....  
 (٢) مضيق .....  
 (٣) دولة حبيسة .....  
 (٤) دولة بحرية مجزأة .....

(ب) اذكر :

- (١) أهداف الجغرافيا السياسية.  
 (٢) إسهامات فردريك راتزل فى الجغرافيا السياسية.

(ج) قارن بين :

- (١) المساحة الكبيرة، والمساحة الصغيرة للدولة من حيث الآثار الإيجابية.  
 (٢) الاتجاه الأول والاتجاه الثانى فى تحديد المياه الإقليمية، مع ذكر أمثلة.

(ب) ما المقصود بكل من ... ؟

- (١) المياه التكميلية.  
 (٢) المشكلة السياسية.  
 (٣) قوة الدولة.

(ج) دتل على صحة كل عبارة مما يأتى :

- (١) للجغرافيا السياسية دور فى اقتراح الحلول للمشكلات السياسية.  
 (٢) تُعد العاصمة ضابط إيقاع لكل أجزاء الدولة.  
 (٣) يؤدى المناخ المتطرف إلى الحد من فاعلية الأنشطة البشرية.  
 (٤) للمرتبات الفضائية أهمية فى الجغرافيا السياسية.

(أ) ماذا يحدث إذا ... ؟

- (١) استطاعت دولة ما أن تحقق اكتفاء ذاتيًا من الغذاء.  
 (٢) امتلكت الأقلية الموجودة بدولة ما قوة اقتصادية.

(ب) ما الفرق بين ... ؟

- (١) الصورة الاجتماعية، والصورة المؤسسية لمفهوم النظام السياسى.  
 (٢) القائمة الحرة، والقائمة المغلقة فى الترشح للانتخابات.

(ج) اذكر مميزات الجبال كحدود سياسية بين الدول، مع ذكر أهم أشكالها، وأمثلة تدل عليها.

(أ) اختر الإجابة الصحيحة مما بين القوسين :

- (١) الحدود بين مصر وليبيا حدود ..... ( جبلىة - هندسية - بحرية - منطبعة )  
 (٢) من أمثلة الدول ذات الشكل المستطيل ..... ( فرنسا - الصين - السويد - اليابان )  
 (٣) يعد ..... قمة أجهزة الاتحاد الأوروبى.  
 ( المجلس الأوروبى - البرلمان الأوروبى - مجلس الاتحاد الأوروبى - المفوضية الأوروبىة )  
 (٤) كانت مدينة ..... مقر حلف جنوب شرق آسيا.  
 ( بغداد - بانكوك - نيويورك - وارسو )

(ب) «تعتبر حركة عدم الانحياز من نتائج الحرب العالمية الثانية، ونتيجة مباشرة للحرب الباردة

بين المعسكر الغربى والمعسكر الشرقى». من خلال دراستك أجب عما يأتى :

- (١) اذكر مراحل الحرب الباردة بين الولايات المتحدة، والاتحاد السوفيتى.  
 (٢) ما أهم التغييرات التى طرأت على العلاقات الدولية بعد انتهاء الاتحاد السوفيتى ؟

(١) ما الفرق بين ... ؟

(١) العاصمة، وقلب الدولة.

(٢) الدولة، والإقليم.

(ب) بم تفسر ... ؟

(١) ظهور التكتلات الاقتصادية في العالم.

(٢) أهمية الغابات كمورد من الموارد الطبيعية للدولة.

(٣) أهمية التقسيم الاجتماعي داخل الدولة كأحد مكونات المركب الاقتصادي.

(ج) حدد صحة أو خطأ العبارات الآتية :

(١) كثرة الدول المتجاورة سلاح ذو حدين بالنسبة لقوة الدولة.

(٢) كانت للمعاهدات المبرمة بين الدول تأثير واضح في ترسيم الحدود السياسية.

(٣) لم تتأثر خريطة العالم السياسية بسياسة الاحتواء التي قام بها حلف الناتو في السنوات

الأخيرة من القرن العشرين.

(٤) يؤخذ على هيئة الأمم المتحدة عدة اعتبارات.

(١) ما النتائج المترتبة على ... ؟

(١) انهيار الاتحاد السوفيتي وإلغاء الهيكل العسكري لطف وارسو عام ١٩٩١م.

(٢) تطور نظام النقل الجوي والأقمار الصناعية بالنسبة للجغرافيا السياسية.

(٣) العولة وظهور الشركات متعددة الجنسيات.

(ب) اختر الإجابة الصحيحة مما بين القوسين :

(١) من أصغر خمس دول في العالم من حيث المساحة .....

( البحرين - الفاتيكان - سويسرا - لبنان )

(٢) يهدف مركز التجارة الدولي إلى .....

( مساعدة الدول في تمويل استثماراتها - تطوير التعاون الدولي -

تنمية الصناعة في الدول النامية - تنظيم القضايا النقدية الدولية )

(٣) يفصل نهر ..... بين الولايات المتحدة والمكسيك.

( المسيسيبي - الراين - الريبوجراند - الفستولا )

(٤) توجد أقليات ..... داخل تركيا وإيران. ( صربية - كرواتية - كردية - ألبانية )

(ج) ماذا يحدث إذا ... ؟

(١) لم يتم عقد اتفاقيات خاصة بنصيب كل دولة من الثروات.

(٢) لم يكن هناك تنوع موارد بالنسبة لدول التكتل.

(١) «تعد الهجرة ظاهرة عالمية وكانت في السابق تتم دون مشاكل ولكن مع ترسيم الحدود

السياسية ظهرت الهجرة غير الشرعية». من خلال دراستك أجب عما يأتي :

(١) وضح المقصود بالهجرة غير الشرعية.

(٢) أعط أمثلة للهجرة غير الشرعية بين الدول.

(٣) اذكر دوافع الهجرة الدولية.

(ب) وضح علاقة الاستعمار بمشكلة سبتة ومليلة موضحاً دور المغرب في هذه المشكلة.

(ج) دلل على صحة ما يلي :

(١) يؤثر عدد السكان في العلاقات الدولية.

(٢) توجد خلفية تاريخية للنظام الدولي العالمي الجديد.

**النموذج التاسع والعشرون**

(١) ما العلاقة بين ... ؟

(١) تفكك الاتحاد السوفيتي، والنظام العالمي الجديد.

(٢) مساحة الدولة، ونظرية الدفاع بالعمق.

(ب) بم تفسر ... ؟

(١) فشل عصبة الأمم.

(٢) أهمية الدولة كظاهرة سياسية.

(٣) تفضل الأمم عادة أن تنشأ في مناطق مرتفعة.

(٤) أهمية المياه المحايدة والأرصدة القارية لبعض دول العالم.

(ج) ماذا يحدث إذا ... ؟

(١) استفادت الدول العربية من تجربة الاتحاد الأوروبي كأهم التكتلات الاقتصادية في العالم.

(٢) لم يتفكك الاتحاد السوفيتي.

(١) «الوزن السياسي لأي دولة هو محصلة مقوماتها الطبيعية والبشرية وبالتالي تؤثر هذه

المقومات في العلاقات الدولية». من خلال دراستك أجب عما يأتي :

(١) وضح أهم التغيرات التي طرأت على العلاقات الدولية بعد انتهاء الاتحاد السوفيتي.

(٢) اذكر خصائص النظام العالمي الجديد.

(٣) برهن : يُعد حجم سكان الدولة مقياساً لقوتها ووزنها السياسي إذا توافرت لها المقومات

الأخرى.

(ب) ما المقصود بكل من ... ؟

- (١) الدول الحبيسة.  
(٢) الحدود الطبيعية.  
(٣) الأقليات.  
(٤) الجغرافيا السياسية.

(ج) قارن بين :

- (١) البرلمان الأوروبي للاتحاد الأوروبي، والمجلس الوزاري لدول الخليج العربي.  
(٢) آراء هوسهوفر وآراء رودلف كيلين في الجيوبوليتيك.

(١) دال على صحة العبارات الآتية :

- (١) تهتم الدول والمنظمات بحقوق الأقليات في العالم.  
(٢) الحجم الكبير للسكان له مميزاته وعيوبه.  
(٣) شهدت خريطة العالم السياسية تغيرات سريعة في أواخر القرن العشرين.

(ب) اختر الإجابة الصحيحة مما بين القوسين :

- (١) يطلق على السوق المشتركة لشرق وجنوب إفريقيا .....  
( الكوميكون - الكوميسا - الأبيك - الناقتا )  
(٢) جاء الميلاد الحقيقي للجغرافيا السياسية على يد العالم .....  
( ابن خلدون - ألفرد ماهان - فردريك راتزل - ماكيندر )  
(٣) من الدول التي يسود فيها دين واحد .....  
( لبنان - السعودية - الولايات المتحدة - إثيوبيا )  
(٤) من الدول التي تشرف على البحر بواجهة واحدة .....  
( السعودية - شيلي - فرنسا - المغرب )

(ج) وضح رأيك : أيهما أنسب لقوة الدولة «العاصمة الساحلية» أم «العاصمة الداخلية»  
أيد إجابتك من خلال دراستك.

(١) «يُعد مجلس التعاون لدول الخليج العربي منظمة سياسية واقتصادية وإقليمية».

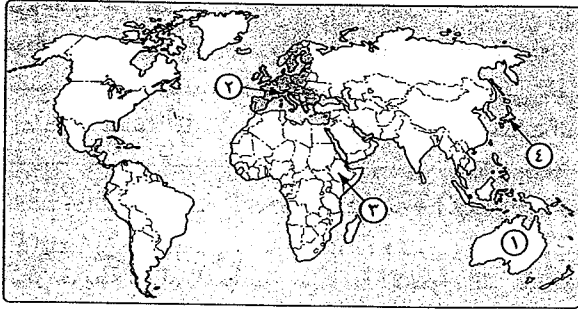
في ضوء دراستك أجب عما يأتي :

- (١) اذكر الدول الأعضاء لهذا المجلس.  
(٢) وضح أهم الخصائص التي تزيد من تلاحم سكان دول المجلس.  
(٣) ما أهداف مجلس التعاون لدول الخليج العربي ؟

(ب) ما الفرق بين ... ؟

- (١) خصائص الدولة الكونفدرالية، والدولة الفيدرالية.  
(٢) الدولة، والأمة.

(ج) أمامك خريطة للعالم، اكتب ما تدل عليه الأرقام :



- (١) دولة منظمة لتكتل الأبيك ..... (٢) تكتل اقتصادي .....  
(٣) دولة حبيسة ..... (٤) دولة مجزأة بحرية .....

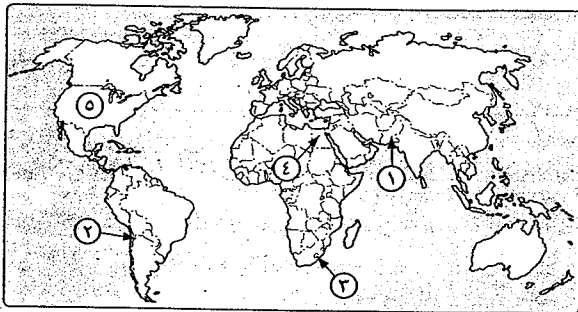
### النموذج الثلاثون

(١) «أثر التطور المعرفي والتكنولوجي الذي شهده العالم في تطور علم الجغرافيا السياسية».

في ضوء هذه العبارة وضح :

- (١) كيف أصبحت الجغرافيا السياسية جغرافية حية على الهواء.  
(٢) أهم المجالات التي استفادت منها الجغرافيا السياسية من تطور وسائل النقل الجوي والأقمار الصناعية.

(ب) أمامك خريطة للعالم، اكتب ما تدل عليه الأرقام :



- (١) دولة فيدرالية تحولت إلى دولة وحدوية مركزية .....  
(٢) دولة ذات شكل مستطيل ..... (٣) دولة محتواه .....  
(٤) من الدول المرسله للمهاجرين .....  
(٥) دولة ذات نظام سياسي رئاسي .....



(ج) بم تفسر ... ؟

- (١) تقسيم الدول إلى أقسام إدارية.
- (٢) صعوبة قياس قوة الدولة.
- (٣) لا تستطيع الحدود السياسية أن تفصل بين شعوب تنتمي لأصول عرقية مختلفة.
- (٤) النزاعات السياسية المترتبة على حركة القبائل بين الوحدات السياسية.

(١) ضع علامة (✓) أمام العبارة الصحيحة، وعلامة (X) أمام العبارة غير الصحيحة،

مع ذكر السبب :

- (١) لم تتأثر خريطة العالم السياسية بسياسة الاحتواء التي قام بها حلف الناتو في السنوات الأخيرة من القرن العشرين. ( )
- (٢) يدخل الفحم بنسبة كبيرة في التجارة الدولية. ( )
- (٣) تُعد اللغة أهم عناصر تكوين القوميات في العالم. ( )
- (٤) تم تهجير أهالي النوبة بسبب دوافع قومية. ( )
- (٥) تختلف مظاهر السطح لدول الاتحاد الأوروبي. ( )

(ب) ما العلاقة بين ... ؟

- (١) الاستعمار، ومشكلة كشمير.
- (٢) الموارد الصناعية، وقوة الدولة السياسية.

(ج) ما المقصود بكل من ... ؟

- (١) الدولة الكونفدرالية.
- (٢) المواقع الاستراتيجية.
- (٣) التكنولوجيا.
- (٤) النظام الانتخابي.

(١) اختر الإجابة الصحيحة مما بين القوسين :

- (١) يتم الاستعانة بالخرائط التفصيلية في رسم الحدود السياسية في .....  
( مرحلة التعريف والتخطيط - مرحلة التعيين - مرحلة إدارة الحد - جميع ما سبق )
- (٢) الحدود السياسية بين الهند والصين حدود .....  
( طبيعية - هندسية - حضارية - سابقة )
- (٣) لم توقع دولة ..... على ميثاق حلف وارسو ولكنها تعهدت بدعم الأعضاء في الحلف.  
( رومانيا - الاتحاد السوفيتي - الصين - ألبانيا )
- (٤) تعتبر دولة ..... دولة قزمية في عدد السكان.  
( قبرص - الهند - الصين - روسيا )

(ب) ما الفرق بين : أهداف حلف وارسو، وأهداف حلف الناتو ؟

(ج) ما النتائج المترتبة على ... ؟

- (١) وجود نسبة كبيرة من البطالة بين السكان.
- (٢) رسم الحدود السياسية في إقليم الساقانا الإفريقية.
- (٣) الحرب العالمية الثانية بالنسبة للعلاقات الدولية.

(١) «قضت اتفاقية جنيف عام ١٩٥٨م الخاصة بقانون البحار أن مدى المياه الإقليمية يجب

ألا يتعدى ١٢ ميلاً بحرياً». من خلال دراستك وضح :

- (١) الفرق بين الاتجاه الأول، والاتجاه الثاني في تحديد المياه الإقليمية.
- (٢) أسباب أهمية اتفاقيات تحديد المياه الإقليمية والدولية.
- (٣) أنواع المناطق المائية في العالم.

(ب) اذكر :

- (١) إجراءات تكون التكتلات الاقتصادية.
- (٢) أهم المتغيرات والتطورات التي أدت إلى الإعلان عن إقامة نظام دولي عالمي جديد.
- (٣) العلاقة بين حركة عدم الانحياز والحرب الباردة بين المعسكرين الغربي والشرقي.

