



أجب عن الأسئلة الآتية، أولاً الجغرافيا

١ (١) أمامك خريطة لدولة ألمانيا،

اكتب ما تدل عليه الأرقام الآتية :

- (١) البحر
(٢) دولة
(٣) نهر
(٤) جبال

(ب) «تعد الصناعة الحديثة مقياساً لتطور الشعوب وازدهارها».

في ضوء العبارة السابقة، أجب عما يأتي :

(١) لماذا يُعتبر إقليم شمال شرق الولايات المتحدة الأمريكية من أهم الأقاليم الصناعية ؟

(٢) ما الأسباب التي جعلت العالم يتوسع في استخدام الغاز الطبيعي ؟

(ج) اختر الإجابة الصحيحة مما بين القوسين :

(١) تأتي قارة أمريكا الشمالية في المرتبة الأولى إنتاجاً لمحصول

(البنجر - القمح - الأرز - الذرة)

(٢) يسود الرعي التجاري في دولة

(الأرجنتين - السعودية - مصر - اليمن)

(٣) يأتي نصف الإنتاج السمكي في العالم من

(الأنهار - البحيرات العذبة - البحار والمحيطات - المزارع السمكية)

(٤) تُعتبر الصين أولى دول العالم إنتاجاً لمعدن

(الحديد - النحاس - الفوسفات - اليورانيوم)

٢ (١) اكتب ما تشير إليه كل عبارة من العبارات الآتية :

(١) نوع من الزراعة يعمل بها عدد قليل من السكان في مناطق صغيرة ومعزولة.

(٢) كان المصدر الرئيسي للطاقة حتى أوائل القرن العشرين الميلادي.

(٣) تُعتبر أولى دول قارة أفريقيا إنتاجاً للمطاط.

(٤) دولة لها علاقات ثقافية وعلمية ومركز ثقافي وجامعة ومعهد للآثار في مصر.

(ب) بم تفسر ... ؟

(١) تركيز صناعة الألومنيوم في الدول المتقدمة.

(٢) تركيز زراعة الشاي في دول شرق آسيا.

(ج) انقل الجدول التالي في كراسة الإجابة وأكمل المطلوب فيه :

الدولة	المدينة	سبب الشهرة
(١)	لاجوس	(٢)
(٣)	(٤)	عاصمة إقليم بافاريا

ثانياً التاريخ

٣ (١) أكمل العبارات التالية بما يناسبها :

(١) شاركت مصر في مؤتمر لدول عدم الانحياز عام ١٩٥٥م بإندونيسيا.

(٢) تم إغلاق خليج في وجه الملاحة الإسرائيلية في مايو ١٩٦٧م.

(٣) أقامت جسراً جويًا لتقديم المساعدات العسكرية لإسرائيل في حرب أكتوبر ١٩٧٣م.

(٤) الوثيقة الرسمية التي تحدد نظام الحكم في الدولة تُسمى

(٥) عين الرئيس محمد أنور السادات الدكتورة وزيرة للشئون الاجتماعية عام ١٩٧١م.

(ب) الصورة التي أمامك تعبر عن انتصارات عودة

طابا للسيادة المصرية، في ضوء ذلك أجب

عما يلي :

(١) كيف استعادت مصر هذا الجزء عام ١٩٨٩م ؟

(٢) اذكر اثنين من المزايا التي تعود على مصر

والعرب من اختيار السلام بديلاً عن الحرب.

(ج) أيد بالأدلة التاريخية صحة كل عبارة مما يأتي :

(١) استطاعت ثورة ٢٣ يوليو ١٩٥٢م القضاء على الاستعمار وأعوانه.

(٢) سبق حرب أكتوبر ١٩٧٣م استعدادات على مستوى الجبهة العربية.



(ج) حدد المادة الخام التي تقوم عليها كل صناعة من الصناعات التالية :

- (١) صناعة الخبز. (٢) صناعة الملابس والمنسوجات.
(٣) صناعة إطارات السيارات. (٤) صناعة الأسلاك والأدوات الكهربائية.

٢ (١) اكتب ما تشير إليه كل عبارة من العبارات التالية :

- (١) زراعة الأرض أكثر من مرة في العام الواحد لإشباع حاجة السكان المحليين من الغذاء.
(٢) نوع من الرعى تعتمد عليه تربية الأغنام في العالم بأحدث الأساليب العلمية الحديثة.
(٣) استخراج المعادن ومصادر الطاقة من باطن الأرض أو بالقرب من السطح.
(٤) يُعد أهم مصادر الطاقة في العالم لارتباطه بالتنمية الاقتصادية والاجتماعية والعلاقات السياسية.

(ب) بم تفسر ... ؟

- (١) يعتبر النشاط الزراعي من الأنشطة الاقتصادية الأساسية في العالم.
(٢) تحتل الصين المركز الأول في إنتاج الأسماك في العالم.
(٣) تقدم الصناعة وتطورها في الدول المتقدمة.
(٤) يتركز السكان في غرب نيجيريا وفي السهول الشمالية وهضبة جوس.

(ج) انقل الجدول التالي إلى كراسة إجابتك، ثم أكمل الفراغات :

الدولة	القارة التابعة لها	مدينة شهيرة بها	أهمية المدينة
نيجيريا (١) (٢)	العاصمة القديمة
..... (٣)	أوروبا	هامبورج (٤)

ثانياً التاريخ

٣ (١) اختر الإجابة الصحيحة مما بين القوسين :

- (١) يعتبر تأميم شركة قناة السويس من إنجازات ثورة ٢٣ يوليو ١٩٥٢ في المجال
(الاجتماعي - الاقتصادي - الثقافي - السياسي)
(٢) إحكاماً للحصار الاقتصادي على إسرائيل في مايو ١٩٦٧ تم إغلاق
(خليج السويس - قناة السويس - خليج العقبة - ميناء الإسكندرية)
(٣) نجحت القوات المصرية في هزيمة القوات الإسرائيلية في معركة رأس العش عندما حاولت احتلال مدينة
(السويس - بورفؤاد - بورسعيد - العريش)
(٤) قرر الوزراء العرب في اجتماعهم بالكويت أثناء حرب أكتوبر ١٩٧٣ حظر صادرات
(النفط - الدواء - القطن - الأرز)
(٥) كانت معاهدة السلام بين مصر وإسرائيل برعاية
(روسية - ألمانية - أمريكية - فرنسية)

٤ (١) اكتب كلمة (صواب) أمام العبارة الصحيحة، وكلمة (خطأ) أمام العبارة غير الصحيحة، مع التصويب :

- (١) التطبيق غير السليم لنظام الخصخصة كان أحد عوامل قيام ثورة ٢٥ يناير ٢٠١١. ()
(٢) من إنجازات ثورة ٢٣ يوليو الاقتصادية إصدار قوانين الإصلاح الزراعي. ()
(٣) أثبتت مذبحه (ديرياسين) دور العصابات اليهودية في طرد العرب من ديارهم. ()
(٤) اهتم الخديو إسماعيل بالحياة النيابية فأنشأ مجلس شورى النواب عام ١٨٦٦م. ()

(ب) اذكر نتيجة واحدة لكل مما يلي :

- (١) مؤتمر سان ريمو في إيطاليا عام ١٩٢٠م بالنسبة لفلسطين.
(٢) فشل العدوان الثلاثي على مصر عام ١٩٥٦م.

(ج) ما تقييمك للدور التاريخي المضيء الذي قام به كل مما يأتي ... ؟

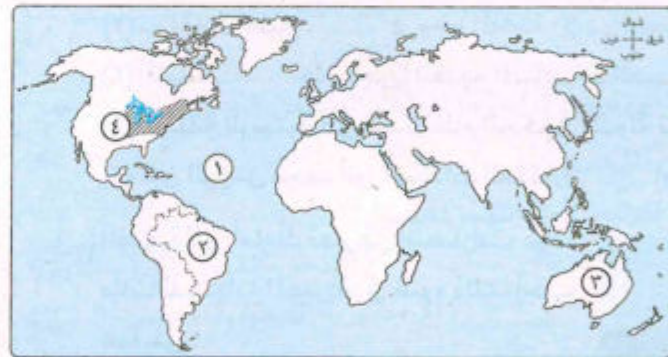
- (١) الفريق أول عبد المنعم رياض. (٢) المشير أحمد إسماعيل.



محافظة الجيزة

أولاً الجغرافيا

أجب عن الأسئلة الآتية:



١ (١) أمامك خريطة للعالم،

اكتب مدلول الأرقام الموضحة عليها :

- (١) المحيط
(٢) أولى الدول في إنتاج قصب السكر
(٣) دولة منتجة لأصواف المارينو
(٤) إقليم صناعي

(ب) صوب ما تحته خط :

- (١) يرعى حيوان الكانجورو في صحارى التندرا الباردة.
(٢) أولى قارات العالم إنتاجاً للطاقة النووية قارة أفريقيا.
(٣) تغطي الغابات الاستوائية والمدارية الجزء الشمالي لنيجيريا.
(٤) يسود ألمانيا مناخ البحر المتوسط الممطر طوال العام خاصة في الشمال.



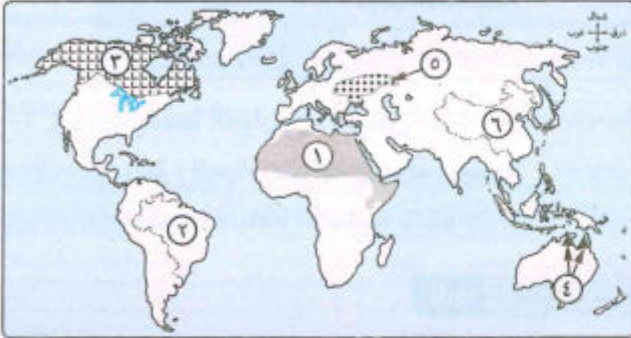
مجاب عنه

محافظة الاسكندرية

٣

أولاً الجغرافيا

اجب عن الأسئلة الآتية:



- ١ (١) أمامك خريطة للعالم، اكتب مدلول الأرقام الآتية :
 - (١) نوع الرعى السائد
 - (٢) * أكبر دول العالم إنتاجاً لمحصول
 - (٣) نوع الزراعة السائدة
 - (٤) أولى دول العالم إنتاجاً لمعدن
 - (٥) إقليم صناعي
 - (٦) أولى دول العالم إنتاجاً لمصدر طاقة صلب

(ب) بم تفسر ... ؟

- (١) تُعد الولايات المتحدة الأمريكية أكبر دول العالم المصنعة للألومنيوم.
- (٢) انخفاض أعداد العاملين بالرعى البدائي بقارة آسيا.
- (٣) أهمية إقليم المرتفعات الوسطى في ألمانيا.

(ج) اكتب المصطلح الجغرافي لكل عبارة مما يأتي :

- (١) أحد المحاصيل ذات طبيعة خاصة وتُعد دولة تايلاند أولى دول العالم في إنتاجه.
- (٢) طاقة يتم إنتاجها من الفحم والبتروال والغاز الطبيعي.
- (٣) إقليم صناعي تتنوع فيه الصناعات ما بين هندسية وخفيفة واستهلاكية بالعالم الجديد.
- (٤) نشاط اقتصادي يسود في كل القارات ودول العالم تقريباً وينقسم إلى نوعين رئيسيين.

٢ (١) اختر الإجابة الصحيحة مما بين القوسين :

- (١) تأتي قارة أمريكا الشمالية في المرتبة الأولى في إنتاج محصول
- (٢) من المقومات البشرية للصناعة (المواد الخام - رأس المال - مصادر الطاقة - الموقع المتميز)
- (٣) أكثر المدن النيجيرية تكديساً بالسكان (أبوجا - لاجوس - إيبادان - كانو)
- (٤) أكبر دول العالم إنتاجاً للألبان (الصين - الهند - أستراليا - الولايات المتحدة الأمريكية)
- (٥) يأتي نصف الإنتاج السمكي في العالم من
- (المياه المالحة - الأنهار - البحيرات العذبة - المزارع السمكية)



(ب) أمامك صورة لمدينة مصرية محررة يرفرف عليها علم مصر الغالي، تأمل الصورة ثم حدد الآتي :

(١) ما المدينة التي استعادتها مصر في مارس ١٩٨٩م.

(٢) الهيئة الدولية التي أصدرت حكمها لصالح مصر.

(٣) من الرئيس المصري الذي عادت في عهده هذه المدينة.

(ج) دلل على صحة كل عبارة مما يأتي :

(١) لفلسطين أهمية في قلب كل عربي.

(٢) للسلام مزايا عديدة لمصر ووطننا العربي.

٤ (١) لمن تنسب الأعمال التاريخية الآتية ... ؟

(١) أسس تنظيم الضباط الأحرار.

(٢) أذاع البيان الأول لثورة ٢٣ يوليو ١٩٥٢م بصوته من دار الإذاعة المصرية.

(٣) قاد خطة الخداع لصرف أنظار إسرائيل عن التجهيزات الهجومية لحرب أكتوبر ١٩٧٣م.

(٤) استلم السلطة في ٣ يوليو ٢٠١٣م وكان رئيس المحكمة الدستورية العليا.

(ب) اكتب كلمة (صواب) أمام العبارة الصحيحة، وكلمة (خطأ) أمام العبارة غير الصحيحة :

(١) فساد النظام الملكي وخضوع مصر للاحتلال البريطاني من عوامل قيام ثورة

٢٣ يوليو ١٩٥٢م.

(٢) رفضت هيئة الأمم المتحدة تقسيم فلسطين عام ١٩٤٧م.

(٣) تعرضت مصر للعدوان الثلاثي عام ١٩٥٦م لساندها حركات التحرر الوطني في الجزائر.

(٤) قدم وزير خارجية الولايات المتحدة الأمريكية مبادرة روجرز لوقف إطلاق النار.

(ج) «نجحت ثورة ٢٣ يوليو ١٩٥٢م في تحقيق بعض أهدافها من خلال إنجازاتها في مختلف المجالات».

في ضوء هذه العبارة، أجب عن الآتي :

(١) ماذا كان يحدث إذا لم يتم بناء السد العالي ؟

(٢) ما المقصود بـ: عدم الانحياز ؟

٤ (١) اكتب ما تشير إليه كل عبارة من العبارات الآتية :

- (١) مؤتمر شاركت فيه كل من الهند ويوغوسلافيا «سابقاً» بإندونيسيا وكان لمصر الريادة فيه.
- (٢) ثورة يراها بعض المؤرخين أنها تكتسب أهمية كبيرة لما تركته من آثار على أغلب الحركات التحريرية في المنطقة العربية والعالم.
- (٣) تسلم السلطة في مصر عام ٢٠١٣م لحين إجراء انتخابات رئاسية جديدة.
- (٤) مهدت الطريق أمام إسرائيل للقبول بمبدأ التفاوض بين الأطراف المهتمة بالقضية الفلسطينية.
- (٥) منع اختراق الطائرات الإسرائيلية للأجواء المصرية وتم بنائه في الفترة خلال عامي ١٩٦٩ / ١٩٧٠م.

(ب) قارن بين دور كل من : الجيش المصري، والشعب في ثورتى ٢٣ يوليو ١٩٥٢م و٢٥ يناير ٢٠١١م ؟

٢	١	
ثورة ٢٥ يناير ٢٠١١م	ثورة ٢٣ يوليو ١٩٥٢م	
.....	دور الجيش
.....	دور الشعب

(ج) ما العلاقة بين ... ؟

- (١) توقيع معاهدة ١٩٣٦م، وازدياد معاناة أفراد الشعب المصري.
- (٢) ثورة ٢٣ يوليو ١٩٥٢م، والحياة النيابية.
- (٣) انتهاء الحرب العالمية الأولى، والوضع السياسى في فلسطين.



٤ محافظة القليوبية

أجب عن الأسئلة الآتية: أولاً الجغرافيا



١ (١) أمامك خريطة لدولة الهند، اكتب

مدلول الأرقام الموقعة عليها :

- (١) دولة
- (٢) مسطح مائى
- (٣) دائرة عرض
- (٤) جبال

(ب) ما المقصود بكل من ... ؟

- (١) الزراعة الكثيفة.
- (٢) النشاط التعدينى.

(ب) أمامك جدول مقارنة بين قارتى أوروبا وأفريقيا، أكمل بما يناسبه :

٢	١	
أفريقيا	أوروبا	
دولة مصدرة	دولة مستوردة	خام الحديد
دولة منتجة	دولة منتجة	البنجر
دولة منتجة	دولة منتجة	طاقة الرياح

(ج) أيد صحة العبارتين الآتيتين :

- (١) تنوع الحياة النباتية في دولة نيجيريا.
- (٢) تتميز الصناعة الألمانية بالتنوع.

ثانياً التاريخ

٣ (١) صوب الخطأ في كل عبارة من العبارات الآتية :

- (١) إشراك العمال في مجالس إدارة الشركات والمصانع من الإنجازات الاقتصادية لثورة ٢٣ يوليو ١٩٥٢م.
- (٢) حسم مجلس الأمن الخلاف الذى حدث بين مصر وإسرائيل على تعيين مكان بعض علامات الحدود بينهما في سبتمبر ١٩٨٨م.
- (٣) وافق الملك فاروق على مغادرة البلاد في الموعد المحدد لأنه أدرك أن الجيش والشعب يكرهان حكمه.
- (٤) ارتبط دور المرأة في العمل الوطنى بقضايا سياسية طرحتها الصحافة والهيئات النيابية.
- (٥) كان من نتائج مؤتمر كامب ديفيد حدوث مفاوضات سرية أسفرت عن توقيع اتفاقية بين إسرائيل ومنظمة التحرير الفلسطينية في سبتمبر ١٩٩٣م.

(ب) ما النتائج التى ترتبت على ... ؟

- (١) إدراك الدولة المصرية مكانة المرأة في الفترة من ١٩٨١م وحتى الآن.
- (٢) الضربة الجوية الناجحة ونيران المدفعية على طول القناة في حرب أكتوبر ١٩٧٣م.
- (٣) تولى المشير أحمد إسماعيل القيادة العامة الموحدة للقوات المصرية السورية في حرب أكتوبر ١٩٧٣م.

(ج) أيد بالأدلة صحة كل عبارة مما يأتى :

- (١) قامت الولايات المتحدة بموقفين متشابهين في حرب فلسطين، وحرب الاستنزاف.
- (٢) تعددت أشكال الدعم العربى لمصر وسوريا في حرب أكتوبر ١٩٧٣م.

- (ج) أجب عما يأتي : (١) ما العلاقة بين : معاهدة ١٩٣٦م، ومعاناة الشعب المصري ؟
 (٢) ما وجه الشبه والاختلاف بين : المجلس العالى، ومجلس شورى القوانين ؟
 (٣) ماذا كان يحدث إذا : لم تدرك بريطانيا أهمية فلسطين (بالنسبة لليهود) ؟

٤ (١) من قام بالأعمال التالية ... ؟

- (١) شكّل الوزارة بعد حادث فبراير ١٩٤٢م. (٢) قاد ثورة ١٩٣٦م في فلسطين.
 (٣) قاد خطة الخداع لصرف أنظار إسرائيل عن التجهيزات الهجومية لحرب أكتوبر ١٩٧٣م.
 (٤) أنشأ مدرسة السنية كأول مدرسة لتعليم البنات.

(ب) أولاً : بم تفسر ... ؟

- (١) مغادرة الملك فاروق البلاد قبل الموعد المحدد.
 (٢) تفوق اليهود عند استئناف القتال في حرب فلسطين ١٩٤٨م.

ثانياً : أكمل كل عبارة مما يأتي بما يناسبها :

- (١) هزمت القوات الإسرائيلية في معركة رأس العش عندما حاولت احتلال مدينة
 (٢) إقامة السلطة الوطنية الفلسطينية كان نتيجة لاتفاقية

(ج) (١) اكتب ما تشير إليه العبارة التالية :

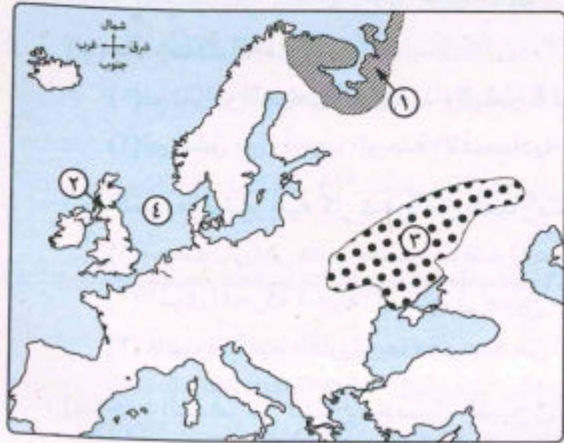
- قيام الشعب بانتخاب ممثلين لإدارة شؤون الحكم وسنّ القوانين ومراقبة أعمال الحكومة.
 (٢) ما رأيك في : دور اللجان الشعبية أثناء ثورة يناير ٢٠١١م ؟

٥ محافظة الشرقية



مجاب عنه

أجب عن الأسئلة الآتية: أولاً الجغرافيا



١ (١) أمامك خريطة لقارة أوروبا،

اكتب في كراسة الإجابة مدلول الأرقام الموقعة عليها :

- (١) نوع الرعى السائد
 (٢) دولة مستوردة للحديد
 (٣) إقليم صناعى
 (٤) مسطح مائى

- (ج) (١) ددل جغرافيًا على صحة العبارة : تعتبر الزراعة من أهم الأنشطة الاقتصادية في العالم.
 (٢) ما العلاقة بين : مناخ نيچيريا، وإنتاجها الحيوانى ؟

٢ (١) اختر الإجابة الصحيحة مما بين القوسين :

- (١) تتركز زراعة البنجر فى دول أوروبا وأهمها (السويد - روسيا - فرنسا - إنجلترا)
 (٢) تختص المراعى المناسبة لرعى حيوان الرنة فى قارنى
 (أمريكا الشمالية والجنوبية - أستراليا وأفريقيا - آسيا وأفريقيا - أوروبا وآسيا)
 (٣) تعتمد دولة على المادة الخام المستوردة فى صناعتها للألومنيوم.
 (الصين - الهند - أستراليا - كندا)
 (٤) تتركز المراكز الصناعية الحديثة فى دول الخليج على الصناعات
 (الهندسية - البترولية - الغذائية - النسيجية)

(ب) اكتب كلمة (صواب) أمام العبارة الصحيحة، وكلمة (خطأ) أمام العبارة غير الصحيحة، مع التصويب :

- (١) تحتل الولايات المتحدة الأمريكية المركز الأول فى إنتاج الدواجن. ()
 (٢) تقتصر الصادرات المصرية إلى نيچيريا على المواد الخام. ()

(ج) بم تفسر : أهمية مصادر الطاقة للإنسان ؟

(د) ماذا يحدث إذا : أنتجت مصر الكهرباء من الأمواج وحركة المد والجزر ؟

ثانياً التاريخ

٣ (١) صوب ما تحته خط فيما يلى :

- (١) نجحت القوات المصرية فى تدمير خط الدفاع الإسرائيلى ألون فى حرب أكتوبر ١٩٧٣م.
 (٢) تم إقرار مبدأ الأرض مقابل السلام فى مؤتمر كامب ديفيد.
 (٣) فى يوليو ٢٠١٣م تم تسليم السلطة إلى محمد حسنى مبارك لحين إجراء انتخابات رئاسية.
 (٤) كان إقرار مشاركة المرأة فى كافة المجالات السياسية والاجتماعية والاقتصادية فى مرحلة ما بعد ثورة ١٩١٩م.

(ب) ددل تاريخيًا على صحة كل عبارة من العبارات التالية :

- (١) تعددت إنجازات ثورة ٢٣ يوليو ١٩٥٢م فى المجال العربى.
 (٢) كان سوء الأوضاع الاقتصادية من أسباب ثورة يناير ٢٠١١م.
 (٣) منظمات المجتمع المدنى عناصر فاعلة فى تقديم الخدمات الاجتماعية.

التاريخ

٣ (١) اختر الإجابة الصحيحة مما بين القوسين :

- (١) أصبح اللواء محمد نجيب مسيطراً على جميع قطاعات الجيش المصرى عقب
(تأميم قناة السويس - مغادرة الملك البلاد - إلغاء النظام الملكى - البيان الأول للثورة)
- (٢) تحقق الهدف الأول من قيام ثورة ٢٣ يوليو ١٩٥٢ عن طريق
(حل الأحزاب السياسية - توقيع اتفاقية الجلاء - إلغاء دستور ١٩٢٣ - بناء السد العالى)
- (٣) استطاعت القوات المصرية هزيمة القوات الإسرائيلية في معركة رأس العش عند محاولتها احتلال مدينة
(بورسعيد - الإسماعيلية - بورفؤاد - السويس)
- (٤) أنهت حالة اللاحرب واللاسلم وأفسحت المجال للمفاوضات السياسية من منطلق القوة العربية حرب
(فلسطين ١٩٤٨ - يونيه ١٩٦٧ - أكتوبر ١٩٧٣ - الاستنزاف ١٩٦٩)
- (٥) التطبيق الخاطئ لسياسة الخصخصة قبل ثورة ٢٥ يناير ٢٠١١ أدى إلى تدهور أحوال مصر
(السياسية - الاقتصادية - التعليمية - الصحية)

(ب) بم تفسر ... ؟

- (١) تقديم وزير خارجية الولايات المتحدة الأمريكية مبادرة روجرز أثناء حرب الاستنزاف.
(٢) تأييد مصر اتفاقية أوسلو ١٩٩٣ بين إسرائيل ومنظمة التحرير الفلسطينية.
(٣) تشكيل الشعب المصرى لجان شعبية أثناء ثورة ٢٥ يناير ٢٠١١.

(ج) أيد بالأدلة التاريخية صحة كل عبارة مما يأتي :

- (١) افتقد العدوان الثلاثى على مصر عام ١٩٥٦ للدعم الدولى.
(٢) شهدت مرحلة ما بعد ثورة ١٩١٩ وحتى ثورة يوليو ١٩٥٢ نهضة نسائية في مختلف المجالات.

٤ (١) اكتب كلمة (صواب) أمام العبارة الصحيحة، وكلمة (خطأ) أمام العبارة غير الصحيحة، مع التصويب :

- (١) يُعد قانون الإصلاح الزراعى الأول ١٩٥٢ من إنجازات ثورة يوليو في المجال الاجتماعى. ()
(٢) أيدت دول الحلفاء مساعى بريطانيا لإنشاء وطن قومى لليهود عقب الحرب العالمية الأولى. ()
(٣) من أسباب العدوان الإسرائيلى على البلاد العربية ١٩٦٧ حرمانها من الملاحه فى أحد الممرات الدولية. ()
(٤) عقب ثورة الشعب المصرى عام ٢٠١٣ تسلم الحكم أحد أفراد السلطة العسكرية. ()

(ب) ما الأثر الناتج عن ... ؟

- (١) إجراءات حكومة الانتداب البريطانى على فلسطين ١٩٢٠ لتنفيذ وعد بلفور.
(٢) تقديم الولايات المتحدة معلومات عسكرية لإسرائيل أثناء حرب أكتوبر ١٩٧٣.

(ب) بم تفسر ... ؟

- (١) تأثر إنتاج السكر بدولة فرنسا بالظروف المناخية السائدة.
(٢) يحتل البترول حالياً المصدر الأول للطاقة المستخدمة في العالم.
(٣) قلة عدد العاملين في القطاع الزراعى بدولة ألمانيا مقياساً لتقدمها.

(ج) اختر الإجابة الصحيحة مما بين القوسين :

- (١) تمارس حرفة الرعى بالمناطق الحارة والمعتدلة والباردة في قارة
(أوروبا - آسيا - أفريقيا - أنتاركتيكا)
- (٢) «النشاط التعدينى هو استخراج المعادن ومصادر الطاقة من باطن الأرض». هذه العبارة لا تنطبق على
(الحديد - الفحم - البترول - الألومنيوم)
- (٣) يأتي على قمة الأنشطة الاقتصادية المتطورة في العالم النشاط
(الصناعى - الزراعى - التجارى - الرعى)
- (٤) لنيجيريا حدود مشتركة مع أربعة دول أقربهم لحدود مدينة لاجوس دولة
(تشاد - النيجر - بنين - الكاميرون)

(د) ما رأيك في العبارة التالية، مع ذكر السبب :

كل دول العالم تستطيع إنتاج الطاقة الكهربائية ؟

٢ (١) اكتب كلمة (صواب) أمام العبارة الصحيحة، وكلمة (خطأ) أمام العبارة غير الصحيحة، مع التصويب :

- (١) ترتبط كثير من الأنشطة التي يمارسها الإنسان بالموارد الزراعية. ()
(٢) تُعد الأبقار المصدر الرئيسى للحوم الحمراء لجميع سكان دول آسيا. ()
(٣) توجد بقارة آسيا أولى دول العالم إنتاجاً للدواجن. ()
(٤) للظروف المناخية بجنوب دولة نيجيريا آثار إيجابية وأخرى سلبية. ()

(ب) ماذا يحدث إذا ... ؟

- (١) لم تتوافر العوامل الطبيعية والبشرية لحرفة الصيد بدولة النرويج.
(٢) لم تحقق دول أوروبا الوحدة الاقتصادية.

(ج) اكتب ما تشير إليه كل عبارة من العبارات الآتية :

- (١) محصول زراعى دائم الخضرة موطنه الأصلي شرق آسيا وتُعد الصين أولى دول العالم إنتاجاً له.
(٢) القوى المحركة لحياة الإنسان في جميع مجالات حياته.
(٣) عاصمة إقليم بافاريا وبها مقر عدد من الشركات والمصانع الألمانية العالمية.
(د) حدد الهدف من : إنتاج محصول القمح في الولايات المتحدة الأمريكية.

- (٤) تقع أكبر دولتين في إنتاج الفحم في نصف الكرة الأرضية
- (٥) تنتشر صناعة الإلكترونيات والسيارات في إقليم
- (٦) تقع هضبة جوس في نيجيريا وسط السهول

(ب) اكتب ما تشير إليه كل عبارة من العبارات الآتية :

- (١) محصول مدارى حار يحتاج حرارة مرتفعة ومياه وفيرة.
- (٢) * غذاء رئيسى لكثير من سكان العالم خاصة في المناطق الساحلية على البحار والمحيطات.
- (٣) دولة في شمال شرق أفريقيا اقترنت من مستوى الدول المتقدمة.

(ج) في ضوء ما درست كيف : تستفيد مصر من التجربة الألمانية في تطوير الصناعة ؟

تاريخ

٣ (١) اختر الإجابة الصحيحة مما بين القوسين :

- (١) قادت اللجنة العربية أخطر الثورات الفلسطينية عام ١٩٣٦م ضد
- (الاحتلال الإسرائيلي - الانتداب البريطاني - إيطاليا - فرنسا)
- (٢) نجحت حرب الاستنزاف في تأمين مصر من اعتداءات إسرائيل
- (الجوية - البحرية - البرية - النهرية)
- (٣) أظهرت حرب أكتوبر ١٩٧٣م لأول مرة للعرب أهمية سلاح
- (الطيران - المدفعية - النفط - البحرية)
- (٤) جرت أولى المناقشات لوضع أطر السلام العربي الإسرائيلي في
- (مصر - إسرائيل - الاتحاد السوفيتي - الولايات المتحدة الأمريكية)
- (٥) قامت ثورة ٣٠ يونيو ٢٠١٣م في مصر نتيجة سوء الأحوال
- (الدولية - الاقتصادية - العسكرية - الثقافية)
- (٦) تولى السلطة في مصر بعد عزل محمد مرسي
- (عدلى منصور - عبدالفتاح السيسي - حسنى مبارك - جمال عبدالناصر)

(ب) ما النتائج التي ترتبت على ... ؟

- (١) فساد النظام الملكى قبل ثورة ٢٣ يوليو ١٩٥٢م.
- (٢) تولى الفريق أول عبد المنعم رياض رئاسة أركان حرب القوات المسلحة.
- (٣) لجوء مصر إلى التحكيم الدولى لاستعادة طابا.

(ج) ماذا كان يحدث إذا : لم يتم إذاعة بيان ثورة ٢٣ يوليو ١٩٥٢م ؟

(ج) «تحية إعزاز وتقدير للمصريين وجيشهم حيث خاضوا أربعة حروب في أقل من ثلاث عقود من أجل حماية وطنهم وأمتهم». في ضوء هذه العبارة، أجب عن الآتى :

- (١) وضح إجراءات مصر في تهيئة وإعداد الجبهة العربية قبل حرب أكتوبر ١٩٧٣م.
- (٢) حدد أسباب لجوء مصر وإسرائيل للتحكيم الدولى بعد انسحاب إسرائيل من سيناء ١٩٨٢م.
- (٣) ما المقصود بـ: الحياة النيابية ؟

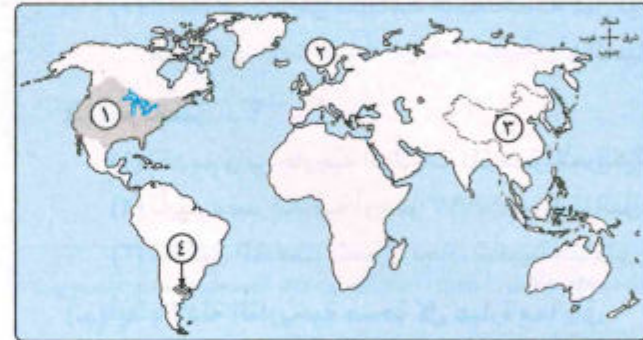
(د) ما العلاقة بين : معاناة الشعب المصرى الاقتصادية قبل ثورة ٢٣ يوليو ١٩٥٢م، ومعاهدة ١٩٣٦م ؟



مجاب عنه

٦ محافظة المنوفية

أجب عن الأسئلة الآتية: أولا الجغرافيا



١ (١) استخدم الخريطة في الإجابة

عن ما يأتى :

- (١) الزراعة السائدة
- (٢) من أهم الدول الأوروبية المصدرة للأسماك
- (٣) ثانی دول العالم المنتجة للنحاس
- (٤) مركز صناعى حديث

(ب) ما العلاقة بين ... ؟

- (١) الزراعة الواسعة، والرعى التجارى.
- (٢) * الصناعة، واستهلاك المعادن فى العالم.
- (ج) «تستفيد نيجيريا من نهر النيجر فى الرى». فى ضوء هذه العبارة، عدّد : أوجه الاستفادة الأخرى من نهر النيجر.

(د) توقع فى ضوء ما درست : أهم الأنشطة الاقتصادية فى المرتفعات الوسطى الألمانية.

٢ (١) أكمل العبارات التالية بكلمات مناسبة :

- (١) أفريقيا ثانی قارات العالم فى إنتاج محصول
- (٢) تشتهر دولة أستراليا بإنتاج الأصواف من
- (٣) تشتهر موريتانيا بتصدير خام

(ب) اختر الإجابة الصحيحة مما بين القوسين :

- (١) تنتشر الزراعة البسيطة في المناطق (المعتدلة الدفيئة - الحارة - الباردة - الموسمية)
- (٢) تتركز زراعة بنجر السكر في عدة دول منها (البرازيل - أستراليا - الهند - فرنسا)
- (٣) تعتبر الصين أولى دول العالم في تربية (الأبقار - الأغنام - الدواجن - الإبل)
- (٤) من المقومات الطبيعية للصناعة (التطور العلمي - الأسواق - الموقع المتميز - رأس المال)
- (٥) أولى دول العالم إنتاجًا للبترول توجد في قارة (أفريقيا - أوروبا - أستراليا - آسيا)

(ج) بم تفسر ... ؟

- (١) زيادة معدل الاستهلاك العالمي من اللحوم الحمراء.
- (٢) تُعد إندونيسيا من أهم الدول المنتجة للأسمك في العالم.
- (٣) تتركز صناعة الألومنيوم في الدول المتقدمة.

٢ (١) اكتب كلمة (صواب) أمام العبارة الصحيحة، وكلمة (خطأ) أمام العبارة غير الصحيحة، مع التصويب :

- (١) تُعد قارة آسيا أكبر قارات العالم إنتاجًا لمحصول القطن. ()
- (٢) الشاي نبات دائم الخضرة موطنه الأصلي شرق آسيا. ()
- (٣) تعتبر روسيا أولى دول العالم إنتاجًا لمعدن النحاس. ()
- (٤) يستخرج القصدير في نيجيريا من المنطقة الغربية. ()
- (٥) ترتفع الكثافة السكانية في كثير من السواحل الغربية للولايات المتحدة الأمريكية. ()

(ب) «تنتشر المعادن ومصادر الطاقة في معظم دول العالم النامية والمتقدمة».

في ضوء ما درست أجب :

- (١) أيد بالأدلة : تتعدد مصادر توليد الطاقة الكهرومائية في العالم.
- (٢) بم تفسر : توجد علاقات قوية بين مصر والولايات المتحدة الأمريكية في مختلف المجالات ؟
- (٣) ما النتائج المترتبة على : الوحدة الاقتصادية الأوروبية ؟

ثانياً التاريخ

٣ (١) اختر الإجابة الصحيحة مما بين القوسين :

- (١) إصدار قانون الإصلاح الزراعي الأول من إنجازات ثورة ٢٣ يوليو ١٩٥٢م في المجال (السياسي - الاقتصادي - الاجتماعي - الدولي)
- (٢) شارك مصر في تشكيل حركة عدم الانحياز كل من إندونيسيا و (الصين - الهند - كينيا - العراق)
- (٣) مؤتمر نادى بمبدأ الأرض مقابل السلام عام ١٩٩١م عقد في مدينة (لندن - باريس - برلين - مدريد)
- (٤) أولى الدول اعترافاً بقيام دولة إسرائيل في ١٥ مايو ١٩٤٨م الاتحاد السوفيتي سابقاً و (اليابان - فرنسا - الولايات المتحدة الأمريكية - بريطانيا)

٤ (١) اكتب ما تشير إليه كل عبارة من العبارات الآتية :

- (١) قرر إقامة هدنة بين العرب وإسرائيل مدتها شهر أثناء حرب فلسطين ١٩٤٨م.
- (٢) دولة عربية قدمت مع السعودية الدعم العسكري والمالي لمصر وسوريا خلال حرب أكتوبر ١٩٧٣م.
- (٣) دعا الخديو إسماعيل إلى إنشاء مدرسة لتعليم البنات عام ١٨٧٣م.
- (٤) ملك مصر الذي غادر وأسرته البلاد قبل الموعد المحدد له عام ١٩٥٢م.
- (٥) قام بتنفيذ خطة عبور قناة السويس وتخطيط خط بارليف في حرب أكتوبر ١٩٧٣م.

(ب) أثبت صحة كل عبارة مما يأتي :

- (١) كان لثورة ٢٣ يوليو ١٩٥٢م فضل في تشكيل حركات دولية.
- (٢) العناد الإسرائيلي أحد أسباب حرب أكتوبر ١٩٧٣م.
- (٣) ساعدت الأوضاع الاجتماعية في مصر على قيام ثورة ٢٥ يناير ٢٠١١م.

(ج) ما المفهوم التاريخي لكل مما يأتي ... ؟ (١) اللجان الشعبية. (٢) دستور.

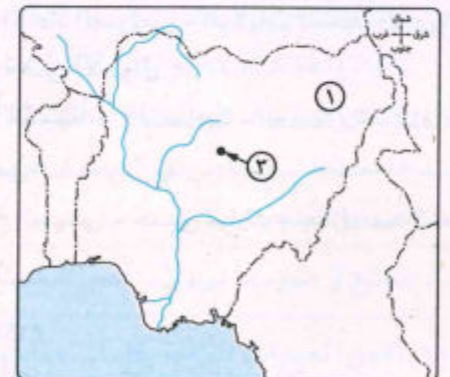


مجاب عنه

٧ محافظة الغربية

أجب عن الأسئلة الآتية: أولاً الجغرافيا

١ (١) استعن بالخريطين اللتين أمامك، ثم أجب عما يأتي :



- (١) اسم الدولة رقم ①
- (٢) اسم الدولة رقم ②
- (٣) مدينة
- (٤) جب

(ب) بم تفسر ... ؟

- (١) انكماش مساحة الحشائش بالسهل الساحلى فى ألمانيا.
- (٢) يُعد البترول من أهم مصادر الطاقة.
- (٣) انتشار مصايد الأسماك على سواحل أمريكا الشمالية.

(ج) ما العلاقة بين كل من ... ؟

- (١) موقع البرازيل وفرنسا، وإنتاج السكر.
- (٢) الموارد الاقتصادية، والأنشطة الاقتصادية بنيجيريا.
- (٣) المناخ، وإنتاج الشاي فى العالم.

٢ (١) صوب ما تحته خط فيما يلى :

- (١) أكبرقارة فى العالم إنتاجاً للحديد قارة أفريقيا.
- (٢) أصبحت نيجيريا دولة اتحادية بعد استقلالها عن إيطاليا.
- (٣) تُعد برلين أهم الموانئ الألمانية القريبة من بحر الشمال.
- (٤) ثانى دول العالم إنتاجاً للألبان الصين.
- (٥) القوى المحركة لحياة الإنسان فى جميع مجالات حياته هى الزراعة.
- (٦) تعتمد المراكز الصناعية الحديثة فى جنوب غرب آسيا على الصناعات الغذائية.

(ب) ما النتائج المترتبة على ... ؟

- (١) يُعد الغاز الطبيعى من مصادر الطاقة الأقل تلوثاً والرخيص فى العالم.
- (٢) ممارسة الإنسان للأنشطة الاقتصادية عبر العصور.

(ج) حدد الصناعة القائمة على كل مادة خام مما يأتى : (١) المطاط. (٢) القمح.

التاريخ

٣ (١) اختر الإجابة الصحيحة مما بين القوسين :

- (١) رفع العلم المصرى فوق شبه جزيرة سيناء فى ٢٥ أبريل ١٩٨٢م عدا منطقة
- (خليج السويس - بورسعيد - الإسماعيلية - طابا)
- (٢) أعطى مؤتمر سان ريمو لبريطانيا حق الانتداب على فلسطين وعقد المؤتمر بدولة
- (فرنسا - إيطاليا - ألمانيا - إسبانيا)
- (٣) تحققت أول تجربة للوحدة العربية بين مصر وسوريا فى عهد الرئيس
- (جمال عبد الناصر - محمد نجيب - حسنى مبارك - محمد أنور السادات)
- (٤) أول الإنجازات التى صدرت بعد قيام ثورة يوليو ١٩٥٢م فى المجال
- (السياسى - الاجتماعى - العربى والدولى - الاقتصادى)

- (٥) من الدول التى قدمت دعماً عسكرياً ومالياً لكل من مصر وسوريا فى حرب أكتوبر ١٩٧٣م دولة
- (السعودية - تونس - موريتانيا - اليمن)
- (٦) تعتبر الإدارة المحلية من السلطة
- (التشريعية - التنفيذية - القضائية - البرلمانية)

(ب) أيد بالأدلة صحة العبارتين الآتيتين :

- (١) اهتمت ثورة ٢٣ يوليو ١٩٥٢م بالمجال الصناعى.
- (٢) ظهرت بطولات عديدة للقوات المسلحة المصرية فى مرحلة الصمود والتصدى للاعتداءات الإسرائيلية.

٤ (١) إلى من تنسب الأعمال التالية ... ؟

- (١) قام بمبادرة لوقف إطلاق النار أثناء حرب الاستنزاف.
- (٢) قاد سلاح الطيران فى حرب أكتوبر ١٩٧٣م.
- (٣) تولى القيادة العامة للموحدة للقوات المصرية السورية فى حرب أكتوبر ١٩٧٣م.
- (٤) وقّع معاهدة السلام مع إسرائيل عام ١٩٧٩م.
- (٥) تقلدت منصب أول وزيرة للشئون الاجتماعية عام ١٩٦٢م.

(ب) «دائمًا ما تشرق الشمس وتتغير الأحوال للأفضل بعد الثورات». فى ضوء ما درست أجب :

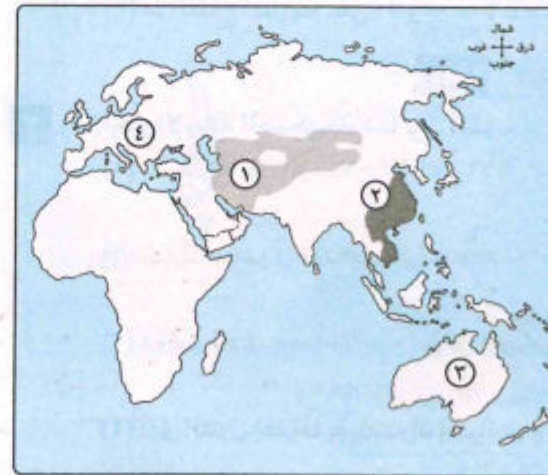
- (١) بم تفسر : الاستعانة بالقوات المسلحة المصرية أثناء وقائع ثورة ٢٥ يناير ٢٠١١م ؟
- (٢) اكتب اثنين من : أهداف ثورة ٢٣ يوليو ١٩٥٢م.
- (٣) دلل على صحة العبارة : لتحقيق السلام مزايا عديدة لمصر ولوطننا العربى.



مجاب عنه

محافظة الدقهلية

أجب عن الأسئلة الآتية: أولاً الجغرافيا



١ (١) أمامك خريطة، اكتب

ما تشير إليه الأرقام
الموقعة عليها :

- (١) الرعى السائد
- (٢) الزراعة السائدة
- (٣) أولى الدول إنتاجاً للبوكسيت
- (٤) أولى القارات إنتاجاً للطاقة النووية

(ب) حدد المقصود بكل من :

- (١) الزراعة الكثيفة. (٢) النشاط التعديني.

(ج) حدد النتائج المترتبة على :

- (١) عدم توافر الطاقة الكهربائية والخبرة الفنية في الدول النامية المنتجة للبوكسيت.
(٢) وجود التلال والينابيع بالمرتفعات الوسطى بألمانيا.

٢ (١) اكتب كلمة (صواب) أمام العبارة الصحيحة، وكلمة (خطأ) أمام العبارة غير الصحيحة :

- (١) تعتمد أوروبا على قصب السكر في إنتاج السكر. ()
(٢) تقع مدينة ميونخ عاصمة إقليم بافاريا غرب ألمانيا. ()
(٣) تعتبر دول الخليج العربي من مراكز الصناعة الحديثة وتشتهر بالصناعات البترولية. ()
(٤) تُعد مدينة هامبورج مركز القرار السياسي بدولة ألمانيا. ()

(ب) «لقد مارس البشر العديد من الأنشطة الاقتصادية وزاد عدد السكان وتنوعت أنشطتهم

وتطورت حتى وصلت إلى النشاط الصناعي المتطور». في ضوء هذه العبارة، أجب عما يأتي :

- (١) بم تفسر ... ؟ (١) يُعد النشاط الزراعي من الأنشطة الاقتصادية الأساسية في العالم.
(٢) زيادة معدل الاستهلاك العالمي من اللحوم الحمراء.
(٣) قارن بين : البترول، والفحم من حيث : * الأهمية. * أولى دول العالم المنتجة له.
(٤) ما رأيك في : اتجاه بعض الدول النامية لإقامة صناعة حديثة ومتطورة ؟

ثانياً التاريخ

٣ (١) اختر الإجابة الصحيحة مما بين القوسين :

- (١) أذيع البيان الأول لثورة ٢٣ يوليو ١٩٥٢ باسم
(أنور السادات - جمال عبد الناصر - محمد نجيب - فؤاد الثاني)
(٢) تمكنت مصر من صد اختراق الطيران الإسرائيلي ببناء حائط صواريخ غرب قناة السويس
أثناء (عدوان ١٩٥٦ - عدوان ١٩٦٧ - حرب الاستنزاف - حرب أكتوبر)
(٣) تم رفع العلم المصري فوق سيناء في ٢٥ أبريل ١٩٨٢ عدا منطقة
(العريش - طابا - رفح - بورسعيد)
(٤) أقام الخديو إسماعيل هيئة نيابية مصرية عرفت باسم
(مجلس شورى النواب - مجلس شورى القوانين - مجلس الأمة - المجلس العالي)

(ب) «سيدكر التاريخ وبكل فخر تضحيات وجهود الجيش المصري في قضايا كثيرة».

في ضوء العبارة السابقة، وضح :

- (١) الأثر الناتج على عدوان ٥ يونيو ١٩٦٧.
(٢) دور القوات المسلحة في ثورة ٣٠ يونيو ٢٠١٣.
(٣) الأثر الدال على فساد النظام الملكي على مصر قبل قيام ثورة يوليو ١٩٥٢.
(٤) رأيك في الدور المصري تجاه قضية فلسطين خلال عامي ١٩٩١ - ١٩٩٣.

٤ (١) أيد صحة كل عبارة من العبارات الآتية :

- (١) قيام الفريق سعد الدين الشاذلي بدور كبير في حرب أكتوبر ١٩٧٣.
(٢) حققت مصر أهداف عظيمة في مرحلة الصمود والتصدي بعد هزيمة ١٩٦٧.
(٣) تعددت ردود الأفعال العالمية بشأن قرار تقسيم فلسطين ١٩٤٧.
(٤) تعددت صور المشاركة العربية لمصر أثناء حرب أكتوبر ١٩٧٣.
(ب) «ارتبط تطور دور المرأة في العمل الوطني بقضايا اجتماعية مرت بمراحل متعددة».

في ضوء العبارة السابقة، وضح :

- (١) دور المرأة المصرية الرائد في المجالات المختلفة بعد ثورة ١٩١٩ حتى ١٩٥٢.
(٢) لمحمد على باشا والخديو إسماعيل دوراً في الحياة النيابية في مصر.

(ج) في عهد من (من حكام مصر) حدث الآتي ... ؟

- (١) إصدار مجلس الأمن قرار ٣٣٨ في أكتوبر ١٩٧٣.
(٢) خروج آخر جندي بريطاني من فلسطين ١٩٤٨.
(٣) تقديم روجرز وزير الخارجية الأمريكية مبادرته بوقف إطلاق النار.
(٤) تم إجراء انتخابات حرة عقب إصدار دستور يناير ٢٠١٤.

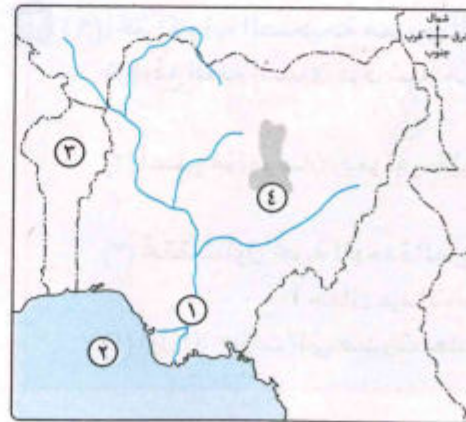


مجاب عنه

محافظة الإسماعيلية

٩

أجب عن الأسئلة الآتية: أولاً الجغرافيا



١ (١) أمامك خريطة لدولة نيجيريا،

اكتب مدلول الأرقام الموضحة عليها :

- (١) نهر
(٢) خليج
(٣) دولة
(٤) هضبة

(ب) بم تفسر ... ؟

- (١) يعد النشاط الزراعي من الأنشطة الاقتصادية الأساسية في العالم.
- (٢) تحتل الصين المركز الأول في إنتاج الأسماك بأكثر من ثلث الإنتاج العالمي.
- (٣) انخفاض عدد العاملين بحرفة الرعي البدائي في شبه الجزيرة العربية.

(ج) صوب ما تحته خط فيما يأتي :

- (١) يزرع قصب السكر في كل قارات العالم عدا قارة أمريكا الجنوبية.
- (٢) أولى دول العالم إنتاجاً للبترول بريطانيا.
- (٣) تشتهر إندونيسيا بإنتاج الأصواف من أغنام المارينو.

٢ (١) اختر الإجابة الصحيحة مما بين القوسين :

- (١) أولى الدول العربية المنتجة للطاقة الكهربائية من الرياح
(المغرب - مصر - تونس - سوريا)
- (٢) يأتي ثلث إنتاج العالم من الغاز الطبيعي من قارة
(أوروبا - آسيا - أفريقيا - أمريكا الشمالية)
- (٣) من المقومات البشرية لقيام الصناعة
(المواد الخام - توافر الأسواق - مصادر الطاقة - الموقع المتميز)
- (٤) من أهم المراكز الصناعية في إقليم روسيا وأوكرانيا إقليم
(البحيرات العظمى - جزيرة هنشو - موسكو - كندا)
- (٥) تصدر الدول النامية مثل خام الحديد إلى الدول الصناعية المتقدمة.
(موريتانيا - الصين - روسيا - الهند)

(ب) اكتب ما تشير إليه كل عبارة من العبارات الآتية :

- (١) أكبر الأقاليم التضاريسية بألمانيا وهو جزء من السهل الأوروبي العظيم.
- (٢) يتم استخراجها من عصارة أشجار استوائية ويصنع منه إطارات السيارات.
- (٣) يُعد الخام الرئيسي لمعدن الألومنيوم.

(ج) أجب عن الأسئلة الآتية :

- (١) دلل على صحة العبارة : يربط مصر بألمانيا علاقات ثقافية وعلمية.
- (٢) ما العلاقة بين : الزراعة الكثيفة، واستخدام الميكنة الزراعية ؟

(ب) أيد صحة العبارتين الآتيتين :

- (١) أظهرت حرب أكتوبر ١٩٧٣ أهمية التضامن العربي.
- (٢) تقوم منظمات المجتمع المدني بدور فعال اجتماعياً وتنموياً.

(ج) حدد أي من المؤتمرات الآتية اختلف هدف انعقاده، مع ذكر السبب :

- (١) مؤتمر مدريد.
- (٢) مؤتمر سان ريمو.
- (٣) مؤتمر كامب ديفيد.

٤ (١) في عهد أي من حكام مصر حدثت الأحداث الآتية ... ؟

- (١) إصدار قانون الإصلاح الزراعي الأول.
 - (٢) توقيع اتفاقية الجلاء مع بريطانيا.
 - (٣) إعلان دستور ٢٠١٤ وإجراء انتخابات رئاسية.
 - (٤) مشاركة المرأة في الحياة النيابية وشغل منصب رئيس اللجنة التشريعية بمجلس الشعب.
- (ب) «للفلسطين مكانة في قلب كل عربي بصفة عامة ولكل مصري بصفة خاصة وقد تعرضت لأطماع استعمارية على مدار التاريخ من أجل ذلك حملت الشقيقة مصر لواء الدفاع عنها في كثير من الحروب». في ضوء العبارة، وضح :
- (١) موقف بريطانيا من قرار تقسيم فلسطين ١٩٤٧م.
 - (٢) عوامل فشل العدوان الثلاثي على مصر.
 - (٣) نتائج عدوان ٥ يونيو ١٩٦٧م.
 - (٤) أسباب اندلاع حرب السادس من أكتوبر ١٩٧٣م.
 - (٥) الدروس المستفادة من التطبيق غير السليم لسياسة الخصخصة.



مجاب عنه

محافظه السويس

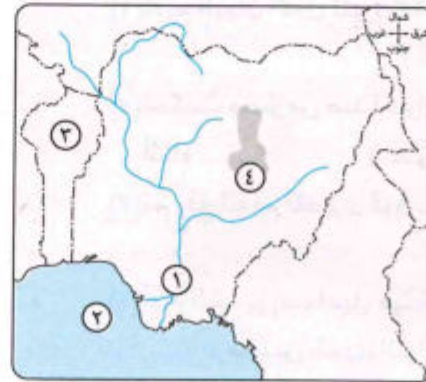
١٠

أجب عن الأسئلة الآتية: **اولا الجغرافيا**

١ (١) أمامك خريطة لدولة نيجيريا،

اكتب ما تشير إليه الأرقام الآتية :

- (١) نهر
- (٢) خليج
- (٣) دولة
- (٤) هضبة





مجاب عنه

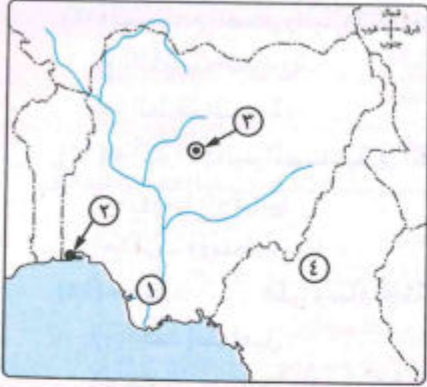
محافظة بورسعيد

١١

اجب عن الأسئلة الآتية:

١ من خلال خريطة نيجيريا التي أمامك، أي من الأرقام الآتية تشير إلى ... ؟

- (١) منطقة يقل بها التركيز السكاني
 (١١) ا (٢) ب
 (٣) ج (٤) د
 (٢) العاصمة الحالية مدينة أبوجا
 (١١) ا (٢) ب
 (٣) ج (٤) د



(٣) تصدّر موريتانيا معدن الذي يُعد من أهم المعادن المستخدمة في الصناعة.

- ١ الحديد. ٢ الفحم. ٣ النحاس. ٤ المنجنيز.

(٤) الغذاء الرئيسي لمعظم شعوب العالم هو

- ١ الذرة. ٢ البنجر. ٣ الأرز. ٤ القمح.

(٥) يستخدم المطاط في تصنيع إطارات السيارات وتشتهر به دولة في قارة آسيا.

- ١ الصين. ٢ تايلاند. ٣ إندونيسيا. ٤ السعودية.

(٦) سهولة نقله ورخص ثمنه توسع العالم في استخدام

- ١ البترول. ٢ الفحم. ٣ الغاز الطبيعي. ٤ طاقة الرياح.

(٧) عرف الإنسان الاستقرار مع معرفته لنشاط

- ١ الزراعة. ٢ الصيد. ٣ الصناعة. ٤ التجارة.

(٨) يأتي معظم إنتاج اللحوم الحمراء بدولة الصين من

- ١ الأبقار. ٢ الجاموس. ٣ الخنازير. ٤ الأغنام.

(٩) أكثر الدول تصديراً للأسماك تنتمي لقارة

- ١ أستراليا. ٢ أفريقيا. ٣ آسيا. ٤ أمريكا الشمالية.

(١٠) تتشابه نيجيريا وألمانيا في

- ١ الموقع بالقارة. ٢ سبب سقوط الأمطار.

- ٣ نوع الغابات. ٤ جودة الصناعة.

(١١) معظم الإنتاج السمكي في العالم يأتي من

- ١ المياه المالحة. ٢ الأنهار. ٣ المزارع السمكية. ٤ البحيرات العذبة.

٣ تاريخ

٣ (١) اختر الإجابة الصحيحة مما بين القوسين :

- (١) تم عقد مؤتمر سان ريمو ١٩٢٠ في
 (ألمانيا - فرنسا - إيطاليا - الولايات المتحدة الأمريكية)
 (٢) أغلقت مصر خليج العقبة في وجه الملاحة مايو ١٩٦٧ م.
 (الأمريكية - الفرنسية - الإسرائيلية - الألمانية)
 (٣) حاصر الإنجليز في فبراير ١٩٤٢ قصر عابدين لإجبار الملك فاروق على تعيين
 رئيساً للحكومة. (رياض باشا - زيور باشا - مصطفى النحاس - عدلي يكن)
 (٤) تقديم أمريكا معلومات عسكرية لإسرائيل ساعدها في إحداث ثغرة في
 (العريش - سيناء - طابا - الدفرسوار)
 (٥) إقامة الوحدات الصحية من إنجازات ثورة ٢٣ يوليو ١٩٥٢ في المجال
 (السياسي - الاقتصادي - الاجتماعي - العربي)

(ب) يم تفسر ... ؟

- (١) مغادرة الملك فاروق البلاد قبل الموعد المحدد.
 (٢) كان للرئيس السادات دوراً هاماً في إعداد الجبهة العربية قبل حرب أكتوبر ١٩٧٣ م.
 (٣) تدهور الأوضاع الاقتصادية قبل ثورة ٢٥ يناير ٢٠١١ م.

(ج) ماذا كان يحدث إذا :

لم تنجح مصر في بناء حائط الصواريخ على الضفة الغربية لقناة السويس في حرب الاستنزاف ؟

٤ (١) من هو ... ؟

- (١) انتخبت رئيساً للجنة الوفد المركزية للسيدات عام ١٩٢٠ م.
 (٢) تولى القيادة العامة الموحدة للقوات المصرية السورية في حرب أكتوبر ١٩٧٣ م.
 (٣) قدم مبادرة لوقف إطلاق النار في حرب الاستنزاف.
 (٤) تسلم السلطة في الثالث من يوليو ٢٠١٣ م.
 (٥) أنشأ عدة مجالس استشارية منها المجلس العالی.

(ب) ما النتائج التي ترتبت على ... ؟

- (١) اجتماع وزراء النفط العربي في الكويت أثناء حرب أكتوبر ١٩٧٣ م.
 (٢) مساندة مصر حركات التحرر الوطني في الجزائر.
 (٣) معاهدة السلام مارس ١٩٧٩ م.

(ج) قارن بين : موقف الدول العربية، وموقف بريطانيا من قرار تقسيم فلسطين عام ١٩٤٧ م.

- (٢٤) أولى المواجهات العسكرية بين جمهورية مصر العربية ودولة إسرائيل
- ① حرب فلسطين ١٩٤٨م. ② العدوان الثلاثي ١٩٥٦م.
③ عدوان ٥ يونيو ١٩٦٧م. ④ حرب ٦ أكتوبر ١٩٧٣م.
- (٢٥) نجحت القوات المصرية في هزيمة إسرائيل بمعركة رأس العش عند محاولة احتلال مدينة
- ① الإسماعيلية. ② السويس. ③ بورفؤاد. ④ القاهرة.
- (٢٦) يُعرف خط الدفاع الإسرائيلي في هضبة الجولان باسم
- ① بارليف. ② ماجنو. ③ آلون. ④ إيلات.
- (٢٧) مساندة مصر لحركات التحرر الوطني في سبباً لمشاركة فرنسا بالعدوان الثلاثي.
- ① ليبيا. ② تونس. ③ المغرب. ④ الجزائر.
- (٢٨) السبب الذي جعل مصر ميداناً لمعارك الحرب العالمية الثانية هو
- ① صفقة الأسلحة الفاسدة. ② حرب فلسطين.
③ الصراع بين الأحزاب. ④ معاهدة ١٩٣٦م.

٢ أجب عن الأسئلة الآتية :

- (٢٩) بم تفسر : صعوبة استخدام الآلات والميكنة في الزراعة الكثيفة ؟
- (٣٠) ما العلاقة بين : البوكسيت، والألومنيوم ؟
- (٣١) ما النتائج المترتبة على : كثرة التلال والينابيع المائية في المرتفعات الوسطى بألمانيا ؟
- (٣٢) وضع : دور القوات المسلحة المصرية أثناء ثورة ٢٥ يناير ٢٠١١م.
- (٣٣) أثبت بالأدلة التاريخية : اتخذت بريطانيا عدة إجراءات لتنفيذ وعد بلفور.
- (٣٤) أعطى مثال : لاهتمام مصر بالقضية الفلسطينية عند توقيع معاهدة السلام ١٩٧٩م.



مجاب عنه

١٢ محافظة دمياط

أجب عن الأسئلة الآتية: أولاً الجغرافيا

١ (١) أمامك خريطة للولايات المتحدة، اكتب في

كراسة إجابتك، مدلول الأرقام المدونة عليها مستعيناً بما يلي :

- (١) نوع الرعي السائد في هذه الدولة
- (٢) أولى دول العالم إنتاجاً للنحاس
- (٣) هضبة
- (٤) بحيرة



(١٢) يُعد من المقومات الطبيعية لقيام الصناعة في العالم

- ① الأيدي العاملة. ② الأسواق.
③ المواد الخام. ④ السياسات الحكومية.
- (١٣) يستخدم الفحم والبتروول والغاز الطبيعي في إنتاج
- ① الكهرباء الحرارية. ② الكهرباء المائية.
③ الطاقة النووية. ④ الطاقة النظيفة.

(١٤) * أكبر الأقاليم الصناعية في العالم الجديد

- ① روسيا وأوكرانيا. ② شرق آسيا.
③ غرب ووسط أوروبا. ④ شمال شرق الولايات المتحدة الأمريكية.
- (١٥) حصل على وسام نجمة سيناء الذي يُعد أعلى الأوسمة العسكرية.
- ① أحمد إسماعيل. ② سعد الدين الشاذلي.
③ محمد عبد الغنى الجمسى. ④ عبد المنعم رياض.
- (١٦) قامت أول تجربة للوحدة العربية بين مصر و عام ١٩٥٨م.

① العراق. ② اليمن. ③ سوريا. ④ ليبيا.

(١٧) أنشأ الخديو إسماعيل مجلس

- ① الأمة. ② شورى القوانين. ③ الشيوخ. ④ شورى النواب.

(١٨) الأرض مقابل السلام مبدأ دعا إليه مؤتمر

- ① كامب ديفيد. ② مدريد. ③ سان ريمو. ④ باندونغ.

(١٩) الوثيقة الرسمية التي تحدد نظام الحكم في الدولة وشكل واختصاصات المؤسسات المختلفة

هي

- ① الدستور. ② البرلمان.
③ الحياة النيابية. ④ منظمات المجتمع المدني.

(٢٠) يُعد التطبيق غير السليم لسياسة أحد الأسباب الاقتصادية لثورة ٢٥ يناير ٢٠١١م.

- ① الطوارئ. ② الخصخصة. ③ الحياض الإيجابي. ④ الملاحة الدولية.

(٢١) أصدرت قيادة الثورة قانون الإصلاح الزراعي في سبتمبر ١٩٥٢م وذلك بهدف

- ① إقامة حياة ديمقراطية. ② القضاء على الإقطاع.
③ إقامة جيش وطني. ④ القضاء على الاستعمار.

(٢٢) بعد أحداث ثورة ٣٠ يونيو ٢٠١٣م أصبح الحكم في يد أحد أفراد السلطة

- ① التشريعية. ② الاستشارية. ③ التنفيذية. ④ القضائية.

(٢٣) أول مجلة نسائية مصرية تبني الدفاع عن قضايا المرأة مجلة

- ① اللواء. ② العروة الوثقى. ③ الاتحاد النسائي. ④ الرجحانة.

ثانياً التاريخ

٣ (١) اختر الإجابة الصحيحة مما بين القوسين، ثم أعد كتابة الجملة كاملة بورقة الإجابة :

- (١) ساهمت مصر من خلال مشاركتها بمؤتمر باندونج ١٩٥٥م في تأسيس
- (الأمم المتحدة - جامعة الدول العربية - حركة عدم الانحياز - الاتحاد الأفريقي)
- (٢) قائد خطة الخداع الاستراتيجي استعداداً لحرب أكتوبر ١٩٧٣م
- (سعد الدين الشاذلي - عبد المنعم رياض - حسنى مبارك - أحمد إسماعيل)
- (٣) تولى السلطة في مصر بعد ثورة ٣٠ يونيو ٢٠١٣م
- (عدلى منصور - محمد مرسى - محمد حسنى مبارك - عبد الفتاح السيسى)
- (٤) المحافظ والمجالس المحلية من سلطات الحكم تمثل السلطة
- (التشريعية - التنفيذية - القضائية - رئاسة الدولة)

(ب) ما النتائج التي تترتبت على ... ؟

- (١) سيطرة الإقطاع في مصر قبل ثورة ٢٣ يوليو ١٩٥٢م.
- (٢) إدراك بريطانيا لأهمية فلسطين (بالنسبة لليهود).
- (٣) اختيار الدول العربية السلام بديلاً عن الحرب.
- (٤) صدور دستور ١٩٢٣م فيما يتعلق بالسلطة التشريعية في مصر.

(ج) قارن بين كل مما يأتي : العدوان الثلاثي ١٩٥٦م، وحرب أكتوبر ١٩٧٣م من حيث :

- * أطراف كل منهما . * أسباب كل منهما .

٤ (١) اكتب ما تشير إليه كل عبارة من العبارات التاريخية الآتية :

- (١) اتفاقية رحلت بموجبها قوات الاحتلال البريطاني عن مصر.
- (٢) مؤتمر تم التوصل خلاله إلى إطار اتفاق للسلام بين مصر وإسرائيل.
- (٣) لجان شكلها المصريون لمواجهة الاضطراب الأمني خلال ثورة ٢٥ يناير ٢٠١١م.
- (٤) هيئات مدنية تقدم خدمات اجتماعية مكتملة للعمل الحكومي.

(ب) أيد بالأدلة التاريخية صحة كل عبارة من العبارات الآتية :

- (١) نظام الحكم في مصر قبل ثورة ٢٣ يوليو ١٩٥٢م كان نظاماً فاسداً.
- (٢) مساندة الولايات المتحدة لإسرائيل من عوامل قيامها وبقائها.
- (٣) أدت سياسات الدولة إلى قيام الشعب المصرى بثورة ٣٠ يونيو ٢٠١٣م.
- (٤) قيام حياة نيابية في مصر خلال عهد محمد على.

(ب) صوب ما فوق الخط، ثم أعد كتابة العبارة صحيحة في كراسة الإجابة :

- (١) يدخل الجوت في صناعة الخبز.
 - (٢) المصدر الرئيسي للحوم الحمراء لغالبية سكان العالم الأغنام.
 - (٣) المقومات الطبيعية اللازمة للصناعة تتمثل في توفر المواد الخام ومصادر الطاقة والتطور العلمى.
 - (٤) تمتد السهول الساحلية لدولة نيجيريا على خليج المكسيك.
- (ج) «يُعد النشاط الصناعى قمة الأنشطة الاقتصادية المتطورة إلا أنها تختلف في نوعيتها وجودتها من مكان إلى آخر». في ضوء العبارة السابقة، أجب عن الأسئلة الآتية :
- (١) دلل على صحة العبارة : ارتفاع درجة الحرارة شرط أساسى لزراعة قصب السكر.
 - (٢) ما العلاقة بين : الدول المتقدمة، وصناعة الألومنيوم ؟
 - (٣) ماذا ترتب على : اكتشاف الفحم في أوروبا أواخر القرن الثامن عشر الميلادى ؟
 - (٤) ماذا يحدث إذا : استطاع الوطن العربى تكوين اتحاداً مشابهاً للوحدة الاقتصادية الأوروبية ؟

٢ (١) أكمل الجدول التالى بكلمات مناسبة مما درست، ثم انقله كاملاً في كراسة الإجابة :

اسم المنتج	مصدر الإنتاج	أولى الدول لمصدر الإنتاج
إطارات السيارات	(١)	تايلاند
(٢)	الدواجن	(٣)
الكهرباء الحرارية	(٤)	المملكة العربية السعودية

(ب) بم تفسر ... ؟

- (١) قلة تكاليف الإنتاج الزراعى بالولايات المتحدة الأمريكية.
- (٢) تتعدد العوامل الطبيعية التى ساعدت على الصيد فى سواحل شمال غرب أوروبا.
- (٣) توسع العالم فى استخدام الغاز الطبيعى كبديل لمصادر الطاقة الأخرى.
- (٤) يقل عدد السكان فى دلتا النيجر جنوب نيجيريا.

(ج) أمامك رسم بياني استعن به للإجابة عن الأسئلة الآتية :

- (١) ما المورد المعدنى الذى يمثله الرسم البياني ؟
- (٢) ماذا يحدث إذا : كانت موريتانيا من الدول المصنعة لهذا المورد ؟
- (٣) صنّف المدينتين التاليتين من حيث الدولة التى تنتمى إليهما، وما شهرة كل منهما ... ؟
- (١) لاجوس .
- (ب) نيويورك .



(ج) بم تفسر ... ؟

- (١) تُعد الولايات المتحدة الأمريكية أكبر دول العالم المصنعة للألومنيوم رغم قلة إنتاجها من البوكسيت.
- (٢) تركز السكان في هضبة جوس بدولة نيجيريا.
- (٣) توسع العالم في استخدام الغاز الطبيعي كبديل لمصادر الطاقة الأخرى.

٢ (١) اكتب كلمة (صواب) أمام العبارة الصحيحة، وكلمة (خطأ) أمام العبارة غير الصحيحة :

- (١) ساعد في تطور حرفة صيد الأسماك توافر الخبرات الفنية والعلمية لصناعة المراكب وأدوات الصيد. ()
- (٢) الشاي نبات دائم الخضرة موطنه الأصلي شرق أمريكا الشمالية. ()
- (٣) يستخدم الفحم في توليد الطاقة الكهرومائية. ()
- (٤) يتم صيد الحيتان من المحيطات للاستفادة من لحومها وشحومها. ()
- (٥) تنتمي جزيرة هنشو اليابانية إلى إقليم روسيا وأوكرانيا الصناعي. ()

(ب) ددل على صحة العبارتين الآتيتين :

- (١) وجود علاقات اقتصادية قوية بين جمهوريتي مصر ونيجيريا.
- (٢) تُعد الولايات المتحدة الأمريكية القوة الصناعية الأولى في العالم.

(ج) ماذا يحدث إذا : توسعت مصر في استخدام الطاقة الشمسية ؟

ثانيا التاريخ

٣ (١) اختر الإجابة الصحيحة مما بين القوسين :

- (١) توقيع اتفاقية الجلاء عن مصر في أكتوبر ١٩٥٤ حققت القضاء على (الإقطاع - الاستعمار - الاحتكار - فساد الأحزاب)
- (٢) امتنعت عن التصويت على مشروع قرار تقسيم فلسطين عام ١٩٤٧ دولة (فرنسا - مصر - بريطانيا - روسيا)
- (٣) شارك في وضع خطة عبور قناة السويس في حرب أكتوبر ١٩٧٣ القائد (سعد الدين الشاذلي - أحمد إسماعيل - محمد عبد الغنى الجمسى - عبد المنعم رياض)
- (٤) ساهمت المرأة المصرية في الدفاع عن حقوقها في بداية القرن العشرين من خلال (المجالس النيابية - الالتحاق بالجامعة - المجلس القومي للمرأة - الصحف النسائية)

(ج) «التضحية والفداء من أجل الوطن والاستشهاد في سبيل رفعته وتقدمه واجب وطني على الرجال والنساء». في ضوء هذه العبارة، أجب على الأسئلة الآتية :

- (١) ما سبب : مغادرة الملك فاروق هو وأسرته لمصر قبل الموعد المحدد ؟
- (٢) ما الدروس المستفادة من : اتجاه مصر إلى التحكيم الدولي لاستعادة طابا ؟
- (٣) ماذا كان يحدث إذا : لم يتم الاستعانة بالقوات المسلحة خلال أحداث ثورة ٢٥ يناير ٢٠١١ ؟
- (٤) ما العلاقة بين : المرأة، والقضايا الاجتماعية في مصر ؟



مجاناً عنه

محافظة كفر الشيخ

١٣

أجب عن الأسئلة الآتية: أولاً الجغرافيا



١ (١) أمامك خريطة للعالم، وضع

ما تشير إليه الأرقام الموضحة عليها :

- (١) قارة تُعد من أكبر قارات العالم إنتاجاً للفحم
- (٢) نوع الرعى بالمنطقة المظلمة هي
- (٣) إقليم صناعي

(٤) تُعد أولى دول العالم إنتاجاً لقصب السكر

(ب) اختر الإجابة الصحيحة مما بين القوسين :

- (١) تنتشر على هوامش الغابات الاستوائية الزراعة (الكثيفة - التجارية - الواسعة - البدائية)
- (٢) المنتج الثاني من حيث الأهمية للثروة الحيوانية (الأصواف - اللحوم - الألبان - الجلود)
- (٣) النشاط الاقتصادي الذي يعد مقياس رئيسي لتطور الشعوب وازدهارها (التجارة - الصناعة - الرعى - الزراعة)
- (٤) تحد دولة بنين دولة نيجيريا من جهة (الشرق - الغرب - الجنوب - الشمال)
- (٥) تسبق عملية التعدين عمليات (إعداد المنجم - البحث والكشف - النقل - التوزيع)



أجب عن الأسئلة الآتية: أولاً الجغرافيا



- ١ (١) أمامك خريطة للعالم، اكتب مدلول الأرقام الموضحة عليها في كراسة إجابتك :
- (١) نوع الزراعة السائدة
- (٢) دولة تشتهر بإنتاج الصوف
- (٣) أولى دول العالم إنتاجاً للفحم
- (٤) إقليم صناعي

(ب) اكتب كلمة (صواب) أمام العبارة الصحيحة، وكلمة (خطأ) أمام العبارة غير الصحيحة :

- () (١) تتركز زراعة قصب السكر في المناطق المدارية الحارة بمعظم قارات العالم.
- () (٢) ارتبطت الثورة الصناعية في أوروبا أواخر القرن الثامن عشر الميلادي بأكثر مصادر الطاقة تلويناً للبيئة.
- () (٣) تنقسم الصناعة على أساس مدى تركيزها وجودتها ونوعيتها خفيفة أو ثقيلة.

(ج) «بعد تطور الأنشطة الاقتصادية وتنوعها من أهم عوامل استمرار الحياة على سطح الأرض وتقدمها» في ضوء العبارة السابقة، أجب عن الأسئلة الآتية :

- (١) حدد : العوامل الطبيعية التي تساعد على تطور حرفة الصيد في العالم.
- (٢) دلل على صحة العبارة : يرتبط النشاط التعدين بعدة عوامل تساعد على استخراج المعادن واستغلالها.
- (٣) ما الجهود : التي تبذلها مصر للحصول على مصادر طاقة نظيفة ؟

٢ (١) اختر الإجابة الصحيحة مما بين القوسين :

- (١) أولى قارات العالم إنتاجاً للقطن هي
- (أفريقيا - أمريكا الشمالية - آسيا - أمريكا الجنوبية)
- (٢) هناك علاقة بين قلة عدد القائمين على حرفة الرعي البدائي في آسيا و
- (التعليم والسياحة - البترول والصيد - الزراعة والصيد - التعليم والبترول)
- (٣) يحد نيجيريا من الشمال دولة
- (النيجر - تشاد - بنين - الكاميرون)

(ب) دلل تاريخياً على صحة كل عبارة مما يلي :

- (١) لم تحقق معاهدة ١٩٣٦ الاستقلال الحقيقي لمصر.
- (٢) لفلسطين أهمية خاصة في قلب كل عربي.
- (٣) إن اختيار السلام بدلاً عن الحرب يعود بالنفع على مصر والوطن العربي.

(ج) اكتب الاسم الذي تدل عليه كل عبارة من العبارات الآتية :

- (١) يقصد بها تصدى القوات المصرية للاعتداءات الإسرائيلية عقب عدوان ٥ يونيو ١٩٦٧.
- (٢) دستور أكد على سيادة القانون واستقلال القضاء وإقرار مبادئ التعددية الحزبية.
- (٣) خط الدفاع الإسرائيلي في هضبة الجولان على الجبهة السورية.

٤ (١) لمن تنسب الأعمال التاريخية الآتية ... ؟

- (١) تولى قيادة سلاح الطيران الذي مهد لضربة جوية ناجحة في حرب أكتوبر ١٩٧٣.
- (٢) شغلت منصب رئيس اللجنة التشريعية بمجلس الشعب.
- (٣) تسلم السلطة بمصر في يوليو ٢٠١٣ وكان رئيس المحكمة الدستورية العليا.
- (٤) أذاع البيان الأول لثورة ٢٣ يوليو ١٩٥٢.

(ب) ما النتائج التي ترتبت على ... ؟

- (١) قرار هيئة التحكيم الدولي في سبتمبر ١٩٨٨ (بالنسبة لطابا).
- (٢) تشكيل المجتمع المصري للجان الشعبية أثناء ثورة ٢٥ يناير ٢٠١١.
- (٣) حرب السادس من أكتوبر ١٩٧٣.

(ج) أعد كتابة العبارتين الآتيتين صحيحة في كراسة الإجابة بعد تصويب ما تحته خط :

(١) قام الشعب الفلسطيني بثورة ١٩٣٦ بقيادة منظمة التحرير الفلسطينية.

(٢) أنشأ محمد علي مجالس استشارية لا سلطة لها منها مجلس النواب.

(د) ما رأيك في : مبادرة الرئيس السادات لزيارة إسرائيل ١٩٧٧ ؟

٤ (١) أكمل ما يأتي :

- (١) غادر الملك فاروق مصريوم ٢٦ يوليو ١٩٥٢م لأنه كان يدرك أن الجيش والشعب يكرهان حكمه بالإضافة إلى تخلى عنه.
- (٢) قام الشعب الفلسطيني بثورة ١٩٣٦م بقيادة اللجنة
- (٣) لحماية المنشآت والمناطق شكّل المجتمع المصرى أثناء أحداث ثورة ٢٥ يناير ٢٠١١م عُرف باللجان
- (٤) أنشأ الخديو إسماعيل أول مدرسة لتعليم البنات عام ١٨٧٣م استجابة لدعوة
- (٥) كانت أول وزيرة للشئون الاجتماعية عام ١٩٦٢م هي

(ب) «تعد حرب أكتوبر سنة ١٩٧٣م نقطة تحول في الصراع العربي الإسرائيلي وأثبتت أن منطق القوة لا يمنح سلامًا». في ضوء العبارة السابقة، وضح :

- (١) مظاهر تهيئة وإعداد الجبهة الداخلية قبل بدء حرب أكتوبر ١٩٧٣م.
- (٢) رد فعل العرب عندما طلب الرئيس الأمريكى مساعدات عاجلة لإسرائيل أثناء حرب أكتوبر ١٩٧٣م.
- (٣) اسم القائد الذى شغل منصب وزير الحربية وقائدًا للقوات المسلحة أثناء حرب أكتوبر ١٩٧٣م.
- (٤) أثر مؤتمر سان ريمو بإيطاليا في أبريل ١٩٢٠م على القضية الفلسطينية.
- (٥) العلاقة بين مؤتمر كامب ديفيد ١٩٧٨م، ومعاهدة السلام مارس ١٩٧٩م.



مجاب عنه

محافظة الفيوم

١٥

اولا الجغرافيا

أجب عن الأسئلة الآتية:

- ١ (١) أمامك خريطة للعالم تأملها جيدًا ثم اكتب ما تدل عليه الأرقام التالية :
- (١) * نوع الزراعة السائدة
- (٢) أكبر قارات العالم إنتاجًا للقمح
- (٣) أكبر دول العالم إنتاجًا لمحصول
- (٤) أولى قارات العالم إنتاجًا للطاقة النووية



(ب) بم تفسر ... ؟

- (١) قلة التكاليف والعمالة في الزراعة التجارية والعلمية.
- (٢) تعد دولتي إندونيسيا والولايات المتحدة الأمريكية من أهم الدول المنتجة للأسماك بالعالم.
- (٣) توسع العالم في استخدام الغاز الطبيعي كبديل لمصادر الطاقة الأخرى.
- (٤) تعد المرتفعات الوسطى في ألمانيا مناطق جذب للسياح.

(ج) قارن بين كل من :

ألمانيا	نيجيريا	
.....	أوجه الشبه من حيث النبات الطبيعي
.....	أوجه الاختلاف من حيث الاقتصاد

ثانيا التاريخ

٣ (١) صوب ما تحته خط في كل عبارة من العبارات الآتية :

- (١) تركت ثورة ٢٣ يوليو ١٩٥٢م في العالم بشكل عام وفي المنطقة العربية بشكل خاص آثار على أغلب الحركات الرجعية.
- (٢) الدولة التي تقدمت إلى مجلس الأمن باقتراح لوقف القتال أثناء حرب فلسطين ١٩٤٨م هي الاتحاد السوفيتي سابقًا.
- (٣) مؤتمر السلام الذي شاركت فيه مصر بفاعلية عام ١٩٩١م ودعا إلى مبدأ الأرض مقابل السلام هو مؤتمر باريس.
- (٤) تدهورت الأوضاع الاقتصادية قبل ثورة ٢٥ يناير ٢٠١١م بسبب التطبيق غير السليم لسياسة الاحتكار.
- (٥) دستور ١٩٧١م كان يطلق عليه الدستور المؤقت.

(ب) دلل تاريخيًا على صحة كل عبارة مما يأتي :

- (١) كان لثورة ٢٣ يوليو ١٩٥٢م العديد من الإنجازات في مجال الصناعة.
- (٢) رغم التحديات حققت مصر نجاحات في حرب الاستنزاف والمواجهة عام «١٩٦٩ - ١٩٧٠م».
- (٣) اختيار السلام بدلًا من الحرب عاد بالنفع على وطننا العربي.

(ج) ما النتائج التي ترتبت على ... ؟

- (١) صدور قانون الإصلاح الزراعى الأول في سبتمبر ١٩٥٢م.
- (٢) عدوان ٥ يونيو ١٩٦٧م.

(ج) رتب الأحداث التاريخية التالية من القديم إلى الحديث :

- * إلغاء دستور ١٩٢٣م .
- * تخلى الرئيس حسنى مبارك عن الرئاسة .
- * مؤتمر سان ريمو بإيطاليا .
- * حرب الاستنزاف .

٤ (١) اكتب ما تشير إليه كل عبارة من العبارات الآتية :

- (١) قدمت معلومات عسكرية لإسرائيل ساعدتها في إحداث ثغرة الدفرسوار.
 - (٢) وافق على مغادرة البلاد هو وأسرته قبل الموعد المحدد.
 - (٣) ثورة فريدة في التاريخ المصرى الحديث والمعاصر ساهمت التكنولوجيا المتطورة في اندلاعها.
 - (٤) تولى التخطيط والتنسيق على الجبهتين المصرية والسورية بدقة وبمهارة عالية.
- (ب) «حقق الجيش المصرى انتصارًا حاسمًا في حرب أكتوبر عام ١٩٧٣م» .

في ضوء هذه العبارة، وضغ ما يلى :

- (١) بم تفسر: اندلاع حرب أكتوبر عام ١٩٧٣م .
- (٢) ما رأيك في : موقف الدول العربية أثناء حرب أكتوبر عام ١٩٧٣م .
- (ج) دلل على صحة العبارة الآتية: للسلام مزايا لمصر ولوطننا العربى.



مجاب عنه

محافظه بنى سويف

١٦

أجب عن الأسئلة الآتية: أولاً الجغرافيا



١ (١) أمامك خريطة لدولة ألمانيا،

اكتب في كراسة إجابتك مدلول

الأرقام الموضحة عليها :

- (١) جبال
- (٢) مسطح مائى
- (٣) دولة
- (٤) مدينة

(ب) حدد أولى قارات العالم إنتاجًا للمحاصيل الآتية،

مع ذكر الأهمية الاقتصادية لكل محصول :

- (١) القطن .
- (٢) الذرة .

(ب) بم تفسر ... ؟

(١) قلة عدد سكان نييجيريا في دلتا النيجر .

(٢) انكماش مساحة الحشائش بالسهل الساحلى فى ألمانيا .

(ج) ما العلاقة بين : تدفق البترول، والرعى البدائى بشبه الجزيرة العربية، وبادية الشام ؟

٢ (١) اختر الإجابة الصحيحة مما بين القوسين :

- (١) تصب معظم الأنهار بدولة ألمانيا فى
- (البحر الأسود - البحر المتوسط - بحر الشمال - البحر البلطى)
- (٢) تُعد الهند أكبر دول العالم إنتاجًا لـ
- (اللحوم - الألبان - الصوف - الجلود)
- (٣) تعتبر دولة من المراكز الصناعية الحديثة فى جنوب شرق آسيا .
- (باكستان - ماليزيا - الفلبين - الهند)
- (٤) أهم الدول العربية المصدرة للحديد
- (الجزائر - موريتانيا - مصر - الأردن)

(ب) اكتب المصطلح الجغرافى لكل عبارة من العبارتين الآتيتين :

- (١) نبات دائم الخضرة موطنه الأصلي شرق آسيا .
- (٢) يعتبر الغذاء الرئيسى لمعظم سكان العالم .

(ج) ماذا يحدث إذا ... ؟

- (١) اختفت المسطحات المائية داخل وخارج الصين .
- (٢) توافرت الطاقة الكهربائية والخبرة الفنية فى الدول النامية المنتجة للبوكسيت .

ثانياً التاريخ

٣ (١) صوب ما تحته خط فى العبارات الآتية :

- (١) أذيع البيان الأول لثورة ٢٣ يوليو ١٩٥٢ بصوت محمد نجيب .
- (٢) دعا روجرز كل من السادات وبيجن إلى اجتماعات فى كامب ديفيد .
- (٣) ظهرت أول مجلة نسائية مصرية وهى الريحانة فى فبراير ١٩٠٧م وأصدرتها هدى شعراوى .
- (٤) استعادت مصر العريش من إسرائيل عن طريق هيئة التحكيم الدولى .

(ب) ما النتائج التى ترتبت على ... ؟

- (١) هزيمة الجيوش العربية فى حرب فلسطين عام ١٩٤٨م .
- (٢) ثورة ٢٣ يوليو ١٩٥٢ فى المجال الاجتماعى .

(د) ماذا يحدث إذا: نجحت الدول العربية في تطبيق سياسة الاتحاد الأوروبي " نظام الوحدة الاقتصادية الأوروبية " ؟

ثانياً التاريخ

٣ (١) «أثبتت الحرب الروسية الأوكرانية أن لغة الحرب واستخدام السلاح لا تخدم مصالح الشعوب وأن أثارها السلبية طالت العديد من دول العالم خاصة من الناحية الاقتصادية». في ضوء هذه العبارة، أجب عن الآتي :

- (١) اذكر اثنين من مزايا تحقيق السلام وإنهاء الصراع العربي الإسرائيلي.
- (٢) ما الأثر الناتج عن : لجوء مصر لمحكمة العدل الدولية لحسم الخلاف على الحدود ؟
- (٣) أثبتت مصداقية هذه المقولة : «الرئيس السادات هو بطل الحرب والسلام».

(ب) اكتب كلمة (صواب) أمام العبارة الصحيحة، وكلمة (خطأ) أمام العبارة غير الصحيحة، مع التصويب :

- (١) السويس أهم مدينة مصرية ارتبطت بأحداث العدوان الثلاثي على مصر عام ١٩٥٦م. ()
- (٢) حصلت المرأة المصرية على حق الانتخاب والترشح اعتباراً من دستور ١٩٥٦م. ()
- (٣) تدمير المدمرة إيلات من مظاهر مرحلة حرب الاستنزاف والمواجهة. ()
- (٤) تتمثل سلطات الحكم في مصر في أربع سلطات. ()

(ج) أجب حسب المطلوب :

- (١) اذكر اثنين من عوامل قيام ثورة ٢٣ يوليو ١٩٥٢م.
- (٢) ما أهم إنجازات ثورة ٢٣ يوليو ١٩٥٢م للنهوض بالزراعة في مصر ؟
- (٣) كيف أوفت ثورة ٢٣ يوليو ١٩٥٢م بوعدها في تحقيق استقلال مصر عن بريطانيا ؟

٤ (١) دلل على صحة العبارات التاريخية الآتية :

- (١) تعتبر بريطانيا صانعة مشكلة فلسطين.
- (٢) تعددت إجراءات الاستعداد لحرب أكتوبر ١٩٧٣م داخلياً.
- (٣) استعادت إسرائيل في عدوان ١٩٦٧م ما سيطرت عليه في العدوان الثلاثي بالنسبة لمصر.

(ب) انسب الأعمال التاريخية التالية إلى أصحابها :

- (١) شغلت منصب وزيرة الشؤون الاجتماعية عام ١٩٧١م.
- (٢) شارك في إعادة بناء وتنظيم القوات المسلحة في حرب الاستنزاف واستشهد أثناءها.
- (٣) أنشأ مجلس شورى النواب ديسمبر ١٨٦٦م.
- (٤) تولى القيادة العامة للوحدة للقوات المصرية السورية في حرب أكتوبر ١٩٧٣م.

(ج) دلل جغرافياً على صحة كل عبارة مما يأتي :

- (١) المرتفعات الوسطى بدولة ألمانيا لها أهمية اقتصادية كبرى.
- (٢) تتفوق قارة أوروبا في إنتاج العديد من مصادر الطاقة.

(د) صوب ما تحته خط :

- (١) يُعد المنجنيز من أهم المعادن المستخدمة في الصناعة وقد عرف الإنسان استخدامه منذ آلاف السنين.
- (٢) من خصائص الزراعة الكثيفة الإنتاج التجاري الضخم من أجل التصدير.
- (٣) الأغنام هي المصدر الرئيسي للحوم الحمراء لغالبية سكان العالم.
- (٤) تُعد دولة أندونيسيا أكبر دول العالم المصنعة للألومنيوم رغم قلة إنتاجها من البوكسيت.

٢ (١) «يُعد النشاط الصناعي قمة الأنشطة الاقتصادية المتطورة مقارنة بباقي الأنشطة الاقتصادية الأخرى حيث إن الصناعة الحديثة مقياساً لتطور الشعوب وازدهارها».

في ضوء هذه العبارة، وضح ما يلي :

- (١) أهم المقومات البشرية التي تساعد على قيام الصناعة.
- (٢) أهم المراكز الصناعية الحديثة في العالم.
- (٣) ما مقترحاتك للنهوض بالنشاط الصناعي في مصر.

(ب) اختر الإجابة الصحيحة مما بين القوسين :

- (١) يتركز الإنتاج التجاري لمعدن النحاس في عدد من دول العالم أهمها (أستراليا - الهند - شيلي - فرنسا)
- (٢) من المحاصيل ذات الطبيعة الخاصة (القمح - البن - الأرز - بنجر السكر)
- (٣) تستورد مصر من نيجيريا (الأسمدة - السيارات - المطاط الطبيعي - الحبوب الزيتية)
- (٤) تحتل دولة المركز الأول في إنتاج الأسمك بأكثر من ثلث الإنتاج العالمي. (الصين - تايلاند - إندونيسيا - البرازيل)

(ج) ما النتائج المترتبة على ... ؟

- (١) تدفق البترول وانتشار التعليم في العديد من دول قارة آسيا بالنسبة لحرفة الرعى البدائي «التقليدي».
- (٢) انتشار الغابات في دلتا نهر النيجر بدولة نيجيريا.

- (٢) * صناعة الغزل والنسيج وتكرير البترول من أهم الصناعات في نيجيريا .
 (٣) يُعد الغاز الطبيعي مصدراً أساسياً في إنتاج الطاقة الكهرومائية .
 (٤) يأتي نصف الإنتاج السمكي في العالم من المياه المالحة .

(ب) بم تفسر ... ؟

- (١) تجود زراعة قصب السكر في البرازيل .
 (٢) تعتبر أستراليا أولى دول العالم في إنتاج الصوف .
 (٣) انكماش مساحة الحشائش بالسهول الساحلية في ألمانيا .
 (٤) يُعد البترول أهم مصادر الطاقة في العالم .

(ج) ما العلاقة بين ... ؟ (١) النشاط الزراعي والنشاط الصناعي .
 (٢) مصر وألمانيا اقتصادياً .

ثانياً التاريخ

٣ (١) أكمل العبارات الآتية :

- (١) تنازل الملك عن العرش لابنة الصغير وغادر البلاد مساء ٢٦ يوليو ١٩٥٢م .
 (٢) أثناء حرب الاستنزاف قدم وزير الخارجية الأمريكي مبادرة لوقف إطلاق النار .
 (٣) مهدت الضربة الجوية التي قام بها سلاح الطيران بقيادة لنصر أكتوبر ١٩٧٣م .
 (٤) تم تشكيل لجنة الوفد المركزية للسيدات عام ١٩٢٠م وانتخبت رئيساً لها .

(ب) ما النتائج التي ترتبت على ... ؟

- (١) نجاح ثورة ٢٣ يوليو ١٩٥٢م على الصناعة المصرية .
 (٢) فشل العدوان الثلاثي على مصر ١٩٥٦م .
 (٣) توقيع معاهدة السلام ١٩٧٩م بين مصر وإسرائيل .
 (٤) صدور دستور ١٩٢٣م بالنسبة للحياة السياسية .

(ج) لمن ينسب كل عمل مما يأتي ... ؟

- (١) تولى القيادة الموحدة للقوات المصرية والسورية في حرب أكتوبر ١٩٧٣م وحصل على وسام نجمة سيناء .
 (٢) أنشأ عدة مجالس استشارية لا سلطة لها مثل مجلس المشورة - المجلس العالی .

٤ (١) صوب ما تحته خط :

- (١) أصبحت القاهرة بأكملها تحت سيطرة قوات الثورة بقيادة محمد أنور السادات في صباح ٢٣ يوليو ١٩٥٢م .

(ج) اكتب ما تشير إليه العبارتين التاليتين :

- (١) وثيقة رسمية تحدد نظام الحكم في الدولة .
 (٢) معركة انتصرت فيها القوات المصرية على القوات الإسرائيلية عند مدينة بور فؤاد .

(د) وضح العلاقة بين : التطبيق غير السليم لسياسة الخصخصة ، وثورة ٢٥ يناير ٢٠١١م .



محافظة المنيا

١٧

اجب عن الأسئلة الآتية: أولاً الجغرافيا



١ (١) أمامك خريطة لدولة ألمانيا،

اكتب مدلول الأرقام الموقعة على الخريطة :

- (١) مسطح مائي
 (٢) دولة
 (٣) العاصمة السياسية للدولة
 (٤) جبال

(ب) اختر الإجابة الصحيحة مما بين القوسين :

- (١) تنتشر الزراعة البسيطة في المناطق (الحارة - المعتدلة - الباردة - المعتدلة الباردة)
 (٢) أولى الدول العربية المنتجة للطاقة الكهربائية من الرياح
 (٣) من المراكز الصناعية الحديثة في جنوب شرق آسيا
 (٤) يسود معظم دولة نيجيريا
 (المنخفض الاستوائي - المناخ المداري - المناخ الصحراوي - مناخ البحر المتوسط)

(ج) عرف كل مصطلح مما يأتي جغرافياً :

- (١) * الرعي التجاري . (٢) البوكسيت .

٢ (١) اكتب كلمة (صواب) أمام العبارة الصحيحة ، وكلمة (خطأ) أمام العبارة غير الصحيحة :

- (١) تتصدر مصر والسودان الإنتاج العالمي من القطن . ()

(ب) بم تفسر... ؟

- (١) يعتبر القمح الغذاء الرئيسي لمعظم شعوب العالم.
- (٢) تحتل الصين المركز الأول في إنتاج الأسماك.
- (٣) أسعار البترول في زيادة مستمرة.
- (٤) قلة عدد السكان في دلتا النيجر.

(ج) اختر الإجابة الصحيحة مما بين القوسين :

- (١) أكبر دول العالم في تربية الأغنام هي (العراق - الهند - الصين - اليابان)
- (٢) مدينة أمريكية تقع على بحيرة متشجن هي (شيكاغو - لوس أنجلوس - واشنطن - سان فرانسيسكو)
- (٣) ينتج قصب السكر في كل القارات عدا قارة (آسيا - أفريقيا - أوروبا - أستراليا)
- (٤) الخام الرئيسي لمعدن الألومنيوم هو (الحديد - البوكسيت - اليورانيوم - المنجنيز)

٢ (١) صوب ما تحته خط :

- (١) أولى قارات العالم إنتاجاً للقطن قارة أوروبا.
- (٢) تعتبر اللحوم الغذاء الرئيسي لسكان المناطق الساحلية.
- (٣) المصدر الأول والرئيسي للطاقة في العالم حتى أوائل القرن الـ ٢٠ هو البترول.
- (٤) جزيرة مدغشقر من المراكز الصناعية في إقليم شرق آسيا.
- (٥) العاصمة الاقتصادية لنيجيريا هي إبيادان.

(ب) «يمارس البشر العديد من الأنشطة الاقتصادية» .

في ضوء هذه العبارة، أجب عن الأسئلة الآتية :

- (١) ما المقصود بـ: النشاط التعديني ؟
- (٢) أيد بالأدلة صحة العبارة : تقوم على المطاط الطبيعي صناعات متعددة.
- (٣) ما مصادر إنتاج الكهرباء الحرارية ؟
- (٤) ما النتائج المترتبة على ... ؟
 - (١) صغر مساحات الحقول في نطاق الزراعة الكثيفة.
 - (٢) تربية أستراليا لأغنام المارينو.

(٢) استجاب الخديو عباس حلمي الثاني لدعوة رفاة الطهطاوى وأنشأ أول مدرسة لتعليم البنات عام ١٨٧٣ (مدرسة السنية).

(٣) دعا الرئيس الأمريكي كارتر كلاً من السادات و جولدا مائير إلى اجتماعات في كامب ديفيد ١٩٧٨م.

(٤) قامت إسرائيل بمساعدة ودعم من بريطانيا في الإعداد والتهيئة لعدوان ٥ يونيه ١٩٦٧م.

(ب) أيد بالأدلة التاريخية صحة كل عبارة مما يأتي :

- (١) * تعتبر بريطانيا صانعة مشكلة فلسطين.
- (٢) يُعد الجيش المصري هو الضامن لثورة ٢٥ يناير ٢٠١١م.
- (٣) تأثر الاقتصاد المصري بالحرب العالمية الثانية.
- (٤) ظهرت براعة الجيش المصري عقب هزيمة ٥ يونيه ١٩٦٧م فيما سُمي بمرحلة الصمود والتصدي.

(ج) ماذا كان يحدث إذا ... ؟

- (١) لم تقم الولايات المتحدة الأمريكية بدغم إسرائيل خلال حرب أكتوبر ١٩٧٣م.
- (٢) كانت منظمات المجتمع المدني عناصر غير فاعلة في تقديم الخدمات الاجتماعية وعدم تقديم برامج التنمية كمكمل للعمل الحكومي.

١٨ محافظة أسبوط

أجب عن الأسئلة الآتية: أولاً الجغرافيا



- ١ (١) أمامك خريطة للولايات المتحدة الأمريكية، اكتب مدلول الأرقام الموقعة عليها :
 - (١) المحيط
 - (٢) دولة
 - (٣) جبال
 - (٤) نهر

٣ (١) اكتب ما تشير إليه العبارتين الآتيتين :

- (١) مؤتمر أعطى لبريطانيا حق الانتداب على فلسطين.
- (٢) المجالس النيابية التي تتولى السلطة التشريعية في الدولة.

(ب) اذكر نتيجة واحدة ترتبت على :

- (١) إنشاء السد العالي في مصر.
- (٢) بناء مصر حائط الصواريخ على الضفة الغربية لقناة السويس أثناء حرب الاستنزاف.
- (٣) توقيع معاهدة السلام مارس ١٩٧٩ م بين مصر وإسرائيل.
- (٤) التطبيق غير السليم لسياسة الخصخصة في مصر قبل ثورة ٢٥ يناير ٢٠١١ م.

(ج) من يكون ... ؟

- (١) قدم مبادرة وقف إطلاق النار في حرب الاستنزاف.
- (٢) تولى القيادة العامة الموحدة للقوات المصرية السورية في حرب أكتوبر ١٩٧٣ م.
- (٣) قام بمبادرة لزيارة إسرائيل من أجل السلام عام ١٩٧٧ م.
- (٤) أنشأ أول مدرسة لتعليم البنات في مصر.

٤ (١) اكتب كلمة (صواب) أمام العبارة الصحيحة، وكلمة (خطأ) أمام العبارة غير الصحيحة :

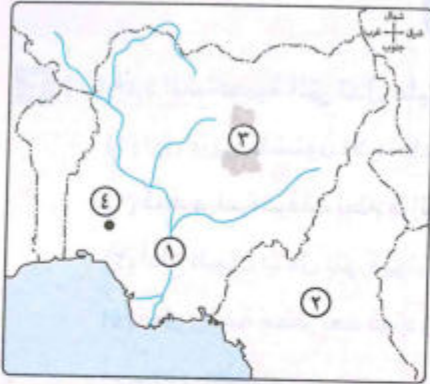
- (١) غيرت ثورة ٢٣ يوليو ١٩٥٢ نظام الحكم في مصر. ()
- (٢) قامت سوريا بإغلاق خليج العقبة في وجه الملاحة الإسرائيلية في مايو ١٩٦٧ م. ()
- (٣) أكدت أحداث ثورة ٢٥ يناير ٢٠١١ م أن الجيش قوة مساندة للشعب. ()
- (٤) انتخبت هدى شعراوي رئيساً للجنة الوفد المركزية للسيدات. ()
- (٥) مجانية التعليم من الإنجازات السياسية لثورة ٢٣ يوليو ١٩٥٢ م. ()

(ب) أجب عن الأسئلة الآتية في ضوء ما تم دراسته :

- (١) بم تفسر... ؟ (١) لفلسطين أهمية خاصة في قلب كل عربي.
- (٢) عدم وجود حياة ديمقراطية سليمة قبل ثورة ٢٣ يوليو ١٩٥٢ م.
- (٣) أيد بالأدلة صحة العبارة : لم تؤد معاهدة ١٩٣٦ م إلى الاستقلال الحقيقي لمصر.
- (٤) ماذا كان يحدث إذا : لم تتكوّن اللجان الشعبية في ثورة ٢٥ يناير ٢٠١١ م ؟
- (٤) ما رأيك في : موقف الاتحاد السوفيتي (سابقاً) من العدوان الثلاثي على مصر ١٩٥٦ م ؟



أجب عن الأسئلة الآتية: أولاً الجغرافيا



١ (١) أمامك خريطة لدولة نيجيريا،

وضح ما تدل عليه الأرقام
الموقعة عليها :

- (١) نهر.....
- (٢) دولة.....
- (٣) هضبة.....
- (٤) مدينة.....

(ب) اختر الإجابة الصحيحة مما بين القوسين :

- (١) من أهم محاصيل الزراعة البسيطة في العالم (القمح - الذرة - الأرز - القطن)
- (٢) ينتشر معدن في جميع أنحاء العالم. (المنجنيز - النحاس - الحديد - البوكسيت)
- (٣) من المراكز الصناعية الحديثة في العالم (بريطانيا - موسكو - الصين - سنغافورة)
- (٤) تعتبر العمود الفقري للاقتصاد الألماني (الصناعة - الزراعة - الرعي - صيد الأسماك)

(ج) بم تفسر ... ؟

- (١) تنتشر معظم مصائد الأسماك على سواحل القارات.
- (٢) توسع معظم دول العالم في استخدام الغاز الطبيعي كبديل لمصادر الطاقة الأخرى.

٢ (١) أعط مصطلحاً جغرافياً لكل عبارة من العبارات الآتية :

- (١) نبات دائم الخضرة موطنه الأصلي شرق آسيا.
- (٢) نوع من الحيوانات يرتبط تربيتها بالمراعي التجارية الواسعة.
- (٣) نوع من الطاقة يتم إنتاجه من الفحم والبتروال والغاز الطبيعي.
- (٤) عاصمة إقليم بافاريا ومقر عدد من الشركات والمصانع الألمانية العالمية.

(ب) ما العلاقة بين ... ؟

- (١) الدواجن، ومشكلة الغذاء في العالم.
- (٢) الرعي، والأساليب العلمية.



أجب عن الأسئلة الآتية: أولاً الجغرافيا



١ (١) أمامك خريطة لدولة ألمانيا،

اكتب مدلول الأرقام الموقعة عليها

في كراسة إجابتك :

- (١) دولة
 (٢) مدينة
 (٣) نهر
 (٤) جبال

(ب) «درست الموارد والأنشطة الاقتصادية في العالم،

ونماذج من دوله المتقدمة والنامية» .

في ضوء هذا .. وضح ما يلي :

- (١) أثر استخدام أحدث الآلات الزراعية في الزراعة التجارية والعلمية.
 (٢) أهمية تربية الأبقار في العالم.
 (٣) علاقة البوكسيت بالألومنيوم.
 (٤) سبب توسع العالم في استخدام الغاز الطبيعي.
 (٥) منطقة استخراج القصدير في دولة نيجيريا.
 (٦) ما مقترحاتك للاستفادة من نوعية القطن المصرى.

٢ (١) أكمل العبارات الآتية بكلمات مناسبة مما بين القوسين :

(لاجوس - أوروبا - أستراليا - هنشو - كندا)

- (١) القارة التي لا ينتج فيها قصب السكر هي
 (٢) أهم الدول المنتجة للصوص في العالم
 (٣) أكبر المدن النيجيرية وأكثرها ازدحاماً بالسكان
 (٤) توجد ضمن إقليم شرق آسيا الصناعى جزيرة

(ب) صوب ما تحته خط في العبارات الآتية :

- (١) تنتج دولة إندونيسيا أكثر من ثلث إنتاج العالم من الأسماك.
 (٢) تحتل دولة فنزويلا المركز الأول في الإنتاج العالمى من البترول.
 (٣) إقليم شمال شرق الولايات المتحدة الصناعى يشمل خليج المكسيك.
 (٤) تقع الأطراف الجنوبية من نيجيريا في نطاق المناخ المدارى.

(ج) دلل على صحة العبارتين الآتيتين :

- (١) توجد علاقات اقتصادية ما بين مصر وألمانيا .
 (٢) يُعد البترول من أهم مصادر الطاقة في العالم.

ثانياً التاريخ

٣ (١) حدد الشخصية التي تدل عليها كل عبارة من العبارات الآتية :

- (١) أول وزيرة للشئون الاجتماعية في مصر عام ١٩٦٢ م ؟
 (٢) قدم مبادرة لوقف إطلاق النار أثناء حرب الاستنزاف بين مصر وإسرائيل .
 (٣) أذاع البيان الأول لثورة يوليو ١٩٥٢ م .
 (٤) تولى رئاسة مصر بعد فوزه في انتخابات الرئاسة ٢٠١٤ م .

(ب) ما النتائج التي ترتبت على ... ؟

- (١) هزيمة الدول العربية في ٥ يونيه ١٩٦٧ م .
 (٢) إحالة قضية طابا إلى هيئة التحكيم الدولى .
 (٣) إصدار قانون الإصلاح الزراعى في سبتمبر ١٩٥٢ م .

٤ (١) صوب ما تحته خط :

- (١) أنشأ الخدوي إسماعيل عدة مجالس استشارية لا سلطة لها مثل مجلس المشورة .
 (٢) أعطى مؤتمر باريس ١٩٢٠ م لبريطانيا حق الانتداب على فلسطين .
 (٣) الأرض مقابل السلام مبدأ دعا إليه مؤتمر لندن عام ١٩٩١ م .
 (٤) حدثت الوحدة العربية بين مصر و الأردن عام ١٩٥٨ م .

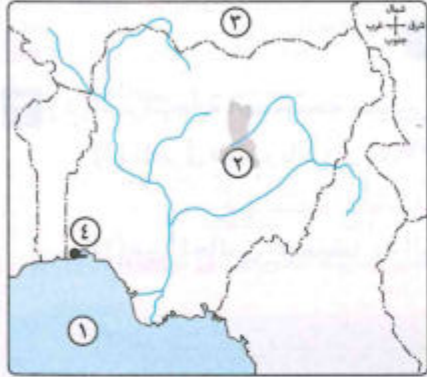
(ب) «كانت مصر ولا زالت حريصة على الحفاظ على فلسطين وحدود الدول العربية» .

في ضوء العبارة السابقة، أجب عما يأتي :

- (١) بم تفسر : العدوان الثلاثى على مصر ١٩٥٦ م ؟
 (٢) حدد أوجه الشبه بين خط ألون وخط بارليف .
 (٣) دلل على صحة العبارة الآتية : «أنهت حرب أكتوبر نظرية الأمن الإسرائيلية» .



أجب عن الأسئلة الآتية: أولاً الجغرافيا



١ (١) أمامك خريطة لدولة نيجيريا، اكتب

في كراسة الإجابة ما تدل عليه الأرقام
الموضحة عليها:

- (١) خليج
(٢) هضبة
(٣) دولة تجاورها شمالاً
(٤) العاصمة الاقتصادية للبلاد

(ب) دلل جغرافياً على صحة ما يلي:

- (١) تربط مصر وألمانيا علاقات ثقافية وعلمية قوية.
(٢) صناعة الألومنيوم تحتاج إلى العديد من المقومات لقيامها.
(٣) انتشار مصايد الأسماك على سواحل شمال غرب أوروبا.

(ج) اختر الإجابة الصحيحة مما بين القوسين:

- (١) الصين أكبر دول العالم إنتاجاً لـ (الصوف - الألبان - اللحوم - الجلود)
(٢) تمتد عاصمة إقليم بافاريا بالقرب من حدود دولة (بولندا - النمسا - فرنسا - هولندا)
(٣) تأتي في المركز الأول إنتاجاً للدواجن دولة (الولايات المتحدة الأمريكية - ألمانيا - الهند - نيجيريا)

٢ (١) قارن بين: الزراعة البسيطة، والزراعة العلمية، من حيث:

* أماكن انتشارهما. * خصائص كل منهما.

(ب) اكتب المصطلح الدال على كل عبارة من العبارات التالية:

- (١) يُعد من أكبر الأقاليم التضاريسية في ألمانيا.
(٢) إقليم صناعي يضم مناطق في الصين واليابان.
(٣) مصدر طاقة توسع العالم في استخدامه لرخصه وأقل تلوث للبيئة.

(ج) اكتب ما تشير إليه العبارتين الآتيتين:

- (١) الغذاء الرئيسي لمعظم شعوب العالم.
(٢) المصدر الأول للطاقة المستخدمة في العالم حتى أوائل القرن الـ ٢٠ م.

ثانياً التاريخ

٣ (١) اختر الإجابة الصحيحة مما بين القوسين:

- (١) أول رئيس للجمهورية المصرية
(حسن مبارك - أنور السادات - جمال عبد الناصر - محمد نجيب)
(٢) من إنجازات ثورة ٢٣ يوليو ١٩٥٢ في المجال الاجتماعي
(تأميم قناة السويس - إنشاء السد العالي - إقامة الجمعيات الزراعية - تمصير البنوك)
(٣) أعطى مؤتمر لبريطانيا حق الانتداب على فلسطين ١٩٢٠ م.
(سان ريمو - كامب ديفيد - باندونج - مدريد)
(٤) انتصرت القوات المصرية على القوات الإسرائيلية التي حاولت احتلال بور فؤاد في معركة
(إيلات - رأس العش - الإسماعيلية - شديان)

(ب) ما النتائج التي ترتبت على ... ؟

- (١) هزيمة الدول العربية في حرب فلسطين عام ١٩٤٨ م.
(٢) قرار هيئة التحكيم بمحكمة العدل الدولية في سبتمبر ١٩٨٨ م.
(٣) التطبيق غير السليم لسياسة الخصخصة في مصر قبل ثورة ٢٥ يناير ٢٠١١ م.

٤ (١) حدد الشخصية التي تدل عليها كل عبارة من العبارات الآتية:

- (١) تولى رئاسة هيئة عمليات القوات المسلحة المصرية عام ١٩٧٢ م.
(٢) رئيس أمريكي دعا إلى اجتماعات كامب ديفيد في سبتمبر ١٩٧٨ م.
(٣) أنشأ مجلس المشورة والمجلس العالي.
(٤) أسس أول مدرسة لتعليم البنات عام ١٨٧٣ م.
(٥) شغلت منصب وزيرة للشئون الاجتماعية بمصر عام ١٩٧١ م.

(ب) «في ثورة يوليو ١٩٥٢ والصراع العربي الإسرائيلي، أحداث كبرى، وتحديات عظيمة، تجلت فيها روح المقاومة المصرية». في ضوء العبارة السابقة، أجب عن الأسئلة الآتية:

- (١) بم تفسر: قيام مجموعة من ضباط الجيش المصري بتأسيس تنظيم الضباط الأحرار؟
(٢) ماذا يقصد بعدم الانحياز؟
(٣) ما أهداف إسرائيل من حشد قواتها على الحدود مع سوريا عام ١٩٦٧ م؟
(٤) كيف تم تهيئة الجبهة العربية استعداداً لحرب أكتوبر ١٩٧٣ م؟
(٥) ما رأيك في: دور الفريق أول الشهيد عبد المنعم رياض في حرب الاستنزاف؟

(ب) دلت تاريخياً على صحة العبارتين التاليتين :

(١) أثرت معاهدة ١٩٣٦ م بالسلب على مصر اقتصادياً.

(٢) أدركت بعض الدول العربية خطورة إسرائيل بعد العدوان الثلاثي ١٩٥٦ م.

(ج) ما رأيك في ... ؟ (١) أولى الإنجازات لثورة ٢٣ يوليو ١٩٥٢ م كانت في المجال الاجتماعي.

(٢) أظهرت حرب أكتوبر ١٩٧٣ م أهمية سلاح البترول.

(د) صوب ما تحته خط في العبارات الآتية :

(١) قامت مصر بإغلاق خليج السويس في عام ١٩٦٧ م.

(٢) تقلدت السيدة عائشة راتب منصب أول وزيرة للشئون الاجتماعية.

(٣) أصدرت محكمة العدل الدولية قرار باستعادة مصر لمدينة العريش في سبتمبر ١٩٨٨ م.



محافظه أسوان

٢٢

أجب عن الأسئلة الآتية: أولاً الجغرافيا



١ (١) أمامك خريطة لقارات العالم، وضع

مدلول الأرقام التي عليها :

(١) نوع الرعى السائد

(٢) أهم الدول المنتجة للصوف

(٣) دولة منتجة للحديد

(٤) دولة منتجة للنحاس

(ب) صوب ما تحته خط :

(١) يصعب استخدام الآلات والمعدات الزراعية في الزراعة التجارية.

(٢) توجد أنواع كثيرة من الأحياء البحرية كالعشريات ومنها السبيط.

(٣) يحدها من الشمال النيجر ومن الغرب دولة بنين ومن الشرق تشاد ومن الجنوب المحيط الأطلنطي دولة إثيوبيا.

(٤) مصر أهم الدول الأفريقية المنتجة لمحصول البن.

(٥) يقل عدد السكان في الولايات المتحدة الأمريكية في نيويورك بسبب برودة الجو.

(ج) ما العلاقة بين ... ؟

(١) وفرة مقومات الصناعة بدول أوروبا، ومنظمة الاتحاد الأوروبي.

(٢) البترول، والكهرباء.

(د) ما رأيك في : اهتمام مصر بالطاقة الشمسية ؟

لانا التاريخ

٣ (١) اختر الإجابة الصحيحة مما بين القوسين :

(١) ظهر في مؤتمر باندونج ١٩٥٥ م دور مصر الرائد في المجال

(العربي والدولي - الاقتصادي - الاجتماعي - السياسي)

(٢) من المجالس الاستشارية التي أنشأها محمد علي مجلس

(شورى القوانين - شورى النواب - المشورة - الأمة)

(٣) قدمت لمصر دعماً مالياً وعسكرياً في حرب أكتوبر ١٩٧٣ م دولة

(الجزائر - الإمارات - تونس - المغرب)

(٤) اتفاقية أوسلو ١٩٩٣ م كانت من نتائج مؤتمر

(كامب ديفيد - سان ريمو - باندونج - مدريد)

(ب) بم تفسر ... ؟

(١) مغادرة الملك فاروق البلاد قبل الموعد المحدد له من قبل قادة ثورة ٢٣ يوليو ١٩٥٢ م.

(٢) تشكيل لجان شعبية أثناء ثورة ٢٥ يناير ٢٠١١ م.

(٣) قيام الرئيس السادات بزيارة إسرائيل ١٩٧٧ م.

(ج) اكتب ما تشير إليه كل عبارة مما يأتي :

(١) تمت الاستعانة بها لحماية مصر والمصريين في ثورتى ٢٠١١ و ٢٠١٣ م.

(٢) مؤتمر تم من خلاله تنفيذ وعد بلفور في فلسطين.

(٣) يطلق على المجالس النيابية التي تتولى السلطة التشريعية في البلاد.

٤ (١) «دائمًا ما تثبت أحداث التاريخ عظمة الشعب المصرى وقواته المسلحة» .

في ضوء العبارة أجب عما يأتي :

(١) ما العلاقة بين : حرب أكتوبر ١٩٧٣ م، وبناء حائط الصواريخ على الضفة الغربية لقناة

السويس ؟

(٢) ما الدرس المستفاد من الانتخابات البرلمانية في عام ٢٠١٠ م ؟

(٣) ما الدور الاجتماعي لمنظمات المجتمع المدني ؟

(ج) أكمل الجدول التالي :

الدولة	القارة	أهم الغابات	العاصمة
نيجيريا
الولايات المتحدة الأمريكية

٢ (١) أكمل المخطط الذي أمامك، ثم انقله إلى كراسة إجابتك :



(ب) «تنوع مصادر الطاقة في العالم إلى طاقة نظيفة مثل الطاقة الشمسية والمد والجزر والرياح وطاقة غير متجددة مثل البترول والغاز الطبيعي». في ضوء العبارة، وضح :

- أهم المقومات اللازمة لصناعة الألمنيوم.
- أهم المقومات الطبيعية والبشرية اللازمة للصناعة (بلفر باتنيه ١٩٥٥ كل نوب).
- أى المصادر تفضل لإنتاج الطاقة في محافظتك أسوان. ولماذا. في ضوء دراستك.

(ج) أكمل ما يأتي بكلمة مناسبة :

- يُنْتَج قصب السكر في كل القارات ما عدا قارة.....
- تُعد دولة..... أولى دول العالم في إنتاج اللحوم والبيض لسد حاجة السكان في الغذاء.
- من أهم الجزر الصناعية في إقليم شرق آسيا جزيرة هنشو في دولة.....

تاريخ

٣ (١) اختر الإجابة الصحيحة مما بين القوسين :

- أجبرت إنجلترا الملك فاروق في فبراير ١٩٤٢ على تعيين..... رئيسًا للحكومة.
(على ماهر - مصطفى النحاس - محمد نجيب - جمال عبد الناصر)
- أعطى لبريطانيا حق الانتداب على فلسطين في أبريل ١٩٢٠ مؤتمر..... بإيطاليا.
(كامب ديفيد - باندونج - مدريد - سان ريمو)

(٢) * أى مما يلى يمثل خط الدفاع الذى أقامته إسرائيل في هضبة الجولان ؟.....

(بارليف - ماجينو - ألون - إيلات)

(٤) استمرار العمل بقانون الطوارئ من الأسباب..... لثورة ٢٥ يناير ٢٠١١م.

(الاجتماعية - الاقتصادية - السياسية - القانونية)

(٥) رئيس السلطة التنفيذية في مصر هو.....

(رئيس الوزراء - رئيس الدولة - رئيس مجلس النواب - المحافظ)

(ب) أيد بالأدلة التاريخية صحة العبارتين التاليتين :

(١) نجحت ثورة ٢٣ يوليو ١٩٥٢م في تحقيق أهدافها في القضاء على الاستعمار وأعدائه.

(٢) شهدت مرحلة ما بعد ثورة ١٩١٩م وحتى ثورة ٢٣ يوليو ١٩٥٢م نهضة نسائية ودور رائدًا

للمرأة المصرية في مختلف المجالات.

(ج) ماذا كان يحدث إذا : لم تهتم ثورة ٢٣ يوليو ١٩٥٢م بالتجارة ؟

٤ (١) «دعا الرئيس السادات العالم كله إلى مساندته في التطلع للسلام الدائم بعد سلسلة من

الحروب استنزفت طاقات وموارد البلاد البشرية والمادية».

في ضوء العبارة السابقة، أجب عن الأسئلة التالية :

(١) ما أسباب هزيمة عدوان ٥ يونيو ١٩٦٧م ؟

(٢) اذكر كيف نجحت القيادة المصرية في تهيئة وإعداد الجبهة العربية للاستعداد لحرب

أكتوبر ١٩٧٣م.

(٣) من خلال دراستك حدد اثنين من مزايا تحقيق السلام وإنهاء الصراع العربى / الإسرائيلى.

(ب) رتب الأحداث التاريخية التالية من القديم للحديث :

* تخلى الرئيس مبارك عن الحكم. * تحقيق الوحدة بين مصر وسوريا.

* وفاة الرئيس جمال عبد الناصر. * مذبحه دير ياسين في فلسطين.

(ج) ما رأيك في : الجيش المصرى هو الضامن لثورة ٢٥ يناير ٢٠١١م ؟

(ب) **قارن بين** : نيجيريا، والولايات المتحدة الأمريكية، من حيث :
* القارة التي تنتمي لها. * ما تستورده مصر منها.

(ج) **ضع خطاً تحت الكلمة غير المناسبة لكل مجموعة مما يأتي، مع ذكر السبب :**
(١) شيكاغو - نيويورك - أبوجا - واشنطن.
(٢) الفحم - طاقة الرياح - البترول - الغاز الطبيعي.

ثانياً التاريخ

٣ (١) **اكتب كلمة (صواب) أمام العبارة الصحيحة، وكلمة (خطأ) أمام العبارة غير الصحيحة :**

- () (١) قامت ثورة ٢٣ يوليو ١٩٥٢ بحل الأحزاب السياسية في يناير ١٩٥٣م.
() (٢) أعلنت مصر وقفها إلى جانب سوريا طبقاً لاتفاقية الدفاع المشترك في عدوان ١٩٦٧م.
() (٣) أول دستور لمصر بعد ثورة ٢٣ يوليو ١٩٥٢ هو الدستور الدائم ١٩٧١م.
() (٤) التطبيق غير السليم لسياسة الخصخصة أدى إلى ارتفاع الأسعار بين المجتمع المصري.

(ب) **صوب ما تحته خط :**

- (١) أقامت الولايات المتحدة الأمريكية جسراً جويًا لتقديم المساعدات العسكرية لروسيا في حرب أكتوبر ١٩٧٣م.
(٢) كانت المفاوضات في مؤتمر كامب ديفيد على أساس مبدأ الأرض مقابل السلام.
(٣) أعلن الرئيس جمال عبد الناصر عن مبادرة السلام ١٩٧٧م.
(٤) حدثت الوحدة بين مصر واليمن عام ١٩٥٨م بعد العدوان الثلاثي على مصر.

(ج) **ما رأيك في : وعد بلفور ؟**

٤ (١) **لمن تنسب الأعمال الآتية ... ؟**

- (١) أصدرت أول مجلة نسائية (مجلة الريحانة) عام ١٩٠٧م.
(٢) أنشأ مجلس شورى النواب عام ١٨٦٦م.
(٣) تولى القيادة العامة الموحدة المصرية السورية في حرب أكتوبر ١٩٧٣م وحصل على وسام نجمة سيناء.
(٤) تخلى عن الرئاسة في ١١ فبراير ٢٠١١م وسلم شئون البلاد للمجلس الأعلى للقوات المسلحة المصرية.



أجب عن الأسئلة الآتية : **أولاً الجغرافيا**

١ (١) **أمامك خريطة لدولة نيجيريا،**

اكتب ما تدل عليه الأرقام :

- (١) هضبة
(٢) نهر
(٣) العاصمة الاقتصادية
(٤) دولة

(ب) **اكتب المصطلح الجغرافي الذي تعبر عنه**

العبارتين التاليتين :

- (١) نوع من أنواع الرعي يمارس في مناطق حشائش السافانا والإستبس ويعتمد على الأساليب العلمية الحديثة.
(٢) يعتبر الخام الرئيسي لصناعة الألومنيوم.

(ج) **بم تفسر ... ؟**

- (١) تحتاج الزراعة الكثيفة إلى أيدي عاملة كثيرة.
(٢) قلة أعداد العاملين بالرعي البدائي في وسط آسيا.
(٣) تُعد الولايات المتحدة الأمريكية القوة الصناعية الأولى في العالم.
(٤) رغم وجود الصناعة في دول عديدة في العالم إلا أنها تختلف فيما بينها.

٢ (١) **اختر الإجابة الصحيحة مما بين القوسين :**

- (١) تحتل دولة المركز الأول عالمياً في إنتاج الألبان.
(الولايات المتحدة الأمريكية - الهند - الصين - المكسيك)
(٢) تسقط الأمطار طوال العام على أطراف نيجيريا
(الشمالية - الشرقية - الجنوبية - الغربية)
(٣) تُعد قارة آسيا أولى القاربت في إنتاج (البنجر - الذرة - قصب السكر - القطن)

- (٣) يتركز إنتاج النحاس في دولة (كندا - إندونيسيا - أستراليا - شيلي)
 (٤) تشمل منطقة الجنوب بالولايات المتحدة الأمريكية مدناً صناعية أهمها مدينة
 (سان فرانسيسكو - برمنجهام - شيكاغو - نيويورك)

(ب) ما المقصود بكل مصطلح مما يأتي ... ؟

- (١) الزراعة الكثيفة . (٢) النشاط التعديني .

(ج) «تنوعت الأنشطة الاقتصادية من أجل إشباع الإنسان لحاجاته الضرورية» .

في ضوء هذه العبارة، أجب عن الأسئلة التالية :

- (١) ما النتائج المترتبة على : عدم امتلاك الدول المنتجة للبوكسيت الطاقة الكهربائية والخبرة الفنية ؟
 (٢) قارن بين : القطن، والمطاط، من حيث :
 * الأهمية الاقتصادية . * أهم الدول المنتجة .
 (٣) ما مقترحاتك من أجل : استغلال مصر لصحاريها في مجال الإنتاج الزراعي والحيواني ؟

ثانياً التاريخ

٣ (١) من يكون ... ؟

- (١) سيطر على جميع قطاعات الجيش المصري بعد إذاعة البيان الأول لثورة ٢٣ يوليو ١٩٥٢م .
 (٢) وزير خارجية الولايات المتحدة الأمريكية الذي قدم مبادرة لوقف إطلاق النار أثناء حرب الاستنزاف .
 (٣) دعا كل من السادات وبيجن إلى اجتماعات كامب ديفيد عام ١٩٧٨م .
 (٤) أنشأ مجلس شورى النواب عام ١٨٦٦م .

(ب) أيد صحة كل عبارة من العبارات الآتية :

- (١) اهتمت ثورة ٢٣ يوليو ١٩٥٢م بالصناعة .
 (٢) لفلسطين أهمية خاصة في قلب كل عربي .
 (٣) لم تتخلى مصر عن حقوق الشعب الفلسطيني عند توقيع معاهدة السلام عام ١٩٧٩م .
 (٤) كان للقوات المسلحة المصرية دور إيجابي أثناء ثورة ٣٠ يونيو ٢٠١٣م .

(ج) ما العلاقة بين : الإقطاع، وقوانين الإصلاح الزراعي بعد ثورة ١٩٥٢م ؟

(د) ما رأيك في : قرارات وزراء النفط العربي بالكويت أثناء حرب أكتوبر ١٩٧٣م ؟

(ب) ما النتائج التي ترتبت على ... ؟

- (١) إنشاء مصر للسد العالي .
 (٢) قرار هيئة التحكيم بمحكمة العدل الدولية الصادر في سبتمبر ١٩٨٨م .

(ج) دلل على صحة العبارة التالية :

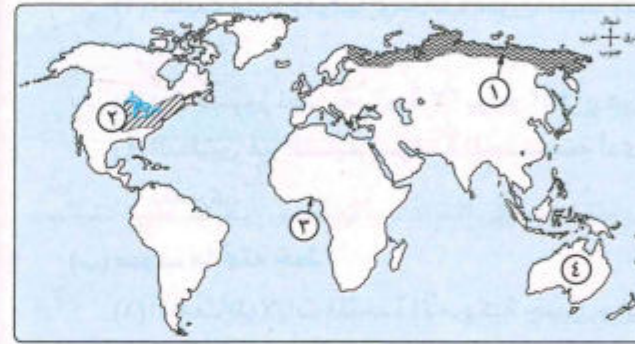
اختيار السلام بدلاً من الحرب له مزايا عديدة لمصر والدول العربية . (يلتق بالتيه)



محافظة جنوب سيناء

٢٤

أجب عن الأسئلة الآتية: أولاً الجغرافيا



١ (١) أمامك خريطة لقارات العالم،

اكتب في كراسة إجابتك مدلول

الأرقام الموضحة عليها :

- (١) نوع الرعي السائد
 (٢) إقليم صناعي
 (٣) خليج
 (٤) دولة منتجة للبوكسيت

(ب) بم تفسر ... ؟

- (١) تنصدر الصين دول العالم المنتجة للأسمك .
 (٢) * شهرة إقليم شمال شرق الولايات المتحدة الأمريكية صناعياً .
 (٣) تأتي العلاقات التجارية بين مصر ونيجيريا في صالح الجانب المصري .
 (٤) ارتفاع الكثافة السكانية على السواحل الغربية للولايات المتحدة الأمريكية .

(ج) حدد وجه الشبه بين كل من : الغاز الطبيعي، وطاقة الرياح .

(د) ما العلاقة بين : تدفق البترول، وحرفة الرعي البدائي في شبه الجزيرة العربية ؟

٢ (١) اختر الإجابة الصحيحة مما بين القوسين :

- (١) أكبر الدول المنتجة للبنجر في قارة أفريقيا دولة (المغرب - مصر - نيجيريا - السودان)
 (٢) امتلاك أستراليا لثروة هائلة من أغنام المارينو جعلها تنصدر الإنتاج العالمي لـ
 (اللحوم - الألبان - الأصواف - الجلود)

(ب) بم تفسر ... ؟

- (١) توطن صناعة الألومنيوم في الدول المتقدمة.
- (٢) قلة عدد السكان في دلتا النيجر.
- (٣) تختلف الخصائص المناخية للسهول الوسطى في الولايات المتحدة من منطقة إلى أخرى.

(ج) اكتب المصطلح الجغرافي لكل من العبارات الآتية :

- (١) زراعة الأرض أكثر من مرة في العام الواحد لإشباع حاجات السكان.
- (٢) يستخرج من عصارة أشجار استوائية وتصنع منه إطارات السيارات.
- (٣) العاصمة القديمة لدولة نيجيريا وأكثرها تكديسًا بالسكان.

٢ (١) صوب ما تحته خط :

- (١) تشتهر الهند بإنتاج الصوف من أغنام المارينو.
- (٢) احتل البترو المصدر الأول والرئيسي للطاقة المستخدمة في العالم حتى أوائل القرن الـ ٢٠م.

(ب) قارن بين كل من : القمح، والقطن، من حيث :

- * أولى القارات المنتجة. * أهمية كل منهما.

(ج) اختر الإجابة الصحيحة مما بين القوسين :

- (١) البرازيل أولى دول العالم إنتاجًا لمحصول (القمح - قصب السكر - المطاط - الذرة)
- (٢) تأتي مصر في مقدمة خمس دول عربية تقوم بتوليد الكهرباء من (البترو - الغاز - الفحم - الرياح)
- (٣) أكبر دول العالم إنتاجًا للبترو (قطر - العراق - السعودية - روسيا)
- (٤) تحتل المركز الأول في إنتاج الأسماك (مصر - المغرب - إندونيسيا - الصين)

تاريخ التاريخ

٣ (١) اكتب كلمة (صواب) أمام العبارة الصحيحة، وكلمة (خطأ) أمام العبارة غير الصحيحة :

- () (١) ألغت ثورة ١٩٥٢م دستور ١٩٢٣م وحلت الأحزاب السياسية.
- () (٢) أصدرت هيئة التحكيم بمحكمة العدل الدولية حكمها لصالح مصر في مارس ١٩٨٩م واستعادت طابا.

٤ (١) اكتب كلمة (صواب) أمام العبارة الصحيحة، وكلمة (خطأ) أمام العبارة غير الصحيحة، مع التصويب :

- () (١) تأميم شركة قناة السويس من إنجازات ثورة ٢٣ يوليو ١٩٥٢م في المجال الاقتصادي.
- () (٢) حصلت بريطانيا على حق الانتداب على فلسطين بموجب قرارات مؤتمر مدريد.
- () (٣) تُعد حرب أكتوبر ١٩٧٣م نقطة تحول في الصراع العربي / الإسرائيلي.
- () (٤) تخلى الرئيس محمد حسنى مبارك عن الرئاسة وتم تسليم إدارة شؤون البلاد إلى رئيس المحكمة الدستورية العليا.
- () (٥) كانت المجالس النيابية في مرحلة ما قبل الاحتلال البريطاني لمصر مجالس صورية.

(ب) ما النتائج التي ترتبت على ... ؟

- (١) توقيع مصر لمعاهدة ١٩٣٦م.
- (٢) فشل العدوان الثلاثي على مصر عام ١٩٥٦م.
- (٣) تقديم الولايات المتحدة الأمريكية معلومات عسكرية لإسرائيل أثناء حرب أكتوبر ١٩٧٣م.
- (٤) التطبيق غير السليم لسياسة الخصخصة وبيع مؤسسات الدولة بأقل من أسعارها.

(ج) «للمرأة المصرية دور هام في خدمة العمل الوطنى وقضايا المجتمع».

في ضوء هذه العبارة، وضح :

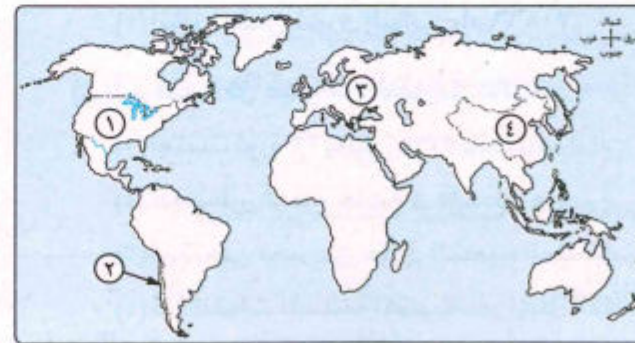
- (١) كيف ساهم دستور ١٩٥٦م في رفع مكانة المرأة المصرية.
- (٢) الإجراءات التي قامت بها الدولة لتدعيم مكانة المرأة المصرية منذ عام ١٩٨١م وحتى الآن.



محافظة شمال سيناء

٢٥

أجب عن الأسئلة الآتية، أولاً الجغرافيا



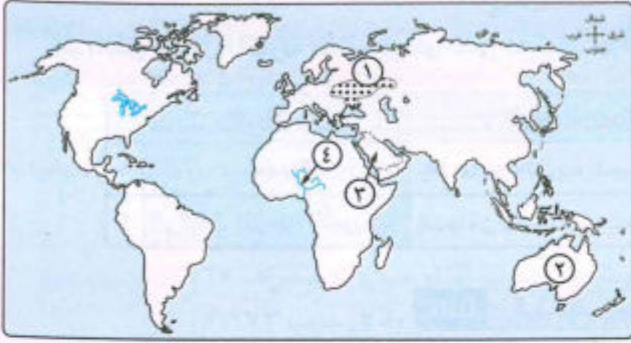
١ (١) أمامك خريطة للعالم،

اكتب مدلول الأرقام التي عليها :

- (١) أولى الدول في الإنتاج العالمى للغاز الطبيعى
- (٢) أهم دول أمريكا الجنوبية إنتاجًا للنحاس
- (٣) أولى قارات العالم إنتاجًا للطاقة النووية
- (٤) أولى دول العالم في إنتاج الشاي



أجب عن الأسئلة الآتية: أولاً الجغرافيا



١ (١) أمامك خريطة للعالم، وضع

مدلول الأرقام التالية :

- (١) إقليم صناعي
- (٢) دولة منتجة للأصواف الناعمة
- (٣) أولى دول العالم إنتاجاً للبتروك
نهر

(ب) اكتب ما تشير إليه كل عبارة مما يأتي :

- (١) يستخرج من عصارة أشجار استوائية ويصنع منه إطارات السيارات.
- (٢) هيئة تمثل التكامل في الجوانب الاقتصادية والصناعية لدول أوروبا.

(ج) صوب ما تحته خط في العبارات الآتية :

- (١) أبوجا العاصمة القديمة وأكبر المدن النيجيرية.
- (٢) تعد الأغنام المصدر الرئيسي للحوم الحمراء لغالبية سكان العالم.
- (٣) يتركز إنتاج الحديد تجارياً في دولة شيلي.
- (٤) يوجد مقر الأمم المتحدة في مدينة واشنطن.

٢ (١) بم تفسر ... ؟

- (١) يتركز ٥٠٪ من سكان الولايات المتحدة الأمريكية في ولاية نيو إنجلند.
- (٢) يُصدر خام البوكسيت من الدول النامية المنتجة له إلى الدول المتقدمة التي تصنع الألومنيوم.

(ب) اختر الإجابة الصحيحة مما بين القوسين :

- (١) يُعد قصب السكر من المحاصيل الأساسية لإنتاج السكر ثم يليه محصول
(البطاطا - البنجر - الكسافا - اليام)
- (٢) ينتشر رعى حيوان الرنة في
(صحراء كلهاري - شمال أفريقيا - صحراء أريزونا - صحارى التندرا)

- (٣) أعلن اليهود قيام دولة إسرائيل عام ١٩٤٨م.
- (٤) تحققت الوحدة العربية بين مصر والعراق عام ١٩٥٨م.

(ب) ما النتائج التي ترتبت على ... ؟ (يكتب بنتيجة واحدة)

- (١) إصدار بريطانيا وعد بلفور عام ١٩١٧م.
- (٢) مؤتمر سان ريمو بإيطاليا في أبريل ١٩٢٠م.
- (٣) إصدار قانون الإصلاح الزراعي الأول في سبتمبر ١٩٥٢م.

(ج) لمن تنسب الأعمال التاريخية الآتية ... ؟

- (١) تولى القيادة العامة الموحدة للقوات المصرية السورية في حرب أكتوبر ١٩٧٣م.
- (٢) دعا كل من السادات وبيجن إلى اجتماعات في كامب ديفيد.
- (٣) تخلى عن الرئاسة وسلم إدارة شؤون البلاد للمجلس الأعلى للقوات المسلحة في فبراير ٢٠١١م.

٤ (١) ماذا كان يحدث إذا ... ؟

- (١) حققت القوات العربية الانتصار في حرب فلسطين عام ١٩٤٨م.
- (٢) لم يتم تأميم شركة قناة السويس يوليو ١٩٥٦م.

(ب) «لقد تعددت الحروب والصراعات بين العرب وإسرائيل».

في ضوء العبارة، أجب عما يأتي :

- (١) موقف الدول العربية من مشروع تقسيم فلسطين عام ١٩٤٧م.
- (٢) اذكر سبباً واحداً لعدوان إسرائيل في ٥ يونيو ١٩٦٧م.
- (٣) دور الولايات المتحدة الأمريكية في دعم إسرائيل أثناء حرب أكتوبر ١٩٧٣م.

(ج) دلل تاريخياً على صحة كل عبارة من العبارات التالية :

- (١) أنهت حرب أكتوبر ١٩٧٣ نظرية الأمن الإسرائيلية.
- (٢) فشل العدوان الثلاثي على مصر عام ١٩٥٦م.
- (٣) للدعم العربي أثناء حرب أكتوبر ١٩٧٣ أثر في تحقيق النصر.
- (٤) فساد النظام الملكي قبل ثورة ١٩٥٢م.

(د) ما رأيك في : مشاركة مصر في مؤتمر مدريد للسلام عام ١٩٩١م ؟

- (٣) من نتائج فشل العدوان الثلاثي على مصر ١٩٥٦م.....
 (تأميم قناة السويس - تنديد الأمم المتحدة بالعدوان - عقد اتفاقية أسلحة مع الاتحاد السوفيتي - انسحاب القوات الإنجليزية والفرنسية من بورسعيد)
- (٤) من أسباب ثورة ٢٥ يناير ٢٠١١م.....
 (فقدان العدالة الاجتماعية - إدخال تعديلات على قانون الطوارئ - إلغاء الدستور والانفراد بالحكم - تجريم أى معارضة فكرية)
- (٥) أعطى مؤتمر سان ريمو أبريل ١٩٢٠م حق الانتداب على فلسطين لدولة.....
 (فرنسا - الولايات المتحدة - بريطانيا - إسبانيا)

(ب) من هو ... ؟

- (١) رئيس أركان حرب القوات المسلحة المصرية أثناء حرب الاستنزاف ١٩٦٧م.
 (٢) تولى القيادة العامة الموحدة للقوات المصرية السورية في حرب ١٩٧٣م.
 (٣) أول من شغلت منصب رئيس اللجنة التشريعية بمجلس الشعب في مصر.
 (٤) رئيس لجنة الوفد المركزية للسيدات ١٩٢٠م.
 (٥) اختاره السادات رئيساً لأركان حرب القوات المسلحة من ١٩٧١م إلى ١٩٧٣م وتم تكريمه بمنح اسمه قلادة النيل العظمى.



محافظة مطروح

٢٧

أجب عن الأسئلة الآتية: أولاً الجغرافيا



١ (١) أمامك خريطة لألمانيا.

اكتب مدلول الأرقام الموجودة عليها:

- (١) البحر.....
 (٢) دولة.....
 (٣) نهر.....
 (٤) جبال.....

- (٣) يأتي ¼ إنتاج الأسماك في العالم من.....
 (البحار والمحيطات - المزارع السمكية - الأنهار - البحيرات العذبة)
- (٤) تعتبر مصر أولى الدول العربية إنتاجاً للكهرباء من.....
 (الرياح - المياه - الشمس - المحطات النووية)

(ج) انقل جدول المقارنة التالي إلى كراسة إجابتك، ثم أكمله بالكلمات المناسبة:

الدولة	الموقع الجغرافي	الظواهر التضاريسية
١ نيچيريا	يحدّها من الغرب المحيط.....	تمتد بها هضبة.....
٢ الولايات المتحدة الأمريكية	يحدّها من ناحية الغرب المحيط.....	تمتد بها جبال..... في الشرق

ثانياً التاريخ

٣ (١) اكتب كلمة (صواب) أمام العبارة الصحيحة، وكلمة (خطأ) أمام العبارة غير الصحيحة:

- (١) ألغيت ثورة يوليو ١٩٥٢م دستور ١٩٢٣م كما حلت الأحزاب السياسية. ()
 (٢) كانت معاهدة السلام بين مصر وإسرائيل بمشاركة ورعاية إسبانيا. ()
 (٣) شكل المجتمع المصرى بكل فئاته ما عرف باللجان الشعبية لمواجهة أعمال السرقة والنهب أثناء عملية الانفلات الأمنى فترة ثورة ٢٥ يناير ٢٠١١م. ()
 (٤) بدأت شرارة حرب أكتوبر ١٩٧٣م وعملياتها العسكرية بسلاح الطيران. ()
 (٥) ارتكب اليهود في فلسطين مذابح بشعة مثل مذبحه يافا. ()

(ب) بم تفسر ... ؟ (١) قيام ثورة ٢٣ يوليو ١٩٥٢م (يُلقب بالثوري)

(٢) إحداه ثغرة الدفرسوار.

(٣) عودة طابا للسيادة المصرية.

(٢) الدستور.

(ج) ما المقصود ب... ؟ (١) الحياة النيابية.

٤ (١) اختر الإجابة الصحيحة مما بين القوسين:

- (١) أصدر مجلس الأمن قرار رقم ٣٣٨ الذى ينص على.....
 (بدأ مباحثات المفاوضات بين مصر وإسرائيل - وقف الرقابة على الصحف - وقف جميع الأعمال الحربية - القضاء على مراكز القوى)
- (٢) نجحت القوات المصرية في هزيمة القوات الإسرائيلية في معركة رأس العش عندما حاولت احتلال مدينة.....
 (بورسعيد - بورفؤاد - السويس - الإسماعيلية)

ثانياً التاريخ

٣ (١) اخترا الإجابة الصحيحة مما بين القوسين :

- (١) إصدار قوانين الإصلاح الزراعى من أهم إنجازات ثورة يوليو ١٩٥٢م في المجال
(السياسى - الاقتصادى - الاجتماعى - الدولى)
(٢) عقد مؤتمر سان ريمو عام ١٩٢٠م في
(فرنسا - إيطاليا - إنجلترا - ألمانيا)
(٣) ساهمت التكنولوجيا المتطورة ومواقع التواصل الاجتماعى في اندلاع ثورة
(٢٥ يناير ٢٠١١م - ٢٣ يوليو ١٩٥٢م - ٣٠ يونيو ٢٠١٣م - ١٩١٩م)
(٤) أصبحت المرأة المصرية عضواً بالبرلمان المصرى لأول مرة بموجب
(دستور ٢٠١٢م - الدستور الدائم ١٩٧١م - دستور ١٩٥٦م - دستور ١٩٣٢م)

(ب) فى عهد من (من حكاه مصر) وقع الحدث التالى ... ؟

- (١) إذاعة البيان الأول لثورة ٢٣ يوليو ١٩٥٢م.
(٢) وضع خطة عبور قناة السويس وتحطيم خط بارليف عام ١٩٧٣م.
(٣) عودة طابا إلى السيادة المصرية.
(٤) إنشاء مجلس شورى النواب عام ١٨٦٦م.

(ج) قارن بين : قرار مجلس الأمن ٢٤٢، وقرار مجلس الأمن رقم ٣٣٨،
من حيث شروط كل منهما (بالتفصيل بشرط واحد)

٤ (١) أكمل ما يلى :

- (١) كان الهدف من قيام ثورة ٢٣ يوليو ١٩٥٢م تخلص مصر من الاحتلال
(٢) نص مشروع تقسيم فلسطين ١٩٤٧م على تدويل منطقة
(٣) تم عقد مؤتمر كامب ديفيد بدعوة من الرئيس الأمريكى
(٤) رئيس المحكمة الدستورية العليا الذى تولى السلطة فى يوليو ٢٠١٣م هو

(ب) اكتب كلمة (صواب) أمام العبارة الصحيحة، وكلمة (خطأ) أمام العبارة غير الصحيحة، مع التصويب :

- (١) نجحت ثورة ٢٣ يوليو ١٩٥٢م فى تحقيق المبدأ الأول لها وهو القضاء على الاستعمار وأعوانه. ()
(٢) استولت إسرائيل على مدينة القدس العربية لأول مرة فى العدوان الثلاثى ١٩٥٦م. ()
(٣) تكونت اللجان الشعبية أثناء ثورة ٢٥ يناير ٢٠١١م لحماية المنشآت ومواجهة أعمال السرقة والنهب. ()
(٤) البرلمان هو المجالس النيابية فى الدولة التى تتولى السلطة التنفيذية. ()

(ج) ما أوجه الاختلاف بين : موقف الولايات المتحدة الأمريكية تجاه إسرائيل فى العدوان الثلاثى

١٩٥٦م وحرب أكتوبر ١٩٧٣م ؟

(ب) اكتب ما تشير إليه كل عبارة من العبارات الآتية :

- (١) زراعة الأرض أكثر من مرة فى العام الواحد بهدف سد حاجة الاستهلاك المحلى.
(٢) منتج حيوانى تعد الهند أكبر دول العالم إنتاجاً له.
(٣) مصدر للطاقة كان يشكل عماد الثورة الصناعية فى أوروبا حتى أوائل القرن الـ ٢٠م.
(٤) إقليم صناعى يضم جزيرة هنشو وجمهورية كوريا ومناطق عديدة بالصين.
(٥) أكثر المدن النيجيرية كثافة فى السكان وتعتبر العاصمة الاقتصادية للبلاد.

(ج) بم تفسر ... ؟

- (١) انخفاض أعداد العاملين بالرعى البدائى فى وسط قارة آسيا.
(٢) أسعار البترول فى زيادة مستمرة.
(٣) قلة عدد السكان فى دلتا نهر النيجر.

٢ (١) صوّب ما تحته خط :

- (١) يزرع قصب السكر فى المناطق المعتدلة الدفيئة.
(٢) يأتي ثلث الإنتاج السمكى فى العالم من مصايد المحيطات.
(٣) تعد موريتانيا أهم الدول الأفريقية المصدرة لحام النحاس.
(٤) تنتشر المستنقعات عند مصبات الأنهار فى ألمانيا جهة الشرق.

(ب) أكمل الجدول الآتى :

أولى القارات المنتجة	الأهمية (بالتفصيل بأهمية واحدة)	الموارد الاقتصادية
.....	١ الذرة
.....	٢ المطاط الطبيعى
.....	٣ البوكسيت
.....	٤ الطاقة النووية

(ج) أجب عما يأتى :

- (١) ما مقترحاتك لزيادة الإنتاج الحيوانى فى مصر ؟
(٢) من وجهة نظرك ما المقومات الطبيعية والبشرية التى يمكن أن تساهم فى قيام التنمية الصناعية فى مصر.

اولا الجغرافيا

اجب عن الأسئلة الآتية:



١ (١) أمامك خريطة للعالم.

وضح مدلول الأرقام
الموضحة عليها:

(١) نوع الزراعة السائدة بسيطة

(٢) أولى الدول إنتاجاً

للبوكسيت... استراليا

(٣) إقليم صناعي لشمال شرق الولايات المتحدة الأمريكية

(٤) أكبر الدول إنتاجاً للألبان... الهند

(ب) «أدى تنوع الموارد الطبيعية إلى اختلاف الأنشطة الاقتصادية في العالم».

لديها تمتلك في ضوء هذه العبارة وضح أسباب ذلك حول المحيط الهادئ (٥) مزارع تربية الأسماك

Mr. Osama Ghobashy

(١) إنتاج الصين لأكثر من ثلث الإنتاج العالمي من الأسماك.

(٢) القيمة الاقتصادية للأبقار في الهند محدودة.

بسبب تحريم الديانة الهندوسية لا كدحوم البحر

(ج) اكتب ما تشير إليه كل عبارة من العبارات الآتية:

(١) العاصمة الاقتصادية لنيجيريا وأكثرها تكديساً بالسكان. لدرجوس

(٢) يستخرج من عصارة أشجار استوائية وتصنع منه إطارات السيارات. المطاط الطبيعي

٢ (١) اختر الإجابة الصحيحة مما بين القوسين:

(١) البرازيل أولى دول العالم إنتاجاً لمحصول.....

(القمح - قصب السكر - القطن - المطاط)

(٢) ينتج ثلثي الإنتاج العالمي للقطن من قارة.....

(أمريكا الشمالية - أفريقيا - آسيا - أوروبا)

(٣) العاصمة السياسية لألمانيا.....

(بريمن - ميونخ - برلين - هامبورج)

(٤) أكبر دول العالم إنتاجاً للبتترول.....

(أستراليا - روسيا - السعودية - الصين)

(٥) تأتي مصر في مقدمة خمس دول عربية تقوم بتوليد الكهرباء من.....

(الرياح - البترول - الغاز الطبيعي - الفحم)

(٦) يحد نيجيريا من الشمال دولة.....

(بنين - تشاد - النيجر - الكاميرون)

بسبب توافر مقومات صناعة ونموه صلبه وفارجه مستوعب الانتاج وخبره علميه وفنيه متطورة
توطن صناعة الألومنيوم في الدول المتقدمة.
قلة عدد القائمين بحرفة الرعي البدائي في شبه الجزيرة العربية
بسبب توطئ البدو لسفك البروك

Mr Osama Ghobashy

الثاني التاريخ

- اكتب كلمة (صواب) أمام العبارة الصحيحة، وكلمة (خطأ) أمام العبارة غير الصحيحة:
- ألغت ثورة يوليو ١٩٥٢م دستور ١٩٢٣م وحلت الأحزاب السياسية. (✓)
 - رفضت هيئة الأمم المتحدة قرار تقسيم فلسطين عام ١٩٤٧م. (X)
 - ساهمت السعودية والجزائر في تقديم الدعم العسكري والمالي لمصر في حرب أكتوبر ١٩٧٣م. (✓)
 - أصدرت بريطانيا وعد بلفور عام ١٩١٧م لتأييد فكرة وطن لليهود في فلسطين. (X)
 - تحقق الانسحاب الإسرائيلي الكامل من سيناء في ٢٥ أبريل ١٩٨٢م. (X)
 - نجحت مصر في حرب فلسطين ١٩٤٨م في تدمير خط بارليف في ست ساعات. (X)

ب) ما النتائج التي ترتبت على ... ؟ أدى ذلك إلى استلاء إسرائيل على ما قطع غزة (١) القدس (٢) الضفة الغربية (٣) لثورة ٢٥ يناير ٢٠١١م. (٤) سيناء (٥) حتى الضفة الغربية العربية (٦) لقتله السويين وحضبه الجولان

أدى ذلك إلى ارتفاع الاسعار (١) تجمع الآف من العاملين من انضمامهم لمعروف (٢) لمن تنسب الأعمال التاريخية الآتية ... ؟ السبالة من الشباب

- تولى رئاسة الحكومة المصرية في فبراير ١٩٤٢م. مصطفى النحاس
- قاد خطة الخداع لصرف أنظار إسرائيل عن التجهيزات الهجومية أثناء حرب أكتوبر ١٩٧٣م. اسماعيل
- رئيس أركان حرب القوات المسلحة الذي أعاد بناء وتنظيم القوات المسلحة في حرب الاستنزاف. فريق عبد الباقى رياض
- رئيس أمريكي ساعد في التوصل إلى اتفاق للسلام بين مصر وإسرائيل في كامب ديفيد. كارتر
- انتخبت رئيسة للجنة الوفد المركزية للسيدات عام ١٩٢٠م. تدى الشراوى
- أنشأ مجلس شورى النواب ديسمبر ١٨٦٦م. كند يو اسماعيل

ب) ما المقصود بالمصطلحين الآتيتين ... ؟

- عدم الانحياز. عدم الانضمام لأي من الكتلتين الشرقية أو الغربية
 - المنظمات الإقليمية. منظمه جمع عدد أمن الدول المستقلة ترتيبا ببعضها بروابط معية
- كم رأيك في: الاستعانة بالقوات المسلحة المصرية أثناء ثورة ٢٥ يناير ٢٠١١م؟
- تم الاستعانة بالقوات المسلحة بهدف
- تأمين وحماية الممتلكات العامة والخاصة
 - حفظ أمن المواطن

(١-٣) حيث أنه الدول المتقدمة حيث الدول التي تطورت فيها الصناعة تطوراً ملحوظاً أخذت بالالتفات العلية وتطبيق الدورات والتجارب العلمية في تطوير وتحسين المنتجات الصاعدة بشكل مستمر

محافظة الجيزة

٢

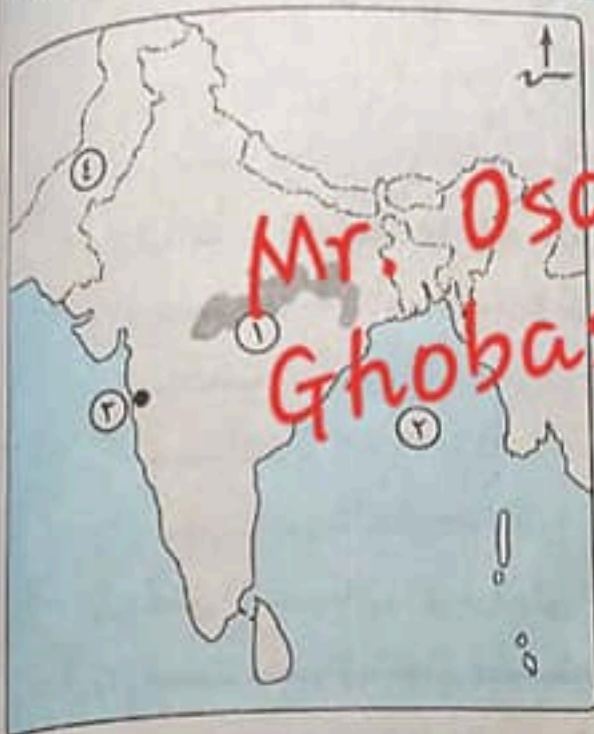


مجاب عنه

الجغرافيا

أولاً

أجب عن الأسئلة الآتية:



١ (١) أمامك خريطة لجمهورية الهند،

اكتب في كراسة الإجابة مدلول

الأرقام الموقعة عليها:

(١) هضبة... الدكن

(٢) خليج... البنغال

(٣) مدينة بومباي

(٤) دولة... باكستان

(ب) اكتب ما تشير إليه العبارات الآتية:

(١) زراعة الأرض أكثر من مرة في العام لإشباع

حاجة السكان. زراعة كثيفة

(٢) يستخرج من عصارة أشجار استوائية وتصنع منه إطارات السيارات. مطاط طبيعي

(٣) أكبر الأقاليم الصناعية في العالم الجديد. إقليم شيكاغو شرق الولايات المتحدة الأمريكية

(ج) بم تفسر...؟ بسبب توافر مقومات الزراعة من وفرة طاقة كهربائية وخبرة علمية وتقنية متطورة وسوق محلية وفارجه يتسوع الإنتاج

(١) توطن صناعة الألومنيوم في الدول المتقدمة.

(٢) قلة عدد السكان في دلتا النيجر. بسبب وجود الغابات الكثيفة والظروف المناخية القاسية

(٣) تختلف الخصائص المناخية للسهول الوسطى في الولايات المتحدة من منطقة إلى أخرى.

٢ (١) اكتب كلمة (صواب) أمام العبارة الصحيحة، وكلمة (خطأ) أمام العبارة غير الصحيحة:

(١) تُعد قارة آسيا أولى قارات العالم إنتاجاً للقمح.

(٢) تشتهر أستراليا بإنتاج الأصواف من أغنام المارينو.

(٣) يتم اصطياد الحيتان من البحار للاستفادة من لحومها وشحومها.

(٤) إنتاج الكهرباء النووية يتم من المحطات النووية السلمية.

(٥) ولاية ألاسكا عبارة عن مجموعة من الجزر تقع وسط المحيط الهادى.

(ب) «اتجه الإنسان بالفطرة نحو إشباع حاجاته من مأكّل ومشرب ومأوى حتى وصل إلى الإنتاج الصناعى المتطور». في ضوء هذه العبارة، وضح ما يلى:

(١) أهمية الإنتاج الزراعى.

(٢) وجه الشبه بين: الفحم، والغاز الطبيعى.

(٣) علاقة الصناعة بتقديم الدول.

(١) -١- يعمل مصدراً رئيسياً لفرد الانسان بجانب الاحماك والحيوانات

-٢- ترتبط به تربية الحيوانات

-٣- يعد مصدراً مهماً للمواد الخام الزراعية اللازمة لبعض الصناعات

(٤) تستخرج من باطن الارض تستخدم في توليد كهرباء حرارية ككل مصادر الطاقة

١٩٠

Mr. Osama Ghobashy

(1) اختر الإجابة الصحيحة مما بين القوسين :

(1) أحد إنجازات ثورة ٢٣ يوليو ١٩٥٢ السياسية
(القضاء على الإقطاع - تحديد ساعات العمل - بناء السد العالي - تأميم شركة قناة السويس)(2) وافقت هيئة الأمم المتحدة عام ١٩٤٧ م على
(تقسيم فلسطين - تقسيم القدس - الانتداب البريطاني على فلسطين - انسحاب اليهود من فلسطين)(3) إحكامًا للحصار الاقتصادي العربي على إسرائيل عام ١٩٦٧ م أغلقت مصر
(خليج السويس - مضيق باب المندب - خليج العقبة - قناة السويس)(4) عادت طابا للسيادة المصرية مرة أخرى عن طريق
(القوات العسكرية - التحكيم الدولي - المبادرات السلمية - المعاهدات الدولية)(5) الجهاز القضائي الأساسي للأمم المتحدة ومقرها لاهاى بهولندا
(الأمانة العامة - الجمعية العامة - محكمة العدل الدولية - منظمة اليونسكو)

(ب) دلل على صحة العبارات الآتية : حيث لم تزود انتخابات مجلس الشعب عام ١٩٥٠ م حتى

(1) حصله الحزب الوطني الحاكم على ٩٧٪ من مقاعد مجلس الشعب وبالتالي حل المجلس
(2) كان للانتخابات البرلمانية عام ١٩٥٠ م دور مهم في قيام ثورة يناير ٢٠١١ م. من أي معارضة وطنية تدير
بقيادة محمد نجيب واستضافت أول مجلة أفريقية على أرضها وتولت مصر رئاسة
(3) لمصر دور أساسي في منظمة الاتحاد الأفريقي. الاتحاد الأفريقي دعمه الثالث في فبراير ١٩٦٠ م.
برئاسة عبد الناصر السيسي(ج) ماذا كان يحدث إذا : فشل مؤتمر كامب ديفيد عام ١٩٧٨ م ؟
كان لم يتم التوصل إلى إطار معاهدة اتفاقية سلام بين مصر وإسرائيل

(٤) (أ) إلى من تنسب الأعمال التاريخية الآتية ... ؟

(1) قام بتأسيس تنظيم الضباط الأحرار. جمال عبد الناصر

(2) قدم مبادرة لوقف إطلاق النار بين مصر وإسرائيل أثناء حرب الاستنزاف. روجر

(3) تولى القيادة العامة الموحدة للقوات المصرية السورية في حرب أكتوبر ١٩٧٣ م. للشيخ أحمد اسماعيل

(4) أنشأ مجلس شورى النواب عام ١٨٦٦ م. الخديو اسماعيل

(5) أول وزيرة للشئون الاجتماعية في مصر عام ١٩٦٢ م حكمت ابوزيد

(ب) «ترجع أهمية فلسطين لبريطانيا إلى أنها تعد خط الدفاع من الجهة الشمالية لمستعمراتها في

الشرق». في ضوء هذه العبارة، وضح ما يلي : ولدها السيد المسيح

(1) أهمية فلسطين في قلب كل عربي. (٣) يوجد بها المسجد الأقصى أول القبلتين وثالث

(2) إجراءات بريطانيا لتنفيذ وعد بلفور. السماح بنهره أمدار كبيره من اليهود من

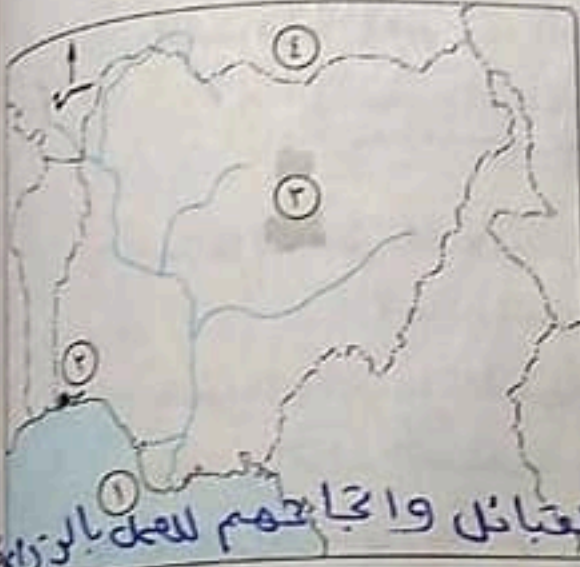
(3) موقف مصر من اتفاقية أوسلو عام ١٩٩٣ م. الشراء إلى اليهود

أيدت مصر الاتفاقية وما حدث من اتفاقيات أخرى تتعلق

بالانسحاب الاسرائيلي من الاراضى المحتلة واقامه

سلطة وطنية فلسطينية

أجب عن الأسئلة الآتية: **أولاً الجغرافيا**



١ (١) أمامك خريطة لدولة نيجيريا،

اكتب مدلول الأرقام التي عليها:

(١) خليج غينيا.

(٢) العاصمة الاقتصادية للبلاد (لاجوس)

(٣) هضبة لانجوس

(٤) دولة النيجر

(ب) بم تفسر...؟ بسبب انتشار التعليم بين القبائل وانجائهم للفكر بالزراعة

والنضام والحد ملك

(١) قل عدد القائمين على حرفة الرعي البدائي في دول وسط آسيا.

فقد مصادر الطاقة في الموقع المحركة لحياة الانسان في جميع الجبال وحقن في المياه

(٢) أهمية مصادر الطاقة. الصمام التي لا غنى عنها لمن مستوى الاستهلاك المنخفض

استخدم الامانة ولدته من مصادر الطاقة القابلة للاستهلاك المنخفض

(٣) أسعار البترول في زيادة مستمرة بسبب زيادة الطلب عليه وتقدر الامانة

بسبب الاعتماد على الطفرة العلمية الحديثة واصبحت الدول الزراعية

(٤) قلة التكاليف والعمالة في الزراعة التجارية.

(ج) صوب ما تحته خط:

(١) أولى دول العالم إنتاجاً للشاي تايلاند. الصين

(٢) الخام الرئيسي لمعدن الألومنيوم النحاس. البوكسيت

(٣) يتم صيدها من المحيطات للاستفادة من لحومها وشحومها السبيط. الحيتان

(٤) أولى قارات العالم إنتاجاً للطاقة النووية أمريكا الشمالية. أوروبا

٢ (١) اختر الإجابة الصحيحة مما بين القوسين :

(١) تتركز زراعة البنجر في بعض دول قارة أوروبا أهمها

(سويسرا - روسيا - فرنسا - فنلندا)

(٢) تسبق عملية التعدين عمليات

(النقل - مد الخطوط الحديدية - البحث - التوزيع)

(٣) تتعدد مراكز الصناعات الحديثة بجنوب شرق آسيا ومنها دولة

(اليابان - ماليزيا - كوريا - الصين)

(١) بسبب ارتفاع مستوى المعيشة زاد معدل الاستهلاك العالمي من
(الدواجن - الأسماك - اللحوم الحمراء - الجلود)
(٥) تأتي في المرتبة الأولى إنتاجاً للذرة قارة

(ب) قارن بين : دولة البرازيل ، ودولة ألمانيا ، حسب المطلوب بالجدول التالي :
(أمريكا الجنوبية - أمريكا الشمالية - أفريقيا - أستراليا)

الدولة	الغابات	أهم المحاصيل	العاصمة
البرازيل	ما تصدره إلى مصر
ألمانيا	غابات نفضية ومحروقة	قمح وشمندر وسكر	برلين

(ج) ما مقترحاتك ل: النهوض بالزراعة في العالم؟
لاستصمام الأرض التكوينية للزراعة
الزراعية
بإستخدام الطرق الحديثة للري بالرى والسقيط

(١) اكتب كلمة (صواب) أمام العبارة الصحيحة ، وكلمة (خطأ) أمام العبارة غير الصحيحة :

الإمرأة المصرية حق الانتخاب والترشح لمجلس الأمة من الإنجازات السياسية لثورة ٢٣ يوليو ١٩٥٢م.

- (X)
- (✓) (٢) مذبحه دير ياسين رد فعل من اليهود على قرار تقسيم فلسطين عام ١٩٤٧م.
- (X) (٣) استجابت إسرائيل لتنفيذ قرار مجلس الأمن رقم ٢٤٢
- (٤) شاركت مصر في مؤتمر مدريد للسلام عام ١٩٩١م على أساس مبدأ الأرض مقابل السلام.
- (✓) (٥) اتسع الدور المصري ليشمل حركات ومنظمات إقليمية لتعزيز التعاون الدولي.
- (✓) (٦) مجلس الأمة أصبح يمثل السلطة التشريعية بموجب دستور ١٩٥٦م.

(ب) ما النتائج التي ترتبت على ... ؟ ارجع ايهج اللوادر محمد نجيب سيطر على جميع

- (١) إذاعة البيان الأول للثورة من الإذاعة المصرية ٢٣ يوليو ١٩٥٢م
- (٢) إقرار إعلان بريطانيا كـ فلسطين وتأييد في لغرضه إقامة وطن قومي
- (٣) إدراك بريطانيا أهمية فلسطين لليهود في فلسطين وإصدار وزير خارجيتها لفظ
- (٤) تهينة وأعداد الجبهة العربية لحرب أكتوبر ١٩٧٣م أدى ذلك إلى تحفته الخلافة
- (٥) إنشاء الجهاز القضائي الأساسي للأمم المتحدة في اسنهر
- (٦) إقرار المحكمة العربية الدولية في النهر فالعقوبات التي تمنعها الدولة
- (٧) إقرار المحكمة العربية الدولية في النهر في القضايا المتعلقة بالدستور والقانون
- (٨) إقرار المحكمة العربية الدولية في النهر في القضايا المتعلقة بالدستور والقانون

(١) حركة أظهرت الدور الرائد لمصر في المجال الدولي بعد ثورة ٢٣ يوليو ١٩٥٢م

حرب فلسطين

(٢) حرب ترتب عليها وضع الضفة الغربية لفلسطين تحت إدارة القوات الأردنية.

(٣) سياسة اقتصادية طبقت في مصر قبل ثورة ٢٥ يناير ٢٠١١ قامت على أساس بيع

مؤسسات الدولة لصالح فئة معينة من رجال الأعمال **بياع الكمخمة**

(٤) أنشأ أول مدرسة لتعليم البنات عام ١٨٧٣م. **الحزب الإسلامي**

(٥) منظمة تهدف إلى تعزيز العمل العربي المشترك في مختلف المجالات. **جامعة الدول العربية**

(٦) تولى رئاسة مصر عقب دستور يناير ٢٠١٤م. **عبد الفتاح السيسي**

هبة ادى حرب الاستنزاف إلى ان قدم **روجر روز جوخا رجبى الولايات المتحدة**
الامريكى مبادرة لوقف إطلاق النار تمهد لحل الصراع بين مصر واسرائيل
(ب) ما العلاقة بين حرب الاستنزاف، والولايات المتحدة؟
(ج) إن اختيار السلام بدلاً من الحرب التي تستنزف كافة الموارد الاقتصادية والبشرية يعود

بالنفع على وطننا العربي».

في ضوء العبارة السابقة، أيد بالأدلة التاريخية صحة ما يلي:

هبة يؤدي إلى الاستقرار الداخلي للبلاد العربية (٢) دفع مجله التسمية الاقتصادية والاصحاحية

(١) السلام يعود بالنفع على وطننا العربي. البنية الأساسية للبلاد (٣) تسخير نفوس الرسول العربية والاصحاحية بدنياً من الدول العربية بما تنتم لها عرسه اتساحة (٤) اقامه مشروعات وحكمة

(٢) قام العرب بإحكام الحصار الاقتصادي على إسرائيل عام ١٩٦٧م. السهم في مصر للثقة

هبة قامت مصر بخلق خليج العقبة في وجه الملاحة الاسرائيلية في مايو ١٩٦٧م

(٣) أهمية الدور الذي قام به المشير أحمد اسماعيل في حرب أكتوبر ١٩٧٣م.

قاد خطة الكونغرس لصفوف انظار اسرائيل عن التحركات الهجومية

لوقف التسلسل والتضخم على اليمن والسورية

محافظة القليوبية



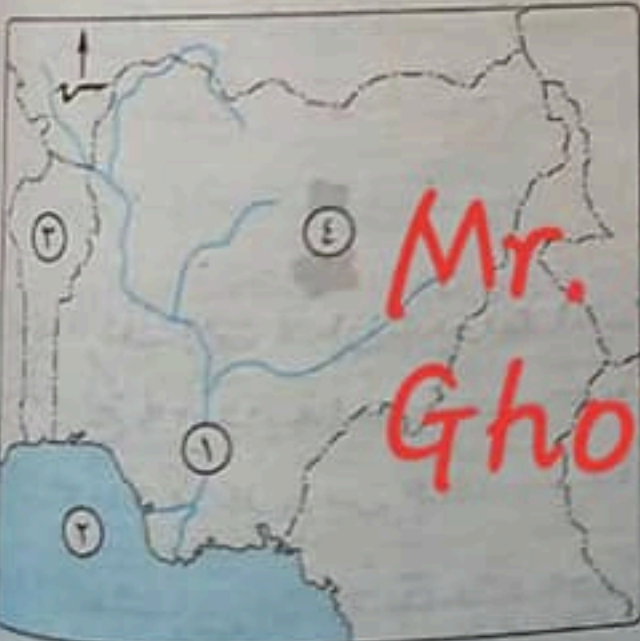
مجاب عنه

أجب عن الأسئلة الآتية: أولاً الجغرافيا

١ (١) أمامك خريطة لدولة نيجيريا،

اكتب ما تدل عليه الأرقام

الموضحة عليها:



(١) نهر... النيجر **Mr. Osama Ghobashy**

(٢) خليج... بنها

(٣) دولة... بنين

(٤) هضبة... جوبو

Ghobashy

سانريمو

- (٢) أعطى مؤتمر **باندوج** لبريطانيا حق الانتداب على فلسطين
- (٣) من المجالس الاستشارية في عهد الاحتلال البريطاني مجلس **المشورة** . **سوري القرائن**
- (٤) تولت مصر رئاسة الاتحاد الأفريقي للمرة **الثانية** في فبراير ٢٠١٩م لثلاث

- (ب) **دلل تاريخياً على صحة كل عبارة من العبارات الآتية** في مجالس إدارة الشركات والمصارف
حيث قامت ببيع سندات المصارف مع الشركات العاملة في مجال
(١) اهتمت ثورة ٢٣ يوليو ١٩٥٢م بالعمال . مع **مسح** نسبة لهم من الازدياح ١٩٤٩م
اجتماعات ومعارفات للعمال والنوادي
(٢) كان رد فعل بريطانيا بعد قرار تقسيم فلسطين عام ١٩٤٧م لصالح اليهود . حيث امتنعت
بريطانيا عن التوسط وانسدت أساليبها وقاتلتها وقاتلها
(٣) أنهت حرب أكتوبر ١٩٧٣م نظرية الأمن الإسرائيلية . ١٤ مايو ١٩٦٨م وعقب خروج
حيث إسمارت الحظوظ الدفاعية والتحصينات القوية لإسرائيل
(٤) لجأت مصر إلى الطرق السلمية لاستعادة طابا .
حيث لجأت مصر للتحكيم الدولي لحل مشكلة طابا بعد حدوث خلاف بينها وبين إسرائيل
(ج) **ماذا كان يحدث إذا ... ؟** تعيين علامات الحدود فاعدرت حكمها لصالح مصر
كانت لم تشترك فرنسا في العدوان الثلاثي على مصر ١٩٥٦م
(١) لم تؤيد مصر حركات التحرر الوطني في الجزائر .

(٢) لم تشكل اللجان الشعبية أثناء ثورة ٢٥ يناير ٢٠١١م . كان لم يتم حماية المنشآت
والمناطق ولا سمرت أعمال السرقة والحرق والترويع

٤ (١) في عهد أي من حكام مصر تم تحقيق الآتي ... ؟

- (١) تأسيس تنظيم الضباط الأحرار . **الملك فاروق**
- (٢) تدمير المدمرة الإسرائيلية إيلات بصواريخ البحرية المصرية في أكتوبر ١٩٦٧م . **جمال عبد الناصر**
- (٣) القضاء على مراكز القوى لإزالة آثاره يونيو ١٩٦٧م . **محمد انور السادات**
- (٤) التطبيق غير السليم لسياسة الخصخصة وبيع مؤسسات الدولة بأقل من سعرها
الحقيقي . محمد حسني مبارك

(ب) **بم تفسر ... ؟** بهدف وقف إطلاق النار وحل الصراع العربي / الإسرائيلي
بالمطرف السليم

- (١) تقديم الولايات المتحدة الأمريكية لمبادرة روجرز
- (٢) قيام الرئيس السادات بزيارة إسرائيل عام ١٩٧٧م . **لإنهاء الصراع العربي والإسرائيلي**
- (٣) تعد الأمم المتحدة منظمة دولية . **لأن الاسم المتحدة تضم في عضويتها عدد من الدول المستقلة** ولأن لم ترتبط ببعضها
بم تفسر ... ؟ بروابط معينة
- (٤) صدور دستور ١٩٥٦م بالنسبة للمرأة المصرية . **بالبرلمان**

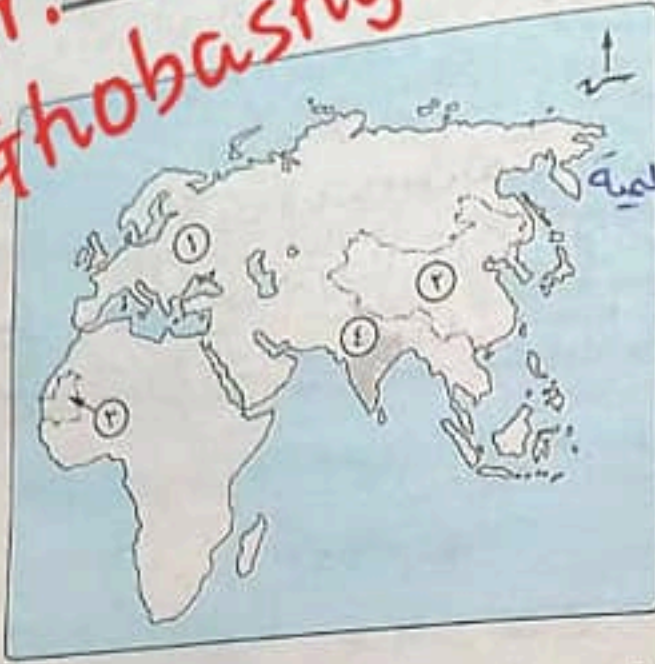
(٢) تعاون منظمة اليونسكو مع مصر . **أدى ذلك إلى قيام منظمة اليونسكو ببناء**
معابد ابوسمبل ١٩٢٩م | أحياء مكنه الاكندرية

(د) **ما رأيك في : تحقيق السلام بالنسبة لحركة السياحة في مصر ؟**
حيث ان تحقيق السلام يعمل على تنشيط حركة السياحة وبالتالي
يزيد الدخل القومي وتتوفر العمالة الأجنبية

اجب عن الأسئلة الآتية:

أولاً الجغرافيا

Mr. Osama
Ghobashy



الآن تجارية وعلمية

- (1) نوع الزراعة السائدة ...
- (2) أولى دول العالم إنتاجاً للقمح البين
- (3) دولة نامية مصدرة للحديد. موريتانيا
- (4) هضبة ... الديكن

(ب) اختر الإجابة الصحيحة مما بين القوسين :

(1) تتشابه الزراعة البدائية والزراعة الكثيفة في

- (ضيق المساحات المزروعة وتباعدها - احتياجها لأيدي عاملة وفيرة - توفير الاحتياجات المحلية - يعمل بها عدد قليل من السكان)
- (2) هناك علاقة بين عدد القائمين على حرفة الرعي البدائي في آسيا و.....
- (الزراعة والتجارة - التعدين والصيد - الصناعة والتجارة - التعليم والبترو)
- (3) احتل المصدر الأول والرئيسي للطاقة المستخدمة في العالم حتى أوائل القرن العشرين.
- (4) أولى الدول الأفريقية إنتاجاً للأرز.....

(ج) صوب ما تحته خط في العبارات الآتية :

- (1) تعد الولايات المتحدة الأمريكية أكبر دول العالم إنتاجاً للسكر. البرازيل
- (2) تشتهر إندونيسيا بإنتاج الأصواف من أغنام المارينو. أستراليا
- (3) يستخدم الغاز الطبيعي في إنتاج الكهرباء المائية. الحرارية - المداري والاستراتيجي

(د) ما العلاقة بين ... ؟

(1) وقوع أجزاء من آسيا ضمن مناخ الإقليم الاستوائي والمداري، والإنتاج الزراعي.

(2) المقومات البشرية، والصناعة حيث تعد المقومات الشريفة من عناصر قيام العلم وتطورها

(3) مصر، وألمانيا في النواحي الاقتصادية.

حيث ساهم في نموها الاقتصادي من النواحي الاقتصادية
وتقدم مصر إلى ألمانيا بتزويد وغاز طبيعي ومدارس
وتسرد مصر من ألمانيا هناك كياوي وسيارات والآلات

(3) بحث عن دورها في توفير الغذاء في العالم في تربية الأبقار

أما المحاصيل الأولى التي تروى في تربية الأغنام وفي إنتاج اللحم ولكن
 في الدول الأولى دول العالم في تربية الأغنام



(1) تفرق قارة آسيا في إنتاج الثروة الحيوانية. أدوات الزراعة الحديثة والاشلاقات
 ساعدت بعض العوامل البشرية على تطور حرفة الصيد في العالم.
 بعد الثورة أهم مصادر الطاقة في الوقت الحاضر هي
 والوقود الأحفوري والرياح والشمس. وتنتج مع الغاز الطبيعي
 اختلاف توزيع السكان في نيجيريا. وتنتج مع الغاز الطبيعي
 في العراق والكويت والقطر والولايات المتحدة الأمريكية
 في العراق والكويت والقطر والولايات المتحدة الأمريكية
 في العراق والكويت والقطر والولايات المتحدة الأمريكية
 في العراق والكويت والقطر والولايات المتحدة الأمريكية

(ج) أكمل فراغات الجدول التالي، ثم انقل الجدول في كراسة الإجابة :

الموقع الجغرافي	الهند	نيجيريا	ألمانيا
يحدّها من الشرق	يحدّها من الجنوب	يحدّها من الشمال دولة	السعودية واليمن
العاصمة التجارية	العاصمة الاقتصادية	العاصمة السياسية	برلين
بومباي	لاجوس	برلين	

Mr. Osama Ghobashy

ثانياً التاريخ

3 (1) اكتب كلمة (صواب) أمام العبارة الصحيحة، وكلمة (خطأ) أمام العبارة غير الصحيحة، مع التصويب:

- (1) نجحت ثورة 23 يوليو 1952م في تحقيق بعض أهدافها. (✓)
- (2) أعلنت مصر وقفها إلى جانب سوريا بعد التهديدات الإسرائيلية لها في عام 1967م. (✓)
- (3) تدمير المدمرة إيلات الإسرائيلية من أهم ملامح حرب 6 أكتوبر عام 1973م. (X) *حرب الاستنزاف*
- (4) تشكلت لجنة الوفد المركزية للسيدات عام 1920م برئاسة هدى شعراوي. (✓)
- (5) تم التوصل إلى إطار سلام بين مصر وإسرائيل في مؤتمر مدريد للسلام عام 1978م. (X) *كامب ديفيد*

(ب) ما النتائج التي ترتبت على ... ؟

- (1) الصراعات بين الأحزاب السياسية قبل ثورة 23 يوليو 1952م
 - (2) حرب الاستنزاف بين مصر وإسرائيل فيما بين عامي 1969م، 1970م
 - (3) استجابة الخديو إسماعيل لدعوة رفاة الطهطاوي بتعليم البنات.
- أدى ذلك إلى قيام الخديو إسماعيل بانشاء أول مدرسة لتعليم البنات (السنة)

(ج) ما العلاقة بين ... ؟

مؤتمر سان ريمو بإيطاليا عام ١٩٢٠م وقيام دولة إسرائيل على أرض فلسطين، وطن قومي لليهود
 (١) مؤتمر سان ريمو بإيطاليا عام ١٩٢٠م وقيام دولة إسرائيل على أرض فلسطين، وطن قومي لليهود
 (٢) حركات التحرر الوطني في الجزائر والعدوان الثلاثي على مصر عام ١٩٥٦م. من فلسطين
 (٣) مؤتمر كامب ديفيد - مؤتمر كامب ديفيد - معاهدة السلام عام ١٩٧٩م -
 (٤) مجلس شورى النواب - مجلس شورى القوانين - الجمعية التشريعية - مجلس الشيوخ

(١) اخترا الإجابة الصحيحة مما بين القوسين :

(١) تم إذاعة البيان الأول لثورة ٢٣ يوليو ١٩٥٢م بصوت

(جمال عبد الناصر - محمد أنور السادات - محمد نجيب - حسنى مبارك)

(٢) انسحاب إسرائيل الكامل من سيناء من أهم نصوص

(اتفاقية أوسلو - مؤتمر كامب ديفيد - معاهدة السلام عام ١٩٧٩م -
 قرار مجلس الأمن رقم ٢٤٢١)

قرار مجلس الأمن رقم ٢٤٢١

(٣) من المجالس النيابية التي أنشئت في عهد الخديو إسماعيل

(مجلس شورى النواب - مجلس شورى القوانين - الجمعية التشريعية - مجلس الشيوخ)

(٤) يعد أعلى سلطة داخل جامعة الدول العربية

(الأمانة العامة - اللجان الدائمة - الأمين العام - مجلس الجامعة)

(ب) يفسر ... ؟ رفقاً إسرائيل بكل نهاءات السلام بالارتعاب من الاراضى

التي استلبها بموجب قرار مجلس الأمن وسكهمهم مصر وحرب
 (١) اندلاع حرب السادس من أكتوبر عام ١٩٧٣م على ازالة اثار كسبه ١١٦٧ واسترداد الاراضى
 مسنوع من حفظ السلام والامن الدوليين وهدد سلطه قانونية على
 (٢) يعد مجلس الأمن من أهم أجهزة الأمم المتحدة. حكوماته من الامطار من
 الامم المتحدة

(٣) لمنظمات المجتمع المدني دور هام في تقديم الخدمات الاجتماعية.
 لدورها قوض الناع الذي يحقق الوحدة الوطنية من خلال توعيه

(ج) اكتب المصطلح المناسب لكل عبارة مما يأتي: الافراد بيند العنف

حركة أسستها مصر والهند ويوغوسلافيا وعقد أول مؤتمر لها في باندونج عام ١٩٥٥م. الرضا
 حركة دم

(٢) منظمة عالمية متخصصة في المجال الزراعى للقضاء على الجوع ومساعدة البلدان

النامية. منظمة الاغذية والزراعة

(٣) دستور جديد تم إصداره بعد ثورة ٣٠ يونيو ٢٠١٣م تطلع فيه الشعب إلى تحقيق

طموحاته في تطبيق الديمقراطية وإقامة العدالة الاجتماعية. دستور ٢٠١٤

Mr. Osama

Ghobashy



أولاً الجغرافيا

أجب عن الأسئلة الآتية،

١ (١) أمامك خريطة لدولة نيجيريا،

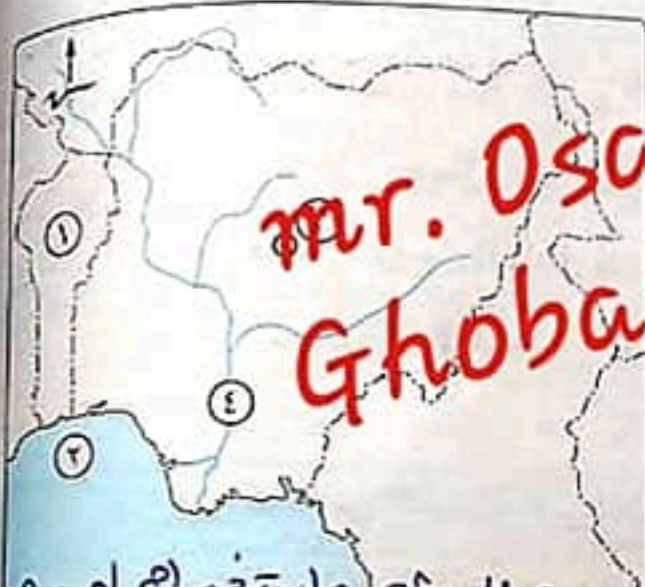
اكتب ما تدل عليه الأرقام :

(١) دولة ... بنين

(٢) خليج ... غنيا

(٣) مدينة ... أبوجا

(٤) نهر ... النيجر



Mr. Osama
Ghobashy

(ب) بم تفسر ... ؟ بسبب الاعتماد على الطرق العلمية الحديثة واستفهام المهندسين

(١) قلة التكاليف والعمالة في الزراعة التجارية والعلمية. الأدوات الزراعية

(٢) توطن صناعة الألومنيوم في الدول المتقدمة. بسبب توافر مقومات صناعاتها من طاقة كهربائية ووفرة علمية وفنية متطورة ووفرة محلية وخارجية مستوعبة الإنتاج حيث تفتقر تلك الدول لموادها الأولية مما أدى إلى قيامها بتصديرها إلى دول أخرى كإيطاليا والولايات المتحدة الأمريكية.

(١) البترول، والرعي البدائي. العرب والأتراك في الشام

(٢) الفحم، والثورة الصناعية.

مستوى نصيب الفرد من الناتج المحلي الإجمالي في أوروبا الوسطى والشمالية (١٨٠٠٠ دولاراً)

٢ (١) اختر الإجابة الصحيحة مما بين القوسين :

(١) تقع المراعي الدائمة في من هضبة البرازيل.

(الشرق - الغرب - الشمال - الجنوب)

(٢) يتركز نصف سكان الولايات المتحدة الأمريكية في إقليم

(نيو إنجلاند - برمنجهام - نيويورك - سان فرانسيسكو)

(٣) تأتي قارة أمريكا الشمالية في المرتبة الأولى إنتاجاً لمحصول

(القمح - الذرة - قصب السكر - الشاي)

(٤) تحتل المركز الأول في تربية الدواجن دولة

(الولايات المتحدة الأمريكية - الصين - الهند - روسيا)

(٥) تُعد أولى دول العالم إنتاجاً للبترول دولة

(الولايات المتحدة الأمريكية - روسيا - فرنسا - السعودية)

(ب) «تركز الصناعة في الدول المتقدمة والقليل من الدول النامية التي ارتفعت بمستوى شعوبها واقتربت من مستوى الدول المتقدمة». في ضوء العبارة السابقة:

(1) حدد: اثنين من الأقاليم الصناعية الرئيسية في العالم. **وأفكيم غرب ووسط أوروبا**

(2) قارن بين:

علاقة مصر وكل من: البرازيل، والولايات المتحدة الأمريكية، من حيث الواردات.

ثانياً التاريخ

Mr. Osama Ghobashy

(1) صوب ما تحته خط:

(1) عقد مؤتمر باندونج **بأستراليا** في عام 1955م. **إندونيسيا**

(2) امتنعت **هيئة الأمم المتحدة** عن التصويت على قرار تقسيم فلسطين عام 1947م. **بريطانيا**

(3) يُعرف خط الدفاع الإسرائيلي في هضبة الجولان باسم **خط بارليف**. **حم آكون**

(4) الأرض مقابل السلام مبدأ دعا إليه مؤتمر **كامب ديفيد** عام 1991م. **ملايكا للسلام**

(5) نص دستور 1956م على أن السلطة التشريعية في يد مجلس منتخب هو مجلس **الشيوخ**.

(ب) يم تفسر...؟ **حسب ما قامت قوات الامارات البريهاني في فبراير 1964م**

واختيار الملك فاروق **تعيين معظم النحاس رئيساً للحكومة** ومنذ اهد
(1) لم تؤد معاهدة 1936م الاستقلال الحقيقي للبلاد. **تخل في الشؤون الداخلية لمصر**

(2) تقديم الولايات المتحدة الأمريكية لمبادرة روجرز. **بهدف وقف إطلاق النار وهدنة**

النزاع **الصراع العربي / الإسرائيلي** **سليماً أثناء حرب الاستنزاف**

(ج) ما العلاقة بين: الاستعمار الفرنسي للجزائر، والعدوان الثلاثي على مصر عام 1956م؟

تبعاً لمعسكراته **مهر لحركات التحرر الوطني (من الجزائر) التي اشتركت في من الصراع العربي**

(1) إلى من تنسب الأعمال الآتية...؟

(1) تسلم السلطة بعد عزل محمد مرسي عام 2013م. **عد لن منصور**

(2) أول وزيرة للشئون الاجتماعية عام 1962م. **حكمت ابو زيد**

(3) المنظمة الوحيدة المتخصصة في مجال الطفولة **منظمة اليونيسف**

(4) رئيس هيئة عمليات القوات المسلحة عام 1972م ثم رئيساً لأركان القوات المسلحة في

ديسمبر 1973م. **الفريق عبد الغنى الجحشى**

(5) أول رئيس للجمهورية المصرية. **محمد نجيب**

(أ) أدى ذلك إلى ارتفاع الاسعار وفتح الآف العاملين بعد خروجهم
منهم القاعد الميكروا انضمامهم لعنفاء ايطالاف من
الشباب من وهنات امتحانها



(ب) ما النتائج التي ترتبت على ... ؟

(١) التطبيق غير السليم لسياسة الخصخصة وبيع مؤسسات الدولة في مصر قبل ثورة

٢٥ يناير ٢٠١١ م.

(٢) عدوان ٥ يونيه ١٩٦٧ م. أدى ذلك إلى استيلاء إسرائيل على قطاع غزة
وشبه جزيرة سيناء ومنطقة القناة السويسية وضمها لجللان وضمها العربية لشبه الجزيرة
ومدينة القدس العربية

(ج) ما رأيك في : استخدام الدول العربية البترول كسلاح في حرب أكتوبر ١٩٧٣ م ؟
هذه هي ان استخدام البترول كسلاح سياسي في كنفوق بصر لتوزيع وز لتعتمد ما أحمدوز اراد
النفط العربي التي اجتماعهم بالكويت قراراً فني على خفض إنتاج البترول حظر الاجلالت

محافظة الغربية

٧

أولاً الجغرافيا

أجب عن الأسئلة الآتية:

١ (١) أمامك خريطة صماء للعالم،

اكتب مدلول الأرقام الموجودة

عليها:

(١) أولى دول العالم في إنتاج القمح

دولة ... للصين

(٢) ثاني دول العالم في إنتاج الألبان

دولة ... الولايات المتحدة الأمريكية

(٣) أولى دول العالم في إنتاج السكر دولة ... البرازيل

(٤) ثاني قارات العالم في إنتاج المطاط قارة ... أفريقيا

(ب) اختر الإجابة الصحيحة مما بين القوسين :

(١) تتركز الدول الرئيسية في إنتاج البنجر في قارتي

(أوروبا وأمريكا الشمالية - آسيا وأفريقيا - أمريكا الجنوبية وآسيا - أستراليا وأفريقيا)

(٢) أولى الدول المنتجة للنحاس في العالم توجد في غرب قارة

(أمريكا الجنوبية - أوروبا - أستراليا - أفريقيا)

(٣) يزرع في وسط وشمال نيجيريا محاصيل منها

(الكافو - الأرز - المطاط - القمح)

(٤) من الدول الرئيسية في تصدير الأسماك عالمياً دولة

(المكسيك - الإمارات - النرويج - كينيا)



mr. Osama Ghobashy

(ج) بم تفسر...؟ حيث انه يرتبم بالشمه الاقتصاديه والاجتماعيه والعلاقات

- (1) يعد البترول أهم مصادر الطاقة في العالم ^{بسبب مساحتها الواسعة ووجودها} مناطق خالية من السكان مثل صحراء الامازون
- (2) تعاني البرازيل من قلة عدد السكان رغم انها أكبر دول أمريكا الجنوبية سكاناً.
- (3) قلة السكان في دلتا نهر النيجر.
- (4) تنوع مناخ الولايات المتحدة واختلافه من منطقة لأخرى.

Mr. Osama

Ghobashy

بسبب اتساع مساحة الولايات وتنوع تضاريسها

(1) اكتب كلمة (صواب) أمام العبارة الصحيحة، وكلمة (خطأ) أمام العبارة غير الصحيحة.

مع التصويب: قرّنه عن

- (1) تتساوى الدول المتقدمة مع الدول النامية في معدل استهلاك المعادن. (X)
- (2) لا يكفي إنتاج الألبان حاجة السكان في مصر. (✓)
- (3) تنتشر الأعشاب الصحراوية بصحراء أريزونا حيث غزارة الأمطار. (X)
- (4) تعرف الزراعة الكثيفة بالزراعة التجارية والعلمية وتهدف للإنتاج التجاري الضخم. (X)
- (5) تنمو حشائش السافانا فوق هضبة البرازيل. (✓)
- (6) يستخدم البترول والغاز الطبيعي والشلالات في إنتاج الكهرباء الحرارية. فحم (X)

(ب) «تشابك العلاقات الدولية بين دول العالم ما بين تعاون وتحالف في جميع المجالات وفقاً

- لمصالح كل منهم». في ضوء العبارة السابقة، أجب عما يلي ومعايير المناهج
- (1) حيث تجد ربح مصر لنينجيا: أحمد ومعدن نقية والملاك علي ومعايير المناهج
 - (2) دليل جغرافياً على: توجد علاقة قوية بين مصر ونيجيريا والمطارات بيننا وسور مصر مناسير السلع الزراعية والقمم المحبوبة الزم
 - (3) ما النتائج المترتبة على: قيام الوحدة الاقتصادية الأوروبية؟
 - (4) ما المقصود ب: النشاط التعديني؟
 - (5) استفراج المعادن وصهار الطاقة من ضم رينرول وغاز طبيعي من باطن المقشر الارضية والنفط

(1) اختر الإجابة الصحيحة مما بين القوسين :

- (1) يرى بعض المؤرخين أن ثورة ٢٣ يوليو ١٩٥٢م تكتسب أهمية عالمية لارتباطها ب.....
- (2) استقلال الدول العربية - حركة عدم الانحياز - القضاء على الإقطاع - إلغاء دستور ١٩٢٣م
- (3) تولى رئاسة مصر بعد وفاة جمال عبد الناصر الرئيس.....
- (4) عدلي منصور - محمد أنور السادات - حسنى مبارك - محمد نجيب
- (5) من أهم الاستعدادات المصرية لحرب أكتوبر ١٩٧٣م على المستوى العربي.....
- (6) تصفية الخلافات - إصدار الدستور الدائم - رفع الرقابة على الصحف - إلغاء الحراسات
- (7) أعلى سلطة داخل الهيكل التنظيمي لجامعة الدول العربية.....
- (8) مجلس الأمن - الأمانة العامة - اللجان الدائمة - مجلس الجامعة



(٥) ساهمت المرأة المصرية في الدفاع عن حقوقها ومكانتها في بداية القرن العشرين عن طريق (المجلس القومي للمرأة - المجالس النيابية - الصحافة النسائية - التحاقها بالجامعة المصرية)

(٦) اختاره الرئيس السادات رئيساً لأركان حرب القوات المسلحة المصرية عام ١٩٧١م
 المشير أحمد إسماعيل - الفريق الجمسى - الفريق سعد الدين الشاذلي -
 الفريق أول عبد المنعم رياض

Mr. Osama Ghobashy

(ب) يم تفسر ...؟ نسبة العقوف العسكري الإسرائيلي وخاصة سلاح الطيران

- استفزاز إسرائيل لعنصرها فيه ضاحك بعد ان هورت اجهزه التجسس الاطريكة الملقب العمريه
 (١) هزيمة الدول العربية في عدوان ٥ يونيو ١٩٦٧م. تدعيم الولايات المتحدة عبر يدها لاسرائيل
 (٢) طلب إسرائيل المساعدة من الولايات المتحدة الأمريكية أثناء حرب أكتوبر ١٩٧٣م.
 (٣) سوء الأوضاع الاجتماعية من أسباب ثورة ٢٥ يناير ٢٠١١م.
 (٤) إنشاء مجلس الوصاية كأحد الأجهزة الرئيسية للأمم المتحدة.
 لرعاية مصالح شعوب الدول التي كانت مستعمرات (معلنه) والدفع بديها نحو الحكم الذاتي والاسلام

٤ (١) اكتب كلمة (صواب) أمام العبارة الصحيحة، وكلمة (خطأ) أمام العبارة غير الصحيحة.

مع التصويب :

(١) انقلبت موازين القوة العسكرية في حرب فلسطين عام ١٩٤٨م بعد الهدنة لصالح إسرائيل.

- (٢) أعطى مؤتمر سان ريمو عام ١٩٢٠م فرنسا حق الانتداب على فلسطين. **بريطانيا** (X)
 (٣) تأميم شركة قناة السويس من إنجازات ثورة ٢٣ يوليو ١٩٥٢م في المجال الاقتصادي **السياسي**

(٤) عادت طابا إلى مصر بمقتضى هيئة التحكيم بمحكمة العدل الدولية. (✓)

(٥) يقصد بالمرحلة الأولى من إعادة بناء القوات المسلحة حرب الاستنزاف والمواجهة. (X)
 (٦) من أهم مؤتمرات القمة الإسلامية التي شاركت فيها مصر المؤتمر الذي عُقد بمدينة بغداد سبتمبر ١٩٦٩م. **الرباط بالمغرب**

(ب) «عانت مصر من ويلات الحروب على مدار القرن العشرين واستنزفت الكثير من طاقاتها البشرية والمادية...». في ضوء ذلك، أجب:

- قدم وتقويم أسس العقيدة القتالية / انقاذ اسماوره الجيش الاسرائيلي التي لا تقهر
 (١) ما الدروس المستفادة من: حرب أكتوبر ١٩٧٣م. «يكتفى باثنين»
 (٢) دلت تاريخياً: لتحقيق السلام مزايا تعود بالنفع على مصر والعرب. «يكتفى باثنين». (الادب)
 (٣) بما العلاقة بين: حركات التحرر الوطني في الجزائر، والعدوان الثلاثي على مصر عام ١٩٥٦م؟

هيئات مساندة مصر بحركات التحرر الوطني في الجزائر إلى استرجاعها من العدوان الثلاثي على مصر عام ١٩٥٦م

الضم	كهرباء حرارية
كهرباء حرارية	كهرباء كهرومائية
الضمان الوحدات الهندية	الضمان الوحدات الهندية

امتحانات المحافظات

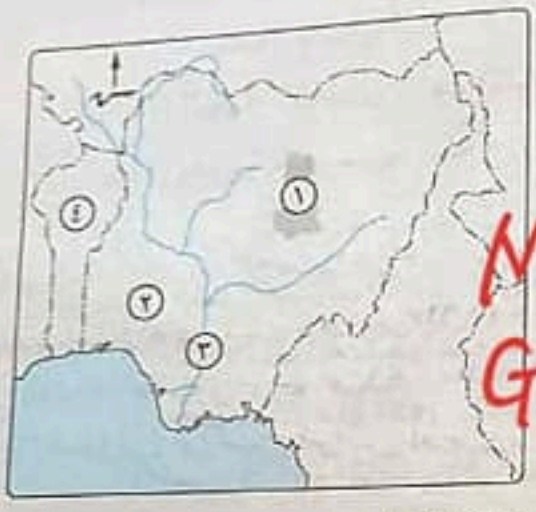
محافظة الدقهلية



مجاب عنه

أولاً الجغرافيا

أجب عن الأسئلة الآتية:



١) أمامك خريطة لدولة نيجيريا
اكتب ما تشير إليه الأرقام:

(١) هضبة جوبين

(٢) مدينة... إيبادان

(٣) نهر... النيجر

(٤) دولة... بنين

Mr. Osama Ghobashy

(ب) «احتياج الإنسان للغذاء وراء تنوع الأنشطة الاقتصادية في العالم»
في ضوء العبارة السابقة، وضح: **يتم إنتاج السكر من ١ - قصب السكر وهو محصول مدارى**

- (١) العلاقة بين المناخ، وإنتاج السكر. **العلاقة بين المناخ، وإنتاج السكر. المصنوع منه قصب السكر. المصنوع منه قصب السكر. المصنوع منه قصب السكر.**
- (٢) المقصود بالزراعة الكثيفة وما خصائصها. **عامله وحده. ويسمى بخصق الحقول التي تسمى بجمع زراعية. تدرج أكثر من مرة باكثر مما تحصل**
- (٣) عوامل تفوق الولايات المتحدة الأمريكية في صناعة الألومنيوم. **ببعض توافر معومات هنا عن من صناعة كهربية و خبره علمية وثقته مطوره وسوق مديه وفارصه**
- (٤) الحلول التي استخدمتها الهند لتواجه المشكلة السكانية. **تستوعب الإنتاج**

٢) **ما النتائج المترتبة على...** **هبت وادتهها سياسيات كتنويه مختلفه عن طريقه الاهتمام بالعلم وتطوير المحبته العلمى**

- (١) العلاقة بين ألمانيا ومصر قديمة ومميزة. **تتميز العلاقات ثقافية وعلمية تتمثل من**
 - (٢) تمتع الصين بسواحل طويلة على البحار والمحيطات. **تتمتع الصين بسواحل طويلة على البحار والمحيطات. تولى الحكومة**
 - (٣) الوحدة الاقتصادية الأوروبية. **الوحدة الاقتصادية الأوروبية. من الاتحاد**
 - (٤) معرفة الإنسان للغاز الطبيعي. **معرفة الإنسان للغاز الطبيعي. خرسياً وتدعيمها من جانب قصب الأستثمار الدوروسى**
- (ب) **قارن بين: الضم، وحركة المد والجزر، من حيث:**
- * أنواع الكهرباء المتولدة.

أجراً ما مقترحاتك من أجل: **تحقيق التنمية الصناعية في مصر؟ التوسع من استناد المصانع فتح اجواقه لمصر بالخارج الاهتمام بالتعليم وتطوير الدول**

(د) في أي الأقاليم الصناعية تقع كل من ...؟

- | | | | |
|--------------------------|------------------|-------------|------------------|
| (١) ماليزيا. | (٢) جزيرة هانشو. | (٣) موسكو. | (٤) بريطانيا. |
| أقليم مراكز صناعية حديثة | أقليم شرق آسيا | أقليم روسيا | أقليم غرب أوروبا |

Mr. Osama Ghobashy

التاريخ



٣ (١) أكمل العبارات الآتية بكلمات مناسبة :

- (١) كانت معاهدة السلام بين مصر وإسرائيل عام ١٩٧٩ م برعاية الأمريكية
- (٢) سعت بريطانيا لتأييد فكرة إنشاء وطن قومي لليهود في فلسطين فأصدرت
- (٣) الجهاز القضائي للأمم المتحدة يتمثل في... محكمة العدل الدولية
- (٤) يعتبر الشهيد عبد المنعم رياض من شهداء حرب... الاستنزاف

تصريح بوقف إطلاق النار

(ب) أيد تاريخياً صحة العبارات الآتية :

- (١) فشل العدوان الثلاثي على مصر ١٩٥٦ م كان له نتائج عديدة. انسحاب القوات الإسرائيلية من قطاع غزة وسيناء ١٩٦٧ ووضع جدار كوارم كجدار كوبيه منهم وارزالت الدول العربية المنظمة حيث قاها وبعثها وبتأمن الممتلكات العامة والخاصة وحفظ أمن المواطنين
- (٢) تم الاستعانة بالقوات المسلحة أثناء ثورة ٢٥ يناير ٢٠١١ م. إسرائيل وا طعماء في السجن
- (٣) حققت المرحلة الأولى لإعادة بناء القوات المسلحة (الضمود والتصدى) أهدافها
- (٤) اختلاف آراء المؤرخين في أهمية ثورة ٢٣ يوليو ١٩٥٢ م. ايلات بالصواريخ عام أكتوبر ١٩٦٧ م

٤ (١) اختر الإجابة الصحيحة مما بين القوسين :

- (١) ساعدت الولايات المتحدة إسرائيل أثناء حرب أكتوبر ١٩٧٣ م في أحداث ثغرة في..... (إيلات - الدفرسوار - القنطرة - الإسماعيلية)
- (٢) تحتفل مصر في ١٨ يونيو من كل عام بعيد... (الجلاد)
- (٣) صدر قرار مجلس الأمن رقم ٢٤٢ بعد..... (النصر - بورسعيد - الجلاء - تحرير سيناء)
- (٤) عقد مؤتمر القمة الإسلامية عام ١٩٦٩ م بمدينة..... (حرب فلسطين - العدوان الثلاثي ١٩٥٦ م - عدوان ١٩٦٧ م - حرب الاستنزاف)
- (ب) «ارتبط تطور دور المرأة في العمل الوطني بقضايا اجتماعية مرت بمراحل متعددة».

قام بإنشاء أول مدرسة لتعليم البنات في ١٨٣٢ وأطلق عليها مدرسة السيدة بعد
 (١) ما: جهود الخديو إسماعيل لتعليم المرأة؟ استجابته له عوه رفاهه رفع الظواهر
 حيث تبيت القضايا البنات و الدفاع عن حقوقهن البنات و بنكاهن من طريق الصحافة
 (٢) كيف: ساهمت جميلة حافظ في القضايا النسائية في تلك الفترة؟
 (٣) دلت بالأدلة التاريخية على: تعدد الإبحارات الاجتماعية لثورة ٢٣ يوليو ١٩٥٢ م.
 حيث أ- مجانية التعليم ب- إصدار قوانين للتأمينات الاجتماعية
 (ج) أين المقر الرئيسي للأجهزة الآتية...؟

- (١) منظمة الأغذية والزراعة. روما بإيطاليا
- (٢) الأمانة العامة للأمم المتحدة. نيويورك في الولايات المتحدة الأمريكية



مجاب عنه

أولاً الجغرافيا

أجب عن الأسئلة الآتية:

١) أمامك خريطة صماء لدولة ألمانيا لاحظها ثم أجب :

(١) البحر البلطى يمثله على الخريطة الرقم ... (٥) ...

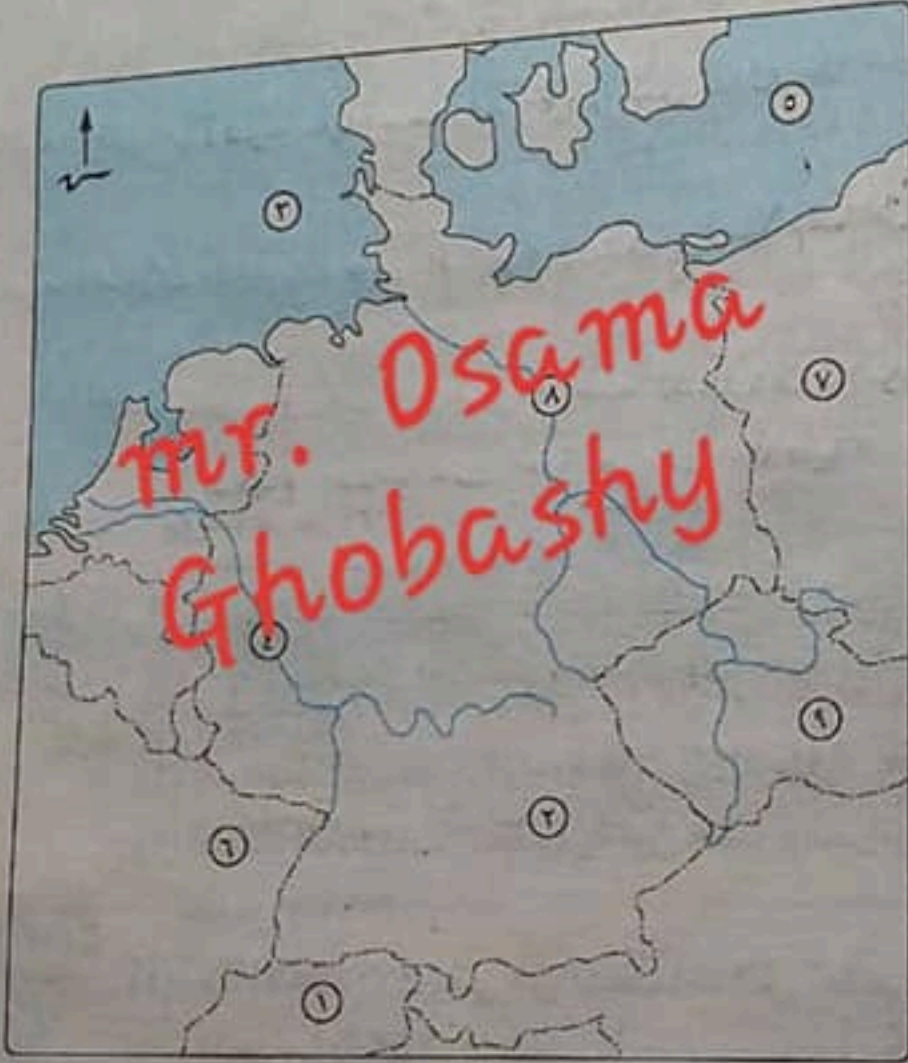
(٢) الرقم ٩ يشير إلى دولة ... تسلي ...

(٣) عاصمة إقليم بافاريا تحمل على الخريطة الرقم ... (٤) ...

(٤) دولة سويسرا تحمل على الخريطة الرقم ... (١) ...

(٥) الرقم (٧) على الخريطة يشير إلى دولة ... بولندا ...

(٦) نهر الراين يمثله على الخريطة الرقم ... (٤) ...



(ب) يم تفسر ... ؟ بسبب انتشار التعليم بين العائد والجاهلهم للعمل بالزراعة والصناعة والخدمات

(١) قلة عدد العاملين بالرعى البدائي في وسط آسيا.

(٢) تنتج نيچيريا كمية كبيرة من الأسماك. ساحل طوي على خليج غينيا وأنهار وكبيرة بالمثل

(ج) حدد أوجه الاختلاف بين : الزراعة الكثيفة، والزراعة التجارية.

١) اختر الإجابة الصحيحة مما بين القوسين :

(١) المحاصيل ذات الطبيعة الخاصة متعددة منها (الجوت - البنجر - البن - الكتان)

(٢) تتركز تربية الأبقار في قارة آسيا في الجزء (الشمالي - الجنوبي - الشرقي - الغربي)

(٣) توجد أكبر الدول المنتجة للنحاس في قارة (أوروبا - أمريكا الجنوبية - أمريكا الشمالية - آسيا)

(٤) توجد خمس دول عربية تولد الطاقة الكهربائية من الرياح منها

(ليبيا - الكويت - السعودية - المغرب)

(٥) تعتمد المراكز الصناعية الحديثة في جنوب غرب آسيا على الصناعات

(الغذائية - الكهربائية - البترولية - الاستهلاكية)

(ب) «تعد الصناعة الحديثة مقياساً رئيسياً لتطور الشعوب وازدهارها».

أرى عامل ما في هذه العبارة أحب مما يأتي فإن (٤) سياك حكومي (٥) تطور علمي

(١) ما هي المقومات البشرية لقيام الصناعة ؟

أدى ذلك إلى قيام الدول النامية بتعدد إنتاجها من البوكسيت للدول المتقدمة لتصبح

(١) عدم توافر الطاقة الكهربائية والخبرة الفنية في الدول المنتجة للبوكسيت. الألومنيوم

أدى ذلك إلى أن تحلت الصين مكانة الهند للبترول كمصدر من مصادر الطاقة.

(٢) حدد شهرة كل مدينة مما يأتي: (١) حيدرآباد. (٢) تضم العديد من المراكز الصناعية من أكبر مراكز الصناعة عالمياً

تسمى بمضيق الصين

تعتبر العاصمة القديمة هو الإقناية وأكبر مدن نيي صيريا وأكبر مدن

٣ (١) اكتب كلمة (صواب) أمام العبارة الصحيحة، وكلمة (خطأ) أمام العبارة غير الصحيحة:

(١) يعد صدور قانون الإصلاح الزراعي من آثار ثورة يوليو ١٩٥٢م في المجال الاقتصادي. (X)

(٢) تعرضت فلسطين لمؤامرة من دول الحلفاء بعد انتهاء الحرب العالمية الأولى. (X)

(٣) انتهت الخلافات الحدودية بين مصر وإسرائيل بتوقيع معاهدة السلام في مارس ١٩٧٩م.

(٤) يُعد الاتحاد الأفريقي من المنظمات التي تضم دولاً تربط بين شعوبها روابط مشتركة.

(٥) (X)

(ب) وضح العلاقة بين: حيث قامت قوتنا عمليات القوات المسلحة بإعداد

دراسة عن استيعاب التوقعات للقيام بالعمليات الهجومية على إسرائيل على

(١) هيئة عمليات القوات المسلحة المصرية، وانتصار الجيش المصري في حرب أكتوبر ١٩٧٣م.

(٢) حصول المرأة على حقوق (المرأة) من دستور ١٩٥٦م، وحصول المرأة على حقوقها السياسية في مصر.

(ج) حدد أوجه الشبه بين: كانت الأوضاع الاجتماعية بمصر التي أدت لقيام ثورة ٢٣ يوليو ١٩٥٢م، وثورة ٢٥ يناير ٢٠١١م.

(١) الأوضاع الاجتماعية بمصر التي أدت لقيام ثورة ٢٣ يوليو ١٩٥٢م، وثورة ٢٥ يناير ٢٠١١م.

(٢) دور القوات المسلحة المصرية والقوات المسلحة السورية في انهيار الخطوط الدفاعية

الإسرائيلية خلال حرب أكتوبر ١٩٧٣م. قامت القوات المسلحة بتدمير خط بارليف

في ست ساعات. كما قامت بتدمير خط ألومنيوم في هضبة الجولان.

٤ (١) حدد المقصود بكل عبارة من العبارات التالية:

(١) معركة نجحت خلالها القوات المسلحة المصرية في هزيمة القوات الإسرائيلية وحماية

مدينة بورفؤاد. معركة رأس العش

٥ (١) المصراعات بين الأحزاب

(٢) ظاهرة التقاطع القوي أدت

إلى انتشار الفكر الجلي والمرض

(٣) زيادة الضغوط الاجتماعية

فيا العدالة الاجتماعية

بسم

المجتمع

الولايات المتحدة الأمريكية امتحانات المحافظات

- (٢) دولة أقامت جسراً جويًا خلال العمليات العسكرية في حرب أكتوبر ١٩٧٣م لدعم إسرائيل.
 (٣) تسلم السلطة في أعقاب ثورة ٣٠ يونيو ٢٠١٣م وصدر خلال حكمه دستور مصر عام ٢٠١٤م.
 (٤) أهم أجهزة الأمم المتحدة وهي المسئولة عن حفظ السلام والأمن الدوليين. مجلس الأمن
 (ب) «مصر دولة محورية هامة وما يجري بها من أحداث يؤثر على محيطها العربي والإقليمي بل وعلى العالم».

في ضوء هذه العبارة، وضح ما يأتي:

- مساهمة مصر للدول العربية وبعض الدول الأفريقية لنيل استقلالها - تأسيس ومشاركة
 (١) أثر ثورة ٢٣ يوليو ١٩٥٢م في المجال العربي. فلسطين ولقاصم ~~وغيره~~ مساهمة مصر
 (٢) الموقف الدولي الذي ساهم في فشل العدوان الثلاثي عام ١٩٥٦م على مصر. نصيب الاتحاد السوفيتي
 (٣) أهم الأسس التي أكد عليها الدستور الدائم لمصر عام ١٩٧١م. استقلال القضاء وسيادة
 (٤) رأيك في: التعاون بين مصر ومنظمة اليونسكو - قائمة منظمة اليونسكو
 في احاد مكتبه الا سكندرية وانقاذ صحاب البولس

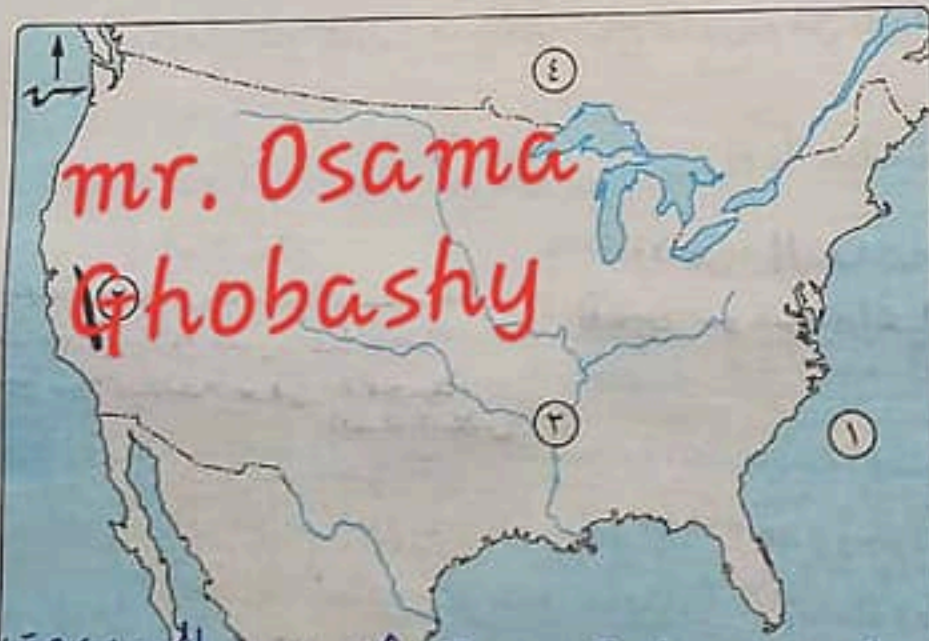
محافظة السويس



مجاب عنه

أجب عن الأسئلة الآتية: أولاً الجغرافيا

(١) أمامك خريطة للولايات المتحدة الأمريكية، وضح ما تدل عليه الأرقام التي عليها:



- (١) المحيط... الاطلنطي
 (٢) جبال... بيرينجيا
 (٣) نهر... المسيسيبي
 (٤) دولة... كندا

(ب) بم تفسر...؟ لا نها سم من خلال عمليات عميرة مثل... الحبوب وتنتجها الحشائش والري

- (١) تحتاج الزراعة الكثيفة إلى أيد عاملة كثيرة. لها تمتلك... مصائد على طول المحيط وانهار بحيرات... ومزارع تربية الاسماك
 (٢) تحتل الصين المركز الأول في إنتاج الأسماك بالعالم.

(٣) تفوق الهند في صناعة الحديد والصلب. إنتاجاً للفحم الذي يعد أساس قيام صناعة الحديد والصلب
 لاها تقدر ثالث رول العالم

Mr. Osama Ghobashy

?

(ج) صوب ما تحته خط :

- (١) يعد البوكسيت الخام الرئيسي لمعدن النحاس. الأمونسيوم
- (٢) مدينة إبيدان هي العاصمة الجديدة الحالية لنيجيريا. ابوجا
- (٣) تعد قارة أوروبا أولى قارات العالم في تربية الأبقار. آسيا

(١) اكتب المصطلح الجغرافي الذي تدل عليه كل عبارة مما يأتي :

- (١) المحصول الغذائي الرئيسي في العالم يصنع منه الخبز والمكرونات والحلويات. القمح
- (٢) مجموعة من الجزر تقع في المحيط الهادي وهي تابعة للولايات المتحدة الأمريكية. ولاية هاواي
- (٣) كان المصدر الرئيسي للطاقة في العالم حتى أوائل القرن العشرين. النفط

(ب) اختر الإجابة الصحيحة مما بين القوسين :

(١) من المقومات الطبيعية للصناعة

(الموقع المتميز - الأسواق - الأيدي العاملة - رأس المال)

(٢) إقليم الأورال من المراكز الصناعية في إقليم

(غرب ووسط أوروبا - روسيا وأوكرانيا - شرق آسيا - شمال شرق الولايات المتحدة)

(٣) توجد أكبر مراكز الصناعات اليدوية في الهند بمدينة

(بومباي - حيدرآباد - كلكتا - نيودلهي)

(٤) يسود معظم نيجيريا المناخ

(٥) من أهم الدول العربية في إنتاج الكهرباء من الرياح دولة

(السعودية - ليبيا - مصر - تونس)

(ج) ما شهرة كل مدينة مما يأتي ... ؟

- (١) واشنطن. عاصمة الولايات المتحدة الأمريكية وهي عاصمة سياحة صاعدة على المحيط الأطلسي.
- (٢) نيودلهي. العاصمة السياسية للهند تتميز بوجود الجامعات والمراكز الصناعية والمعالم التاريخية المهمة.

(١) اكتب كلمة (صواب) أمام العبارة الصحيحة، وكلمة (خطأ) أمام العبارة غير الصحيحة :

- (١) من عوامل قيام ثورة ٢٣ يوليو ١٩٥٢م عدم وجود حياة ديمقراطية سليمة. (✓)
- (٢) أصدرت ألمانيا وعد بلفور عام ١٩١٧م لإنشاء وطن لليهود في فلسطين. (X)
- (٣) انتصر الجيش المصري على العدو الإسرائيلي في حرب أكتوبر ١٩٧٣م. (✓)
- (٤) تسلم السلطة في ٣ يوليو ٢٠١٣م المستشار عدلي منصور رئيس المحكمة الدستورية العليا. (✓)
- (٥) تتمثل سلطات الحكم في مصر في أربع سلطات وهي رئيس الدولة والسلطة التشريعية والسلطة التنفيذية والسلطة القضائية. (✓)

Mr. Osama

الملاحظات المحفوظات
Ghobashy

(ب) اكتب المصطلح التاريخي لكل عبارة مما يلي :

(١) قانون صدر في سبتمبر ١٩٥٢م بعد ثورة ٢٣ يوليو ١٩٥٢م وبمقتضاه تم تحديد الملكية الزراعية. قانون الإصلاح الزراعي الأول

(٢) الوثيقة الرسمية التي تحدد نظام الحكم في الدولة وتحدد شكل واختصاصات المؤسسات الدستورية المختلفة له دستور

(٣) عدم الانضمام إلى أي من الكتلتين الشرقية والغربية. حركة عدم الانحياز

(٤) تنظيم أسسه جمال عبدالناصر وتكون من مجموعة من ضباط الجيش المصري بهدف القيام بثورة للقضاء على الفساد وتحرير واستقلال مصر. تنظيم الضباط الأحرار

(ج) بم تفسر : قيام ثورة ٢٥ يناير ٢٠١١م ؟ بسبب ١- تدوير الأوضاع الاقتصادية
سود الاحوال الاجتماعية ٢- استمرار العمل بقانون الطوارئ ٤- تدوير الاحوال
٤ (١) إلى من تنسب الأعمال الآتية ... ؟ الاجتماعية والصحية والتعليمية ٥-

(١) أول رئيس للجمهورية المصرية في يونيو ١٩٥٣م. محمد نجيب

(٢) بادر إلى زيارة إسرائيل من أجل السلام عام ١٩٧٧م. محمد انور السادات

(٣) أصدرت أول مجلة نسائية مصرية وهي الرخانة عام ١٩٠٧م. جميلة حافظ

(٤) أنشأ عدة مجالس نيابية استشارية لا سلطة لها ومنها مجلس المشورة. محمد علي

(ب) ما النتائج التي ترتبت على ... ؟

(١) معركة رأس العرش. أدى ذلك إلى حجاج القوات المسلحة في حربها القوات
الإسرائيلية عندما حاولت احتلال مدينة بورفؤاد

(٢) إحالة قضية طابا إلى هيئة التحكيم الدولي. أدى ذلك إلى إصدار محكمة العدل الدولي

حكمها لصالح مصر في ديسمبر ١٩٨٨م وعوره طابا لليابا المصرية في مارس
١٩٨٩ (ج) اختر الإجابة الصحيحة مما بين القوسين :

(١) من أهم إنجازات ثورة ٢٣ يوليو ١٩٥٢م في المجال الاجتماعي

(مجانية التعليم - تمصير البنوك - إنشاء السد العالي - حل الأحزاب السياسية)

(٢) من نتائج فشل العدوان الثلاثي على مصر عام ١٩٥٦م انسحاب القوات الإنجليزية

والفرنسية من مدينة في ٢٣ ديسمبر ١٩٥٦م.

(السويس - الإسكندرية - بورسعيد - الإسماعيلية)

(٣) استولت إسرائيل على هضبة الجولان بعد

(حرب ١٩٤٨م - العدوان الثلاثي ١٩٥٦م - عدوان يونيو ١٩٦٧م - حرب الاستنزاف)

(٤) يوجد مقر الأمانة العامة للأمم المتحدة بمدينة

(نيويورك - لاهاي - روما - جنيف)

أولاً الجغرافيا

اجب عن الأسئلة الآتية:

١ (١) أمامك خريطة صماء للعالم،

اكتب في كراسة إجابتك

مدلول الأرقام الموقعة عليها:

(١) أولى الدول إنتاجاً

للقمح .. الصين

(٢) أولى القارات إنتاجاً

للغاز الطبيعي. أوروبا

(٣) خليج غينيا

(٤) عاصمة سياسية. برازيليا



(ب) «مارس الإنسان العديد من الأنشطة الاقتصادية حتى وصل للنشاط الصناعي».

ادى ذلك إلى الإنتاج التجاري وقله التكاليف وقلة الاعتماد على العمالة الزراعية

(١) أثر استخدام الطرق العلمية الحديثة في الزراعة التجارية.

(٢) ما العلاقة بين: الطاقة الكهربائية، والبوكسيت.

(٣) ما رأيك في: اتجاه مصر للبحث عن مصادر جديدة للطاقة. حالياً و مستمك من التوسع

(٤) أمامك مجموعة من المدن حدد شهرة كل منها:

(١) أبو جاجا. (٢) سان فرانسيسكو. (٣) ريو دي جانيرو. مدن العالم

(٥) حدد وجه الشبه بين كل من:

البرازيل، ونيجيريا، من حيث: والنبات الطبيعي ينمو يوماً غابات استوائية

وذلك مسانئ السواها * المناخ. * النبات الطبيعي.

يقمان ضمن نمق المناخ المداري الحار وكذلك المناخ الاستوائي

٢ (١) صوب ما تحته خط في العبارات الآتية:

(١) الموطن الأصلي لمحصول الشاي غرب أفريقيا. سُروا آسيا

(٢) أكبر الدول إنتاجاً للألبان البرازيل. الهند

(٣) تعد دولة تايلاند أولى الدول الأفريقية إنتاجاً للمطاط. نيجيريا

(٤) يقل السكان في نيو إنجلند بالولايات المتحدة الأمريكية حيث برودة الجو ولا يابح الآسكا

(ب) اكتب مدلول كل عبارة مما يأتي :

- (١) كان يشكل عماد الثورة الصناعية في أوروبا في أواخر القرن الـ ١٨ م. **العصر**
- (٢) جزيرة باليابان من أهم المراكز الصناعية في إقليم شرق آسيا الصناعي. **جزيرة قنشو**

(ج) ما النتائج المترتبة على... ادى ذلك الى تغيير نشاطهم للعلماء والزراعة والصناعة وبالطالما ان ذلك ادى الى قلة عدد العاملين بحرفه الرى البدائى بقابل وسط اسيا. انتشار التعليم بين قبائل وسط اسيا.

(د) قدام الوحدة الاقتصادية الأوروبية. ادى ذلك الى صوت تكامل في جميع الجوانب الاقتصادية بمعنى اقليم غرب ووسط أوروبا معادى الى حمايتها جمر كيا وتدعيمها من قية الاكوار (د) **دليل جغرافيا على صحة العبارتين الآتيتين :**

- (١) ترتبط مصر والولايات المتحدة الأمريكية بعلاقات قوية.
- (٢) لحرفة صيد الأسماك عوامل ساعدت على تطويرها. حيث ان هناك عوامل طبيعية وتربية ساعدت في تطور حرفة الصيد ومنها - بحالة المياه السطحية ونشأها بالموارد الغذائية - السقاء انت رات البحرية **التالي** مع السادة ٣ - توازن المواضع لرسو سفن الصيد ٤ - توازن الحشرات الطبيعية والعنيفة في صناعه المراكب والشباك وادوان الصيد ٤ - **بمقارن بنزاع تربيه الاسماك على اسس علمية ودنيه**

(١) بعد إذاعة البيان الأول لثورة ٢٣ يوليو ١٩٥٢م أصبحت جميع قطاعات الجيش تحت

- سيطرة (جمال عبدالناصر - أنور السادات - مصطفى النحاس - محمد نجيب)
- (٢) نجحت القوات المصرية في هزيمة القوات الإسرائيلية في معركة رأس العش عندما حاولت احتلال (السويس - الإسماعيلية - بوزفؤاد - بورسعيد)

(٣) أنشأ الخديو إسماعيل أول مدرسة لتعليم البنات استجابة لدعوة

(رفاعة الطهطاوى - مصطفى النحاس - محمد على - سعد زغلول)

(٤) يوجد مقر محكمة العدل الدولية في مدينة (جنيف - لاهاي - مدريد - نيويورك)

(ب) ما المقصود بكل من... ؟ (١) برلمان (٢) منظمة تجمع عدد من الدول المستقلة التي ترتبم ببعضها بروابط معينة. منظمة تفسر... ؟ لإحكام الحصار الاقتصادي الذي فرضه الحرب على اسرائيل

(١) إغلاق مصر لخليج العقبة أمام الملاحة الإسرائيلية في مايو ١٩٦٧م.

(٢) تشكيل الشعب المصري للجان الشعبية أثناء ثورة ٢٥ يناير ٢٠١١م.

(د) ما العلاقة بين... ؟ (١) مؤتمر سان ريمو ١٩٢٠م، ومصير دولة فلسطين. لتعريف ويد لغز رواقا مة وطننا قوم (٢) حركات التحرر الوطني بالجزائر، والعدوان الثلاثي على مصر عام ١٩٥٦م.

حيث ادى مسانده مصر لحركات التحرر الوطني بالجزائر الى اشتراك فرنسا في العدوان الثلاثي على مصر عام ١٩٥٦م

سبقت المرأة المناصب الوزارية حيث عين محمد نور السادات الدكتور
 عائشة راتب وزيرة للشئون الاجتماعية في ١٩٧١
 شاركت المرأة في الحياة النيابية
 حيث شغلت الدكتور أمال عثمان منصب رئيس اللجنة التشريعية بمجلس
 الشعب

٤ (١) اكتب ما تشير إليه كل عبارة مما يأتي :

- (١) قانون صدر في سبتمبر ١٩٥٢ للقضاء على الإقطاع. قادتون الاصلاح الزراعي الاول
 - (٢) مؤتمر شاركت فيه مصر لتأسيس حركة عدم الانحياز. مؤتمر يانويج عام ١٩٥٥
 - (٣) الرئيس المصري الذي تولى رئاسة الاتحاد الأفريقي عام ٢٠١٩. عبد الفتاح السيسي
 - (٤) منظمة متخصصة في المجال الزراعي للقضاء على الجوع. منظمة الاغذية والزراعة
- (ب) دلت تاريخياً على صحة كل عبارة مما يأتي : حيث تم منحه قلادة النيل العظمى
 (١) تكريم مصر للفريق سعد الدين الشاذلي. في الذكرى الـ ٢٦ لقرار أكتوبر

(٢) التزمت مصر بالطرق القانونية لاستعادة أراضيها كاملة بعد معاهدة السلام. حيث عين ما حدث الخلاف بين مصر/ اسرائيل على تعيين بعض علامات الحدود. اتفق الطرفان على صيغة
 (ج) «حق الجيش المصري انتصاراً حاسماً في حرب أكتوبر ١٩٧٣م». التحكيم الدولي فتح امامه قضية
 طابا اى التحكيم الدولي والت
 بسبب رفض اسرائيل لكل التنازلات والاعلام بالانسحاب من الاراضى الثمينة بقرارات
 (١) أسباب اندلاع حرب أكتوبر ١٩٧٣م. بكمهيم مصر سوريا على ازاله اثار العدوان
 واستيادته من سوريا وعطية لقراره في ١٩١٧
 (٢) أثر تقديم الولايات المتحدة الأمريكية معلومات عسكرية لإسرائيل أثناء حرب
 أكتوبر ١٩٧٣م. ادعى ذلك انك ساعده اسرائيل في اعدائه لفرقة من منطقتها
 (٣) ما العلاقة بين : سلاح البترول، وانتصار حرب أكتوبر ١٩٧٣م. كان لاستفزازهم السردية في
 دوراً في تحقيق نصر أكتوبر ١٩٧٣م وذلك عندما أصدر وزراء النفط العرب بكويت قراراً بخفض إنتاج
 (د) ما رأيك في : الدور الرائد للمرأة المصرية في الفترة من ١٩٧١م إلى ١٩٨١م ؟ حضر المظاهرات
 في الولايات المتحدة للمرأة

MR. Osama Ghobashy

محافظة دمياط

اجب عن الأسئلة الآتية:

اولا الجغرافيا

١ (١) أمامك خريطة صماء للولايات المتحدة الأمريكية،

اكتب في كراسة إجابتك مدلول الأرقام المدونة عليها :



(١) أكبر دول العالم إنتاجاً لقصب السكر.. البرازيل

(٢) دولة منتجة للنحاس. تشيلي

(٣) دولة يسود فيها الرعي التجاري. الولايات المتحدة الأمريكية

(٤) دولة تعد أحد المراكز الصناعية الحديثة... كندا

لضحية الحياة الساحلية وغنائمها المواد الغذائية

(ب) بم تفسر... ؟ التقاء تيارات البحرية الباردة مع الدافئة
 توافر المواسي، لرسوسن الصيد

(١) تنتشر مصايد الأسماك على سواحل القارات.

(٢) تتركز صناعة الألومنيوم في الدول المتقدمة. بسبب توافر مقومات صناعة من طابا

كهربائية وخبرات علمية وفنية متطورة وسوق محلية وخارجية مستوية
 الانتاج

سبب كثره المرامي حسيه توجب اعداد كبيره من الاربغار والاعنام
(٣) توجد بالهند ثروة حيوانية ضخمة. والحماموس

(٤) يقل عدد السكان في دلتا نهر النيجر جنوب نيجيريا. بسبب وجود الغابات الكثيفة
والظروف المناخية القاسية

(ج) اختر الإجابة الصحيحة مما بين القوسين :

(١) أولى قارات العالم إنتاجاً للقمح قارة (آسيا - أفريقيا - أوروبا - أمريكا الشمالية)

(٢) يصعب استخدام الآلات والميكنة الزراعية لصغر مساحة الحقول في مناطق الزراعة

(البسيطة - التجارية - العلمية - الكثيفة)

(٣) أهم الدول المنتجة لصوف الأغنام بالعالم دولة

(أستراليا - فرنسا - الهند - السودان)

(٤) من المقومات البشرية اللازمة لقيام الصناعة

(المواد الخام - مصادر الطاقة - رأس المال - الموقع المتميز)

٢ (١) أكمل العبارات الآتية بكلمات مناسبة. ثم انقلها كاملة في كراسة الإجابة :

(١) الشاي نبات دائم الخضرة موطنه الأصلي شرق آسيا

(٢) تحتل المرتبة الأولى بين الدول العربية في إنتاج الطاقة الكهربائية من الرياح دولة مصر

(٣) يطلق على المرتفعات الشرقية للولايات المتحدة الأمريكية جبال الابلاش

(٤) أولى دول العالم إنتاجاً للحديد دولة الصين

(ب) أمامك رسم بياني يمثل أحد مصادر الطاقة

في العالم استعن به. ثم أجب عما يأتي :

(١) ما مصدر الطاقة الذي يمثله

الرسم البياني؟ الفحم

وما أكبر القارات إنتاجاً له؟ آسيا

في الدول المتقدمة (٢) ما أهم استخدامات هذا المصدر؟ يستفهم في الصناعات توليد الكهرباء الحرارية

(٣) ما أسباب توسع دول العالم في استخدام الغاز الطبيعي كبديل لهذا المصدر؟ لأنه أقل تلويثاً

للبيئة وسهل النقل ورخيص الثمن

(ج) لأي الدول تنتمي المدن الآتية ...؟ وما أهميتها؟

(٣) نيويورك.

(٢) حيدرآباد.

(١) أبوجا.

لنيجيريا: عاصمها حالياً
هدية دائمة حديثة

الهند

١ توجد بهنبيه الدكن
٢ من أكبر المراكز الصناعية اليدوية
٣ يوجد بها العديد من المراكز
الإسلامية

MR. Osama Ghobashy



٣ (١) حدد المقصود بكل عبارة من العبارات الآتية :

(١) قام بإذاعة أول بيان لثورة ٢٣ يوليو ١٩٥٢م. محمد انور السادات

(٢) رئيس المحكمة الدستورية العليا وتولى حكم مصر عام ٢٠١٣م. عدلى منصور

(٣) مجلس نيابي صوري لا سلطة له أنشأه الخديو إسماعيل ١٨٦٦م. مجلس شورى النواب

(٤) منظمة دولية متخصصة في المجال الزراعي هدفها القضاء على الجوع ومقرها روما.

(ب) بم تفسر...؟ حيث كان البترول دوراً في نهر الكونديس ١٩٧٢ عند ماهر وزراعة النفط وتنظيمه الاغنية والزراعة العربي في ايجما مهم بالكويت نفى على خطى انتاج البترول وحفظ

(١) لعب النفط العربي دوراً بارزاً في حرب أكتوبر ١٩٧٣م. الصادرات البترولية خلعه بمسائل

(٢) كان للانفتاح الاقتصادي بدون ضوابط أثره في قيام ثورة ٢٥ يناير ٢٠١١م. حيث تم بيع مؤسسات الدولة باقل من سعرها الحقيقي

(٣) إنشاء محكمة العدل الدولية. لتظهر في القضايا التي تخصها الدول امامها وتقدم الاستشارات القانونية للهيئات الدولية حيث تعد المحار القضاة الرئيس للامم المتحدة

(ج) ما العلاقة بين...؟ حيث أصدرت ثورة ٢٣ يوليو ١٩٥٢م قوانين الإصلاح الزراعي. اقسم الخراف السورة

(١) ثورة ٢٣ يوليو ١٩٥٢م، وقوانين الإصلاح الزراعي. اقسم الخراف السورة

(٢) الامم المتحدة، وقيام دولة اسرائيل في القدس ودولة عربية ودولة يهودية فاعلت اليهود قبل عام ١٩٤٨ في فلسطين تحت مسمى

(٣) الرئيس محمد انور السادات، ومبادرة السلام عام ١٩٧٧م. سان ريمو

(٤) (أ) صوب ما فوق الخط، ثم أعد كتابه الجملة كاملة برهوا بالجد سان ريمو

(١) دخلت فلسطين تحت الانتداب البريطاني عام ١٩٢٠م بموجب مقررات مؤتمر بانكوك

(٢) مبادرة تقدم بها وزير الخارجية الأمريكي أثناء حرب الاستنزاف عرفت بمبادرة كارتر

(٣) كان من نتائج مؤتمر مدريد توقيع اتفاقية ١٩٩٣م بين الفلسطينيين واسرائيل هي اتفاقية العريش. أو سلو للسلام

(٤) الإدارة المحلية في مصر ضمن عناصر السلطة التشريعية. القهني

(ب) «التضحية والفداء من أجل الوطن والاستشهاد في سبيل رفعته وتقدمه وصيانة كرامته واجب وطني».

في ضوء العبارة السابقة، أجب عما يأتي: اجاب عما يأتي: الاصلاحات البريطانية في مصر كانت لم تحدث ثورة ٢٣ يوليو ١٩٥٢م وبالسلام لم يتم تأسيس تنظيم الضباط الأحرار في مصر؟ والسائل لنا نيم

(١) ماذا كان يحدث إذا: لم يتم تأسيس تنظيم الضباط الأحرار في مصر؟ والسائل لنا نيم

(٢) ما النتيجة التي ترتبت على: مساندة مصر بعد ثورة ٢٣ يوليو ١٩٥٢م للشعب الجزائري

ضد الاستعمار؟ أدى ذلك إلى اشتراك فرنسا في العدوان الثلاثي على مصر عام ١٩٥٦م

(٣) حدد: أسباب تشكيل اللجان الشعبية أثناء ثورة ٢٥ يناير ٢٠١١م.

لحماية المنشآت والمناطق

ومواجهتها أعمال الرق والحرق والترويع

(أ) هي تم توقيع الاتفاقية مع قوات الاحتلال البريطاني عند مصر وتم توقيع الاتفاقية بحال الفعل تم الجلاء من خلال ٤ شهر
 من توقيع هذا الجلاء دام ٤٤ سنة

(ب) مدينة أنهارت الخطوط الدفاعية والتحصينات القوية لإسرائيل مثل خط
 امتطلات المحافظات

- (١) أنهت اتفاقية الجلاء في أكتوبر ١٩٥٤م الاحتلال البريطاني لمصر.
- (٢) انهيار نظرية الأمن الإسرائيلية بعد حرب أكتوبر ١٩٧٣م.
- (٣) أصبح للمرأة دورًا بارزًا في مصر بعد ثورة ٢٣ يوليو ١٩٥٢م وحتى عام ١٩٧١م.

الترشح والانتخاب في دستور ١٩٥٤م كانت مصر أول دولة عربية تتخذ نظام الانتخابات
 حكمت إيزابيل أوله وزكريا الطهريون الانتخابية في ١٩٥٦م
 التماس والمطالبات من انتخابات

محافظة كفر الشيخ

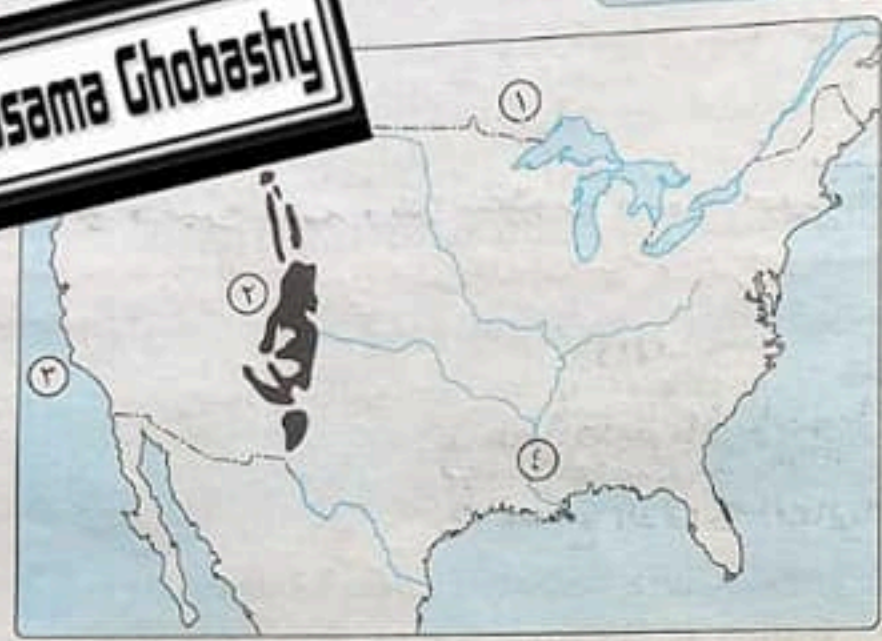
١٣

أجب عن الأسئلة الآتية:

أولاً الجغرافيا

(١) أمامك خريطة للولايات المتحدة الأمريكية. في ضوء ذلك أجب:

- (١) دولة... كندا
- (٢) جبال... روكي
- (٣) المحيط... الهادي
- (٤) نهر... هسيبي



MR. Osama Ghobashy

(ب) «إشباع حاجات الإنسان هو المحرك الأساسي وراء تنوع الأنشطة الاقتصادية».

في ضوء العبارة. وضح: حتى زراعة الارض أكثر من مره في العام الواحد هدف إشباع
 (١) ما المقصود بـ: الزراعة الكثيفة. حاجة السكان المحسن وبارده ماتم في المناطق
 من شأنهم لعدد كبير من السكان الذين ولدوا وتعددت التعداد وازدادت احتياجاتهم من الغذاء واللباس
 (٢) ما النتائج المترتبة على: الوحدة الاقتصادية الأوروبية. ان الذين لم يحدث في كندا من جميع
 الجوانب الاقتصادية في اقليم غرب ووسط أوروبا وصاحبها بمرکز وتمددها من جانب قبة
 (٣) حدد: الأقاليم الصناعية الرئيسية في العالم. الا بحال الادب في اقليم غرب ووسط أوروبا
 (٤) اقليم غرب ووسط أوروبا وشمال شرق الولايات المتحدة الأمريكية و اقليم روسيا و
 (ج) اختر الإجابة الصحيحة مما بين القوسين:

- (١) الغذاء الرئيسي لمعظم شعوب العالم محصول (الأرز - القمح - الذرة - الشعير)
- (٢) تحتل المركز الأول عالميًا في إنتاج الأسماك (إندونيسيا - الصين - النرويج - تايلاند)
- (٣) أولى دول العالم إنتاجًا لقصب السكر (فرنسا - مصر - البرازيل - الولايات المتحدة الأمريكية)
- (٤) أستراليا أكبر دول العالم إنتاجًا لخام (الحديد - البوكسيت - النحاس - اليورانيوم)

MR. Osama Ghobashy

٢ (١) أعد كتابة العبارة صحيحة بعد تصويب ما تحته خط :

- (١) تشتهر إندونيسيا بإنتاج الأصواف من أغنام المارينو. إسترايا
- (٢) تحتل روسيا المركز الأول في الإنتاج العالمي للبتروول. السعودية
- (٣) تُعد مصر وتونس من أهم المراكز الصناعية الحديثة في قارة أفريقيا. جنوب أفريقيا
- (٤) تستورد مصر من البرازيل المعادن خاصة الفوسفات. حدي

(ب) يم تفسر ... ١٩ - بعد مهجراً مهمماً الفئاد الإنسان بجانب الأسمك والحيوانات

١ - ترتيباً بحزب الحيوانات / ٣ - ينزل مصر مهمماً للموود الحام الررم

- (١) يعتبر النشاط الزراعي من الأنشطة الاقتصادية الأساسية في العالم لبعض النحاءات
- (٢) تركز زراعة الشاي في شرق آسيا. بسبب توافر مقومات تزياعه من جواد رطب
- (٣) انتشار مصايد الأسماك في شمال غرب أوروبا. ✓

- (٤) تركز صناعة الألومنيوم في الدول المتقدمة. بسبب توافر مقومات صناعته من طاقة كهربائية
- (٥) قوة الروابط العلمية والثقافية بين مصر وألمانيا.

(ج) في أي الدول تقع هذه المدن الآتية ... ؟ مع ذكر شهرة كل مدينة :

- (١) ريودي جانيرو.
- (٢) ميونخ.
- (٣) نيويورك.

عاهماً أقليم بأفريقيا جنوباً
يوجد بها البحر الأحمر
والمصانع الألمانية العالية

٣ (١) اكتب كلمة (صواب) أمام العبارة الصحيحة، وكلمة (خطأ) أمام العبارة غير الصحيحة :

- (١) وضعت فلسطين تحت الانتداب البريطاني في مؤتمر باندونج.
- (٢) أذيع أول بيان لثورة ٢٣ يوليو ١٩٥٢ بصوت محمد أنور السادات.
- (٣) استشهد الفريق أول عبدالمنعم رياض في حرب السادس من أكتوبر ١٩٧٣ م.
- (٤) القضاء على الإقطاع وصدور قوانين الإصلاح الزراعي من أهم إنجازات ثورة ٢٣ يوليو ١٩٥٢ الاقتصادية.

(ب) ما النتائج التي ترتبت على ... ؟ انسحاب القوات البريطانية والفرنسية من مدينتي بورسعيد واشحات القوات الإسرائيلية من قطاع غزة ونياد ووضع قوات طوارئ

- (١) العدوان الثلاثي على مصر عام ١٩٥٦ م. سها وبين مصر وادراك العالم الذي انظر إليه
- (٢) الضربة الجوية لإسلاح الطيران في حرب أكتوبر ١٩٧٣ م. تخطم اعداد كبير من الطائرات
- (٣) تحقيق السلام وإنهاء الصراع العربي الإسرائيلي بالمنطقة العربية. انضمام مصر الى جامعة الدول العربية
- (٤) المرحلة الأولى من إعادة بناء القوات المسلحة المصرية (مرحلة الصمود والتصدي).

أدى ذلك إلى نجاح القوات المصرية في تزييع القوات الإسرائيلية عندما حاولت

- (ج) ضع بين القوسين ما تشير إليه كل عبارة مما يأتي : احتلال صين، بورفؤار في معركة رامية
- (١) مبادرة اتخذتها الولايات المتحدة لوقف إطلاق النار أثناء حرب الاستنزاف. (روجبر...)
- (٢) لجنة شكلت عام ١٩٢٠ م وانتخبت السيدة هدى شعراوي رئيساً لها. (لجنة الوطف المركزية)

(٤) شاركت مصر في تأسيس الاتحاد الإفريقي استضافت مصر اول قمة افريقية على اراضيها تولت مصر رئاسة لمره الثالثه من ١٩٠١ في عهد الرئيس عبد الفتاح السيسى
امتحانات المصطفات

٤ (١) «كانت مبادرة الرئيس السادات لزيارة إسرائيل لها أهداف سامية لوقف الحروب ونشر السلام بالمنطقة». في ضوء هذه العبارة

- الغناء دستور ١٩٤٣ في ديسمبر ١٩٥٤ / على الاغراب ايا سيه يناير ١٩٥٣ / الغناء الملكيه (١) حدد اهم اجازات ثورة ٢٣ يوليو ١٩٥٢ السياسية. واعلان الجمهورية يومه ١٩٥٢
- (٢) ما أسباب تحرك الجيوش العربية لحرب فلسطين ١٩٤٨ م؟ بهدف نهره وانقاذ الشعب الفلسطيني من بطش اليهود معق اعلا نهم عام دولة اليهود / ضاعده الشعب الفلسطيني عن اقام
- (٣) وضح دور العرب مع مصر وسوريا في حرب أكتوبر ١٩٧٣ م. حكومه وطنيه على ارضه
- (٤) وضح دور مصر البارز في منظمة الاتحاد الأفريقي. قرار فدرال انفسه الم في اجتماعه
- (٥) استنتج اهم البنود المتشابهة بين قرار مجلس الأمن رقم ٢٤٢ لعام ١٩٦٧ م ومعاهده
- السلام مارس ١٩٧٩ م. احترام سيادة دول المنطقه عن اراضيها / حرية الملاحة في البحار الدوليه / إنهاء حالة الحرب بين مصر وإسرائيل / انسحاب إسرائيل من الاراضي
- (١) ما دور القوات المسلحة المصرية العظيم في ثورة ٢٥ يناير ٢٠١١ م؟ التي اقلتها في ٢٨٧
- (ب) قارن بين كل من: خفق امن هو الوطن / حماه وحاملي الممتلكات العامه والخاصه

- (١) منظمة اليونسكو، ومنظمة اليونيسيف، من حيث الأهداف
- الحياه النايه: قيام الشعب بالتخات ممثلين لإدارة شؤون الحكم ومنهج اراء الحكومه
- (٢) الدستور، والحياه النايه، من حيث المقصود بكل منهما
- الدستور: الوثيقه الرسميه التي كدت نظام الحكم في الدوله وكدت شكل واصطلاحات المؤسسات الدستوريه

محافظة البحيرة

١٤

أجب عن الأسئلة الآتية: **اولا الجغرافيا**

١ (١) امامك خريطة لدولة الهند، اكتب مدلول الأرقام الموضحة عليها في كراسة إجابتك :

- (١) دولة تحدها من الشمال الغربي باكستان
- (٢) خليج... البنغال
- (٣) هضبة... الدكن
- (٤) ميناء هام... بومباي

MR. Osama Ghobashy



(ب) اكتب كلمة (صواب) أمام العبارة الصحيحة، وكلمة (خطأ) أمام العبارة غير الصحيحة :

- (X)
- (١) أولى قارات العالم في تربية الأبقار هي قارة أفريقيا.
- (٢) يعتبر الغاز الطبيعي من مصادر الطاقة الأقل تلويثًا للبيئة.
- (٣) الصناعة هي العمود الفقري للاقتصاد الألماني.

(ج) «يرتبط النشاط التعدينى بوجود الخام بكميات وفيرة قريبة من المراكز الصناعية حيث

يتم نقله من المناجم الى المصانع». **في ضوء العبارة السابقة، أجب عما يأتي:**
 (١) ما المقصود بـ: النشاط التعدينى؟ الأرض أو التربة من السطح
 (٢) وضح أثر: توافر الخبرات الفنية والعلمية على إنتاج الأسماك في العالم
 (٣) دلل على صحة العبارة الآتية: صناعة الألومنيوم تحتاج لعدة مقومات لقيامها بتزويد البشرية بالمنتجات الضرورية.

(٤) قارن بين كل من: الحديد، والنحاس، من حيث: * الأهمية. * أولى الدول المنتجة.

الحديد يدخل في العديد من الصناعات (الصين) / تدفن في معظم الصناعات (سويسرا)

٢ (١) بم تفسر...؟ بسبب ملائمة الظروف المناخية والتربة الزراعية الحقلية

(١) تركز زراعة البنجر في دول أوروبا وأمريكا الشمالية. لئلا يهدد

نقص المصدر الرئيسي لهذا المنتج البحري والأسبان بجانب هو قوتها وجلودها

(٢) أهمية الثروة الحيوانية في العالم.

(٣) شهرة إندونيسيا والولايات المتحدة الأمريكية في إنتاج الثروة السمكية.

حيث أن الدول المتقدمة هي الدول التي تطورت فيها تطورا ملحوظا خاصة

(٤) تطور الصناعة تطورا مذهلا في الدول المتقدمة. بالأساليب العلمية الحديثة من تطبيق

التجارة والاتصالات من التطوير وكثرت المناجاة للبعثة مسيرة من تطويق

(٥) جذب المرتفعات الوسطى للسياح في ألمانيا.

لأن المرتفعات الوسطى بألمانيا تغطي بالغابات، الخضرة وتكثر بها

(ب) اختر الإجابة الصحيحة مما بين القوسين: استلاب وسياح الماشية

(١) ارتبط استقرار الإنسان على سطح الأرض بحرفة

(الصيد - الرعى - الزراعة - الصناعة)

(٢) أولى دول العالم إنتاجا للمطاط الطبيعي

(الصين - تايلاند - البرازيل - الهند)

(٣) المنتج الحيواني الرئيسي في العالم هو

(الصوف - الجلود - الألبان - اللحوم الحمراء)

(٤) أهم المقومات الطبيعية اللازمة للصناعة

(الأيدي العاملة - مصادر الطاقة - الأسواق - رأس المال)

(٥) يستخرج من هضبة جوس في نيجيريا

(الحديد - المنجنيز - النحاس - القصدير)

ثانياً التاريخ

٣ (١) صوب ما تحته خط في العبارات الآتية:

(١) كان أحد عوامل قيام ثورة ٢٣ يوليو ١٩٥٢م فساد النظام الجمهورى. الملكى

(٢) جعل التعليم بالمجان كان من إنجازات ثورة ٢٣ يوليو ١٩٥٢م في المجال السياسى. الاحتمالى

(٣) تم عزل محمد مرسى في الثالث من يوليو ٢٠١٣م وتسليم السلطة إلى عبد الفتاح السيسى. المستشار عدلى منصور

(٤) تم تعيين الدكتورة عائشة راتب وزيرة للشئون الاجتماعية عام ١٩٧١م في عهد الرئيس مبارك. مبارك

(٥) عُقد أهم مؤتمرات القمة الإسلامية في سبتمبر ١٩٦٩م بمدينة القاهرة. الرباط

أجب عن الأسئلة الآتية: **أولاً الجغرافيا**

١ (١) أمامك خريطة للعالم، اكتب

ما تدل عليه الأرقام الموجودة

عليها مكان النقط في ورقة

إجابتك :

(١) مركز صناعي حديث

(٢) دولة الولايات المتحدة الأمريكية

(٣) هضبة المدكن

(٤) المحيط الأطلنطي

(ب) اكتب ما تشير إليه كل عبارة من العبارات الآتية :

(١) يعتبر الغذاء الرئيسي لمعظم سكان العالم. القمح(٢) الدولة التي تساهم بأكثر من ثلث إنتاج الأسماك في العالم. الصين

(٣) مصدر للطاقة أقل تلوثاً للبيئة ويمثل ٢٥٪ من مصادر الوقود في العالم وتعد أوروبا أولى

قارات العالم المنتجة له. الغاز الطبيعي

(٤) إحدى دول غرب أفريقيا استقلت عن بريطانيا وأصبحت دولة اتحادية تضم ١٢ ولاية

ويحدها من الجنوب خليج غينيا. نيجيريا(ج) وضح : أثر تدفق البترول على حرفة الرعي البدائي في شبه الجزيرة العربية وبادية الشام.

أدى ذلك إلى توطين البدو مما تسبب في قلة العاملين في الرعي البدائي

٢ (١) اختر الإجابة الصحيحة مما بين القوسين : من سبب مرسمة التربة وبدية الصحراء

(١) يعتبر محصول من المحاصيل ذات الطبيعة الخاصة ويصنع منه إطارات السيارات.

(القطن - البنجر - الذرة - المطاط)

(٢) تعد قارة أولى قارات العالم إنتاجاً للطاقة النووية.

(آسيا - أوروبا - أفريقيا - أستراليا)

(٣) أستراليا أولى دول العالم إنتاجاً لخام

(الحديد - النحاس - البوكسيت - اليورانيوم)

(٤) أهم مدن الساحل الغربي في الهند ومن أكبر الموانئ هي مدينة

(٥) يحد الولايات المتحدة الأمريكية من الغرب المحيط

(الهندي - الأطلنطي - القطبي الشمالي - الهادي)

(ب) **دلل على صحة العبارات الآتية:** **صت قامت بالاقترام باليقلم وتطور البحث العلم**

- (١) واجهت الهند المشكلة السكانية بسياسات تنموية مختلفة **والصناعة**
- (٢) وجود ثروة سمكية كبيرة بالولايات المتحدة الأمريكية لانها تطل على محيطين كبيرين
- (٣) وجود علاقات تجارية بين مصر ونيجيريا **والدلتان**
- (٤) **صت تصدر مصر إلى نيجيريا: أحمه ومصبرات ثقله والإبلاط الخاسيه والإطارات**
- (٥) **ي تدخل في معظم الصناعات مثل صناعة الاسلاك**

(٥) المادة الخام الرئيسية لمصر **الألومنيوم** **التلاريغ**

٣ (١) **صوب الكلمات التي تحتها خط، وأعد كتابة العبارات صحيحة:** **السياسي**

- (١) من إنجازات ثورة ٢٣ يوليو ١٩٥٢م في المجال **الاقتصادي** إلغاء الملكية وإعلان الجمهورية.
- (٢) ارتكب اليهود في فلسطين مذابح بشعة مثل مذبحه **عكا** عام ١٩٤٧م **د بر ياسين**
- (٣) أعلن الرئيس **جمال عبدالناصر** عن مبادرة السلام عام ١٩٧٧م **محمد انور السادات**
- (٤) استعادة مصر طابا من إسرائيل عن طريق **قرار الحرب**. **التحكيم الدولي**
- (٥) العدوان الثلاثي على مصر عام ١٩٥٦م حرب شنتها كل من **الولايات المتحدة وألمانيا وروسيا**.

(ب) **ما النتائج التي ترتبت على ... ؟ اعطى المراه حق الترشح والانتخابات من حيث النوا**

- (١) صدور دستور ١٩٥٦م بالنسبة للمرأة في مصر.
- (٢) بناء السد العالي في مصر. أدى ذلك إلى حمايه البلاد من خطر الفيضانات **وتحريم المياه وتوليد الكهرباء**
- (ج) **ما رأيك في: موقف الدول العربية أثناء حرب أكتوبر ١٩٧٣م؟ صت دعمت الدول العربيه**

٤ (١) **اكتب الاسم المناسب الذي يحدد كل عبارة من العبارات الآتية**

- (١) الرئيس المصري الذي فاز في الانتخابات الرئاسية عام ٢٠١٤م **عبد الفتاح السيسي**
- (٢) القائد الذي تولى القيادة العامة للموحدة للقوات المصرية والسورية في حرب أكتوبر ١٩٧٣م **عبد الباقى صالح**
- (٣) أصدرت أول مجلة نسائية في مصر عام ١٩٠٧م ثم تحولت إلى جريدة عام ١٩٠٨م **مجلة صافى**
- (٤) قائد سلاح الطيران المصري في حرب أكتوبر ١٩٧٣م **محمد حسني مبارك**
- (٥) أول رئيس للجمهورية المصرية بعد إلغاء الملكية وإعلان الجمهورية. **محمد نجيب**

(أ) كان لم يتم إنشاء وطن قومي لسودان في فلسطين

كان لم يتم السماح لهجرة أعداد كبيرة من اليهود إلى فلسطين
كان لم يتم السماح بإنشاء صليبي الأراضي من عرب فلسطين

المشرك إلى السودان
عن طريق

(ب) ماذا كان يحدث إذا ... ؟

(١) لم يصدر وزير خارجية بريطانيا تصريح بلفور عام ١٩١٧ م.

(٢) لم يتم تأمين شركة قناة السويس البحرية. كانت لم تعالج شركة قناة السويس منذ يوليو

١٩٥٦ شركة مصرية تحت إداره مصرية ولستم وجود الالفين في شركة قناة السويس

(ج) **وضح المقصود بـ:** الدستور. نظام الحكم في الدولة وكذا شكلها وافتتاح المؤسسات الدستورية المختلفة



أجب عن الأسئلة الآتية: **أولاً** الجغرافيا

١ (أ) أمامك خريطة لدولة الهند،

وضح مدلول الأرقام المدونة عليها:

(١) خليج البنغال

(٢) العاصمة السياسية

(٣) هضبة...الدركن

(٤) جبال الهيمالايا



(ب) **دلل جغرافياً على صحة كل عبارة**

١- يعد مصر **رأياً** **صحيحاً** لفضاء الرنسان **جانب** الاركان **واحيوانات** من العبارات الآتية: **ع** - ترتبط به تربية الحيوانات **الحيوانات** مثل البطاطا

٣- **يملك** **مصدر** مهم **للسمواد الخام** الزراعي **اللازمة** لبعض **المنتجات** مثل **الخطاط** (١) النشاط الزراعي من الأنشطة الاقتصادية الأساسية في العالم. **الطبيعي** **ومحاصيل** **البان**

٢- **ضمان** **الحياه** **الاجلي** **ومناج** **المواد** **الغذائية** / **التقار** **التجارية** **الدافعة** **مع** (٢) لحرفة صيد الأسماك عوامل رئيسية ساعدت على تطورها. **الباردة**

٣- **توازر** **الموازين** **لرسو** **سفن** **الصيد** / **توازر** **ضخبات** **علمية** **رفيه** **في** **صناعة** **ادوات** **الهد** (٣) توجد علاقات وثيقة بين مصر ونيجيريا. **التوسع** **في** **ترتبه** **الاحكام** **على** **المدى** **المدى**

٣- **تصدر** **مصر** **إلى** **نيجيريا** : **أسده** / **اسلاك** **نحاسية** / **سواير** **الوقنيوم** / **اطارات** / **معدات** **موتور** **كهربية** / **تستورد** **مصر** **من** **نيجيريا** : **السلع** **الزراعية** **المهم**

(ج) **حدد** **أولى** **دول** **العالم** **إنتاجاً** **لكل** **من** : **السوليات** **المتحدة**

١) **قصب** **السكر** . **البرازيل** (٢) **الغاز** **الطبيعي** . **الولايات** **المتحدة** (٣) **معدن** **النحاس** . **مستل** **المحسوب** **الترتبه**

(د) **ما** **العلاقة** **بين** ... ؟ (١) **تدفق** **البترو** ، **وحرفة** **الرعي** **البدائي** **في** **وسط** **البادية** **الصح**

(٢) **البوكسيت** ، **والألومنيوم** .

بعد **البوكسيت** **المادة** **الخام** **الرئيسية** **لصناعة** **الالومنيوم**

٢ (أ) **ما** **النتائج** **المرتتبة** **على** ... ؟ **أدى** **ذلك** **إلى** **مقو** **بها** **مضام** **الالات** **والممكنة** **الزراعية**

(١) **صغر** **مساحة** **الحقول** **الزراعية** **في** **نطاق** **الزراعة** **الكثيفة** . **فيها**

(٢) **الوحدة** **الاقتصادية** **الأوروبية** .

أدى **ذلك** **إلى** **حدوث** **تكام** **في** **جميع** **الجوانب** **الاقتصادية** **في** **أقليم** **غرب** **وسط** **أوروبا**

ومما **يتميز** **بها** **ويعتبر** **من** **أهم** **الأسباب** **الاستعداد** **الأوروبي**

(ب) اختر الإجابة الصحيحة مما بين القوسين :

(١) تحتل المركز الأول في إنتاج الأسماك في العالم دولة

(٢) تنتشر الزراعة البسيطة في المناطق (الصين - الهند - تايلاند - السويد)

(٣) من المحاصيل التي تستخدم في صناعة إطارات السيارات (المعتدلة - الباردة - الحارة - المعتدلة الباردة)

(٤) مدينة نيويورك ميناء مهم في الولايات المتحدة الأمريكية وتطل على (القطن - المطاط - الكتان - الجوت)

(المحيط الهادي - المحيط الهندي - المحيط الأطلنطي - البحر المتوسط)

(ج) اكتب المصطلح الجغرافي لكل عبارة من العبارات الآتية :

(١) المنتج الثاني للثروة الحيوانية بعد اللحوم الحمراء. **اللبان**

(٢) نبات دائم الخضرة موطنه الأصلي شرق آسيا. **الشاي**

(٣) يعد أهم مصادر الطاقة لارتباطه بالتنمية الاقتصادية والاجتماعية والعلاقات السياسية. **البترو**

(د) ماذا يحدث إذا : أخذت الدول النامية بالأساليب العلمية في الصناعة ؟

ستمع في صحف الدول المتقدمة ولن تظهر لتقدير ثروتها المعدنية كمادة خام

للدولة المتقدمة وبالتالي سيرتفع مستوى المعيشة للأفراد

ثانياً التاريخ

(٢) (١) اختر الإجابة الصحيحة مما بين القوسين :

(١) أعطيت بريطانيا حق الانتخاب على فلسطين بموجب مؤتمر سان ريمو في أبريل ١٩٢٠م

والذي عقد بدولة

(فرنسا - روسيا - إيطاليا - ألمانيا)

(٢) غادر الملك فاروق البلاد قبل الموعد الذي تم تحديده من قادة ثورة ٢٣ يوليو ١٩٥٢م

بسبب (إدراكه أن الجيش والشعب يكرهان حكمه - رغبة الإنجليز في ذلك -

تخلي أسرته عنه - عدم رغبته في الاستمرار في الحكم)

(٣) تم تحقيق أول تجربة للوحدة العربية وكانت بين مصر و..... في فبراير ١٩٥٨م.

(ليبيا - السودان - العراق - سوريا)

(٤) عادت إلى السيادة المصرية في مارس ١٩٨٩م بعد حكم محكمة العدل الدولية

الداخلية : حيث قاصت بـ ١- رفع الرقابة عن الصحف (رفح - طابا - العريش - دمياط)

٢- إصدار دستور جديد للبلاد / ٤- اعداد الجيش وتسلحه

(ب) دلل على صحة كل عبارة مما أتى : ١- القضاء على مراكز القوى الاستعمارية عيها

(١) عملت مصر على تهيئة الجبهتين العربية والداخلية استعداداً للحرب أكتوبر ١٩٧٣م

(٢) شهدت الثورة ما بعد ثورة ١٩١٩م وحتى ثورة ٢٣ يوليو ١٩٥٢م نهضة نسائية ودوراً رائداً

للمرأة في مختلف المجالات. طيب شاركنا إلى جانب الوطن في المظاهرات به نحن

(ج) وضح : أهم ما أثبتته أحداث وقائع ثورة ٢٥ يناير ٢٠١١م. **عند الطراوي رئيسها / الصحف**

١- مدى استمرار الشعب المصري على الأتمار من أجل تحقيق مطالبه

٢- أن الجيش المصري قوة **الاستجابة** سريعة ومثابرة على مطالب الشعب

٣- دعم المظاهرات وإجلاء الثورة

٤ (١) اكتب ما تشير إليه كل عبارة من العبارات التالية :

(١) أبشع المذابح التي ارتكبتها العصابات اليهودية المسلحة ضد الفلسطينيين بعد قرار

تقسيم فلسطين مباشرة عام ١٩٤٧م. هـ **مذبحة دير ياسين**

(٢) نجحت مصر في بنائه أثناء حرب الاستنزاف رغم التحديات على الضفة الغربية لقناة

السويس مما منع اختراق الطائرات الإسرائيلية للأجواء المصرية حاتم **الصاروخ**

(٣) الوثيقة الرسمية التي تحدد نظام الحكم في الدولة وشكل واختصاصات المؤسسات

المختلفة. **الدستور**

منظمة

(٤) منظمة عالمية تضم في عضويتها جميع دول العالم المستقلة ومقرها نيويورك. **الأمم المتحدة**

(ب) **أجب حسب المطلوب:** استنزاف موارد مصر لزمه بريطانيا وحلفائها مما أدى إلى

ارتفاع الإقراض المصري / زيارة مناداة لقرار التمسك

(١) حدد الآثار التي ترتبت على : أن أصبحت مصر ميداناً لمعارك الحرب العالمية الثانية.

(٢) و إقامت قوانين للتأمينات الاجتماعية والمعاشات للموظفين

(٣) أوضح : إنجازات ثورة ٢٣ يوليو ١٩٥٢م للعمال والموظفين. **جاءت بـ** تحديد

ساعات العمل لشرك العمال والموظفين في مجالس إداره الشركات والمعانع مع كد يسهلهم من

(ج) **في رأيك ما الدروس المستفادة من :** أسباب هزيمة الدول العربية في عدوان ٥ يونيو ١٩٦٧م ؟ الأربع

١- تطورت وتزويد الجنود بالأسلحة الحديثة

٢- زيادة التدريب لدى الجنود

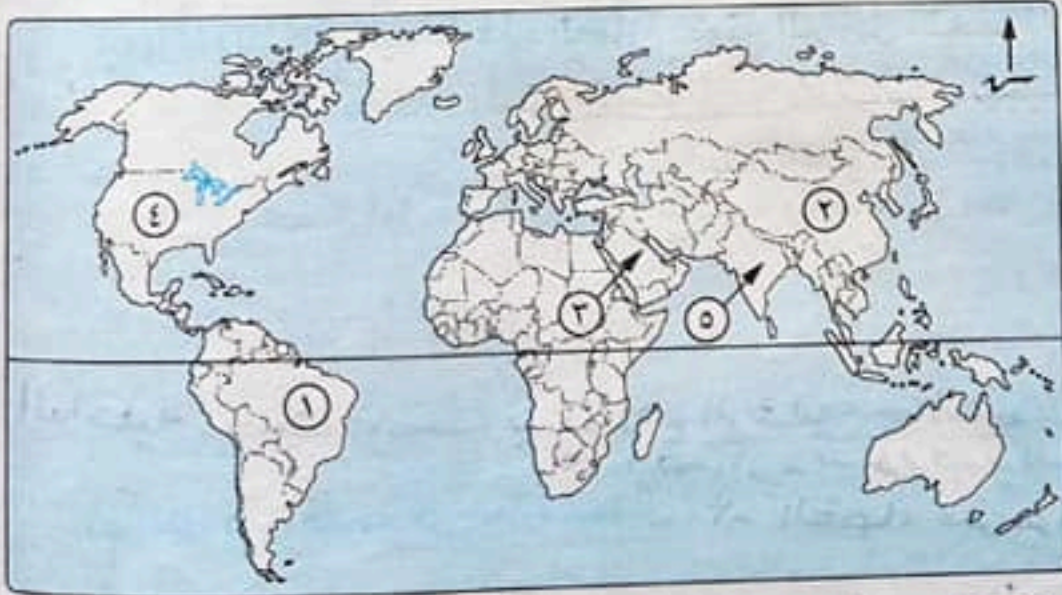


محافظة المنيا

١٧

أولاً الجغرافيا

أجب عن الأسئلة الآتية:



١ (١) أمامك خريطة للعالم.

اكتب الأرقام الدالة

على العبارات الآتية :

(١) أولى الدول إنتاجاً

للبنزين رقم **(٣)**

(٢) أكبر الدول إنتاجاً

للألبان رقم **(٥)** ...

(٣) قارة تأتي في المرتبة

الأولى إنتاجاً للذرة رقم **(٤)** ...

(٤) أولى دول العالم إنتاجاً للحديد رقم **(٥)** ...

(أ) يعد القمح الغذاء الرئيسي لمعظم شعوب العالم لأنه يزرع في صناعة
الخميرة والخبز والكتوابت
(ب) يزيد معدل الاستهلاك العالمي من اللحوم بسبب ارتفاع مستوى المعيشة
امتحانات المحافظات

(ب) «تنوعت الأنشطة البشرية منذ القدم». في ضوء العبارة، أجب عما يأتي :

- (1) وضح : الأهمية الاقتصادية للقمح.
- (2) حدد الارتباط بين : مستوى المعيشة ، والاستهلاك العالمي للحوم.
- (3) إلى أي : الأقاليم الصناعية تنتمي جزيرة هنشو ؟ أقليم شرق آسيا
- (4) ماذا يحدث إذا : اختفت المسطحات المائية داخل وخارج الصين ؟
لم تصبح أولى الدول المنتجة للأسماك

(ج) اختر الإجابة الصحيحة مما بين القوسين :

- (1) تعد دولة مصر أكبر الدول الأفريقية في إنتاج
(البنجر والقطن - الأصواف والجلود - الفحم والبتروول - النحاس والبيوكسيت)
- (2) أهم الدول العربية المصدرة للحديد (السودان - موريتانيا - ليبيا - جيبوتي)
- (3) تحتوى قارة على أكبر غابة استوائية في العالم.
- (4) تصب معظم الأنهار بدولة ألمانيا في

(البحر البلطى - البحر الأسود - البحر المتوسط - بحر الشمال)

2 (أ) بم تفسر ... ؟
حيث أن الدول المتقدمة ماكنى الدول التي تطورت فيها الصناعة
تطوراً ملحوظاً أخذ به الناس العلمية الحديثة في تطبيق الآلات
(1) تطور الصناعة في الدول المتقدمة. والآلات من تطوير وتتمتع المنتجات الصنعية

- (2) انكماش مساحة الحشائش في السهول الساحلية بألمانيا. بسبب الزراعة وحلها وأنواع
- (3) تركيز السكان في غرب وشمال نيجيريا بسبب وجود الأراضي الزراعية والحرارة ومنطقة
- (4) استخدام الغاز الطبيعي على نطاق واسع في الصناعة. حيث أنه من مصادر الطاقة

خطية الشمس بوجه النقل ولقد تلويث للبيئة
(ب) (1) دلت على صحة هذه العبارة : تعتبر البرازيل متحف للأجناس البشرية. نيجيريا ونقد هراً
حيث أدى المناخ الاستوائي بنيجيريا ذلك أن صحتي الانحجار إلى صافه نيجيريا ونقد هراً
(2) ما العلاقة بين : المناخ الاستوائي، والأخشاب في نيجيريا أهمي كذا خشب

(3) اكتب المصطلح الجغرافي لكل عبارة مما يأتي :

- (1) رعى يمارسه سكان المناطق الصحراوية في مساحات واسعة في قارات العالم. بدائى
- (2) نبات دائم الخضرة موطنه الأصلي شرق آسيا. المئى

(ج) (1) أكمل الجدول الآتى :

المنتج	أولى الدول المنتجة	الأهمية الاقتصادية
الأغنام	1.	اللحوم الحمراء والأصواف
النحاس	الصين شيلي	صناعة الاسلاك والادوات الكهربائية

(2) لاجوس.

(2) حدد ما يميز كل مدينة مما يلي : (1) برازيليا.

العاصمة البرازيلية
العاصمة القديمة والاقتصادية
أكثر المدن النيجيرية
تكدس السكان

MR. Osama Ghobashy

MR. Osama Ghobashy

٣ (١) اكتب كلمة (صواب) أمام العبارة الصحيحة، وكلمة (خطأ) أمام العبارة غير الصحيحة:

- (١) اهتمت ثورة ٢٣ يوليو ١٩٥٢م ببعض الصناعات لخدمة المجال الزراعي. (✓)
- (٢) أعطى الرئيس جمال عبدالناصر إشارة بدء حرب أكتوبر ١٩٧٣م. (X)
- (٣) كان للمرأة المصرية دور واضح في الصحافة منذ العقد الأول من القرن العشرين. (✓)
- (٤) مجلس الأمن له سلطة قانونية على حكومات الدول الأعضاء في الأمم المتحدة. (✓)
- (٥) اعترضت هيئة الأمم المتحدة عام ١٩٤٧م على تقسيم فلسطين. (X)

(ب) بم تفسر...؟ حيث أنه بعد حرب أكتوبر ١٩٧٣م فكر في انهاء الصراع العربي/الإسرائيلي فبادر بزيارة إسرائيل وتنازل عن ديار السلام العادل لكل شعوب المنطقة زوا العالم كبقية لهاقات وسوارد استلاد (الباريه والبشرية) (١) أطلق على الرئيس السادات لقب رجل الحرب والسلام فأنه به سله من الحروب استنزفت لسياسة الخصم حيث تم بيع موبسات الدول قبل من عرفنا الحق واتبعه ساه (٢) تدهور الأحوال الاقتصادية في مصر قبل ثورة ٢٥ يناير ٢٠١١م. سبب التطبيق غير العلم (٣) أهمية إصدار دستور مصر الدائم عام ١٩٧١م. الذي نفتح الذا فتصالح بون مع إسرائيل (٤) فلسطيين لها أهمية خاصة في قلوب العرب (٥) إنشاء منظمة الصحة العالمية.

لتوفير أفضل سبل الرعاية الصحية لجميع الشعوب/ نشر الوعي بحماية مياه الشرب من التلوث

٤ (١) حدد المقصود بكل عبارة من العبارات الآتية:

- (١) تولى رئاسة الحكومة المصرية عقب حادث فبراير ١٩٤٢م. مصطفى النحاس باشا
- (٢) وضع خطة الخداع لصرف أنظار إسرائيل عن التجهيزات الهجومية لحرب ٦ أكتوبر ١٩٧٣م.
- (٣) أنشأ عدة مجالس استشارية لا سلطة لها في مصر مثل مجلس المشورة. محمد علي
- (٤) اتفاقية وقعت بواشنطن بين إسرائيل ومنظمة التحرير الفلسطينية بعد محادثات سرية.

(ب) ما النتائج التي ترتبت على...؟ ادعى ذلك استلاد إسرائيل على جميع الأوطان فلسطين

- (١) هزيمة الجيوش العربية في حرب فلسطين ١٩٤٨م. واليهود (فتحت بين العرب
- (٢) لجوء مصر إلى التحكيم الدولي في سبتمبر ١٩٨٨م. الذي ذلك إصدار محكمة العدل الدولية
- (٣) ثورة ٢٥ يناير ٢٠١١م. طاب للبياد المصرية من مارس ١٩٧٩
- (٤) توقيع معاهدة ١٩٣٦م. كمبارك الحرب العالمية الثانية واستضافت بريطانيا وفرنسا
- (ج) «لقد كانت حرب أكتوبر ١٩٧٣م حدثاً فريداً ونقطة تحول في مسار الصراع العربي/الإسرائيلي» (١) حثي قرر زلزال النجم العربي قراراً في اجتماع بالكويت نها على خفض إنتاج البترول وحظر الصادرات البترولية. (٢) دور الدول العربية في دعم مصر وسوريا أثناء الحرب سياسياً. (٣) ما رأيك في تبني مصر استراتيجية جديدة نحو القارة الأفريقية.

اتفق حيث كانت الإستراتيجية

- ١ - العهد على تذليل العقبات التي تواجه تصديق المل الافريقي المشترك
- ٢ - تشجيع ابناء القارة على بناء المشروعات القارية الرائدة لتطوير البنية التحتية الليريقه
- ٣ - رسم الاسواق الافريقيه وتفصيل اتفاقية التجارة الحرة

أولاً الجغرافيا

أجب عن الأسئلة الآتية :

(أ) أمامك خريطة لدولة نيجيريا، اكتب مدلول الأرقام الموضحة عليها :

(١) مضبة جوس

(٢) دولة النيجر

(٣) خليج عنيا

(٤) مدينة لاجوس



(ب) اكتب ما تشير إليه كل عبارة من العبارات الآتية :

- (١) نوع من الزراعة ينتشر في المناطق الحارة على هوامش الغابات الاستوائية. زراعة بدائية بيضاء
- (٢) نوع الرعى الذي يسود في مناطق الحشائش في العالم. رعى تحارى
- (٣) استخراج المعادن ومصادر الطاقة من باطن القشرة الأرضية. التعدين
- (٤) تعتبر العمود الفقري للاقتصاد الألماني. الحناية

(ج) اشرح... ؟ بسبب ملائمة ظروف المناخ والتربة اللازمه لزراعة

- (١) تركيز زراعة البنجر وإنتاجه في أوروبا وأمريكا الشمالية.
- (٢) زيادة معدل الاستهلاك العالمى للحوم الحمراء بسبب ارتفاع مستوى المعيشة من كثر من دول العالم.
- (٣) يعد المبتورول أهم مصادر الطاقة بسبب ارتفاعه بالتسمية الاقتصادية والامتناعية والعلاقات السياسية.
- (٤) شهدت الهند قفزات سريعة في تطور الصناعة.

بسبب توافر مقومات الصناعة بها والاحتياج بالعلم والبحث العلمى

(١) اختر الإجابة الصحيحة مما بين القوسين :

- (١) أولى قارات العالم إنتاجاً للقمح (آسيا - أوروبا - أفريقيا - أستراليا)
- (٢) المصدر الرئيسى للحوم الحمراء لغالبية سكان العالم (الأغنام - الماعز - الأبقار - الجاموس)
- (٣) أكبر دول العالم إنتاجاً للحديد (مصر - العراق - المغرب - الصين)
- (٤) إحدى المقومات الطبيعية للصناعة (مصادر الطاقة - السوق - رأس المال - الأيدي العاملة)
- (٥) الخام الرئيسى لمعدن الألومنيوم (الحديد - البوكسيت - النحاس - المنجنيز)



MR. Osama Ghobashy

(ب) «تنوع الأنشطة الاقتصادية في دول العالم». في ضوء هذه

(1) وضح : الظروف المناخية لزراعة الشاي.

(2) قارن بين : مصادر إنتاج الكهرباء الحرارية ومصادر إنتاج الكهرباء المائية.

فيم استرول / انما زطيم

ثانياً التاريخ

٣ (1) إلى من تنسب الأعمال الآتية ... ؟

(1) أذاع البيان الأول لثورة ٢٣ يوليو ١٩٥٢م من دار الإذاعة المصرية. محمد انور السادات

(2) رئيس أركان حرب القوات المسلحة المصرية الذي استشهد في حرب الاستنزاف. اول من العلم

(3) قائد سلاح الطيران في حرب أكتوبر ١٩٧٣م. محمد حسني مبارك

(4) الرئيس الأمريكي الذي دعا لعقد مؤتمر كامب ديفيد. كارتر

(5) أنشأ مجلس المشورة. محمد علي

ج - تخزين المياه وتوسيع الكهرباء

(ب) حدد نتيجة واحدة ترتبت على كل من :

(1) إنشاء السد العالي عام ١٩٧١م. أدى ذلك إلى - حماية البلاد من خطر الفيضان

(2) معركة رأس العش. حزيمة للقوات الإسرائيلية عند محاولتها احتلال مدينة بورفؤاد

(3) مؤتمر مدريد للسلام عام ١٩٩١م. حدود مفاوضات حرب بين اسرائيل ومنظمة التحرير

العام والحاكم وحكم اهل الوطن الاستعانة بالقوات المسلحة في ثورة ٢٥ يناير ٢٠١١م. أدى ذلك إلى تأمين وصيانة التملكات

(5) تعاون منظمة اليونسكو مع مصر. أدى ذلك صاعده صنعها اليونسكو لعمير

حي قامت منظمها اليونسكو ب - احياء معابد ابوسمبل ج - احياء مكتبة الاسكندرية

٤ (1) اكتب كلمة (صواب) أمام العبارة الصحيحة، وكلمة (خطأ) أمام العبارة غير الصحيحة :

(1) قامت ثورة ٢٣ يوليو ١٩٥٢م بإلغاء الملكية وإعلان الجمهورية. (✓)

(2) أعطى مؤتمر سان ريمو إيطاليا حق الانتداب على فلسطين. (X)

(3) عبرت القوات السورية خط (ألون) في حرب أكتوبر ١٩٧٣م. (✓)

(4) ساهمت مواقع التواصل الاجتماعي في اندلاع ثورة ٢٥ يناير ٢٠١١م. (✓)

(5) أنشأ محمد علي أول مدرسة لتعليم البنات عام ١٨٧٣م. الخديو اسماعيل (4)

(ب) «تساند مصر القضية الفلسطينية من خلال المنظمات الإقليمية والدولية».

في ضوء هذه العبارة، أجب عن الأسئلة الآتية :

(1) ما المقصود ب: عدم الانحياز؟ عدم الانضمام لأي من الكتلتين الشرقية او الغربية

(2) حدد : موقف العرب من مشروع تقسيم فلسطين عام ١٩٤٧م

(3) وضح : دور مصر في منظمة المؤتمر الإسلامي المؤتمرات الاسلامية وانها مؤتمر القمة الاسلامي

(4) ما رأيك في : دور مجلس الأمن ؟

اعجبني هي انه من اتم اجهزه الامم المتحدة هي انه صنوع عن كعق

السلام والا من الدوليين وله سلطه قا نونيه على حكومات الدول الاعضا

أولاً الجغرافيا

أجب عن الأسئلة الآتية:

(١) أمامك خريطة لجمهورية الهند،

اكتب مدلول الأرقام المدونة عليها:

(١) جبال... الهيمالايا

(٢) دولة... باكستان

(٣) البحر... العربي

(٤) جزيرة... سيلان

(ب) اكتب ما تشير إليه كل عبارة من العبارات الآتية:

(١) زراعة يعمل بها عدد قليل من السكان في

مناطق معزولة وصغيرة. زراعة برايا بسيطة

(٢) نوع رعى يرعى فيه كل نوع من الحيوانات في مزارع خاصة به دون الاختلاط بحيوانات

أخرى. رعى هيرت تجارى

(٣) معدن يستخدم في صناعة الأسلاك والأدوات الكهربائية. النحاس

(٤) إقليم صناعى هو أكبر الأقاليم الصناعية في العالم الجديد. افكيم شمال شرق الولايات المتحدة الأمريكية

(ج) بم تفسر: أسعار البترول في زيادة مستمرة؟

بسبب زيادة الطلب عليه ولقد استخدمته كمانه من مصادر الطاقة القابلة للنفاد

(١) اختر الإجابة الصحيحة مما بين القوسين:

(١) تنتج أوروبا معظم إنتاجها من السكر من محصول.....

(قصب السكر - البنجر - البلح - العنب)

(٢) تعد..... المصدر الرئيسى للحوم الحمراء لغالبية سكان العالم.

(الأبقار - الأغنام - الإبل - الجاموس)

(٣) تحتل دولة..... المركز الأول في إنتاج الدواجن.

(البرازيل - الولايات المتحدة الأمريكية - الصين - الهند)

(٤) يشكل البترول مع..... نحو ٥٥٪ من الطاقة المستخدمة في العالم.

(الفحم - الغاز الطبيعي - طاقة الرياح - الطاقة النووية)

(ب) اكتشف الكلمة المختلفة في كل مجموعة من المجموعات الآتية، ثم اذكر السبب :

- (١) القطن - الكتان - اللطاطال - الجوت. الباقي **محايل العياق** .
 (٢) الأيدى العاملة - السوق - **مصادر الطاقة** - رأس المال. الباقي عوامل بشرية لقيام العمل

(ج) في أي الدول توجد المدن الآتية ...؟ وما شهرتها ؟

- (١) لاجوس . العاصمة الفيد (٢) هامبورج . ألمانيا : أهم الموانئ وقريبة من بحر الشمال
 تعتبر العاصمة الاقتصادية
 أكبر المدن النيجيرية وأكثرها سكاناً
ثانياً التاريخ

٣ (١) أكمل العبارات الآتية بالكلمات المناسبة :

- (١) من أسباب العدوان الثلاثي على مصر عام ١٩٥٦م مساندتها لحركات التحرر ضد الاستعمار الفرنسي في الجزائر
 (٢) تم تدمير خط الدفاع الإسرائيلي أثناء حرب أكتوبر ١٩٧٣م في هضبة الجولان وكان يعرف باسم **خط أكون**
 (٣) كانت الدعوة إلى مؤتمر للسلام عام ١٩٩١م تؤكد على مبدأ الأرض مقابل السلام.
 (٤) تختص منظمة الأغذية والزراعة (الفاو) بأعمال الزراعة ومقرها مدينة روما

(ب) ما المقصود بكل من ...؟
 يطلق على التحالف النيابي الذي تتولى السلطة التشريعية بالمرح **باريغاليا**
 (١) البرلمان
 (٢) عدم الانحياز

(ج) "تجمعت عدة عوامل لقيام ثورة ٢٣ يوليو ١٩٥٢م". في ضوء العبارة، أجب عما يأتي من كل موارد
 حيث ان معاهدة ١٩٦٥ جعلت مصر من الدول النامية الثانية واستراحت كل موارد
 (١) دلت على : أثر معاهدة ١٩٣٦م على تدهور الحياة الاقتصادية لمصر. مصر الاقتصادية لمصر
 بريطانيا وحلفائها صمادى الى ارجاء الاقتحار المصري
 (٢) حدد : نتائج هزيمة العرب في حرب فلسطين ١٩٤٨م

٤ (١) اكتب كلمة (صواب) أمام العبارة الصحيحة، وكلمة (خطأ) أمام العبارة غير الصحيحة
 (١) وافق الملك فاروق على مغادرة البلاد قبل الموعد المحدد من قادة ثورة ٢٣ يوليو ١٩٥٢م.

- (٢) لم تكن ثورة ٢٥ يناير ٢٠١١م وليدة هذا التاريخ.
 (٣) فشل مؤتمر كامب ديفيد بين الرئيس السادات وبيجين ولم يصل إلى نتائج.
 (٤) أيدت فرنسا فكرة إنشاء وطن قومي لليهود في فلسطين وأصدرت وعد بلفور.
 (ب) من أكون ...؟

- (١) أسست تنظيم الضباط الأحرار. مجاله غير الناصر
 (٢) أنشأت أول مدرسة لتعليم البنات عام ١٨٧٣م. الخديو اسماعيل

(ج) دلل تاريخياً على صحة كل عبارة مما يأتي :

- (١) لثورة ٢٣ يوليو ١٩٥٢م إنجازات في مجال الزراعة.
- (٢) لعبت الولايات المتحدة الأمريكية دوراً مهماً في حرب أكتوبر ١٩٧٣م بالنسبة لإسرائيل.



محافظة قنا

٢٠

أجب عن الأسئلة الآتية:

أولاً الجغرافيا

١ (١) أمامك خريطة لدولة ألمانيا، اكتب

مدلول الأرقام الموضحة عليها :

(١) البحر... البلطى

(٢) دولة... النمرك

(٣) العاصمة... السيساسيه

(٤) جبال... الألب



(ب) «نيجيريا إحدى دول غرب أفريقيا وهي دولة غنية

بالثروات المختلفة». في ضوء هذه العبارة، أجب عما يأتي :

(١) الدولة التي تحد دولة نيجيريا من ناحية الغرب بتينين

(٢) أين يزرع الأرز في دولة نيجيريا؟ في الجنوب

(٣) السبب في وجود أعداد كبيرة من الأبقار والأغنام والماعز في نيجيريا بسبب وجود مراعى
 حشائش العاقانا

(ج) صوب ما تحته خط :

(١) الغذاء الرئيسى لمعظم شعوب العالم هو محصول الذرة. القمح

(٢) معظم إنتاج الصين من اللحوم الحمراء من لحوم الأبقار. الخنازير

(٣) يحد دولة البرازيل من الشرق والشمال الشرقى المحيط الهادى. الأطلنطى

٢ (١) اختر الإجابة الصحيحة مما بين القوسين :

(١) * يدخل محصول المطاط الطبيعى فى صناعة

(البتروكيماويات - المنسوجات - إطارات السيارات - الأحذية)

(٢) من أهم الدول المنتجة للنحاس فى العالم دولة

(موريتانيا - السعودية - تايلاند - شيلي)

(٣) من المقومات البشرية للصناعة توافر

(الأيدي العاملة الماهرة - المواد الخام - مصادر الطاقة - الموقع المتميز)

(٤) جزيرة هنشو اليابانية تنتمي إلى إقليم الصناعي .

(غرب أوروبا - شرق آسيا) - شمال شرق الولايات المتحدة الأمريكية - روسيا وأوكرانيا)

(ب) بم تفسر ... ؟ بسبب امتلاكها سواحل هائلة على طول المحيط الأطلسي

(١) تُعد البرازيل من الدول المنتجة للأسمك .

(٢) أسعار البترول في زيادة مستمرة بسبب زيادة الطلب عليه وتعدد استثمارات

(٣) أهمية تربية الدواجن في كل دول العالم. تساهم بمنتجاتها من اللحوم والبيض في

حاجة سكان العالم من الغذاء

ثانياً التاريخ

٣ (١) من تنسب الأعمال الآتية ... ؟

(١) الرئيس المصري الذي زار إسرائيل من أجل السلام عام ١٩٧٧م. محمد أنور السادات

(٢) رئيس المحكمة الدستورية العليا الذي تسلم سلطة الحكم في مصر عقب ثورة

٣٠ يونيو ٢٠١٣م. المستشار عدلي منصور

(٣) أنشأ مجلس شورى النواب. حديد اسماعيل

(٤) أول رئيس لجمهورية مصر العربية. محمد نجيب

(ب) دليل تاريخياً على صحة العبارات الآتية :
هيئة جيل التعليم بالبحر في مراقبة المختلفة بما فيها التعليم الجامعي

(١) لقد اهتمت ثورة ٢٣ يوليو ١٩٥٢م بالتعليم. كذا ربح - انقاذ معابد ابو سمبل لتجنب

هيئة قامت منظمة اليونسكو - احياء مكتبة ابي كزريق - انقاذ معابد ابو سمبل لتجنب

(٢) لمنظمة اليونسكو دوراً في المحافظة على الآثار المصرية. تعرضها للفرق

(٣) كان للاتحاد السوفيتي دوراً في فشل العدوان الثلاثي على مصر عام ١٩٥٦م.

هيئة حدد الاتحاد السوفيتي بالتدخل بوقف العدوان الثلاثي على مصر ١٩

٤ (١) أكمل العبارات الآتية بالكلمات المناسبة :

(١) قامت ثورة ٢٣ يوليو ١٩٥٢م ضد الملك ... فاروق

(٢) منظمة الاتحاد الأفريقي من أمثلة المنظمات ... الإقليمية

(٣) أول مجلة نسائية مصرية هي ... مجلة الرخاوة

(٤) شغلت الدكتورة عثمان. منصب رئيس اللجنة التشريعية بمجلس الشعب.

(٥) من أسباب قيام ثورة ٢٥ يناير ٢٠١١م استمرار العمل بقانون ... الطوارئ

- (١) - هي قامت بتوحيد الصف العربي و تصفية الخلافات
 (٢) - الاستعادة بكل الموارد والامكانيات العربية المتاحة
 (٣) رفعت الدول العربية مشروع التقسيم لفلسطين ١٩٤٧ امتحانات المحافظات

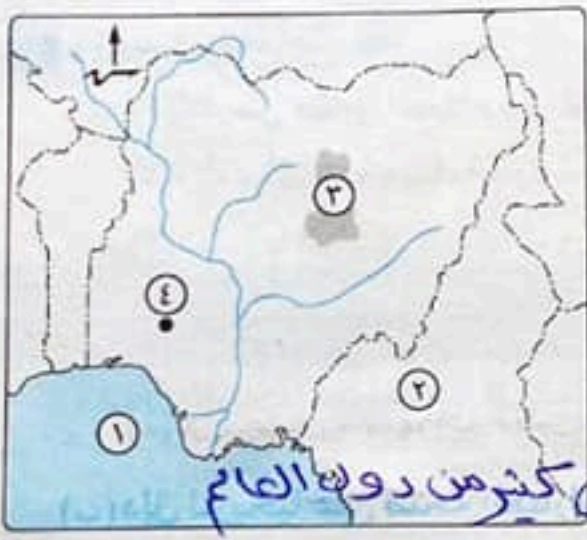
(ب) «لقد تعددت الحروب والصراعات بين العرب وإسرائيل»
 في ضوء هذه العبارة، وضح :

- (١) كيف استطاعت مصر تهيئة وإعداد الجبهة العربية لحرب أكتوبر ١٩٧٣ م.
 (٢) موقف الدول العربية من مشروع تقسيم فلسطين ١٩٤٧ م.

الهضبة التي قامت إسرائيل بالاستيلاء عليها من سوريا في حرب ٥ يونيو ١٩٦٧ م. الجولان
 (٤) دور وزراء النفط العرب أثناء حرب أكتوبر ١٩٧٣ م. وحظر الصادرات البترولية خاصة بها
 (٥) رأيك في استعادة مصر لطايبا.
 وافق على استعادتها مع طابا بالمرق السلمة عن طريق التحكيم الدولي بهيئة العدل الدولية

٢١ محافظة الأقصر
 التي اصرت مصر
 محافظة الأقصر

اجب عن الأسئلة الآتية: اولاً الجغرافيا



١ (١) أمامك خريطة لدولة نيجيريا،

اكتب مدلول الأرقام الآتية :

- (١) خليج... نغنيا
 (٢) دولة... كاجيرون
 (٣) هضبة جوس
 (٤) مدينة ومركز التجارة. ايبادان

(ب) بم تفسر...؟ سبب ارتفاع مستوى المعيشة في أكثر من دول العالم

- (١) زيادة معدل الاستهلاك العالمي للحوم الحمراء.
 (٢) أهمية المرتفعات الوسطى بدولة ألمانيا. والتي يبيع المانيه
 (٣) كثرة إنتاج البرازيل من الأسماك. بسبب امتلاكها حوامل طويلة على طول المحيط
 المحيط الأطلسي

(ج) اكتب المفهوم الدال على العبارات التالية :

- (١) إقليم صناعي يُعد أكبر الأقاليم في العالم الجديد. شمال شرق الولايات المتحدة الأمريكية
 (٢) عاصمة إقليم باقاريا وبها مقر العديد من المصانع بألمانيا. ميونخ
 (٣) نشاط بشري يعد مصدر لتوفير الغذاء والمواد الخام. نسيج (زراعي)

٢ (١) اختر الإجابة الصحيحة مما بين القوسين :

(١) مدينة تقع على نهر الأمازون بالبرازيل

(برازيليا - ساوباولو - سانتوس - ميناؤوس)

(1) لتمثل العلاقة المصرية / الألمانية في 1 - هيئة التبادلية العلمانية
 2 - المركز الثقافي الألماني
 3 - الجامعة الألمانية بالقاهرة
 4 - معهد الدراسات الألماني



- (2) أولى دول العالم إنتاجًا للنحاس
 (3) محصول زراعي ذا طبيعة خاصة
 (4) نصف الإنتاج السمكي في العالم من

السعودية | الولايات المتحدة الأمريكية
 (المياه المالحة - الأنهار - المزارع السمكية - البحيرات العذبة)

(ب) **قارن بين:** البترول، والغاز الطبيعي، من حيث يرتبط بالتنمية الاجتماعية والاقتصادية والعلاقات السياسية
 الغاز الطبيعي: * أكبر الدول إنتاجًا * من مصادر الطاقة الأقل تلويثًا للبيئة * تسهله النقل ورضيه النبي ويستفم
 (ج) **ما العلاقة بين ... ؟** في الصائم والكسوفات المنزلية وتوليد الطاقة

(1) مصر، وألمانيا ثقافيًا وعلميًا. (2) التعليم، والرعي البدائي.
 (3) **كيف** انتشر التعليم في وسط آسيا في قلة العاملين بالزراعة والصيد والتمتع
 للعلماء والزراعة والصناعة والتمتع

ثانياً التاريخ

3 (1) صوب ما تحته خط:

- (1) الأرض مقابل السلام هو المبدأ الذي قام عليه مؤتمر كامب ديفيد. مدريد للسلام
 (2) الأمم المتحدة منظمة دولية ومقرها مدينة جنيف. نيويورك
 (3) اختارها الرئيس السادات وزيرة الشؤون الاجتماعية **هدى شعراوي**. عائشة راسب
 (4) أجبرت بريطانيا الملك فاروق في فبراير 1952م على تعيين **محمد نجيب** رئيسًا للحكومة. مظهر

(ب) **دلل تاريخيًا على صحة كل عبارة مما يأتي:** في 1 - السماح بوجهه أحد أكبره من اليهود
 ملكية الأراضي التي صنعت المشكلة الفلسطينية من صحاح العالم لعلمين 2 - السماح بانقل
 (1) بريطانيا هي التي صنعت المشكلة الفلسطينية من صحاح العالم لعلمين 2 - السماح بانقل
 (2) انتهت حرب أكتوبر 1973م حالة اللاحرب واللاسلم
 (3) الدور الثقافي لليونسكو في مصر
 (ج) **حدد المقصود بكل عبارة مما يأتي:**
 (1) الوثيقة الرسمية التي تحدد نظام الحكم وشكل المؤسسات الدستورية في الدول. الدستور
 (2) تولى القيادة العامة الموحدة للقوات المصرية والسورية في حرب أكتوبر 1973م **الميرمر اسماعيل**
 (3) عدم الانضمام لأي من الكتلتين الشرقية والغربية. حركة عدم الانحياز

4 (1) «تعتبر ثورة 23 يوليو 1952م نقطة تحول في مسيرة مصر وشعبها العظيم».

في ضوء العبارة أجب عما يأتي: حيث تم توقيع اتفاقه الميلاد عن مصر في أكتوبر 1952م

- (1) ما الإنجاز السياسي لـ: ثورة 23 يوليو 1952م الذي أدى إلى رحيل بريطانيا عن مصر؟
 (2) ماذا كان يحدث إذا: لم تساند مصر حركات التحرر في الجزائر؟
 (3) ما أهمية: بناء جائط الصواريخ على الضفة الغربية لقناة السويس أثناء حرب الاستنزاف؟
 أدى إلى منع اختراق الطائرات المصرية إلى إسرائيل للأجواء المصرية

تقدمت الولايات المتحدة الأمريكية بقرار لمجلس الأمن تضمن وقت
 القتل وإقامة تدفئة من شهر من شهر فلانها العرب والنهوض من حلب
 ولكن لم يلتزم الشهر بالصفحة وقا موقف تقوية قوتهم من شياهم واللام
 (ب) **الخر الإجابة الصحيحة مما بين القوسين** :
 (١) أصدرت أول مجلة نسائية في مصر عام ١٩٠٧م

(٢) كان تزوير الانتخابات البرلمانية سبباً في قيام ثورة
 (جميلة حافظ - أمال عثمان - هدى شعراوي - حكمت أبو زيد)

(٣) معاهدة السلام بين مصر وإسرائيل كانت برعاية
 (٤) وافقت الأمم المتحدة في عام ١٩٤٧م على تقسيم دولة
 (فرنسية - روسية - ألمانية - أمريكية)

(٥) مدينة استردتها مصر بالتحكيم الدولي
 قامت بـ ١ - عمارة وتأمين الممتلكات العامة والحمامة
 (ب) **ما دور كل من ... ؟** :
 (١) القوات المسلحة في ثورة ٢٥ يناير ٢٠١١م.

(٢) الولايات المتحدة الأمريكية في هزيمة العرب في حرب فلسطين ١٩٤٨م.

(٣) سوريا - العراق - فلسطين - لبنان
 (شرم الشيخ - طابا - دهب - العريش)

محافظة أسوان

٢٢

MR. Osama Ghobashy

اجب عن الأسئلة الآتية:

أولاً الجغرافيا

(١) أمامك خريطة لدولة ألمانيا، اكتب

مدلول الأرقام الموقعة عليها :

(١) مسطح مائي .. البحر البلطقي

(٢) عاصمة إقليم بافاريا .. ميونخ

(٣) دولة .. هولندا

(٤) أهم الموانئ .. هامبورج

(ب) **بم تفسر ... ؟** لاندها ستم من خلال عليات عديدة

١ - بذر الحبوب - ٢ - ري - ٣ - تنقية الحشائش

(١) تحتاج الزراعة الكثيفة إلى أيدي عاملة كثيرة ولها مساحتها

(٢) قلة عدد القائمين بحرفة الرعي البدائي في صحارى شبه الجزيرة العربية وبادية الشام.

(٣) تعد الصناعة الحديثة مقياساً رئيسياً لتطور الشعوب وازدهارها.

سنة أن الدول المتقدمة هي الدول التي تطورت فيها المياة تطورا ملحوظا

أخذة بالأساليب العلمية الحديثة وتطبيق الآلات والسيارات في تطوير

رقم المنتجات الصناعية

٢٣٧

(ب) اكتب كلمة (صواب) أمام العبارة الصحيحة، وكلمة (خطأ) أمام العبارة غير الصحيحة :

- (1) كان تنظيم الضباط الأحرار تنظيمًا سريًا. (✓)
(2) من إنجازات ثورة ٢٣ يوليو ١٩٥٢ في المجال الاجتماعي جعل التعليم بالمجان. (✓)
(3) تم توقيع معاهدة السلام بين مصر وإسرائيل في مارس ١٩٧٩ برعاية ^{أمريكية} سوفيتية. (✓)
(4) من الأسباب الاقتصادية لثورة ٢٥ يناير ٢٠١١ استمرار العمل بقانون الطوارئ. (✓)
(5) مرت الحياة النيابية في مصر بثلاث مراحل. (✓)

٤ (١) رتب الأحداث التاريخية التي تعبر عنها الصور التالية حسب ترتيب حدوثها تاريخيًا :

رحيل الملك
فاروق
٢٦ يوليو ١٩٥٢



(ب) ١



(١) ٤

ثورة
٢٥ يناير ٢٠١١

تحرير سيناء
ابريل ١٩٧٢



(د) ٢



(ج) ٣

استعادة
شباب ١٩٨٩

(ب) إلى من تنسب الأعمال التالية ... ؟

- (1) أعلن البيان الأول لثورة ٢٣ يوليو ١٩٥٢. محمد أنور السادات
(2) تولى القيادة العامة الموحدة للقوات المصرية السورية في حرب أكتوبر ١٩٧٣. ^{المشير} محمد أنور السادات
(3) أصدرت أول مجلة نسائية مصرية فبراير ١٩٠٧ وهي «الريحانة» .. ^{مجلد} حافظة

(١٣) - العمل على تذليل المعوقات التي تواجه تعميق العمل الإفريقي المشترك
- تشجيع انشاء القارة على بناء المشروعات القارية الرائدة لتطوير البنية التحتية الإفريقية

- ربط الأسواق الإفريقية وتفعيل اتفاقية التجارة الحرة

(ج) «في فبراير ٢٠١٩م أعلن الرئيس عبدالفتاح السيسي أسوان كعاصمة للشباب الأفريقي بعد أن تولت مصر رئاسة الاتحاد الأفريقي من جديد لتعود مصر إلى حضن أفريقيا مرة أخرى».

في ضوء العبارة السابقة، أجب عما يأتي :

MR.Osama Ghobashy

(١) أكمل ما يأتي : تولت مصر رئاسة الاتحاد الأفريقي في فبراير ٢٠١٩م للمرة الثالثة

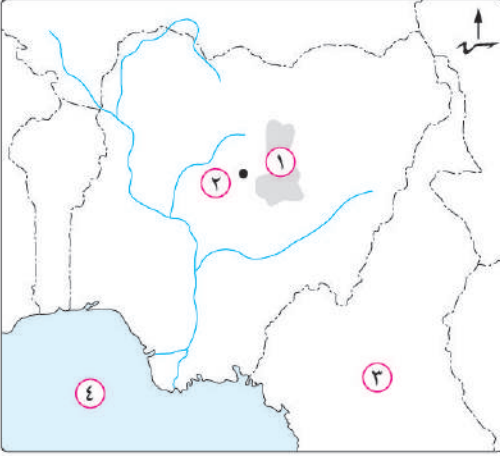
(٢) وضح : أهداف الاستراتيجية الجديدة التي تبنتها مصر بعد عودتها لرئاسة الاتحاد الأفريقي.

(٣) في رأيك : كيف يمكن تعميق العلاقات المصرية الأفريقية ؟
١- تدعيم الروابط الثقافية والحضارية بين شعوب القارة ترسيخاً للهوية الإفريقية

(الهند - نيجيريا - ألمانيا)

أجب عن الأسئلة الآتية :

أولاً الجغرافيا



١ (أ) أمامك خريطة لدولة نيجيريا، وضح مدلول الأرقام

الموجودة عليها :

- (١) هضبة
- (٢) مدينة
- (٣) دولة
- (٤) مسطح مائي

(ب) ما النتائج المترتبة على ... ؟

- (١) وجود المناخ الاستوائي والمدارى فى قارة آسيا بالنسبة لإنتاج الموارد الزراعية .
- (٢) وقوع الصين على المحيط الهادى ووجود الأنهار والبحيرات ومزارع تربية الأسماك بها .
- (٣) زيادة الطلب على البترول وتعدد استخداماته .
- (٤) وجود التلال والينابيع بالمرتفعات الوسطى فى ألمانيا .
- (ج) قارن بين : القطن، والمطاط الطبيعى، من حيث : * الأهمية . * أهم الدول المنتجة .

٢ (١) اختر الإجابة الصحيحة مما بين القوسين :

- (١) أكبر دولة منتجة للبنجر فى قارة أفريقيا دولة (جنوب أفريقيا - مصر - نيجيريا - السودان)
- (٢) تعتبر أولى دول العالم إنتاجاً للقمح . (الصين - الهند - الولايات المتحدة الأمريكية - روسيا)
- (٣) من المراكز الصناعية الحديثة فى أمريكا الجنوبية (بيرو - بوليفيا - الأرجنتين - المكسيك)
- (٤) تُعد البرازيل أولى دول العالم إنتاجاً لـ (الصوف - السكر - اللحوم - القمح)
- (٥) يجد ألمانيا من جهة الغرب دولة (بولندا - التشيك - الدنمارك - فرنسا)

(ب) «تُعد مصادر الطاقة القوى المحركة لحياة الإنسان». فى ضوء ذلك، أجب عما يأتى :

- (١) وضح : استخدامات الغاز الطبيعى .
- (٢) ما العلاقة بين : الألومنيوم، والطاقة الكهربائية ؟
- (٣) ما مقترحاتك لـ : زيادة إنتاج الطاقة فى مصر ؟ (من خلال ما درست).
- (٤) دلل جغرافياً على صحة العبارة الآتية :
- واجهت الهند المشكلة السكانية بسياسات تنمية مختلفة.

ثانياً التاريخ

٢ (١) أعد كتابة العبارات الآتية بعد تصويب ما تحته خط :

- (١) أسس جمال عبدالناصر تنظيم تكون من مجموعة من ضباط الجيش المصرى عُرف باسم عدم الانحياز.
- (٢) وضعت فلسطين تحت الانتداب البريطانى بمقتضى مؤتمر باندونج ١٩٢٠م.
- (٣) عقد مؤتمر كامب ديفيد على أساس مبدأ الأرض مقابل السلام.
- (٤) استشهد الفريق أول عبدالمنعم رياض فى حرب أكتوبر ١٩٧٣م.
- (٥) إقامة الوحدات الصحية والجمعيات الزراعية من إنجازات ثورة ٢٣ يوليو ١٩٥٢م فى المجال السياسى.

(ب) بم تفسر ... ؟

- (١) لم تحقق معاهدة ١٩٣٦م الاستقلال الحقيقى لمصر.
- (٢) فشل العدوان الثلاثى على مصر.
- (٣) تشكيل اللجان الشعبية أثناء ثورة ٢٥ يناير ٢٠١١م.
- (٤) صدور الدستور الدائم عام ١٩٧١م.
- (٥) إنشاء محكمة العدل الدولية.

٤ (١) اختر الإجابة الصحيحة مما بين القوسين :

- (١) قامت مصر فى أكتوبر ١٩٥٤م ب.....
- (إلغاء دستور ١٩٢٣م - توقيع اتفاقية الجلاء - إلغاء الملكية وإعلان الجمهورية - إصدار قانون الإصلاح الزراعى)
- (٢) إحصاءاً للحصار الاقتصادى الذى فرضه العرب على إسرائيل قامت مصر بإغلاق خليج..... فى مايو ١٩٦٧م.
- (السويس - عدن - العقبة - هرمز)
- (٣) نجحت القوات المصرية فى هزيمة القوات الإسرائيلية فى معركة رأس العش عندما حاولت احتلال مدينة.....
- (بورسعيد - بورفؤاد - السويس - الإسماعيلية)
- (٤) شاركت المرأة فى الحياة النيابية، وشغلت الدكتوراة..... منصب رئيس
- اللجنة التشريعية بمجلس الشعب. (حكمت أبوزيد - عائشة راتب - أمال عثمان - تهانى الجبالى)
- (٥) يعد..... أعلى سلطة داخل الجامعة العربية.
- (مجلس الجامعة - الأمين العام - الأمناء المساعدون - اللجان الدائمة)

(ب) «كانت حرب أكتوبر ١٩٧٣م أحد حلقات الصراع مع إسرائيل». فى ضوء ذلك، وضح :

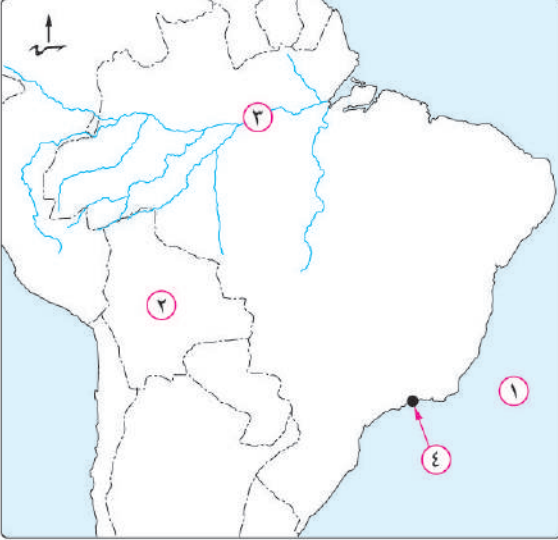
- (١) أسباب حرب أكتوبر ١٩٧٣م.
- (٢) الإجراءات التى قامت بها مصر لإعداد وتهيئة الجبهة الداخلية استعداداً لحرب أكتوبر ١٩٧٣م.
- (٣) دور الدول العربية فى دعم مصر وسوريا فى حرب أكتوبر ١٩٧٣م.

(ج) دلل تاريخياً على صحة كل عبارة مما يأتى :

- (١) عدم التزام اليهود بالهدنة كان سبباً لتفوقهم فى حرب ١٩٤٨م.
- (٢) لتحقيق السلام وإنهاء الصراع العربى / الإسرائيلى عدة مزايا لمصر والدول العربية.

أجب عن الأسئلة الآتية :

أولاً الجغرافيا



١ (١) أمامك خريطة صماء لدولة البرازيل،

اكتب ما تدل عليه الأرقام الآتية :

(١) المحيط

(٢) دولة

(٣) نهر

(٤) العاصمة القديمة

(ب) بم تفسر ... ؟

(١) قيام الدول النامية المنتجة للبوكسيت بتصديره إلى

الدول المتقدمة.

(٢) قلة عدد السكان في دلتا النيجر.

(٣) توسع العالم في استخدام الغاز الطبيعي كبديل لمصادر الطاقة الأخرى.

(٤) تركيز زراعة البنجر في معظم دول قارة أوروبا.

(ج) ما الأهمية الاقتصادية لكل مورد مما يأتي ... ؟ مع تحديد أولى الدول المنتجة له :

(١) المطاط الطبيعي. (٢) النحاس.

(د) دلل جغرافياً على صحة العبارة الآتية : قوة العلاقات بين مصر وكل من نيجيريا وألمانيا.

٢ (١) اختر الإجابة الصحيحة مما بين القوسين :

(١) تحتل دولة المركز الأول عالمياً في تربية الدواجن .

(الولايات المتحدة الأمريكية - الهند - الصين - تايلاند)

(٢) تقع أهم مراكز الصناعة الحديثة في جنوب شرق آسيا بدولة

(فنزويلا - شيلي - ماليزيا - المكسيك)

(٣) يستخرج من هضبة جوس بدولة نيجيريا معدن (الحديد - القصدير - البوكسيت - الرصاص)

(٤) أولى الدول العربية في توليد الطاقة الكهربائية من الرياح (المغرب - تونس - سوريا - مصر)

(ب) ما النتائج المترتبة على ... ؟

(١) التوسع العمراني في السهل الساحلي الشمالي بألمانيا.

(٢) انتشار التعليم بين قبائل وسط آسيا.

(ج) ما المقصود بكل مفهوم من المفاهيم الجغرافية الآتية ... ؟

- (١) زراعة الأرض أكثر من مرة في العام لإشباع حاجة السكان المحليين من الغذاء.
- (٢) نبات دائم الخضرة موطنه الأصلي شرق آسيا.
- (٣) القوى المحركة لحياة الإنسان في جميع مجالات حياته.
- (٤) يعتبر غذاء رئيسي لكثير من سكان العالم خاصة في المناطق الساحلية.

ثانياً التاريخ

٣ (١) صوب ما تحته خط :

- (١) امتنعت فرنسا عن التصويت بعد قرار تقسيم فلسطين عام ١٩٤٧م.
- (٢) تدخل مجلس الوصاية وأصدر القرار رقم ٢٤٢ في نوفمبر ١٩٦٧م.
- (٣) أستشهد الفريق أول عبدالمنعم رياض في حرب فلسطين.
- (٤) أنشأ إسماعيل مجلس المشورة عام ١٨٦٦م.
- (٥) استضافت تونس أول قمة أفريقية على أرضها عام ١٩٦٤م.

(ب) ما النتائج التي ترتبت على ... ؟

- (١) فشل العدوان الثلاثي على مصر عام ١٩٥٦م.
- (٢) حرب أكتوبر ١٩٧٣م. (بَلِّغْ بِأَبْرَةٍ نَنَالَهُ)
- (٣) اللجوء إلى التحكيم الدولي في قضية طابا.

(ج) ماذا كان يحدث إذا ... ؟

- (١) تم هزيمة إسرائيل في ٥ يونيو ١٩٦٧م.
- (٢) رفض كل من السادات وبيجين دعوة الرئيس الأمريكي كارتر لاجتماعات كامب ديفيد.

٤ (١) لمن تنسب الأعمال التاريخية الآتية ... ؟

- (١) سيطر على جميع قطاعات الجيش المصري بموجب إذاعة البيان الأول لثورة ٢٣ يوليو ١٩٥٢م.
- (٢) قاد خطة الخداع لصرف أنظار إسرائيل عن التجهيزات الهجومية لحرب أكتوبر ١٩٧٣م.
- (٣) شغلت منصب رئيس اللجنة التشريعية بمجلس الشعب.
- (٤) منظمة دولية ساهمت في إحياء مكتبة الإسكندرية.

(ب) دلل تاريخياً على صحة كل عبارة من العبارات الآتية :

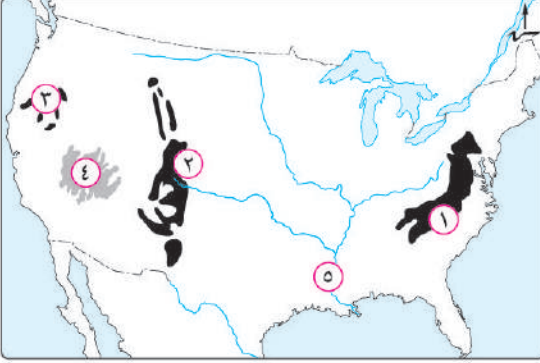
- (١) اهتمام ثورة ٢٣ يوليو ١٩٥٢م بحقوق العمال.
- (٢) تطبيق الهدنة في حرب فلسطين عام ١٩٤٨م لم يكن في صالح العرب.

(ج) قارن بين :

أوضاع مصر الاقتصادية قبل ثورة ٢٣ يوليو ١٩٥٢م، وقبل ثورة ٢٥ يناير ٢٠١١م.

أجب عن الأسئلة الآتية :

أولاً الجغرافيا



١ (١) أمامك خريطة للولايات المتحدة الأمريكية،

اكتب ما تدل عليه الأرقام :

- (١) جبال
- (٢) جبال
- (٣) جبال
- (٤) هضبة
- (٥) نهر

(ب) صوب الكلمات التي فوق الخط في كل عبارة من العبارات الآتية :

- (١) يزرع القمح في كل قارات العالم عدا قارة أوروبا.
- (٢) تُعد الأغنام المصدر الرئيسي للحوم لغالبية سكان العالم.
- (٣) مدينة أبوجا هي مركز للتجارة والتعليم والمواصلات وتأتي في المركز الثاني في الأهمية بعد لاجوس.
- (ج) «اتجه الإنسان بالفطرة نحو إشباع حاجاته الضرورية لاستمرار حياته وقد مارس البشر العديد من الأنشطة الاقتصادية». في ضوء العبارة السابقة، أجب عن الأسئلة الآتية:

- (١) وضح المقصود بمصطلح: الزراعة الكثيفة.
- (٢) ما العلاقة بين: تدفق البترول، والرعى البدائي في شبه الجزيرة العربية، وبادية الشام ؟
- (٣) ما النتائج المترتبة على: الوحدة الاقتصادية الأوروبية ؟

٢ (١) اختر الإجابة الصحيحة مما بين القوسين :

- (١) أولى قارات العالم في إنتاج القمح قارة
- (٢) تحتل دولة المركز الأول في إنتاج الأسماك في العالم.
- (٣) توجد خمس دول عربية تنتج الطاقة الكهربائية من الرياح تتقدمها مصر تليها
- (٤) أهم مدن الساحل الغربي في الهند مدينة

(ب) بم تفسر ... ؟

- (١) تركز زراعة الشاي في دول شرق آسيا.
- (٢) توجد بالهند ثروة حيوانية ضخمة.
- (٣) يقل عدد السكان في دلتا نهر النيجر.
- (٤) تفوق الهند في صناعة الحديد والصلب.
- (ج) قارن بين: صناعة الألومنيوم، وصناعة أسلاك الكهرباء، من حيث:
- * المادة الخام الرئيسية في إنتاج كل منهما.
- * أولى الدول المنتجة للمادة الخام الرئيسية لكل منهما.

ثانياً التاريخ

٣ (١) اختر الإجابة الصحيحة مما بين القوسين :

- (١) شارك مصر في تشكيل حركة عدم الانحياز كل من إندونيسيا و.....
 (الهند ونيجيريا - ألمانيا ويوغوسلافيا - الهند ويوغوسلافيا - أمريكا وروسيا)
 (٢) يُعد الفريق أحد أبطال العسكرية المصرية والذي استشهد في حرب الاستنزاف.
 (سعد الدين الشاذلي - أحمد إسماعيل - محمد نجيب - عبد المنعم رياض)
 (٣) أشهر المذابح التي ارتكبتها اليهود ضد العرب في فلسطين مذبحه
 (بحر البقر - دير ياسين - القلعة - يافا)
 (٤) ظهرت أول مجلة نسائية مصرية (الريحانة) في فبراير ١٩٠٧م وأصدرتها
 (جميلة حافظ - هدى شعراوي - عائشة راتب - أمال عثمان)

(ب) بم تفسر... ؟

- (١) غادر الملك فاروق وأسرته البلاد قبل الموعد الذي حددته ثورة ٢٣ يوليو ١٩٥٢م.
 (٢) أهمية منظمات المجتمع المدني.
 (٣) يعتبر مجلس الأمن أهم أجهزة الأمم المتحدة.

(ج) دلل تاريخياً على صحة كل عبارة من العبارات الآتية :

- (١) اختلفت الكتابات وتعددت الآراء حول ثورة ٢٣ يوليو ١٩٥٢م.
 (٢) كان الدعم العربي لمصر أحد أسباب النصر في حرب أكتوبر ١٩٧٣م.
 (٣) سوء الأحوال الاجتماعية في مصر أحد أسباب ثورة ٢٥ يناير ٢٠١١م.

٤ (١) اكتب كلمة (صواب) أمام العبارة الصحيحة، وكلمة (خطأ) أمام العبارة غير الصحيحة :

- () (١) أذيع البيان الأول لثورة ١٩٥٢ بصوت محمد نجيب.
 () (٢) نجحت مصر في استعادة كل أراضيها من إسرائيل في ٢٥ أبريل ١٩٨٢م.
 () (٣) تحقيق السلام يؤدي إلى الاستقرار الداخلي للبلاد العربية.
 () (٤) المنظمات الإقليمية يشترك فيها كل دول العالم.
 (ب) «أدركت بريطانيا أهمية فلسطين، لذا سعت لتأييد فكرة الوطن اليهودي».

في ضوء العبارة السابقة، وضح :

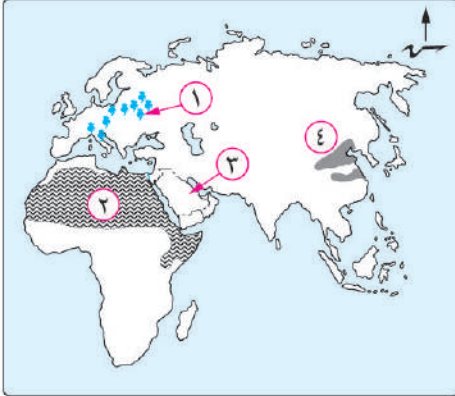
- (١) أهمية فلسطين في قلب كل عربي.
 (٢) إجراءات بريطانيا لتنفيذ وعد بلفور.
 (٣) دور الولايات المتحدة الأمريكية في هزيمة مصر والعرب في حرب فلسطين ١٩٤٨م.
 (٤) جهود الرئيس السادات في إعداد الجبهة الداخلية استعداداً للحرب أكتوبر ١٩٧٣م.

(ج) ما النتائج التي ترتبت على ... ؟

- (١) عدوان ٥ يونيو ١٩٦٧م.
 (٢) إنشاء السد العالي في مصر.

أجب عن الأسئلة الآتية :

أولاً الجغرافيا



١ (١) أمامك خريطة لقارات العالم القديم، اكتب مدلول

الأرقام الموقعة عليها :

- (١) محصول سكرى
- (٢) نوع الرعى
- (٣) مصدر للطاقة تعتبر الدولة الموضحة الأولى في إنتاجه
- (٤) إقليم صناعى

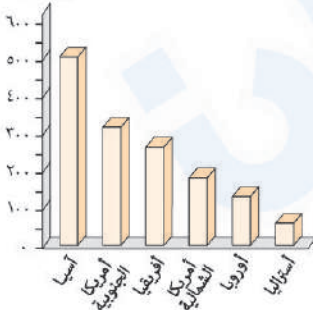
(ب) قارن بين : حركة المد والجزر، والغاز الطبيعي، من حيث :

نوع الكهرباء المتولدة عن كل منهما.

(ج) اكتب ما تشير إليه كل عبارة من العبارات الآتية :

- (١) محصول زراعى يعتبر الغذاء الرئيسى لمعظم شعوب العالم.
- (٢) دولة عربية تعد الأولى في توليد الطاقة الكهربائية من الرياح.
- (٣) أحد المدن الجديدة البرازيلية التى تقع على نهر الأمازون.
- (٤) أكبر المدن النيجييرية تكديسا بالسكان.

مليون رأس



٢ (١) أمامك رسم بياني يمثل إنتاج أحد الموارد الحيوانية في العالم،

استعن به للإجابة عما يأتي :

- (١) ما المورد الحيوانى الذى يمثله الرسم البياني ؟
وما أهميته الاقتصادية ؟
- (٢) ما أهم دول العالم إنتاجاً لهذا المورد ؟
وما سبب ضآلة قيمته الاقتصادية فيها ؟

(ب) أيهما أفضل ... ؟ ولماذا ؟

- (١) اتباع نظام الزراعة الكثيفة أم التجارية فى المزارع واسعة المساحة .
- (٢) استغلال المياه الساحلية الضحلة أم العميقة فى نشاط صيد الأسماك .
- (٣) تفرق الدول الأوروبية أم تجمعها على هيئة وحدة اقتصادية .

(ج) أكمل المقارنة الآتية :

الولايات المتحدة الأمريكية	جمهورية البرازيل	
يحدها من الشمال دولة (٤)	يحدها من الشرق المحيط (١)	الموقع الجغرافى
تمتد على سواحلها الغربية جبال (٥)	تمتد فى جنوبها هضبة (٢)	الظواهر التضاريسية
عاصمتها السياسية (٦)	عاصمتها القديمة (٣)	أهم المدن

ثانياً التاريخ

٣ (١) أكمل العبارات الآتية بكلمات مناسبة :

- (١) تم إذاعة البيان الأول لثورة ٢٣ يوليو ١٩٥٢م من الإذاعة المصرية باسم اللواء
- (٢) امتنعت دولة عن التصويت على مشروع تقسيم فلسطين عام ١٩٤٧م.
- (٣) تخلى الرئيس مبارك عن الرئاسة وسلم إدارة شؤون البلاد لـ
- (٤) بموجب دستور عام ١٩٥٦م تم في عام ١٩٥٧م تشكيل

(ب) بم تفسر ... ؟

- (١) اكتسبت ثورة ٢٣ يوليو ١٩٥٢م أهمية كبيرة في المنطقة العربية والعالم.
- (٢) تفوق اليهود في حرب ١٩٤٨م عند استئناف القتال بعد الهدنة.
- (٣) مبادرة الرئيس محمد أنور السادات لزيارة إسرائيل عام ١٩٧٧م.
- (٤) الأمم المتحدة منظمة دولية.

(ج) دلل تاريخياً على صحة كل عبارة من العبارات الآتية :

- (١) تعتبر بريطانيا صانعة مشكلة فلسطين.
- (٢) أنهت حرب أكتوبر ١٩٧٣م نظرية الأمن الإسرائيلي.
- (٣) لمنظمات المجتمع المدني دور مهم في تثقيف المواطنين.
- (٤) لمصر دور مهم في منظمة الاتحاد الأفريقي.

٤ (١) من يكون ... ؟

- (١) أحد الأعمدة الرئيسة في إعادة بناء وتنظيم القوات المسلحة في حرب الاستنزاف.
- (٢) أصبح رئيساً لأركان حرب القوات المسلحة المصرية في ديسمبر ١٩٧٣م.
- (٣) أنشأ مدرسة لتعليم البنات عام ١٨٧٣م.
- (٤) أول وزيرة للشؤون الاجتماعية في مصر عام ١٩٦٢م.

(ب) ما النتائج التي ترتبت على ... ؟

- (١) توقيع اتفاقية الجلاء في أكتوبر ١٩٥٤م.
- (٢) اجتماع وزراء النفط العربي بالكويت أثناء حرب أكتوبر ١٩٧٣م.
- (٣) التعاون بين مصر ومنظمة اليونسكو.

(ج) «حقق الجيش المصري انتصاراً حاسماً في حرب أكتوبر ١٩٧٣م ثم اتجهت مصر بعد ذلك لإنهاء الصراع العربي / الإسرائيلي

وتحقيق السلام». في ضوء هذه العبارة، وضح :

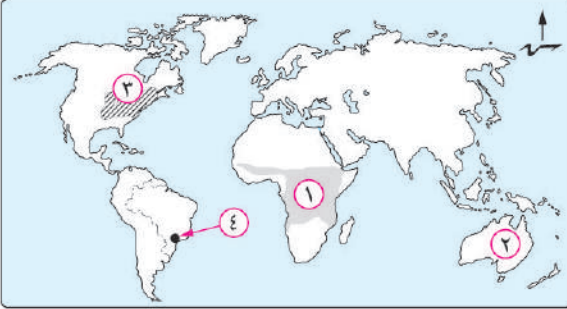
- (١) الاستعدادات التي قامت بها مصر لحرب أكتوبر ١٩٧٣م لتهيئة الجبهة العربية.
- (٢) موقف مصر من مؤتمر مدريد للسلام عام ١٩٩١م.

(د) رتب الأحداث التاريخية الآتية من الأقدم إلى الأحدث :

- * عقد مؤتمر كامب ديفيد .
- * إنشاء جامعة الدول العربية .
- * الوحدة بين مصر وسوريا .
- * حرب الاستنزاف .

أجب عن الأسئلة الآتية :

أولاً الجغرافيا



١ (١) أمامك خريطة للعالم، اكتب مدلول الأرقام

الموقعة عليها :

(١) نوع الزراعة السائدة

(٢) اسم المعدن الذي تحتل الدولة رقم (٢) المرتبة

الأولى في إنتاجه

(٣) إقليم صناعي

(٤) العاصمة القديمة للدولة الموضحة

(ب) «تمثل الأسماك غذاءً رئيسياً لكثير من سكان العالم خاصة في المناطق الساحلية على البحار والمحيطات».

في ضوء هذه العبارة، وضع :

(١) العوامل الطبيعية التي ساعدت على انتشار مصايد الأسماك على سواحل القارات.

(٢) أسباب قيام بعض الدول بصيد الحيتان.

(٣) أسباب امتلاك البرازيل لثروة كبيرة من الأسماك.

(ج) ما العلاقة بين ... ؟

(١) تدفق البترول، وحرفة الرعي البدائي في شبه الجزيرة العربية.

(٢) دولة ألمانيا، ومحطات توليد الكهرباء في مصر.

(د) اكتب المصطلح الجغرافي لكل عبارة من العبارات الآتية :

(١) يستخرج من عصارة أشجار استوائية ويصنع منه إطارات السيارات.

(٢) احتل المصدر الأول والرئيسي للطاقة المستخدمة في العالم حتى أوائل القرن العشرين.

(٣) مناخ يسود الساحل الجنوبي الشرقي للولايات المتحدة الأمريكية.

٢ (١) صوب ما تحته خط في العبارات الآتية :

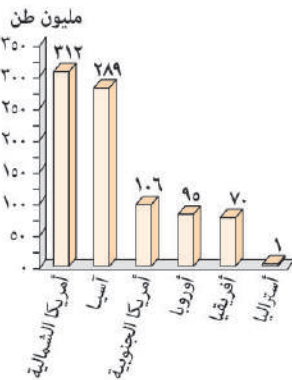
(١) القطن من المحاصيل المعتدلة المهمة لإنتاج الخيوط التي تستخدم في صناعة المنسوجات.(٢) تصدر الدول النامية مثل موريتانيا خام النحاس إلى الدول الصناعية المتقدمة.(٣) تُعد آسيا أولى قارات العالم إنتاجاً للطاقة النووية.(٤) تغطي الغابات ثلث مساحة ألمانيا وأهمها الغابات الاستوائية والمدارية.

(ب) أمامك رسم بياني يمثل إنتاج إحدى أنواع الموارد الزراعية في العالم،

استعن به للإجابة عما يأتي :

(١) ما المورد الزراعي الذي يمثله الرسم البياني ؟

(٢) حدد القيمة الاقتصادية لهذا المورد لأولى القارات المنتجة له.



(ج) ما النتائج المترتبة على ... ؟

- (١) استخدام الطرق العلمية الحديثة في الزراعة التجارية والعلمية.
- (٢) رخص ثمن الغاز الطبيعي وقلّة تلوثه.
- (د) **قارن بين** : الأبقار، والأغنام، من حيث الأهمية الاقتصادية لكل منهما.

ثانياً التاريخ

٣ (١) اكتب كلمة (صواب) أمام العبارة الصحيحة، وكلمة (خطأ) أمام العبارة غير الصحيحة، مع التصويب :

- () (١) كسرت مصر احتكار السلاح العالمي بعقد صفقة الأسلحة الشرقية.
- () (٢) قدمت الولايات المتحدة الأمريكية مساعدات مالية ضخمة عاجلة لمصر أثناء حرب أكتوبر ١٩٧٣م.
- () (٣) التطبيق السليم لسياسة الخصخصة أدى إلى ارتفاع الأسعار في المجتمع المصرى قبل ثورة ٢٥ يناير ٢٠١١م.
- () (٤) ساهمت منظمة الأمم المتحدة للتربية والعلوم والثقافة في إنقاذ «معابد أبو سمبل» في عام ١٩٦٤م.

(ب) بم تفسر ... ؟

- (١) عجز الأحزاب السياسية في التعبير عن إرادة الشعب المصرى ومطالبه قبل ثورة يوليو ١٩٥٢م.
- (٢) مشاركة مصر في مؤتمر مدريد للسلام عام ١٩٩١م.
- (٣) أهمية الدستور الدائم لمصر عام ١٩٧١م.

(ج) ماذا كان يحدث إذا ... ؟ (١) لم تؤيد مصر حركات التحرر الوطنى في الجزائر.

(٢) لم تشكل اللجان الشعبية أثناء ثورة ٢٥ يناير ٢٠١١م.

٤ (١) لمن تنسب الأعمال التاريخية الآتية ... ؟

- (١) أذاع أول بيان لثورة ٢٣ يوليو ١٩٥٢م.
- (٢) أصدر تصريحاً تعهدت فيه بريطانيا بإنشاء وطن قومى لليهود في فلسطين.
- (٣) دعا كلاً من مصر وإسرائيل لعقد مؤتمر كامب ديفيد للسلام عام ١٩٧٨م.
- (٤) تولت منصب وزيرة الشؤون الاجتماعية عام ١٩٧١م.
- (ب) «تعددت الحروب والمواجهات بين إسرائيل والعرب منذ عام ١٩٤٨م وحتى عام ١٩٧٣م».

في ضوء هذه العبارة، وضح :

- (١) أسباب هزيمة الدول العربية في يونيه ١٩٦٧م.
- (٢) دور القوات المسلحة المصرية في الصمود والتصدى للاعتداءات الإسرائيلية بعد عدوان عام ١٩٦٧م.
- (٣) موقف الولايات المتحدة الأمريكية من حرب الاستنزاف.

(ج) رتب الأحداث التاريخية الآتية من الأقدم للأحدث :

- * عودة طابا إلى السيادة المصرية.
- * إصدار جميلة حافظ أول مجلة نسائية مصرية (الريحانة).
- * تأميم شركة قناة السويس البحرية شركة مصرية بإدارة مصرية.
- * إنشاء جامعة الدول العربية.

- (٣) - التوسع في توليد الطاقة الكهربائية من الأمواج وحركة المد والجزر والطاقة الشمسية والرياح.
- استخدام المحطات النووية السلمية في توليد الطاقة الكهربائية.
(٤) حيث اهتمت بالتعليم وتطوير البحث العلمى مما أدى إلى تطوير الزراعة والصناعة.

٣

- (١) (١) ... تنظيم الضباط الأحرار.
(٢) ... سان ريمو.
(٣) ... مدريد ...
(٤) ... الاستنزاف عام ١٩٦٩م.
(٥) ... المجال الاجتماعى.

(ب) (١) لأن قوات الاحتلال البريطانى فى فبراير ١٩٤٢م قامت بمحاصرة قصر عابدين لإجبار الملك فاروق على تعيين مصطفى النحاس باشا رئيساً للحكومة مما يعد تدخل فى شئون مصر الداخلية.

(٢) بسبب :

- المقاومة الباسلة لجيش مصر وشعبها وصلابة القيادة.
- وقوف الشعوب العربية إلى جانب مصر.
- تهديد الاتحاد السوفيتى (سابقاً) بالتدخل لوقف العدوان.
- رفض الولايات المتحدة الأمريكية استخدام القوة فى حل النزاعات.
- تنديد الأمم المتحدة بالعدوان.

(٣) بهدف :

- حماية المنشآت والمناطق.
- مواجهة أعمال السرقة والحرق والترويع.

(٤) لأنه :

- أكد على سيادة القانون واستقلال القضاء وإقرار مبادئ التعددية الحزبية.
- كان أحد إجراءات تهيئة وإعداد الجبهة الداخلية لمصر قبل حرب أكتوبر ١٩٧٣م.

(٥) بهدف :

- النظر فى القضايا التى تضعها الدول أمامها.
- تقديم الاستشارات القانونية للهيئات الدولية.

٤

- (١) (١) توقيع اتفاقية الجلاء.
(٢) العقبة.
(٣) بورفؤاد.
(٤) أمال عثمان.
(٥) مجلس الجامعة.

١ إجابة نموذج

١

- (١) (١) أوجا.
(٢) أوجا.
(٣) الكاميرون.
(٤) خليج غينيا.

(ب) (١) ترتب على ذلك إنتاج قارة آسيا ل :

- قصب السكر لأنه محصول مدارى حار.
- القطن (ثلثى الإنتاج العالمى وهى أولى القارات إنتاجاً له) لأنه محصول مدارى.
- المطاط الطبيعى (أولى قارات العالم إنتاجاً له) لأنه يستخرج من عصارة أشجار استوائية.
- (٢) أدى ذلك إلى أن أصبحت الصين من أهم الدول المنتجة للأسماك.
- (٣) ترتب على ذلك ارتفاع أسعاره عالمياً.
- (٤) ترتب على ذلك أن أصبحت المرتفعات الوسطى فى ألمانيا مناطق جذب للسياح.

(ج)

المطاط الطبيعى	القطن	
* يصنع منه إطارات السيارات وصناعات أخرى.	* إنتاج الخيوط التى تُستخدم فى صناعة أجود أنواع الملابس والمنسوجات. * مصدر لاستخراج زيت بذرة القطن وصناعة الأعلاف.	الأهمية (الاستخدام)
* تايلاند (أولى دول العالم).	* الصين. * الهند.	أهم الدول المنتجة

٢

- (١) (١) مصر.
(٢) الأرجنتين.
(٣) الصين.
(٤) السكر.
(٥) فرنسا.

(ب) (١) حيث يستخدم :

- فى الصناعة على نطاق واسع.
- فى الاستخدامات المنزلية.
- فى توليد الطاقة الكهربائية (الكهرباء الحرارية).
- كوقود للسيارات بديلاً للبنزين للحد من تلوث البيئة.
- (٢) وفرة الطاقة الكهربائية من مقومات صناعة الألومنيوم.

(ب) (١) بسبب :

- رفض إسرائيل لكل نداءات السلام بالانسحاب من الأراضي التي احتلتها في العدوان الإسرائيلي ٥ يونيو ١٩٦٧م بموجب قرار مجلس الأمن (٢٤٢).
- تصميم مصر وسوريا على إزالة آثار نكسة يونيو ١٩٦٧م (واسترداد شبه جزيرة سيناء وهضبة الجولان).

(٢) حيث تم :

- رفع الرقابة عن الصحف.
- إصدار دستور جديد للبلاد (دستور ١٩٧١م).
- إلغاء الحراسات والإجراءات المقيدة للحريات.
- القضاء على مراكز القوى.
- تجهيز الجيش وتسلحه بأحدث الأسلحة وتدريبه عليها.

(٣) حيث :

- قدمت بعض الدول العربية الدعم المالي والعسكري لمصر وسوريا.
- قرر وزراء النفط العربي في اجتماعهم بالكويت خفض إنتاج البترول وحظر الصادرات النفطية إلى الولايات المتحدة الأمريكية خاصة عندما طلب الرئيس الأمريكي مساعدات عاجلة لإسرائيل.

(ج) (١) حيث بدأوا في تقوية قواتهم من حيث العدد والتسليح وعند

استئناف القتال ظهر تفوق اليهود على جميع جبهات القتال مما أدى لتراجع وهزيمة القوات العربية.

(٢) حيث إن تحقيق السلام يساعد على :

- الاستقرار الداخلي للبلاد العربية.
- دفع عجلة التنمية الاقتصادية والاجتماعية وإصلاح البنية الأساسية للبلاد.
- تشجيع رؤوس الأموال العربية والأجنبية للاستثمار في مصر وغيرها من الدول العربية.
- تنشيط حركة السياحة والتي تؤدي إلى زيادة الدخل القومي وتوفير العملات الأجنبية.
- إقامة المشروعات الوطنية وتحقيق التنمية في مصر بشكل خاص، ومنطقتنا العربية بشكل عام.

(ب) (١) بسبب عدم توافر مقومات صناعة الألمنيوم من طاقة كهربائية وخبرة علمية.

- (٢) بسبب وجود الغابات الكثيفة والظروف المناخية القاسية.
- (٣) لأنه من مصادر الطاقة الأقل تلويثاً للبيئة ورخيص الثمن وسهل النقل.
- (٤) بسبب ملائمة ظروف زراعته من مناخ وتربة زراعية.

(ج) (١) - الأهمية الاقتصادية : يُصنع منه إطارات السيارات وصناعات أخرى.

- أولى الدول المنتجة له : تايلاند.
- (٢) - يستخدم في الكثير من الصناعات، مثل : الأسلاك، والأدوات الكهربائية.
- أولى الدول المنتجة له : شيلي.

(د) - قوة العلاقات بين مصر ونيجيريا :

- ◆ تصدر مصر إلى نيجيريا :
الأسمدة، المعدات الثقيلة، الأسلاك النحاسية، الإطارات، مواسير الألمنيوم، المحولات الكهربائية.
- ◆ تستورد مصر من نيجيريا :
السلع الزراعية وأهمها الحبوب الزيتية.

- قوة العلاقات بين مصر وألمانيا :

◆ توجد علاقات ثقافية وعلمية بين مصر وألمانيا، تتمثل في :

- ◇ هيئة التبادل العلمي الألمانية.
- ◇ المركز الثقافي الألماني.
- ◇ الجامعة الألمانية بالقاهرة.
- ◇ معهد الآثار الألماني.

◆ توجد علاقات اقتصادية بين مصر وألمانيا،

حيث :

- ◇ تمول ألمانيا محطات توليد الكهرباء من الرياح في مصر.
- ◇ تصدر مصر لألمانيا «البترول والغاز الطبيعي والملابس»
- وتستورد مصر من ألمانيا «الصناعات الكيماوية والآلات والسيارات».

٢

- (١) (١) الولايات المتحدة الأمريكية. (٢) ماليزيا.
- (٣) القصدير. (٤) مصر.

(ب) (١) أدى ذلك إلى انكماش مساحة الحشائش في السهل الساحلي.
(٢) أدى إلى قلة أعداد القادمين بحرفة الرعي البدائي في وسط آسيا.

- (ج) (١) الزراعة الكثيفة. (٢) الشاي.
- (٣) مصادر الطاقة. (٤) الأسماك.

إجابة نموذج 2

١

- (١) (١) الأطلنطي. (٢) بوليفيا.
- (٣) الأمازون. (٤) ريودي چانيرو.

٣

- (١) (١) بريطانيا. (٢) الأمن.
(٢) الاستنزاف. (٤) شورى النواب.
(٥) مصر.

(ب) (١) ترتب على ذلك :

- انسحاب القوات الإنجليزية والفرنسية من بورسعيد فى ٢٣ ديسمبر ١٩٥٦م.
- انسحاب القوات الإسرائيلية من قطاع غزة وسيناء فى أوائل عام ١٩٥٧م ووضع قوات طوارئ دولية بين مصر وإسرائيل منذ عام ١٩٥٧م.
- إدراك الدول العربية الخطر الإسرائيلى وأطماعه فى السيطرة على العالم العربى، ولذلك قامت وحدة بين مصر وسوريا عام ١٩٥٨م.

- (٢) - تُعد نقطة تحول فى الصراع العربى/ الإسرائيلى حيث أثبتت أن منطق القوة لا يمنح سلامًا.
- تحطيم أسطورة الجيش الإسرائيلى الذى لا يقهر وعودة الثقة للمقاتل المصرى والعربى.
 - تقويض (هدم) أُسس العقيدة القتالية للقوات الإسرائيلىة.
 - انتهاء نظرية الأمن الإسرائيلىة بعد انهيار الخطوط الدفاعية والتحصينات القوية مثل خط بارليف.
 - إنهاء حالة اللاسلم واللاحرب وبذلك أفسحت المجال للمفاوضات السياسية من منطلق القوة العربية.
 - إظهار أهمية استخدام سلاح النفط العربى.
 - تأثر العلاقات بين إسرائيل وبعض الدول المحبة للسلام فى آسيا وأفريقيا وأوروبا.

- (٣) ترتب على ذلك إصدار محكمة العدل الدولية فى سبتمبر ١٩٨٨م حكمها لصالح مصر وعادت طابا إلى السيادة المصرية فى مارس ١٩٨٩م.

(ج) (١) لم تتمكن إسرائيل من الاستيلاء على :

- قطاع غزة. - مدينة القدس العربية.
 - الضفة الغربية لنهر الأردن.
 - هضبة الجولان بسوريا.
 - سيناء حتى الضفة الشرقية لقناة السويس.
- (٢) كان لم يتم التوصل إلى إطار اتفاق (معاهدة) للسلام بين مصر وإسرائيل.

٤

- (١) (١) محمد نجيب. (٢) المشير أحمد إسماعيل.
(٣) آمال عثمان. (٤) منظمة اليونسكو.

(ب) (١) حيث عملت على :

- تحديد ساعات العمل وإشراك العمال فى مجالس إدارة الشركات والمصانع وتحديد نسبة لهم من الأرباح.
- إصدار قوانين للتأمينات الاجتماعية والمعاشات للموظفين والعمال.

- (٢) حيث استطاعت إسرائيل تقوية قواتها من حيث العدد والتسليح والتدريب وبعد استئناف القتال ظهر تفوق اليهود على جميع جبهات القتال مما أدى إلى تراجع وهزيمة القوات العربية.

أوضاع مصر الاقتصادية قبل ثورة ٢٥ يناير ٢٠١١م	أوضاع مصر الاقتصادية قبل ثورة ٢٣ يوليو ١٩٥٢م
<p>(ج)</p> <p>* كانت متدهورة بسبب :</p> <ul style="list-style-type: none"> • اتباع سياسة الانفتاح الاقتصادى دون ضوابط علمية. • التطبيق غير السليم لسياسة الخصخصة وبيع مؤسسات الدولة بأقل من سعرها الحقيقى لصالح فئة معينة من رجال الأعمال وأدى ذلك إلى : - ارتفاع الأسعار. - انضمام آلاف العاملين (بعد خروجهم بنظام التقاعد المبكر) لصفوف البطالة من الشباب فى وقفات احتجاجية. 	<p>* أدى توقيع معاهدة ١٩٣٦م إلى جعل مصر ميدانًا لمعارك الحرب العالمية الثانية واستنزاف موارد مصر لخدمة بريطانيا وحلفائها مما ترتب عليه إرهاب الاقتصاد المصرى وزيادة معاناة أفراد الشعب.</p>

إجابة نموذج 3

١

- (١) (١) الأبلش. (٢) روكى.
(٣) كسكيد. (٤) كلورادو.
(٥) المسيسيبى.
(ب) (١) قصب السكر. (٢) الأبقار.
(٣) إبيادان.

- توفير مناخ يحقق الوحدة الوطنية من خلال توعية الأفراد بنبذ العنف.

- تدعيم السياسة العامة للدولة ومواقفها من القضايا الدولية مثل: حظر استخدام الألغام الأرضية، ومحاربة الإرهاب، وحماية البيئة.

(٣) لأنه: - مسئول عن حفظ السلام والأمن الدوليين.

- يُعد سلطة قانونية على حكومات الدول الأعضاء في الأمم المتحدة.

(ج) (١) حيث:

- يرى بعض المؤرخين أنها تكتسب أهمية كبيرة لما تركته من آثار على أغلب الحركات التحررية في المنطقة العربية وفي العالم، ولما أسهم به قادتها من تأسيس لحركات دولية منها حركة عدم الانحياز والحياد الإيجابي.

- يرى مؤرخون آخرون أنها لم تبدأ عندما تأسس تنظيم الضباط الأحرار، أو عندما سيطرت قيادة الثورة على مقرات الجيش والإذاعة المصرية، إنما كان هذا التحرك مكملًا لنضال طويل وممتد لشعب مصر، الذي ثار ضد الفساد والاحتلال وسوء الحكم منذ الثورة العرابية وثورة ١٩١٩م وحتى قيام ثورة ٢٣ يوليو ١٩٥٢م.

(٢) حيث:

- قدمت بعض الدول العربية الدعم المالي والعسكري لمصر وسوريا.

- قرر وزراء النفط العربي في اجتماعهم بالكويت خفض إنتاج البترول وحظر الصادرات النفطية إلى الولايات المتحدة الأمريكية خاصة عندما طلب الرئيس الأمريكي مساعدات عاجلة لإسرائيل.

(٣) بسبب زيادة الفوارق الاجتماعية (بين طبقات المجتمع) وغياب العدالة الاجتماعية في توزيع الثروات.

٤

(أ) (١) خطأ. (٢) خطأ.

(٣) صواب. (٤) خطأ.

(ب) (١) لأن: - وُلد فيها السيد المسيح ﷺ.

- أُسرى إليها سيدنا محمد ﷺ.

- يوجد بها المسجد الأقصى أولى القبلتين وثالث الحرمين.

(٢) - السماح بهجرة أعداد كبيرة من اليهود من جميع أنحاء العالم إلى فلسطين.

- السماح بانتقال ملكية الأراضي من عرب فلسطين عن طريق الشراء إلى اليهود.

(ج) (١) نوع من الزراعة المتقدمة تُزرع فيه الأرض أكثر من مرة في العام الواحد بهدف إشباع حاجة السكان المحليين من الغذاء (للاستهلاك المحلي فقط) وعادة ما توجد في المناطق كثيفة السكان.

(٢) أدى تدفق البترول في شبه الجزيرة العربية وبداية الشام إلى توطين البدو وبالتالي قلة عدد العاملين بحرفة الرعي البدائي بها.

(٣) ترتب على ذلك حدوث التكامل في الجوانب الاقتصادية (الصناعية والتجارية) بإقليم غرب ووسط أوروبا وحمايتها جرميًا وتدعيمها من جانب هيئة الاتحاد الأوروبي.

٢

(أ) (١) آسيا. (٢) الصين.

(٣) المغرب. (٤) بومباي.

(ب) (١) بسبب توافر ظروف زراعته من تربة خصبة خفيفة ومناخ حار وهواء رطب ومطر غزير.

(٢) بسبب كثرة المراعى.

(٣) بسبب وجود الغابات الكثيفة والظروف المناخية القاسية.

(٤) لأنها ثالث دول العالم إنتاجًا للفحم الذي يُعد أساس قيام صناعة الحديد والصلب.

(ج)

المادة الخام	صناعة الألومنيوم	صناعة أسلاك الكهرباء
أولى الدول المنتجة للمادة الخام	أستراليا	شيلي
	البوكسيت	النحاس

٣

(أ) (١) الهند ويوغوسلافيا. (٢) عبد المنعم رياض.

(٣) دير ياسين. (٤) جميلة حافظ.

(ب) (١) لأنه أدرك أن الجيش والشعب يكرهان حكمه بالإضافة إلى تخلى الإنجليز عنه لذلك غادر البلاد قبل الموعد المحدد.

(٢) لأن هذه المنظمات تعد عناصر فعالة في تقديم الخدمات الاجتماعية وتنفيذ برامج التنمية ويتضح ذلك من خلال الأنشطة التي تقوم بها، ومنها:

- تثقيف المواطنين وتعريفهم بالحقوق السياسية كالتصويت والانتخاب والترشح للمناصب السياسية.

- توضيح علاقة المواطن بالدولة وكيفية التعبير عن حقوقه وواجباته.

- (٢) أهم الدول : الهند.
ضالة قيمته الاقتصادية : بسبب تحريم الديانة الهندوسية
أكل لحوم الأبقار.
- (ب) (١) الزراعة التجارية لأنها تتم في مزارع واسعة.
(٢) المياه الساحلية الضحلة لأنها غنية بالمواد الغذائية.
(٣) تجمع الدول الأوروبية في هيئة اقتصادية واحدة يساعد
على تحقيق التكامل في الجوانب الاقتصادية (الصناعية
والتجارية) وحمايتها جمركياً.
- (ج) (١) الأطلنطي. (٢) البرازيل.
(٣) ريودي چانيرو. (٤) كندا.
(٥) كسكيد. (٦) واشنطن.

٣

- (أ) (١) محمد نجيب. (٢) بريطانيا.
(٣) المجلس الأعلى للقوات المسلحة. (٤) مجلس الأمة.
- (ب) (١) بسبب ما تركته الثورة من آثار على أغلب الحركات التحررية
في المنطقة العربية وفي العالم، ولما أسهم به قادتها من
تأسيس لحركات دولية منها حركة عدم الانحياز والحياد
الإيجابي.
- (٢) لأن إسرائيل استطاعت تقوية قواتها من حيث العدد والتسليح
والتدريب ويعد استئناف القتال ظهر تفوق اليهود على جميع
جبهات القتال مما أدى إلى تراجع وهزيمة القوات العربية.
- (٣) لإنهاء الصراع العربي/ الإسرائيلي سلمياً ولتحقيق السلام
الدائم بعد سلسلة من الحروب استنزفت طاقات وموارد
البلاد البشرية والمادية.
- (٤) لأنها تضم في عضويتها دول العالم المستقلة وإن لم ترتبط
ببعضها بروابط معينة.
- (ج) (١) حيث قامت بريطانيا بإصدار وعد (تصريح) بلفور
عام ١٩١٧م واتخذت عدة إجراءات لتنفيذه بعد انتدابها على
فلسطين ١٩٢٠م، منها :
- السماح بهجرة أعداد كبيرة من اليهود من جميع أنحاء
العالم إلى فلسطين.
- السماح بانتقال ملكية الأراضي من عرب فلسطين عن
طريق الشراء إلى اليهود.
- (٢) حيث انهارت الخطوط الدفاعية والتحصينات القوية
لإسرائيل مثل خط بارليف على الجبهة المصرية.

(٣) حيث تقدمت الولايات المتحدة الأمريكية باقتراح إلى مجلس
الأمن تضمن وقف القتال وإقامة هدنة مدتها شهر يتمتع
خلالها العرب واليهود عن جلب الأسلحة ولم يلتزم اليهود
بالهدنة وبدأوا في تقوية قواتهم من حيث العدد والتسليح
والتدريب وعندما استؤنف القتال ظهر تفوق اليهود على
جميع جبهات القتال مما أدى إلى تراجع وهزيمة القوات
العربية.

(٤) حيث تم :

- رفع الرقابة عن الصحف.
- إصدار دستور جديد للبلاد (دستور ١٩٧١م).
- إلغاء الحراسات والإجراءات المقيدة للحريات.
- القضاء على مراكز القوى.
- تجهيز الجيش وتسليحه بأحدث الأسلحة وتدريبه عليها.

(ج) (١) أدى إلى هزيمة الدول العربية واستيلاء إسرائيل على :

- قطاع غزة.
- سيناء حتى الضفة الشرقية لقناة السويس.
- هضبة الجولان بسوريا.
- مدينة القدس العربية.
- الضفة الغربية لنهر الأردن.

(٢) ترتب على ذلك :

- حماية البلاد من خطر الفيضان.
- تخزين المياه وتوليد الكهرباء.

4 إجابة نموذج

١

- (أ) (١) النيچر. (٢) الرعى البدائي (التقليدي).
(٢) البترول. (٤) إقليم شرق آسيا.

(ب)	حركة المد والجزر	الغاز الطبيعي
	الطاقة الكهرومائية	الكهرباء الحرارية

- (ج) (١) القمح. (٢) مصر.
(٢) ميناؤوس. (٤) لاجوس.

٢

(أ) (١) - المورد الحيواني : الأبقار.

- الأهمية الاقتصادية :

- ♦ تُعد المصدر الرئيسي للحوم الحمراء لغالبية سكان
العالم.
♦ تدخل بنسبة كبيرة في التجارة الدولية.

- (د) ① إنشاء جامعة الدول العربية.
② الوحدة بين مصر وسوريا.
③ حرب الاستنزاف.
④ عقد مؤتمر كامب ديفيد.

5 إجابة نموذج

1

- (أ) ① (أ) الزراعة البسيطة (البدائية). (ب) البوكسيت.
② شمال شرق الولايات المتحدة الأمريكية.
③ ريودي جانيرو.
(ب) ① - ضحالة المياه الساحلية وغناها بالمواد الغذائية.
- التقاء التيارات البحرية الدافئة مع الباردة.
- توافر الموانئ لرسو سفن الصيد.
② للاستفادة من لحومها وشحومها.
(ج) بسبب :

- امتلاكها سواحل طويلة على المحيط الأطلنطي
والبحر الكاريبي.
- وجود نهر الأمازون.

- (ج) ① أدى تدفق البترول إلى توطين البدو مما تسبب في قلة العاملين بحرفة الرعي البدائي في شبه الجزيرة العربية.
② تقوم دولة ألمانيا بتمويل محطات توليد الكهرباء من الرياح في مصر.
(د) ① المطاط الطبيعي. (ب) الفحم.
③ المناخ شبه المداري الحار.

2

- (أ) ① (أ) المدارية. (ب) الحديد.
③ أوروبا. (د) النفضية والمخروطية.
(ب) ① الذرة.
② تستخدم كعلف للماشية وتصدر جزءاً منه للخارج.
(ج) ① يترتب على ذلك : - قلة التكاليف، وقلة عدد العمالة الزراعية.
- الإنتاج التجاري الضخم.
② يترتب على ذلك التوسع في استخدام الغاز الطبيعي كبديل لمصادر الطاقة الأخرى واستخدامه في الصناعة والاستخدامات المنزلية وفي توليد الكهرباء وكذلك كوقود للسيارات بديلاً للبنزين (للحد من التلوث).

- (ج) حيث تعد هذه المنظمات عناصر فعالة في تقديم الخدمات الاجتماعية وتنفيذ برامج التنمية ويتضح ذلك من خلال الأنشطة التي تقوم بها، ومنها :
- تثقيف المواطنين وتعريفهم بالحقوق السياسية كالتصويت والانتخاب والترشح للمناصب السياسية.
- توضيح علاقة المواطن بالدولة وكيفية التعبير عن حقوقه وواجباته.
- توفير مناخ يحقق الوحدة الوطنية من خلال توعية الأفراد بنبذ العنف.
(د) حيث :

- شاركت مصر في تأسيس منظمة الاتحاد الأفريقي.
- استضافت مصر أول قمة أفريقية على أرضها عام ١٩٦٤م.
- تولت مصر رئاسة الاتحاد الأفريقي للمرة الثالثة في فبراير ٢٠١٩م برئاسة الرئيس عبدالفتاح السيسي.

4

- (أ) ① (أ) الفريق أول عبدالمنعم رياض.
② الفريق محمد عبدالغنى الجمسى.
③ الخديو إسماعيل. (د) حكمت أبو زيد.
(ب) ① ترتب على ذلك جلاء القوات البريطانية عن مصر في ١٨ يونيو ١٩٥٦م بعد احتلال دام ٧٤ عاماً.
② ترتب على ذلك :
- خفض إنتاج البترول.
- حظر الصادرات النفطية إلى الولايات المتحدة الأمريكية خاصة عندما طلب الرئيس الأمريكى مساعدات عاجلة لإسرائيل.
③ يترتب على ذلك مساهمة اليونسكو فى :
- إنقاذ معابد أبو سمبل عام ١٩٦٤م.
- إحياء مكتبة الإسكندرية.
(ج) ① قامت مصر ب :
- تصفية الخلافات وتوحيد الصف العربى.
- الاستفادة من كل الموارد والإمكانات العربية المتاحة.
② شاركت فيه مصر بفاعلية لدعوته لحل الصراع العربى/الإسرائيلى على أساس مبدأ الأرض مقابل السلام على ضوء قرارات الأمم المتحدة (مجلس الأمن).

- مساندة الولايات المتحدة الأمريكية وبعض الدول الأوروبية لإسرائيل عسكرياً واقتصادياً وسياسياً.
- نقص التدريب وعدم توافر الأسلحة المتطورة للقوات المصرية.

(٢) حيث استطاعت :

- هزيمة القوات الإسرائيلية فى معركة رأس العرش عندما حاولت إسرائيل احتلال مدينة بورفؤاد.
- تدمير المدمرة الإسرائيلية إيلات بصواريخ البحرية المصرية أكتوبر ١٩٦٧م.
- وأُطلق على هذه المرحلة الصمود والتصدى.
- (٣) تدخلت الولايات المتحدة الأمريكية وقدم وزير خارجيتها روجرز مبادرة عرفت باسمه لوقف إطلاق النار تمهيداً لحل النزاع سلمياً.
- (ج) ① إصدار جميلة حافظ أول مجلة نسائية مصرية (الريحانة) (فبراير ١٩٠٧م).
- ② إنشاء جامعة الدول العربية (مارس ١٩٤٥م).
- ③ تأميم شركة قناة السويس البحرية شركة مصرية بإدارة مصرية (يوليو ١٩٥٦م).
- ④ عودة طابا إلى السيادة المصرية (مارس ١٩٨٩م).

الأغنام	الأبقار
* تُربى من أجل لحومها وأصوافها.	* تُعد المصدر الرئيسى للحوم الحمراء لغالبية سكان العالم. * تدخل بنسبة كبيرة فى التجارة الدولية.

٣

(أ) (١) صواب.

(٢) خطأ : ... لإسرائيل ...

(٣) خطأ : التطبيق غير السليم ...

(٤) صواب.

(ب) (١) بسبب :

- خضوع مصر للاحتلال البريطانى.
- فساد النظام الملكى.
- فساد الأحزاب السياسية وزيادة الصراع بينهم من أجل الوصول إلى الحكم.
- (٢) لحل الصراع العربى/ الإسرائيلى على أساس مبدأ الأرض مقابل السلام على ضوء قرارات الأمم المتحدة (مجلس الأمن).
- (٣) لأنه :
- أكد على سيادة القانون واستقلال القضاء وإقرار مبادئ التعددية الحزبية.
- كان أحد إجراءات تهيئة وإعداد الجبهة الداخلية لمصر قبل حرب أكتوبر ١٩٧٣م.
- (ج) (١) لم تشارك فرنسا فى العدوان الثلاثى على مصر.
- (٢) - لن يتم حماية المنشآت والمناطق.
- تعرض البلاد لأعمال السرقة والحرق والترويع.

٤

(أ) (١) الرئيس محمد أنور السادات.

(٢) جيمس بلفور وزير خارجية بريطانيا.

(٣) الرئيس الأمريكى كارتر.

(٤) عائشة راتب.

(ب) (١) بسبب :

- التفوق العسكرى الإسرائيلى وبصفة خاصة السلاح الجوى.
- استخدام إسرائيل عنصر المفاجأة فى ضرب المطارات المصرية بعد أن صورت أجهزة تجسس أمريكية حديثة المواقع المصرية.



كتاب
علم

اجب عن الأسئلة الآتية، اولاً الجغرافيا



١ (١) أمامك خريطة لدولة نيجيريا.

اكتب مدلول الأرقام الموقعة عليها :

(١) نهر النيجر. (٢) دولة تشاد..

(٣) هضبة... جوس... (٤) مدينة إبيادان.

(ب) «يُعد النشاط الصناعي قمة الأنشطة الاقتصادية المتطورة».

في ضوء هذه العبارة، وضح :

(١) سبب شهرة أستراليا في صناعة نسيج الصوف.

(٢) أثر الوحدة الاقتصادية الأوروبية على إقليم غرب ووسط أوروبا الصناعي.

(ج) قارن بين :

(١) الزراعة الكثيفة، والزراعة التجارية والعلمية، من حيث الخصائص.

(٢) الهند، والولايات المتحدة الأمريكية، من حيث مناطق التركيز السكاني.

١ (١) لوجود اغنام المارينو الشهيرة بغزارة الصوف

٢ (٢) ادى الى حدوث التكامل في الجوانب الاقتصادية (الصناعة والتجارة) بإقليم غرب اوربا و حمايتها جمركيا وتدعيمها من جانب هيئة الاتحاد الاوروبى

ج (٣) قارن بين

١ (١) الزراعة الكثيفة والزراعة التجارية والعلمية من حيث الخصائص .

الزراعة التجارية	الزراعة الكثيفة	
تهدف للإنتاج التجاري الضخم / تستخدم أحدث الآلات وتتم في مزارع واسعة/ تخصص في محصول واحد/ تقل التكلفة والعمالة	تتم من خلال عمليات عديدة / تتطلب أيدي عاملة وفيرة/ يصعب استخدام المكنة لضيق الحقول/ تزرع الأرض أكثر من مرة	الخصائص

٢ (٢) الهند والولايات المتحدة من حيث مناطق التركيز السكان

الولايات المتحدة الأمريكية	الهند	
يتركزون في إقليم نيو انجلند في المنطقة الشمالية - السهول الوسطى - السواحل الغربية حيث المناطق الصناعية بينما يقعون في نطاق المرتفعات والأحواض الغربية - ولاية الاسكا .	يتركزون في السهول الساحلية والفيضية حيث المدن الرئيسية مثل : نيودلهي - بومباي	مناطق تركيز السكان

٢ (١) اختر الإجابة الصحيحة مما بين القوسين :

(١) أكبر قارات العالم إنتاجاً لمحصول القطن قارة

(آسيا - أفريقيا - أمريكا الشمالية - أمريكا الجنوبية)

(٢) المصدر الأول والرئيسي للمطاط المستخدمة في العالم حتى أوائل القرن

الـ ٢٠٠٠م (البنزول - الفحم - الكهرباء - الرياح)

(٣) تقع معظم دولة داخل حدود دولة الهند.

(نيبال - بوتان - بنجلاديش - باكستان)

(٤) تُعد القوة الاقتصادية الأولى في العالم.

(روسيا - كندا - الصين - الولايات المتحدة الأمريكية)

(ب) بم تفسر ... ؟

(١) قلة عدد القائمين بصرفة الرعى البدائي في صحارى شبه الجزيرة العربية وبادية الشام.

ب (١) لندفق البنزول وتوظين البدو

- (٢) توسع العالم في استخدام الغاز الطبيعي كبديل لمصادر الطاقة الأخرى.
(٣) تنوع مناخ الولايات المتحدة الأمريكية واختلافه من منطقة إلى أخرى.

التاريخ

(١) اكتب كلمة (صواب) أمام العبارة الصحيحة، وكلمة (خطأ) أمام العبارة غير الصحيحة، مع التصويب :

- (١) أصدرت ألمانيا وعد بلفور عام ١٩١٧ لإنشاء وطن لليهود في فلسطين. (خطأ بريطانيا)
(٢) أغلقت مصر خليج السويس في وجه الملاحه الإسرائيلية في مايو ١٩٦٧. (خطأ العقبة)
(٣) نجحت القوات المصرية في هزيمة القوات الإسرائيلية في معركة رأس العش. (صواب)
(٤) تسلم المستشار عدلي منصور رئيس المحكمة الدستورية العليا سلطة حكم مصر في يوليو ٢٠١٣. (صواب)
(٥) نص دستور ١٩٥٦ على أن السلطة التشريعية في يد مجلس منتخب هو مجلس الأمة. (صواب)

(ب) ما المقصود بالمصطلحات التاريخية الآتية ... ؟

- (١) عدم الانحياز. (٢) الحياة النيابية. (٣) الأمم المتحدة.

(ج) ما العلاقة بين : منظمة الأمم المتحدة للتربية والعلوم والثقافة (اليونسكو)، وحفظ التراث الثقافي والحضارى لمصر ؟

(٢) لأنه من مصادر الطاقة - الأقل تلويث للبيئة . - والرخيصة . - وسهلة النقل .

(٣) بسبب اتساع مساحتها وتنوع تضاريسها

(ب) ما المقصود بالمصطلحات الآتية : (١) عدم الانحياز : عدم الانضمام إلى الكتلتين الشرقية أو الغربية .

(٢) الحياة النيابية : قيام الشعب بانتخاب ممثلين لإدارة شؤون الحكم في البلاد وسن القوانين ومراقبة أعمال الحكومة نيابة عنه .

(٣) الأمم المتحدة : هي منظمة تضم في عضويتها دول العالم المستقلة وان لم ترتبط ببعضها بروابط معينة .

(ج) ما العلاقة بين : أدى ذلك الى - إنقاذ معابد أبو سمبل ١٩٦٤ م . - إحياء مكتبة الإسكندرية .

(١) من يكون ... ؟

(١) رئيس الأركان الذي قام بتنفيذ خطة عبور قناة السويس وتحطيم خط بارليف أكتوبر ١٩٧٣. الفريق سعد الدين الشاذلي

(٢) بادر بزيارة إسرائيل من أجل السلام عام ١٩٧٧ م. الرئيس محمد أنور السادات

(٣) أصدرت أول مجلة نسائية مصرية (الريحانة) فبراير ١٩٠٧ م. جميلة حافظ

(٤) أول رئيس للجمهورية المصرية في يونيو ١٩٥٣ م. الرئيس محمد نجيب

(٥) * تولى رئاسة منظمة الاتحاد الأفريقى فبراير ٢٠١٩ م. الرئيس عبدالفتاح السيسى

(ب) ما النتائج التي ترتبت على ... ؟

(١) هزيمة الدول العربية في حرب فلسطين ١٩٤٨ م.

(٢) ثورة ٢٣ يوليو ١٩٥٢ بالنسبة للمرأة المصرية.

(ج) ما رأيك في : استضافة مصر أول قمة أفريقية على أرضها عام ١٩٦٤ م ؟

(ب) ما النتائج : (١) ج . أدى إلى نجاح اليهود في الاستيلاء على فلسطين بالكامل ما عدا : - الضفة الغربية بها القوات الأردنية . - القدس مقسمة بين العرب واليهود . - قطاع غزة تحت إدارة مصرية .

(٢) ج منح المرأة عام ١٩٥٦ م حق الانتخاب والترشح لمجلس الأمة



اولا الجغرافيا

اجب عن الأسئلة الآتية:



١ (١) أمامك خريطة للولايات

المتحدة الأمريكية.

اكتب مدلول الأرقام

الموقعة عليها :

(١) دولة **الكسبك** ..

(٢) هضبة **كلورا دو**

(٣) نهر **السيبي**.

(٤) مدينة تقع على بحيرة

متشجن **شيكاجو**

(ب) صوب ما تحته خط :

(١) ينتج معظم المطاط في قارة **أمريكا الجنوبية**. **آسيا**

(٢) تشتهر **إندونيسيا** بإنتاج الأصواف من أغنام المارينو. **أستراليا**

(٣) تمثل **روسيا** المركز الأول في الإنتاج العالمي للبترو. **السعودية**

(٤) يحدها **نيجيريا** من الجنوب المحيط **الهادي**. **الاطلنطي**

(ج) قارن بين : الهند، ونيجيريا، من حيث :

* مناطق التركيز السكاني. * العاصمة.

نيجيريا	الهند	
ينتركز السكان في الغرب وفي السهول الشمالية وفي هضبة جوس حيث الأراضي الزراعية والمراعي ومناطق التعدين. بينما يقل عدد السكان في دلتا النيجر بسبب كثافة الغابات والظروف المناخية القاسية.	ينتركز السكان في السهول الساحلية حيث المدن الرئيسية المكتظة بالسكان مثل نيودلهي العاصمة و بومباي	مناطق التركيز السكاني
أبوجا	نيو دلهي	العاصمة

٢ (١) اختر الإجابة الصحيحة مما بين القوسين :

(١) يعتبر..... من محاصيل الألياف. (البنجر - الشاي - القمح - الجوت)

(٢) تُعد..... أحد مراكز الصناعة في شرق آسيا. (كندا - البرازيل - كوريا - بوليفيا)

(٣) من السهول الفيضية في الهند سهول نهر..... في الجنوب.

(الجانج - كوفري - السند - ملبار)

(٤) تنمو حشائش..... في شمال نيجيريا. (السافانا - الإستبس - التندرا - البراري)

(ب) بم تفسر ... ؟

- (١) تتطلب الزراعة الكثيفة أيدي عاملة وفيرة.
- (٢) انتشار مصائد الأسماك على سواحل شمال غرب أوروبا.
- (٣) تركيز صناعة الألومنيوم في الدول المتقدمة.
- (٤) للفحم أهمية كبيرة منذ القرن الـ ١٨ الميلادي وحتى الوقت الحالي.

(ج) ما العلاقة بين كل من ... ؟

- (١) انتشار التعليم في دول وسط آسيا، والرعي البدائي.
- (٢) مصر، والولايات المتحدة الأمريكية.

(ب) بم تفسر (١) - لأنها تتم من خلال عمليات عديدة مثل بذر الحبوب والري وتنقية الحشائش .
(٢) - توافر العوامل الطبيعية والبشرية لحرفة صيد الأسماك بها .

(٣) - بسبب توافر مقومات صناعة الألومنيوم في الدول المتقدمة من (ملاحة كهربائية وخبرة فنية وعلمية وسوق محلية وخارجية تستوعب الإنتاج
(٤) في أواخر القرن الـ ١٨ شكل الفحم عماد الثورة الصناعية في أوروبا وأصبح المصدر الأول والرئيسي للطاقة المستخدمة في العالم حتى أوائل القرن الـ ٢٠ . أما في الوقت الحالي يستخدم كمصدر رئيسي في الصناعة بالدول الصناعية الكبرى ولا توليد الكهرباء الحرارية .

(ج) ما العلاقة بين :

- (١) أدى ذلك إلى قلة عدد العاملين في حرفة الرعي البدائي بدول وسط آسيا .
- (٢) علاقات ثقافية وعلمية تقوم على التبادل العلمي .
توجد منطلقه للتجارة الحرة .
اتفاقيه الكويت .
وتستورد مصر من الولايات المتحدة (الطائرات ، الأسلحة) .

ثانياً التاريخ

(١) لمن تنسب الأعمال التاريخية الآتية ... ؟

- (١) أصدر تصريحاً وُصف بأنه وعد ممن لا يملك لمن لا يستحق . **بلفور وزير خارجية بريطانيا**
- (٢) قاد سلاح الطيران المصري في حرب أكتوبر ١٩٧٣م . **محمد حسني مبارك**
- (٣) دعا العالم كله إلى مسانדתه في التطوع إلى السلام الدائم عام ١٩٧٧م . **الرئيس محمد نور السادات**
- (٤) أنشأ أول مدرسة لتعليم البنات عام ١٨٧٣م . **الخدوي إسماعيل**

(ب) ما النتائج التي ترتبت على ... ؟

- (١) التطبيق غير السليم لسياسة الخصخصة في مصر.
- (٢) دستور عام ١٩٥٦م بالنسبة للمرأة في مصر.
- (٣) التعاون بين منظمة اليونسكو وجمهورية مصر العربية .

(ج) اكتب المصطلح التاريخي لكل عبارة من العبارات الآتية :

- (١) معاهدة جعلت مصر ميداناً لمعارك الحرب العالمية الثانية واستنزاف مواردها .
- (٢) اتفاقية وقعت بين إسرائيل ومنظمة التحرير الفلسطينية برعاية أمريكية بواشنطن عام ١٩٩٣م .

(٣) الجهاز القضائي الأساسي للأمم المتحدة ومقرها لاهاي بهولندا .

(ب) ما النتائج التي ترتبت على ... ؟

- (١) أدى إلى - ارتفاع الأسعار - تجمع آلاف العاملين بعد خروجهم بنظام التقاعد المبكر وانضمامهم لمصروف البطالة .
- (٢) أدى إلى منح المرأة عام ١٩٥٦م حق الانتخاب والترشح لمجلس الأمة .
- (٣) أدى إلى - إنقاذ معابد أبو سمبل ١٩٦٤م . - إحياء مكتبة الإسكندرية .

(ج) اكتب المصطلح التاريخي لكل عبارة :

- (١) معاهدة ١٩٣٦م
- (٢) اتفاقية أوسلو ١٩٩٣م
- (٣) محكمة العدل الدولية .

1 (أ) «تعددت الحروب والمواجهات بين إسرائيل والعرب منذ ١٩٤٨م وحتى ١٩٧٣م» .
في ضوء هذه العبارة، وضح :

- (١) أسباب هزيمة الجيش المصري في حرب فلسطين عام ١٩٤٨م .
- (٢) مظاهر تصدى القوات المصرية للاعتداءات الإسرائيلية بعد عدوان ٥ يونيو ١٩٦٧م .
- (٣) رأيك في : الدور العربي أثناء حرب أكتوبر ١٩٧٣م .

١ (سبب - دعم الولايات المتحدة وبريطانيا لإسرائيل . - عدم استعداد الجيش المصري والعربي عسكري للحرب .
٢ (تصدى القوات المصرية للاعتداءات الإسرائيلية ومنها معركة رأس العش وفيها نجحت قواتنا في هزيمة القوات الإسرائيلية عندما حاولت احتلال مدينة بور فؤاد ، كما تم تدمير المدمرة الإسرائيلية (إيلات) بصواريخ البحرية المصرية في أكتوبر ١٩٦٧م

٣ (ما رأيك يترك للطالب التعبير عن رأيه

ويمكنه الاستعانة ب -

الدعم العربي أثناء الحرب :

- ٤ عسكريا : قدمت بعض الدول العربية دعما عسكريا لمصر وسوريا مثل (العراق والجزائر وليبيا والأردن والمغرب والسعودية والسودان والكويت وتونس) وكان لذلك دور مهم في تحقيق النصر
- ٤ ماليا : قدمت بعض الدول العربية دعما ماليا لمصر وسوريا مثل (السعودية والجزائر والإمارات)
- ٤ سياسيا : قرر وزراء النفط العربي في اجتماعهم بالكويت خفض انتاج البترول فارتفعت أسعاره ثم حظر الصادرات النفطية إلى الولايات المتحدة الأمريكية خاصة عندما طلب الرئيس الأمريكي مساعدات عاجلة لإسرائيل .

(ب) اكتب كلمة (صواب) أمام العبارة الصحيحة . وكلمة (خطأ) أمام العبارة غير الصحيحة :

(١) بعد ثورة ٢٣ يوليو ١٩٥٢م وافق الملك فاروق على مغادرة البلاد قبل الموعد المحدد له .

(صواب)

(٢) كانت ثورة ٣٠ يونيو ٢٠١٣م خطوة جادة نحو التقدم والازدهار .

(صواب)

(٣) يمثل مجلس النواب في مصر السلطة التنفيذية .

(خطأ)

(٤) توفير مناخ يحقق الوحدة الوطنية أحد أنشطة منظمات المجتمع المدني .

(صواب)

(٥) وأسست مصر الاتحاد الأفريقي ثلاث مرات .

(صواب)

(ج) ماذا كان يحدث اذا : لم تساند مصر حركات التحرر الوطني في الجزائر ؟

لم تشارك فرنسا في العدوان الثلاثي على مصر عام ١٩٥٦ م .





مجاب
عنه

أجب عن الأسئلة الآتية: **أولاً الجغرافيا**



١ (١) أمامك خريطة لدولة الهند. اكتب

مدلول الأرقام الموقعة عليها :

(١) دولة .. بنجلاديش

(٢) العاصمة التجارية بومباي

(٣) هضبة ... الدكن

(٤) خليج ... البنغال

(ب) بم تفسر ... ؟

(١) مركز مصايد الأسماك شمال غرب أوروبا.

(٢) انكماش مساحة الحشائش في السهل

الساحلي بألمانيا.

(٣) يعتبر النشاط الزراعي من الأنشطة الاقتصادية الأساسية في العالم.

(٤) يُعد البترول أهم مصادر الطاقة.

١ (ب) - توافر العوامل الطبيعية والبشرية لحرقة صيد الأسماك بها.

٢ - بسبب إحلال الزراعة محلها والتوسع العمراني .

٣ - لأنه مصدر رئيسي لغذاء الإنسان . - مصدر لتربية الحيوان . - مصدر للمواد الخام (زراعية / حيوانية / معدنية).

٤ - لأنه - ترتبط به التنمية الاقتصادية والاجتماعية والعلاقات السياسية . ينتج منه العديد من المشتقات مثل البنزين والبولار

٢ (١) اختر الإجابة الصحيحة مما بين القوسين :

(١) يعتبر محصول من المحاصيل ذات الطبيعة الخاصة.

(القطن - البنجر - الذرة - البن)

(٢) أستراليا أولى دول العالم إنتاجاً لخام

(الحديد - النحاس - البوكسيت - اليورانيوم)

(٣) تُعد العاصمة القديمة لنيجيريا. (أبوجا - لاجوس - إيبادان - كانو)

(٤) أولى دول العالم إنتاجاً لقصب السكر

(فرنسا - الولايات المتحدة الأمريكية - مصر - البرازيل)

(٥) ترتبط تربية بالمراعى التجارية الواسعة.

(الإبل - الجاموس - الرنة - الأغنام)

(ب) «تعد الصناعة الحديثة مقياس لتطور الشعوب وازدهارها».

في ضوء هذه العبارة. أجب عما يلي :

(١) دلل جغرافيًا على أن : هناك علاقة بين الإنتاج الحيواني، والصناعة.

(٢) ما المقصود بمصطلح : النشاط التعديني ؟

(٣) ما النتائج المترتبة على : الوحدة الاقتصادية الأوروبية ؟

(٤) قارن بين : حركة المد والجزر، والغاز الطبيعي، من حيث :

نوع الكهرباء المتولدة عن كل منهما.

(٥) ما مقترحاتك لـ : تحقق مصر الجودة في صناعاتها ؟

- ١ (تدخل المنتجات الحيوانية في العديد من الصناعات مثل صوف الأغنام مادة خام أساسية لصناعة نسيج الصوف
↳ الجلود من المنتجات الحيوانية الرئيسية التي تدخل في صناعة ديب الجلود وتصنيعها في شكل منتجات جلدية متعددة
- ٢ (عملية استخراج المعادن ومصادر الطاقة من باطن الأرض أو بالقرب من السطح.
- ٣ (التكامل في الجوانب الاقتصادية وحمايتها وتدعيمها جمركي من جانب الاتحاد الأوروبي .
- (٤

الغاز الطبيعي	حركة المد والجزر	
كهرباء حرارية	كهرباء مائية (كهرومائية)	نوع الكهرباء

(٥) استخدام الوسائل التكنولوجية - توفير رؤوس الأموال - الارتقاء بالمستوى العلمي للأيدي العاملة .

التاريخ

٢ (١) اكتب كلمة (صواب) أمام العبارة الصحيحة، وكلمة (خطأ) أمام العبارة غير الصحيحة، مع التصويب :

(١) ساهمت كل من مصر والهند ويوغوسلافيا (سابقًا) واندونيسيا في تشكيل

حركة عدم الانحياز.

(صواب)

(صواب)

(خطأ /)

خطأ القرار التعددية الحزبية

(صواب)

(٢) مذبحه دير ياسين من نتائج قرار تقسيم فلسطين عام ١٩٤٧م.

(٣) استعادت مصر نوبيع بالتحكيم الدولي.

(٤) أقر الدستور الدائم عام ١٩٧١م حل الأحزاب السياسية.

(٥) القضاء على مراكز القوى من الاستعدادات الداخلية لحرب أكتوبر ١٩٧٣م.

(ب) ما النتائج التي ترتبت على ... ؟

(١) معركة رأس العش.

(٢) اجتماع وزراء النفط العربي بالكويت أثناء حرب أكتوبر ١٩٧٣م.

(٣) ثورة ٢٣ يوليو ١٩٥٢م بالنسبة للمرأة المصرية.

(٤) التطبيق غير السليم لسياسة الخصخصة في مصر قبل ثورة ٢٥ يناير ٢٠١١م.

ب) ما النتائج ...

- ١) أدى إلى نجاح القوات المصرية في تكبيد القوات الإسرائيلية خسائر فادحة وإجبارها على الانسحاب من مدينة بور فؤاد .
- ٢) خفض إنتاج البترول فارتفعت أسعاره ثم حظر الصادرات النفطية إلى الولايات المتحدة الأمريكية خاصة عندما طلب الرئيس الأمريكي مساعدات عاجلة لإسرائيل .
- ٣) منح المرأة عام ١٩٥٦م حق الانتخاب والترشح لمجلس الأمة .
- ٤) أدى إلى - ارتفاع الأسعار - تجمع آلاف العاملين بعد خروجهم بنظام التقاعد المبكر وانضمامهم لصفوف البطالة .

ج) ماذا كان يحدث إذا : لم يتخذ الرئيس السادات قرار مبادرة السلام عام ١٩٧٧م ؟

جـ لم يتم تهديد الطريق أمام إسرائيل للقبول بمبدأ التفاوض مع الأطراف المهتمة والمعنبة بقضية الصراع العربي الإسرائيلي وبالتالي لم يتم إنهاء الصراع العربي الإسرائيلي سلمياً .

٤ (١) اكتب ما تشير إليه كل عبارة من العبارات الآتية :

منظمة الامم المتحدة (١) منظمة تضم في عضويتها جميع دول العالم المستقلة ومقرها نيويورك .

الحياة النيابية (٢) قيام الشعب بانتخاب ممثلين لإدارة شئون الحكم و سن القوانين ومراقبة أعمال الحكومة .

أمال عثمان (٣) شغلت منصب رئيس اللجنة التشريعية بمجلس الشعب .

عدلى منصور (٤) رئيس المحكمة الدستورية العليا الذى أسند له حكم مصر فى عام ٢٠١٣م .

سعد الدين الشاذلي (٥) رئيس أركان حرب القوات المسلحة الذى مُنح اسمه قلادة النيل العظمى .

ب) «تعددت الحروب والمواجهات بين إسرائيل والعرب منذ عام ١٩٤٨م حتى عام ١٩٧٣م» .
في ضوء هذه العبارة، أجب عن الأسئلة الآتية :

(١) دلل تاريخياً على : تعتبر بريطانيا صانعة مشكلة فلسطين .

(٢) حدد سبباً لـ : إغلاق خليج العقبة في وجه الملاحة الإسرائيلية عام ١٩٦٧م .

(٣) صوب ما فوق الخط :

ساندت مصر حركات التحرر الوطني في الجزائر ضد الاستعمار الأسباني . الفرنسي

(٤) ما العلاقة بين : حرب الاستنزاف، ومبادرة روجرز ؟

(٥) ما رأيك في : أثر تحقيق السلام على السياحة في المنطقة العربية ؟

١) أصدرت بريطانيا وعد بلفور ١٩١٧م نص على (تعهد بريطانيا ببذل مساعيها لإنشاء وطن قومي لليهود في فلسطين)

وهو وعد ممن لا يملك لمن لا يستحق . السماح لهجرة الكثير من يهود العالم الى فلسطين

السماح بانتقال ملكية الارض من عرب فلسطين الى اليهود عن طريق الشراء .

٢) - لإحكام الحصار الاقتصادي الذي فرضه العرب على إسرائيل .

٤) ج . قدمت الولايات المتحدة مبادرة روجرز لوقف حرب الاستنزاف وتهديد لحل النزاع سلمياً .

٥) يترك للطالب للتعبير عن رأيه

ويمكنه الاستعانة بـ . تزيد من حركة السياحة مما يؤدي إلى زيادة الدخل القومي وتوفير العملات الأجنبية .

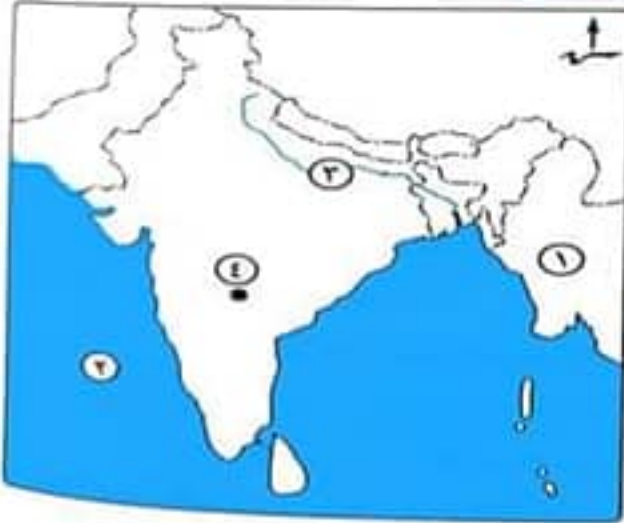




مجاب
عنه

أولاً الجغرافيا

اجب عن الأسئلة الآتية،



١) أمامك خريطة لدولة الهند، اكتب

مدلول الأرقام الموقعة عليها :

(١) دولة **ميانمار**

(٢) البحر **العربي**

(٣) سهول نهر **الجانج**

(٤) مدينة **حيدر اباد**

(ب) صوب الكلمات الى محنها حدد، واعد كتابة العبارة صحيحة :

(١) يسود الرعى التجارى فى الولايات المتحدة الأمريكية والأرجنتين والسودان. وشبلى

(٢) تُعد مصر وتونس من أهم المراكز الصناعية الحديثة فى قارة أفريقيا. جنوب أفريقيا

(٣) تستورد مصر من البرازيل المعادن وخاصة الفوسفات. الحديد

(٤) يطلق على المرتفعات الشرقية بالولايات المتحدة الأمريكية جبال **كسكيد**. الأبلش

(ج) بم تفسر... ؟

(١) تركز زراعة الشاي فى شرق آسيا.

(٢) تنتشر مناطق الصيد على سواحل شمال غرب أوروبا وسواحل أمريكا الشمالية.

(٣) أسعار البترول فى زيادة مستمرة.

(٤) * إنشاء دولة البرازيل لمدينة برازيليا.

(ج) بم تفسر لتوافر ظروف الزراعة من تربته من خصبة خفيفة ومناخ حار وهواء رطب ومطر غزير .

(٢) لتوافر العوامل الطبيعية والبشرية التى تساعد على تطور حرفة صيد الأسماك بها .

(٣) بسبب زيادة الطلب على البترول وتعدد استخداماته .

(٤) لتعير هضبة البرازيل .

٢) (١) اكتب ما تشير إليه كل عبارة من العبارات الآتية :

(١) قارة تحتل المركز الثانى فى تربية الأبقار فى العالم. **أمريكا الجنوبية**

(٢) أكبر قارتين إنتاجاً للقمح (أكثر من $\frac{2}{3}$ إنتاج العالم). **آسيا وأوروبا**

(٣) إقليم يتركز به ٥٠% من سكان الولايات المتحدة الأمريكية ويمثل ١٢% من مساحتها. **نيو انجلند**

(ب) ما أوجه الاختلاف بين :

الزراعة البسيطة (البداية)، والزراعة التجارية والعلمية من حيث خصائص كل منهما ؟

الزراعة التجارية	الزراعة البسيطة	
تهدف للإنتاج التجارى الضخم / تستخدم أحدث الآلات وتتم فى مزارع واسعة / تخصص فى محصول واحد/تقل التكلفة والعمالة	استخدام أدوات بدائية بسيطة/ ضيق المساحة وتباعدها/ تمارس لتوفير الاحتياجات اللازمة للسكان دون وجود فائض للتصدير.	خصائصها

(ج) دلل جغرافيًا على صحة العبارات الآتية :

- (١) صناعة الألومنيوم تحتاج إلى عدة مقومات لقيامها.
- (٢) واجهت الهند المشكلة السكانية بسياسات تنموية مختلفة.
- (٣) ضخامة الإنتاج وتنوع الصناعات في الولايات المتحدة الأمريكية.
- (د) ما العلاقة بين ... ؟ (١) الصناعة الحديثة، والدول المتقدمة.
- (٢) الموقع الفلكي، والمناخ بدولة البرازيل.

١ مقومات صناعة الألومنيوم في الدول المتقدمة من (طاقة كهربائية وخبرة فنية وعلمية وسوق محلية وخارجية تستوعب الإنتاج) (٢) واجهت ذلك سياسات تنموية مختلفة مثل التوسع في زراعة المحاصيل الغذائية وتطوير الصناعات المختلفة إلى جانب الاهتمام بالتعليم وتطوير البحث العلمي .

(٣) حيث تساهم بحصص مرتفعة من الإنتاج العالمي في عدد من الصناعات

(صناعة السيارات والصلب والألومنيوم والصناعات الكيماوية والإلكترونية) تنتج ثلث الإنتاج العالمي من الصناعات الكهربائية والإلكترونية) تحتل المراتب الأولى عالميًا في صناعة الطيران (البوينج) وسفن الفضاء والأقمار الصناعية.

(د) ما العلاقة : (١) تطورت الصناعة تطور مذهل في الدول المتقدمة .

- لأنها :- أخذت بالأساليب العلمية. - تطبيق الأبحاث والتجارب العلمية. - تطوير وتحديث المنتجات الصناعية بشكل مستمر.

(٢) أدى إلى

- * يسود المناخ الاستوائي شديد الحرارة في حوض الأمازون والسهل الساحلي طوال العام.
- * يسود المناخ المداري الحار في السهول الشرقية وهضبة البرازيل وبقية أجزاء الدولة .
- * يسود المناخ المعتدل الرطب في أقصى جنوب شرق البرازيل.

ثانياً التاريخ

٢ (١) اكتب كلمة (صواب) أمام العبارة الصحيحة، وكلمة (خطأ) أمام العبارة غير الصحيحة، مع التصويب :

- (١) تنازل الملك فاروق عن العرش لابنه الصغير (أحمد فؤاد الثاني). (صواب)
- (٢) أصدرت فرنسا وعد بلفور عام ١٩١٧م. (خطأ بريختانيا)
- (٣) استعادت مصر شبه جزيرة سيناء في ٢٥ أبريل ١٩٨٢م ما عدا منطقة طابا. (صواب)
- (٤) أنشأ محمد علي مجلس شورى النواب عام ١٨٦٦م. (خطأ إسحاقيل)
- (٥) الأمم المتحدة منظمة عالمية مقرها مدينة نيويورك. (صواب)

(ب) «تساند مصر دائماً قضايا المنطقة العربية». في ضوء العبارة، وضح :

- (١) أهم إنجازات ثورة ٢٣ يوليو ١٩٥٢م في المجال العربي والدولي.
- (٢) موقف مصر من اتفاقية أوسلو عام ١٩٩٣م.
- (٣) الأهداف التي من أجلها أنشئت جامعة الدول العربية.

(ج) ما رأيك في : موقف الدول العربية أثناء حرب أكتوبر ١٩٧٣م ؟

ب) ١ في المجال العربي

- توحيد الجهود العربية لصالح حركات التحرر فساندت السودان والجزائر وتونس واليمن وساهمت في استقلال الكويت والعراق
- ❖ إقامة أول وحدة عربية بين مصر وسوريا في فبراير ١٩٥٨ (عرفت باسم الجمهورية العربية المتحدة)
- ❖ لاتزال تؤيد حقوق الشعب الفلسطيني في تقرير مصيره في إقامة دولة مستقلة و عاصمتها القدس الشريف

في المجال الدولي

- ١- المساهمة في تشكيل حركة عدم الانحياز وظهر الدور الرائد لمصر مع كل من الهند ويوغسلافيا سابقا في مؤتمر باندونج باندونيسيا عام ١٩٥٥م
- ٢- مساندة الدول الإفريقية لنيل الاستقلال مثل الثورة الكينية والكاميرون والكونجو وغينيا و انجولا أفريقيا
- ٣- كسر احتكار السلاح العالمي بعقد صفقة الأسلحة الشرقية عام ١٩٥٥ .

ب) ٢ أيدت مصر الاتفاقيات وما حدث من اتفاقيات أخرى تتعلق بالانسحاب الإسرائيلي من الأراضي المحتلة وإقامة السلطة الوطنية الفلسطينية .

ب) ٣ تنسيق العلاقات بين الدول الأعضاء

- * تنسيق الخطط السياسية والاقتصادية والاجتماعية والثقافية
- * التعاون وحماية الأمن القومي العربي
- * صيانة استقلال الدول الأعضاء وسيادتها
- * تعزيز العمل العربي المشترك في مختلف المجالات .

ج) يترك للطالب مع امكانية الاستعانة بـ .

الدعم العربي أثناء الحرب :

- ٤ عسكريا : قدمت بعض الدول العربية دعما عسكريا لمصر وسوريا مثل (العراق والجزائر وليبيا والأردن والمغرب والسعودية والسودان والكويت وتونس)
- ٤ ماليا : قدمت بعض الدول العربية دعما ماليا لمصر وسوريا مثل (السعودية والجزائر والإمارات)
- ٤ سياسيا : قرر وزراء النفط العربي في اجتماعهم بالكويت خفض انتاج البترول فارتفعت أسعاره ثم حظر الصادرات النفطية إلى الولايات المتحدة الأمريكية خاصة عندما طلب الرئيس الأمريكي مساعدات عاجلة لإسرائيل .

٤ (١) من أكون ... ؟

- (١) توليت رئاسة الحكومة المصرية عقب حادث فبراير ١٩٤٢م مصطفى النحاس
- (٢) وضعت خطة الخداع لصرف أنظار إسرائيل عن التجهيزات الهجومية لحرب أكتوبر ١٩٧٣م بشير احمد اسماعيل
- (٣) أنشأت عدة مجالس استشارية لا سلطة لها في مصر مثل مجلس المشورة .
- (٤) أصدرت أول مجلة نسائية مصرية (الريحانة) عام ١٩٠٧م . محمد علي جميلة حافظ

ب) ما النتائج التي ترتبت على ... ؟

(١) فشل العدوان الثلاثي على مصر عام ١٩٥٦م .

(٢) ثورة ٣٠ يونيو ٢٠١٣م .

ج) ماذا كان يحدث إذا ... ؟

(١) وافقت إسرائيل على قرار مجلس الأمن رقم ٢٤٢

(٢) فشل مؤتمر كامب ديفيد في سبتمبر ١٩٧٨م .

- ب) - انسحاب الجنترافرنسا من بور سعيد في ٢٢ ديسمبر ١٩٥٦م . ٢- انسحاب إسرائيل من غزة وسيناء في أوائل عام ١٩٥٧م . ٣- إدراك الدول العربية الخطر الإسرائيلي فقامت الوحدة بين مصر وسوريا ١٩٥٨م .

(٢) ١٠- عزل محمد مرسى وتسليم السلطة إلى المستشار عدلي منصور رئيس المحكمة الدستورية العليا .

٢- صدور دستور جديد يناير ٢٠١٤م وعقد انتخابات رئاسية وإعلان فوز المرشح عبدالفتاح السيسي .



أولاً الجغرافيا

اجب عن الأسئلة الآتية،



- ١ (١) أمامك خريطة للعالم، اكتب في كراسة إجابتك مدلول الأرقام الموقعة عليها :
البدائية (١) نوع الزراعة السائدة
(٢) اسم المعدن الذي تحتل هذه الدولة المرتبة الأولى في إنتاجه (البوكسيت)

(٣) إقليم صناعى شمال شرق الولايات المتحدة (٤) العاصمة التجارية .. بومباي

(ب) «تمثل الأسماك غذاء رئيسياً لكثير من سكان العالم خاصة في المناطق الساحلية على البحار والمحيطات». في ضوء هذه العبارة، وضح :

- (١) العوامل الطبيعية التي ساعدت على انتشار مصايد الأسماك على سواحل القارات.
(٢) أسباب قيام بعض الدول بصيد الحيتان.
(٣) أسباب إنتاج نيجيريا لكميات كبيرة من الأسماك.

(ج) ما العلاقة بين ... ؟

- (١) تدفق البترول، وحرفة الرعى البدائي في شبه الجزيرة العربية.
(٢) دولة ألمانيا، ومحطات توليد الكهرباء في مصر.

(د) اكتب المصطلح الجغرافي لكل عبارة من العبارات الآتية :

- (١) يستخرج من عصارة أشجار استوائية ويصنع منه إطارات السيارات.
(٢) احتل المصدر الأول والرئيسي للطاقة المستخدمة في العالم حتى أوائل القرن العشرين.
(٣) نبات طبيعي ينمو على السواحل الغربية والشرقية للهند.

(ب) ١ المقومات الطبيعية (ضخالة المياه الساحلية - التقاء التيارات البحرية الدافئة والباردة - توافر الموانئ)
٢ للاستفادة من لحومها وشحومها .

٣ تنتج نيجيريا كميات من الأسماك حيث تتمتع بساحل على خليج غينيا وبها أنهار وبحيرات بالداخل .


(ج) ما العلاقة : ادى الى قلة عدد القائمين على حرفة الرعى البدائي في شبه الجزيرة العربية

٢ توبيل ألمانيا لمحطات توليد الكهرباء من الرياح في مصر .

(د) المصطلح (١) المطاط الطبيعي (٢) الفحم (٣) الغابات الموسمية

٢ (١) صوب ما تحته خط في العبارات الآتية :

- (١) القطن من المحاصيل المعتدلة المهمة لإنتاج الخيوط التي تستخدم في صناعة المنسوجات.
(٢) تصدر الدول النامية مثل موريتانيا خام النحاس إلى الدول الصناعية المتقدمة.
(٣) تُعد آسيا أولى قارات العالم إنتاجاً للطاقة النووية.
(٤) تمتد سهول ملبار على خليج البنغال شرق الهند.



(ب) أمامك رسم بياني يمثل إنتاج إحدى أنواع

الموارد الزراعية في العالم، استعن به للإجابة عما يأتي :

(١) ما المورد الزراعى الذى يمثله الرسم البياني ؟

(٢) حدد القيمة الاقتصادية لهذا المورد

لأولى القارات المنتجة له .

(٤) كروماندل

(٣) أوروبا

(٢) الحديد

(١) المدارية .

(٢) يستخدم كعلف للماشية وتصدر جزء منه للخارج .

(ب) (١) الذرة

(ج) ما النتائج المترتبة على ... ؟

- (١) استخدام الطرق العلمية الحديثة في الزراعة التجارية والعلمية.
- (٢) رخص ثمن الغاز الطبيعي وقلته تلوثه.

(د) قارن بين : الأبقار، والأغنام، من حيث الأهمية الاقتصادية لكل منهما.

ج (أدي لقله عدد العماله وقله التكاليف

٢ (ادى الى التوسع في استخدام الغاز الطبيعي كمصدر للطاقة .

د (قارن

الحيوانات	الأهمية الاقتصادية
الأبقار	تعد المصدر الرئيس للحوم الحمراء لغالبية سكان العالم وتدخل بنسبة كبيرة في التجارة الدولية
الأغنام	ترعى من أجل لحومها وأصوافها

ناتنا التاريخ

٢ (١) اكتب كلمة (صواب) أمام العبارة الصحيحة، وكلمة (خطأ) أمام العبارة غير الصحيحة، مع التصويب :

(١) كسرت مصر احتكار السلاح العالمي بعقد صفقة الأسلحة الشرقية. (صواب)

(٢) قدمت الولايات المتحدة الأمريكية مساعدات مالية ضخمة عاجلة

لمصر أثناء حرب أكتوبر ١٩٧٣م.

(خطأ لإسرائيل)

(٣) التطبيق السليم لسياسة الخصخصة أدى إلى ارتفاع الأسعار في

المجتمع المصري قبل ثورة ٢٥ يناير ٢٠١١م.

خطأ التطبيق غير السليم

(٤) ساهمت منظمة الأمم المتحدة للتربية والعلوم والثقافة في إنقاذ

«معابد أبو سمبل» في عام ١٩٦٤م.

(صواب)

(ب) بم تفسر ... ؟

(١) عجز الأحزاب السياسية في التعبير عن إرادة الشعب المصري ومطالبه

قبل ثورة يوليو ١٩٥٢م.

(٢) مشاركة مصر في مؤتمر مدريد للسلام عام ١٩٩١م.

(٣) أهمية الدستور الدائم لمصر عام ١٩٧١م.

(ج) ماذا كان يحدث إذا ... ؟ (١) لم تؤيد مصر حركات التحرر الوطني في الجزائر.

(٢) لم تشكل اللجان الشعبية أثناء ثورة ٢٥ يناير ٢٠١١م.

ب (١ - لخضوع مصر للاحتلال البريطاني . - فساد النظام الملكي . - فساد الأحزاب السياسية والصراع للوصول للحكم .

٢ (لحل الصراع العربي الاسرائيلي على أساس - مبدأ الأرض مقابل السلام . - وقرارات مجلس الأمن .

٣ (للتأكيد على ١ - سيادة القانون . ٢ - استقلال القضاء . ٣ - التعددية الحزبية .

ج (ماذا يحدث إذا ...

١ (لم تشترك فرنسا في العدوان الثلاثي على مصر عام ١٩٥٦ م .

٢ (ج . لم يتم حماية المنشآت والمناطق . ولم يتم مواجهة أعمال السرقة والحرق والترويع .

٤ (١) لمن تنسب الأعمال التاريخية الآتية ... ؟

- (١) أذاع أول بيان لثورة ٢٣ يوليو ١٩٥٢م.
 - (٢) أصدر تصريحاً تعهدت فيه بريطانيا بإنشاء وطن قومي لليهود في فلسطين.
 - (٣) دعا كلاً من مصر وإسرائيل لعقد مؤتمر كامب ديفيد للسلام عام ١٩٧٨م.
 - (٤) تولت منصب وزيرة الشؤون الاجتماعية عام ١٩٧١م.
- (ب) «تعددت الحروب والمواجهات بين إسرائيل والعرب منذ عام ١٩٤٨م وحتى عام ١٩٧٣م».
- في ضوء هذه العبارة، وضح :

- (١) أسباب هزيمة الدول العربية في يونيو ١٩٦٧م.
 - (٢) دور القوات المسلحة المصرية في الصمود والتصدي للاعتداءات الإسرائيلية بعد عدوان عام ١٩٦٧م.
 - (٣) موقف الولايات المتحدة الأمريكية من حرب الاستنزاف.
- (ج) رتب العبارات الآتية طبقاً لأولوية حدوثها تاريخياً :
- * عودة طابا إلى السيادة المصرية.
 - * إصدار جميلة حافظ أول مجلة نسائية مصرية (الريحانة).
 - * تأميم شركة قناة السويس البحرية شركة مصرية بإدارة مصرية.
 - * إنشاء جامعة الدول العربية.

- ٤ (١ محمد أنور السادات ٢ بلفور وزير خارجية بريطانيا ٣ الرئيس الأمريكي كارتر ٤ عائشة راتب
- ب (١ - بسبب ١ - تفوق إسرائيل العسكري وخاصة السلاح الجوي . ٢ - استخدام إسرائيل لعنصر المفاجأة .
- ٣ - مساعدة الولايات المتحدة وبعض الدول الأوروبية لإسرائيل . ٤ - نقص التدريب والتسلح العربي .

٢ (تمثلت في صمود القوات المصرية أمام القوات الإسرائيلية على الضفة الغربية للقناة وفيها معركة رأس العش نجحت فيها القوات المصرية في التصدي للقوات الإسرائيلية وألحقت بها خسائر فادحة وأجبرتها على الانسحاب عندما حاولت احتلال مدينة بور فؤاد ١٩٦٧ .

تدمير المدمرة إيلات بالصواريخ البحرية المصرية في أكتوبر ١٩٦٧ م .

٢ (تقدم روجرز وزير خارجية الولايات المتحدة بمبادرة لوقف إطلاق النار تمهيداً لحل النزاع بالطرق السلمية

ج (الترتيب

- (١ إصدار جميلة حافظ أول مجلة نسائية مصرية (الريحانة)
- (٢ إنشاء جامعة الدول العربية
- (٣ تأميم شركة قناة السويس شركة مصرية بإدارة مصرية
- (٤ عودة طابا إلى السيادة المصرية



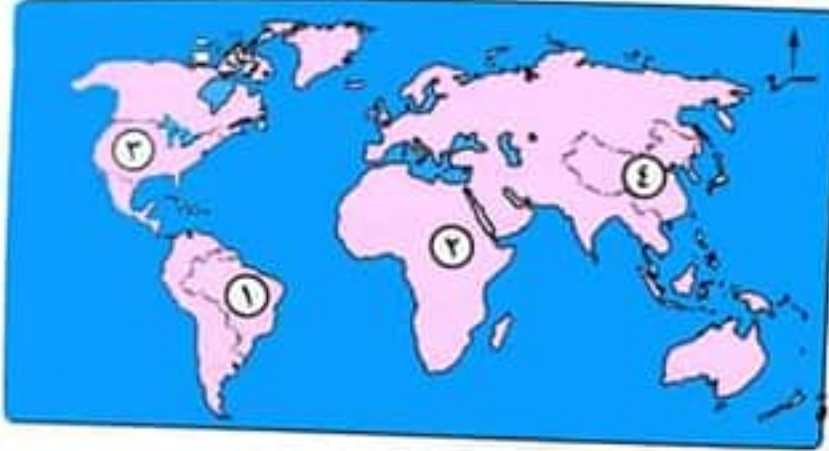


مجاب
عنه

اولاً الجغرافيا

اجب عن الأسئلة الآتية:

١) أمامك خريطة للعالم، وضح مدلول الأرقام الموجودة عليها:



(١) أكبر دول أمريكا الجنوبية

مساحة .. البرازيل

(٢) ثاني قارات العالم إنتاجاً

للمطاط الطبيعي .. أفريقيا

(٣) أولى دول العالم إنتاجاً

للغاز الطبيعي الولايات المتحدة

(٤) أكبر دول العالم إنتاجاً للقمح .. الصين ..

(ب) اكتب المصطلح الجغرافي لكل عبارة مما يأتي:

(١) أكبر الأقاليم الصناعية في العالم الجديد .. إقليم شمال شرق الولايات المتحدة الأمريكية

(٢) زراعة يعمل بها عدد قليل من السكان في مناطق صغيرة ومعزولة .. زراعة بسيطة (بدائية)

(ج) صوب ما تحته خط، ثم أعد كتابة العبارة صحيحة:

(١) أكبر دول العالم إنتاجاً للألبان فرنسا .. جمهورية الهند

(٢) أولى دول العالم إنتاجاً للبوكسيت الصين .. أستراليا

(د) دلل جغرافياً على صحة كل عبارة مما يأتي:

(١) ترتبط مصر بألمانيا بعلاقات ثقافية وعلمية.

(٢) صناعة الألومنيوم تحتاج إلى عدة مقومات لقيامها.

(د ١) ⇔ علاقات ثقافية وعلمية بين البلدين تتمثل في:

(هيئة التبادل العلمي الألمانية - المركز الثقافي الألماني - الجامعة الألمانية بالقاهرة - معهد الأثار الألماني)

(٢) - تحتاج صناعة الألومنيوم إلى عدة مقومات من (طاقة كهربائية وخبرة فنية وعلمية وسوق محلية وخارجية تستوعب الإنتاج)

٢) (١) اختر الإجابة الصحيحة مما بين القوسين:

(١) الغذاء الرئيسي لمعظم شعوب العالم محصول (الأرز - القمح - الذرة - الشعير)

(٢) من الدول النامية المصدرة لخام الحديد (موريتانيا - ليبيا - السودان - جيبوتي)

(٣) البرازيل أولى دول العالم إنتاجاً لمحصول (الشاي - المطاط - البن - القمح)

(٤) يحد ألمانيا من جهة الشمال دولة (الدنمارك - بولندا - فرنسا - النمسا)

(ب) بم تفسر ... ؟ (١) تقدم الصناعة وتطورها في الدول المتقدمة .

(٢) أهمية الثروة الحيوانية في العالم .

(٣) يُزرع قصب السكر في كل قارات العالم عدا قارة أوروبا .

(٤) تُعدّ إندونيسيا من أهم الدول إنتاجاً للأسمك في العالم .

(ج) ما العلاقة بين : الديانة الهندوسية، وضخامة أعداد الأبقار في الهند ؟

التاريخ

٢ (١) اكتب كلمة (صواب) أمام العبارة الصحيحة، وكلمة (خطأ) أمام العبارة غير الصحيحة، مع التصويب :

(١) أذيع البيان الأول لثورة ٢٣ يوليو ١٩٥٢ بصوت محمد نجيب . خطأ (محمد أنور السادات)

(٢) أعطى مؤتمر سان ريمو في أبريل ١٩٢٠ لبريطانيا حق الانتداب على فلسطين . (صواب)

(٣) من أمثلة التعاون بين منظمة اليونسكو ومصر إنقاذ معابد أبو سمبل عام ١٩٦٤م . (صواب)

(٤) من المجالس النيابية الاستشارية في مصر والتي لا سلطة لها قبل

الاحتلال البريطاني لمجلس المشورة . (صواب)

(ب) ما النتائج التي ترتبت على ... ؟

(١) مؤتمر كامب ديفيد سبتمبر ١٩٧٨م .

(٢) العدوان الإسرائيلي في ٥ يونيو ١٩٦٧م .

(٣) * رئاسة مصر لمنظمة الاتحاد الأفريقي للمرة الثالثة فبراير ٢٠١٩م .

(ج) ماذا كان يحدث إذا : أهملت الدولة مكانة المرأة في الفترة من عام ١٩٨١م وحتى الآن ؟

ب (ب) تفسر ١ : - لأنها : - أخذت بالأساليب العلمية . - تطبيق الأبحاث والتجارب العلمية . - تطوير وتحديث المنتجات الصناعية بشكل مستمر

٢ - تعد المصدر الرئيسي للحوم الحمراء والألبان بجانب الجلود والصوف وغيرها .

٣ - لوقوع قارة أوروبا في المنطقة المعتدلة وقصب السكر يحتاج إلى مناخ مداري .

٤ (ب) بسبب طول السواحل على البحار والمحيطات . - تقدم وسائل الصيد .

ج (ب) ما العلاقة : أكبر عدد من الأبقار (٢٢٠ مليون رأس) في العالم وأن كانت قيمتها الاقتصادية محدودة (بسبب تحريم الهندوس أكل لحوم الأبقار)

التاريخ .. ب (ب) ما النتائج ..

١ (ب) ج . التوصل إلى إطار اتفاق للسلام بين مصر وإسرائيل .

٢ (ب) ج . نجاح إسرائيل في الاستيلاء على قطاع غزة والضفة الغربية لنهر الأردن ومدينة القدس العربية .

- استولت على سيناء من مصر . - استولت إسرائيل على هضبة الجولان من سوريا .

٣ (ب) تبنت مصر إستراتيجية جديدة تهدف إلى :

- العمل على تذليل العقبات التي تواجه تعميق العمل الأفريقي المشترك .

- تشجيع أبناء القارة على بناء المشروعات القارية الرائدة بتطوير البنية التحتية الإفريقية

- ربط الأسواق الإفريقية وتفعيل اتفاقية التجارة الحرة .

ج (ب) ماذا يحدث إذا : لم يتم إنشاء المجلس القومي للمرأة ولم تتقلد بعض الوظائف والمناصب المختلفة .

٤ (١) اكتب اسم الشخصية التي تتحدث عن نفسها :

- (١) قمت بتأسيس تنظيم الضباط الأحرار.
- (٢) عملت رئيساً لأركان حرب القوات المسلحة في حرب الاستنزاف.
- (٣) كنت قائد سلاح الطيران في حرب أكتوبر ١٩٧٣م.
- (٤) عملت رئيساً للمحكمة الدستورية العليا وتسلمت حكم مصر في يوليو ٢٠١٣م.
- (٥) تنازلت عن عرش مصر لابني الصغير أحمد فؤاد الثاني.

(ب) دلل تاريخياً على صحة كل عبارة من العبارات الآتية :

- (١) كان للأمم المتحدة دور كبير في تقسيم فلسطين عام ١٩٤٧م.
 - (٢) لجأت مصر للطرق السلمية في استعادة طابا.
 - (٣) كان للدول العربية دور بارز في حرب أكتوبر ١٩٧٣م.
- (ج) ما رأيك في : الاستعانة بالقوات المسلحة المصرية أثناء ثورة ٢٥ يناير ٢٠١١م ؟

٤ (اسم الشخصية :

١ (جمال عبد الناصر

٢ (الفريق اول عبد المنعم رياض

٣ (محمد حسنى مبارك

٤ (المستشار عدلى منصور

٥ (الملك فاروق

(ب) دلل ... عرضت بريطانيا قضية فلسطين على الأمم المتحدة عام ١٩٤٧

واقفت الأمم المتحدة على تقسيم فلسطين إلى :

دولة عربية - دولة يهودية

القدس منطقتان دوليتان (وضعها تحت إدارة دولية)

٢ (- تم إحالة القضية إلى التحكيم الدولي و بعد قرار التحكيم في ٢٩ سبتمبر ١٩٨٨م عادت طابا لمصر في ١٩ مارس ١٩٨٩

٣ (الدعم العربي أثناء الحرب :

٤ عسكريا : قدمت بعض الدول العربية دعماً عسكرياً لمصر وسوريا مثل (العراق والجزائر وليبيا والأردن والمغرب والسعودية والسودان والكويت وتونس)

٤ ماليا : قدمت بعض الدول العربية دعماً مالياً لمصر وسوريا مثل (السعودية والجزائر والإمارات)

٤ سياسياً : قرر وزراء النفط العربي في اجتماعهم بالكويت خفض إنتاج البترول فارتفعت أسعاره ثم حظر الصادرات النفطية إلى الولايات المتحدة الأمريكية خاصة عندما طلب الرئيس الأمريكي مساعدات عاجلة لإسرائيل .

(ج -) ما رأيك بترك الطلاب للتعبير عن رأيه ويمكن الاستعانة بـ .

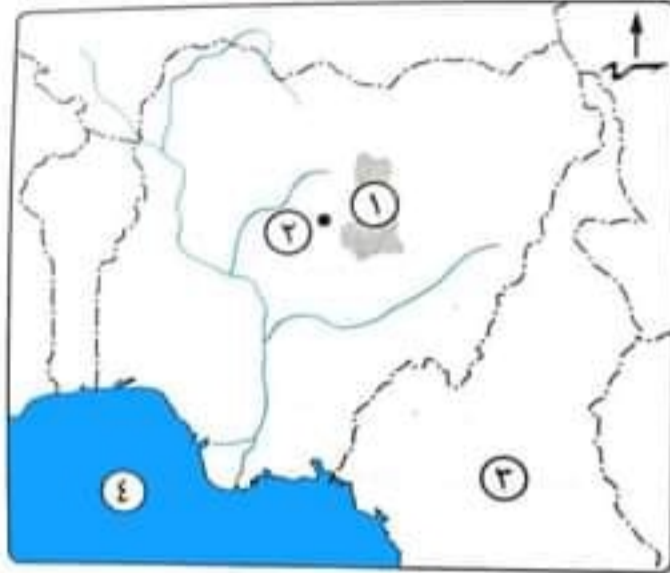
حماية وتأمين الممتلكات (العامة والخاصة)

المحافظة على أمن المواطنين .



أجب عن الأسئلة الآتية:

١) أمامك خريطة لدولة نيجيريا. وضح مدلول الأرقام الموجودة عليها:



(١) هضبة جوس....

(٢) مدينة... أبوجا.

(٣) دولة الكاميرون.

(٤) مسطح مائي خليج غينيا.

(ب) ما الفوائد المترتبة على ... ؟

(١) صغر مساحات الحقول الزراعية في نطاق الزراعة الكثيفة.

(٢) وقوع الصين على المحيط الهادى ووجود الأنهار والبحيرات ومزارع تربية الأسماك بها.

(٣) زيادة الطلب على البترول وتعدد استخداماته.

(٤) وجود التلال والينابيع بالمرتفعات الوسطى في ألمانيا.

(ج) قارن بين : القطن، والمطاط الطبيعي، من حيث : * الأهمية. * أهم الدول المنتجة.

(ب) ما الفوائد ...

(١) صعوبة استخدام الآلات والميكنة الزراعية .

(٢) أصبحت الصين من أهم الدول في إنتاج الأسماك في العالم .

(٣) ارتفاع أسعاره بشكل مستمر .

(٤) أصبحت المرتفعات الوسطى مناطق جذب للسياح .

(ج) المقارنة بين القطن والمطاط من حيث الأهمية - أهم الدول المنتجة .



وجه المقارنة	القطن	المطاط
الأهمية	إنتاج الخيوط التي تستخدم في أجود الملابس - استخراج زيت بذرة القطن وصناعة الأعلاف .	يستخدم في صناعة إطارات السيارات والصناعات الأخرى .
أهم الدول المنتجة	الصين / الهند	تايلاند



٢ (١) اخترا لإجابة الصحيحة مما بين القوسين :

- (١) أكبر دولة منتجة للبنجر في قارة أفريقيا دولة
- (جنوب أفريقيا - مصر - نيجيريا - السودان)
- (٢) تعتبر..... ثاني دول العالم إنتاجاً للقمح.
- (الصين - الهند - الولايات المتحدة الأمريكية - روسيا)
- (٣) من المراكز الصناعية الحديثة في أمريكا الجنوبية
- (بيرو - بوليفيا - الأرجنتين - المكسيك)
- (٤) تُعد البرازيل أولى دول العالم إنتاجاً ل..... (الصوف - البن - اللحوم - القمح)
- (٥) يحد ألمانيا من جهة الغرب دولة (بولندا - التشيك - الدنمارك - فرنسا)
- (ب) «تعد مصادر الطاقة القوى المحركة لحياة الإنسان». في ضوء ذلك، أجب عما يأتي :

- (١) وضح : استخدامات الغاز الطبيعي.
- (٢) ما العلاقة بين : الألومنيوم، والطاقة الكهربائية ؟
- (٣) حدد : أهم مراكز الصناعة في إقليم شرق آسيا.
- (٤) ماذا يحدث إذا : اتجهت الدول النامية لتصنيع الحديد بدلاً من تصديره خام ؟
- (٥) دلل جغرافياً على صحة العبارة الآتية :
- يعد النشاط الزراعي من الأنشطة الاقتصادية الأساسية في العالم.



(ب) ١ حيث يستخدم في [١ - الصناعة على نطاق واسع ٢ - الاستخدامات المنزلية - توليد الطاقة الكهربائية وقود للسيارات بديلاً للبنزين للحد من التلوث] .

٢ (وفرة الطاقة الكهربائية من مقومات صناعة الألومنيوم .

٣ (توجد مناطق صناعية في دول هذا النطاق الصناعي خاصة الجزيرة اليابانية (هنشو) وجمهورية كوريا ومناطق صناعية عديدة بالصين

٤ (سوف تصبح هذه الدول من الدول ذات مستوى معيشي مرتفع وسوف يرتفع الدخل القومي والفردي لهذه الدول .

٥ (- لأنه مصدر رئيسي لغذاء الإنسان . - مصدر لتربية الحيوان . - مصدر للمواد الخام (زراعية / حيوانية / معدنية) .

ثانياً التاريخ

٣ (١) أعد كتابة العبارات الآتية بعد تصويب ما تحته خط :

(١) أسس جمال عبدالناصر تنظيم تكون من مجموعة من ضباط الجيش المصري عُرف باسم عدم الانحياز . الضباط الأحرار

(٢) وضعت فلسطين تحت الانتداب البريطاني بمقتضى مؤتمر باندونج ١٩٢٠م . سان ريمو

(٣) عقد مؤتمر كامب ديفيد على أساس مبدأ الأرض مقابل السلام . مؤتمر مدريد للسلام

(٤) استشهد الفريق أول عبدالمنعم رياض في حرب أكتوبر ١٩٧٣م . حرب الاستنزاف ١٩٦٩م

(٥) إقامة الوحدات الصحية والجمعيات الزراعية من إنجازات ثورة ٢٣ يوليو ١٩٥٢م

في المجال السياسي . المجال الاجتماعي

- (١) لم تحقق معاهدة ١٩٣٦ الاستقلال الحقيقي لمصر.
- (٢) فشل العدوان الثلاثي على مصر.
- (٣) تشكيل اللجان الشعبية أثناء ثورة ٢٥ يناير ٢٠١١م.
- (٤) صدور الدستور الدائم عام ١٩٧١م.
- (٥) إنشاء محكمة العدل الدولية.

٤ (١) اخترا الإجابة الصحيحة مما بين القوسين :

- (١) قامت مصر في أكتوبر ١٩٥٤م ب.....
(إلغاء دستور ١٩٢٣م - توقيع اتفاقية الجلاء - إلغاء الملكية وإعلان الجمهورية - إصدار قانون الإصلاح الزراعي)
 - (٢) إحكامًا للحصار الاقتصادي الذي فرضه العرب على إسرائيل قامت مصر بإغلاق خليج في مايو ١٩٦٧م. (السويس - عدن - العقبة - هرمز)
 - (٣) * نجحت القوات المصرية في هزيمة القوات الإسرائيلية في معركة رأس العش عندما حاولت احتلال مدينة (بورسعيد - بورفؤاد - السويس - الإسماعيلية)
 - (٤) شاركت المرأة في الحياة النيابية، وشغلت الدكتوراة منصب رئيس اللجنة التشريعية بمجلس الشعب.
(حكمت أبوزيد - عائشة راتب - أمال عثمان - تهاني الجبال)
 - (٥) يعد أعلى سلطة داخل الجامعة العربية.
(مجلس الجامعة - الأمين العام - الأمناء المساعدون - اللجان الدائمة)
- (ب) «كانت حرب أكتوبر ١٩٧٣م أحد حلقات الصراع مع إسرائيل». في ضوء ذلك، وضح :
- (١) أسباب حرب أكتوبر ١٩٧٣م.
 - (٢) الإجراءات التي قامت بها مصر لإعداد وتهيئة الجبهة الداخلية استعدادًا لحرب أكتوبر ١٩٧٣م.
 - (٣) دور الدول العربية في دعم مصر وسوريا في حرب أكتوبر ١٩٧٣م.
- (ج) دلل تاريخيًا على صحة كل عبارة مما يأتي :
- (١) عدم التزام اليهود بالهدنة كان سببًا لتفوقهم في حرب ١٩٤٨م.
 - (٢) لتحقيق السلام وإنهاء الصراع العربي / الإسرائيلي عدة مزايا لمصر والدول العربية.
- (ب) بم تفسر (١٠٠ ج) - حيث قامت بريطانيا بحصار قصر عابدين لإجبار الملك فاروق على تشكيل حكومة جديدة برئاسة مصطفى النحاس مما يعد تدخلًا سافرًا في شئون مصر الداخلية.
- ٢ (ب) بسبب - المقاومة الباسلة من الجيش والشعب وصلابة القيادة. - وقوف الشعوب العربية إلى جانب مصر.
 - تهديد الاتحاد السوفيتي بالتدخل لوقف العدوان. - رفض الولايات المتحدة استخدام القوة في حل النزاعات.
 - تنديد الأمم المتحدة بالعدوان.
 - ٣ (ب) لحماية المنشآت والمناطق. - مواجهة أعمال السرقة والحرق والترويع.
 - ٤ (ب) التأكيد على ١ - سيادة القانون. ٢ - استقلال القضاء. ٣ - إقرار مبادئ التعددية الحزبية.
 - ٥ (ب) ج. حيث تعد الجهاز القضائي الأساسي للأمم المتحدة - تختص بالنظر في القضايا الدولية وتقديم الاستشارات القانونية.
 - ٤ (ب) ١ (ب) - رفض إسرائيل لكل نداءات السلام بالانسحاب من الأراضي التي احتلتها في حرب ١٩٦٧م.
 - تصميم مصر وسوريا على إزالة آثار هزيمة يونيو ١٩٦٧م.
 - ٢ (ب) الجبهة الداخلية : ١ - رفع الرقابة عن الصحف. ٢ - إصدار دستور ١٩٧١م. ٣ - إلغاء الحراسات والإجراءات المقيدة للحريات. ٤ - القضاء على مراكز القوى. ٥ - تجهيز وتسليح الجيش وتدريبه.
 - ٣ (ب) الدعم العربي أثناء الحرب :
- عسكريًا : قدمت بعض الدول العربية دعماً عسكرياً لمصر وسوريا مثل (العراق والجزائر وليبيا والأردن والمغرب والسعودية والسودان والكويت وتونس)



- ◀ ماليا : قدمت بعض الدول العربية دعما ماليا لمصر وسوريا مثل (السعودية والجزائر والإمارات)
- ◀ سياسيا : قرر وزراء النفط العربي في اجتماعهم بالكويت خفض إنتاج البترول فارتفعت أسعاره ثم حظر الصادرات النفطية إلى الولايات المتحدة الأمريكية خاصة عندما طلب الرئيس الأمريكي مساعدات عاجلة لإسرائيل .

(ج) دلل تاريخيا

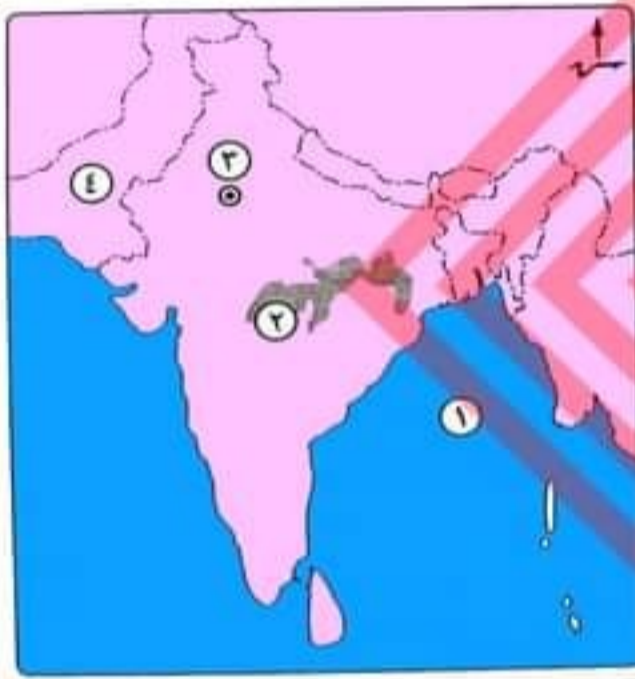
- ١ () لم يلتزم اليهود بالهدنة و بدأوا في تسليح أنفسهم والتدريب استؤنف القتال ظهر التفوق اليهودي مما ادى الى هزيمة وتراجع القوات العربية .
- ٢ () مزايا تحقيق السلام وحل الصراع العربي الإسرائيلي .
- ١ - تحقيق الاستقرار الداخلى للبلاد العربية .
- ٢ - دفع عجلة التنمية الاقتصادية والاجتماعية .
- ٣ - تشجيع رؤوس الأموال على الاستثمار في مصر والدول العربية .
- ٤ - تنشيط حركة السياحة .

محافظة الدقهلية



مجاب عنه

أجب عن الأسئلة الآتية:



١ (١) أمامك خريطة لدولة الهند، اكتب ما تشير إليه الأرقام الآتية :

- (١) خليج البنغال .
- (٢) هضبة الدكن .
- (٣) مدينة نيودلهي .
- (٤) دولة ياكشيان .

(ب) «إن إشباع حاجات الإنسان هي المحرك الأساسي وراء تنوع الأنشطة الاقتصادية في العالم». في ضوء العبارة، وضح :

- (١) العلاقة بين أنواع الزراعة والهدف منها.
- (٢) أثر الصحارى في نوع وتوزيع مناطق الرعى في العالم.
- (٣) مقترحاتك لزيادة إنتاج الطاقة في مصر (من خلال ما درست).
- (٤) عوامل انتشار حرفة الرعى في هضبة البرازيل، وجهود الدولة لتعمير تلك الهضبة.

(ب) (١)

الزراعة التجارية	الزراعة الكثيفة	الزراعة البسيطة	الهدف منها
تهدف إلى الإنتاج التجاري الضخم .	تهدف إلى إشباع حاجة السكان المحليين من الغذاء	تهدف إلى توفير الاحتياجات الغذائية اللازمة للسكان المحليين	

- (٢) - ارتبط بالصحارى وجود الرعى البدائي مثل الصحارى الحارة (شبه الجزيرة العربية وبادية الشام - شمال أفريقيا) - صحارى دول وسط آسيا . - صحراء التندرا الباردة (آسيا - أوروبا) .

(٣) يترك للطلاب

- (٤) + تنمو حشائش السافانا في هضبة البرازيل . + تنمو الحشائش المعتدلة قرب حدودها الجنوبية + وجود المراعي الدائمة في الشمال تغطى من هضبة البرازيل . جهود الدولة لتعميرها أنشئت عدة مدن لتعميرها مثل مدينة برازيليا .



٢ (١) ما النتائج المترتبة على ... ؟

- (١) استخدام ألمانيا للتكنولوجيا والأساليب العلمية المتقدمة في الأنشطة الاقتصادية.
- (٢) تركيز نسبة من إنتاج المعادن والطاقة بالدول النامية. (مع التمثيل)
- (٣) وجود المناخ الاستوائي والمدارى في قارة آسيا بالنسبة لإنتاج الموارد الزراعية.
- (٤) توافر المراعى الطبيعية في دولة الصين.

(ب) اكتب ما تشير إليه كل عبارة من العبارات التالية :

- (١) جبال بها أعلى القمم الجبلية في دولة ألمانيا.
- (٢) أكبر الأقاليم الصناعية في العالم الجديد.
- (٣) أولى دول العالم إنتاجًا للسكر.
- (٤) دولة تساهم بحوالى ثلث إنتاج الأسماك في العالم.

٢ (١) أدى إلى + تقدم الزراعة لاعتمادها على التكنولوجيا الحديثة . + تربية الماشية والخنازير والأغنام لإنتاج اللحوم والألبان في حفاانر بأساليب علمية حديثة + توسع وتطور الصناعات الألمانية بعد الحرب العالمية الثانية لتوافر المراكز العلمية (٢) ترتب على ذلك ارتفاع مستوى شعوب هذه الدول واقتربت من مستوى الدول المتقدمة مثل مصر والصين وجنوب أفريقيا (٣) أدى إلى إنتاج قارة آسيا من المحاصيل الاستوائية والمدارية مثل قصب السكر وهى اكبر القارات إنتاجا له وأيضا محصول المطاط الذي يستخرج من عصارة أشجار استوائية . (٤) أصبحت أولى الدول في تربية الأغنام بسبب توافر الحشائش ، وأولى الدول في إنتاج اللحوم ومعظمها من لحوم الخنازير وثاني دول العالم إنتاجا للصوف .

(ب) (١) جبال الألب (٢) إقليم شمال شرق الولايات المتحدة الأمريكية (٣) البرازيل (٤) الصين

ثانياً التاريخ

٣ (١) أكمل كل عبارة مما يأتي بما يناسبها مما بين القوسين :

(الاتحاد السوفيتي - بريطانيا - مجالس استشارية - الولايات المتحدة الأمريكية - أحزاب - إدارات محلية)

- (١) بموجب دستور عام ١٩٢٣م تم تشكيل عدة .. اجزلب.
- (٢) عقدت حكومة ثورة ١٩٥٢م اتفاقية مع لتزويد مصر بالأسلحة. الاتحاد السوفيتي
- (٣) أنشأ محمد على عدة لا سلطة لها. مجالس استشارية
- (٤) أقامت جسراً جويًا لتقديم المساعدة العسكرية لإسرائيل أثناء حرب أكتوبر ١٩٧٣م. الولايات المتحدة الأمريكية

(ب) بم تفسر ... ؟

- (١) أهمية منظمة الأمم المتحدة.
- (٢) تأسيس ضباط الجيش تنظيم خاص بهم قبل عام ١٩٥٢م.
- (٣) إعداد وتخطيط مصر وسوريا لحرب أكتوبر ١٩٧٣م.
- (٤) لمصر دور مهم في توطيد الروابط العربية والتعاون الدولي.



ب (١) منظمة عالمية تضم في عضويتها جميع دول العالم المستقلة ومقرها نيويورك

- المحافظة على السلام والأمن الدوليين
- تنمية العلاقات الودية والتعاون الدولي لحل المشكلات الاقتصادية والاجتماعية والثقافية
- تعزيز احترام حقوق الانسان وحرياته .

(٢) - للقيام بثورة للقضاء على الفساد والعمل على تحرير البلاد من الاستعمار .

(٣) بسبب رفض إسرائيل كل نداءات السلام بالانسحاب من الأراضي التي احتلتها في ١٩٦٧م

تصميم مصر وسوريا على إزالة آثار هزيمة يونيو ١٩٦٧ م واسترداد سيناء والجولان .

(٤) حيث شاركت مصر في انشاء جامعة الدول العربية كما أسهمت في تأسيس منظمة الاتحاد الافريقي وساهمت في تأسيس حركة عدم الانحياز ومنظمة المؤتمر الاسلامي .

٤ (ا) رتب الأحداث التاريخية التالية ترتيبًا زمنيًا من الأقدم إلى الأحدث :

* إصدار منظمة اليونسيف إعلان حقوق الطفل .

* عقد مؤتمر سان ريمو .

* إنشاء إسماعيل مجلس شورى النواب .

* إعلان اليهود قيام دولة إسرائيل .

(ب) «يقول رفاة الطهطاوى في كتابه المرشد الأمين : إن تعليم المرأة يحقق مزايا عديدة

للمجتمع» . في ضوء العبارة السابقة ، أجب عما يلي :

(١) ما رأيك في تلك العبارة ؟ ثم حدد بعض المزايا لتعليم المرأة .

(٢) صنف دور المرأة في العمل الوطني بعد ثورة ١٩١٩م حتى ثورة ١٩٥٢م .

(٣) أثبت بالأدلة التاريخية : تقدير الدولة للمرأة المصرية منذ عام ١٩٨١م حتى الآن .

(٤) ما العلاقة بين : ثورة ٢٣ يوليو ١٩٥٢م ، ونهضة التعليم ؟

(٤) ١ - إنشاء إسماعيل مجلس شورى النواب ٢ - عقد مؤتمر سان ريمو ٣ - إعلان قيام دولة اسرائيل

٤ - إصدار منظمة اليونسيف إعلان حقوق الطفل .

ب (١) يترك للطلاب للتعبير عن رأيه .

(٢) من ثورة ١٩١٩م حتى ثورة ١٩٥٢م شهدت نهضة رائدة للمرأة كما يلي :

شاركت في ثورة ١٩١٩م .

عقدت اجتماعات للتعبير عن الوحدة الوطنية ديسمبر ١٩١٩

تشكيل لجنة الوفد للسيدات ١٩٢٠م انتخبت هدى شعراوي رئيس لها .

التحقت بالجامعة المصرية ١٩٢٨م وساهمت في النهضة

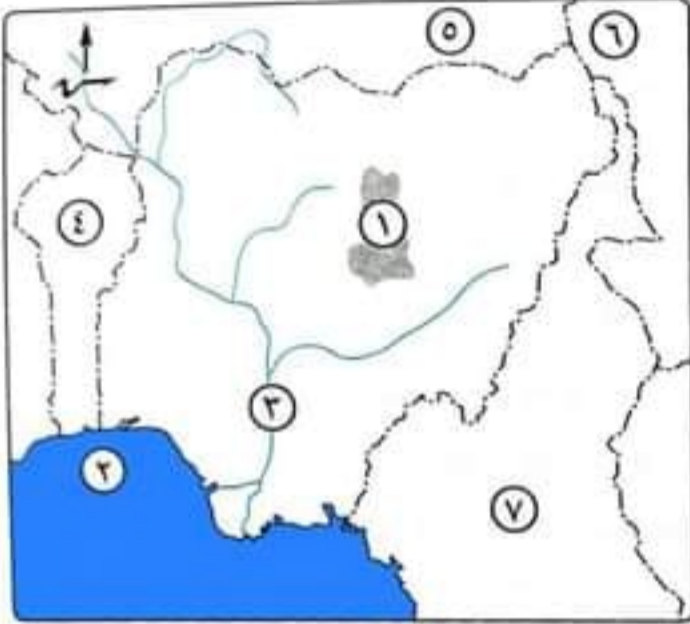
(٣) تم إنشاء المجلس القومي للمرأة .

تقلدت بعض المناصب والوظائف المختلفة .

(٤) العلاقة بين ثورة يوليو والتعليم حيث جعلت التعليم بالمجان بجميع مراحلہ والتوسع في إنشاء المدارس والجامعات .



أولاً الجغرافيا أجب عن الأسئلة الآتية:



١) أمامك خريطة لدولة نيجيريا، اكتب مدلول الأرقام الآتية:

(١) هضبة... **جوس**

(٢) خليج... **غينيا**

(٣) نهر... **النيجر**

(٤) دولة تشاد تحمل على الخريطة

الرقم٦.....

(ب) بم تفسر ... ؟

(١) تركيز زراعة الشاي في دول شرق آسيا.

(٢) تزرع الأرض في مناطق الزراعة الكثيفة أكثر من مرة في العام.

(٣) تُعد الولايات المتحدة الأمريكية من أكبر الدول المصنعة للألومنيوم.

(ج) ما المقصود بالمصطلحات الجغرافية الآتية ... ؟

(١) الرعى التجاري. (٢) النشاط التعديني. (٣) مصادر الطاقة.

(ب) بم تفسر .. ١) لتوافر ظروف الزراعة من تربته من خصبة خفيفة ومناخ حار وهواء رطب ومطر غزير .

٢) لإشباع حاجة السكان من الغذاء

٣) حيث تتوفر مقومات صناعة الألومنيوم من (طاقة كهربائية وخبرة فنية وعلمية وسوق محلية وخارجية تستوعب الإنتاج .

(ج) الرعى التجاري : رعى يمارس في مناطق حشائش الإستبس والسافانا في قارات العالم ويعتمد على الأساليب الحديثة في الرعي والتخصص في حيوان الرعى .

- النشاط التعديني : عملية استخراج المعادن ومصادر الطاقة من باطن الأرض أو بالقرب من السطح .

- مصادر الطاقة : هي القوى المحركة لحياة الإنسان في جميع مجالات حياته كما أنها من الموارد الطبيعية الهامة التي

لاغنى عنها في الصناعة وفي مختلف الاستخدامات البشرية .

٢) (١) اكتب كلمة (صواب) أمام العبارة الصحيحة، وكلمة (خطأ) أمام العبارة غير الصحيحة :

(١) تتركز زراعة القطن في قارة آسيا. (صواب)

(٢) تحتل دولة النرويج المركز الأول عالمياً في إنتاج الدواجن. (خطأ)

(٣) يتم صيد الحيتان من المحيطات للاستفادة من لحومها وشحومها. (صواب)

(٤) تعتبر جزيرة هنشو منطقة صناعية في إقليم شرق آسيا. (صواب)

(٥) برمنجهام من أهم المدن الصناعية في منطقة شمال شرق الولايات المتحدة الأمريكية. (خطأ)

(٦) تنتج الولايات المتحدة الأمريكية ثلث الإنتاج العالمي من الصناعات الكهربائية والإلكترونية. (صواب)

(ب) «جمهورية الهند إحدى دول قارة آسيا شهدت تطورات هائلة في المجالات الاقتصادية والسياسية». في ضوء هذه العبارة، أجب عما يأتي :

- (١) دلت : (١) واجهت الهند المشكلة السكانية بسياسات تنموية مختلفة.
(٢) تعد الصناعة الحديثة مقياساً رئيسياً لتطور الشعوب وازدهارها.
(٣) ماذا يحدث إذا : نجحت مصر في توليد الكهرباء من الطاقة النووية ؟
(٤) ما العاصمة السياسية للهند ؟ وبم تتميز ؟

- (ب) ١ - واجهت ذلك سياسات تنموية مختلفة مثل التوسع في زراعة المحاصيل الغذائية وتطوير الصناعات المختلفة إلى جانب الاهتمام بالتعليم ومراكز البحوث العلمية.
٢ - لأنها :- أخذت بالأساليب العلمية . تطبيق الأبحاث والتجارب العلمية .- تطوير وتحديث المنتجات الصناعية بشكل مستمر
٣ - سوف يؤدي الى تقليل الاعتماد على البترول والغاز الطبيعي في توليد الكهرباء . سد احتياجات مصر من الطاقة الكهربائية - تطور الصناعة في مصر .
٤ (نيو دلهي تتميز بوجود المراكز الصناعية - الجامعات - المعالم التاريخية والأثرية .

ناتنا التاريخ

- (١) اختر الإجابة الصحيحة مما بين القوسين :
(١) أهم إنجازات ثورة ٢٣ يوليو ١٩٥٢ السياسية (تأميم قناة السويس - صدور قانون الإصلاح الزراعي - تمصير البنوك - نشأة حركة عدم الانحياز)
(٢) كانت الوحدة بين مصر وسوريا من نتائج (حرب فلسطين عام ١٩٤٨ - العدوان الثلاثي - عدوان ٥ يونيو ١٩٦٧ - حرب الاستنزاف)
(٣) من أسباب ثورة ٢٥ يناير ٢٠١١ تزوير الانتخابات عام ٢٠١٠ لصالح (حزب الوفد - حزب الأحرار الدستوريين - حزب الأمة - الحزب الوطني)
(٤) * أقام محمد علي عدة مجالس مثل (مجلس شورى القوانين - مجلس المشورة - مجلس شورى النواب - مجلس الأمة)

(ب) قارن بين كل من :
موقف مجلس الأمن من عدوان ٥ يونيو ١٩٦٧ ، ومن حرب أكتوبر ١٩٧٣ .

(ج) ما النتائج التي ترتبت على ... ؟

- (١) عقد مؤتمر مدريد للسلام عام ١٩٩١ .
(٢) التطبيق غير السليم لسياسة الخصخصة في مصر قبل ثورة ٢٥ يناير ٢٠١١ .

موقف مجلس الأمن في حرب أكتوبر ١٩٧٣ م	موقف مجلس الأمن في عدوان يونيو ١٩٦٧ م
وتم إصدار القرار ٢٣٨ الذي يقضي بوقف جميع الأعمال الحربية بدء من يوم ٢٢ أكتوبر ١٩٧٣ وقبلت مصر القرار وبدأت المباحثات بينهم .	قرار مجلس الأمن رقم ٢٤٢ نوفمبر ١٩٦٧ إنهاء حالة الحرب بين العرب وإسرائيل احترام دول المنطقة على أراضيها انسحاب إسرائيل من الأراضي التي احتلتها في ١٩٦٧ حرية الملاحة في الممرات الدولية وإنشاء مناطق منزوعة السلاح



ج (ما النتائج :

- ١ (أ - الاتفاق على حل الصراع العربي الإسرائيلي على أساس مبدأ الأرض مقابل السلام وقرارات مجلس الأمن .
ب - حدوث مفاوضات سرية بين إسرائيل ومنظمة التحرير الفلسطينية في أوسلو أسفرت عن توقيع اتفاقية في سبتمبر ١٩٩٣م (اتفاقية أوسلو) بواشطن برعاية أمريكية .
- ٢ (أدى إلى - ارتفاع الأسعار - تجمع آلاف العاملين بعد خروجهم بنظام التقاعد المبكر وانضمامهم لصفوف البطالة .

٤ (١) اكتب ما تشير إليه كل عبارة من العبارات التالية :

- (١) تنازل له الملك فاروق عن الحكم بعد ثورة ٢٣ يوليو ١٩٥٢م .
- (٢) مؤتمر عقد بالولايات المتحدة الأمريكية وتم التوصل فيه إلى إطار للسلام بين مصر وإسرائيل .
- (٣) * دولة أصبحت لها حق الانتداب على فلسطين بموجب قرارات مؤتمر سان ريمو ١٩٢٠م .

(٤) أول مجلة نسائية مصرية ظهرت في فبراير ١٩٠٧م .

(ب) «تعرضت فلسطين لمؤامرة دولية منذ الحرب العالمية الأولى وأثرت بصورة مباشرة

على البلاد العربية» . في ضوء العبارة، وضح :

(١) إجراءات إنجلترا لتنفيذ وعد بلفور .

(٢) الهدف من إنشاء جامعة الدول العربية .

(ج) ما رأيك في ... ؟

(١) موقف ثورة يوليو ١٩٥٢م مع الدول العربية .

(٢) دور الفريق محمد عبدالغنى الجمسى خلال حرب أكتوبر ١٩٧٣م .

٤ (أ) ١ (أحمد فؤاد الثانى ٢ - مؤتمر كامب ديفيد ٣ - بريطانيا ٤ - الريحانة

ب (١) - السماح بهجرة أعداد كبيرة من يهود العالم إلى فلسطين .

٢ - السماح بنقل ملكية الأراضى من عرب فلسطين إلى اليهود عن طريق الشراء .

٢ (* تنسيق العلاقات بين الدول الأعضاء

* تنسيق الخطط السياسية والاقتصادية والاجتماعية والثقافية

* التعاون وحماية الأمن القومى العربى

* صيانة استقلال الدول الأعضاء وسيادتها

* تعزيز العمل العربى المشترك في مختلف المجالات .

ج (ما رأيك

١ (يترك للطالب مع الاستعانة بانجازات الثورة في المجال العربى

توحيد الجهود العربية لصالح حركات التحرر فساندت السودان والجزائر وتونس واليمن وساهمت في استقلال الكويت

❖ إقامة أول وحدة عربية بين مصر وسوريا في فبراير ١٩٥٨ (عرفت باسم الجمهورية العربية المتحدة)

❖ لاتزال تؤيد حقوق الشعب الفلسطيني في تقرير مصيره في إقامة دولة مستقلة و عاصمتها القدس الشريف .

٢ (شغل منصب رئيس هيئة عمليات القوات المسلحة ١٩٧٢

أصبح رئيساً لأركان حرب القوات المسلحة عام ١٩٧٣ بعد الحرب مباشرة .



اولا الجغرافيا

اجب عن الأسئلة الآتية:



١) أمامك خريطة صماء لدولة البرازيل،

اكتب ما تدل عليه الأرقام الآتية :

(١) المحيط الهادي ..

(٢) دائرة دائرة الاستواء

(٣) نهر الامزون ..

(٤) العاصمة القديمة زيرو دي جانيرو

(ب) بم تفسر ... ؟

(١) قيام الدول النامية المنتجة للبوكسيت

بتصديره إلى الدول المتقدمة .

(٢) قلة عدد السكان في دلتا النيجر .

(٣) توسع العالم في استخدام الغاز الطبيعي كبديل لمصادر الطاقة الأخرى .

(٤) تركيز زراعة البنجر في معظم دول قارة أوروبا .

(ج) ما الأهمية الاقتصادية لكل مورد مما يأتي ... ؟ مع تحديد أولى الدول المنتجة له :

(١) المطاط الطبيعي . (٢) النحاس .

(د) دلل جغرافياً على صحة العبارة الآتية : قوة العلاقات بين مصر وكل من نيجيريا وألمانيا .

ب بم تفسر - بسبب توافر مقومات صناعة الألومنيوم في الدول المتقدمة من (طاقة كهربائية وخبرة فنية وعلمية

وسوق محلية وخارجية تستوعب الإنتاج) وعدم توفرها في الدول النامية المنتجة للبوكسيت .

٢) بسبب كثافة الغابات والظروف المناخية القاسية .

٣) - لأنه من مصادر الطاقة - أقل تلويثاً للبيئة . - والرخيصة . - وسهولة النقل .

٤) بسبب ملائمة ظروف زراعته من مناخ وتربة زراعية

ج -) أهمية المطاط الطبيعي : يُستخدم في صناعة إطارات السيارات والصناعات الأخرى . أولى الدول تايلاند

(النحاس : يُستخدم في صناعة الأسلاك والأدوات الكهربائية . أولى الدول المنتجة شيلي

د) دلل : علاقة مصر بدوله نيجيريا . علاقات اقتصادية تقوم على التبادل التجاري حيث

تصدر مصر إلى نيجيريا (الاسمدة ، مواسير الألومنيوم ، والأسلاك النحاسية ، والمعدات الثقيلة) .

وتستورد مصر من نيجيريا (الحبوب الزيتية) .

⊕ العلاقات المصرية الألمانية : علاقات ثقافية وعلمية بين البلدين تتمثل في :

(هيئة التبادل العلمي الألمانية - المركز الثقافى الألماني - الجامعة الألمانية بالقاهرة - معهد الأثار الألماني)

⇐ علاقات اقتصادية تتمثل في : تمويل ألمانيا لمحطات توليد الكهرباء من الرياح في مصر

تصدر مصر إلى ألمانيا البترول والغاز الطبيعي والملابس

تستورد مصر من ألمانيا الصناعات الكيماوية والآلات والسيارات .



٢ (١) اختر الإجابة الصحيحة مما بين القوسين :

- (١) تحتل دولة المركز الأول عالمياً في تربية الدواجن.
(الولايات المتحدة الأمريكية - الهند - الصين - تايلاند)
(٢) تقع أهم مراكز الصناعة الحديثة في جنوب شرق آسيا بدولة
(فنزويلا - شيلي - ماليزيا - المكسيك)
(٣) يستخرج من هضبة جوس بدولة نيجيريا معدن
(الحديد - القصدير - البوكسيت - الرصاص)
(٤) أولى الدول العربية في توليد الطاقة الكهربائية من الرياح
(المغرب - تونس - سوريا - مصر)

(ب) ما النتائج المترتبة على ... ؟

- (١) كثرة التلال والينابيع في المرتفعات الوسطى بدولة ألمانيا.
(٢) انتشار التعليم بين قبائل وسط آسيا.

(ج) ما المقصود بكل مفهوم من المفاهيم الجغرافية الآتية ... ؟

- (١) زراعة الأرض أكثر من مرة في العام لإشباع حاجة السكان المحليين من الغذاء.
(٢) نبات دائم الخضرة موطنه الأصلي شرق آسيا.
(٣) القوى المحركة لحياة الإنسان في جميع مجالات حياته.
(٤) يعتبر غذاء رئيسي لكثير من سكان العالم خاصة في المناطق الساحلية.

(ب) أصبحت المرتفعات الوسطى مناطق جذب للسياح

- قلة عدد العاملين في حرفة الرعي البدائي بدول وسط آسيا

(ج) ما المقصود :

- ١- الزراعة الكثيفة ٢- الشاي ٣- مصادر الطاقة ٤- الأسماك

نانيا التاريخ

٢ (١) صوب ما تحته خط :

- (١) امتنعت فرنسا عن التصويت بعد قرار تقسيم فلسطين عام ١٩٤٧م. بريطانيا
(٢) تدخل مجلس الوصاية وأصدر القرار رقم ٢٤٢ في نوفمبر ١٩٦٧م. الأمن
(٣) أستشهد الفريق أول عبدالمنعم رياض في حرب فلسطين. الاستنزاف
(٤) أنشأ إسماعيل مجلس المشورة عام ١٨٦٦م. شورى النواب
(٥) استضافت تونس أول قمة أفريقية على أرضها عام ١٩٦٤م. مصر

(ب) ما النتائج التي ترتبت على ... ؟

- (١) فشل العدوان الثلاثي على مصر عام ١٩٥٦م.
(٢) حرب أكتوبر ١٩٧٣م. (بكتف بأربعة نتائج)
(٣) اللجوء إلى التحكيم الدولي في قضية طابا.

(ج) ماذا كان يحدث إذا ... ؟

- (١) تم هزيمة إسرائيل في ٥ يونيو ١٩٦٧م.
(٢) رفض كل من السادات وبيجين دعوة الرئيس الأمريكي كارتر لاجتماعات كامب ديفيد.

- (ب) ١ - انسحاب إنجلترا وفرنسا من بورسعيد في ٢٣ ديسمبر ١٩٥٦ م. ٢ - انسحاب إسرائيل من غزة وسيناء في أوائل عام ١٩٥٧ م. ٣ - إدراك الدول العربية الخطر الإسرائيلي فقامت الوحدة بين مصر وسوريا ١٩٥٨ م. ٢ (١) - نقطة تحول في الصراع العربي الإسرائيلي. ٢ - تحطيم أسطورة الجيش الإسرائيلي الذي لا يقهر. ٣ - تقويض أسس العقيدة القتالية للقوات الإسرائيلية. ٤ - انتهاء نظرية الأمن الإسرائيلية. ٥ - أنهت حالة اللاسلم واللاحرب. ٦ - أظهرت أهمية استخدام سلاح النفط العربي. ٣ (١) - إحالة القضية إلى التحكيم الدولي و بعد قرار التحكيم في ٢٩ سبتمبر ١٩٨٨ م بأحقية مصر في شريط طابا عادت طابا لمصر في ١٩ مارس ١٩٨٩ م لتعود بذلك آخر قطعة من أرض مصر.

ج - ماذا يحدث اذا ؟

- ١ - لم تتمكن إسرائيل من السيطرة على قطاع غزة - الضفة الغربية لنهر الأردن - مدينة القدس - هضبة الجولان بسوريا - سيناء حتى الضفة الشرقية لقناة السويس .
٢ (١) لم يتم التوصل إلى إطار اتفاق للسلام بين مصر وإسرائيل .

٤ (١) لمن تنسب الأعمال التاريخية الآتية ... ؟

- (١) سيطر على جميع قطاعات الجيش المصري بموجب إذاعة البيان الأول لثورة ٢٣ يوليو ١٩٥٢ م.
(٢) قاد خطة الخداع لصرف أنظار إسرائيل عن التجهيزات الهجومية لحرب أكتوبر ١٩٧٣ م.
(٣) تسلم السلطة في ٣ يوليو ٢٠١٣ م وكان رئيس المحكمة الدستورية العليا.
(٤) شغلت منصب رئيس اللجنة التشريعية بمجلس الشعب.
(٥) منظمة دولية ساهمت في إحياء مكتبة الإسكندرية.

(ب) دلت تاريخياً على صحة كل عبارة من العبارات الآتية :

- (١) اهتمام ثورة ٢٣ يوليو ١٩٥٢ م بحقوق العمال.
(٢) تطبيق الهدنة في حرب فلسطين عام ١٩٤٨ م لم يكن في صالح العرب.
(٣) للسلام مزايا عديدة لمصر ولوطننا العربي.

(ج) قارن بين :

أوضاع مصر الاقتصادية قبل ثورة ٢٣ يوليو ١٩٥٢ م، وقبل ثورة ٢٥ يناير ٢٠١١ م.

- ٤ (١) - محمد نجيب ٢ - المشير احمد إسماعيل ٣ - عدلي منصور ٤ - أمال عثمان ٥ - منظمة اليونسكو
ب (١) * تحديد ساعات العمل وإشراك العمال في مجالس إدارة الشركات وتحديد نسبة لهم من الأرباح .
* إصدار قوانين التأمينات والمعاشات الاجتماعية للموظفين والعمال .
٢ لم يلتزم اليهود بالهدنة وبدأوا في تسليح أنفسهم والتدريب
استؤنف القتال ظهر التفوق اليهودي وتراجع الجبهة العربية
٣ (١) مزايا تحقيق السلام لمصر ولوطننا العربي .

- ١ - تحقيق الاستقرار الداخلي للبلاد العربية . ٢ - دفع عجلة التنمية الاقتصادية والاجتماعية .
٣ - تشجيع رؤوس الأموال على الاستثمار في مصر والدول العربية . ٤ - تنشيط حركة السياحة .

ج (١) قارن

الأوضاع الاقتصادية قبل ثورة ٢٥ يناير ٢٠١١ م	الأوضاع الاقتصادية قبل ثورة يوليو ١٩٥٢ م
- سياسة الانفتاح الاقتصادي دون ضوابط علمية - التطبيق غير السليم لنظام الخصخصة حيث تم بيع مؤسسات الدولة بأقل من سعرها الحقيقي لصالح فئة معينة مما أدى إلى : أ - ارتفاع الأسعار ب - خروج آلاف العاملين بنظام التقاعد المبكر	- أدت معاهدة ١٩٣٦ م إلى جعل مصر ميدان للحرب العالمية الثانية واستنزاف موارد البلاد لخدمة بريطانيا وحلفائها وإرهاق الاقتصاد المصري مما زاد معاناة الشعب .



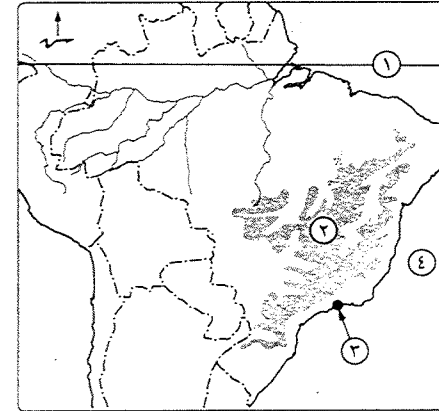
محافظة القاهرة

مديرة التربية والتعليم



مجاب عنه

أجب عن الأسئلة الآتية: أولاً الجغرافيا



١) أمامك خريطة لدولة البرازيل، اكتب

مدلول الأرقام الموضحة عليها :

(١) دائرة عرض رئيسية

(٢) هضبة

(٣) العاصمة القديمة

(٤) المحيط

(ب) صوب ما تحته خط :

(١) الولايات المتحدة الأمريكية أولى

دول العالم إنتاجاً للصوف.

(٢) تعد مصر أكبر دول العالم إنتاجاً للألبان.

(٣) أهم الصناعات الحديثة في دول الخليج العربي الصناعات اليدوية.

(٤) أعلى القمم الجبلية في ألمانيا جبال البرانس.

(ج) بم تفسر ... ؟ (١) تحتل الصين المركز الأول في إنتاج الأسماك.

(٢) تركّز صناعة الألومنيوم في الدول المتقدمة.

(٣) انكماش مساحة الحشائش بالسهول الساحلية في ألمانيا.

(٤) صعوبة استخدام الآلات والمليكة الزراعية في الزراعة الكثيفة.

٢) (١) اختر الإجابة الصحيحة مما بين القوسين :

(١) يُعدّ الموطن الأصلي للشاي

(شرق أفريقيا - غرب البرازيل - شرق آسيا - جنوب ألمانيا)

(٢) أكبر الأقاليم الصناعية في العالم الجديد إقليم

(غرب ووسط أوروبا - شرق أفريقيا - شمال شرق الولايات المتحدة الأمريكية - روسيا)

(٣) أهم دول أفريقيا في إنتاج القطن

(المغرب - ليبيا - تونس - مصر)

(ب) أجب عما يأتي :

(١) ما المقصود بـ ... ؟ (١) * النشاط التعديني. (٢) الرعي التجاري.

(٢) أيد بالأدلة : ترتبط مصر وألمانيا بعلاقات ثقافية وعلمية.

(٣) اذكر نتيجة واحدة مترتبة على :

(١) الوحدة الاقتصادية الأوروبية.

(٢) استخدام الآلات الزراعية والطرق العلمية الحديثة في الزراعة التجارية والعلمية.

(٤) من وجهة نظرك : ما المقومات الطبيعية والبشرية التي يمكن أن تساهم في قيام

التمتية الصناعية في مصر ؟

ثانياً التاريخ

٣) (١) إلى من تنسب الأعمال الآتية ... ؟

(١) تولى رئاسة مصر بعد الانتخابات عام ٢٠١٤م.

(٢) * أسس تنظيم الضباط الأحرار.

(٣) * رئيس المحكمة الدستورية العليا وأسند إليه حكم مصر في ٣ يوليو ٢٠١٣م.

(٤) الرئيس الأمريكي الذي دعا إلى مؤتمر كامب ديفيد.

- رئيس أركان حرب القوات المسلحة في حرب الاستنزاف.

- ما تحتاجه التي ترتبت على ... ؟

(١) وضع فلسطين تحت الانتداب البريطاني ١٩٢٠م.

(٢) فشل العدوان الثلاثي على مصر ١٩٥٦م. (٣) إنشاء السيد العالي.

٤) (١) ماذا كان يحدث إذا ... ؟

(١) انتصرت مصر على إسرائيل في عدوان يونيو ١٩٦٧م.

(٢) لم تشكل اللجان الشعبية أثناء ثورة ٢٥ يناير ٢٠١١م.

(٣) لم يقم الرئيس محمد أنور السادات بزيارة إسرائيل ١٩٧٧م.

(٤) لم تصدر ثورة ٢٣ يوليو ١٩٥٢م قوانين الإصلاح الزراعي.

(ب) «لا مكان للإرهاب على أرض مصر - تحية لشعب مصر العظيم وتحية لجيش مصر

ولشرطة مصر العظيمة على مر العصور». في ضوء العبارة وضع :

(١) أهداف ثورة ٢٣ يوليو ١٩٥٢م. (اللقب ثلاثاً فقط)

(٢) دور المشير أحمد إسماعيل كشخصية عسكرية وطنية في نصر أكتوبر ١٩٧٣م.

(٣) رأيك في تقديم بعض الدول العربية الدعم العسكري لمصر وسوريا عام ١٩٧٣م.



ثانياً التاريخ

٢ (أ) اختر الإجابة الصحيحة مما بين القوسين :

- (١) ترتب على فشل العدوان الثلاثي ١٩٥٦م انسحاب القوات الإنجليزية والفرنسية من مدينة (السويس - الإسماعيلية - الإسكندرية - بورسعيد)
- (٢) يعتبر مبدأ الأرض مقابل السلام من قرارات مؤتمر (كامب ديفيد - مدريد - سان ريمو - باندونج)
- (٣) تضمن دستور ١٩٢٣م إنشاء برلمان يمثل السلطة (القضائية - التنفيذية - التشريعية - المدنية)
- (٤) تم إنشاء أول مدرسة لتعليم البنات بدعوة من (رفاعة الطهطاوي - سعد زغول - مصطفى النحاس - الملك فاروق)

(ب) يم تفسر ... ؟

- (١) تقديم الولايات المتحدة الأمريكية لمبادرة روجرز.
- (٢) تعد ثورة ٢٥ يناير ٢٠١١م من الثورات الفريدة في تاريخ مصر.
- (٣) أهمية منظمات المجتمع المدني.

(ج) ما المقصود بكل من ... ؟

- (١) عدم الانحياز. (٢) مرحلة الصمود والتصدي. (٣) الحياة النيابية.

(١) من تسبب الأحداث الآتية ... ؟

- (١) * اعتمد عليه جمال عبدالناصر في إعادة بناء وتنظيم القوات المسلحة في حرب الاستنزاف.
- (٢) قاد خطة الخداع لصرف أنظار إسرائيل عن التجهيزات الهجومية لحرب أكتوبر ١٩٧٣م.
- (٣) بادر بزيارة إسرائيل من أجل السلام عام ١٩٧٧م.
- (٤) شاركت في الحياة النيابية وشغلت منصب رئيس اللجنة التشريعية بمجلس الشعب.

(ب) صوب الكلمات التي تحتها خط :

- (١) أذيع البيان الأول لثورة ٢٣ يوليو ١٩٥٢م باسم اللواء جمال عبدالناصر.
- (٢) وقعت مصر اتفاقية الجلاء في أكتوبر ١٩٥٤م مع فرنسا.
- (٣) تم إغلاق خليج السويس في وجه الملاحه الإسرائيلية في مايو ١٩٦٧م.
- (٤) تسلم السلطة في يوليو ٢٠١٣م المستشار عدلي منصور رئيس المحكمة الجنائية.

(ج) ماذا كان يحدث إذا ... ؟

- (١) لم تقدم الولايات المتحدة الأمريكية معلومات عسكرية لإسرائيل في حرب ١٩٧٣م.
- (٢) * لم تصدر بريطانيا وعد بلفور عام ١٩١٧م.



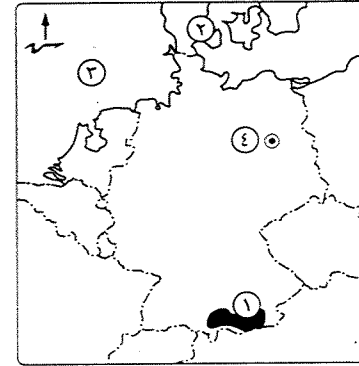
مديرية التربية والتعليم

محافظة الجيزة

مجاب عنه

أولاً الجغرافيا

أجب عن الأسئلة الآتية:



١ (أ) أمامك خريطة لدولة ألمانيا.

وضح مدلول الأرقام الآتية :

- (١) جبال
- (٢) دولة
- (٣) بحر
- (٤) العاصمة

(ب) اكتب كلمة (صواب) أمام العبارة الصحيحة.

وكلمة (خطأ) أمام العبارة غير الصحيحة :

- (١) يزرع قصب السكر في المناطق المعتدلة الباردة. ()
- (٢) يُعد الغاز الطبيعي مصدر الطاقة الأقل تلوثاً والأرخص عالمياً. ()
- (٣) يُعتبر النشاط الصناعي قمة الأنشطة الاقتصادية المتطورة في العالم. ()
- (٤) يسود المناخ المداري الحار في أقصى جنوب شرق البرازيل. ()

(ج) ما النتائج المترتبة على ... ؟

- (١) صغر مساحة الحقول الزراعية في الزراعة الكثيفة.
- (٢) الوحدة الاقتصادية الأوروبية.

٢ (أ) اكتب ما تشير إليه كل عبارة مما يأتي :

- (١) يستخرج من عصارة أشجار استوائية وتصنع منه إطارات السيارات.
- (٢) نشاط يمارسه سكان المناطق الصحراوية في مساحات واسعة في العالم.
- (٣) استخراج المعادن ومصادر الطاقة من باطن الأرض أو بالقرب من سطح الأرض.
- (٤) طاقة تنتج من الأمواج وحركة المد والجزر في بعض الدول المتقدمة.

(ب) دلل جغرافياً على صحة كل عبارة من العبارات الآتية :

- (١) تنتشر مصايد الأسماك على سواحل القارات.
- (٢) يعد البترول أهم مصادر الطاقة. (٣) سكان البرازيل خليط من معظم الأجناس.
- (٤) توجد علاقات ثقافية وعلمية بين مصر وألمانيا.

(ج) قارن في جدول بين : البرازيل، وألمانيا، من حيث : * أهم الموانئ. * أهم المحاصيل.



- (ب) قارن في جدول بين : الفحم، والبترو، من حيث : * الأهمية. * أهم الدول المنتجة.
(ج) «أدى تباين الموارد الطبيعية والبشرية إلى اختلاف النشاط الاقتصادي بين دول العالم».
في ضوء العبارة وضع :

- (١) خصائص الزراعة الكثيفة.
(٢) نتائج انتشار التعليم بين قبائل وسط آسيا بالنسبة لحرفة الرعي البدائي.
(٣) مقترحاتك ل : تطوير الصناعة في الدول النامية.

التاريخ

٢ (١) صوب الكلمات التي تحتها خط :

- (١) قررت دول المحور وضع فلسطين تحت الانتداب البريطاني.
(٢) من نتائج حرب أكتوبر ١٩٧٣م تدعيم أسس العقيدة القتالية للقوات الإسرائيلية.
(٣) الإدارة المحلية يمثلها رئيس الجمهورية والأجهزة التنفيذية.
(٤) التطبيق غير السليم لسياسة التأميم من الأسباب الاقتصادية لثورة ٢٥ يناير ٢٠١١م.
(٥) مساندة مصر لحركات التحرر الوطني في تونس من أسباب العدوان الثلاثي على مصر ١٩٥٦م.
(ب) ما النتائج التي ترقبت على ... ؟
(١) قرار هيئة التحكيم الدولي عام ١٩٨٨م بشأن طابا.
(٢) العدوان الإسرائيلي ٥ يونيو ١٩٦٧م.
(٣) اهتمام ثورة يوليو ١٩٥٢م بالصناعة في مصر.
(ج) ما العلاقة بين ... ؟ (١) النفط العربي، وحرب أكتوبر ١٩٧٣م.
(٢) صدور دستور ١٩٢٣م، والحياة النيابية في مصر.

٤ (١) إلى من تنسب الأعمال الآتية ... ؟

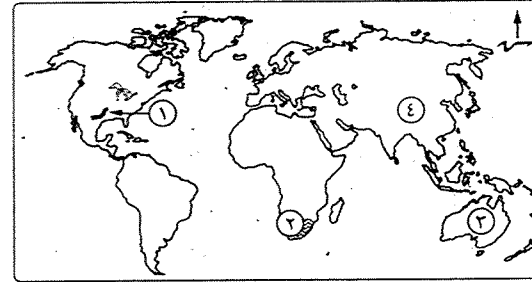
- (١) قام بزيارة إسرائيل من أجل السلام عام ١٩٧٧م.
(٢) * تولى رئاسة الحكومة المصرية في فبراير عام ١٩٤٢م.
(٣) انتخبت رئيساً للجنة الوفد المركزية للسيدات عام ١٩٢٠م.
(٤) قاد خطة الدفاع لصرف أنظار إسرائيل عن التجهيزات الهجومية في حرب أكتوبر ١٩٧٣م.
(٥) قدم مبادرة لوقف إطلاق النار أثناء حرب الاستنزاف.
(ب) دال تاريخياً على صحة كل عبارة من العبارات الآتية :
(١) حققت ثورة يوليو ١٩٥٢م إنجازات عديدة في المجال العربي والدولي.
(٢) اختيار السلام بدلاً من الحرب يعود بالنفع على وطننا العربي.
(٣) تصدى القوات المصرية للاعتداءات الإسرائيلية في مرحلة الصمود والتصدي.
(٤) اتخذت مصر عدة إجراءات لتهيئة وإعداد الجبهة الداخلية قبل حرب أكتوبر ١٩٧٣م.
(ج) ما رأيك في : موافقة الملك فاروق على مطالب ثورة يوليو ١٩٥٢م ؟



مجاب عنه

أولاً الجغرافيا

أجب عن الأسئلة الآتية :



١ (١) أمامك خريطة للعالم، اكتب

ما تدل عليه الأرقام الآتية :

- (١) جبال
(٢) مركز صناعي حديث
(٣) دولة منتجة للصوف
(٤) * أكبر قارات العالم إنتاجاً
للقطن

(ب) يم تفسر ... ؟

- (١) تركز زراعة الشاي في شرق آسيا.
(٢) أهمية مدينة إيبادان بنيجيريا.
(٣) إندونيسيا من أهم الدول المنتجة للأسماك.
(٤) تنوع المناخ بالولايات المتحدة الأمريكية.

(ج) اكتب كلمة (صواب) أمام العبارة الصحيحة، وكلمة (خطأ) أمام العبارة غير الصحيحة :

- (١) تعتبر الألبان المنتج الثاني المهم للثروة الحيوانية.
(٢) موريتانيا من الدول النامية المستوردة للحديد.
(٣) اقتصاد بنيجيريا اقتصاداً متقدماً يعتمد على الزراعة في المقام الأول.
(٤) تأتي قارة أمريكا الشمالية في المرتبة الأولى إنتاجاً للذرة.

٢ (١) اختر الإجابة الصحيحة مما بين القوسين :

- (١) المصدر الرئيسي للحوم لغالبية سكان العالم
(الجاموس - الأبقار - الإبل - الماعز)
(٢) يُعد الخام الرئيسي لمعدن الألومنيوم.
(البوكسيت - الحديد - النحاس - الرصاص)
(٣) تقع ولاية هاواي في وسط المحيط
(الأطلنطي - الهندي - الهادي - القطبي الشمالي)
(٤) يستخدم كل ما يلي في إنتاج الكهرباء الحرارية ما عدا
(الفحم - الشلالات - البترول - الغاز الطبيعي)



(١) أمام خريطة لعالم، اكتب

مدن أو الأرقام المتوقعة عليها :

(١) دولة منتجة للقطن

(٢) أكبر الدول إنتاجاً

للألبان

(٣) دولة منتجة للنحاس

(٤) إقليم صناعي

(ب) اكتب كلمة (صواب) أمام العبارة الصحيحة. وكلمة (خطأ) أمام العبارة غير الصحيحة

مع ذكر السبب في الإجابتين:

(١) تعد قارة أفريقيا أولى قارات العالم إنتاجاً للذرة. ()

(٢) يأتي ثلث الإنتاج السمكي في العالم من مزارع تربية الأسماك. ()

(٣) للفحم أهمية كبيرة منذ أواخر القرن الـ ١٨ وحتى الآن. ()

(٤) توجد علاقات ثقافية وعلمية بين مصر وألمانيا. ()

(ج) قارن بين :

(١) القمح، والمطاط الطبيعي، من حيث : * الأهمية. * أولى الدول المنتجة.

(٢) نيجيريا، وألمانيا، من حيث أماكن تركيز السكان.

(٢) (أ) اكتب ما تشير إليه كل عبارة من العبارات التالية :

(١) تعد المصدر الرئيسي للحوم لغالبية سكان العالم.

(٢) دولة نامية تصدر خام الحديد إلى الدول الصناعية المتقدمة.

(٣) مصدر للطاقة النظيفة تستخدمه خمس دول عربية في توليد الكهرباء تتقدمها مصر

وتليها المغرب.

(٤) مدينة نيجيرية تأتي في المركز الثاني بعد لاجوس وهي مركز للتجارة والتعليم

والمواصلات.

(ب) يم تفسر ... ؟

(١) قلة عدد القائمين بحرفة الرعي البدائي (التقليدي) بقارة آسيا.

(٢) يعد البترول أهم مصادر الطاقة.

(٣) تنتج نيجيريا كميات كبيرة من الأسماك.

(٤) تجذب المرتفعات الوسطى السياح في ألمانيا.

(ج) ما العلاقة بين ... ؟

(١) الزراعة الكثيفة، والأيدى العاملة.

(٢) الصناعة الحديثة، وتطور الشعوب.

التاريخ

(٢) (أ) صوب الكلمات التي تحتها خط، وأعد كتابة العبارات كاملة في حراسة إجابتك :

(١) أعطى مؤتمر مونتره ١٩٢٠م لبريطانيا حق الانتداب على فلسطين.

(٢) تعرف المرحلة الأولى من إعادة بناء القوات المسلحة بعد عام ١٩٦٧م بمرحلة

الاستنزاف والمواجهة.

(٣) ساهمت مصر في تشكيل حركة عدم الانحياز في مؤتمر لندن عام ١٩٥٥م.

(٤) من عوامل قيام ثورة ٢٥ يناير ٢٠١١م تزوير الانتخابات الرئاسية لعام ٢٠١٠م.

(ب) دال تاريخياً على صحة كل عبارة من العبارتين الآتيتين :

(١) * أيدت مصر دعوات السلام وإنهاء الصراع العربي / الإسرائيلي عام ١٩٩١م.

(٢) * شهدت مصر نهضة نسائية في فترة ما قبل ثورة ١٩١٩م.

(ج) ماذا كان يحدث إذا تم ... ؟

(١) يتم توقيع معاهدة ١٩٢٦م بين مصر وبريطانيا.

(٢) تقدم الولايات المتحدة الأمريكية الدعم لإسرائيل خلال حرب أكتوبر ١٩٧٣م.

(٤) (أ) لمن تنسب الأعمال الآتية ... ؟

(١) * رئيس أركان حرب القوات المسلحة أثناء حرب الاستنزاف.

(٢) وضع خطة لعبور قناة السويس وتحطيم خط بارليف ونفذها في حرب أكتوبر ١٩٧٣م.

(٣) أصدرت حكمها لصالح مصر في استعادة طابا الذي تم في مارس ١٩٨٩م.

(٤) تم انتخابها رئيساً للجنة الوفد المركزية للسيدات عام ١٩٢٠م.

(ب) ما النتائج التي ثرتت على ... ؟

(١) هزيمة العرب في حرب فلسطين ١٩٤٨م.

(٢) ثورة ٢٠ يونيو ٢٠١٣م.

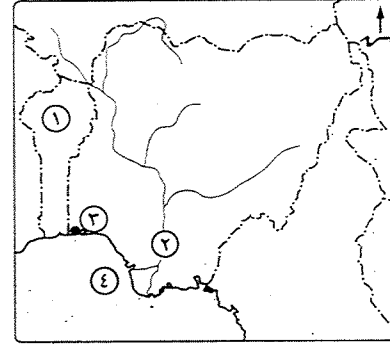
(٣) * عقد مؤتمر كامب ديفيد عام ١٩٧٨م.

(ج) ما رأيك في : إنشاء مشروع السد العالي ؟



مجاب عنه

أجب عن الأسئلة الآتية: أولاً الجغرافيا



(١) أمامك خريطة لدولة نيجيريا الاتحادية،

اكتب في كراسة إجابتك مدلول الأرقام
الموقعة عليها :

(١) دولة

(٢) العاصمة القديمة

(٣) خليج

(ب) ما المقصود بكل من ... ؟

(١) الزراعة الكثيفة. (٢) الرعى البدائي (التقليدي).

(ج) «يعد النشاط الصناعي قمة الأنشطة الاقتصادية وسبباً رئيسياً في تقدم الشعوب

وازدهارها». في ضوء هذه العبارة أجب عما يأتي :

(١) قارن بين : إقليم غرب ووسط أوروبا الصناعي، وإقليم شرق آسيا الصناعي، من

حيث المراكز الصناعية في كل إقليم.

(٢) دال على صحة العبارة الآتية : الصناعة هي العمود الفقري للاقتصاد الألماني

وشهدت تطوراً وتوسعاً بعد الحرب العالمية الثانية.

(د) يم تضرر ... ؟

(١) تتركز زراعة البنجر في أوروبا وأمريكا الشمالية.

(٢) تُعد إندونيسيا والولايات المتحدة الأمريكية من الدول الرئيسية في إنتاج

الأسماك في العالم.

(١) صوب ما فوق الخط، ثم أعد كتابة العبارة صحيحة في كراسة إجابتك :

(١) تُعد دولة الفلبين أولى دول العالم في إنتاج المطاط الطبيعي.

(٢) تُعد الصين أكبر الدول إنتاجاً للكابان في العالم.

(ب) ما العلاقة بين ... ؟

(١) البوكسيت، والألومنيوم. (٢) الرياح، والكهرباء.

(ج) ما النتائج المترتبة على ... ؟

(١) رخص ثمن الغاز الطبيعي وعدم تلويثه للبيئة.

(٢) وقوع الأطراف الجنوبية من نيجيريا في نطاق المناخ الاستوائي.

(٣) كثرة وجود التلال والينابيع بالمرتفعات الوسطى في ألمانيا.

(د) اختر الإجابة الصحيحة مما بين القوسين :

(١) ينتج قصب السكر في كل قارات العالم عدا قارة

(أوروبا - أستراليا - أفريقيا - آسيا)

(٢) أكبر دول العالم المربية للأغنام دولة

(الصين - بريطانيا - مصر - أستراليا)

(٣) من المقومات الطبيعية اللازمة للصناعة

(الأيدي العاملة - الأسواق - مصادر الطاقة - رأس المال)

ثانياً التاريخ

(١) اختر الإجابة الصحيحة مما بين القوسين :

(١) أذيع البيان الأول لثورة ٢٣ يوليو ١٩٥٢م من دار الإذاعة المصرية بصوت

(محمد نجيب - جمال عبدالناصر - أنور السادات - أحمد فؤاد)

(٢) أعطى مؤتمر سان ريمو عام ١٩٢٠م لبريطانيا حق الانتداب على

(سوريا - لبنان - فلسطين - الجزائر)

(٣) * تم تدمير المدمرة الإسرائيلية إيلات ب

(المدفعية - الطائرات - صواريخ البحرية - الذنابات)

(٤) تولى القيادة العامة الموحدة للقوات المصرية السورية في حرب أكتوبر

١٩٧٣م القائد

(سعد الدين الشاذلي - محمد عبدالغنى الجمسى - أحمد إسماعيل - عبدالمنعم رياض)

(ب) ما النتائج التي ترقبت على ... ؟

(١) مبادرة الرئيس السادات لزيارة إسرائيل عام ١٩٧٧م.

(٢) إصدار دستور مصر الدائم عام ١٩٧١م.

(٣) اهتمام ثورة ٢٣ يوليو ١٩٥٢م بالمرأة المصرية.

(٤) فشل العدوان الثلاثي على مصر عام ١٩٥٦م.

(ج) * ماذا كان يحدث إذا : لم تقم ثورة ٢٣ يوليو ١٩٥٢م بإنشاء مشروع السد العالي ؟

٤ (١) اكتب كلمة (صواب) أمام العبارة الصحيحة. وكلمة (خطأ) أمام العبارة غير الصحيحة :

- (١) أدى توقيع معاهدة ١٩٣٦م إلى جعل مصر ميداناً لمعارك الحرب العالمية الأولى. ()
 (٢) القضاء على الإقطاع من إنجازات ثورة ٢٣ يوليو ١٩٥٢م في المجال الاقتصادي. ()
 (٣) قبلت إسرائيل قرار مجلس الأمن رقم ٢٤٢ عام ١٩٦٧م. ()
 (٤) تُعد منظمات المجتمع المدني عناصر فاعلة في تقديم الخدمات الاجتماعية. ()

(ب) يم تفسر ... ؟

- (١) هزيمة الدول العربية في عدوان ٥ يونيو ١٩٦٧م.
 (٢) اندلاع حرب أكتوبر ١٩٧٣م. (٣) استعادة مصر لطابا ١٩٨٩م.
 (٤) قيام الشعب المصرى بثورة ٢٥ يناير ٢٠١١م.

(ج) ما رأيك فى : إنجازات ثورة ٢٣ يوليو ١٩٥٢م فى المجال العربى ؟



مديرية التربية والتعليم

٦ محافظة المنوفية

مجاب عنه

أولاً الجغرافيا

أجب عن الأسئلة الآتية :

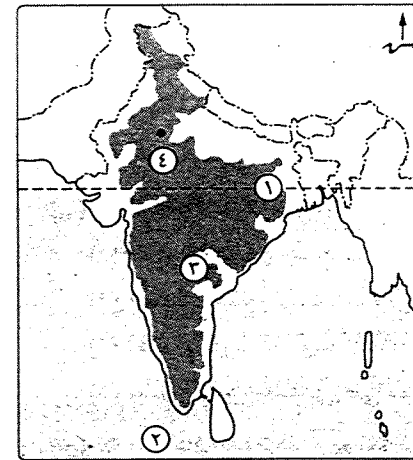
٧ (١) أمامك خريطة لجمهورية الهند.

اكتب ما تدل عليه الأرقام التالية :

- (١) دائرة عرض
 (٢) المحيط
 (٣) هضبة
 (٤) مدينة
 (٥) مدينة

(ب) ما المقصود بالمصطلحات الآتية ... ؟

- (١) الزراعة الكثيفة.
 (٢) النشاط التدينى.
 (٣) * الرعى البدائى.



(ج) ما النتائج المترتبة على ... ؟

- (١) طول سواحل الصين على المحيط الهادى ووجود الأنهار.
 (٢) كثرة التلال والينابيع المائية فى ألمانيا.

(د) ماذا يحدث إذا : توافرت الطاقة الكهربائية والخبرة الفنية فى الدول المنتجة للوكسيت ؟

٢ (١) اختر الإجابة الصحيحة مما بين القوسين :

(١) تعد تايلاند أولى دول العالم إنتاجاً لـ

(الشاي - البن - السكر - المطاط الطبيعى)

(٢) تآتى مصر فى مقدمة الدول العربية فى توليد الطاقة الكهربائية من

(الفحم - الرياح - البترول - الغاز الطبيعى)

(٣) أكبر الأقاليم الصناعية فى العالم الجديد إقليم

(شمال شرق الولايات المتحدة الأمريكية - روسيا وأوكرانيا - شرق آسيا - الخليج العربى)

(٤) العمود الفقري للاقتصاد الألمانى (الزراعة - التجارة - الصناعة - التعدين)

(ب) يم تفسر ... ؟

(١) يعد النشاط الزراعى من الأنشطة الاقتصادية الأساسية فى العالم.

(٢) تناقص أعداد القائمين بالرعى البدائى فى دول وسط آسيا.

(٣) يعد البترول أهم مصادر الطاقة فى العالم.

(٤) توسع العالم فى استخدام الغاز الطبيعى كبديل لمصادر الطاقة الأخرى.

(ج) «تشهد العلاقات المصرية مع دول العالم نمواً كبيراً على كافة الأصعدة».

فى ضوء العبارة وضع :

(١) أهم صادرات مصر إلى الهند. (٢) العلاقات الثقافية والعلمية بين مصر وألمانيا.

ثانياً التاريخ

٣ (١) حدد صحة أو خطأ العبارات الآتية. مع التصويب :

(١) فى يونيو ١٩٥٢م تم إلغاء الملكية وإعلان الجمهورية وتعيين جمال عبدالناصر

أول رئيس لجمهورية مصر العربية.

(٢) استطاعت صواريخ البحرية المصرية فى أكتوبر ١٩٦٧م تدمير المدمرة الإسرائيلية إيلات.

(٣) قام السادات بالقضاء على مراكز القوى لتهيئة وإعداد الجبهة الداخلية قبل حرب أكتوبر ١٩٧٣ م.

(٤) * توفير مناخ يحقق الوحدة الوطنية أحد أنشطة المجتمع المدني.

(ب) ما النتائج التي تترتبت على ... ؟

(١) فشل العدوان الثلاثي على مصر ١٩٥٦ م.

(٢) التطبيق غير السليم لسياسة الخصخصة في عهد الرئيس حسنى مبارك.

(ج) «تعد ثورة ٢٣ يوليو ١٩٥٢ م من أهم الثورات المصرية فى التاريخ الحديث والمعاصر».

فى ضوء العبارة وضع :

(١) عوامل قيام ثورة يوليو ١٩٥٢ م. (يلقف بالتيه)

(٢) مطالب ثورة ٢٣ يوليو ١٩٥٢ م من الملك فاروق.

(د) ماذا كان يحدث إذا تم ... ؟

(١) تقم مصر بإغلاق خليج العقبة فى وجه الملاحة الإسرائيلية مايو ١٩٦٧ م.

(٢) تقم مصر بإنشاء السد العالى.

(٤) (أ) من تنسب الأعمال الآتية ... ؟

(١) شغل منصب رئيس هيئة عمليات القوات المسلحة عام ١٩٧٢ م.

(٢) صاحب مبادرة وقف إطلاق النار بين مصر وإسرائيل أثناء حرب الاستنزاف.

(٣) * دعا لإنشاء أول مدرسة لتعليم البنات فى مصر.

(٤) رئيس لجنة الوفد المركزية للسيدات عام ١٩٢٠ م.

(ب) أيد صحة كل عبارة من العبارات الآتية تاريخياً :

(١) قامت ثورة ٢٣ يوليو ١٩٥٢ م بدور بارز على المستوى العربى والدولى.

(٢) فلسطين لها أهمية خاصة فى قلب كل عربى.

(٣) ساهمت الدول العربية بدور بارز أثناء حرب أكتوبر ١٩٧٣ م.

(٤) عاد السلام وحل الصراع العربى / الإسرائيلى بالنفع على وطننا العربى.

(ج) وضع موقف كل من : العرب، واليهود من قرار الأمم المتحدة بتقسيم فلسطين عام ١٩٤٧ م.



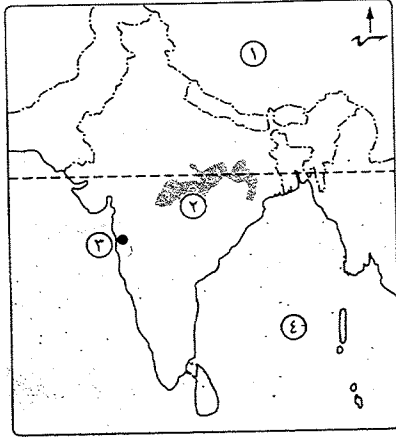
مديرية التربية والتعليم

محافظة الغربية

٧

مجاب عنه

أجب عن الأسئلة الآتية: أولاً الجغرافيا



(١) أمامك خريطة لدولة الهند، وضع

مدلول الأرقام المدونة عليها :

(١) دولة (٢) هضبة

(٣) ميناء

(٤) مسطح مائى

(ب) بم تفسر ... ؟

(١) لا يزرع قصب السكر فى قارة أوروبا.

(٢) قلة عدد القائمين على حرفة الرعى

البدائى فى دول وسط آسيا.

(٣) يعد البترول أهم مصادر الطاقة فى العالم.

(٤) قلة التكاليف والأيدى العاملة فى الزراعة التجارية والعلمية.

(٥) توطن صناعة الألومنيوم فى الدول المتقدمة رغم فقرها لليوكسيت.

(ج) اكتب المصطلح الجغرافى الذى تبدل عليه كل عبارة مما يأتى :

(١) زراعة يعطل بها عدد قليل من السكان وتتميز بضيق المساحة وتباعدها عن بعضها البعض.

(٢) * يستخرج من عصارة أشجار أستوائية وتصنع منه إطارات السيارات.

(٣) إقليم مناخى يتمثل فى دلتا نهر المسيسيبى بالولايات المتحدة الأمريكية ويتأثر

بالأعاصير المدارية المدمرة.

(٧) (١) اكتب كلمة (صواب) أمام العبارة الصحيحة، وكلمة (خطأ) أمام العبارة غير الصحيحة، مع التصويب :

(١) يعد القطن فى مصر والسودان من أجود أنواع القطن فى العالم. ()

(٢) أمريكا الجنوبية تستخدم معظم إنتاجها من الذرة كعلف للماشية وتصدر

جزء منه للخارج. ()

(٣) تحتل النرويج المركز الأول فى إنتاج اللحوم الحمراء فى العالم. ()

(٤) مدينة برمنجهام من أهم المدن الصناعية فى شمال شرق الولايات المتحدة الأمريكية. ()

(٥) تحتل الولايات المتحدة الأمريكية المركز الأول فى إنتاج الدواجن فى العالم. ()

(ب) اختر الإجابة الصحيحة مما بين القوسين :

- (١) نصف إنتاج الأسماك فى العالم يأتى من
- (المزارع السمكية - المياه المالحة - المياه العذبة - الترع والمصارف)
- (٢) أولى دول العالم إنتاجاً للنفط (الصين - تايلاند - شيلي - جنوب أفريقيا)
- (٣) أولى الدول العربية المنتجة للطاقة الكهربائية من الرياح
- (موريتانيا - اليمن - السودان - مصر)
- (٤) من المقومات الطبيعية اللازمة لقيام الصناعة
- (الأيدي العاملة - الأسواق - مصادر الطاقة - رأس المال)
- (ج) ما النتائج المترتبة على ... ؟
- (١) افتقار الهند لمصادر الطاقة مثل البترول. (٢) الوحدة الاقتصادية الأوروبية.

ثالثاً التاريخ

- (١) إلى من تنسب الأعمال الآتية ... ؟
- (١) أذاع البيان الأول لثورة ٢٣ يوليو ١٩٥٢م.
- (٢) أنشأ أول مدرسة لتعليم البنات فى مصر عام ١٨٧٣م.
- (٣) * أصبح رئيساً لأركان حرب القوات المسلحة ديسمبر ١٩٧٣م.
- (٤) شغلت منصب وزيرة الشؤون الاجتماعية ١٩٧١م.
- (ب) يم تضرر ... ؟ (يلقى بعنصره للعبارة)
- (١) هزيمة الجيوش العربية فى عدوان يونيه ١٩٦٧م.
- (٢) العدوان الثلاثى على مصر عام ١٩٥٦م.
- (٣) تدهور الأوضاع الاقتصادية فى مصر قبل ثورة ٢٥ يناير ٢٠١١م.
- (٤) * أهمية منظمات المجتمع المدنى.
- (ج) ما المقصود بكل من ... ؟ (١) * عدم الانحياز. (٢) الدستور.

(١) اكتب كلمة (صواب) أمام العبارة الصحيحة، وكلمة (خطأ) أمام العبارة غير الصحيحة، مع التصويب :

- (١) القضاء على الإقطاع من الإنجازات السياسية لثورة ٢٣ يوليو ١٩٥٢م. ()
- (٢) أثبتت حرب أكتوبر ١٩٧٣م أن منطق القوة لا يمنح سلاماً. ()
- (٣) تم تحقيق أول تجربة للوحدة العربية بين مصر والأردن فى فبراير ١٩٥٨م. ()



- (٤) اهتمت ثورة ٢٣ يوليو ١٩٥٢م بالتعليم فجعلته مجانياً بجميع المراحل التعليمية. ()
- (٥) استعادت مصر طابا بمقتضى معاهدة السلام التى وقعت بين مصر وإسرائيل ١٩٧٩م. ()
- (٦) تولى الفريق سعد الدين الشاذلى القيادة العامة للوحدة للقوات المصرية السورية فى حرب أكتوبر ١٩٧٣م. ()
- (ب) أثبت صحة كل عبارة من العبارات الآتية تاريخياً : (يلقى بعنصره للعبارة)
- (١) اتخذت حكومة الانتداب البريطانى عدة إجراءات لتنفيذ وعد بلفور. ()
- (٢) اهتمت ثورة ٢٣ يوليو ١٩٥٢م بالصناعة فى مصر. ()
- (٣) لعب البترول العربى دوراً مهماً كسلاح فى حرب أكتوبر ١٩٧٣م. ()
- (٤) شهدت مرحلة الصمود والتصدى للاعتداءات الإسرائيلية بطولات رائعة للقوات المسلحة المصرية. ()
- (٥) إنهاء الصراع العربى / الإسرائيلى وتحقيق السلام يعود بالنفع على وطننا العربى. ()

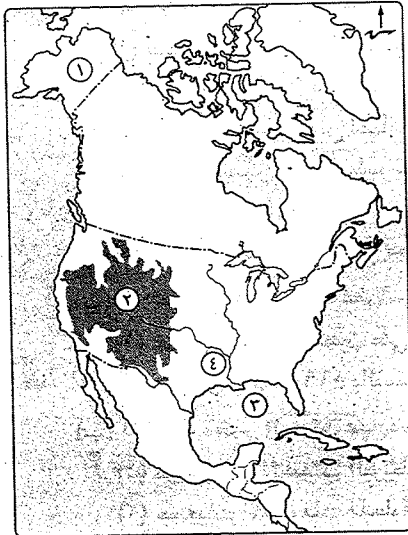


مديرة التربية والتعليم

محافظة الدقهلية

مجاب عنه

أجب عن الأسئلة الآتية: أولاً الجغرافيا



- (١) أمامك خريطة لقارة أمريكا الشمالية. اكتب ما تشير إليه الأرقام :
- (١) ولاية (٢) هضبة
- (٢) خليج (٤) نهر
- (ب) يم تضرر ... ؟
- (١) * أهمية البترول كمصدر للطاقة.
- (٢) عدم وجود صناعة الألمونيوم بالدول النامية.
- (٣) تركز زراعة الشاي فى دول شرق آسيا.
- (٤) وفرة إنتاج الأسماك فى غرب قارة أوروبا.

(ج) وضع العلاقة بين كل مما يأتي :

(١) مناطق الحشائش، والنشاط الرعوى فى العالم.

(٢) الظروف الجغرافية الطبيعية، وتوزيع السكان فى دولة نيجيريا.

٢ (١) «يتنوع النشاط الزراعى والتعدينى والصناعى فى العالم». فى ضوء العبارة وض :

(١) مصادر توليد الطاقة الكهرومائية.

(٢) رأيك لى تتطور الصناعات الحديثة فى مصر تطوراً مذهباً.

(٣) أثر الوحدة الاقتصادية الأوروبية على الصناعة فى دول قارة أوروبا.

(٤) أسباب قلة العمالة فى الزراعة التجارية والعلمية.

(ب) انقل العبارات التالية فى ورقة إجابتك مع تصويب ما تحته خط :

(١) لا تناسب الظروف الطبيعية زراعة قصب السكر فى قارة أمريكا الشمالية.

(٢) مدينة إبيادان هى العاصمة الاقتصادية لدولة نيجيريا.

(٣) من الدول النامية الأفريقية المصدرة للحديد دولة السودان.

(٤) تحتل الصين المركز الأول فى إنتاج البترول على مستوى العالم.

(ج) اذكر استخداماً واحداً لكل من الموارد التالية، مع ذكر أولى الدول إنتاجاً لكل منها :

(١) المطاط. (٢) النحاس. (٣) * قصب السكر. (٤) طاقة الرياح.

ثانياً التاريخ

٢ (١) اكتب كلمة (صواب) أمام العبارة الصحيحة، وكلمة (خطأ) أمام العبارة غير الصحيحة، مع التصويب :

(١) سيطر السادات على جميع قطاعات الجيش بموجب إعلان بيان

ثورة ٢٣ يوليو ١٩٥٢م.

(٢) صدر التحكيم الدولى لصالح مصر عام ١٩٨٨ بشأن بعض علامات الحدود.

(٣) أدى التطبيع غير السليم لسياسة الخصخصة إلى ارتفاع الأسعار

فى المجتمع المصرى.

(٤) تمثل سلطات الحكم فى مصر ثلاث سلطات.

(ب) ما النتائج التى ترتبت على ... ؟

(١) عرض قضية فلسطين على هيئة الأمم المتحدة عام ١٩٤٧م.

(٢) دستور عام ١٩٥٦م بالنسبة للمرأة.

(ج) اكتب ما تشير إليه كل عبارة من العبارات الآتية :

(١) مؤتمر أقر الانتداب البريطانى على فلسطين.

(٢) جمعيات المجتمعات المحلية والمنظمات غير الحكومية والنقابات العمالية.



(٣) معركة انتصرت فيها القوات المصرية على القوات الإسرائيلية عند بورفؤاد.

(٤) أسطورة إسرائيل الذى تم تدميره فى ست ساعات فى حرب أكتوبر ١٩٧٣م.

٤ (١) رتب الأحداث التاريخية التالية من الأقدم إلى الأحدث :

* إصدار قانون الإصلاح الزراعى الأول. * مؤتمر مدريد.

* إنشاء مدرسة السنية للبنات. * إغلاق خليج العقبة فى وجه الملاحة الإسرائيلية.

(ب) «اعلم أن التضحية من أجل الوطن والاستشهاد فى سبيل رفعته وتقدمه وصيانة كرامته

واجب وطنى». فى ضوء العبارة أجب عما يأتى :

(١) ما رأيك فى : مبادرة الرئيس السادات بزيارة إسرائيل عام ١٩٧٧م ؟

(٢) اختر أحد الشخصيات المضية فى حرب أكتوبر ١٩٧٣م، مع توضيح المهام التى قام بها.

(٣) اذكر أسباب كل مما يأتى :

(١) فشل العدوان الثلاثى على مصر عام ١٩٥٦م.

(٢) قيام الضباط الأحرار بثورة عام ١٩٥٢م.

(ج) أيد بالأدلة التاريخية صحة العبارة التالية :

مصر والدول العربية كل منهما ساند الآخر عقب ثورة يوليو ١٩٥٢م، وفى حرب أكتوبر ١٩٧٣م.



مديرية التربية والتعليم

٩ محافظة الإسماعيلية

مجاب عنه

أولاً الجغرافيا

أجب عن الأسئلة الآتية:

١ (١) لاحظ خريطة العالم التى أمامك

وأجب عن الأسئلة التى تليها :

* القارة الأولى إنتاجاً للقمح

تحمل على الخريطة رقم

* أولى دول العالم إنتاجاً لقصب

السكر تحمل على الخريطة

رقم

* أشهر دول العالم إنتاجاً للأصواف من أغنام المارينو تحمل على الخريطة رقم

* دولة عربية تحتل المركز الأول فى إنتاج البترول تحمل على الخريطة رقم

* هضبة كولورادو تحمل على الخريطة رقم

(ب) «إن الإنسان اتجه بالفطرة نحو إشباع حاجاته الضرورية لاستمرار حياته ولقد مارس البشر العديد من الأنشطة الاقتصادية البدائية في الماضي وتطورت في النهاية حتى وصلت إلى النشاط الصناعي». في ضوء العبارة أجب عما يأتي :

- (١) ما المقصود بـ : الزراعة الكثيفة ؟
- (٢) اذكر : العوامل الطبيعية والبشرية التي تساعد على تطور حرفة صيد الأسماك.
- (٣) بم تفسر ... ؟
- (١) أهمية الثروة الحيوانية.
- (٢) توسع العالم في استخدام الغاز الطبيعي كبديل لمصادر الطاقة الأخرى.

(١) اكتب كلمة (صواب) أمام العبارة الصحيحة، وكلمة (خطأ) أمام العبارة غير الصحيحة. مع التصويب :

- (١) تُعد مصر من أكبر الدول المنتجة للألبان في العالم. ()
- (٢) * يتم إنتاج الكهرباء الحرارية من حركة المد والجزر والشلالات والسدود. ()
- (٣) التطور العلمي والسياسات الحكومية من العوامل البشرية لقيام الصناعة. ()
- (٤) يُعد اقتصاد نيچيريا متقدم يعتمد على الصناعة في المقام الأول. ()
- (٥) تعتبر الولايات المتحدة الأمريكية القوة الصناعية الأولى في العالم. ()
- (٦) سان فرانسيسكو أكبر الموانئ الأمريكية على ساحل المحيط الهادى. ()

(ب) ما النتائج المترتبة على ... ؟

- (١) الوحدة الاقتصادية الأوروبية.
- (٢) الموقع الفلكي لدولة نيچيريا مناخياً.
- (٣) اتساع مساحة الولايات المتحدة الأمريكية وتنوع تضاريسها.

التاريخ

(١) اختر الإجابة الصحيحة مما بين القوسين :

- (١) يعد القضاء على الإقطاع أحد إنجازات ثورة ٢٣ يوليو ١٩٥٢م. في المجال
- (الاقتصادي - الاجتماعي - السياسي - الاستراتيجي)
- (٢) * وضعت فلسطين تحت الانتداب البريطاني بناء على نظام الانتداب الذي تم إقراره بواسطة
- (الأمم المتحدة - عصبة الأمم - مجلس الأمن - مجلس الوصاية)
- (٣) تاکدت الدعوة لبدأ الأرض مقابل السلام بين العرب وإسرائيل من خلال مؤتمر
- (مدريد - سان ريمو - كامب ديفيد - باندونج)
- (٤) * أقام مجلس المشورة.
- (الخديو إسماعيل - محمد علي - جمال عبدالناصر - محمد نجيب)
- (ب) قارن بين : أسباب العدوان الثلاثي على مصر ١٩٥٦م، وأسباب اندلاع حرب أكتوبر ١٩٧٣م.

(ج) ما العلاقة بين ... ؟

- (١) حرب أكتوبر ١٩٧٣م، وأهمية سلاح البترول «النفط العربي».
- (٢) منظمات المجتمع المدني، والعمل الحكومي.

(١) العبارات التالية خطأ. أعد كتابتها لتكون صحيحة بكراسة الإجابة :

(١) أدى استمرار الاحتلال البريطاني لمصر لتأسيس اللواء محمد نجيب لتنظيم الضباط الأحرار.

(٢) تعد ثورة يوليو ١٩٥٢م من الثورات الفريدة في التاريخ بسبب مساهمة التكنولوجيا المتقدمة ووسائل الاتصال الحديثة فيها.

(٣) * المنظمة الإقليمية هي التي تضم في عضويتها دول العالم المستقلة وإن لم ترتبط ببعضها بروابط معينة.

(٤) حصلت المرأة المصرية على حق الانتخاب والترشح في دستور ١٩٢٣م.

(ب) «فلسطين مكانة خاصة في قلب كل عربي نظراً لأهميتها الدينية، بالإضافة لما تتميز به من موقع جغرافي فكانت مطمئناً للفرقة على مر العصور». في ضوء العبارة أجب عما يأتي :

(١) موقف مجلس الأمن من العدوان الإسرائيلي في ٥ يونيو ١٩٦٧م.

(٢) كيف نجحت مصر في تهيئة وإعداد الجبهة الداخلية استعداداً لحرب أكتوبر ١٩٧٣م ؟

(ج) ماذا كان يحدث إذا ... ؟

(١) تمكنت الجيوش العربية من تحقيق النصر في حرب فلسطين عام ١٩٤٨م.

(٢) لم يتخذ الرئيس السادات قراراً بمبادرة السلام عام ١٩٧٧م.

مديرية التربية والتعليم

محافظة السويس

مجايب عنه

أولاً الجغرافيا

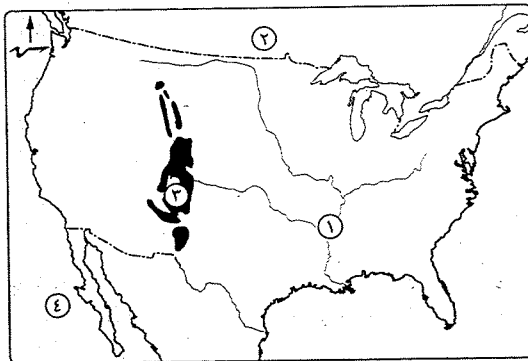
أجب عن الأسئلة الآتية:

(١) أمامك خريطة للولايات

المتحدة الأمريكية، اكتب

ما تدل عليه الأرقام :

- (١) نهر
- (٢) دولة
- (٣) جبال
- (٤) المحيط



(ب) يم تفسر... ؟

- (١) يُعد النشاط الزراعي من الأنشطة الاقتصادية في العالم.
- (٢) يُزرع قصب السكر في كل قارات العالم ما عدا قارة أوروبا.
- (٣) ارتفاع الكثافة السكانية في الغرب والسهول الشمالية وهضبة جوس بنيجيوريا.
- (٤) انخفاض أعداد العاملين بالرعي البدائي في شبه الجزيرة العربية.

(ج) حدد الدولة الأولى عالمياً في إنتاج ما يلي :

- (١) النشأى. (٢) النحاس. (٣) قصب السكر. (٤) الغاز الطبيعي.

(٢) (١) دلل على صحة كل عبارة مما يأتي :

- (١) يسبق عملية التعدين عدة عمليات. (٢) يربط مصر بنيجيوريا علاقات قوية.

(ب) اختر الإجابة الصحيحة مما بين القوسين فيما يلي :

- (١) يُعد البوكسيت الخام الرئيسى لمعدن
- (٢) تُعد قارة أولى قارات العالم إنتاجاً للطاقة النووية.
- (٣) تشتهر دولة بإنتاج الأصواف من أغانم المارينو في العالم.
- (٤) تحتل المركز الأول في إنتاج الأسماك. (الهند - كندا - الصين - مصر)

(ج) ما النتائج المترتبة على ... ؟

- (١) الوحدة الاقتصادية الأوروبية. (٢) زيادة الطلب على البترول وتعدد استخداماته.

ثانياً التاريخ

(٢) (١) اختر الإجابة الصحيحة مما بين القوسين :

- (١) طالبت قوات الاحتلال البريطاني بتعيين رئيساً للحكومة المصرية في فبراير ١٩٤٢م. (جمال عبدالناصر - مصطفى النحاس - سعد زغول - محمد نجيب)
- (٢) صدر قرار تقسيم فلسطين عام ١٩٤٧م عن
- (٣) انسحبت إسرائيل من سيناء وفقاً لنصوص عام ١٩٧٩م.
- (٤) من الدول العربية التي قدمت دعماً عسكرياً لمصر وسوريا في حرب أكتوبر (اليمن - الصومال - لبنان - الجزائر)



(ب) يم تفسر... ؟ (١) العدوان الثلاثى على مصر عام ١٩٥٦م.

(٢) تدهور الأوضاع الاقتصادية بمصر قبل ثورة ٢٥ يناير ٢٠١١م.

(ج) لمن تشير كل عبارة من العبارتين التاليتين ... ؟

(١) * تخلى عن حكم مصر في ١١ فبراير ٢٠١١م وسلم إدارة شؤون البلاد للمجلس الأعلى للقوات المسلحة.

(٢) رئيس أركان حرب الجيش المصرى الذى استشهد فى حرب الاستنزاف.

(٤) (١) اكتب كلمة (صواب) أمام العبارة الصحيحة، وكلمة (خطأ) أمام العبارة غير الصحيحة، مع التصويب:

- (١) رفض الملك فاروق مغادرة البلاد فى الموعد الذى حدده له الضباط الأحرار. ()
- (٢) قامت أول وحدة عربية عام ١٩٥٨م بين مصر والسودان. ()
- (٣) رفضت إسرائيل قرار مجلس الأمن رقم ٢٤٢ ()
- (٤) ظهرت أول صحيفة نسائية مصرية على يد هدى شعراوى. ()
- (٥) أنشئت أول مدرسة لتعليم البنات فى مصر فى عهد الخديو إسماعيل. ()

(ب) حدد المصطلح الذى تشير إليه العبارات التالية :

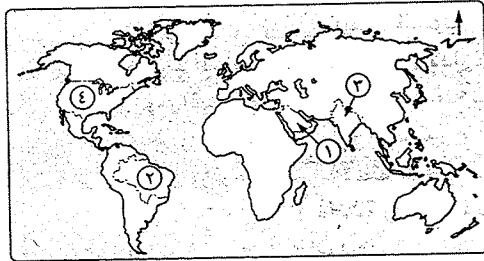
- (١) المرحلة الأولى لإعادة بناء القوات المسلحة بعد هزيمة ٥ يونيو ١٩٦٧م.
- (٢) * الوثيقة الرسمية التى تحدد نظام الحكم فى الدولة وتحدد شكل اختصاصات المؤسسات الدستورية المختلفة.
- (٣) أحد سلطات نظام الحكم فى مصر المسئولة عن السلطة التشريعية.
- (٤) منظمات تقدم الخدمات الاجتماعية وبرامج التنمية لتكملة عمل الحكومة.
- (ج) قارن بين : نتائج حرب فلسطين ١٩٤٨م، ونتائج حرب أكتوبر ١٩٧٣م. (يلقى بياناً ثلاثة لاجئين)

مديرية التربية والتعليم

محافظة بورسعيد

مجاب عنه

أجب عن الأسئلة الآتية: أول الجغرافيا



(١) (١) أمامك خريطة للعالم،

اكتب فى كراسة إجابتك

مدلول الأرقام الموقعة عليها :

(١) أولى دول العالم إنتاجاً

للبنترول

(٢) أكبر دول العالم إنتاجاً

للسكر

(٣) أكبر دول العالم إنتاجاً للالبان

(٤) أولى دول العالم إنتاجاً للغاز الطبيعى

(ب) «تمثل الأسماك غذاءً رئيسياً لكثير من سكان العالم فى المناطق الساحلية».

فى ضوء دراستك وضح ما يلى :

(١) العوامل الطبيعية والبشرية اللازمة لتطور حرفة الصيد.

(٢) أهم الدول المصدرة للأسماك فى العالم.

(ج) اكتب المصطلح الذى تعبر عنه كل عبارة من العبارات الآتية :

(١) زراعة الأرض أكثر من مرة فى العام الواحد لإشباع حاجة السكان المحليين من الغذاء.

(٢) نشاط اقتصادى يمثل العمود الفقرى للاقتصاد الألمانى يعمل به ثلث القوى العاملة.

(٣) طاقة تولد منها الكهرباء فى خمس دول عربية تتقدمها مصر وتليها المغرب.

(١) اكتب كلمة (صواب) أمام العبارة الصحيحة. وكلمة (خطأ) أمام العبارة غير الصحيحة. مع التصويب :

(١) تقع ألمانيا فى شرق القارة الأوروبية. ()

(٢) قلت أعداد القائمين بحرفة الرعى البدائى فى شبه الجزيرة العربية

وبادية الشام نتيجة توطين البدو لتدفق البترول. ()

(٣) تُعد قارة أمريكا الشمالية الأولى إنتاجاً لمحصول الذرة. ()

(٤) المطاط الطبيعي يستخرج من عصارة أشجار مخروطية. ()

(ب) ما العلاقة بين كل من : البوكسيت، والألومنيوم ؟

(ج) ماذا يحدث إذا : أخذت الدول النامية بالأساليب العلمية فى الصناعة ؟

(د) إلى أى الدول تنتمى الظواهر الآتية ... ؟

(١) هضبة جوس. (٢) جبال الألب. (٣) نهر النيجر.

التاريخ

(١) اختر الإجابة الصحيحة مما بين القوسين، ثم انقل الجملة كاملة فى ورقة إجابتك :

(١) من إنجازات ثورة ٢٣ يوليو ١٩٥٢ السياسية

(منح المرأة حق الانتخاب - إصدار قوانين التأمينات الاجتماعية -

قانون الإصلاح الزراعى الأول - تأميم شركة قناة السويس)

(٢) * بعد فشل العدوان الثلاثى قامت إسرائيل بالانسحاب أوائل عام ١٩٥٧ م من

(بورسعيد - السويس - غزة وسيناء - الضفة الغربية لنهر الأردن)

(٣) قيام الشعب بانتخاب ممثلين لإدارة شئون الحكم فى البلاد وسن القوانين

ومراقبة أعمال الحكومة نيابة عنه يقصد بها

(الدستور - الحياة النيابية - البرلمان - النقابات العمالية)

(٤) أول وزيرة للشئون الاجتماعية فى مصر عام ١٩٦٢ م كانت

(عائشة راتب - هدى شعراوى - حكمت أبو زيد - أمال عثمان)

(ب) بم تقصر ... ؟

(١) قيام مصر وسوريا بالإعداد والتخطيط لحرب أكتوبر ١٩٧٣ م.

(٢) تعد ثورة ٢٥ يناير ٢٠١١ م من الثورات الفريدة فى التاريخ المصرى الحديث والمعاصر.

(ج) ما رأيك فى الآتى ... ؟

(١) وعد بلفور ١٩١٧ م.

(٢) * مبادرة الرئيس أنور السادات بزيارة إسرائيل من أجل السلام عام ١٩٧٧ م.

(٤) (١) صوب ما تحته خط فى العبارات الآتية :

(١) * أعلنت مصر ووقفها بجانب سوريا عام ١٩٦٧ م تطبيقاً لاتفاقية السلام بينهما.

(٢) ساهمت مصر مع كل من الهند ويوغوسلافيا فى تشكيل حركة الضباط الأحرار.

(٣) تولى الرئيس الأسبق مبارك عن الرئاسة وسلم إدارة شئون البلاد لرئيس المحكمة

الدستورية العليا.

(٤) نص دستور ١٩٥٦ م على أن السلطة التشريعية تكون فى يد مجلس منتخب هو

مجلس المشورة.

(ب) «تعددت الحروب والمواجهات بين إسرائيل والعرب منذ عام ١٩٤٨ م وحتى عام ١٩٧٣ م».

فى ضوء العبارة وضح :

(١) نتائج هزيمة العرب فى حرب ١٩٤٨ م.

(٢) ماذا كان يحدث إذا : وافقت إسرائيل على تنفيذ قرار مجلس الأمن رقم ٢٤٢ عام ١٩٦٧ م.

(٣) مظاهر تصدى القوات المصرية للاعتداءات الإسرائيلية فى مرحلة الصمود والتصدى.

(ج) أعط مثالا لكل من :

(١) اهتمام ثورة ٢٣ يوليو ١٩٥٢ بالتعليم.

(٢) الدعم العربى لكل من مصر وسوريا أثناء حرب أكتوبر ١٩٧٣ م.

(٣) * أنشطة منظمات المجتمع المدنى.

محافظة دمياط

مديرية التربية والتعليم

مجاب عنه

أجب عن الأسئلة الآتية: أولاً الجغرافيا

(١) أمامك خريطة للأمريكتين، اكتب فى كراسة

الإجابة مدلول الأرقام التى عليها :

(١) أكبر دول العالم إنتاجاً لقصب السكر

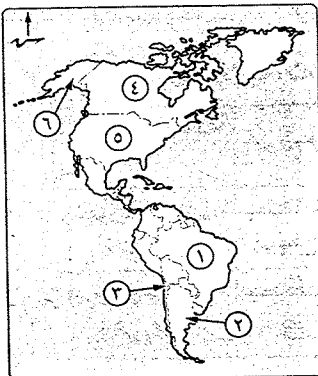
(٢) دولة يسود فيها الرعى التجارى

(٣) دولة منتجة للنحاس

(٤) دولة مصنعة للألومنيوم

(٥) أولى دول العالم إنتاجاً للغاز الطبيعى

(٦) ولاية أمريكية يقل فيها عدد السكان



- (ب) اكتب فى كراسة الإجابة ما تشير إليه كل عبارة من العبارات الآتية :
- (١) حبوب غذائية يستخدم معظم إنتاجها كعلف للماشية فى أمريكا الشمالية.
 - (٢) جزيرة يابانية تمثل مركز صناعى بإقليم شرق آسيا.
 - (٣) منطقة تمثل أكبر غابة استوائية فى العالم.

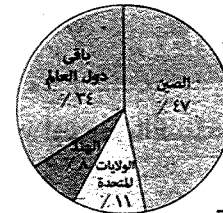
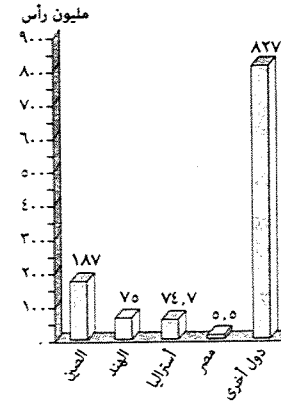
(ج) ما النتائج المترتبة على ... ؟

- (١) * الوحدة الاقتصادية الأوروبية.
- (٢) انتشار التعليم بين القائلين بحرفة الرعى فى دول وسط آسيا.
- (٣) تميز الغاز الطبيعى برخص ثمنه وسهولة نقله وعدم تلويثه للبيئة.
- (٤) اتساع السهول الوسطى وامتدادها من الشمال للجنوب بالولايات المتحدة الأمريكية.

(١) أمامك رسمين بيانيين يمثلان إنتاج نوعين

من الموارد الاقتصادية فى العالم، استعن بهما للإجابة عما يأتى :

- (١) ما المورد الحيوانى الذى يمثله الرسم البيانى الأول ؟ وما سبب توفره فى أولى الدول المنتجة له ؟
- (٢) ما مصدر الطاقة الذى يمثله الرسم البيانى الثانى ؟
- (٣) ما المنتجات التى يوفرها كل مورد من الموردين ؟



(ب) أكمل المقارنة الآتية، ثم انقل الجدول كاملاً فى كراسة الإجابة :

وجه المقارنة	الموقع الجغرافى	الظواهر التضاريسية	أهم المدن
جمهورية البرازيل الاتحادية	يحدّها من الشرق المحيط (١).....	تمتد فى جنوبها ووسطها هضبة (٢).....	تعد واحدة من أجمل مدن العالم مدينة (٣).....
الولايات المتحدة الأمريكية	يحدّها من الغرب المحيط (٤).....	تمتد فى شرقها جبال (٥).....	تعد من أكبر مدن السهول الوسطى مدينة (٦).....

(ج) يم تفسر ... ؟

- (١) صعوبة استخدام الآلات والميكنة الزراعية فى الزراعة الكثيفة.
- (٢) محصول القطن من محاصيل الألياف الهامة للإنتاج الصناعى.
- (٣) انتشار مصايد الأسماك على سواحل القارات.
- (٤) ارتفاع نسبة ما يدخل من الإنتاج العالمى للحديد فى التجارة الدولية.

ثانياً التاريخ

(١) أكمل العبارات الآتية بكلمات مناسبة، ثم انقلها كاملة فى كراسة الإجابة :

- (١) من عوامل قيام ثورة ٢٣ يوليو ١٩٥٢ م استمرار الاحتلال
- (٢) عدم الانضمام إلى أى من الكتلتين الشرقية والغربية يسمى
- (٣) نجحت القوات المصرية فى هزيمة القوات الإسرائيلية عند محاولتها احتلال بورفؤاد فى معركة
- (٤) دعا الرئيس الأمريكى كل من رئيس مصر ورئيس وزراء إسرائيل عام ١٩٧٨ م لعقد مؤتمر فى
- (٥) شكل المجتمع المصرى أثناء ثورة ٢٥ يناير ٢٠١١ م عرف بـ لحفظ الأمن والنظام.
- (٦) يمثل رئيس مجلس الوزراء ونوابه والوزراء والإدارة المحلية السلطة

(ب) يم تفسر ... ؟

- (١) مغادرة الملك فاروق البلاد قبل الموعد الذى حدده ضباط ثورة ٢٣ يوليو ١٩٥٢ م.
- (٢) عدوان ٥ يونيه ١٩٦٧ م. (٣) أهمية منظمات المجتمع المدني.

(ج) دّل تاريخياً على صحة كل عبارة من العبارات الآتية :

- (١) اهتمت ثورة ٢٣ يوليو ١٩٥٢ م بالصناعة فى مصر.
- (٢) اتخذت مصر عدة إجراءات لتهيئة وإعداد الجبهة العربية لحرب أكتوبر ١٩٧٣ م.
- (٣) جهود مصر لتحقيق السلام فى القضية الفلسطينية بدءاً من عام ١٩٧٩ م.
- (٤) كان للمرأة المصرية دوراً رائداً فى العمل الوطنى فى فترة ما قبل ثورة ١٩١٩ م.

(١) لمن تنسب الأعمال الآتية ... ؟

- (١) أذاع البيان الأول لثورة ٢٣ يوليو ١٩٥٢ م من دار الإذاعة المصرية.
- (٢) أحد الأعمدة الرئيسية فى إعادة بناء وتنظيم القوات المسلحة المصرية فى حرب الاستنزاف.
- (٣) قدم مبادرة لوقف إطلاق النار تمهيداً لحل النزاع سلمياً بين مصر وإسرائيل أثناء حرب الاستنزاف.

- (٤) تولى القيادة العامة الموحدة للقوات المصرية والسورية في حرب أكتوبر ١٩٧٣ م.
 (٥) أنشأ مجلس شورى النواب في ديسمبر ١٨٦٦ م.
 (٦) حصلت على منصب رئيس اللجنة التشريعية بمجلس الشعب المصري.
 (ب) ما النتائج التي ترقبت على ... ؟
 (١) توقيع معاهدة عام ١٩٣٦ م بالنسبة لمصر.
 (٢) اللجوء إلى التحكيم الدولي لمشكلة طابا.
 (٣) * صدور دستور ١٩٥٦ م بالنسبة للمرأة في مصر.
 (ج) «وصف وعد بلفور عام ١٩١٧ م بتعهد بريطانيا بإنشاء وطن قومي لليهود في فلسطين بأنه وعد من من لا يملك لمن لا يستحق». في ضوء العبارة أجب عما يأتي :
 (١) ما رأيك في مقولة : «وعد من من لا يملك لمن لا يستحق» ؟ (مدلاً على ذلك)
 (٢) ما الإجراءات التي اتخذتها بريطانيا لتنفيذ هذا الوعد ؟
 (٣) قارن بين : الموقف العربي من إعلان قيام دولة إسرائيل عام ١٩٤٨ م، وأثناء حرب أكتوبر ١٩٧٣ م.



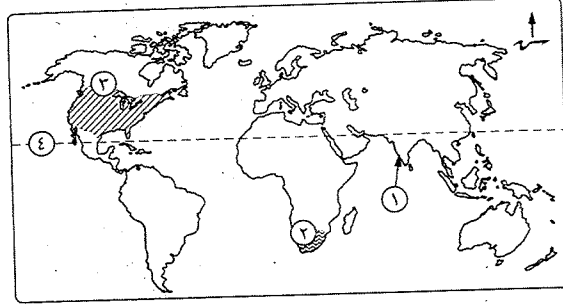
مديرية التربية والتعليم

محافظة كفر الشيخ

مجاب عنه

أجب عن الأسئلة الآتية: أولاً الجغرافيا

- (١) أكمل العبارات التالية بما يناسبها من كلمات :
 (١) أولى دول العالم إنتاجاً لقصب السكر :
 (٢) ثلث الإنتاج السمكي في العالم يأتي من
 (٣) تحتل قارة المركز الثاني في إنتاج الطاقة النووية.
 (٤) تنمو الغابات المخروطية والتفضية في ألمانيا على منحدرات جبال
 (ب) بم تفسر ... ؟
 (١) القطن في مصر والسودان من أجود أنواع القطن في العالم.
 (٢) أسعار البترول في زيادة مستمرة.
 (٣) لجأت الهند لاستخدام الطاقة النووية والكهربائية.
 (٤) انكماش مساحة الحشائش بالساحل الساحلي في ألمانيا.
 (ج) برهن على صحة العبارة التالية : أثر التعليم على نشاط قبائل وسط آسيا.



٢ (أ) أمامك خريطة للعالم، اكتب

مدلول الأرقام الموقعة عليها :

- (١) سهل ساحلي
 (٢) مركز صناعي
 (٣) نوع الزراعة
 (٤) دائرة عرض
 (٤) دائرة عرض

(ب) إلى أي الدول تنتمي كل مدينة مما يأتي ... وما شهرتها ؟

- (١) حيدر أباد.
 (٢) ميونخ.

(ج) «الصناعة الحديثة مقياس لتطور الشعوب وازدهارها». في ضوء هذه العبارة أجب عما يأتي :

- (١) ما المقصود بـ : النشاط التعديني ؟
 (٢) ما النتائج المترتبة على : تحريم الديانة الهندوسية أكل لحوم الأبقار ؟
 (٣) دلال على : وجود علاقات ثقافية وعلمية بين مصر وألمانيا.
 (٤) ما مقترحاتك من أجل : تطوير الصناعة المصرية لتصبح مصر من الدول الصناعية ؟

ثانياً التاريخ

٢ (أ) اختر الإجابة الصحيحة مما بين القوسين :

- (١) تأسيس حركة عدم الانحياز من إنجازات ثورة ٢٣ يوليو ١٩٥٢ م في المجال
 (الاقتصادي - الاجتماعي - الثقافي - الدولي)
 (٢) هزمت القوات المصرية القوات الإسرائيلية في معركة رأس العرش عند محاولتها احتلال مدينة
 (بورفؤاد - بورسعيد - السويس - الإسماعيلية)
 (٣) أنهت حالة اللاسلم واللاحرب وأفسحت المجال للمفاوضات السياسية من منطلق القوة العربية.
 (حرب فلسطين ١٩٤٨ م - عدوان ٥ يونيو ١٩٦٧ م - حرب الاستنزاف - حرب أكتوبر ١٩٧٣ م)
 (٤) بموجب دستور ١٩٥٦ م تم تشكيل مجلس عام ١٩٥٧ م.
 (المشورة - الأمة - شورى النواب - شورى القوانين)

(ب) يم تفسر ... ؟

- (١) سوء الأحوال الاجتماعية في مصر قبل ثورة ٢٣ يوليو ١٩٥٢م.
 (٢) لفلسطين أهمية خاصة في قلب كل عربي.
 (٣) إحداهن ثغرة في منطقة الدفرسوار أثناء حرب أكتوبر ١٩٧٣م.
 (٤) تأييد مصر لاتفاقية أوسلو عام ١٩٩٣م.

(ج) أيد بالأدلة التاريخية صحة كل عبارة مما يأتي :

- (١) التطبيق غير السليم لسياسة الخصخصة أدى لتدهور الأحوال الاقتصادية في مصر.
 (٢) شهدت مرحلة ما بعد ثورة ١٩١٩م وحتى ثورة يوليو ١٩٥٢م نهضة نسائية في مختلف المجالات.

(٤) (أ) اكتب كلمة (صواب) أمام العبارة الصحيحة، وكلمة (خطأ) أمام العبارة غير الصحيحة :

- (١) وافقت بريطانيا على قرار هيئة الأمم المتحدة بتقسيم فلسطين عام ١٩٤٧م. ()
 (٢) تحقيق عنصر المفاجأة في ضرب المطارات المصرية خلال العدوان الإسرائيلي عام ١٩٦٧م تم بمساعدة أمريكية. ()
 (٣) * يمثل مجلس النواب السلطة التنفيذية في الدولة. ()
 (٤) * أنشأ الخديو إسماعيل مجلس شورى النواب عام ١٨٦٦م. ()

(ب) ما النتائج التي ترقبت على ... ؟

- (١) بناء حائط الصواريخ على الضفة الغربية لقناة السويس أثناء حرب الاستنزاف.
 (٢) * ثورة ٣٠ يونيو ٢٠١٣م.

(ج) «تحية إعزاز وفخر للمصريين وجيشهم ففي أقل من ثلاثة عقود خاضوا أربعة حروب

لحماية وطنهم وأمتهم». في ضوء العبارة وض :

- (١) نتائج فشل العدوان الثلاثي على مصر ١٩٥٦م.
 (٢) أسباب إغلاق مصر لخليج العقبة في وجه الملاحه الإسرائيلية مايو ١٩٦٧م.
 (٣) كيف هيأت مصر الجبهة الداخلية لحرب أكتوبر ١٩٧٣م.
 (٤) رأيك في : سعى مصر الدائم مع جيرانها لتحقيق السلام.

محافظة البحيرة

مديرة التربية والتعليم

مجاب عنه

أجب عن الأسئلة الآتية: أولاً الجغرافيا

١ (أ) أمامك خريطة لتيجيريا، اكتب مدلول

الأرقام الموقعة عليها في كراسة إجابتك :

- (١) دولة (٢) هضبة
 (٣) مدينة (٤) خليج

(ب) «مارس البشر العديد من الأنشطة الاقتصادية

البدائية في الماضي، ومع زيادة عدد السكان

تنوعت الأنشطة وتطورت حتى وصلت لما هو

عليه الآن». في ضوء العبارة السابقة، أجب عما يأتي :

(١) اذكر نتيجة واحدة لكل مما يأتي :

(١) تربية أغنام المارينو بأستراليا.

(٢) كثرة التلال والينابيع المائية في المرتفعات الوسطى بألمانيا.

(٢) قارن بين : الزراعة الكثيفة، والزراعة التجارية والعلمية، من حيث الخصائص.

(٣) دال على صحة العبارة الآتية : يعد البترول أهم مصادر الطاقة في العالم.

(ج) اكتب كلمة (صواب) أمام العبارة الصحيحة، وكلمة (خطأ) أمام العبارة غير الصحيحة :

(١) يوجد الرعي البدائي في مناطق الحشائش في العالم ويعتمد على أحدث

الأساليب العلمية.

()

(٢) تُعد الصين والنرويج وتايلاند من الدول الرئيسية المصدرة للأسماك.

()

(٣) يتركز إنتاج النحاس في عدد من دول العالم أهمها البرازيل في أمريكا الجنوبية.

()

(٤) تُعد الولايات المتحدة الأمريكية أكبر دول العالم إنتاجاً للألومنيوم.

()

(٥) تتركز الصناعات التكنولوجية في دول الخليج العربي.

()

(٦) مدينة ميونخ هي أهم موانئ ألمانيا وتقع بالقرب من بحر الشمال.

()

(١) يم تفسر ... ؟

- (١) يُعد النشاط الزراعي من الأنشطة الاقتصادية الأساسية في العالم.
- (٢) انتشار مناطق الصيد على سواحل القارات.
- (٣) توسع العالم في استخدام الغاز الطبيعي كبديل لمصادر الطاقة الأخرى.
- (٤) تطور الصناعة في الدول المتقدمة تطوراً مذهلاً.
- (٥) تركز سكان نيجيريا في الغرب والسهول الشمالية.

(ب) اختر الإجابة الصحيحة مما بين القوسين :

- (١) ترتبط تربية بالمراعى التجارية الواسعة.
- (الجاموس - الإبل - الأغنام - الماعز)
- (٢) تصدر الدول النامية مثل خام الحديد إلى الدول المتقدمة.
- (الصين - أستراليا - روسيا - موريتانيا)
- (٣) * أولى دول العالم فى إنتاج الألبان دولة
- (الولايات المتحدة الأمريكية - الهند - الصين - اليابان)
- (٤) تتقدم دولة الدول العربية الخمس المنتجة للطاقة الكهربائية من الرياح.
- (مصر - تونس - الأردن - المغرب)
- (٥) تمثل العمود الفقري للاقتصاد الألماني فيعمل بها نحو ثلث القوى العاملة.
- (الزراعة - الصناعة - السياحة - التجارة)

ثانياً التاريخ

(١) صوب ما تحته خط فى العبارات الآتية :

- (١) كان الفريق سعد الدين الشاذلي وزيراً للحربية أثناء حرب أكتوبر ١٩٧٣م.
- (٢) نصت معاهدة السلام مارس ١٩٧٩م على البدء بمفاوضات لإنشاء حكم ذاتي للفلسطينيين فى الضفة الغربية والقدس.
- (٣) تم توقيع اتفاقية أوسلو ١٩٩٣م برعاية أمريكية بين إسرائيل ومنظمة الجهاد الفلسطينية.
- (٤) تم عزل محمد مرسى فى الثالث من يوليو ٢٠١٣م وتسليم السلطة إلى المستشار محمد عبدالغنى الجيسى رئيس المحكمة الدستورية العليا.
- (٥) نص دستور ١٩٥٦م على أن السلطة التشريعية تكون فى يد مجلس منتخب هو مجلس النواب.

(ب) دلت تاريخياً على صحة العبارات الآتية :

- (١) لم تؤد معاهدة ١٩٣٦م إلى استقلال حقيقى لمصر.
- (٢) اختلفت المواقف بشأن قرار تقسيم فلسطين عام ١٩٤٧م.
- (٣) عملت الدولة على تدعيم مكانة المرأة المصرية على كافة المستويات فى الفترة من ١٩٨١م وحتى الآن.
- (ج) ماذا كان يحدث إذا ... ؟

- (١) قبلت إسرائيل تنفيذ قرار مجلس الأمن رقم ٢٤٢ بعد عدوان ١٩٦٧م.
- (٢) كان موقف الولايات المتحدة الأمريكية على الحياد ولم تدعم إسرائيل فى حرب أكتوبر ١٩٧٣م.

(١) اكتب ما تشير إليه العبارات الآتية :

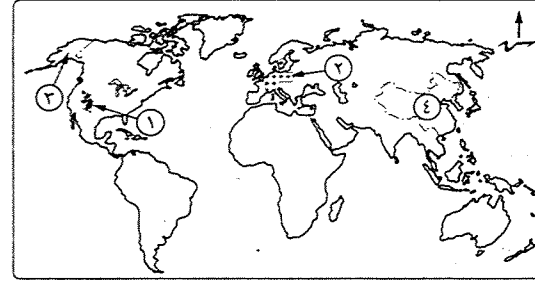
- (١) * تصريح بريطانى يتضمن إنشاء وطن قومى لليهود فى فلسطين.
- (٢) عاصمة أوروبية عقد فيها مؤتمر عام ١٩٩١م الذى أكد على مبدأ الأرض مقابل السلام وحل الصراع العربى/الإسرائيلى على ضوء قرارات مجلس الأمن.
- (٣) لجان شكلها المجتمع المصرى بكل فئاته لحماية المنشآت ومواجهة أعمال السرقة والحرق والترويع أثناء ثورة ٢٥ يناير ٢٠١١م.
- (٤) يُطلق على المجالس النيابية التى تتولى السلطة التشريعية فى الدولة.
- (٥) استجاب لدعوة رفاة الطهاوى وأنشأ أول مدرسة لتعليم البنات فى مصر عام ١٨٧٣م.

(ب) ما النتائج التى ترتبت على ... ؟

- (١) حرب فلسطين عام ١٩٤٨م.
- (٢) نجاح الضربة الجوية ونيران المدفعية على طول القناة يوم السادس من أكتوبر ١٩٧٣م.
- (ج) «تنوعت أحداث ثورة ٢٣ يوليو ١٩٥٢م ما بين القضاء على سلبيات وإقامة إيجابيات» فى ضوء ذلك وضح :
- (١) مطالب الثورة من الملك فاروق، ولماذا وافق عليها.
- (٢) كيف تمكنت الثورة من القضاء على الإقطاع.
- (٣) موقف الثورة من القضية الفلسطينية وحقوق الشعب الفلسطينى.



أجب عن الأسئلة الآتية: أولاً الجغرافيا



(١) أمامك خريطة للعالم،

اكتب مدلول الأرقام التالية :

- (١) سلاسل جبلية
- (٢) إقليم صناعي
- (٣) ولاية أمريكية
- (٤) أولى دول العالم
في إنتاج الحديد

(ب) اكتب المصطلح الجغرافي لكل عبارة من العبارات الآتية :

- (١) محصول تنتج مصر والسودان أجد أنواعه في العالم.
- (٢) دولة شهيرة بإنتاج أصواف المارينو.
- (٣) * يستخدم في صناعة الأسلاك والأدوات الكهربائية وشيلى أولى الدول إنتاجاً له.
- (٤) الخام الرئيسي لمعدن الألومنيوم.

(ج) قارن بين :

- (١) حشائش البرارى، وحشائش التندرا، من حيث :
- * نوع الرعى.
- * مناطق تركز الرعى فيهما.
- (٢) المطاط، وقصب السكر، من حيث :
- * الدولة الأولى عالمياً في إنتاجه.
- * الأهمية الاقتصادية.

(١) اختر الإجابة الصحيحة مما بين القوسين :

- (١) زراعة الأرض بشكل مكثف لإشباع حاجة السكان المحليين من الغذاء زراعة
- (بدائية - كثيفة - علمية - جميع ما سبق)
- (٢) يأتي نصف الإنتاج السمكى في العالم من مياه
- (الأنهار - البحيرات - البحار والمحيطات - المزارع السمكية)
- (٣) أكثر من $\frac{3}{4}$ إنتاج القمح في العالم يأتي من
- (أوروبا وأفريقيا - أوروبا وآسيا - آسيا وأستراليا - أمريكا الشمالية وأوروبا)
- (٤) أهم المراكز الصناعية الحديثة في أمريكا الشمالية يوجد في دولة
- (كوبا - شيلى - بنما - المكسيك)



(ب) «تشابه السواحل الجنوبية للولايات المتحدة الأمريكية مع السواحل الجنوبية لجمهورية

نيجيريا الاتحادية». فى ضوء العبارة اذكر :

- (١) الخليج الذى تطل عليه السواحل الجنوبية لكل منهما والنهر الذى يصب فيه.
- (٢) عدد الولايات التى تتكون منها كل دولة من الدولتين.
- (ج) دال جغرافياً على صحة كل عبارة مما يأتى :
- (١) ترتبط مصر مع نيجيريا بعلاقات قوية.
- (٢) * تعد الصناعة الحديثة مقياساً لتطور الشعوب.

التاريخ

(٢) (١) رتب الأحداث التاريخية التالية من الأقدم إلى الأحدث :

- * مؤتمر مدريد للسلام.
- * مؤتمر سان ريمو.
- * اتفاقية أوسلو.
- * مؤتمر كامب ديفيد.

(ب) أكمل العبارات الآتية بكلمات مناسبة :

- (١) ساهمت مصر والهند ويوغوسلافياً فى تشكيل حركة
- (٢) أصدرت ثورة ٢٣ يوليو ١٩٥٢ قوانين لتحديد الملكية الزراعية سميت بقوانين
- (٣) * استطاع الجيش المصرى تدمير
- فى ست ساعات أثناء حرب أكتوبر ١٩٧٣م.
- (٤) نجحت القوات المصرية فى هزيمة القوات الإسرائيلية عندما حاولت احتلال مدينة بورفؤاد فى معركة

(ج) ما رأيك فى ... ؟

- (١) قرار تأميم شركة قناة السويس ١٩٥٦م.
- (٢) مساهمة التكنولوجيا المتطورة ووسائل الاتصال فى إندلاع ثورة ٢٥ يناير ٢٠١١م.
- (د) ما النتائج التى ترتبت على : حرب أكتوبر ١٩٧٣م بالنسبة لمصر وإسرائيل ؟

(٤) (١) من أنا ... ؟

- (١) توليت وزارة الشؤون الاجتماعية فى مصر عام ١٩٦٢م.
- (٢) أول رئيس لجمهورية مصر العربية بعد ثورة ١٩٥٢م.
- (٣) * بادرت بزيارة إسرائيل عام ١٩٧٧م ودعيت للسلام العادل لشعوب المنطقة.
- (٤) توليت رئاسة الجمهورية بعد ثورة ٢٠ يونيو ٢٠١٣م لحين إجراء انتخابات رئاسية مبكرة وتعديل الدستور.

(ب) بيم تقصر ... ؟ (١) أهمية فلسطين عند الشعوب العربية.

(٢) فشل العدوان الثلاثى على مصر ١٩٥٦م.

(ج) ماذا كان يحدث إذا ... ؟

- (١) استجابات إسرائيل لقرار مجلس الأمن رقم ٢٤٢
- (٢) لم يتم إنشاء السد العالى فى مصر ١٩٧١م.

أجب عن الأسئلة الآتية: **أولاً الجغرافيا**

١ (أ) أمامك خريطة للعالم، اكتب في كراسة إجابتك مدلول الأرقام الموضحة عليها:



- (١) منطقة رعى بدائي
 (٢) أكبر القارات إنتاجاً للذرة
 (٣) مركز صناعى حديث
 (٤) أكبر الدول إنتاجاً للتحاس

(ب) اذكر أهمية كل مما يأتى :

- (١) الغاز الطبيعي. (٢) القطن. (٣) الجلود.

(ج) اكتب ما تشير إليه كل عبارة من العبارات الآتية :

- (١) محصول يستخرج من عصارة أشجار استوائية ويدخل فى صناعة إطارات السيارات.
 (٢) المصدر الأول والرئيسى للطاقة فى العالم حتى أوائل القرن العشرين الميلادى.
 (٣) مدينة تمثل مركزاً للتجارة والمواصلات بدولة نيجيريا.

(د) أجب عن الآتى فى ضوء ما درست :

- (١) ما أهم الخصائص التى تتميز بها الزراعة البسيطة ؟
 (٢) اذكر أهم الخصائص المناخية لدولة ألمانيا.

٢ (أ) اكتب كلمة (صواب) أمام العبارة الصحيحة، وكلمة (خطأ) أمام العبارة غير الصحيحة. مع التصويب :

- (١) تحتل الصين المركز الأول فى إنتاج الأسماك فى العالم. ()
 (٢) يصنع الألومنيوم حيث يوجد خام البوكسيت. ()
 (٣) تعد قارة أوروبا أولى قارات العالم فى إنتاج القمح. ()



(ب) «يعد النشاط الصناعى قمة الأنشطة الاقتصادية المتطورة». فى ضوء العبارة وضع :

- (١) العلاقة بين : الصناعة، والدول المتقدمة.
 (٢) من وجهة نظرك : هل تتوافر المقومات التى تساعد على قيام نهضة صناعية كبرى بمصر.
 (ج) دلت جغرافياً على صحة كل عبارة من العبارات الآتية :
 (١) يعد النشاط الزراعى من الأنشطة الاقتصادية الأساسية فى العالم.
 (٢) يسبق التعدين العديد من الخطوات المهمة.
 (٣) تشهد العلاقات الاقتصادية بين مصر وألمانيا تطوراً كبيراً.
 (د) قارن بين : نيجيريا، وألمانيا، من حيث أهم السهول المنتشرة فى كل منهما.

ثانياً التاريخ

٢ (أ) اختر الإجابة الصحيحة مما بين القوسين :

- (١) وضعت فلسطين تحت الانتداب البريطانى وفقاً لقرارات مؤتمر
 (باندونج - كامب ديفيد - مدريد - سان ريمو)
 (٢) نجحت القوات المصرية فى هزيمة القوات الإسرائيلية فى معركة رأس العش عندما حاولت القوات الإسرائيلية احتلال مدينة
 (بورسعيد - السويس - بورفؤاد - الإسماعيلية)
 (٣) أنشأ محمد على مجلساً عرف ب
 (مجلس الأمة - مجلس المشورة - مجلس الشيوخ - الجمعية التشريعية)
 (٤) * الريحانة أول مجلة نسائية أصدرتها عام ١٩٠٧م.
 (هدى شعراوى - جميلة حافظ - عائشة راتب - أمال عثمان)

(ب) ما النتائج التى ترتبت على ... ؟

- (١) ظاهرة الإقطاع (سوء توزيع الأرض الزراعية) فى مصر قبل ثورة يوليو ١٩٥٢م.
 (٢) اجتماع وزراء النفط العربى بالكويت أثناء حرب أكتوبر ١٩٧٣م.
 (ج) ماذا كان يحدث إذا : لم تقم بريطانيا بإصدار وعد بلفور ؟
 (د) مارأيك فى : تعد ثورة ٢٥ يناير ٢٠١١م من الثورات الفريدة فى التاريخ المصرى الحديث والمعاصر ؟

٤ (أ) اكتب كلمة (صواب) أمام العبارة الصحيحة، وكلمة (خطأ) أمام العبارة غير الصحيحة، مع التصويب :

- (١) حققت معاهدة ١٩٣٦م الاستقلال الحقيقى لمصر. ()
 (٢) امتنعت بريطانيا عن التصويت على قرار هيئة الأمم المتحدة بتقسيم فلسطين عام ١٩٤٧م. ()

(٣) * يعد توفير مناخ يحقق الوحدة الوطنية أحد أنشطة منظمات

()

المجتمع المدني.

(٤) عُينت الدكتورة عائشة راتب أول وزيرة للشئون الاجتماعية عام ١٩٦٢م. ()

(ب) دتل على صحة العبارة التالية :

اختلفت الكتابات وتعددت الآراء حول ثورة ٢٣ يوليو ١٩٥٢م.

(ج) بم تفسر: تدهور الأوضاع الاقتصادية في مصر قبل ثورة ٢٥ يناير ٢٠١١م؟

(د) ما العلاقة بين : محكمة العدل الدولية، وطابا ؟



مديرية التربية والتعليم

محافظة المنيا

١٧

الجغرافيا

أولاً

أجب عن الأسئلة الآتية:

(١) أمامك خريطة للعالم، اذكر مدلول الأرقام الموضحة عليها :

(١) هضبة

(٢) نوع الزراعة السائد

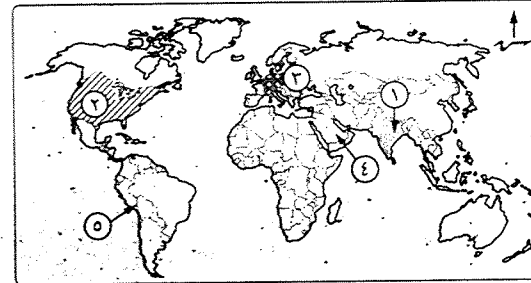
(٣) إقليم صناعي

(٤) أولى دول العالم

إنتاجاً للبتروئيل

(٥) أهم الدول إنتاجاً

للنحاس



(ب) اكتب ما تشير إليه كل عبارة مما يأتي :

(١) محصول يستخرج من عصارة أشجار استوائية ويدخل في صناعة إطارات السيارات.

(٢) نبات دائم الخضرة موطنه الأصلي شرق آسيا يحتاج في زراعته مناخ حار وهواء

رطب ومطر غزير.

(ج) اكتب اسم الدولة الأولى إنتاجاً لكل من :

(١) اللحوم الحمراء.

(٢) البوكسيت.

(٣) الغاز الطبيعي.

(٤) قصب السكر.

(٥) الألبان.

(٦) الأسماك.

(٢) (١) اختر الإجابة الصحيحة مما بين القوسين :

(١) من المقومات الطبيعية للصناعة

(الأيدي العاملة - المادة الخام - رأس المال - السياسة الحكومية)

(٢) تعد الولايات المتحدة الأمريكية القوة الاقتصادية في العالم.

(الأولى - الثانية - الثالثة - الرابعة)

(٣) يزرع قصب السكر في كل قارات العالم ما عدا قارة

(آسيا - أفريقيا - أمريكا الجنوبية - أوروبا)

(٤) أهم الدول المنتجة لصوف الأغنام

(الهند - أستراليا - الصين - الولايات المتحدة الأمريكية)

(ب) بم تفسر...؟

(١) ارتفاع أسعار البترول عالمياً.

(٢) اتجاه العالم إلى التوسع في استخدام الغاز الطبيعي كبديل لمصادر الطاقة الأخرى.

(٣) قلة عدد السكان في ولاية ألاسكا.

(٤) توطن صناعة الألمنيوم في الدول المتقدمة رغم قلة خام البوكسيت بها.

(ج) وضع العلاقات الاقتصادية بين كل من :

(١) مصر، والهند.

(٢) مصر، والولايات المتحدة الأمريكية.

ثانياً التاريخ

(٢) (١) أكمل العبارات الآتية بكلمات مناسبة مما بين القوسين :

(محمد علي - محمد أنور السادات - مصطفى النحاس - محمد نجيب -

سعد الدين الشاذلي - أحمد إسماعيل)

(١) أذيع البيان الأول لثورة ٢٣ يوليو ١٩٥٢م بصوت

(٢) حاصرت قوات الاحتلال البريطاني قصر عابدين في فبراير ١٩٤٢م لإجبار

الملك فاروق على تعيين

(٣) تم منح اسم وسام قلادة النيل العظمى في الذكرى الـ ٣٩ لنصر أكتوبر.

(٤) أنشأ مجلس المشورة.

(ب) صوب ما تحته خط في العبارات الآتية :

(١) عُرف خط الدفاع الإسرائيلي في هضبة الجولان السورية باسم خط بارليف.

(٢) عقد مؤتمر بانديونج عام ١٩٥٥م في دولة السويد.

(٣) مجلة الريحانة أول مجلة نسائية مصرية أصدرتها عائشة راتب عام ١٩٠٧م.

(ج) ما المقصود بالمفاهيم الآتية ... ؟

- (١) عدم الانحياز. (٢) * منظمات المجتمع المدني. (٣) دستور.

(أ) «تعددت الحروب والمواجهات بين إسرائيل والعرب منذ ١٩٤٨م وحتى ١٩٧٣م».

في ضوء هذه العبارة وضح :

(١) موقف الدول العربية من قرار تقسيم فلسطين عام ١٩٤٧م.

(٢) أسباب العدوان الثلاثي على مصر عام ١٩٥٦م.

(٣) مزايا تحقيق السلام وإنهاء الصراع العربي/الإسرائيلي.

(ب) اكتب كلمة (صواب) أمام العبارة الصحيحة. وكلمة (خطأ) أمام العبارة غير الصحيحة :

(١) يمثل مجلس النواب السلطة التنفيذية في الدولة. ()

(٢) استشهد الفريق أول عبدالمنعم رياض في حرب الاستنزاف. ()

(٣) ساهمت التكنولوجيا المتطورة ووسائل الاتصال في اندلاع ثورة ٢٥ يناير ٢٠١١م. ()

(٤) تقلدت المرأة المصرية المناصب الوزارية فكانت هدى شعراوي أول ()

وزيرة للشؤون الاجتماعية عام ١٩٦٢م.

(ج) ما النتائج التي ترقبت على ... ؟

(١) قرار هيئة التحكيم بمحكمة العدل الدولية في سبتمبر ١٩٨٨م.

(٢) معركة رأس العرش.

(٣) التطبيق غير السليم لسياسة الخصخصة في مصر قبل ثورة ٢٥ يناير ٢٠١١م.



مديرية التربية والتعليم

محافظة أسيوط

أجب عن الأسئلة الآتية: **أولاً الجغرافيا**

(١) أمامك خريطة لجمهورية نيجيريا،

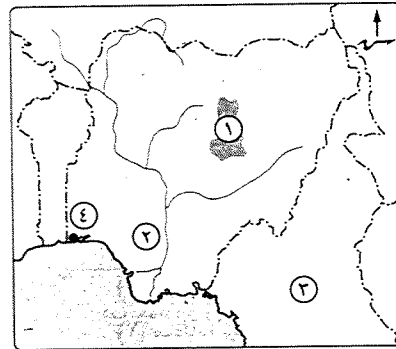
اكتب مدلول الأرقام الموقعة عليها :

(١) هضبة

(٢) نهر

(٣) دولة

(٤) العاصمة القديمة



(ب) يم تضرر ... ؟ (يلفقر بسبب واحد)

(١) يعتبر النشاط الزراعي من الأنشطة الاقتصادية الأساسية في العالم.

(٢) توسع العالم في استخدام الغاز الطبيعي كبديل لمصادر الطاقة.

(٣) انتشار مصايد الأسماك على سواحل شمال غرب أوروبا.

(٤) ازدهار صناعة الألومنيوم في الدول المتقدمة.

(ج) صوب ما تحته خط في العبارات الآتية :

(١) تعتبر دولة ماليزيا من أهم الدول المنتجة لأصواف أغنام المارينو الشهيرة ثم الصين.(٢) يسود دولة ألمانيا الاتحادية مناخ استوائي مطر طول العام خاصة في الشمال.(٣) أكبر الأقاليم الصناعية في العالم الجديد إقليم شمال شرق فرنسا الصناعي.(٤) * تحتل دولة أستراليا المركز الأول في إنتاج القمح في العالم.

(أ) اختر الإجابة الصحيحة مما بين القوسين :

(١) من المحاصيل التي تستخدم في تصنيع إطارات السيارات

(القطن - الجوت - المطاط الطبيعي - الذرة)

(٢) تعد الهند من أكبر دول العالم تربية ل (الماعز - الأبقار - الإبل - الجاموس)

(٣) أولى دول العالم إنتاجاً لمعدن الحديد دولة

(الولايات المتحدة الأمريكية - شيلي - فرنسا - الصين)

(٤) تأتي مصر في مقدمة خمس دول عربية تقوم بتوليد الكهرباء من

(الرياح - البترول - الغاز الطبيعي - الفحم)

(٥) تعتبر دولة بريطانيا من أهم المراكز الصناعية في إقليم

(شرق آسيا - أمريكا الجنوبية - غرب ووسط أوروبا - روسيا وأوكرانيا)

(ب) «تنوع الموارد والأنشطة الاقتصادية في العالم». في ضوء ذلك أجب عما يأتي :

(١) دلل على صحة العبارة الآتية : صعوبة زراعة قصب السكر في أوروبا.

(٢) اذكر نتيجة واحدة مترتبة على : كثرة الغابات والتلال والينابيع المائية في المرتفعات الوسطى لجمهورية ألمانيا الاتحادية.

(٣) اذكر خصائص كل من : الزراعة البسيطة (البدائية)، والزراعة التجارية العلمية.

(٤) ما العلاقة بين : تدفق البترول، وحرقة الرعي البدائي في شبه الجزيرة العربية ؟

ثانياً التاريخ

- ٣ (١) اكتب كلمة (صواب) أمام العبارة الصحيحة، وكلمة (خطأ) أمام العبارة غير الصحيحة. مع التصويب :
- (١) حاصرت قوات الاحتلال البريطاني قصر عابدين في فبراير ١٩٤٢م. ()
- (٢) قامت مصر بإغلاق خليج السويس أمام الملاحة الإسرائيلية في مايو ١٩٦٧م. ()
- (٣) من العوامل الاقتصادية لقيام ثورة ٢٥ يناير ٢٠١١م استمرار العمل بقانون الطوارئ. ()
- (٤) نصت معاهدة السلام في مارس ١٩٧٩م على التطبيق الكامل لقرار مجلس الأمن الدولي رقم «٢٤٢».
- (ب) إلى من تنسب الأعمال الآتية ... ؟
- (١) شارك في وضع خطة عبور قناة السويس وتحطيم خط بارليف بعد توليته رئيساً لأركان حرب القوات المسلحة عام ١٩٧١م.
- (٢) تسلم قيادة السلطة المصرية بعد عزل الرئيس «محمد مرسى» في ٢ يوليو ٢٠١٣م.
- (٣) شغلت منصب رئيس اللجنة التشريعية بمجلس الشعب.
- (ج) اذكر نتيجة واحدة ترتبت على :
- (١) العمليات العسكرية التي قام بها سلاح الطيران والمدفعية على الجبهة المصرية أثناء حرب أكتوبر ١٩٧٣م.
- (٢) * قيام مصر بتأميم شركة قناة السويس في يوليو ١٩٥٦م.
- (٣) هزيمة العرب في حرب فلسطين ١٩٤٨م.

٤ (١) اختر الإجابة الصحيحة مما بين القوسين، وأكمل بها العبارات الآتية :

(سوريا - عائشة راتب - سان ريمو - فلسطين - ألوان - الاجتماعي - رفاة الطهطاوى)

(١) منح المرأة حق الانتخاب والترشح لمجلس الأمة من إنجازات ثورة ٢٣ يوليو ١٩٥٢م في المجال

(٢) وُضعت فلسطين تحت الانتداب البريطاني طبقاً لقرارات مؤتمر عام ١٩٢٠م.

(٣) تحقيق أول تجربة للوحدة العربية في فبراير ١٩٥٨م بين كل من مصر و

(٤) أنشأ الخديو إسماعيل مدرسة لتعليم البنات استجابة لدعوة عام ١٨٧٣م.

(٥) وافقت هيئة الأمم المتحدة في عام ١٩٤٧م على تقسيم

(٦) يُعرف خط الدفاع الإسرائيلي في هضبة الجولان باسم خط

(ب) «تجمعت العديد من الأسباب لتمهد لاندلاع ثورة ٢٥ يناير ٢٠١١م».

في ضوء ذلك أجب عما يأتي :

(١) دال : يعد الجيش المصري الضامن لثورة ٢٥ يناير ٢٠١١م ؟

(٢) ما دور منظمات المجتمع المدني كعناصر فاعلة في تقديم الخدمات الاجتماعية للمصريين ؟

(٣) ماذا كان يحدث إذا لم : تقم مصر بإنشاء مشروع السد العالي ؟

(٤) ما رأيك في : أن تحقيق السلام يعود بالنفع على الوطن العربي ؟

مديرية التربية والتعليم

محافظة سوهاج

١٩

أجب عن الأسئلة الآتية: أولاً الجغرافيا

١ (١) أمامك خريطتان الأولى لجمهورية نيجيريا، والثانية لدولة ألمانيا الاتحادية، اكتب مدلول الأرقام الموقعة عليهما :

① (١) نهر

② (٢) دولة

③ (٣) مدينة

④ (٤) هضبة

① (١) نهر

② (٢) دولة

③ (٣) مدينة

④ (٤) جبال

(ب) اكتب ما تشير إليه كل عبارة من العبارات الآتية :

(١) * استخراج المعادن ومصادر الطاقة من باطن الأرض أو بالقرب من سطح الأرض.

(٢) رعى يوجد في مناطق الحشائش القصيرة (البرارى) والإستبس والساقانا بقارات العالم.

(٣) زراعة يعمل بها عدد قليل من السكان في مناطق صغيرة ومعزولة.

(٤) أكبر الأقاليم الصناعية في العالم الجديد.

١٨٣

١٨٢

(ج) بم تفسر ... ؟

- (١) توسع العالم في استخدام الغاز الطبيعي كبديل لمصادر الطاقة الأخرى.
(٢) انتشار مصائد الأسماك على طول سواحل قارتي أمريكا الشمالية والجنوبية.

(١) أي العبارات الآتية صحيحة وأيها خطأ؟ مع ذكر السبب في الحالتين :

- (١) قارة آسيا أولى قارات العالم إنتاجًا للطاقة النووية.
(٢) توجد عدة عمليات تسبق عملية التعدين.
(٣) يتركز إنتاج النحاس في دولة شيلي بقارة أفريقيا.
(٤) دولة ألمانيا أولى دول العالم إنتاجًا لقصب السكر.

(ب) استخراج الكلمة المختلفة في المجموعتين الآتيتين. ثم اذكر السبب :

- (١) المطاط - الشاي - الجوت - البن.
(٢) التطور العلمي - رأس المال - المواد الخام - السياسات الحكومية.

(ج) قارن بين : الغابات في جمهورية نيجيريا، والغابات في ألمانيا الاتحادية.

ثانياً التاريخ

(١) صوب ما تحته خط في العبارات الآتية، ثم أعد كتابة العبارة كاملة في كراسة الإجابة :

- (١) قامت مصر ببناء حائط مدفعية على الضفة الغربية فيما بين عامي ١٩٦٩م و١٩٧٠م.
(٢) * ساهمت منظمة اليونسيف في إحياء مكتبة الإسكندرية.
(٣) استعادت مصر سيناء كاملة عام ١٩٨٢م ما عدا منطقة رفح.
(٤) * يعرف خط الدفاع الإسرائيلي على هضبة الجولان السورية باسم خط بارليف.
(٥) تم توقيع معاهدة السلام مارس ١٩٧٩م بين مصر وألمانيا.
(٦) الدستور يطلق على المجالس النيابية التي تتولى السلطة التشريعية.

(ب) ما النتائج التي ترتبت على ... ؟

- (١) هزيمة العرب في حرب فلسطين ١٩٤٨م.
(٢) * فشل العدوان الثلاثي على مصر أكتوبر ١٩٥٦م.
(٣) دستور ١٩٥٦م بالنسبة للمرأة في مصر.
(٤) معركة رأس العرش في مصر.

(١) من أكون ... ؟

- (١) أصدرت أول مجلة نسائية (الريحانة) فبراير ١٩٠٧م.
(٢) تم اختياري رئيساً لأركان حرب القوات المسلحة المصرية عام ١٩٧١م.



(٣) تخلّيت عن رئاسة مصر في ١١ فبراير ٢٠١١م.

(٤) قمت بتأسيس مجلس شورى النواب ديسمبر ١٨٦٦م.

(ب) دلل تاريخياً على صحة كل عبارة مما يأتي :

(١) معاهدة ١٩٣٦م لم تؤد إلى الاستقلال الحقيقي لمصر.

(٢) قام العرب بدور مهم في حرب أكتوبر ١٩٧٣م.

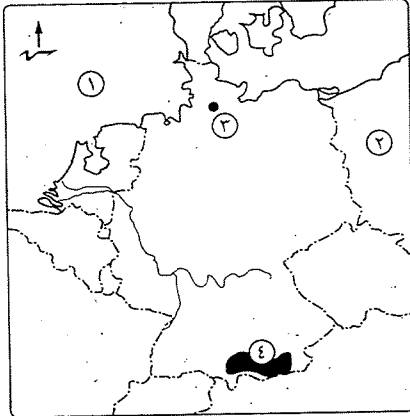
(ج) اختر : شخصية من زعماء ثورة ٢٣ يوليو ١٩٥٢م أعجبتك، ولماذا؟



مديرية التربية والتعليم

محافظة قنا

٢٠

أجب عن الأسئلة الآتية: أولاً الجغرافيا

(١) أمامك خريطة لدولة ألمانيا، اكتب مدلول

الأرقام الموقعة عليها :

(١) بحر (٢) دولة

(٢) ميناء مهم (٤) جبال

(ب) بم تفسر ... ؟

(١) صعوبة استخدام الآلات والميكنة

الزراعية في الزراعة الكثيفة.

(٢) قلة عدد العاملين بحرفة الرعي البدائي

في شبه الجزيرة العربية وبادية الشام.

(٢) توسع العالم في استخدام الغاز الطبيعي كبديل لمصادر الطاقة الأخرى.

(ج) صوب ما تحته خط في العبارات الآتية :

(١) يحد دولة نيجيريا من الجنوب المحيط الهندي.

(٢) دولة النرويج أولى دول العالم في إنتاج الأسماك.

(٣) أكبر الأقاليم الصناعية في العالم الجديد إقليم روسيا وأوكرانيا الصناعي.

(١) قارن بين كل مما يأتي :

(١) القمح، والذرة، من حيث أولى قارات العالم في الإنتاج.

(٢) مدينة لاجوس، ومدينة ميونخ، من حيث الشهرة.

(ب) اختر الإجابة الصحيحة مما بين القوسين :

- (١) معظم إنتاج الصين من اللحوم الحمراء يأتي من لحوم
- (الأبقار - الأغنام - الجاموس - الخنازير)
- (٢) من المقومات الطبيعية للصناعة توفر
- (المواد الخام - الأسواق - رأس المال - الأيدي العاملة الماهرة)
- (٣) * تعتبر دولة أولى دول قارة آسيا فى إنتاج المطاط.
- (تاييلاند - نيجيريا - السودان - المغرب)

(ج) اكتب ما تشير إليه كل عبارة من العبارات الآتية :

- (١) يعد الخام الرئيسى لمعدن الألومنيوم.
- (٢) المحصول الثانى لإنتاج السكر فى العالم.
- (٣) * تنتج من الأمواج وحركة المد والجزر فى بعض الدول المتقدمة.

التاريخ

(١) «مصر تناضل من أجل تحقيق السلام وتقوم بالثورات ضد الفساد والاستبداد».

فى ضوء العبارة وضح :

- (١) سبباً واحداً من أسباب ثورة ٢٥ يناير ٢٠١١م.
- (٢) أهم مطالب ثورة ٢٣ يوليو ١٩٥٢م من الملك فاروق.
- (٣) أسباب اندلاع حرب أكتوبر ١٩٧٣م.
- (٤) مزايا تحقيق السلام لمصر والوطن العربى. (يلقبائيه)

(ب) إلى من تنسب الأعمال الآتية ... ؟

- (١) أنشأ مجلس شورى النواب ١٨٦٦م.
- (٢) أول وزيرة للشئون الاجتماعية فى مصر.
- (٣) الرئيس الأمريكى الذى دعا إلى عقد مؤتمر كامب ديفيد.
- (٤) تولى القيادة العامة للموحدة للقوات المصرية السورية فى حرب أكتوبر ١٩٧٣م وحصل على وسام نجمة سيناء.

(ج) أيد صحة كل عبارة مما يأتى :

- (١) استطاعت ثورة ٢٣ يوليو ١٩٥٢م القضاء على الإقطاع.
- (٢) كان للعرب دوراً كبيراً فى دعم مصر أثناء حرب أكتوبر ١٩٧٣م.



(١) اكتب كلمة (صواب) أمام العبارة الصحيحة، وكلمة (خطأ) أمام العبارة غير الصحيحة، مع التصويب :

- (١) أثناء حرب الاستنزاف تدخلت روسيا فقدم وزير خارجيتها روجرز مبادرة لوقف إطلاق النار. ()
- (٢) حاصرت قوات الاحتلال البريطانى قصر عابدين لإجبار الملك فاروق على تعيين سعد زغلول رئيساً للحكومة. ()
- (٣) أثناء ثورة ٢٥ يناير ٢٠١١م شكل المجتمع المصرى بكل فئاته ما عرف باللجان الشعبية. ()
- (٤) من أسباب عدوان إسرائيل على العرب فى يونيه ١٩٦٧م إغلاق الخليج العربى فى وجه الملاحة الإسرائيلية. ()

(ب) ما النتائج التى ترقبت على ... ؟

- (١) عقد مؤتمر سان ريمو بإيطاليا. (٢) هزيمة العرب فى حرب فلسطين ١٩٤٨م.

(ج) رتب الأحداث الآتية من الأقدم إلى الأحدث :

- * ظهرت أول مجلة نسائية مصرية وهى الريحانة.
- * تسلم المستشار عدلى منصور سلطة الحكم فى البلاد.
- * إنشاء مجلس المشورة.
- * عقد مؤتمر مدريد للسلام.



مديرة التربية والتعليم

محافظة الأقصر

٢١

أجب عن الأسئلة الآتية: أولاً الجغرافيا

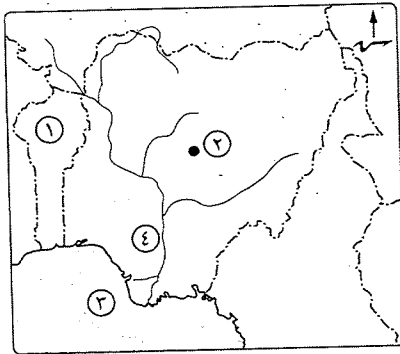
(١) أمامك خريطة لدولة نيجيريا اكتب

مدن الأرقام الموقعة عليها :

- (١) دولة (٢) مدينة
- (٣) خليج (٤) نهر

(ب) يم تفسر ... ؟

- (١) عدم زراعة قصب السكر بقارة أوروبا.
- (٢) توطن صناعة الألومنيوم بالدول المتقدمة.
- (٣) تعد المرتفعات الوسطى فى ألمانيا مناطق جذب للسياح.



(ج) حدد أولى دول العالم فى إنتاج كل من :

- (١) البترول. (٢) المطاط الطبيعي. (٣) النحاس.

(٢) اختر الإجابة الصحيحة مما بين القوسين :

- (١) يصعب استخدام الآلات والميكنة الزراعية فى المناطق الزراعية
 (البدائية - العلمية - الكثيفة - جميع ما سبق)
 (٢) من الدول الرئيسية المصدرة للأسماك (السعودية - الهند - النرويج - باكستان)
 (٣) تقع مراكز الصناعات الحديثة فى جنوب شرق آسيا بدولة
 (فنزويلا - الأرجنتين - ماليزيا - المكسيك)
 (٤) تصدر مصر إلى دولة ألمانيا
 (الصناعات الكيماوية - الآلات - الغاز الطبيعي - السيارات)
 (ب) قارن بين : الرعى البدائى، والرعى التجارى، من حيث :
 * المفهوم. * أماكن التركيز.

(ج) ما النتائج المترتبة على ... ؟

- (١) الوحدة الاقتصادية الأوروبية. (٢) وقوع ألمانيا فى نطاق مناخ غرب أوروبا (مناخياً).

ثانياً التاريخ

(٣) اختر الإجابة الصحيحة مما بين القوسين :

- (١) تم الدعوة لبدأ الأرض مقابل السلام فى مؤتمر
 (مدريد - أوصلو - سان ريمو - باندونج)
 (٢) أقرت نظام الانتداب بعد انتهاء الحرب العالمية الأولى.
 (بريطانيا - فرنسا - عصبة الأمم - الأمم المتحدة)
 (٣) أجبرت بريطانيا الملك فاروق على تعيين مصطفى النحاس رئيساً للحكومة بعد
 حصار (الإسكندرية - قصر عابدين - قصر رأس التين - بورسعيد)
 (٤) قدم مبادرة وقف إطلاق النار وحل النزاع العربى / الإسرائيلى سلمياً أثناء
 حرب الاستنزاف (روجرز - كارتر - بيجين - السادات)

(ب) وضح كل من :

(١) دور بريطانيا فى إنشاء وطن قومى لليهود فى فلسطين.

(٢) دور المرأة فى ثورة ١٩١٩م.

(ج) بم تفسر ... ؟ (١) تدهور الأوضاع الاقتصادية قبل ثورة ٢٥ يناير ٢٠١١م.

(٢) لمنظمات المجتمع المدنى دور فاعل فى المجتمع.

(٤) صوب ما تحته خط. وأعد كتابة العبارة صحيحة فى كراسة إجابتك :

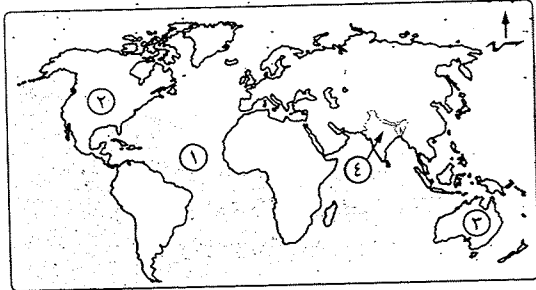
- (١) * استعادت مصر سيناء كاملة ١٩٨٢م ما عدا منطقة رفح.
 (٢) من شهداء حرب الاستنزاف الفريق سعد الدين الشاذلى.
 (٣) أصدر جمال عبدالناصر الدستور الدائم ١٩٧١م.
 (٤) أغلقت مصر خليج السويس فى مايو ١٩٦٧م أمام الملاحة الإسرائيلىة.
 (ب) اكتب المصطلح الذى تشير إليه كل عبارة من العبارات التالية :
 (١) مؤتمر دعا له الرئيس الأمريكى كارتر للتوصل إلى اتفاق للسلام بين مصر وإسرائيل.
 (٢) منطقة قدمت عنها الولايات المتحدة الأمريكية معلومات عسكرية لإسرائيل ساعدت
 على وجود ثغرة فى الجبهة المصرية.
 (٣) قانون صدر فى سبتمبر ١٩٥٢م يهدف إلى القضاء على الإقطاع.
 (٤) * اسم يطلق على المرحلة الأولى لإعادة بناء القوات المسلحة بعد هزيمة ٥ يونيو ١٩٦٧م.
 (ج) ما النتائج التى ترتبت على ... ؟
 (١) مساندة مصر لحركات التحرر الوطنى فى الجزائر.
 (٢) بناء حائط الصواريخ على الضفة الغربية للقناة أثناء حرب الاستنزاف.

محافظة أسوان

مديرية التربية والتعليم

أولاً الجغرافيا

أجب عن الأسئلة الآتية :



(١) أمامك خريطة للعالم

اكتب مدلول الأرقام :

(١) المحيط

(٢) أكبر القارات إنتاجاً

للزرة

(٣) أولى دول العالم إنتاجاً

للبيكسيت

(٤) أكبر دول العالم إنتاجاً

للألبان

(ب) صف المحصولين الآتيين حسب النوع الذى ينتميان إليه، موضحاً استخداماتهما :

(١) القطن. (٢) القمح.

(ج) اكتب ما تشير إليه كل عبارة من العبارات الآتية :

- (١) محصول يستخرج من عصارة الأشجار الاستوائية يُصنع منه إطارات السيارات.
 (٢) * مصدر طاقة رخيص الثمن وسهل النقل وأقل تلويثاً للبيئة ويستخدم في الأغراض المنزلية.
 (٣) نهر يجرى داخل نيجيريا ويُعتمد على مياهه في الري والزراعة.
 (٤) منطقة تُعد من أهم مناطق الجذب السياحي في ألمانيا.

(١) صوب ما تحته خط في العبارات الآتية :

- (١) تحتل أستراليا المركز الأول في أعداد الأغنام.
 (٢) من الأحياء البحرية الرخويات مثل الجمبري.
 (٣) يوجد الحديد في أفريقيا وآسيا فقط.
 (٤) يُستخدم البترول والفحم والغاز الطبيعي في إنتاج الكهرباء المائية.
 (٥) معظم الصناعات في دول الخليج العربي من الصناعات الكيماوية.

(ب) قارن بين : ألمانيا، ونيجيريا، من حيث :

* العاصمة. * ما تصدره مصر إلى كل منهما. (يُلَقَّبُ بالتيه).

(ج) أجب عن الأسئلة الآتية :

- (١) ما العلاقة بين : انتشار التعليم بين قبائل وسط آسيا، والرعى البدائي ؟
 (٢) بم تفسر : تنتشر مناطق الصيد على سواحل القارات ؟
 (٣) ماذا يحدث إذا : تحولت مصر من نظام الزراعة الكثيفة إلى الزراعة العلمية والتجارية ؟

ثانياً التاريخ

(١) اكتب كلمة (صواب) أمام العبارة الصحيحة، وكلمة (خطأ) أمام العبارة غير الصحيحة. مع التصويب :

- (١) أُلغيت ثورة ٢٣ يوليو ١٩٥٢ م دستور ١٩٢٣ م. ()
 (٢) أعطى مؤتمر سان ريمو ١٩٢٠ م لفرنسا حق الانتداب على فلسطين. ()
 (٣) * ساهمت التكنولوجيا المتطورة ووسائل الاتصال الحديثة في اندلاع ثورة ٢٥ يناير ٢٠١١ م. ()
 (٤) * تُعد منظمات المجتمع المدني عناصر فعالة في تقديم الخدمات الاجتماعية. ()

(ب) أيد بالأدلة التاريخية صحة ما يلي : (التيه بالتيه فقط)

- (١) لم تحقق معاهدة ١٩٢٦ م الاستقلال الحقيقي لمصر.
 (٢) كان لفشل العدوان الثلاثي على مصر عام ١٩٥٦ م العديد من الأسباب. (يُلَقَّبُ بالتيه)
 (٣) كان للدعم العربي أثره الفعال في حرب أكتوبر ١٩٧٣ م.

(ج) رتب الأحداث التاريخية الآتية من الأقدم إلى الأحدث :

- * تأميم قناة السويس.
 * تدمير المدمرة الإسرائيلية إيلات.
 * مؤتمر بانندونج.
 * إصدار وعد بلفور.

٤ (١) «خاض شعب مصر العظيم وجيشها الباسل العديد من الحروب والثورات من أجل

التخلص من الاحتلال والظلم والاستبداد والفساد يشتى صورته وأشكاله».

في ضوء العبارة وضح ما يلي :

- (١) إنجازات ثورة ٢٣ يوليو ١٩٥٢ م في مجال الصناعة.
 (٢) أسباب هزيمة الدول العربية في عدوان ٥ يونيو ١٩٦٧ م. (يُلَقَّبُ بالتيه)
 (٣) دور المرأة المصرية في العمل الوطني منذ عام ١٩٨١ م وحتى الآن. (يُلَقَّبُ بالتيه)

(ب) ما النتائج التي تترتب على ... ؟

(١) معركة رأس العرش. (٢) مؤتمر مدريد ١٩٩١ م.

(ج) ما رأيك في ... ؟ (١) قرار هيئة الأمم المتحدة بتقسيم فلسطين عام ١٩٤٧ م.

(٢) بنود معاهدة السلام المصرية الإسرائيلية في مارس ١٩٧٩ م.

٢٣ محافظة الوادي الجديد

مديرية التربية والتعليم

أجب عن الأسئلة الآتية : أولاً الجغرافيا

١ (١) أمامك خريطة للعالم

اكتب ما تشير إليه الأرقام :

(١) أولى قارات العالم في

إنتاج الغاز الطبيعي

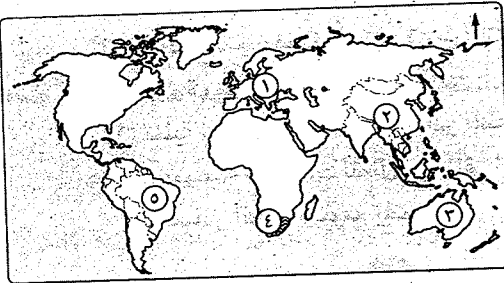
(٢) أولى دول العالم في

إنتاج الأسماك

(٣) أولى دول العالم في إنتاج خام البوكسيت

(٤) أحد المراكز الصناعية الحديثة في أفريقيا

(٥) أولى دول العالم في زراعة قصب السكر



- (ب) «تمثل الهند نموذج للدول النامية وألمانيا نموذج للدول المتقدمة في العالم وترتبط مصر معها بعلاقات طيبة في جميع المجالات». في ضوء العبارة أجب عما يأتي :
- (١) اذكر : نوع الغابات في كل من الهند وألمانيا.
 (٢) بيّن أوجه الشبه بين : الهند وألمانيا من حيث مناطق تركيز السكان.
 (٣) ما العلاقة بين : انتشار الحشائش بالسهل الساحلى الشمالى، والسكان فى ألمانيا ؟
 (٤) فى رأيك : كيف يمكن لمصر أن تستفيد من تجربة الهند لمواجهة المشكلة السكانية بها ؟

(١) اختر الإجابة الصحيحة مما بين القوسين :

- (١) تنتشر الزراعة الكثيفة فى المناطق
 (الحارة والمعتدلة - الحارة - المعتدلة - الباردة)
 (٢) تحتل دولة المركز الأول فى تربية الدواجن.
 (الصين - الولايات المتحدة الأمريكية - البرازيل - فرنسا)
 (٣) أولى دول العالم فى إنتاج البترول
 (الولايات المتحدة الأمريكية - الكويت - السعودية - روسيا)
 (٤) تمثل جزيرة اليابانية أحد المناطق الصناعية فى شرق آسيا.
 (كيوشو - جاوة - أندمان - هنتشو)

(ب) ما النتائج المترتبة على ... ؟

- (١) استخدام أحدث الآلات والطرق العلمية الحديثة فى الزراعة التجارية والعلمية.
 (٢) الوحدة الاقتصادية الأوروبية. (٣) افتقار الهند للبترول.
 (ج) اكتب المصطلح الجغرافى الذى تعبر عنه كل عبارة من العبارات الآتية :
- (١) تبات دائم الخضرة ويحتاج فى زراعته إلى تربة خصبة خفيفة ومناخ حار وأمطار غزيرة وموطنه الأصلي شرق آسيا.
 (٢) عملية استخراج المعادن ومصادر الطاقة من باطن الأرض أو بالقرب من السطح.
 (٣) مجموعة مقومات تتمثل فى توافر المواد الخام (زراعية - حيوانية - معدنية) ومصادر الطاقة والموقع المتميز.

ثانياً التاريخ

(١) اكتب كلمة (صواب) أمام العبارة الصحيحة، وكلمة (خطأ) أمام العبارة غير الصحيحة، مع التصويب :

- (١) استمرار الاجتلال البريطانى وفساد النظام الملكى فى مصر من عوامل قيام ثورة ٢٣ يوليو ١٩٥٢م. ()



- (٢) من نصوص قرار مجلس الأمن رقم ٢٤٢ انسحاب إسرائيل من الأراضى التى احتلتها عام ١٩٦٧م. ()
 (٣) وعد بلفور ١٩١٧م أعطى لبريطانيا حق الانتداب على فلسطين. ()
 (٤) شغل الفريق عبدالغنى الجمسى رئاسة أركان حرب القوات المسلحة المصرية فى ديسمبر ١٩٧٣م. ()
 (ب) يم تقسر ... ؟

- (١) موافقة الملك فاروق على مغادرة البلاد قبل الموعد الذى تم تحديده من ضباط ثورة ١٩٥٢م.
 (٢) إعلان مصر وقوفها إلى جانب سوريا بعد قيام إسرائيل بحشد قواتها على الحدود مع سوريا ١٩٦٧م.
 (٣) حدوث ثغرة فى منطقة الدفرسوار أثناء حرب ١٩٧٣م.
 (٤) مشاركة مصر بفاعلية فى مؤتمر مدريد للسلام ١٩٩١م.
 (٥) * أهمية منظمات المجتمع المدنى.

(١) أكمل ما يأتى :

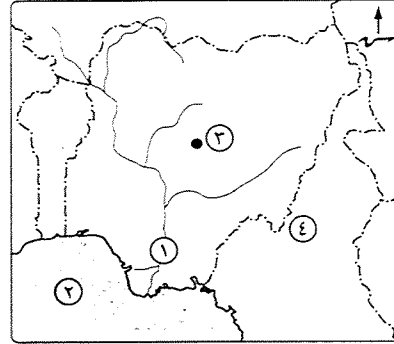
- (١) من أهداف ثورة ٢٣ يوليو ١٩٥٢م القضاء على وسيطرة رأس المال على الحكم وإقامة اجتماعية.
 (٢) تم تعيين السيدة كأول وزيرة للشئون الاجتماعية عام ١٩٦٢م.
 (ب) «سيقف التاريخ طويلاً أمام ثورة ٢٣ يوليو ١٩٥٢م فهى تعد بمثابة النبراس الذى أضاء الطريق أمام حركات التحرر فى المنطقة العربية بشكل خاص والعالم بشكل عام». فى ضوء ذلك أجب عما يأتى :
- (١) من أكون ... ؟

- (١) تم إذاعة البيان الأول لثورة ٢٣ يوليو ١٩٥٢م باسمى من دار الإذاعة المصرية.
 (٢) أحد الأعمدة الرئيسية التى اعتمد عليها الرئيس جمال عبدالناصر لإعادة بناء وتنظيم القوات المسلحة المصرية فى حرب الاستنزاف.

- (٢) ماذا كان يحدث إذا : لم يتم إنشاء السد العالى ؟
 (٣) دلل على صحة العبارة الآتية : أنهت حرب أكتوبر ١٩٧٣م نظرية الأمن الإسرائيلى.



أجب عن الأسئلة الآتية: أولاً الجغرافيا



١ (١) أمامك خريطة لدولة نيجيريا اكتب

مدلول الأرقام الموقعة عليها :

- (١) نهر (٢) خليج
(٣) مدينة (٤) دولة

(ب) ما المقصود بكل من ... ؟

- (١) الرعى البدائي.
(٢) النشاط التعديني.

(ج) قارن بين : الزراعة البسيطة، والزراعة الكثيفة، من حيث :

- * الخصائص. * أهم المحاصيل.

٢ (١) اكتب كلمة (صواب) أمام العبارة الصحيحة، وكلمة (خطأ) أمام العبارة غير الصحيحة. مع التصويب :

- (١) يزرع قصب السكر في كل قارات العالم. ()
(٢) تعتبر الولايات المتحدة الأمريكية أكبر دول العالم إنتاجاً للأسماك. ()
(٣) يتم إنتاج الكهرباء الحرارية من الفحم والبتروول والغاز الطبيعي. ()
(٤) كان الغاز الطبيعي المصدر الأول والرئيسي للطاقة المستخدمة حتى أوائل القرن العشرين. ()
(٥) يسود ألمانيا مناخ غرب أوروبا الممطر طول العام خاصة في الشمال. ()

(ب) ما النتائج المترتبة على ... ؟

- (١) تدفق البترول في شبه الجزيرة العربية بالنسبة لحرفة الرعى.
(٢) الوحدة الاقتصادية الأوروبية.

(ج) ما العلاقة بين : خام البوكسيت، وصناعة الألمنيوم ؟

(د) دلل على صحة هذه العبارة : ترتبط مصر وألمانيا بعلاقات ثقافية وعلمية.

ثانياً التاريخ

٢ (١) اختر الإجابة الصحيحة مما بين القوسين :

- (١) * قرر مؤتمر سان ريمو ١٩٢٠م وضع فلسطين تحت انتداب
(الولايات المتحدة الأمريكية - بريطانيا - فرنسا - ألمانيا)
(٢) رئيس أركان حرب القوات المسلحة واستشهد في حرب الاستنزاف
(عبد المنعم رياض - أحمد إسماعيل - سعد الدين الشاذلي - محمد عبدالغني الجمسي)
(٢) تقلدت المناصب الوزارية وكانت أول وزيرة للشئون الاجتماعية عام ١٩٦٢م
(أمال عثمان - هدى شعراوي - حكمت أبو زيد - عائشة راتب)

(ب) بم تقسر ... ؟

- (١) فشل العدوان الثلاثي على مصر عام ١٩٥٦م.
(٢) تدهور أوضاع مصر الاقتصادية قبل ثورة ٢٥ يناير ٢٠١١م.
(٢) * إنشاء جامعة الدول العربية عام ١٩٤٥م.

(ج) وضح العلاقة بين : حرب فلسطين، وثورة ٢٣ يوليو ١٩٥٢م.

٤ (١) لمن تنسب الأعمال الآتية ... ؟

(١) * أصبح مسيطراً على جميع قطاعات الجيش المصري بموجب البيان الأول لثورة ٢٣ يوليو ١٩٥٢م.

- (٢) رئيس المحكمة الدستورية الذي تسلم السلطة في مصر عام ٢٠١٣م.
(٢) أصدرت أول مجلة نسائية مصرية وهي الريحانة عام ١٩٠٧م.

(ب) دلل تاريخياً على صحة كل عبارة من العبارات الآتية :

- (١) اهتمت ثورة ٢٣ يوليو ١٩٥٢م بتطوير الصناعة المصرية.
(٢) كان للدور العربي أثر كبير في انتصار حرب أكتوبر ١٩٧٣م.
(٢) تحقيق السلام وإنهاء الصراع العربي / الإسرائيلي يحقق مزايا عديدة للوطن العربي.

(ج) ماذا كان يحدث إذا : التزمت إسرائيل بتنفيذ قرار مجلس الأمن رقم (٢٤٢) ؟



(ب) «الولايات المتحدة الأمريكية هي القوة الاقتصادية الأولى في العالم وأول الدول الصناعية

السبع». في ضوء العبارة أجب عما يأتي :

- (١) ما المقومات الطبيعية التي يمكن أن تساهم في قيام التنمية الصناعية في العالم ؟
- (٢) اذكر أهم المناطق الصناعية الرئيسية بالولايات المتحدة الأمريكية.
- (٣) اذكر الصناعات القائمة على محصول القمح.
- (٤) وضح العلاقات المصرية الأمريكية في المجال التجاري.

ثانياً التاريخ

٢ (أ) إلى من تنسب الأعمال الآتية ... ؟

- (١) أشار على «الخدوي إسماعيل» بإنشاء أول مدرسة لتعليم البنات.
- (٢) قدم مبادرة تحمل اسمه لوقف إطلاق النار أثناء حرب الاستنزاف ١٩٦٩م - ١٩٧٠م.
- (٣) شارك القيادة العسكرية في تطوير القوات المسلحة وفي وضع خطة لعبور قناة السويس وتحطيم خط بارليف وقام بتنفيذها في حرب أكتوبر ١٩٧٣م.
- (٤) شغلت منصب أول وزيرة للشئون الاجتماعية عام ١٩٦٢م.
- (٥) تنازل عن العرش لابنه الصغير «أحمد فؤاد الثاني».
- (٦) أصدرت حكم بأحقية مصر في طابا سبتمبر ١٩٨٨م.

(ب) يم تضرر ... ؟

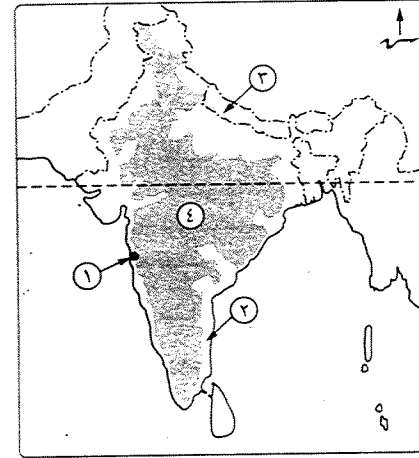
- (١) إنشاء السد العالي عام ١٩٧١م.
- (٢) سوء الأحوال الاجتماعية في مصر قبل ثورة ٢٣ يوليو ١٩٥٢م.
- (٣) لفلسطين أهمية خاصة في قلب كل عربي.
- (٤) * لمنظمات المجتمع المدني دور فاعل في المجتمع.

٤ (أ) اكتب كلمة (صواب) أمام العبارة الصحيحة، وكلمة (خطأ) أمام العبارة غير الصحيحة، مع التصويب :

- (١) عُين اللواء «محمد نجيب» أول رئيس لجمهورية مصر العربية بعد ثورة ١٩٥٢م. ()
- (٢) قبلت مصر بتنفيذ قرار مجلس الأمن رقم ٢٤٢ وامتنعت إسرائيل عن تنفيذه ولم تنسحب من الأراضي التي احتلتها في عام ١٩٦٧م. ()
- (٣) أعطى مؤتمر «سان ريمو» بإيطاليا ١٩٢٠م لبريطانيا حق الانتداب على سوريا. ()
- (٤) الفريق أول «عبد المنعم رياض» أحد أبطال العسكرية المصرية الذين استشهدوا في حرب الاستنزاف. ()



أجب عن الأسئلة الآتية: أولاً الجغرافيا



١ (أ) أمامك خريطة لجمهورية الهند.

اكتب مدلول الأرقام التالية :

- (١) مدينة (٢) سهول
(٣) دولة (٤) هضبة

(ب) أيد بالأدلة صحة العبارتين الآتيتين :

(١) صناعة الألمنيوم تحتاج لعدة مقومات لقيامها.

(٢) هناك عمليات تسبق عملية التعدين.

(ج) * وضح : سبب قلة التكاليف وقلة العمالة في الزراعة التجارية والعلمية.

٢ (أ) اختر الإجابة الصحيحة مما بين القوسين :

- (١) تحتل دولة المركز الأول عالمياً في إنتاج وتربية الدواجن.
(مصر - الولايات المتحدة الأمريكية - الصين - المغرب)
- (٢) من العوامل البشرية التي تساعد على تطور حرفة الصيد
(ضحالة المياه الساحلية - توافر الخبرات الفنية والعلمية - التقاء التيارات البحرية الدافئة مع الباردة - توافر الموانئ)
- (٣) تقوم صناعة الأسلاك على معدن
(الفوسفات - البوكسيت - النحاس - التنجستين)
- (٤) من المراكز الصناعية في إقليم شرق آسيا الصناعي
(ألمانيا - كوريا - الفلبين - موسكو)
- (٥) يعد أهم مصادر الطاقة لإرتباطه بالتنمية الاقتصادية والاجتماعية
والعلاقات السياسية بين الدول. (الرياح - البترول - الغاز الطبيعي - الفحم)
- (٦) تُمارس حرفة في مناطق الحشائش بقارات العالم وتعتمد على أحدث الأساليب العلمية.
(الرعي البدائي - الزراعة البدائية - الرعي التجاري - الصيد)

(ب) «من أجل الكرامة المصرية والعربية خاضت مصر العديد من الحروب ضد إسرائيل».

في ضوء العبارة وضح :

(١) أسباب هزيمة الدول العربية في عدوان ٥ يونيو ١٩٦٧م.

(٢) نتائج فشل العدوان الثلاثي على مصر ١٩٥٦م.

(ج) أكمل العبارات الآتية بكلمة مناسبة :

(١) الوثيقة الرسمية التي تحدد نظام الحكم في الدولة واختصاصات المؤسسات

الدستورية هو

(٢) أعطى الرئيس إشارة بدء حرب السادس من أكتوبر ١٩٧٣م.

(٣) تم توقيع معاهدة السلام بين مصر وإسرائيل عام ١٩٧٩م بمشاركة ورعاية

(٤) نجحت القوات المصرية في هزيمة القوات الإسرائيلية عندما حاولت احتلال مدينة

بورفؤاد في معركة



أجب عن الأسئلة الآتية: أول الجغرافيا

(١) أمامك خريطة لجمهورية الهند،

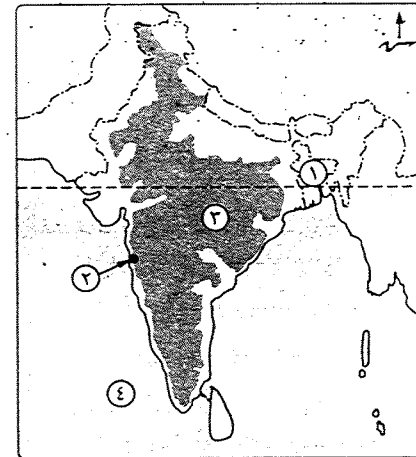
اكتب ما تشير إليه الأرقام :

(١) دولة

(٢) العاصمة التجارية

(٣) هضبة

(٤) المحيط



(ب) اختر الإجابة الصحيحة مما بين القوسين :

(١) أكبر الدول المنتجة للبنجر في أفريقيا (المغرب - تونس - مصر - الجزائر)

(٢) أهم الدول المنتجة لأصواف المارينو

(الهند - أستراليا - الولايات المتحدة الأمريكية - البرازيل)

(٣) يعد الخام الرئيسي لإنتاج معدن الألومنيوم

(الزنك - الرصاص - القصدير - البوكسيت)

(٤) توجد أعلى القمم الجبلية بألمانيا في

(جبال الفوج - جبال الألب - المرتفعات الوسطى - جبال البرانس)

(ج) يم تفسر ... ؟

(١) انكماش الحشائش بالسهل الساحلي في ألمانيا.

(٢) * أهمية البترول كمصدر من مصادر الطاقة.

(٢) (أ) صوب ما تحته خط في العبارات الآتية :

(١) أولى قارات العالم إنتاجاً للقمح قارة أوروبا.

(٢) يمارس الرعي البدائي بأفريقيا في صحارى جنوب القارة.

(٣) يأتي حوالى نصف الإنتاج السمكى فى العالم من المياه العذبة.

(٤) * يزرع قصب السكر فى المناطق المعتدلة الباردة.

(ب) أعط مصطلحاً جغرافياً لكل عبارة مما يأتى :

(١) أحد أنواع الزراعة التي يعمل بها عدد قليل من السكان فى مناطق صغيرة ومعزولة.

(٢) عملية استخراج المعادن ومصادر الطاقة من فحم وبترول وغاز طبيعى من باطن الأرض.

(٣) أحد مصادر الطاقة التي تنتج من الأمواج والمد والجزر والرياح فى الدول المتقدمة.

(٤) عدة عوامل تلعب دوراً كبيراً فى قيام الصناعة وازدهارها وتعتمد على العمالة

والسوق ورأس المال.

(ج) اكتب ما تعرفه عن : العلاقات المصرية الألمانية.

التاريخ

(١) اكتب كلمة (صواب) أمام العبارة الصحيحة، وكلمة (خطأ) أمام العبارة غير الصحيحة، مع التصويب :

- (١) أدى توقيع معاهدة ١٩٣٦م إلى جعل مصر ميداناً لمعارك الحرب العالمية الأولى. ()
- (٢) تحطمت أسطورة الجيش الإسرائيلي الذي لا يقهر في حرب أكتوبر ١٩٧٣م. ()
- (٣) عادت طابا إلى السيادة المصرية في عهد الرئيس محمد أنور السادات. ()
- (٤) صدر دستور ١٩٢٣م في عهد الاحتلال البريطاني. ()

(ب) من قام بكل عمل من الأعمال الآتية ...؟

- (١) * قاد ثورة ١٩٣٦م في فلسطين.
- (٢) تولى القيادة العامة للموحدة للقوات المصرية والسورية في حرب أكتوبر ١٩٧٣م.
- (٣) تسلم إدارة شؤون البلاد في فبراير ٢٠١١م بعد تخلي الرئيس مبارك عن الرئاسة.

(ج) اذكر سبباً واحداً لكل من :

- (١) اندلاع حرب أكتوبر ١٩٧٣م.
- (٢) سوء الأوضاع الاجتماعية قبل ثورة ٢٥ يناير ٢٠١١م.
- (٣) * صدور الدستور الدائم عام ١٩٧١م.

(١) أكمل العبارات الآتية بكلمات مناسبة :

- (١) قانون الإصلاح الزراعي الأول من أهم إنجازات ثورة يوليو ١٩٥٢م في المجال
- (٢) ساندت مصر حركات التحرر الوطني في الجزائر ضد الاستعمار
- (٣) يعرف خط الدفاع الإسرائيلي على هضبة الجولان بخط
- (٤) تشكلت لجنة الوفد المركزية للسيدات عام ١٩٢٠م برئاسة

(ب) قارن بين : مؤتمر سان ريمو ١٩٢٠م، ومؤتمر كامب ديفيد ١٩٧٨م، من حيث النتائج.

(ج) «تعتبر ثورة ٢٣ يوليو ١٩٥٢م حلقة من حلقات النضال الطويل الممتد لشعب مصر».

في ضوء العبارة وضح :

- (١) أهم إنجازات ثورة ٢٣ يوليو ١٩٥٢م في مجال الصناعة. (يلتق بالله)
- (٢) ماذا كان يحدث إذا : قبلت إسرائيل تنفيذ قرار مجلس الأمن رقم ٢٤٢ في نوفمبر ١٩٦٧م. (يلتق بالله)

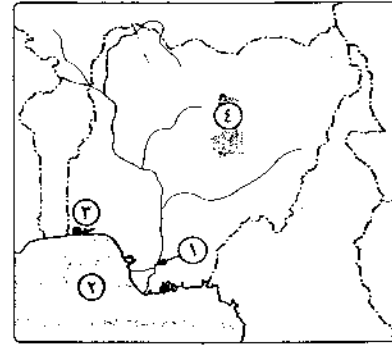
١ محافظة القاهرة

مدينة تربية والتعليم

مجاب عنه

أولاً الجغرافيا

أجب عن الأسئلة الآتية:



(١) أمامك خريطة لدولة نيجيريا،

اكتب مدلول الأرقام التي عليها ،

(١) دلتا نهر

(٢) خليج

(٣) العاصمة القديمة

(٤) هضبة

(ب) اختر الإجابة الصحيحة مما بين القوسين :

(١) أولى دول العالم إنتاجاً للمطاط الطبيعي

(الصين - الهند - البرازيل - تايلاند)

(٢) أكبر الأقاليم الصناعية في العالم الجديد إقليم

(غرب ووسط أوروبا - شمال شرق الولايات المتحدة - روسيا وأوكرانيا - شرق آسيا)

(٣) تصدر مصر للبرازيل

(٤) عاصمة إقليم بافاريا بألمانيا مدينة

(هامبورج - برلين - ميونخ - بون)

(ج) «تمثل الأسماك غذاءً رئيسياً لكثير من سكان العالم». في ضوء هذه العبارة وضع :

(١) العوامل الطبيعية والبشرية التي تساعد في تطور حرفة الصيد.

(٢) أهم الدول المصدرة للأسماك.

(د) قارن بين : الهند، وألمانيا من حيث علاقة كل منهما بمصر.

(٢) (١) حدد الدول الأولى عالمياً في إنتاج كل من :

(١) قصب السكر. (٢) * القمح. (٣) الألومنيوم. (٤) البترول.

(ب) يم تقصر ... ؟

(١) قلة عدد العاملين بحرفة الرعي البدائي في صحراء شبه الجزيرة العربية وبداية الشام.

(٢) * أهمية معدن النحاس.

(٣) توسع العالم في استخدام الغاز الطبيعي كبديل لمصادر الطاقة الأخرى.

(٤) تعاني البرازيل من قلة عدد السكان.

(٢) (١) اكتب كلمة (صح) أمام العبارة الصحيحة، وكلمة (خطأ) أمام العبارة غير الصحيحة.

مع تصويب الخطأ :

(١) من إنجازات ثورة ٢٣ يوليو ١٩٥٢م في المجال العربي تحقيق أول وحدة

() عربية بين مصر والسودان عام ١٩٥٨م.

(٢) استشهد الفريق أول عبدالمنعم رياض رئيس أركان حرب القوات المسلحة

() أثناء حرب أكتوبر عام ١٩٧٣م.

(٣) يعتبر من مزايا إنهاء الصراع العربي الإسرائيلي دفع عجلة التنمية

() في الدول العربية.

(٤) أنشأ محمد علي عدة مجالس استشارية لا سلطة لها.

()

(ب) ماذا كان يحدث إذا لم ... ؟

(١) تقم ثورة ٢٣ يوليو ١٩٥٢م بإنجاز مشروع السد العالي.

(٢) يتعاون الجيش مع الشعب أثناء ثورة ٢٥ يناير ٢٠١١م.

(ج) اكتب ما تعبر عنه كل عبارة من العبارات الآتية :

(١) قانون أصدرته ثورة ٢٣ يوليو وبمقتضاه تم تحديد الملكية الزراعية في سبتمبر ١٩٥٢م.

(٢) مؤتمر دعا إليه كلاً من الولايات المتحدة والاتحاد السوفيتي مؤكداً مبدأ الأرض

مقابل السلام.

(٣) منظمة عالمية متخصصة في المجال الصحي أنشئت عام ١٩٤٨م ومقرها جنيف بسويسرا.

(٤) (١) إلى من تنسب الأعمال الآتية ... ؟

(١) تولى القيادة العامة للموحدة للقوات المصرية السورية في حرب أكتوبر عام ١٩٧٣م.

(٢) رئيس المحكمة الدستورية العليا الذي تسلم السلطة في مصر بعد ثورة ٢٠ يونيو

٢٠١٣م لحين إجراء انتخابات رئاسية مبكرة.

(٣) أنشأ مجلس شوري النواب عام ١٨٦٦م.

(٤) ترأست لجنة الوفد المركزية للسيدات عام ١٩٢٠م.

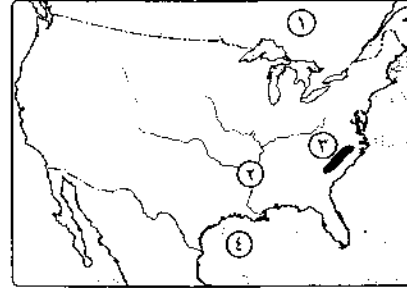
(ب) ما النتائج التي ترقبت على ... ؟

(١) هزيمة الجيوش العربية في حزب فلسطين عام ١٩٤٨م.

(٢) تطور التكنولوجيا ووسائل الاتصال ومواقع التواصل الاجتماعي مثل (الفيس بوك)

على تاريخ مصر حديثاً.

(٣) تعاون منظمة اليونسكو مع مصر.



١ (١) أمامك خريطة لدولة الولايات

المتحدة، اكتب في كراسة الإجابة

مدلول الأرقام الموقعة عليها:

(١) دولة (٢) نهر

(٣) مرتفعات (٤) خليج

(ب) صوب ما تحته خط في العبارات التالية :

(١) يُعد قصب السكر من المحاصيل الأساسية لإنتاج السكر ويزرع في المناطق المعتدلة.

(٢) * تنتشر الزراعة الكثيفة على هوامش الغابات الاستوائية.

(٣) تعد قارة أوروبا ثاني قارات العالم إنتاجاً للطاقة النووية.

(٤) يمثل سكان جمهورية البرازيل ثلث عدد سكان قارة أمريكا الجنوبية.

(ج) في أي الدول توجد المدن الآتية ... وما شهرتها ؟

(١) نيودلهي. (٢) ريودي جانيرو. (٣) لاجوس. (٤) نيويورك.

٢ (١) اكتب ما تشير إليه كل عبارة من العبارات التالية :

(١) تتم في مزارع واسعة وتستخدم أحدث الآلات الزراعية والطرق العلمية الحديثة.

(٢) مصدر طاقة يستخرج من باطن الأرض وتعد الصين أولى دول العالم إنتاجاً له.

(٣) أكبر الأقاليم الصناعية في العالم الجديد وقد تطورت الصناعة فيه بسبب توفر مقومات الصناعة.

(٤) * من أكبر الأقاليم التضاريسية بألمانيا وهو جزء من السهل الأوروبي العظيم.

(ب) بهم تفسر ... ؟ (١) ارتباط صناعة الألمنيوم بالدول المتقدمة.

(٢) تفوق الهند في صناعة الحديد والصلب.

(٣) يقل عدد السكان في دلتا النيجر.

(٤) تقدم الصناعة في ألمانيا بعد الحرب العالمية الثانية.

(ج) قارن بين : * القطن، والمطاط الطبيعي من حيث :

* أهم الدول المنتجة. * الأهمية الاقتصادية.

٢ (١) اختر الإجابة الصحيحة مما بين القوسين :

(١) الاهتمام بالتعليم الصناعي من إنجازات ثورة يوليو ١٩٥٢م
(السياسية - الثقافية - الاجتماعية - الاقتصادية)

(٢) امتنعت عن التصويت على قرار تقسيم فلسطين عام ١٩٤٧م
(فرنسا - الولايات المتحدة - بريطانيا - الاتحاد السوفيتي)

(٣) تميزت الفترة من ١٩٢٣م إلى ١٩٥٢م بالصراعات وحدث تصادم بين القصر
(الأمة - الوفد - الإصلاح - الأحرار الدستوريين)
وحزب

(٤) عُينت أول قاضية مصرية عام ٢٠٠٢م بالمحكمة الدستورية العليا.

(تهاى الجبالي - عائشة راتب - أمال عثمان - حكمت أبو زيد)

(ب) لمن تنسب الأعمال الآتية ... ؟

(١) تولى القيادة العامة للموحدة للقوات المصرية السورية في حرب أكتوبر ١٩٧٣م.

(٢) يادر بزيارة إسرائيل من أجل السلام عام ١٩٧٧م.

(٣) استجاب لدعوة رفاة الطهطاوى وأنشأ أول مدرسة لتعليم البنات عام ١٨٧٣م.

(٤) المسئول عن حفظ السلام والأمن الدوليين وسلطته قانونية على حكومات الدول الأعضاء.

(ج) ما النتائج التي ترقبت على ... ؟

(١) عقد مؤتمر سان ريمو في أبريل ١٩٢٠م.

(٢) * حرب فلسطين عام ١٩٤٨م.

٤ (١) اكتب كلمة (صح) أمام العبارة الصحيحة، وكلمة (خطأ) أمام العبارة غير الصحيحة :

(١) * أصبح اللواء محمد نجيب أول رئيس لجمهورية مصر العربية بعد إلغاء الملكية. ()

(٢) * من أسباب العدوان الثلاثي على مصر تأمين قناة السويس. ()

(٣) السلطة التشريعية تتكون من مؤسسة الرئاسة ويرأسها رئيس الجمهورية. ()

(٤) قام حزب الإصلاح على المبادئ الدستورية برئاسة الشيخ على يوسف. ()

(ب) ما المقصود بكل من ... ؟ (١) عدم الانحياز. (٢) الحياة النيابية.

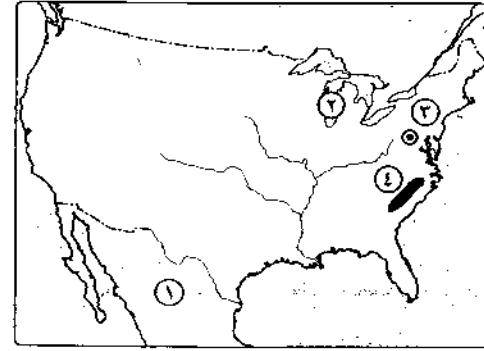
(ج) رتب الأحداث التاريخية الآتية من الأقدم إلى الأحدث :

* خروج آخر جندي بريطاني من فلسطين.

* أقامت الولايات المتحدة جسراً جويًا لتقديم المساعدات العسكرية لإسرائيل.

* استعادت مصر طابا وعادت للسيادة المصرية.

* تشكيل لجنة الوفد المركزية للسيدات وانتخاب هدى شعراوي رئيسًا لها.



أجب عن الأسئلة الآتية:

- (١) أمامك خريطة للولايات المتحدة الأمريكية، اكتب ما تدل عليه الأرقام:
- (١) دولة
- (٢) بحيرة
- (٣) العاصمة
- (٤) جبال

(ب) ما النتائج المترتبة على ... ؟

- (١) معرفة الإنسان الزراعة منذ أقدم العصور.
- (٢) انتشار التعليم بين قبائل وسط آسيا.
- (٣) الوحدة الاقتصادية الأوروبية.

(ج) في أي الدول تقع المدن الآتية ... ؟ وما شهرتها ؟

- (١) ريودي چانيرو. (٢) نيودلهي. (٣) إيبادان.

(١) صوب ما تحته خط:

- (١) تعد دولة بنجلاديش أولى دول العالم في إنتاج المطاط.
- (٢) تساهم الأغنام بنسبة كبيرة في التجارة الدولية للثروة الحيوانية.
- (٣) * الموطن الأصلي لحصول الشاي غرب أفريقيا.
- (٤) من الأحياء البحرية الرخويات مثل الجمبري.
- (٥) يجري سهل نهر الجانج في جنوب الهند.

(ب) قارن في جدول بين:

- (١) * الغاز الطبيعي، و**البترو**ل من حيث: * الأهمية. * أولى الدول المنتجة.
- (٢) علاقة مصر الاقتصادية بكل من نيجيريا، و**ألمانيا**.

(ج) ماذا يحدث إذا: لم تنتشر الديانة الهندوسية في الهند (بالنسبة لإنتاج اللحوم) ؟

ثانياً التاريخ

(١) اختر الإجابة الصحيحة مما بين القوسين:

- (١) سيطر على جميع قطاعات الجيش المصري بعد إذاعة البيان الأول لثورة ٢٣ يوليو ١٩٥٢م.
- (جمال عبدالناصر - أنور السادات - محمد نجيب - أحمد عبدالعزيز)
- (٢) * تحققت أول تجربة للوحدة العربية بين مصر و عام ١٩٥٨م.
- (سوريا - السودان - اليمن - العراق)
- (٣) قاد خطة الخداع لصرف أنظار إسرائيل عن التجهيزات الهجومية في حرب ١٩٧٣م.
- (عبدالمعز رياض - أحمد إسماعيل - سعد الدين الشاذلي - عبدالغنى الجمسي)
- (٤) أكدت الأحداث أن قوة مساندة للشعب في ثورة ٢٥ يناير ٢٠١١م.
- (الجيش - الشرطة - الإعلام - جميع ما سبق)

(ب) بم تفسر ... ؟ (١) العدوان الثلاثي على مصر ١٩٥٦م.

(٢) * اندلاع حرب أكتوبر المجيدة عام ١٩٧٣م.

(٣) إنشاء مجلس الوصاية كأحد أجهزة الأمم المتحدة.

(ج) اذكر أهم قرارات مجلس الأمن:

- (١) رقم ٢٤٢ عام ١٩٦٧م. (٢) رقم ٢٣٨ عام ١٩٧٣م.

(١) اكتب كلمة (صح) أمام العبارة الصحيحة، وكلمة (خطأ) أمام العبارة غير الصحيحة:

- (١) أعطى مؤتمر جنيف في أبريل ١٩٢٠م لبريطانيا حق الانتداب على فلسطين. ()
- (٢) نجحت مصر في بناء حائط الصواريخ على الضفة الشرقية لقناة السويس أثناء حرب الاستنزاف. ()
- (٣) قامت مصر بإغلاق خليج السويس أمام الملاحة الإسرائيلية عام ١٩٦٧م. ()
- (٤) المجلس العالي الذي أنشئ عام ١٨٣٤م يماثل الآن مجلس الوزراء. ()
- (٥) تشكلت لجنة الوفد المركزية للسيدات عام ١٩٢٠م برئاسة هدى شعراوي. ()

(ب) دلل على صحة كل عبارة مما يأتي:

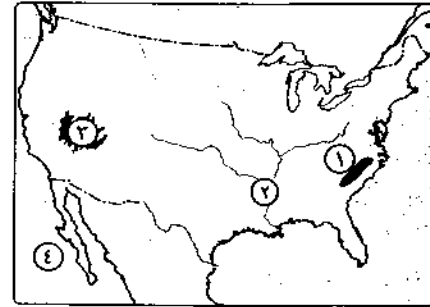
- (١) للسلام مزايا متعددة على وطننا العربي.
- (٢) لمنظمة اليونسكو دور ثقافي رائد في مصر.

(ج) اكتب ما تعبير عنه كل عبارة من العبارات الآتية:

- (١) معاهدة جعلت مصر ميدان الحرب العالمية الثانية واستنزاف موارد مصر.
- (٢) أول مدرسة لتعليم البنات عام ١٨٧٣م.
- (٣) أعلى سلطة داخل جامعة الدول العربية.

٤ محافظة القليوبية

اجب عن الأسئلة الآتية : **أولاً الجغرافيا**



- ١ (1) أمامك خريطة لدولة الولايات المتحدة الأمريكية، اكتب في كراسة إجابتك مدلول الأرقام الموقعة عليها :
- (1) جبال (2) نهر
 (3) هضبة (4) المحيط
 (ب) ما المقصود بـ ... ؟
 (1) الزراعة الكثيفة. (2) الغاز الطبيعي.
- (ج) بم تفسر ... ؟

- (1) تركز زراعة وإنتاج البنجر في دول أوروبا وأمريكا الشمالية.
 (2) العوامل الطبيعية والبشرية التي تساعد على تطور حرفة صيد الأسماك على سواحل القارات.
 (3) توجد بالهند ثروة حيوانية ضخمة.
 (4) تعاني البرازيل من قلة عدد السكان رغم أنها أكثر دول أمريكا الجنوبية سكاناً.

٢ (1) اختر الإجابة الصحيحة مما بين القوسين، ثم اكتب العبارة كاملة في كراسة إجابتك :

- (1) تأتي قارة أمريكا الشمالية في المرتبة إنتاجاً للذرة.
 (الأولى - الثانية - الثالثة - الرابعة)
 (2) * تعتبر دولة أكبر دول العالم إنتاجاً للشاي.
 (البرازيل - الصين - الولايات المتحدة الأمريكية - روسيا)
 (3) يُعد الخام الرئيسي لمعدن الألومنيوم.
 (المنجنيز - البوكسيت - القصدير - الفوسفات)
 (4) أكبر الأقاليم الصناعية في العالم الجديد إقليم
 (روسيا وأكرانيا - شرق آسيا - غرب ووسط أوروبا - شمال شرق الولايات المتحدة)
 (ب) قارن بين :

- (1) البترول، والغاز الطبيعي من حيث : * التكوين. * أهم الدول المنتجة.
 (2) الهند، ونيجييريا من حيث : * الثروة المعدنية. * مصادر الطاقة.

(ج) صوب ما تحته خط :

- (1) تُعد الهند أكبر دول العالم إنتاجاً للسكر.
 (2) فحم اللجنيت هو أجود الأنواع الثلاثة وأقلها وجوداً في الطبيعة.
 (3) برلين أهم موانئ ألمانيا وهي قريبة من بحر الشمال.

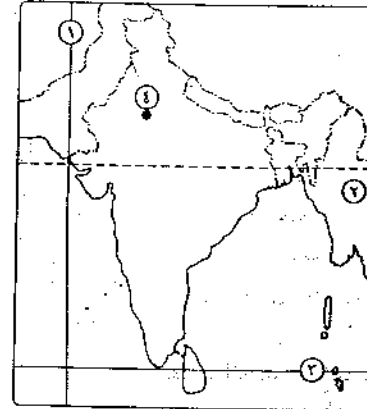
ثانياً التاريخ

- ٣ (1) اكتب كلمة (صح) أمام العبارة الصحيحة، وكلمة (خطأ) أمام العبارة غير الصحيحة، مع التصويب :
- (1) وافق الملك فاروق على مغادرة البلاد قبل الموعد المحدد له. ()
 (2) سعت الولايات المتحدة الأمريكية لتأييد فكرة إنشاء وطن قومي لليهود في فلسطين وأصدرت وعد بلفور. ()
 (3) * تم رفع العلم المصري فوق سيناء بعد استعادتها كاملة بعد توقيع معاهدة السلام فيما عدا منطقة طابا. ()
 (4) أصدرت هدى شعراوى أول مجلة نسائية في مصر عام ١٩٠٧م. ()
- (ب) برهن تاريخياً على صحة كل عبارة مما يأتي :
- (1) شهدت الحياة النيابية تطوراً كبيراً بعد قيام ثورة ٢٣ يوليو ١٩٥٢م.
 (2) تميزت الفترة من ١٩٨١م وحتى الآن تغيرات جوهرية ملموسة للنهوض بالمرأة.
 (3) لمصر نور مهم في منظمة الاتحاد الأفريقي.
 (4) الأمم المتحدة منظمة لها أهداف عالمية.
- (ج) ماذا كان يحدث إذا ... ؟ (1) استجابت إسرائيل لقرار مجلس الأمن رقم ٢٤٢ (2) لم يكن هناك تعاون بين منظمة اليونسكو ومصر.

٤ (1) ولقد كانت لثورات الشعب المصري على مر التاريخ دوراً كبيراً في تغيير أوضاعه.

- في ضوء هذه العبارة وضح :
- (1) * كيف استطاعت ثورة ٢٣ يوليو ١٩٥٢م أن تحقق إنجازات اجتماعية.
 (2) أسباب تدهور الأوضاع الاقتصادية في مصر قبل ثورة ٢٥ يناير ٢٠١١م.
 (3) النتائج التي ترتبت على ثورة الشعب في ٣٠ يونيو ٢٠١٢م.
 (4) رأيك في موقف الجيش المصري أثناء ثورة ٢٥ يناير ٢٠١١م.
- (ب) لمن تنسب الأعمال الآتية ... ؟
- (1) مفتى القدس الذي قاد اللجنة العربية عام ١٩٣٦م.
 (2) تولى القيادة العامة للوحدات للقوات المصرية السورية في حرب أكتوبر ١٩٧٣م.
 (3) حل المنازعات الدولية بالتحكيم وتقديم الاستشارات القانونية.
 (4) أول وزيرة للشئون الاجتماعية عام ١٩٦٢م.
- (ج) قارن بين : حرب ١٩٤٨م، وحرب ٥ يونيو ١٩٦٧م من حيث الأسباب.

اولاً الجغرافيا



اجب عن الأسئلة الآتية:

١) أمامك خريطة لدولة الهند، اكتب في كراسة

اجابتك مدلول الأرقام الموقعة عليها:

(١) خط طول (٢) دولة

(٣) دائرة عرض (٤) مدينة

(ب) دلل جغرافياً على صحة العبارات التالية:

(١) يصعب استخدام الآلات والميكنة

الزراعية في الزراعة الكثيفة.

(٢) * تنوع المناخ في نيجيريا.

(٣) تأثير الموقع الفلكي على المناخ في البرازيل.

(٤) لتطويع حرفة إنتاج الأسماك لا بد من توافر عوامل طبيعية وبشرية.

(٥) وجود علاقات ثقافية وعلمية بين مصر وألمانيا الاتحادية.

(ج) ما العلاقة بين: الرعى البدائي، وانتشار التعليم بين قبائل وسط آسيا؟

(د) ما النتائج المترتبة على ...؟

(١) افتقار الهند للبتروال.

(٢) كثرة التلال والينابيع المائية بالمرتفعات الوسطى بألمانيا.

٢) «تشابه السواحل الجنوبية للولايات المتحدة الأمريكية مع السواحل الجنوبية لنيجيريا

الاتحادية في بعض الظواهر الجغرافية». في ضوء هذه العبارة اذكر:

(١) الخليج البحري الجنوبي الذي تشرف عليه كل من الدولتين.

(٢) النهر الذي يصب في الخليج البحري الجنوبي لكل من الدولتين.

(٣) عدد الولايات التي تتكون منها كل من الدولتين.

(ب) صنّف كل محصول مما يلي حسب النوع الذي ينتمي إليه موضحاً استخداماته:

(١) البنجر. (٢) * القمح. (٣) المطاط.

(ج) اكتب ما تشير إليه كل عبارة مما يأتي:

(١) إقليم يمثل ١٢ ٪ من مساحة الولايات المتحدة الأمريكية ويعتبر الأكثر سكاناً.

(٢) هيئة تمثل الوحدة الاقتصادية الأوروبية أدت إلى التكامل في الجوانب الاقتصادية والصناعية.

(د) استخرج الكلمة المختلفة مما يلي، واكتبها في كراسة اجابتك مع ذكر السبب:

(١) البيتوميني - اليوكسيت - الإنتراسيت - اللجنيت.

(٢) برلين - ميونخ - إيبادان - هامبورج.

ثانياً التاريخ

٣) (١) اختر الإجابة الصحيحة مما بين القوسين:

(١) أذيع البيان الأول لثورة ٢٢ يوليو من دار الإذاعة المصرية بصوت

(محمد نجيب - جمال عبدالناصر - محمد أنور السادات - أحمد فؤاد)

(٢) من إنجازات ثورة ٢٣ يوليو في المجال الاجتماعي

(تمصير البنوك - استصلاح الأراضي - إنشاء المصانع - جعل التعليم بالجمان)

(٣) * شنت كل من بريطانيا و..... وإسرائيل عدواناً على مصر في عام ١٩٥٦م.

(ألمانيا - الولايات المتحدة - فرنسا - البرتغال)

(٤) تولى القيادة العامة الموحدة للقوات المصرية السورية في حرب أكتوبر ١٩٧٣م

(أحمد إسماعيل - سعد الدين الشاذلي - محمد الجسمي - محمد عبدي)

(٥) أنشأ مجلس شورى النواب في مصر

(محمد علي - عباس - سعيد - إسماعيل)

(ب) ما النتائج التي ترقبت على ...؟

(١) إنشاء السد العالي.

(٢) التعاون بين مصر ومنظمة اليونسكو.

(٣) إصدار دستور مصر الدائم ١٩٧١م. (٤) مزايا تحقيق السلام بين العرب وإسرائيل.

(ج) ماذا كان يحدث إذا، لم تتصارع الأحزاب السياسية بعد ثورة ١٩١٩م؟

٤) (١) اكتب كلمة (صح) أمام العبارة الصحيحة، وكلمة (خطأ) أمام العبارة غير الصحيحة:

(١) وافق الشعب الفلسطيني على إجراءات تنفيذ وعد بلفور. ()

(٢) قبلت مصر تنفيذ قرار مجلس الأمن رقم ٢٤٢ عام ١٩٦٧م. ()

(٣) عادت الثقة للمقاتل المصري والعربي بعد حرب أكتوبر ١٩٧٣م. ()

(٤) * محكمة العدل الدولية هي الجهاز القضائي الأساسي للأمم المتحدة. ()

(ب) يم تفسر ...؟

(١) اندلاع حرب أكتوبر ١٩٧٣م. (٢) قيام الشعب المصري بثورة ٢٥ يناير ٢٠١١م.

(٣) تدعيم مكانة المرأة في المجتمع المصري في الفترة من ١٩٨١م وحتى الآن.

(ج) إلى من تنسب الأعمال الآتية ...؟

(١) نادى بالسلام العادل لكل شعوب المنطقة وزار إسرائيل عام ١٩٧٧م.

(٢) أعلى سلطة داخل جامعة الدول العربية ويتألف من ممثلي جميع الدول الأعضاء.

(د) ما رأيك في: قرار تأميم شركة قناة السويس؟

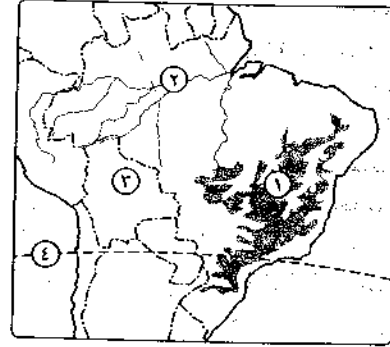
محافظة المنوفية

مديرية التربية والتعليم

مجاب عنه

أولاً الجغرافيا

أجب عن الأسئلة الآتية:



(١) أمامك خريطة لدولة البرازيل،

اكتب مدلول الأرقام الموضحة عليها :

(١) هضبة (٢) نهر

(٣) دولة (٤) مدار

(ب) بم تفسر ... ؟

(١) يقل عدد العمال وتقل التكلفة في الزراعة

التجارية والعلمية.

(٢) ينتج قصب السكر في كل قارات العالم

عدا قارة أوروبا.

(٣) للثروة الحيوانية أهمية كبيرة في العالم.

(٤) يقل عدد سكان نيجيريا في دلتا النيجر.

(ج) قارن بين : دولة الهند، ودولة ألمانيا من حيث :

* القارة التي تنتمي لها كل دولة. * مناطق تركيز السكان.

(١) اختر الإجابة الصحيحة مما بين القوسين :

(١) * تُعد قارة أكبر قارات العالم إنتاجاً للطاقة النووية.

(أوروبا - آسيا - أمريكا الشمالية - أمريكا الجنوبية)

(٢) يُطلق على المرتفعات الشرقية بالولايات المتحدة الأمريكية اسم جبال

(روكي - سيرانيفادا - الأبلش - ماكينزي)

(٣) * يسود الرعى التجاري في دولة بأمريكا الجنوبية.

(بيرو - شيلي - إكوادور - الأرجنتين)

(٤) اليابان من أهم الدول الصناعية في إقليم

(غرب أوروبا - روسيا وأوكرانيا - شرق آسيا - شمال شرق أمريكا الشمالية)

(ب) بم تفسر ... ؟

(١) تنتشر مناطق الأسماك في سواحل غرب أوروبا وسواحل أمريكا الشمالية.

(٢) تُصدر الدول النامية خام البوكسيت إلى الدول المتقدمة.

(٣) يُعد البترول أهم مصادر الطاقة.

لأننا التاريخ

(١) اكتب ما تشير إليه كل عبارة من العبارات الآتية :

(١) قانون صدر للقضاء على الإقطاع بتحديد الملكية الزراعية سبتمبر ١٩٥٢م.

(٢) منظمة متخصصة في المجال الزراعي للقضاء على الجوع ومساندة الدول النامية.

(٣) خط عسكري منيع حطمه القوات المصرية في حرب أكتوبر ١٩٧٣م.

(٤) نص بريطاني يتضمن إنشاء وطن قومي لليهود في فلسطين.

(ب) برهن بالأدلة التاريخية على صحة كل عبارة مما يأتي :

(١) لفلسطين أهمية خاصة في قلب كل عربي.

(٢) كان للعرب دوراً عظيماً في حرب أكتوبر ١٩٧٣م.

(ج) ماذا كان يحدث إذا ... ؟

(١) استجابت إسرائيل لنداءات السلام ونفذت قرار مجلس الأمن رقم ٢٤٢

(٢) لم ترسخ الفترة من ١٩٥٢م إلى ١٩٧١م على مشاركة المرأة المصرية في كافة المجالات.

(١) لمن تنسب الأعمال الآتية ... ؟

(١) أذاع أول بيان لثورة ٢٣ يوليو ١٩٥٢م.

(٢) قام بإعداد دراسة عن أنسب التوقيتات للقيام بحرب أكتوبر ١٩٧٣م.

(٣) قامت بإصدار أول مجلة نسائية فبراير ١٩٠٧م.

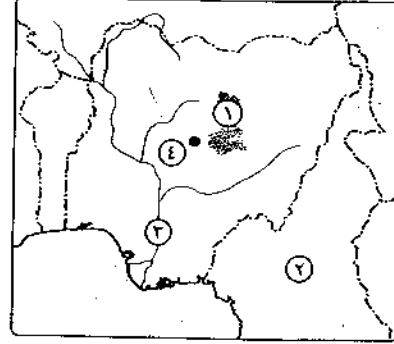
(٤) المساهمة في إحياء مكتبة الإسكندرية.

(ب) ما النتائج التي ترتبت على ... ؟

(١) * قيام ثورة ٢٣ يوليو ١٩٥٢م في المجال العربي والدولي.

(٢) سوء الأوضاع الاجتماعية في أواخر عهد مبارك.

(٣) * معاهدة السلام ١٩٧٩م.



١/ (١) أمامك خريطة لدولة نيجيريا، اكتب

مدلول الأرقام الموجودة عليها ،

- (١) هضبة (٢) دولة
(٣) نهر (٤) مدينة

(ب) بم تفسر ... ؟

- (١) تعد البرازيل من الدول المنتجة للأسماك.
(٢) البترول من أهم مصادر الطاقة.
(٣) يتركز ٥٠ ٪ من سكان الولايات المتحدة الأمريكية في إقليم نيو إنجلند.

- (٤) قلة التكاليف وعدد العمال في الزراعة التجارية والعلمية.
(٥) * تطور الصناعة تطوراً مذهلاً في الدول المتقدمة.

(ج) صوب ما تحته خط في العبارات الآتية، ثم اكتبها في كراسة الإجابة :

- (١) تحتل أستراليا المركز الأول في أعداد الأغنام.
(٢) * معظم الصناعات في دول الخليج العربي من الصناعات التكنولوجية.
(٣) كان الغاز الطبيعي يشكل عماد الثورة الصناعية في أوروبا أواخر القرن الثامن عشر الميلادي.

٢/ (١) اختر الإجابة الصحيحة مما بين القوسين :

- (١) أكبر مدن السهول الوسطى بالولايات المتحدة الأمريكية وتقع على بحيرة
متشجن (نيويورك - واشنطن - شيكاغو - لوس أنجلوس)
(٢) من المراكز الصناعية الحديثة في أمريكا الجنوبية دولة
(كوريا - ماليزيا - المكسيك - الأرجنتين)
(٣) أكثر دول العالم إنتاجاً للألبان (الولايات المتحدة - هولندا - الصين - الهند)
(٤) يُنتج قصب السكر في كل قارات العالم عدا قارة
(أوروبا - أستراليا - أفريقيا - آسيا)
(٥) الكهرباء المولدة من السد العالي في مصر من الكهرباء
(النووية - الحرارية - المائية - جميع ما سبق)

(ب) قارن بين كل من :

- (١) القطن، والذرة من حيث : * الأهمية. * القارة الأولى في الإنتاج.
(٢) الهند، و ألمانيا من حيث المناخ.

(ج) ماذا يحدث إذا : توافرت مصادر الطاقة والخبرة العلمية في الدول المنتجة لخام البوكسيت ؟

ثانياً التاريخ

٣/ (١) «لقد ساهمت بريطانيا بدور كبير في إقامة وطن قومي لليهود في فلسطين».

في ضوء هذه العبارة أجب عما يأتي :

- (١) ما أهم الإجراءات التي قامت بها بريطانيا في فلسطين لتنفيذ وعد بلفور خلال فترة الانتداب ؟
(٢) ما أسباب العدوان الثلاثي على مصر عام ١٩٥٦م ؟
(٣) ما رأيك في : معاهدة السلام مارس ١٩٧٩م بين مصر وإسرائيل ؟ أيد رأيك بالأدلة.

(ب) قارن بين : منظمة الصحة العالمية، ومنظمة الأغذية والزراعة «الفاو» من حيث :
* الهدف. * المقر.

(ج) اختر الإجابة الصحيحة مما بين القوسين :

- (١) * عُقدت اتفاقية بين مصر وبريطانيا عام ١٩٥٤م.
(السلام - العريش - الجلاء - كامب ديفيد)
(٢) كانت أول تجربة للوحدة العربية عام ١٩٥٨م بين مصر ودولة
(العراق - سوريا - لبنان - اليمن)
(٣) استولت إسرائيل على مرتفعات الجولان بعد
(حرب ١٩٤٨م - العدوان الثلاثي ١٩٥٦م - حرب يونيو ١٩٦٧م - حرب الاستنزاف)
(٤) أول وزيرة للشؤون الاجتماعية في مصر
(ندية شفيق - عائشة راتب - حكمت أبو زيد - جميلة حافظ)
(٥) أنشأ مجلس شورى النواب عام ١٨٦٦م.
(محمد علي - سعيد باشا - الخديو إسماعيل - الخديو توفيق)

٤/ (١) اكتب كلمة (صح) أمام العبارة الصحيحة، وكلمة (خطأ) أمام العبارة غير الصحيحة، مع التصويب،

- (١) أسس أحمد لطفى السيد حزب الإصلاح على المبادئ الدستورية. ()
(٢) بعد قيام ثورة ٢٣ يوليو ١٩٥٢م تأسس أول دستور عام ١٩٥٨م. ()
(٣) أدت حرب أكتوبر ١٩٧٣م إلى عودة الثقة للمقاتل المصري والعربي. ()

(٤) تم تدمير المدمرة الإسرائيلية إيلات بصواريخ البحرية المصرية فى

()

أكتوبر ١٩٦٧م.

()

(٥) أدت معاهدة ١٩٣٦م إلى الاستقلال الحقيقى لمصر.

(ب) ما النتائج التى ترتبت على ... ؟

(١) صدور قوانين الإصلاح الزراعى. (٢) ثورة الشعب المصرى فى ٣٠ يونيه ٢٠١٣م.

(٣) بناء حائط من الصواريخ على الضفة الغربية لقناة السويس خلال حرب الاستنزاف.

(٤) * العدوان الثلاثى على مصر عام ١٩٥٦م.

(ج) لمن تنسب كل عمل مما يأتى ... ؟

(١) أذاع البيان الأول لثورة ٢٣ يوليو ١٩٥٢م من الإذاعة المصرية.

(٢) تولى القيادة العامة للموحدة للقوات المصرية السورية فى حرب أكتوبر ١٩٧٣م.



مديرية التربية والتعليم

محافظة الدقهلية

٨

مجاب عنه

أولاً / اختراعياً

أجب عن الأسئلة الآتية:

(١) أمامك خريطة لدولة البرازيل،

اكتب ما تشير إليه الأرقام :

(١) مدينة (٢) المحيط

(٣) نهر (٤) دولة

(ب) اكتب فى كراسة إجابتك ما تشير إليه كل

عبارة من العبارات التالية :

(١) نهر يجرى فى نيجيريا وتقوم عليه الزراعة.

(٢) تُعد أهم موانئ ألمانيا قرب بحر الشمال.

(٣) * يستخرج من عصارة أشجار استوائية ويصنع منه إطارات السيارات.

(٤) مصدر للطاقة الأقل تلويثاً للبيئة ويمثل ٢٥ ٪ من مصادر الوقود فى العالم.

(ج) قارن بين : (١) الرعى التجارى، والرعى البدائى.

(٢) الزراعة البسيطة، والزراعة التجارية من حيث الخصائص.

(٢) (١) اختر الإجابة الصحيحة مما بين القوسين :

(١) أولى دول العالم فى إنتاج الأسماك (الصين - اليابان - الهند - روسيا)

(٢) منطقة الأورال إحدى المناطق الصناعية فى إقليم الصناعى.

(غرب أوروبا - شمال شرق الولايات المتحدة - شرق آسيا - روسيا وأوكرانيا)

(٣) * تُعد شيلي أهم دول العالم إنتاجاً لـ

(الفحم - الذهب - البوكسيت - النحاس)

(٤) الثروة الحيوانية فى الهند لها قيمة اقتصادية محدودة لأسباب

(مناخية - دينية - سياسية - لغوية)

(ب) يم تفسر ... ؟

(١) تنوع النبات الطبيعى فى ألمانيا. (٢) ارتفاع الكثافة السكانية فى هضبة جوس.

(٣) تقدم الصناعة فى قارة أوروبا.

(٤) ضخامة وتنوع الإنتاج الزراعى فى الولايات المتحدة الأمريكية.

ثانياً / التاريخ

(٣) (١) ضع علامة (✓) أمام العبارة الصحيحة، وعلامة (X) أمام العبارة غير الصحيحة مع التصويب :

(١) لم تؤد معاهدة ١٩٣٦م بين مصر وبريطانيا إلى استقلال حقيقى لمصر. ()

(٢) عارضت مصر نصوص اتفاقية أوسلو عام ١٩٩٣م. ()

(٣) أنشأ محمد على عدة مجالس نيابية استشارية لا سلطة لها. ()

(٤) تم عقد المؤتمر الإسلامى عام ١٩٦٩م بمدينة الرياض بالملكة العربية السعودية. ()

(ب) ما النتائج التى ترتبت على ... ؟

(١) ثورة ٢٣ يوليو ١٩٥٢م فى المجال السياسى.

(٢) الضربة الجوية ونيران المدفعية على طول قناة السويس فى حرب أكتوبر ١٩٧٣م.

(٣) * حرب فلسطين عام ١٩٤٨م.

(٤) الصراعات الحزبية فى مصر خلال الفترة من عام ١٩٢٣م حتى عام ١٩٥٢م.

(٤) (١) إلى من تنسب كل من الأعمال التالية ... ؟

(١) أنشأ أول مدرسة لتعليم البنات عام ١٨٧٣م.

(٢) تولى التخطيط والتنسيق على الجبهتين المصرية والسورية فى حرب أكتوبر ١٩٧٣م.

(٣) تولت منصب العمدة كأول امرأة مصرية.

(٤) تنتظر فى القضايا الدولية التى تضعها الدول أمامها وتقديم الاستشارات القانونية.

(ب) دال على صحة كل عبارة مما يأتي ،

- (١) اتخذت حكومة الانتداب البريطاني في فلسطين عدة إجراءات لتنفيذ وعد بلفور.
 (٢) ساهم دستور عام ١٩٧١م في تطور الحياة النيابية في مصر.
 (ج) «سيناء أرض مصرية، وقد سجل التاريخ لأهالي سيناء مواقف في الشرف والانتماء والعزة والكرامة». في ضوء العبارة أجب عما يأتي :
 (١) بم تفسر : هزيمة الدول العربية في عدوان ٥ يونيو ١٩٦٧م ؟
 (٢) ما مظاهر تصدى القوات المصرية للاعتداءات الإسرائيلية بعد عام ١٩٦٧م ؟
 (٣) ماذا كان يحدث إذا : لم يتم توقيع معاهدة السلام ١٩٧٩م ؟
 (٤) اذكر مزايا السلام لكل من مصر والدول العربية.



٩ محافظة الإسماعيلية مديرية التربية والتعليم

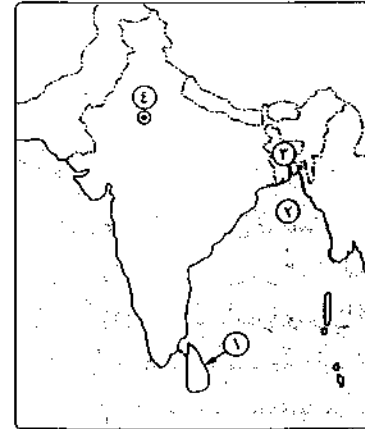
مجان عنه

أولاً الجغرافيا

أجب عن الأسئلة الآتية:

١ (١) أمامك خريطة لدولة الهند،

- اكتب مدلول الأرقام الموضحة عليها :
 (١) جزيرة (٢) خليج
 (٣) دولة (٤) العاصمة



(ب) اكتب ما تشير إليه كل عبارة مما يأتي :

- (١) زراعة الأرض بشكل مكثف لسد حاجة السكان المحليين من الغذاء.
 (٢) * مصدر للطاقة نتج عن تحلل كائنات عضوية كانت تعيش في البحار ثم تجمعت بكميات كبيرة وغطتها رواسب الطين والرمال ثم تحللت.

(ج) ماذا يحدث إذا ... ؟

- (١) توفرت الطاقة الرخيصة والخبرة العلمية لدى الدول النامية المنتجة للبوكسيت.
 (٢) استقادت نيجيريا من مواردها الطبيعية.

٢ (١) اختر الإجابة الصحيحة مما بين القوسين :

- (١) يعتمد الرعي التجاري في العالم على
 (الأيدي العاملة - الأمطار - المياه الجوفية - الأساليب العلمية الحديثة)
 (٢) يعتبر فحم أقل أنواع الفحم جودة ولكن أكثرها وجوداً في الطبيعة.
 (اللجنيت - البيتوميني - الإنتراسيت - الكوك)
 (٣) من المقومات الطبيعية للصناعة
 (الأيدي العاملة - مصادر الطاقة - رأس المال - الأسواق)
 (٤) أكبر أقاليم الصناعة في العالم الجديد إقليم
 (غرب ووسط أوروبا - روسيا وأوكرانيا - شمال شرق الولايات المتحدة - شرق آسيا)

(ب) بم تفسر ... ؟

- (١) تعاني البرازيل من قلة عدد السكان رغم أن عدد سكانها ٢٠٣ مليون نسمة.
 (٢) الصناعة تُعد العمود الفقري للاقتصاد الألماني.
 (ج) «تخيل أنك فزت بجائزة للسفر والإقامة لمدة شهر إلى إحدى الدول التي درستها هذا العام». فأياها تختار ... ؟ ولماذا ؟

لانيا التاريخ

- ٢ (١) من هو ... ؟ (١) وزير الحربية وقائد القوات المسلحة في حرب أكتوبر ١٩٧٣م.
 (٢) أنشأ مجلس المشورة عام ١٨٢٩م.
 (٣) أصدر قرار السماح بقيام ثلاثة منابر للرأي (اليمين والوسط واليسار).
 (٤) أول وزيرة للشئون الاجتماعية.

(ب) دال على صحة كل عبارة من العبارات التالية :

- (١) حققت ثورة ٢٣ يوليو هدفها في القضاء على الإقطاع.
 (٢) كان مؤتمر سان ريمو ١٩٢٠م مؤامرة دولية ضد الشعب الفلسطيني.
 (٣) الجيش قوة مساندة للشعب خلال ثورة ٢٥ يناير ٢٠١١م.

٤ (١) أكمل الفراغات في العبارات التالية بما يناسبها :

- (١) * ترجع نشأة الصهيونية كحركة سياسية إلى
 (٢) في أكتوبر ١٩٦٧م تمكنت البحرية المصرية من تدمير المدمرة الإسرائيلية
 (٣) عادت للسيادة المصرية بقرار هيئة التحكيم الدولية.
 (٤) عقد مؤتمر على أساس مبدأ الأرض مقابل السلام.
 (٥) اليونيسيف إحدى منظمات الأمم المتحدة في مجال

- (ب) «الموانع الطبيعية والصناعية لا يمكنها أن تقف حاجلاً أمام الجيوش الحديثة بما لديها من تجهيزات وأسلحة ومعدات». في ضوء ما درست بالعبارة السابقة أجب عما يأتي :
- (١) بم تفسر : اندلاع حرب أكتوبر ١٩٧٣ م ؟
- (٢) ما دور العرب في تقديم الدعم أثناء الحرب ؟
- (٣) ما رأيك في دور الولايات المتحدة الأمريكية في قيام دولة إسرائيل خلال حرب ١٩٤٨ م ؟



مديرية التربية والتعليم

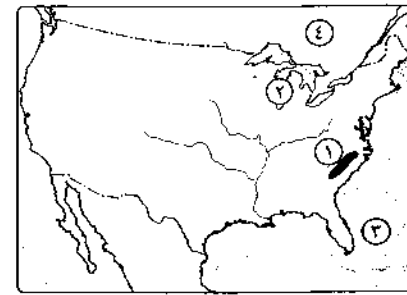
محافظة السويس

١٠

مجاناً

أولاً الجغرافيا

أجب عن الأسئلة الآتية :



(١) أمامك خريطة للولايات المتحدة الأمريكية.

اكتب ما تدل عليه الأرقام الآتية :

- (١) جبال (٢) بحيرة
- (٣) المحيط (٤) دولة

(ب) قارن بين : دولتي ألمانيا، ونيجيريا من حيث :

- * العاصمة.
- * مناطق التركيز السكاني.
- * العلاقات مع مصر.

(ج) اذكر المقصود بالمفاهيم الآتية :

- (١) الزراعة الكثيفة. (٢) الرعى التجاري. (٣) الفحم.

(١) اختر الإجابة الصحيحة مما بين القوسين :

- (١) أكبر دول العالم في تربية الأغنام (بريطانيا - السودان - أستراليا - الصين)
- (٢) من الدول النامية المشاركة في التجارة الدولية للحديد دولة
- (مصر - السودان - المغرب - موريتانيا)
- (٣) من المراكز الصناعية الحديثة في جنوب شرق آسيا الصناعي
- (كندا - ماليزيا - الأرجنتين - المكسيك)
- (٤) أولى الدول العربية في توليد الطاقة الكهربائية من الرياح
- (المغرب - تونس - مصر - الأردن)
- (٥) * تنتج قارة أوروبا ثلث إنتاج العالم من
- (الفحم - البترول - الغاز الطبيعي - الفوسفات)

(ب) بم تفسر ... ؟

- (١) توسع العالم في استخدام الغاز الطبيعي كبديل لمصادر الطاقة الأخرى.
- (٢) مارس البشر في الماضي العديد من الأنشطة الاقتصادية البدائية.
- (٣) إنشاء عدة مدن على هضبة البرازيل.

(ج) ما النتائج المترتبة على ... ؟

- (١) الوحدة الاقتصادية الأوروبية.
- (٢) إشراف الهند على محيطات وخليجان بجبهات ساحلية طويلة.

التاريخ

(١) اكتب كلمة (صح) أمام العبارة الصحيحة، وكلمة (خطأ) أمام العبارة غير الصحيحة :

- (١) من عوامل قيام ثورة ٢٣ يوليو ١٩٥٢ م استمرار الاحتلال البريطاني وتدخله في شؤون مصر الداخلية. ()
- (٢) فشل مؤتمر كامب ديفيد بين السادات وبيجين ولم يصل إلى نتائج. ()
- (٣) توفير مناخ الوحدة الوطنية أحد أنشطة منظمات المجتمع المدني. ()
- (٤) وافقت الدول العربية على تقسيم فلسطين عام ١٩٤٧ م. ()
- (ب) قارن بين : نصوص معاهدة السلام مارس ١٩٧٩ م. وقرار مجلس الأمن رقم ٢٤٢ لعام ١٩٦٧ م ومدى تنفيذ كل منهما.

(ج) ما النتائج التي ترتبت على ... ؟

- (١) فشل العدوان الثلاثي على مصر ١٩٥٦ م.
- (٢) وضع فلسطين تحت الانتداب البريطاني طبقاً لمؤتمر سان ريمو ١٩٢٠ م.

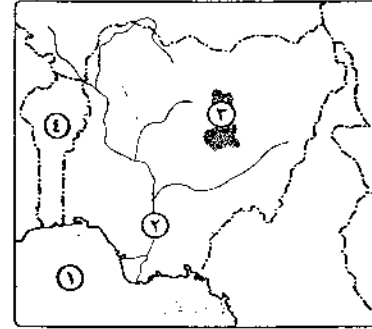
(١) إلى من تنسب الأعمال الآتية ... ؟

- (١) رئيس المحكمة الدستورية العليا الذي تولى حكم مصر عام ٢٠١٢ م.
- (٢) أصدرت أول مجلة نسائية وهي الريحانة وتحولت إلى جريدة عام ١٩٠٨ م.
- (٣) قاد خطة الخداع في حرب أكتوبر ١٩٧٣ م لصرف أنظار إسرائيل عن التجهيزات الهجومية.
- (٤) منظمة عملت على إنقاذ معابد أبو سمبل وإحياء مكتبة الإسكندرية.

(ب) أيد صحة كل عبارة من العبارات الآتية :

- (١) كان للدعم العربي أثناء حرب أكتوبر ١٩٧٣ م أثر فعال في تحقيق النصر.
- (٢) لفلسطين أهمية خاصة في قلب كل عربي «مسلم أو مسيحي».
- (٣) لم يحقق مجلس المشورة في عصر محمد علي حياة نيابية سليمة.

(ج) ماذا كان يحدث إذا : لم تتصارع الأحزاب السياسية في مرحلة ما بعد ثورة ١٩١٩ م ؟



١ (١) لاحظ خريطة نيجيريا، ثم اكتب

مدلولات الأرقام التالية:

- (١) خليج (٢) نهر
(٣) هضبة (٤) دولة

(ب) اختر الإجابة الصحيحة مما بين القوسين :

- (١) * أولى دول العالم إنتاجاً للشاي
(. تايلاند - الهند - البرازيل - الصين)

(٢) من المحاصيل ذات الطبيعة الخاصة وتصنع منه إطارات السيارات

(الجوت - المطاط - الكتان - القطن)

(٣) يتم إنتاج محصول قصب السكر في كل قارات العالم عدا قارة

(أفريقيا - أمريكا الشمالية - أمريكا الجنوبية - أوروبا)

(٤) بقايا أشجار ونتيجة للحرارة والضغط تحوات لمادة كربونية سوداء

(الفحم - الغاز - البترول - الفوسفات)

(ج) في أى الدول تقع المدن الآتية ... ؟

- (١) ميونخ. (٢) بومباى. (٣) ساو باولو. (٤) سان فرانسيسكو.

(د) بم تفسر... ؟

(١) يصدر خام البوكسيت من النول النامية المنتجة له إلى الدول المتقدمة التي تصنع الألومنيوم.

(٢) يعد النشاط الزراعي من الأنشطة الاقتصادية الأساسية في العالم.

٢ (١) اكتب كلمة (صح) أمام العبارة الصحيحة وكلمة (خطأ) أمام العبارة غير الصحيحة. مع التصويب:

- (١) تحتاج الزراعة التجارية الواسعة إلى أيدي عاملة وفيرة. ()
(٢) الولايات المتحدة أهم الدول المنتجة لأصواف أغنام المارينو. ()
(٣) تحتل الصين المركز الأول عالمياً في إنتاج الأسماك. ()
(٤) يعتبر توفر الأسواق ورأس المال من المقومات البشرية للصناعة. ()
(٥) أمريكا الشمالية أولى قارات العالم إنتاجاً للقمح والقطن. ()

(ب) قارن في جدول بين : البرازيل، وألمانيا من حيث :

* النبات الطبيعي في كل منهما. * ما تصدره مصر إليهما.

(ج) دلل على صحة العبارتين الآتيتين :

(١) القيمة الاقتصادية للأبقار في الهند محدودة.

(٢) إقليم نيو إنجلند هو الأكثر اكتظاظاً بالسكان في المنطقة الشمالية الشرقية من الولايات المتحدة الأمريكية.

(د) اكتب المصطلح الذي تدل عليه كل عبارة من العبارات الآتية :

(١) رعى يعتمد على أحدث الأساليب العلمية الحديثة ويسود في الولايات المتحدة والأرجنتين وأستراليا.

(٢) مصدر للطاقة نشأ عن تحلل كائنات عضوية بحرية تجمعت وغطتها رواسب الطين والرمل ثم تحللت.

(٣) * معدن يستخدم في صناعة الأسلاك والأدوات الكهربائية وتعد شيلي أولى الدول إنتاجاً له.

(٤) * طاقة تستخدم الشلالات والسدود والأمواج وحركة المد والجزر في توليدها.

الثانياً التاريخ

٢ (١) اختر الإجابة الصحيحة مما بين القوسين، ثم انقل الجملة كاملة في ورقة إجابتك :

(١) من أهم إنجازات ثورة ٢٢ يوليو في المجال الاقتصادي (عقد اتفاقية

الجملاء - مجانية التعليم - تأميم شركة قناة السويس - بناء السد العالي)

(٢) وضعت فلسطين تحت الانتداب البريطاني وفقاً لقرارات مؤتمر

(أوسلو - سان ريمو - كامب ديفيد - مدريد)

(٣) استجاب الخديو إسماعيل لدعوة وأنشأ أول مدرسة لتعليم البنات عام ١٨٧٢م.

(علي مبارك - قاسم أمين - رفاعة الطهطاوى - طه حسين)

(٤) يوجد مقر الأمانة العامة للأمم المتحدة في مدينة

(سان فرانسيسكو - روما - لندن - نيويورك)

(ب) بم تفسر... ؟

(١) قيام قوات الاحتلال البريطاني بمحاصرة قصر عابدين ٤ فبراير ١٩٤٢م.

(٢) هزيمة الدول العربية ٥ يونيو ١٩٦٧م.

(٣) مجلس الأمن هو أهم أجهزة الأمم المتحدة.

(ج) ما العلاقة بين كل من ... ؟

- (١) حرب الاستنزاف ومبادرة روجرز.
(٢) التطبيق غير السليم لسياسة الخصخصة، وزيادة البطالة في مصر.

(٤) (١) من تنسب الأعمال الآتية ... ؟

- (١) * تولى رئاسة مصر بعد إلغاء الملكية عام ١٩٥٣ م.
(٢) رئيس أركان القوات المسلحة عام ١٩٧١ م وتم تكريمه في الذكرى ٢٩ لنصر أكتوبر.
(٣) رئيس المحكمة الدستورية العليا الذي تسلم حكم مصر عام ٢٠١٢ م.
(٤) * سمح بقيام منابر للرأي تمثل اليمين واليسار والوسط.
(ب) قارن بين : العدوان الثلاثي على مصر ١٩٥٦ م، وعدوان ١٩٦٧ م من حيث الأسباب.
(ج) دلل على صحة العبارتين الآتيتين :
(١) تعددت أنشطة منظمات المجتمع المدني. (٢) لمصر دور بارز في الاتحاد الأفريقي.
(د) ما رأيك في : مطالب ثورة ٢٣ يوليو ١٩٥٢ م من الملك فاروق ؟

١٢ محافظة دهبياط

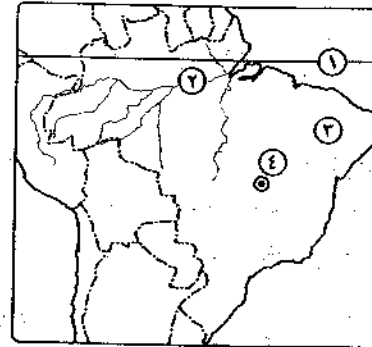
تربية التربة والتعليم

مجاب عنه

أوبة الجغرافيا

أجب عن الأسئلة الآتية :

(١) اكتب في كراسة الإجابة مدلول الأرقام



الموقعة على خريطة البرازيل التي أمامك :

- (١) دائرة عرض
(٢) سهول نهر
(٣) محصول منتج للسكر
(٤) العاصمة الجديدة

(ب) بم تفسر ... ؟

- (١) يُعد النشاط الزراعي من الأنشطة الاقتصادية الأساسية في العالم.
(٢) تنتج الصين أكثر من ثلث الإنتاج العالمي من الأسماك.
(٣) تعدد وتنوع مصادر الطاقة في العالم.

(ج) اكتب في كراسة الإجابة ما تشير إليه كل عبارة من العبارات الآتية :

- (١) * مصدر للطاقة عبارة عن غازات موجودة في باطن الأرض داخل مسام الصخور وقد توجد بشكل منفصل وتكون مصالحة لوجود البترول.
(٢) منطقة تتركز بها زراعة الأرز بجمهورية نيجيريا الاتحادية.
(٣) جبال تنمو على منحدراتها الغابات المخروطية والنفضية بجمهورية ألمانيا.
(٤) إقليم مناخي يتمثل في دلتا نهر المسيسيبي ويتأثر بالأعاصير المدارية.

(د) «على هامش أعمال قمة منتدى الهند - أفريقيا التي الرئيس المصري برئيس الوزراء الهندي وتناول اللقاء دعم العلاقات المصرية الهندية في مختلف المجالات وزيادة التبادل التجاري بين البلدين». في ضوء هذه العبارة أجب عما يأتي :

- (١) ما السياسات التي واجهت بها جمهورية الهند المشكلة السكانية ؟
(٢) ما أوجه التبادل التجاري بين البلدين تصديرًا واستيرادًا ؟
(٣) ما مقترحاتك لتطوير الصناعة وازدهارها في البلدين ؟

(٢) (١) أكمل العبارات الآتية، ثم انقلها كاملة في كراسة الإجابة :

- (١) الغذاء الرئيسي لمعظم شعوب العالم محصول
(٢) الرعي التجاري يمارس في مناطق البراري بقارة
(٣) أولى دول العالم إنتاجًا لمعدن النحاس دولة
(٤) مصدر للطاقة ينتج من تدفق مياه الشلالات أو السدود

(ب) ما النتائج المترتبة على ... ؟

- (١) اعتماد اقتصاد جمهورية نيجيريا الاتحادية على الزراعة.
(٢) العلاقات الثقافية والعلمية بين مصر وألمانيا.
(٣) تمتع الولايات المتحدة الأمريكية بموارد طبيعية متنوعة.

(ج) صوب ما فوق الخط، ثم أعد كتابة العبارات صحيحة في كراسة الإجابة :

- (١) أولى دول العالم إنتاجًا للمطاط الطبيعي دولة بيرو.
(٢) أكبر قارتين إنتاجًا للفحم قارة أوروبا وقارة أستراليا.
(٣) أهم الدول إسهامًا في التجارة الدولية للبترول والغاز الطبيعي دول البحر الكاريبي.
(٤) السكان الأصليون لجمهورية البرازيل الاتحادية من الزنوج الأفارقة.

(د) أمامك رسمين بيانيين يمثلان إنتاج نوعين من

الموارد الاقتصادية في العالم لعام ٢٠١٢م،

استعن به وأجب عما يأتي :

(١) ما محصول الألياف الذي

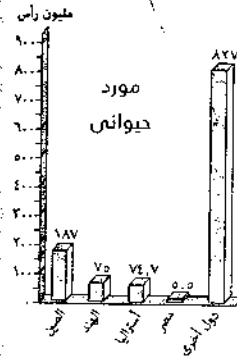

يمثله الرسم البياني الأول ؟

وما شهرة مصر في إنتاجه ؟

(٢) ما المورد الحيواني الذي يمثله الرسم البياني الثاني ؟

وما سبب تفرده في أولى الدول المنتجة له ؟

(٣) ما الأهمية الاقتصادية لكل من الموردين ؟



التاريخ

(١) اختر الإجابة الصحيحة مما بين القوسين، ثم انقل العبارة كاملة في ورقة إجابتك :

(١) حاصر الإنجليز قصر عابدين في فبراير ١٩٤٢م لإجبار الملك فاروق على

تعيين رئيساً للحكومة.

(٢) سعد زغلول - مصطفى النحاس - شريف باشا - رياض باشا ()

(٣) أصبح لبريطانيا حق الانتخاب على فلسطين وفقاً لقرارات مؤتمر

(لندن - باريس - الأستانة - سان ريمو)

(٤) تتولى المحاكم على اختلاف أنواعها

(السلطة التشريعية - السلطة التنفيذية - السلطة القضائية - الإدارة المحلية)

(٥) أنشأ الخديو إسماعيل أول مدرسة لتعليم البنات عام ١٨٧٣م استجابة لدعوة

(رفاعة الطهطاوي - أحمد لطفى السيد - مصطفى كامل - جمال الدين الأفغاني)

(ب) بم تفسر ... ؟ (١) فشل العدوان الثلاثي على مصر عام ١٩٥٦م.

(٢) * اندلاع حرب السادس من أكتوبر ١٩٧٣م.

(٣) مشاركة مصر بفاعلية في مؤتمر مدريد للسلام عام ١٩٩١م.

(ج) لمن تنسب الأعمال الآتية ... ؟

(١) مفتي القدس وقائد اللجنة العربية التي قامت بثورة ١٩٣٦م في فلسطين.

(٢) رئيس أركان حرب القوات المسلحة الذي استشهد في حرب الاستنزاف.

(٣) إنشاء مجلس المشورة عام ١٨٢٩م للنظر في المسائل الإدارية.

(د) أيد بالأدلة التاريخية صحة ما يأتي :

(١) أظهرت حرب أكتوبر عام ١٩٧٣م أهمية التضامن العربي في مواجهة إسرائيل.

(٢) شهدت مصر نهضة نسائية في مختلف المجالات في فترة ما بعد ثورة ١٩١٩م وحتى ثورة يوليو ١٩٥٢م.

(٤) اكتب كلمة (صح) أمام العبارة الصحيحة، وكلمة (خطأ) أمام العبارة غير الصحيحة، مع تصويب الخطأ :

(١) ساهمت مصر بدور كبير في تشكيل حركة عدم الانحياز عام ١٩٥٥م. ()

(٢) أسس الشيخ «على يوسف» حزب الأحرار وتولى رئاسته. ()

(٣) دعا الرئيس الأمريكي «بيل كلينتون» كل من (السادات - بيجين) إلى مؤتمر كامب ديفيد عام ١٩٧٨م. ()

(٤) من أمثلة التعاون بين مصر ومنظمة اليونسكو المساهمة في إحياء مكتبة الإسكندرية. ()

(ب) قارن بين : جامعة الدول العربية، وهيئة الأمم المتحدة من حيث الأهداف.

(ج) «اشتركت ثورتى ٢٣ يوليو ١٩٥٢م، و ٢٥ يناير ٢٠١١م في هدف أساسي هو القضاء على

الفساد وتحقيق العدالة الاجتماعية». في ضوء هذه العبارة أجب عما يأتي :

(١) بم تفسر : * تدهور الأوضاع الاقتصادية قبل ثورة ٢٥ يناير ٢٠١١م ؟

(٢) ما رأيك في : قرار تأميم شركة قناة السويس في يوليو ١٩٥٦م ؟

(د) ما النتائج التي تترتبت على ... ؟

(١) * إنجازات ثورة ٢٣ يوليو ١٩٥٢م في المجال الاجتماعي.

(٢) ثورة ٢٠ يونيو عام ٢٠١٣م. (٣) هزيمة العرب في ٥ يونيو عام ١٩٦٧م.

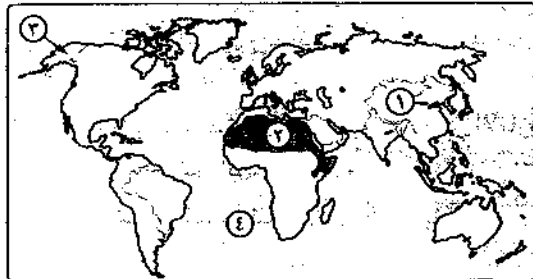


مديرية التربية والتعليم

محافظه كفر الشيخ

١٣

مجاب عنه

أجب عن الأسئلة الآتية : **أدلة الجغرافية**

(١) أمامك خريطة للعالم،

ادرسها جيداً ثم بين مدلول

الأرقام الموقعة عليها :

(١) مصدر للطاقة وتعد

هذه الدولة الأولى في

إنتاجه

(٢) نوع الرعى

الساكن

(٣) ولايته

(٤) المحيط

(ب) اختر الإجابة الصحيحة مما بين القوسين :

- (١) * أكبر دول قارة أفريقيا المنتجة للبنجر دولة
(موريتانيا - مصر - ليبيا - تونس)
(٢) تُعد أستراليا أهم الدول المنتجة لـ (الألبان - الأسماك - الصوف - الدواجن)
(٣) يعتبر من المقومات الطبيعية اللازمة لقيام الصناعة
(التطور العلمي - الأسواق - رأس المال - الموقع المتميز)
(٤) ميناء من أهم موانئ البرازيل على المحيط الأطلنطي
(ريودي جانيرو - برازيليا - ساو باولو - ميناؤوس)
(٥) دولة تقع معظمها داخل حدود الهند
(نيبال - بوتان - بنجلاديش - باكستان)

(ج) انقل الجدول الآتي في كراسة إجابتك، ثم أكمل الفراغات الموجودة بالجدول :

الدولة (١)	نيجيريا	ألمانيا
التضاريس	توسطها هضبة الدكن	يجري في أراضيها نهر	يصب نهر الراين في بحر
المناخ والنبات الطبيعي	تنمو (٢) على السواحل الغربية والشرقية	الأجزاء الجنوبية فيها تقع في نطاق المناخ (٤)	في الصيف يعتدل المناخ وترتفع درجة الحرارة بالاتجاه نحو (٦)
	 (٣) (٥)

(١) اكتب كلمة (صح) أمام العبارة الصحيحة، وكلمة (خطأ) أمام العبارة غير الصحيحة :

- (١) تستخدم الآلات والميكنة الزراعية في الزراعة الكثيفة. ()
(٢) * شكل الفحم عماد الثورة الصناعية في أوروبا حتى أواخر القرن الـ ١٨م. ()
(٣) تُعد الصين واندونيسيا والولايات المتحدة الأمريكية من أوائل الدول المنتجة للأسماك. ()
(٤) يسود المناخ المعتدل الرطب حوض الأمازون والسهل الساحلي الشمالي في البرازيل. ()

(ب) اكتب ما تشير إليه كل عبارة مما يأتي :

- (١) يستخرج من عصارة أشجار استوائية ويُصنع منه إطارات السيارات.
(٢) تُعد القوة الاقتصادية الأولى في العالم وأول الدول الصناعية السبع.

(ج) يم تفسر ... ؟

- (١) يُعد البترول من أهم مصادر الطاقة. (٢) يعتبر اقتصاد نيجيريا اقتصادًا ناميًا.
(٣) توسع الصناعة الألمانية وتطورها بعد الحرب العالمية الثانية.
(٤) تركز ٥٠٪ من سكان الولايات المتحدة الأمريكية في إقليم نيو إنجلند.

التاريخ

(١) أكمل العبارات التالية بكلمات مناسبة :

- (١) تم التوقيع على معاهدة السلام بين مصر وإسرائيل عام ١٩٧٩م برعاية
(٢) شاركت مصر عام ١٩٥٥م في مؤتمر باندونج بدولة
(٣) * تزعم مصطفى كامل الحزب
(٤) رئيسة لجنة الوفد المركزية للسيدات عام ١٩٢٠م هي السيدة

(ب) ما النتائج التي ترقبت على ... ؟

- (١) المعارك الجوية بين الطيران السوري والطيران الإسرائيلي عام ١٩٧٣م.
(٢) إعلان الانتداب البريطاني على فلسطين عام ١٩٢٠م.
(٣) معركة رأس العش.
(٤) النشاط السياحي في مصر بعد توقيع معاهدة السلام بين مصر وإسرائيل عام ١٩٧٩م.

(ج) اكتب المصطلح الذي تعبر عنه كل عبارة مما يأتي :

- (١) انتخاب الشعب ممثلين عنه لإدارة شئون الحكم وسمن القوانين ومراقبة أعمال الحكومة نيابة عنه.
(٢) قانون صدر في سبتمبر ١٩٥٢م، حدد الملكية الزراعية وبموجبه امتلك الفلاحون الأراضي التي يعملون بها.

(د) رتب الأحداث التاريخية الآتية من القديم إلى الحديث :

- * الحرب العالمية الأولى. * تعيين أول قاضية مصرية.
* صدور مجلة الريحانة. * إنقاذ معابد أبي سمبل.

(١) لمن تنسب الأعمال الآتية ... ؟

- (١) أنشأ المدرسة السنية للبنات.
(٢) شغل منصب رئيس هيئة عمليات القوات المسلحة عام ١٩٧٢م.
(٣) تولى رئاسة الحكومة المصرية في فبراير ١٩٤٢م.
(٤) قدم مبادرة عُرفت باسمه لوقف إطلاق النار بين مصر وإسرائيل أثناء حرب الاستنزاف.

(٣) أكثر أنواع الفحم انتشاراً واستخداماً في الصناعة فحم اللجنيت.

(٤) تعتبر الزراعة العمود الفقري للاقتصاد الألماني ويعمل بها ثلث القوى العاملة.

(٢) (١) اختر الإجابة الصحيحة مما بين القوسين لكل مما يلي :

(١) الموطن الأصلي لمحصول الشاي

(شرق آسيا - شمال أوروبا - جنوب أستراليا - غرب أفريقيا)

(٢) * أولى دول العالم في إنتاج السكر دولة (الصين - البرازيل - الهند - روسيا)

(٣) الدولة التي يقع معظمها داخل حدود الهند دولة

(باكستان - بوتان - بنجلاديش - نيبال)

(٤) يسود الرعي التجاري في دولة بأمريكا الجنوبية.

(شيلي - بيرو - فنزويلا - الأرجنتين)

(ب) قارن بين كل من :

(١) القمح، والذرة من حيث : * الأهمية. * أولى قارات العالم إنتاجاً.

(٢) الولايات المتحدة الأمريكية، وألمانيا من حيث :

* القارة التي تنتمي إليها. * أهم ما تستورده مصر منها.

(ج) إلى أي الدول تنتمي كل مدينة مما يأتي ... ؟ وما شهرة كل منها ؟

(١) لاجوس. (٢) حيدر أباد.

التاريخ

(٢) (١) ما النتائج التي ترقبت على كل مما يأتي ... ؟

(١) قرار التحكيم الدولي سبتمبر ١٩٨٨م.

(٢) الهدنة التي اقترحتها الولايات المتحدة على مجلس الأمن عام ١٩٤٨م.

(٣) فشل العدوان الثلاثي على مصر عام ١٩٥٦م.

(ب) اختر الإجابة الصحيحة مما بين القوسين :

(١) * أنشأ محمد علي عام ١٨٢٤م. (المجلس العالي - مجلس المشورة -

مجلس شورى النواب - مجلس شورى القوانين)

(٢) كانت معاهدة السلام بين مصر وإسرائيل عام ١٩٧٩م بمشاركة ورعاية

(أمريكية - أوروبية - روسية - عربية)

(ب) دلل تاريخياً على صحة كل عبارة مما يأتي :

(١) * لعب سلاح البترول دوراً مهماً أثناء حرب أكتوبر ١٩٧٣م.

(٢) لعبت ثورة ٢٣ يوليو ١٩٥٢ دوراً مؤثراً على المستويين العربي والدولي.

(ج) أعد كتابة كل عبارة مما يأتي في كراسة إجابتك بعد تصحيح ما بها من خطأ :

(١) عادت طابا تحت السيادة المصرية في مارس ١٩٨٨م.

(٢) استولت إسرائيل على مدينة القدس العربية أثناء العدوان الثلاثي عام ١٩٥٦م.

(د) «حقق الجيش المصري انتصاراً حاسماً في أكتوبر ١٩٧٣م استعاد به الأرض والكرامة العربية». في ضوء هذه العبارة وضح :

(١) أوجه الشبه بين خط ألوان، وخط بارليف.

(٢) أوجه الاختلاف بين موقف الولايات المتحدة الأمريكية من مصر أثناء العدوان

الثلاثي ١٩٥٦م، وأثناء حرب أكتوبر ١٩٧٣م.

(٣) العلاقة بين : قرار مجلس الأمن رقم ٢٤٢ وحرب أكتوبر عام ١٩٧٣م.

(٤) ماذا كان يحدث إذا : لم تتشكل اللجان الشعبية أثناء ثورة ٢٥ يناير ٢٠١١م.



مديرية التربية والتعليم

١٤ محافظة البحيرة

جواب عنه

أولاً الجغرافيا

أجب عن الأسئلة الآتية :

(٧) (١) أمامك خريطة لدولة البرازيل، اكتب مدلول

الأرقام الموضحة عليها بكراسة الإجابة :

(١) المحيط (٢) مدينة

(٣) نهر (٤) مدار

(ب) يم تفسر ... ؟

(١) احتياج الزراعة الكثيفة إلى أيدي

عاملة وفيرة.

(٢) زيادة معدل الاستهلاك العالمي من اللحوم الحمراء

(٣) تقدم الصناعة في أوروبا. (٤) قلة عدد السكان في دلتا نهر النيجر.

(ج) صوب ما تحته خط في العبارات التالية :

(١) يُعد البوكسيت الخام الرئيسي لمعدن الحديد.

(٢) يحده الولايات المتحدة الأمريكية شمالاً دولة المكسيك

(٢) * يعد أعلى سلطة داخل جامعة الدول العربية.

(الأمانة العامة - مجلس الوصاية - اللجان الدائمة - مجلس الجامعة)

(٤) استضافت أول قمة أفريقية على أرضها عام ١٩٦٤م.

(إثيوبيا - مصر - كينيا - ليبيا)

(٥) أنشأ مجلس شورى النواب فى ديسمبر ١٨٦٦م.

(إبراهيم باشا - الخديو إسماعيل - الخديو توفيق - سعيد باشا)

(ج) قارن بين ، نظام الانتخاب، ومجلس الوصاية من حيث أسباب الظهور.

(١) برهن على صحة كل عبارة من العبارات الآتية ،

(١) تشابه الدفاعات الإسرائيلية فى الجبهتين المصرية والسورية قبل حرب أكتوبر ١٩٧٣م.

(٢) لمنظمة اليونسكو دور ثقافى فى مصر.

(٣) كان للتكنولوجيا المتطورة دور مهم فى ثورة ٢٥ يناير ٢٠١١م.

(ب) انقل العبارات الآتية إلى ورقة الإجابة، ثم ضع علامة (✓) أمام العبارة الصحيحة،

وعلمة (X) أمام العبارة غير الصحيحة ،

(١) قبلت مصر وإسرائيل قرار مجلس الأمن ٢٤٢ لسنة ١٩٦٧م. ()

(٢) رفض المستشار عدلى منصور إجراء انتخابات مبكرة بونيه ٢٠١٣م. ()

(٣) عُقد مؤتمر القمة الإسلامى عام ١٩٦٩م فى الرباط. ()

(٤) أنهى مؤتمر كامب ديفيد سبتمبر ١٩٧٨م حالة الاحرب واللاسلم. ()

(٥) يُعد برتوكول الإسكندرية أول وثيقة تخص جامعة الدول العربية. ()

(٦) جعل التعليم الجامعى بالمصروفات من الإنجازات الاجتماعية

لثورة ٢٣ يوليو ١٩٥٢م. ()

(ج) اكتب ما تشير إليه كل عبارة من العبارات التالية :

(١) رئيسة لجنة الوفد المركزية للسيدات عام ١٩٢٠م.

(٢) أول رئيس لمصر بعد إعلان النظام الجمهورى بونيه ١٩٥٢م.

(٣) معركة انتصرت فيها القوات المصرية على القوات الإسرائيلية عند مدينة بورفؤاد.

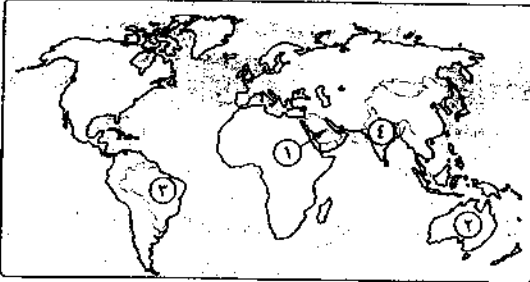
(د) ما العلاقة بين ، حرب فلسطين عام ١٩٤٨م، والجيش المصرى ؟

١٥ محافظة الفيوم

مديرية التربية والتعليم

جواب عنه

أولاً الجغرافيا



أجب عن الأسئلة الآتية:

(١) أمامك خريطة لقارات

العالم، اكتب فى كراسة

إجابتك مدلول الأرقام

الموقعة عليها ،

(١) أولى دول العالم إنتاجاً

للبنترول

(٢) أولى دول العالم إنتاجاً

للصوف

(٣) * أولى دول العالم إنتاجاً للسكر

(ب) كيف واجهت الهند المشكلة السكانية التى واجهتها ؟

(ج) صنف المحصولين الآتيين حسب النوع الذى ينتميان إليه موضحاً استخداماتهما ،

(١) القطن. (٢) القمح.

(د) صوب الكلمات التى تحتها خط فى كل عبارة مما يأتى :

(١) تهدف الزراعة الكثيفة للإنتاج التجارى الضخم.

(٢) * يستخدم القمح أو البنترول فى إنتاج الكهرباء المائية.

(٢) قارن بين : نيجيريا، والولايات المتحدة الأمريكية من حيث :

* العاصمة السياسية. * أهم الوردات المصرية من كل منهما.

(ب) اذكر الخام الذى يدخل فى الصناعات الآتية ،

(١) * صناعة علف الماشية. (٢) صناعة الأسلاك والأدوات الكهربائية.

(٣) صناعة إطارات السيارات. (٤) صناعة الألومنيوم.

(ج) اختر الإجابة الصحيحة مما بين القوسين ،

(١) الصين أولى دول العالم إنتاجاً للحوم ومعظم إنتاجها من لحوم

(الأبقار - الأغنام - الخنازير - الإبل)

(٢) تقع ألمانيا فى قارة أوروبا. (شرق - وسط - غرب - شمال)

(٣) من الدول المستوردة للحديد (موريتانيا - جنوب أفريقيا - البرازيل - بريطانيا)

(٤) أكبر الأقاليم الصناعية فى العالم الجديد إقليم

(غرب أستراليا - شمال شرق الولايات المتحدة - شرق آسيا الصناعى -

غرب ووسط أوروبا الصناعى)

الثانية المتوسطة

٢ (١) «يرى المفكرون أن الظلم وحده ليس دافعاً لقيام الثورات ولكن الشعور بالظلم هو الذى

- يحرك الشعوب نحو الثورات». فى ضوء هذه العبارة أجب عما يأتى ،
 (١) وضح تدهور الأوضاع الاقتصادية فى مصر قبل ثورة ٢٥ يناير ٢٠١١ م.
 (٢) نتائج ثورة ٢٠ يونيو ٢٠١٢ م.

(ب) اكتب ما تشير إليه كل عبارة من العبارات الآتية :

- (١) أولى المعارك التى انتصرت فيها القوات المصرية على القوات الإسرائيلية عقب هزيمة ١٩٦٧ م.
 (٢) جمعيات المجتمعات المحلية والمنظمات غير الحكومية والتقانات العمالية والجمعيات الخيرية وغيرها.
 (٣) * تشكيلات تكونت من أفراد المجتمع المصرى لحماية المنشآت أثناء ثورة ٢٥ يناير ٢٠١١ م.
 (٤) أعلى سلطة فى جامعة الدول العربية ولها مهام حددها ميثاق الجامعة.

(ج) ما النتائج التى ترتبت على ... ؟

- (١) حرب الاستنزاف بين مصر وإسرائيل.
 (٢) زيارة الرئيس السادات إلى إسرائيل عام ١٩٧٧ م.

٤ (١) صوب الكلمات التى تحتها خط فى العبارات الآتية :

- (١) أعطى مؤتمر لندن عام ١٩٢٠ لبريطانيا حق الانتداب على فلسطين.
 (٢) حصلت مصر على طابا بالقوة العسكرية.
 (٣) تنازل الملك فاروق عن العرش عام ١٩٥٢ لجمال عبدالناصر.
 (٤) ساعدت الولايات المتحدة إسرائيل فى أحداث ثغرة القنطرة أثناء حرب أكتوبر ١٩٧٣ م.

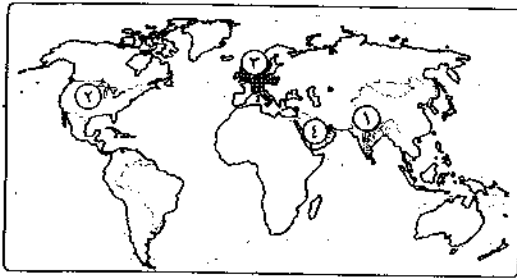
(ب) اختر الإجابة الصحيحة مما بين القوسين :

- (١) من أهم إنجازات ثورة ٢٣ يوليو ١٩٥٢ م فى المجال الاجتماعى
 (إلغاء الملكية - حل الأحزاب السياسية - مجانية التعليم - إنشاء السد العالى)
 (٢) يوجد مقر الأمانة العامة للأمم المتحدة فى مدينة
 (مدريد - روما - واشنطن - نيويورك)

- (٣) كان أول رئيس لجمهورية مصر العربية الرئيس
 (جمال عبدالناصر - محمد أنور السادات - محمد نجيب - محمد على)
 (٤) رفضت الدول العربية مشروع تقسيم عام ١٩٤٧ م.
 (ليبيا - سوريا - العراق - فلسطين)
 (ج) دلل على صحة العبارة الآتية : «لمنظمة اليونسكو دور ثقافى رائد فى مصر».

١٦ محافظة بنى سويف مديرية: شبة وسليم

أجب عن الأسئلة الآتية:



- ١ (١) أمامك خريطة للعالم، اكتب ما تشير إليه الأرقام ،
 (١) هضبة
 (٢) نوع الزراعة السائد فى هذه المنطقة
 (٣) إقليم صناعى
 (٤) أولى دول العالم إنتاجاً للبتروىل

(ب) صحح الكلمات التى تحتها خط فى الجمل الآتية :

- (١) تعد مصر أولى دول قارة أفريقيا من حيث عدد السكان.
 (٢) * يعتبر الذرة المحصول الغذائى لمعظم شعوب العالم.
 (٣) * تشتهر الصين بإنتاج الأصواف من أغنام المارينو.
 (٤) يوجد الحديد فى أفريقيا وآسيا فقط.

(ج) يم تفسر ... ؟

- (١) انتشار مصايد الأسماك على سواحل القارات.
 (٢) الصناعة هى العمود الفقرى للاقتصاد الألمانى.

٢ (١) اكتب ما تشير إليه كل عبارة من العبارات الآتية :

- (١) أكبر المدن النيجيرية وأكثرها تكديساً بالسكان وتعتبر العاصمة الاقتصادية.
 (٢) أكثر أنواع الفحم انتشاراً فى العالم وأكثرها استخداماً فى الصناعة.
 (٣) القوة الاقتصادية الأولى فى العالم وأولى الدول الصناعية السبع.
 (٤) يعد الخام الرئيسى لمعدن الألومنيوم.

(ب) أجب حسب المطلوب :

- (١) ما النتائج المترتبة على : وقوع مساحة كبيرة من البرازيل في المنطقة الاستوائية ؟
 (٢) انسب المدن الآتية إلى دولها، ثم اذكر سبب شهرتها.
 (١) حيدر أباد. (٢) ريودي جانيرو. (٣) واشنطن.

(ج) استخرج الاسم المختلف في المجموعات الآتية، ثم اذكر السبب :

- (١) الجوت - القطن - الكتان - النجر.
 (٢) ميونخ - برلين - شيكاغو - هامبورج.

لانيا

(١) اختر الإجابة الصحيحة مما بين القوسين :

- (١) بعد بيان ثورة يوليو ١٩٥٢م سيطر على جميع قطاعات الجيش.
 (محمد نجيب - جمال عبدالناصر - صلاح سالم - أنور السادات)
 (٢) تأسست الحركة الصهيونية في لندن على يد
 (بلفور - شارون - صهيون - هرتزل)
 (٣) أنشأ محمد علي عام ١٨٢٩م مجلس
 (شورى القوانين - المشورة - شورى النواب - الأمة)
 (٤) ساهمت مصر في تأسيس حركة عدم الانحياز في مؤتمر
 (جنيف - شرم الشيخ - بانكوك - باريس)

(ب) وضح العلاقة بين : معاهدة السلام ١٩٧٩م، والتنمية في مصر.

(ج) دلل تاريخياً على هذه العبارة : «شاركت المرأة المصرية في كافة المجالات منذ ١٩٨١م».

(د) ماذا كان يحدث إذا ... ؟

- (١) * لم تقم بريطانيا بإصدار وعد بلفور.
 (٢) * لم تقم ثورة ٢٣ يوليو ١٩٥٢م بإنجاز مشروع بناء السد العالي.

(١) إلى من تنسب الأعمال الآتية ... ؟

- (١) قام بدعوة الرئيس السادات ورئيس وزراء إسرائيل إلى مؤتمر كامب ديفيد.
 (٢) أشار على الخديو إسماعيل بإنشاء أول مدرسة للبنات في مصر.
 (٣) النظر في القضايا الدولية وتقديم الاستشارات القانونية للهيئات الدولية.

(ب) «قام الضباط الأحرار في الجيش المصري بثورة ٢٣ يوليو ١٩٥٢م والتي حققت أهداف

وإنجازات في جميع المجالات». في ضوء العبارة السابقة وضح :

- (١) ما أهداف «مبادئ» ثورة يوليو ١٩٥٢م.
 (٢) كيف قضت ثورة يوليو على الإقطاع في مصر.
 (٣) دور ثورة يوليو في تطوير الحياة النيابية في مصر.

(ج) ضع علامة (✓) أمام العبارة الصحيحة، وعلامة (X) أمام العبارة غير الصحيحة مع التصويب :

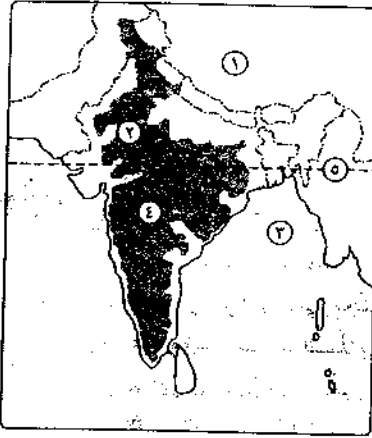
- (١) ظهرت الأحزاب المصرية (الوطنى والأمة والإصلاح) نتيجة ثورة ١٩١٩م. ()
 (٢) كان للدعم العربى دوراً كبيراً فى انتصار أكتوبر ١٩٧٣م. ()
 (٣) * زيادة الفوارق الاجتماعية بين طبقات المجتمع من أسباب ثورة ٢٥ يناير ٢٠١١م. ()
 (٤) * توفير مناخ الوحدة الوطنية أحد أنشطة منظمات المجتمع المدنى. ()

١٧ محافظة المنيا

مدينة المنيا والتربية والتعليم

أجب عن الأسئلة الآتية:

أولاً جغرافياً



- (١) أمامك خريطة لجمهورية الهند، اكتب في كراسة الإجابة ما تدل عليه الأرقام التالية :
- (١) دولة (٢) مدينة
 (٢) خليج (٤) هضبة
 (٥) دائرة عرض

(ب) ما النتائج المترتبة على ما يلي ... ؟

- (١) الوحدة الاقتصادية الأوروبية.
 (٢) تمتع نيجيريا بساحل طويل على خليج غينيا.
 (٣) امتلاك البرازيل ثروة حيوانية كبيرة.

- (٤) توافر كل مقومات الصناعة في الولايات المتحدة.
 (٥) توطين البدو لتدفق البترول في شبه جزيرة العربية وبادية الشام.

(١) صوب ما تحته خط، ثم أعد كتابة العبارة صحيحة في كراسة إجابتك :

- (١) أكبر قارات العالم إنتاجاً للقطن قارة أوروبا.
 (٢) * يزرع قصب السكر في المناطق المعتدلة الباردة.
 (٣) يُعد البوكسيت الخام الرئيسى لمعدن النحاس.
 (٤) * تحتل دولة أستراليا المركز الأول في إنتاج الفحم في العالم.
 (٥) * تقع مدينة شيكاغو على المحيط الأطلنطى.

(ب) في أي الدول تقع المدن الآتية ...؟ وما شهرة كل منها؟

- (١) إبيدآن. (٢) هامبورج. (٣) سان فرانسيسكو.
(٤) ريودي جانيرو. (٥) لاجوس.

ثانياً التاريخ

(١) اختر الإجابة الصحيحة مما بين القوسين :

- (١) * من إنجازات ثورة ٢٣ يوليو ١٩٥٢م في المجال العربي والدولي
(القضاء على الإقطاع - مجانية التعليم - تشكيل حركة عدم الانحياز - توقيع اتفاقية الجلاء)
(٢) أعطى مؤتمر لبريطانيا حق الانتداب على فلسطين عام ١٩٢٠م.
(لندن - أوسلو - مدريد - سان ريمو)
(٣) حصل على وسام نجمة سيناء الذي يعد أعلى الأوسمة العسكرية.
(أحمد إسماعيل - سعد الدين الشاذلي - عبدالمنعم رياض - محمد عبدالغنى الجمسى)
(٤) تم رفع العلم المصرى فوق شبه جزيرة سيناء بعد استعادتها كاملة ما عدا
(رفح - طابا - شرم الشيخ - نويبع)
(٥) أحد أجهزة الأمم المتحدة المسئول عن حفظ السلام والأمن الدوليين هو
(الجمعية العامة - المجلس الاقتصادى والاجتماعى - مجلس الأمن - الأمانة العامة)

(ب) يم تفسر ... ؟

- (١) هزيمة الجيش المصرى فى حرب فلسطين ١٩٤٨م.
(٢) العدوان الثلاثى على مصر ١٩٥٦م.
(٣) عقد مؤتمر مدريد للسلام بإسبانيا عام ١٩٩١م.
(٤) تدهور الأوضاع الاقتصادية فى مصر قبل ثورة ٢٥ يناير ٢٠١١م.
(٥) * إنشاء منظمة الأمم المتحدة عام ١٩٤٥م.

(١) اكتب كلمة (صح) أمام العبارة الصحيحة، وكلمة (خطأ) أمام العبارة غير الصحيحة، مع تصويب الخطأ :

- (١) كسرت مصر احتكار السلاح العالمى بصفقة الأسلحة الشرقية عام ١٩٥٢م. ()
(٢) قبلت مصر قرار مجلس الأمن رقم ٢٤٢ وامتنعت إسرائيل عن تنفيذه. ()
(٣) كان مؤتمر كامب ديفيد ١٩٧٨م بدعوة من الرئيس الأمريكى كارتر. ()
(٤) تم تعيين تهانى الجبالى أول قاضية مصرية عام ٢٠٠٢م بالحكمة الدستورية العليا. ()
(٥) يتم تعيين الأمين العام للأمم المتحدة عن طريق مجلس الوصاية. ()

(ب) اقرأ العبارة الآتية ثم أجب ، واكتسبت ثورة ٢٣ يوليو ١٩٥٢م أهمية كبيرة لما تركته

من آثار واضحة على أغلب الحركات التحريرية فى الوطن العربى والعالم.

- (١) اذكر ، (١) عوامل قيام ثورة ٢٣ يوليو ١٩٥٢م.
(٢) الدروس المستفادة من حرب أكتوبر ١٩٧٣م.
(٣) الهدف من إنشاء جامعة الدول العربية ١٩٤٥م.

(٢) لمن تنسب الأعمال الآتية ... ؟

- (١) إنشاء أول مدرسة لتعليم البنات عام ١٨٧٣م.
(٢) المساهمة فى إنقاذ معبد أبو سمبل عام ١٩٦٤م.



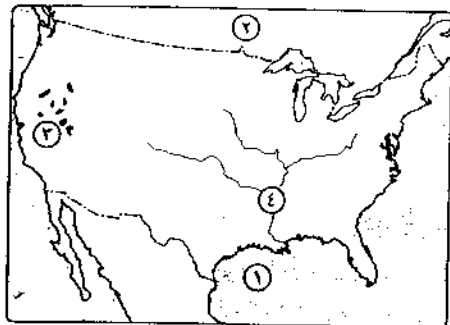
مديرية التربية والتعليم

محافظة أسيوط

١٨

اجب عن الأسئلة الآتية :

أولاً الجغرافيا



(١) أمامك خريطة للولايات المتحدة

الأمريكية، اكتب فى كراسة إجابتك
مدلول الأرقام الموقعة عليها ،

- (١) خليج (٢) دولة
(٣) جبال (٤) نهر

(ب) يم تفسر ... ؟

- (١) تحتل الصين المركز الأول فى
العالم لإنتاج الأسماك.

- (٢) عدم إنتاج قصب السكر فى قارة أوروبا.
(٣) الأهمية الاقتصادية محدودة لثروة الهند من الأبقار.
(٤) تركز سكان نيجيريا فى الغرب وهضبة جوس والسهول الشمالية.

(ج) فى أى الدول تقع كل مدينة مما يأتى ...؟ وما شهرتها؟ (١) نيودلهى. (٢) ريودي جانيرو.

(١) ضع علامة (✓) أمام العبارة الصحيحة، وعلامة (X) أمام العبارة غير الصحيحة ،

- (١) تنتشر الزراعة التجارية والعلمية على هوامش الغابات الاستوائية. ()
(٢) * قارة أوروبا أكبر قارات العالم فى إنتاج المطاط الطبيعى. ()
(٣) يجرى نهر النيجر فى الأراضى النيجيرية وتعتمد عليه فى الزراعة والرعى. ()
(٤) البرازيل أكبر دول قارة أمريكا الجنوبية فى إنتاج النحاس. ()

(ب) اختر الإجابة الصحيحة مما بين القوسين لكل مما يلي :

- (١) أولى قارات العالم فى إنتاج القمح (أفريقيا - أوروبا - أستراليا - آسيا)
 (٢) * الأطراف الجنوبية فى نييجيريا تقع فى نطاق المناخ
 (الصحراوي - المعتدل - الاستوائى - البارد)
 (٣) تقع ألمانيا قارة أوروبا . (شرق - غرب - شمال - جنوب)
 (٤) * تعد دولة أولى دول العالم إنتاجًا للغاز الطبيعي .
 (فرنسا - السعودية - الولايات المتحدة - روسيا)

(ج) اكتب ما تعبر عنه كل عبارة مما يأتى :

- (١) * عاصمة نييجيريا وتعد مدينة داخلية حديثة.
 (٢) حرفة يمارسها سكان المناطق الصحراوية فى مساحات واسعة من قارات العالم.

ثانياً التسمية

(١) اختر الإجابة الصحيحة مما بين القوسين :

- (١) وضعت فلسطين تحت الانتداب البريطانى وفقاً لقرار مؤتمر
 (أوصلو - مدريد - سان ريمو - كامب ديفيد)
 (٢) عُقدت اتفاقية بين مصر وإسرائيل عام ١٩٧٩م برعاية
 (ألمانية - أمريكية - أوروبية - يابانية)
 (٣) عام ١٩٤٧م رفضت الدول العربية مشروع تقسيم
 (مصر - فلسطين - السودان - سوريا)
 (٤) * عقد مؤتمر باندونج بدولة عام ١٩٥٥م .
 (ليبيا - إندونيسيا - السعودية - مصر)

(ب) يم تفسر ... ؟ (١) العدوان الثلاثى على مصر .

(٢) أهمية منظمة الأغذية والزراعة (الفاو) لسكان العالم .

(ج) اكتب ما تعبر عنه كل عبارة مما يأتى :

- (١) أهم أجهزة هيئة الأمم المتحدة المسئول عن حفظ السلام والأمن الدوليين .
 (٢) * قانون صدر فى سبتمبر ١٩٥٢م حدد الملكية الزراعية .

(١) أكمل ما يأتى :

- (١) أفسحت حرب أكتوبر ١٩٧٣م المجال للمفاوضات السياسية وأنهت حالة
 (٢) دعمت الدولة المرأة على كافة المستويات فعينت أول مائدة شرعية .

(ب) إلى من تنسب الأعمال الآتية ... ؟

- (١) أنشأ مجلس المشورة ١٨٢٩م . (٢) فيلسوف ومفكر أسس حزب الأمة .
 (٣) أذاع أول بيان لثورة ٢٣ يوليو ١٩٥٢م من الإذاعة المصرية .
 (٤) تولى التخطيط والتنسيق على الجبهة المصرية والسورية فى حرب أكتوبر ١٩٧٣م .
 (ج) «تعتبر ثورة ٣٠ يونيو ٢٠١٣م مكملة لنضال طويل ممتد للشعب المصرى الذى ثار ضد الفساد والاحتلال وسوء الحكم منذ قيام الثورة العربية وحتى قيام هذه الثورة» .

فى ضوء هذه العبارة أجب :

- (١) اذكر أسباب قيام ثورة ٢٥ يناير ٢٠١١م .
 (٢) ما إنجازات ثورة ٢٣ يوليو ١٩٥٢م فى المجال الصناعى ؟

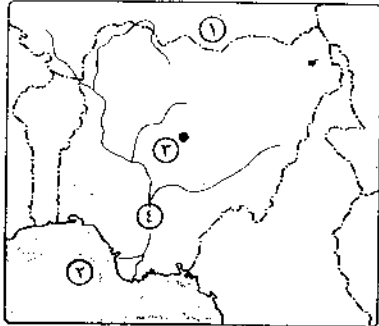
مديرية التربية والتعليم

١٩ محافظة سوهاج

أجب عن الأسئلة الآتية :

أولاً

الجغرافيا



(١) أمامك خريطة لدولة نييجيريا، اكتب فى كراسة

إجابتك مدلول الأرقام الموضحة عليها :

- (١) دولة
 (٢) خليج
 (٣) مدينة
 (٤) نهر

(ب) اختر الإجابة الصحيحة مما بين القوسين :

- (١) تحتل دولة المركز الأول فى إنتاج الشاي فى العالم .
 (الهند - الصين - البرازيل - فرنسا)
 (٢) تعد دولة تانى دول العالم فى إنتاج البترول .
 (السعودية - الولايات المتحدة الأمريكية - روسيا - الصين)
 (٣) * يستخرج معدن من هضبة جوس بنيجيريا .
 (الحديد - القصدير - النحاس - الفوسفات)
 (٤) تسود حرفة الرعى التجارى فى دولة (بيرو - شيلي - البرازيل - الأرجنتين)
 (ج) قارن بين ، الهند، والبرازيل من حيث علاقة كل منهما بمصر .

٢ (١) بم تفسر ... ؟

- (١) تنوع المناخ واختلافه من منطقة لأخرى في الولايات المتحدة.
 (٢) بدأت حرفة الرعي تقل في دول وسط آسيا.
 (٣) يُعد البترول أهم مصادر الطاقة في العالم.
 (٤) تُعد الصين من أوائل الدول الرئيسية المنتجة للأسماك.

(ب) أين توجد المدن الآتية ... ؟ وما شهرتها ؟

- (١) برلين. (٢) برازيليا. (٣) بومباي. (٤) شيكاغو.

التاريخ

٣ (١) اكتب كلمة (صح) أمام العبارة الصحيحة، وكلمة (خطأ) أمام العبارة غير الصحيحة :

- (١) تولت حكمت أبو زيد منصب أول وزيرة للشئون الاجتماعية عام ١٩٦٢م. ()
 (٢) مقر الامانة العامة للأمم المتحدة مدينة نيويورك بالولايات المتحدة. ()
 (٣) أسس الحزب الوطني المفكر أحمد لطفى السيد. ()

(ب) ددل على صحة العبارات الآتية :

- (١) كان لثورة ٢٣ يوليو ١٩٥٢ إنجازات في مجال الزراعة.
 (٢) لعبت الدول العربية دوراً مهماً في حرب أكتوبر ١٩٧٣م.
 (٣) لفلسطين أهمية خاصة في قلب كل عربي «مسلم/مسيحي».

(ج) ماذا كان يحدث إذا : لم يخضامن الجيش مع الشعب أثناء ثورة ٢٥ يناير ٢٠١١م ؟

٤ (١) صوب ما تحته خط وأعد كتابة العبارات الآتية :

- (١) أعطى مؤتمر مدريد لبريطانيا حق الانتداب على فلسطين عام ١٩٢٠م.
 (٢) عُقد مؤتمر باندونج بالسويد عام ١٩٥٥م.
 (٣) الدستور يطلق على المجالس النيابية التي تتولى السلطة التشريعية في الدولة.
 (٤) أصدرت هيئة التحكيم الدولية حكمها لصالح مصر عام ١٩٨٩م في استرداد العريش.

(ب) ما النتائج التي ترتبت على ... ؟

- (١) هزيمة ٥ يونيو ١٩٦٧م. (٢) تحقيق السلام وإنهاء الصراع العربي الإسرائيلي.

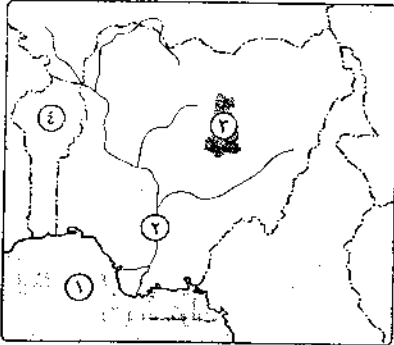
(ج) من أكون ... ؟

- (١) شاركت في تطوير القوات المسلحة ووضعت خطة لعبور قناة السويس وتحطيم خط بارليف عام ١٩٧٣م.
 (٢) المسئول عن حفظ الأمن والسلام الدوليين وسلطتي قانونية على حكومات الدول الأعضاء.

٢٠ محافظة قنا

مديرية التربية والتعليم

أجب عن الأسئلة الآتية:



١ (١) أمامك خريطة لدولة نيجيريا، اكتب

مدلول الأرقام الموقعة عليها :

- (١) خليج (٢) نهر
 (٣) هضبة (٤) دولة

(ب) بم تفسر ... ؟

- (١) توسع الصناعة الألمانية بعد الحرب العالمية الثانية.
 (٢) يُعد النشاط الزراعي من الأنشطة الاقتصادية الأساسية في العالم.

(ج) ما المقصود بكل من ... ؟ (١) الزراعة الكثيفة. (٢) الفحم.

٢ (١) اختر الإجابة الصحيحة مما بين القوسين :

- (١) تعتبر العمود الفقري للاقتصاد الألماني.
 (الزراعة - الصناعة - التجارة - الثروة الحيوانية)
 (٢) يوجد بالبرازيل ثروة معدنية كبيرة أهمها
 (البوكسيت - النحاس - الذهب - الرصاص)
 (٣) تُعد دولة أكبر دول العالم إنتاجاً للألومنيوم.
 (فرنسا - كندا - اليابان - الولايات المتحدة الأمريكية)
 (٤) أكبر الدول المنتجة لبتنجر السكر في أفريقيا
 (الجزائر - مصر - المغرب - تونس)

(ب) أمامك مجموعة من المدن حدد ما تشتهر به، والدولة التي تنتمي إليها :

- (١) بومباي. (٢) ساوباولو. (٣) هامبورج. (٤) شيكاغو.

(ج) * قارن بين : المطاط الطبيعي، والشاي من حيث أهم الدول المنتجة في العالم.

التاريخ

٣ (١) أكمل العبارات التالية بما يناسبها من الكلمات التي بين القوسين :

- (مريد - باندونج - كارتر - السنية - العقبة - اليوتيسيف - مونترو)
 (١) ظهر دور مصر الرائد في مؤتمر باندونيسيا عام ١٩٥٥م لتشكيل حركة عدم الانحياز.

- (٢) عُقد مؤتمر للسلام عام ١٩٩١م تأكيداً على مبدأ الأرض مقابل السلام.
 (٣) أغلقت مصر في مايو ١٩٦٧م خليج في وجه الملاحه الإسرائيلية.
 (٤) دعا الرئيس الأمريكي إلى مؤتمر كامب ديفيد عام ١٩٧٨م.
 (٥) أنشأ الخديو إسماعيل مدرسة لتعليم البنات عام ١٨٧٣م.
 (٦) منظمة الأمم المتحدة الوحيدة المتخصصة في مجال الطفولة هي

(ب) برهن بالأدلة التاريخية على صحة كل عبارة مما يأتي :

- (١) * حققت ثورة ٢٣ يوليو إنجازات ملموسة في المجال الاجتماعي.
 (٢) * للسلام مزايا عديدة لمصر ولوطننا العربي.

(٤) (١) صوب ما فوق الخط في العبارات الآتية :

- (١) من عوامل قيام ثورة ٢٣ يوليو ١٩٥٢م فساد النظام الجمهوري.
 (٢) استعادت مصر من إسرائيل في مارس ١٩٨٩م مدينة رفح.
 (٣) استولت إسرائيل في عدوان ٥ يونيو ١٩٦٧م على هضبة نجد من سوريا.
 (٤) عين الرئيس السادات حكمت أبو زيد وزيرة للشئون الاجتماعية عام ١٩٧١م.
 (ب) وكافح الشعب المصري خلال مراحل التاريخ المختلفة من أجل الاستقلال والستور والحرية.
 على ضوء هذه العبارة أجب عما يأتي :
 (١) ما المقصود بـ : الحياة النيابية ؟
 (٢) بم تفسر : فشل العدوان الثلاثي على مصر ؟
 (٣) ما رأيك في : مبادرة الرئيس السادات بزيارة إسرائيل من أجل السلام ١٩٧٧م ؟

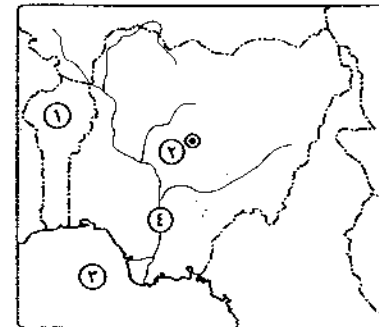


مديرية التربية والتعليم

محافظة الأقصر

٢١

أجب عن الأسئلة الآتية، **أولاً** الجغرافيا



(٧) (١) أمامك خريطة لدولة نيجيريا، اكتب في كراسة

إجابتك مدلول الأرقام الموقعة عليها :

(١) دولة من دول الجوار

تحدها غرباً

(٢) العاصمة الحديثة

(٣) خليج

(٤) نهر

(ب) بم تفسر ... ؟

- (١) يُعد النشاط الزراعي من الأنشطة الاقتصادية الأساسية في العالم.
 (٢) * شهرة القطن المصري والسوداني.
 (٣) التوسع في استخدام الغاز الطبيعي كمصدر للطاقة.

(٢) (١) اختر الإجابة الصحيحة مما بين القوسين :

- (١) تعتبر مدينة العاصمة التجارية للهند ومن أكبر المدن الصناعية.
 (لاجوس - نيودلهي - بومباي - حيدر آباد)
 (٢) تُعد أستراليا من أهم الدول المنتجة (للدواجن - الذرة - اللصوف - للأسماك)
 (٣) * من المراكز الصناعية الحديثة في قارة أمريكا الجنوبية
 (البرازيل - فنزويلا - بيرو - كندا)
 (٤) من المحاصيل التي تستخدم في تصنيع إطارات السيارات
 (القطن - الجوت - المطاط الطبيعي - الكتان)

(ب) أعد كتابة كل عبارة مما يأتي بعد تصويب ما تحته خط :

- (١) يزرع قصب السكر في معظم قارات العالم ما عدا قارة آسيا.
 (٢) أكثر أنواع الفحم انتشاراً واستخداماً في الصناعة اللجنيت.

(ج) قارن بين : دولة ألمانيا، ودولة البرازيل من حيث :

- * القارة التي تنتمي إليها. * ما تصدره مصر لها.

للتربية

(٣) (١) ضع علامة (✓) أمام العبارة الصحيحة، وعلامة (X) أمام العبارة غير الصحيحة :

- (١) أدى توقيع مصر معاهدة ١٩٣٦م إلى جعل مصر ميداناً لمعارك الحرب
 العالمة الثانية. ()
 (٢) منظمات المجتمع المدني هي جمعيات تابعة للحكومة. ()
 (٣) قامت القوات المسلحة بحماية الممتلكات والمواطنين في ثورة ٢٥ يناير ٢٠١١م. ()
 (٤) كانت مساندة مصر لثورة الجزائر من أسباب العدوان الثلاثي على
 مصر عام ١٩٥٦م. ()

(ب) ما المقصود بكل من ... ؟ (١) الانتداب. (٢) الحياة النيابية.

(ج) ما الأدلة التاريخية التي تثبت أن ... ؟

- (١) مؤتمر سان ريمو ١٩٢٠م كان أحد أسباب المشكلة الفلسطينية.
(٢) * كان لثورة ٢٣ يوليو إنجازات في المجال السياسي.

(١) بم تفسر ... ؟

- (١) ظهور تنظيم الضباط الأحرار. (٢) زيارة الرئيس السادات للقدس ١٩٧٧م.

(ب) لمن تنسب الأعمال الآتية ... ؟

- (١) التخطيط والتنسيق على الجبهتين المصرية والسورية في حرب أكتوبر ١٩٧٣م.
(٢) تقديم مبادرة وقف إطلاق النار وحل الصراع العربي/الإسرائيلي سلمياً عام ١٩٦٩م.

(ج) اكتب أهم النتائج لكل حدث مما يأتي :

- (١) هزيمة العرب في حرب فلسطين ١٩٤٨م. (٢) * مؤتمر كامب ديفيد ١٩٧٨م.

محافظة أسوان

مديرية التربية والتعليم

أجب عن الأسئلة الآتية :

أولاً جغرافياً

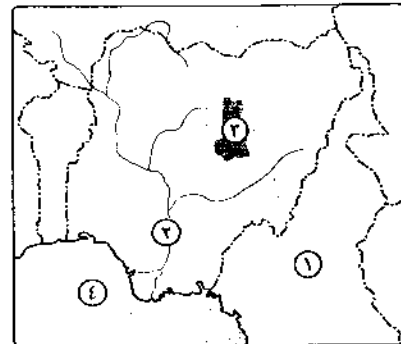
(١) أملك خريطة لدولة نيجيريا، وضع

مدلول الأرقام الآتية :

- (١) دولة (٢) نهر
(٣) هضبة (٤) خليج

(ب) قارن بين :

- (١) القومات الطبيعية والبشرية لكل من الإنتاج السمكي، والإنتاج الصناعي في العالم.



(٢) العلاقات بين مصر وكل من الهند، وألمانيا من حيث التبادل التجاري.

(ج) حدد المدينة المختلفة في كل مجموعة مما يلي ثم انسب هذه المجموعة للدولة المناسبة لها :

- (١) حيدر أباد - نيويورك - نيودلهي - بومباي.
(٢) ساوباولو - ريو دي جانيرو - شيكاغو - برازيليا.
(٣) هامبورج - ميونخ - برلين - لاجوس.
(٤) إبيادان - واشنطن - نيويورك - شيكاغو.

(٢) اختر من القائمة (ب) ما يناسب القائمة (أ) :

(ب)	(أ)
(١) عادة يعطو البترول لخفة وزنه.	(١) * القمح
(ب) يستخدم كعلف للحيوانات.	(٢) اليوكسيت
(ج) الصين أكبر دول العالم إنتاجاً له.	(٣) * المطاط الطبيعي
(د) أولى دول العالم المنتجة له تايلاند.	(٤) الغاز الطبيعي
(هـ) الخام الرئيسي لمعدن الألومنيوم.	

(ب) بم تفسر الآتي ... ؟

- (١) اعتبار-النشاط الزراعي من الأنشطة الاقتصادية الأساسية في العالم.
(٢) احتلال أستراليا والصين المراكز الأولى في إنتاج الأغنام.
(٣) تعاني دولة البرازيل من قلة السكان رغم أن عدد سكانها ٢٠٢ مليون نسمة.
(٤) تنوع المناخ في الولايات المتحدة الأمريكية.

(ج) من وجهة نظرك ، كيف يمكن تحقيق جودة الإنتاج الصناعي في مصر ؟

ثانياً تاريخ

(١) اختر الإجابة الصحيحة مما بين القوسين :

- (١) بعد إلغاء الملكية تم تعيين اللواء أول رئيس للجمهورية المصرية.
(محمد نجيب - السادات - محمد نجيب - جمال عبدالناصر)
(٢) تم وضع فلسطين تحت الانتداب الإنجليزي طبقاً لقرارات مؤتمر
(سان ريمو - كامب ديفيد - مدريد - الآستانة)
(٣) تولى القيادة العامة الموحدة لمصر وسوريا خلال حرب أكتوبر ١٩٧٣م.
(عبدالمنعم رياض - سعد الدين الشاذلي - محمد عبدالقنى الجمسى - أحمد إسماعيل)
(٤) منظمة دولية ساهمت في إنقاذ معابد أبو سمبل وإحياء مكتبة الإسكندرية هي
(القاو - اليونيسيف - اليونسكو - الصحة العالمية)

(ب) ماذا كان يحدث إذا ... ؟

- (١) لم يتم إنجاز مشروع السد العالي في مصر.
(٢) نفذت إسرائيل قرار مجلس الأمن رقم «٢٤٢» لعام ١٩٦٧م.

(ج) ما النتائج التي تترتب على ... ؟

- (١) العدوان الثلاثي على مصر عام ١٩٥٦م.
(٢) تحقيق السلام وإنهاء الصراعات والحروب في المنطقة العربية.

٤ (١) «الثورات التي تقوم بها الشعوب تهدف دائماً إلى تحقيق الإصلاح والعدالة، والقضاء

على الظلم والفساد». في ضوء العبارة وضع :

(١) دور ثورة ٢٣ يوليو في تحقيق إنجازات اجتماعية.

(٢) الأوضاع الاقتصادية ودورها في قيام ثورة ٢٥ يناير ٢٠١١م.

(٣) بعض الأنشطة التي تقوم بها منظمات المجتمع المدني في مصر.

(٤) رأيك في دعم العرب لمصر وسوريا أثناء حرب أكتوبر ١٩٧٣م.

(ب) اذكر الأحداث التاريخية التي وقعت في كل تاريخ من التواريخ التالية :

(١) مارس ١٩٤٥م. (٢) يونيو ١٩٧٧م. (٣) * مارس ١٩٨٩م.

(ج) اكتب المصطلح المناسب لكل عبارة مما يلي :

(١) تنظيم كونه ضباط الجيش المصري يهدف إلى استقلال الوطن والقضاء على فساد الحكم.

(٢) وثيقة رسمية تحدد نظام الحكم في الدولة وتحدد شكل واختصاصات المؤسسات

الدستورية المختلفة.

(٣) منظمة عالمية أنشئت عام ١٩٤٥م، تضم جميع دول العالم المستقلة ومقرها نيويورك.



أجب عن الأسئلة الآتية :

٥ (١) أمامك خريطة للدولة ألمانيا، اكتب مدلول

الأرقام الموضحة عليها بكتابة الإجابة :

(١) السهل

(٢) العاصمة

(٣) دولة

(٤) بحر

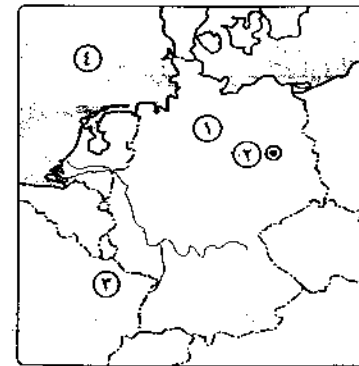
(ب) بم تفسر ... ؟

(١) تتطلب الزراعة الكثيفة أيدي عاملة وفيرة.

(٢) يُعد البترول أهم مصادر الطاقة في العالم.

(٣) تمتلك البرازيل ثروة حيوانية كبيرة.

(٤) ممارسة الإنسان للأنشطة الاقتصادية البدائية في الماضي.



(ج) حدد أولى قارات العالم إنتاجاً لكل مما يأتي :

(١) القمح. (٢) الذرة. (٣) * القطن. (٤) * الفحم.

٦ (١) اكتب كلمة (صح) أمام العبارة الصحيحة، وكلمة (خطأ) أمام العبارة غير الصحيحة :

(١) يوجد الرعي البدائي في مناطق الشنشايش القصيرة بأمريكا الشمالية. ()

(٢) يوجد الحديد في جميع قارات العالم. ()

(٣) إقليم غرب ووسط أوروبا من أكبر الأقاليم الصناعية بالعالم الجديد. ()

(٤) شيكاغو أكبر الموانئ الأمريكية على المحيط الأطلنطي. ()

(ب) قارن بين : الهند، ونيجيريا من حيث :

* القارة. * مناطق تركيز السكان. * ما تصدره مصر لها.

(ج) اكتب ما تشير إليه كل عبارة من العبارات الآتية :

(١) من المحاصيل المدارية الحارة المنتجة للسكر يزرع في كل القارات عدا أوروبا.

(٢) مادة تستخرج من عصارة الأشجار الاستوائية يصنع منها إطارات السيارات.

(٣) تُعد واحدة من أجمل مدن العالم والعاصمة القديمة للبرازيل.

٧ لتاريخ

(١) اختر الإجابة الصحيحة مما بين القوسين :

(١) وقعت اتفاقية الجلاء عن مصر في

(يونيو ١٩٥٢م - أكتوبر ١٩٥٤م - نوفمبر ١٩٥٢م - يناير ١٩٥١م)

(٢) تم عقد مؤتمر كامب ديفيد ١٩٧٨م برعاية

(أمريكية - روسية - فرنسية - إنجليزية)

(٣) * تُعد أول مآذونة شرعية في مصر.

(أمال عثمان - أمل سليمان عفيفي - عائشة راتب - هدى شعراوي)

(٤) * يوجد مقر محكمة العدل الدولية في مدينة

(نيويورك - روما - لاهاي - جنيف)

(ب) برهن تاريخياً على صحة كل عبارة من العبارات الآتية :

(١) كانت هزيمة الجيش المصري في حرب فلسطين ١٩٤٨م سبباً في قيام ثورة ٢٣ يوليو.

(٢) * لثورة ٢٣ يوليو ١٩٥٢م العديد من الإنجازات في مجال الزراعة.

(٣) لمنظمات المجتمع المدني دور فعال في تقديم الخدمات الاجتماعية.

(ج) (من أكون ... ؟ (١) مفتي القدس الذي قاد اللجنة العربية في ثورة ١٩٣٦م.

(٢) * مؤسس الحركة الصهيونية.

(٣) المنظمة الوحيدة المتخصصة في حماية حقوق الأطفال.

٤ (١) أكمل الفراغات الآتية بما يناسبها :

- (١) تحققت أول وحدة عربية بين مصر وسوريا عام
- (٢) كان الهدف من قيام ثورة ٢٢ يوليو ١٩٥٢م هو التخلص من الاحتلال
- (٣) تتكون السلطة التشريعية في جمهورية مصر العربية من مجلس
- (٤) أول قاضية مصرية تم تعيينها بالمحكمة الدستورية العليا عام ٢٠٠٢م هي

(ب) ما النتائج التي تترتبت على ... ؟

- (١) العدوان الثلاثي على مصر ١٩٥٦م.
- (٢) إقامة حائط للصواريخ على الضفة الغربية للقناة في حرب الاستنزاف.
- (٣) * ثورة ٢٠ يونيو ٢٠١٣م.

(ج) «إن اختيار السلام بدلاً من الحرب التي تستنزف الموارد الاقتصادية يعود بالنفع على

وطنتنا العربية». في ضوء هذه العبارة أجب عما يأتي :

- (١) كيف كان الاستعداد الجيد لحرب أكتوبر ١٩٧٣م سبباً في النصر ؟
- (٢) ما رأيك في : مؤتمر مدريد للسلام عام ١٩٩١م ولماذا اشتركت فيه مصر بفاعلية ؟
- (٣) أثبت أن : منظمة الأمم المتحدة منظمة عالمية في أهدافها.



مديرية التربية والتعليم

محافظة جنوب سيناء

٢٤

أولاً الجغرافيا

أجب عن الأسئلة الآتية :



١ (١) أمامك خريطة للعالم، اكتب

- في كراسة إجابتك مدلول الأرقام الموضحة عليها :
- (١) أولى قارات العالم إنتاجاً للذرة
- (٢) دولة منتجة لأصواف المارينسو

(٣) دولة يتركز بها إنتاج النحاس

(٤) إقليم صناعي

(ب) بم تفسر ... ؟ (١) أهمية النشاط الزراعي في العالم.

(٢) تنتشر مناطق الأسماك على سواحل القارات.

(ج) ماذا يحدث إذا : اتجه العالم نحو الزراعة الواسعة المتقدمة ؟

٢ (١) اكتب كلمة (صح) أمام العبارة الصحيحة، وكلمة (خطأ) أمام العبارة غير الصحيحة،

مع تصويب الخطأ :

- (١) تُعد مصر من أكبر الدول الأفريقية المنتجة لبنجر السكر. ()
- (٢) الصين أكبر دول العالم إنتاجاً للحوم ومعظمها من الأبقار. ()
- (٣) الولايات المتحدة الأمريكية من أكبر الدول إنتاجاً لمعدن الألومنيوم. ()
- (٤) تتمو حشائش الساقانا في حوض الأمازون بالبرازيل. ()
- (٥) يسود ألمانيا المناخ المداري الحار طول العام. ()

(ب) قارن بين : دولة الهند، ودولة نيجيريا من حيث : * الصناعة. * أهم المدن.

(ج) من وجهة نظرك : هل تتوافر في الوطن العربي مقومات الصناعة ليصبح منطقة

صناعية عالمية ؟ أيد إجابتك.

ثانياً التاريخ

٢ (١) لمن تنسب الأعمال الآتية ... ؟

- (١) مفتي القدس وقائد ثورة ١٩٢٦م في فلسطين.
- (٢) تولي القيادة العامة الموحدة للقوات المصرية السورية وقاد خطة الخداع ضد إسرائيل في حرب أكتوبر ١٩٧٣م.
- (٣) أنشأ أول مدرسة لتعليم البنات في مصر عام ١٨٧٣م.
- (٤) قام بإنشاء مجلس المشورة عام ١٨٢٩م.

(ب) ما النتائج التي تترتبت على ... ؟

- (١) العدوان الثلاثي على مصر عام ١٩٥٦م.
- (٢) ثورة ٢٠ يونيو عام ٢٠١٣م.

(ج) ماذا كان يحدث إذا ... ؟

- (١) لم يتضامن الجيش مع الشعب أثناء ثورة ٢٥ يناير ٢٠١١م.
- (٢) لم تتصارع الأحزاب السياسية المصرية في مرحلة ما بعد ثورة ١٩١٩م.

٤ «لمصر دور ريادي في إنهاء الصراع العربي/الإسرائيلي وإقرار السلام».

في ضوء هذه العبارة أجب عما يأتي :

(١) ما المقصود بكل من ... ؟ (١) الانتداب. (٢) دستور. (٣) المنظمات الإقليمية.

(ب) دال على صحة كل عبارة من العبارات الآتية :

(١) حققت ثورة ٢٣ يوليو إنجازات عديدة في مجال الصناعة.

(٢) للسلام مزايا عديدة لمصر والأمة العربية.

(٣) قامت منظمة اليونسكو بدور ثقافى مهم فى مصر.

(ج) ما العلاقة بين سياسة الانفتاح الاقتصادى، وسوء الأحوال الاقتصادية فى مصر ؟



٢٥ محافظة شمال سيناء مدينة نهرية وتعليمية

أولاً الجغرافيا اجيب عن الأسئلة الآتية:

١ (١) أمامك خريطة للعالم، اكتب

مدلول الأرقام الموضحة عليها :

(١) * أولى دول العالم فى

إنتاج الألمنيوم

(٢) أولى دول العالم

إنتاجاً للبتروول

(٣) أولى قارات العالم إنتاجاً للطاقة النووية

(٤) أولى دول العالم إنتاجاً للأسماك

(ب) اختر الإجابة الصحيحة مما بين القوسين :

(١) * تُعد قارة آسيا أولى قارات العالم فى إنتاج

(القمح - المطاط الطبيعي - القطن - جميع ما سبق)

(٢) * تسود الغابات على السواحل الغربية للهند.

(الاستوائية - الموسمية - المدارية - المخروطية)

(٣) تصدر مصر إلى الهند القطن وتستورد منها

(الشاي - الأسمدة - الفوسفات - الجلود)

(ج) يم تفسر ... ؟

(١) زيادة معدل الاستهلاك العالمى من اللحوم.

(٢) تركيز زراعة البنجر فى معظم دول قارة أوروبا.

(٣) تُعد الولايات المتحدة الأمريكية القوة الصناعية الأولى فى العالم.

٢ (١)

اكتب المصطلح الجغرافى الذى تدل عليه كل عبارة من العبارات الآتية :

(١) زراعة تتم فى مزارع واسعة وتهدف إلى الإنتاج التجارى الضخم.

(٢) الخام الرئيسى لمعدن الألمنيوم.

(٣) * تعد الهند ثالث دول العالم إنتاجاً له وتوجد مناجمه فى هضبة الدكن.

(٤) منطقة تعتبر من أهم مناطق الجذب السياحى فى ألمانيا.

(ب) انقل الجدول التالى فى كراسة إجابتك، ثم اكمل المطلوب فى الفراغات :

الولاية	المدينة	شهرة المدينة
نيجيريا	(١)	أكبر مدن نيجيريا وأكثرها سكاناً وتعتبر العاصمة الاقتصادية
(٢)	ريودى جانيرو	(٣)
ألمانيا	(٤)	العاصمة السياسية

(ج) ماذا يحدث إذا توسعت مصر فى إنشاء محطات لتوليد الطاقة النووية ؟

التاريخ

٢ (١)

ضع علامة (✓) أمام العبارة الصحيحة، وعلامة (X) أمام العبارة غير الصحيحة، مع التصويب :

(١) قبلت كل من مصر وإسرائيل قرار مجلس الأمن رقم ٢٤٢ ()

(٢) كان سوء الأوضاع الاجتماعية من عوامل قيام ثورتى مصر

فى ٢٣ يوليو ١٩٥٢م، ٢٥ يناير ٢٠١١م. ()

(٣) تعرف المرحلة الثانية من إعادة بناء القوات المسلحة بعد هزيمة ١٩٦٧م

بالحرب الإلكترونية. ()

(٤) انعقد مؤتمر مدريد للسلام عام ١٩٩١م على أساس مبدأ الأرض مقابل السلام. ()

(ب) أكمل العبارات الآتية :

(١) يوجد مقر الأمانة العامة للأمم المتحدة فى مدينة بالولايات المتحدة الأمريكية.

(٢) صدر دستور جديد لمصر عام ١٩٧١م عرف بالدستور

(٣) قامت الوحدة بين مصر وسوريا فى فبراير من عام

(٤) صدرت أول مجلة نسائية فى مصر باسم وأصدرتها جميلة حافظ عام ١٩٠٧م.

(ج) ما النتائج التى ترقبت على كل من ... ؟

(١) فشل العدوان الثلاثى على مصر عام ١٩٥٦م.

(٢) إصدار حكومة الثورة فى مصر قوانين الإصلاح الزراعى.

٤ (١) من يكون ... ؟

- (١) مفتى القدس وقائد الثورة الفلسطينية عام ١٩٣٦م.
 (٢) أول رئيس جمهورية لمصر بعد إلغاء الملكية وإعلان الجمهورية.
 (٣) وزير الحربية المصرى الذى تولى القيادة الموحدة للقوات المصرية السورية فى حرب أكتوبر ١٩٧٣م.
 (٤) رئيس مصر الذى سمح بقيام ثلاثة منابر للرأى عام ١٩٧٦م.

(ب) برهن تاريخياً على صحة كل عبارة مما يأتى :

- (١) الأمم المتحدة منظمة عالمية فى أهدافها.
 (٢) حققت مبادرة الرئيس أنور السادات للسلام عام ١٩٧٧م أهدافها.

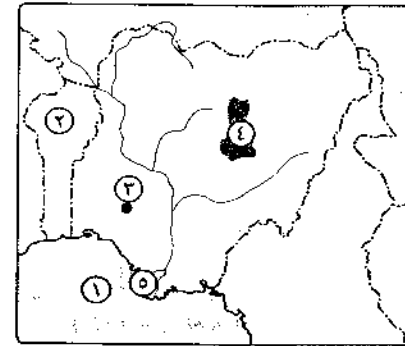
(ج) ما رأيك فى : الدعم العربى لمصر وسوريا أثناء حرب أكتوبر ١٩٧٣م ؟

٢٦ اجب عن الأسئلة الآتية : **أولاً الجغرافيا**

٨ (١) أمامك خريطة لدولة نيجيريا،

اكتب مدلول الأرقام الموقعة أمامك :

- (١) خليج (٢) دولة
 (٣) مدينة (٤) هضبة
 (٥) محصول غذائى يزرع فى دلتا
 نهر النيجر وتعد ثانياً دول أفريقيا
 إنتاجاً له بعد مصر



(ب) اذكر الأهمية الاقتصادية لكل مما يأتى :

- (١) الغاز الطبيعى.
 (٢) * الحديد.

(ج) قارن بين : الهند، والبرازيل من حيث :

- * أحد الموانئ. * النبات الطبيعى. * ما تستورده مصر منها.

٢ (١) اكتب كلمة (صح) أمام العبارة الصحيحة، وكلمة (خطأ) أمام العبارة غير الصحيحة،

مع تصويب الخطأ :

- (١) تُعد البرازيل أولى دول العالم إنتاجاً للسكر. ()

(٢) من المراكز الصناعية الحديثة فى العالم بجنوب شرق آسيا ماليزيا. ()

(٣) تعتبر الولايات المتحدة الأمريكية أكبر دول العالم إنتاجاً لخام البوكسيت

() وبالتالى معدن الألمنيوم.

(٤) تُعد أمريكا الشمالية أولى قارات العالم إنتاجاً للطاقة النووية تليها أوروبا. ()

(ب) «الزراعة أهم وأقدم الحرف التى عرفها الإنسان وساعدته على الاستقرار والإنجاز

الحضارى». فى ضوء هذه العبارة أجب عن الأسئلة الآتية :

(١) لماذا يعتبر النشاط الزراعى من الأنشطة الاقتصادية الأساسية فى العالم ؟

(٢) شهرة أوروبا بزراعة بنجر السكر.

(٣) اذكر اثنين من خصائص الزراعة البسيطة (البدائية).

(ج) اكتب ما تشير إليه كل عبارة من العبارات الآتية :

(١) أجيود أنواع القمح الثلاثة وأقلها وجوداً فى الطبيعة.

(٢) إقليم صناعى يبدو فى شكل مناطق صناعية متباعدة وأهم مراكز إقليم الأورال.

(٣) حرفة يمارسها سكان المناطق الصحراوية فى مساحات واسعة فى قارات العالم.

(٤) يُعد من أهم المعادن المستخدمة فى صناعة الأسلاك والأدوات الكهربائية.

ثانياً التاريخ

٣ (١) اختر الإجابة الصحيحة مما بين القوسين :

(١) القضاء على الإقطاع من إنجازات ثورة ٢٣ يوليو ١٩٥٢م فى المجال

(السياسى - الاجتماعى - الاقتصادى - الثقافى)

(٢) من أشنع المذابح التى ارتكبتها العصابات اليهودية بفلسطين عام ١٩٤٨م

(غزة - يافا - دير ياسين - القدس)

(٣) وُضعت فلسطين تحت الانتداب البريطانى طبقاً لقرارات مؤتمر

(باريس - سان ريمو - مونترال - لندن)


(٤) أجبرت بريطانيا الملك فاروق فى فبراير ١٩٤٢م على تعيين رئيساً للحكومة.

(سعد زغلول - مصطفى النحاس - شريف باشا - رياض باشا)

(٥) كان أعضاء مجلس شورى النواب ينتخبون كل سنوات.

(ست - خمس - سبع - ثلاث)

الإجابات



(ب) ماذا كان يحدث إذا لم ... ؟

(١) تتمكن مصر من إعادة بناء قواتها المسلحة بعد هزيمة يونيه ١٩٦٧م.

(٢) تقم ثورة ٢٣ يوليو ١٩٥٢م بإنجاز السد العالي.

(ج) اذكر سبباً واحداً لكل مما يأتي :

(١) عدوان ٥ يونيه ١٩٦٧م.

(٢) إحداهن ثغرة في منطقة الدفرسوار أثناء حرب أكتوبر ١٩٧٣م.

(٣) * تدهور الأوضاع الاجتماعية قبل ثورة ٢٥ يناير ٢٠١١م.

(١) إلى من تنسب الأعمال الآتية ... ؟

(١) أذاع أول بيان لثورة ٢٣ يوليو ١٩٥٢م من الإذاعة المصرية.

(٢) قاد خطة الخداع لصرف أنظار إسرائيل عن التجهيزات الهجومية.

(٣) دعا إلى عقد مؤتمر في كامب ديفيد للتوصل إلى إطار للسلام بين مصر وإسرائيل.

(٤) * رئيس المحكمة الدستورية العليا الذي تولى حكم مصر عقب ثورة ٣٠ يونيه ٢٠١٣م.

(ب) اذكر نتيجة لكل مما يأتي :

(١) العدوان الثلاثي على مصر ١٩٥٦م.

(٢) الدعم العربي لمصر أثناء حرب أكتوبر ١٩٧٣م.

(ج) اختر من القائمة (ب) ما يناسب القائمة (أ) :

(ب)	(أ)
(١) خط ألوان.	(١) من الأبطال الذين استشهدوا في حرب الاستنزاف ١٩٦٩م
(ب) الفريق سعد الدين الشاذلي.	(٢) * حركة سياسية نادت بإنشاء وطن قومي خاص لليهود
(ج) الفريق أول عبدالمنعم رياض.	(٣) خط دفاعي إسرائيلي منيع حطمته القوات السورية في حرب أكتوبر ١٩٧٣م
(د) الصهيونية.	(٤) مفتي القدس ورئيس اللجنة العربية التي قامت بثورة ١٩٣٦م
(هـ) خط بارليف.	
(و) الحاج أمين الحسيني.	