

اليوم السادس

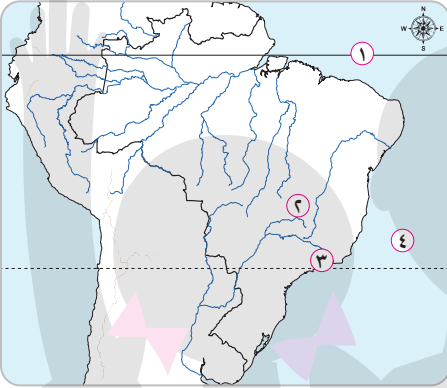
اختبارات بعض المحافظات على الفصل الدراسي الثاني

(١) محافظة القاهرة : مديرية التربية والتعليم

(مجاب عنه ص ٢٠٤)

أولاً : الجغرافيا

(أ) أمامك خريطة صماء لدولة البرازيل ، وضح مدلول الأرقام التي عليها :



- ١ - دائرة عرض رئيسية
- ٢ - هضبة
- ٣ - العاصمة القديمة
- ٤ - المحيط

(ب) صوب ما تحته خط :

١ - الولايات المتحدة الأمريكية هي أولى دول العالم إنتاجًا للصوف .

(.....)

٢ - تُعد مصر أكبر دول العالم إنتاجًا للألبان .

(.....)

٣ - أهم الصناعات الحديثة في دول الخليج العربي الصناعات

(.....)

اليديوية .

(.....)

٤ - أعلى القمم الجبلية في ألمانيا جبال البرانس .

(ج) بم تفسر ... ؟

١ - تحتل الصين المركز الأول في إنتاج الأسماك .

.....

٢ - تركز صناعة الألومنيوم في الدول المتقدمة .

.....

٣ - انكماش الحشائش بالسهول الساحلية في ألمانيا .

.....

٤ - صعوبة استخدام الآلات والميكنة الزراعية في الزراعة الكثيفة .

.....

٢ (أ) اختر الإجابة الصحيحة من بين الإجابات الآتية :

١ - يُعد الموطن الأصلي للشاي :

- أ شرق إفريقيا
ب غرب البرازيل
ج شرق آسيا
د جنوب ألمانيا

٢ - أكبر الأقاليم الصناعية في العالم الجديد إقليم :

- أ غرب ووسط أوروبا
ب شرق إفريقيا
ج شمال شرق الولايات المتحدة
د روسيا

٣ - أهم دول إفريقيا في إنتاج القطن :

- أ المغرب
ب ليبيا
ج تونس
د مصر

(ب) أجب عما يلي :

١ - ما المقصود بـ ... ؟

- النشاط التعديني .
• الرعي التجاري .

٢ - أيد بالأدلة :

- ترتبط مصر وألمانيا بعلاقات ثقافية وعلمية .

٣ - اذكر نتيجة واحدة مترتبة على :

- الوحدة الاقتصادية الأوروبية .

- استخدام الآلات الزراعية والطرق العلمية الحديثة في الزراعة التجارية والعلمية .

٤ - من وجهة نظرك :

- ما المقومات الطبيعية والبشرية التي يمكن أن تساهم في قيام التنمية الصناعية في مصر ؟

ثانيًا : التاريخ

٣

(أ) إلى من تنسب الأعمال الآتية ... ؟

١ - تولى رئاسة مصر بعد الانتخابات عام ٢٠١٤ م .

٢ - أسس تنظيم الضباط الأحرار .

٣ - رئيس المحكمة الدستورية العليا وأُسند إليه حكم مصر فى يوليو ٢٠١٣ م .

٤ - الرئيس الأمريكى الذى دعا إلى مؤتمر كامب ديفيد .

٥ - رئيس أركان حرب القوات المسلحة فى حرب الاستنزاف .

(ب) ما النتائج المترتبة على ... ؟

١ - وضع فلسطين تحت الانتداب البريطانى ١٩٢٠ م .

٢ - فشل العدوان الثلاثى على مصر ١٩٥٦ م .

٣ - إنشاء السد العالى .

٤

(أ) ماذا كان سيحدث إذا ... ؟

١ - انتصرت مصر على إسرائيل فى عدوان يونيه ١٩٦٧ م .

٢ - لم تشكل اللجان الشعبية أثناء ثورة ٢٥ يناير ٢٠١١ م .

٣ - لم يقم الرئيس محمد أنور السادات بزيارة إسرائيل ١٩٧٧ م .

٤ - لم تصدر ثورة ٢٣ يوليو ١٩٥٢ م قوانين الإصلاح الزراعي .

(ب) « لا مكان للإرهاب على أرض مصر - تحية لشعب مصر العظيم وتحية لجيش مصر

ولشرطة مصر العظيمة على مر العصور » . فى ضوء العبارة وضح :

١ - أهداف ثورة ٢٣ يوليو ١٩٥٢ م . (يكتفى بثلاثة فقط)

٢ - دور المشير أحمد إسماعيل كشخصية مصرية عسكرية وطنية فى نصر أكتوبر ١٩٧٣ م .

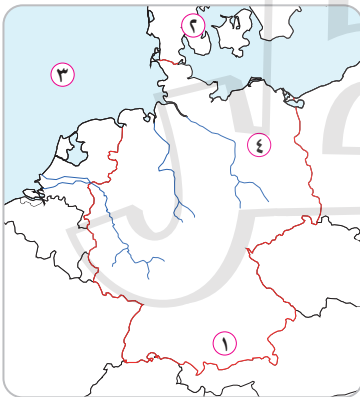
٣ - رأيك فى تقديم بعض الدول العربية الدعم العسكرى لمصر وسوريا عام ١٩٧٣ م .

(٢) محافظة الجيزة : مديرية التربية والتعليم

(مجاب عنه ص ٢٠٥)

أولاً : الجغرافيا

(أ) أمامك خريطة صماء لدولة ألمانيا ، وضح مدلول الأرقام التى عليها :



١ - جبال

٢ - دولة

٣ - بحر

٤ - العاصمة

(ب) اكتب كلمة (صح) أمام العبارة الصحيحة

وكلمة (خطأ) أمام العبارة الخاطئة :

١ - يزرع قصب السكر فى المناطق المعتدلة الباردة . ()

- ٢ - يُعد الغاز الطبيعي مصدر الطاقة الأقل تلوثاً والأرخص عالمياً . ()
- ٣ - يُعتبر النشاط الصناعي قمة الأنشطة الاقتصادية المتطورة في العالم . ()
- ٤ - يسود المناخ المدارى الحار فى أقصى جنوب شرق البرازيل . ()

(ج) ما النتائج المترتبة على ... ؟

١ - صغر مساحة الحقول الزراعية فى الزراعة الكثيفة .

٢ - الوحدة الاقتصادية الأوربية .

(أ) اكتب ما تشير إليه كل عبارة مما يأتى :

- ١ - يُستخرج من عصارة أشجار استوائية وتصنع منه إطارات السيارات . ()
- ٢ - نشاط يمارسه سكان المناطق الصحراوية فى مساحات واسعة فى العالم . ()
- ٣ - استخراج المعادن ومصادر الطاقة من باطن الأرض أو بالقرب من سطح الأرض . ()
- ٤ - طاقة تنتج من الأمواج وحركة المد والجزر فى بعض الدول المتقدمة . ()

(ب) دلل جغرافياً على صحة كل عبارة من العبارات الآتية :

- ١ - تنتشر مصايد الأسماك على سواحل القارات .
- ٢ - يُعد البترول أهم مصادر الطاقة .
- ٣ - سكان البرازيل خليط من معظم الأجناس .
- ٤ - توجد علاقات ثقافية وعلمية بين مصر وألمانيا .

(ج) قارن بين : البرازيل وألمانيا من حيث :

- أهم الموانئ .
- أهم المحاصيل .

.....

.....

ثانيًا : التاريخ

٣ | (أ) اختر الإجابة الصحيحة من بين الإجابات الآتية :

١ - ترتب على فشل العدوان الثلاثي ١٩٥٦ م انسحاب القوات الإنجليزية والفرنسية من مدينة :

- أ السويس ب الإسماعيلية ج الإسكندرية د بورسعيد

٢ - يُعتبر مبدأ الأرض مقابل السلام من قرارات مؤتمر :

- أ كامب ديفيد ب مدريد ج سان ريمو د باندونج

٣ - تضمن دستور ١٩٢٣ م إنشاء برلمان يمثل السلطة :

- أ القضائية ب التنفيذية ج التشريعية د المدنية

٤ - تم إنشاء أول مدرسة لتعليم البنات بدعوة من :

- أ رفاة الطهطاوى ب سعد زغلول

- ج مصطفى النحاس د الملك فاروق

(ب) بم تفسر ... ؟

١ - تقديم الولايات المتحدة الأمريكية لمبادرة روجرز .

.....

٢ - تُعد ثورة ٢٥ يناير ٢٠١١ م من الثورات الفريدة فى تاريخ مصر .

.....

٣ - أهمية منظمات المجتمع المدنى .

.....

(ج) ما المقصود بكل من ... ؟

١ - عدم الانحياز . ٢ - مرحلة الصمود والتصدى . ٣ - الحياة النيابية .

.....

.....

٤ | (أ) لمن تُنسب الأعمال الآتية ... ؟

- ١ - اعتمد عليه جمال عبد الناصر في إعادة بناء وتنظيم القوات المسلحة في حرب الاستنزاف .
(.....)
- ٢ - قاد خطة الخداع لصرف أنظار إسرائيل عن التجهيزات الهجومية لحرب أكتوبر ١٩٧٣ م .
(.....)
- ٣ - بادر بزيارة إسرائيل من أجل السلام عام ١٩٧٧ م .
(.....)
- ٤ - شاركت في الحياة النيابية وشغلت منصب رئيس اللجنة التشريعية بمجلس الشعب .
(.....)

(ب) صوب ما تحته خط :

- ١ - أذيع البيان الأول لثورة ٢٣ يوليو ١٩٥٢ م باسم اللواء جمال عبد الناصر .
(.....)
- ٢ - وقعت مصر اتفاقية الجلاء في أكتوبر ١٩٥٤ م مع فرنسا .
(.....)
- ٣ - تم إغلاق خليج السويس في وجه الملاحة الإسرائيلية في مايو ١٩٦٧ م .
(.....)
- ٤ - تسلم السلطة في يوليو ٢٠١٣ م المستشار عدلى منصور رئيس المحكمة الجنائية .
(.....)

(ج) ماذا كان سيحدث إذا ... ؟

- ١ - لم تقدم الولايات المتحدة الأمريكية معلومات عسكرية لإسرائيل في حرب ١٩٧٣ م .
.....

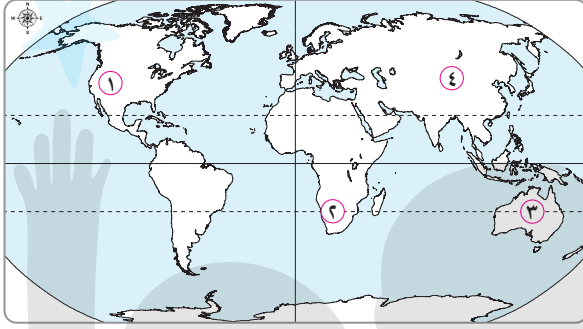
- ٢ - لم تصدر بريطانيا وعد بلفور عام ١٩١٧ م .
.....

(٣) محافظة الإسكندرية : مديرية التربية والتعليم

(مجاب عنه ص ٢٠٦)

أولاً : الجغرافيا

١ (أ) أمامك خريطة صماء للعالم ، وضح مدلول الأرقام التي عليها :



١ - جبال

٢ - مركز صناعى حديث

٣ - دولة منتجة للصوف

٤ - أكبر قارات العالم إنتاجاً للقطن

(ب) بم تفسر ... ؟

١ - تركيز زراعة الشاي فى شرق آسيا .

٢ - أهمية مدينة إيبادان بنيجيريا .

٣ - إندونيسيا من أهم الدول المنتجة للأسماك .

٤ - تنوع المناخ بالولايات المتحدة الأمريكية .

(ج) اكتب كلمة (صح) أمام العبارة الصحيحة وكلمة (خطأ) أمام العبارة الخاطئة :

١ - تُعتبر الألبان المنتج الثانى المهم للثروة الحيوانية . ()

٢ - موريتانيا من الدول النامية المستوردة للحديد . ()

٣ - اقتصاد نيجيريا اقتصاد متقدم يعتمد على الزراعة فى المقام الأول . ()

٤ - تأتي قارة أمريكا الشمالية فى المرتبة الأولى إنتاجاً للذرة . ()

اليوم الأول

اليوم الثانى

اليوم الثالث

اليوم الرابع

اليوم الخامس

اليوم السادس

اليوم السابع

٢ | (أ) اختر الإجابة الصحيحة من بين الإجابات الآتية :

- ١ - المصدر الرئيسي للحوم لغالبية سكان العالم :
- أ الجاموس ب الأبقار ج الإبل د الماعز
- ٢ - يُعد الخام الرئيسي لمعدن الألومنيوم .
- أ البوكسيت ب الحديد ج النحاس د الرصاص
- ٣ - تقع ولاية هاواي في وسط المحيط :
- أ الأطلنطي ب الهندي ج الهادي د القطبي الشمالي
- ٤ - يُستخدم كل ما يلي في إنتاج الكهرباء الحرارية ما عدا :
- أ الفحم ب الشلالات ج البترول د الغاز الطبيعي
- (ب) قارن بين : الفحم والبترول من حيث :
- الأهمية .
- أهم الدول المنتجة .

(ج) « أدى تباين الموارد الطبيعية والبشرية إلى اختلاف النشاط الاقتصادي بين دول

العالم » . في ضوء العبارة وضع :

- ١ - خصائص الزراعة الكثيفة .

٢ - نتائج انتشار التعليم بين قبائل وسط آسيا بالنسبة لحرفة الرعي البدائي .

٣ - مقترحاتك لـ : تطوير الصناعة في الدول النامية .

ثانيًا : التاريخ

٣ | (أ) صوب ما تحته خط :

- ١ - قررت دول المحور وضع فلسطين تحت الانتداب البريطاني . (.....)

٢ - من نتائج حرب أكتوبر ١٩٧٣ م تدعيم أسس العقيدة القتالية

(.....)

للقوات الإسرائيلية .

(.....)

٣ - الإدارة المحلية يمثلها رئيس الجمهورية والأجهزة التنفيذية .

٤ - التطبيق غير السليم لسياسة التأميم من الأسباب الاقتصادية لثورة

(.....)

٢٥ يناير ٢٠١١ م .

٥ - مساندة مصر لحركات التحرر الوطني في تونس من أسباب

(.....)

العدوان الثلاثي على مصر عام ١٩٥٦ م .

(ب) ما النتائج المترتبة على ... ؟

١ - قرار هيئة التحكيم الدولي عام ١٩٨٨ م بشأن طابا .

(.....)

٢ - العدوان الإسرائيلي ٥ يونيو ١٩٦٧ م .

(.....)

٣ - اهتمام ثورة ١٩٥٢ م بالصناعة في مصر .

(.....)

(ج) ما العلاقة بين ... ؟

١ - النفط العربي وحرب أكتوبر ١٩٧٣ م .

(.....)

٢ - صدور دستور ١٩٢٣ م والحياة النيابية في مصر .

(.....)

(أ) إلى من تنسب الأعمال الآتية ... ؟

٤

(.....)

١ - قام بزيارة إسرائيل من أجل السلام عام ١٩٧٧ م .

(.....)

٢ - تولى رئاسة الحكومة المصرية في فبراير عام ١٩٤٢ م .

(.....)

٣ - انتخبت رئيسة للجنة الوفد المركزية للسيدات عام ١٩٢٠ م .

(.....)

٤ - قاد خطة الخداع لصرف أنظار إسرائيل عن التجهيزات

(.....)

الهجومية في حرب أكتوبر ١٩٧٣ م .

(.....)

٥ - قدم مبادرة لوقف إطلاق النار أثناء حرب الاستنزاف .

(ب) دلل تاريخيًا على صحة كل عبارة من العبارات الآتية :

١ - حققت ثورة يوليو ١٩٥٢م إنجازات عديدة في المجال العربى والدولى .

٢ - اختيار السلام بدلاً من الحرب يعود بالنفع على وطننا العربى .

٣ - تصدى القوات المصرية للاعتداءات الإسرائيلية فى مرحلة الصمود والتصدى .

٤ - اتخذت مصر عدة إجراءات لتهيئة وإعداد الجبهة الداخلية قبل حرب أكتوبر ١٩٧٣م .

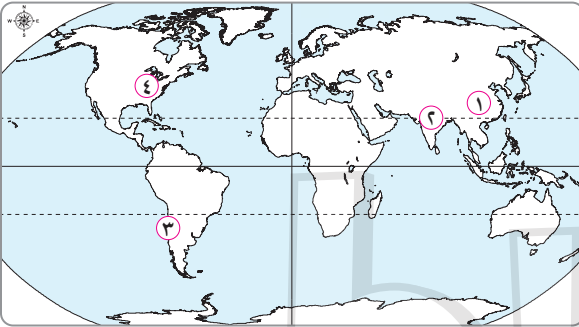
(ج) ما رأيك فى : موافقة الملك فاروق على مطالب ثورة يوليو ١٩٥٢م ؟

(٤) محافظة القليوبية : مديرية التربية والتعليم

(مجاب عنه ص ٢٠٧)

أولاً : الجغرافيا

(أ) أمامك خريطة صماء للعالم ، وضح مدلول الأرقام التى عليها :



١ - دولة منتجة للقطن

٢ - أكبر الدول إنتاجًا للألبان

٣ - دولة منتجة للنحاس

٤ - إقليم صناعى

(ب) اكتب كلمة (صح) أمام العبارة الصحيحة وكلمة (خطأ) أمام العبارة الختأ :

١ - تُعد قارة إفريقيا أولى قارات العالم إنتاجًا للذرة . ()

٢ - يأتى ثلث الإنتاج السمكى فى العالم من مزارع تربية الأسماك . ()

٣ - للفحم أهمية كبيرة منذ أواخر القرن الـ ١٨م حتى أوائل القرن الـ ٢٠م . ()

٤ - توجد علاقات ثقافية وعلمية بين مصر وألمانيا . ()

(ج) قارن بين :

١ - القمح والمطاط الطبيعي من حيث :

- الأهمية
- أولى الدول المنتجة .

.....

.....

٢ - نيجيريا وألمانيا من حيث :

- أماكن تركيز السكان .

.....

(أ) اكتب ما تشير إليه كل عبارة مما يأتي :

- ١ - تُعد المصدر الرئيسي للحوم لغالبية سكان العالم . (.....)
- ٢ - دولة نامية تُصدر خام الحديد إلى الدول الصناعية المتقدمة . (.....)
- ٣ - مصدر للطاقة النظيفة تستخدمه خمس دول عربية في توليد الكهرباء تتقدمها مصر وتليها المغرب . (.....)
- ٤ - مدينة نيجيرية تأتي في المركز الثاني بعد لاجوس وهي مركز للتجارة والتعليم والمواصلات . (.....)

(ب) بم تفسر ... ؟

١ - قلة عدد القائمين بحرفة الرعي البدائي (التقليدي) بقارة آسيا .

.....

٢ - يُعد البترول أهم مصادر الطاقة .

.....

٣ - تنتج نيجيريا كميات كبيرة من الأسماك .

.....

٤ - تجذب المرتفعات الوسطى السياح في ألمانيا .

.....

(ج) ما العلاقة بين ... ؟

١ - الزراعة الكثيفة والأيدى العاملة .

٢ - الصناعة الحديثة وتطور الشعوب .

ثانياً : التاريخ

٣ (أ) صوب ما تحته خط :

١ - أعطى مؤتمر مونترو ١٩٢٠م لبريطانيا حق الانتداب على فلسطين . ()

٢ - تُعرف المرحلة الأولى من إعادة بناء القوات المسلحة بعد

عام ١٩٦٧م بمرحلة الاستنزاف والمواجهة . ()

٣ - ساهمت مصر فى تشكيل حركة عدم الانحياز فى مؤتمر لندن

عام ١٩٥٥م . ()

٤ - من عوامل قيام ثورة ٢٥ يناير ٢٠١١م تزوير الانتخابات الرئاسية

لعام ٢٠١٠م . ()

(ب) دلل تاريخياً على صحة كل عبارة من العبارتين الآتيتين :

١ - أيدت مصر دعوات السلام وإنهاء الصراع العربى / الإسرائيلى عام ١٩٩١م .

٢ - شهدت مصر نهضة نسائية فى فترة ما قبل ثورة ١٩١٩م .

(ج) ماذا كان سيحدث إذا ... ؟

١ - لم يتم توقيع معاهدة ١٩٣٦م بين مصر وبريطانيا .

٢ - لم تقدم الولايات المتحدة الأمريكية الدعم لإسرائيل خلال حرب أكتوبر ١٩٧٣م .

٤ (أ) إلى من تنسب الأعمال الآتية ... ؟

- ١ - رئيس أركان حرب القوات المسلحة أثناء حرب الاستنزاف . (.....)
- ٢ - وضع خطة لعبور قناة السويس وتحطيم خط بارليف ، ونفذها في حرب أكتوبر ١٩٧٣ م . (.....)
- ٣ - أصدرت حكمها لصالح مصر في استعادة طابا الذي تم في مارس ١٩٨٩ م . (.....)
- ٤ - تم انتخابها رئيسة للجنة الوفد المركزية للسيدات عام ١٩٢٠ م . (.....)

(ب) ما النتائج المترتبة على ... ؟

- ١ - هزيمة العرب في حرب فلسطين ١٩٤٨ م .
.....
- ٢ - ثورة ٣٠ يونيو ٢٠١٣ م .
.....
- ٣ - عقد مؤتمر كامب ديفيد عام ١٩٧٨ م .
.....

(ج) ما رأيك فى : إنشاء مشروع السد العالى ؟

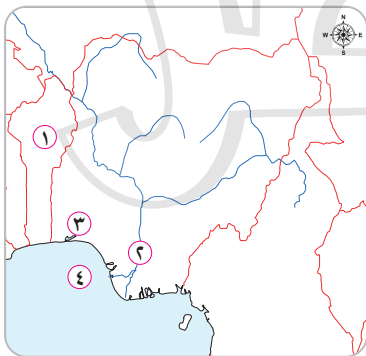
.....

(٥) محافظة الشرقية : مديرية التربية والتعليم

(مجاب عنه ص ٢٠٨)

أولاً : الجغرافيا

١ (أ) أمامك خريطة صماء لدولة نيجيريا الاتحادية ، وضح مدلول الأرقام التى عليها :



- ١ - دولة
.....
- ٢ - نهر
.....
- ٣ - العاصمة القديمة
.....
- ٤ - خليج
.....

(ب) ما المقصود بكل من ... ؟

- ١ - الزراعة الكثيفة .
٢ - الرعى البدائي (التقليدي) .

(ج) « يُعد النشاط الصناعي قمة الأنشطة الاقتصادية وسببًا رئيسيًا في تقدم الشعوب

وازدهارها » . في ضوء هذه العبارة أجب عما يأتي :

- ١ - قارن بين :
• إقليم غرب ووسط أوروبا الصناعي وإقليم شرق آسيا الصناعي من حيث :
المراكز الصناعية في كل إقليم .
٢ - دُل على صحة العبارة الآتية :
• الصناعة هي العمود الفقري للاقتصاد الألماني وشهدت تطورًا وتوسعًا بعد الحرب العالمية الثانية .

(د) بم تفسر ... ؟

- ١ - تتركز زراعة البنجر في أوروبا وأمريكا الشمالية .
٢ - تُعد إندونيسيا والولايات المتحدة الأمريكية من الدول الرئيسية في إنتاج الأسماك في العالم .

(أ) صوب ما تحته خط :

- ١ - تُعد دولة الفلبين أولى دول العالم في إنتاج المطاط الطبيعي .
٢ - تُعد الصين أكبر الدول إنتاجًا للألبان في العالم .

(ب) ما العلاقة بين ... ؟

- ١ - البوكسيت والألومنيوم .
٢ - الرياح والكهرباء .

(ج) ما النتائج المترتبة على ... ؟

١ - رخص ثمن الغاز الطبيعي وعدم تلويثه للبيئة .

٢ - وقوع الأطراف الجنوبية من نيجيريا فى نطاق المناخ الاستوائى .

٣ - كثرة وجود التلال والينابيع بالمرتفعات الوسطى فى ألمانيا .

(د) اختر الإجابة الصحيحة من بين الإجابات الآتية :

١ - ينتج قصب السكر فى كل قارات العالم عدا قارة :

أ أوروبا ب أستراليا ج إفريقيا د آسيا

٢ - أكبر دول العالم المربية للأغنام دولة :

أ الصين ب بريطانيا ج مصر د أستراليا

٣ - من المقومات الطبيعية اللازمة للصناعة :

أ الأيدي العاملة ب الأسواق ج مصادر الطاقة د رأس المال

ثانيًا : التاريخ

(أ) اختر الإجابة الصحيحة من بين الإجابات الآتية :

١ - أذيع البيان الأول لثورة ٢٣ يوليو ١٩٥٢ م من دار الإذاعة المصرية بصوت :

أ محمد نجيب ب جمال عبد الناصر

ج أنور السادات د أحمد فؤاد

٢ - أعطى مؤتمر سان ريمو عام ١٩٢٠ م لبريطانيا حق الانتداب على :

أ سوريا ب لبنان ج فلسطين د الجزائر

٣ - تم تدمير المدمرة الإسرائيلية إيلات بـ المصرية فى أكتوبر ١٩٦٧ م .

أ صواريخ البحرية ب الطائرات

ج المدفعية د الدبابات

٤ - تولى القيادة العامة الموحدة للقوات المصرية السورية فى حرب أكتوبر ١٩٧٣ م القائد :

- أ سعد الدين الشاذلى
ب محمد عبد الغنى الجمسى
ج أحمد إسماعيل
د عبد المنعم رياض

(ب) ما النتائج المترتبة على ... ؟

١ - مبادرة الرئيس السادات لزيارة إسرائيل عام ١٩٧٧ م .

٢ - إصدار دستور مصر الدائم عام ١٩٧١ م .

٣ - اهتمام ثورة ٢٣ يوليو ١٩٥٢ م بالمرأة المصرية .

٤ - فشل العدوان الثلاثى على مصر عام ١٩٥٦ م .

(ج) ماذا كان سيحدث إذا ... ؟

• لم تقم ثورة ٢٣ يوليو ١٩٥٢ م بإنشاء مشروع السد العالى .

٤ (أ) اكتب كلمة (صح) أمام العبارة الصحيحة وكلمة (خطأ) أمام العبارة الخطأ :

- ١ - أدى توقيع معاهدة ١٩٣٦ م إلى جعل مصر ميداناً لمعارك الحرب العالمية الأولى . ()
٢ - القضاء على الإقطاع من إنجازات ثورة ٢٣ يوليو ١٩٥٢ م فى المجال الاقتصادى . ()
٣ - قبلت إسرائيل قرار مجلس الأمن رقم ٢٤٢ عام ١٩٦٧ م . ()
٤ - تُعد منظمات المجتمع المدنى عناصر فاعلة فى تقديم الخدمات الاجتماعية . ()

(ب) بم تفسر ... ؟

١ - هزيمة الدول العربية في عدوان ٥ يونيو ١٩٦٧ م .

٢ - اندلاع حرب أكتوبر ١٩٧٣ م .

٣ - استعادة مصر لطابا ١٩٨٩ م .

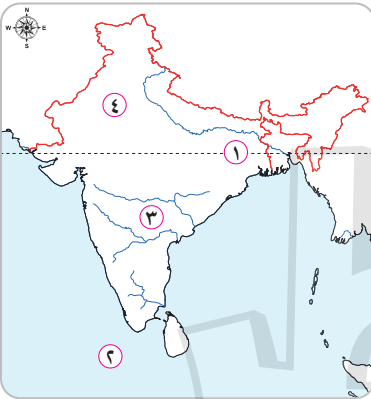
٤ - قيام الشعب المصرى بثورة ٢٥ يناير ٢٠١١ م .

(ج) ما رأيك فى : إنجازات ثورة ٢٣ يوليو ١٩٥٢ م فى المجال العربى ؟

(٦) محافظة المنوفية : مديرية التربية والتعليم

أولاً : الجغرافيا

١ (أ) أمامك خريطة صماء لجمهورية الهند ، وضح مدلول الأرقام التى عليها :



١ - دائرة عرض

٢ - المحيط

٣ - هضبة

٤ - مدينة

(ب) ما المقصود بكل من ... ؟

١ - الزراعة الكثيفة .

٢ - النشاط التعدينى .

٣ - الرعى البدائى .

(ج) ما النتائج المترتبة على ... ؟

١ - طول سواحل الصين على المحيط الهادى ووجود الأنهار .

٢ - كثرة التلال والينابيع المائية فى ألمانيا .

(د) ماذا يحدث إذا ... ؟

• توافرت الطاقة الكهربائية والخبرة الفنية فى الدول المنتجة للبوكسيت .

(أ) اختر الإجابة الصحيحة من بين الإجابات الآتية :

١ - تُعد تايلاند أولى دول العالم إنتاجًا لـ :

أ الشاي ب البن ج السكر د المطاط الطبيعي

٢ - تأتى مصر فى مقدمة الدول العربية فى توليد الطاقة الكهربائية من :

أ الفحم ب الرياح ج البترول د الغاز الطبيعي

٣ - أكبر الأقاليم الصناعية فى العالم الجديد إقليم :

أ شمال شرق الولايات المتحدة الأمريكية

ب روسيا وأوكرانيا ج شرق آسيا د الخليج العربى

٤ - العمود الفقرى للاقتصاد الألمانى :

أ الزراعة ب التجارة ج الصناعة د التعدين

(ب) بم تفسر ... ؟

١ - يُعد النشاط الزراعى من الأنشطة الاقتصادية الأساسية فى العالم .

٢ - تناقص أعداد القائمين بالرعى البدائى فى دول وسط آسيا .

٣ - يُعد البترول أهم مصادر الطاقة فى العالم .

٤ - توسع العالم فى استخدام الغاز الطبيعى كبديل لمصادر الطاقة الأخرى .

(ج) « تشهد العلاقات المصرية مع دول العالم نموًا كبيرًا على كافة الأصعدة » .

فى ضوء هذه العبارة وضح :

١ - أهم صادرات مصر إلى الهند .

٢ - العلاقات الثقافية والعلمية بين مصر وألمانيا .

ثانيًا : التاريخ

(أ) حدد صحة أو خطأ العبارات الآتية مع التصويب :

١ - فى يونيه ١٩٥٣م تم إلغاء الملكية وإعلان الجمهورية وتعيين جمال عبد الناصر أول رئيس لجمهورية مصر العربية .

٢ - استطاعت صواريخ البحرية المصرية فى أكتوبر ١٩٦٧م تدمير المدمرة الإسرائيلية إيلات .

٣ - قام السادات بالقضاء على مراكز القوى لهيئة وإعداد الجبهة الداخلية قبل حرب أكتوبر ١٩٧٣م .

٤ - توفير مناخ يحقق الوحدة الوطنية أحد أنشطة المجتمع المدنى .

(ب) ما النتائج المترتبة على ... ؟

١ - فشل العدوان الثلاثى على مصر عام ١٩٥٦م .

٢ - التطبيق غير السليم لسياسة الخصخصة فى عهد الرئيس حسنى مبارك .

(ج) « تُعد ثورة ٢٣ يوليو ١٩٥٢م من أهم الثورات المصرية فى التاريخ الحديث

والمعاصر ». فى ضوء هذه العبارة وضع :

١ - عوامل قيام ثورة يوليو ١٩٥٢م . (يكتفى باثنين)

٢ - مطالب ثورة ٢٣ يوليو ١٩٥٢م من الملك فاروق .

(د) ماذا كان سيحدث إذا ... ؟

١ - لم تقم مصر بإغلاق خليج العقبة فى وجه الملاحه الإسرائيلية مايو ١٩٦٧م .

٢ - لم تقم مصر بإنشاء السد العالى .

٤ (أ) إلى من تنسب الأعمال الآتية ... ؟

١ - شغل منصب رئيس هيئة عمليات القوات المسلحة عام ١٩٧٢م . (.....)

٢ - صاحب مبادرة وقف إطلاق النار بين مصر وإسرائيل أثناء

حرب الاستنزاف . (.....)

٣ - دعا لإنشاء أول مدرسة لتعليم البنات فى مصر . (.....)

٤ - رئيس لجنة الوفد المركزية للسيدات عام ١٩٢٠م . (.....)

(ب) أيد صحة كل عبارة من العبارات الآتية تاريخياً :

١ - قامت ثورة ٢٣ يوليو ١٩٥٢م بدور بارز على المستوى العربى والدولى .

٢ - فلسطين لها أهمية خاصة فى قلب كل عربى .

٣ - ساهمت الدول العربية بدور بارز أثناء حرب أكتوبر ١٩٧٣م .

٤ - عاد السلام وحل الصراع العربي / الإسرائيلي بالنفع على وطننا العربي .

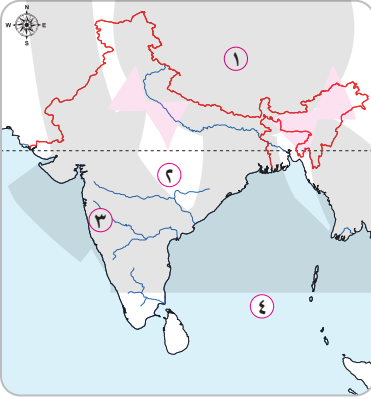
(ج) وضح موقف كل من :

• العرب واليهود من قرار الأمم المتحدة بتقسيم فلسطين عام ١٩٤٧ م .

(٧) محافظة الغربية : مديرية التربية والتعليم

أولاً : الجغرافيا

(أ) أمامك خريطة صماء لجمهورية الهند ، وضح مدلول الأرقام التي عليها :



١ - دولة

٢ - هضبة

٣ - ميناء

٤ - مسطح مائي

(ب) بم تفسر ... ؟

١ - لا يزرع قصب السكر في قارة أوروبا .

٢ - قلة عدد القائمين على حرفة الرعي البدائي في دول وسط آسيا .

٣ - يُعد البترول أهم مصادر الطاقة في العالم .

٤ - قلة التكاليف والأيدى العاملة في الزراعة التجارية والعلمية .

٥ - توطن صناعة الألومنيوم في الدول المتقدمة رغم افتقارها للبوكسيت .

(ج) اكتب المصطلح الجغرافي الذي تدل عليه كل عبارة مما يأتي :

- ١ - زراعة يعمل بها عدد قليل من السكان وتتميز بضيق المساحة وتباعدها عن بعضها البعض . (.....)
- ٢ - يستخرج من عصارة أشجار استوائية وتصنع منه إطارات السيارات . (.....)
- ٣ - إقليم مناخى يتمثل فى دلتا نهر المسيسيبي بالولايات المتحدة الأمريكية ويتأثر بالأعاصير المدارية المدمرة . (.....)

٢ (أ) اكتب كلمة (صح) أمام العبارة الصحيحة وكلمة (خطأ) أمام العبارة الخطأ ،

مع التصويب :

- ١ - يُعد القطن فى مصر والسودان من أجود أنواع القطن فى العالم . ()
- ٢ - أمريكا الجنوبية تستخدم معظم إنتاجها من الذرة كعلف للماشية وتصدر جزءاً منه للخارج . ()
- ٣ - تحتل النرويج المركز الأول فى إنتاج اللحوم الحمراء فى العالم . ()
- ٤ - مدينة برمنجهام من أهم المدن الصناعية فى شمال شرق الولايات المتحدة الأمريكية . ()
- ٥ - تحتل الولايات المتحدة الأمريكية المركز الأول فى إنتاج الدواجن فى العالم . ()

(ب) اختر الإجابة الصحيحة من بين الإجابات الآتية :

- ١ - نصف إنتاج الأسماك فى العالم يأتي من :
 - أ المزارع السمكية
 - ب المياه المالحة
 - ج المياه العذبة
 - د الترع والمصارف
- ٢ - أولى دول العالم إنتاجاً للنحاس :
 - أ الصين
 - ب تايلاند
 - ج شيلي
 - د جنوب إفريقيا
- ٣ - أولى الدول العربية المنتجة للطاقة الكهربائية من الرياح :
 - أ موريتانيا
 - ب اليمن
 - ج السودان
 - د مصر

٤ - من المقومات الطبيعية اللازمة لقيام الصناعة :

أ الأيدي العاملة ب الأسواق ج مصادر الطاقة د رأس المال

(ج) ما النتائج المترتبة على ... ؟

١ - افتقار الهند لمصادر الطاقة مثل البترول .

٢ - الوحدة الاقتصادية الأوربية .

ثانيًا : التاريخ

(أ) إلى من تنسب الأعمال الآتية ... ؟

- ١ - أذاع البيان الأول لثورة ٢٣ يوليو ١٩٥٢ م . (.....)
- ٢ - أنشأ أول مدرسة لتعليم البنات في مصر عام ١٨٧٣ م . (.....)
- ٣ - أصبح رئيسًا لأركان حرب القوات المسلحة ديسمبر ١٩٧٣ م . (.....)
- ٤ - شغلت منصب وزيرة الشؤون الاجتماعية عام ١٩٧١ م . (.....)

(ب) بم تفسر ... ؟ (يكتفى بعنصرين لكل عبارة)

١ - هزيمة الجيوش العربية في عدوان يونيه ١٩٦٧ م .

٢ - العدوان الثلاثي على مصر عام ١٩٥٦ م .

٣ - تدهور الأوضاع الاقتصادية في مصر قبل ثورة ٢٥ يناير ٢٠١١ م .

٤ - أهمية منظمات المجتمع المدني .

(ج) ما المقصود بكل من ... ؟

١ - عدم الانحياز .

٢ - الدستور .

٤ | (أ) اكتب كلمة (صح) أمام العبارة الصحيحة وكلمة (خطأ) أمام العبارة الخاطئة ،

مع التصويب :

- ١ - القضاء على الإقطاع من الإنجازات السياسية لثورة ٢٣ يوليو ١٩٥٢ م . ()
- ٢ - أثبتت حرب أكتوبر ١٩٧٣ م أن منطق القوة لا يمنح سلامًا . ()
- ٣ - تم تحقيق أول تجربة للوحدة العربية بين مصر والأردن في فبراير ١٩٥٨ م . ()
- ٤ - اهتمت ثورة ٢٣ يوليو ١٩٥٢ م بالتعليم فجعلته مجانيًا بجميع المراحل التعليمية . ()
- ٥ - استعادت مصر طابا بمقتضى معاهدة السلام التي وُقِّعت بين مصر وإسرائيل ١٩٧٩ م . ()
- ٦ - تولى الفريق سعد الدين الشاذلى القيادة العامة الموحدة للقوات المصرية السورية في حرب أكتوبر ١٩٧٣ م . ()

(ب) أثبت صحة كل عبارة من العبارات الآتية تاريخيًا : (يكتفى بعنصرين لكل عبارة)

١ - اتخذت حكومة الانتداب البريطانى عدة إجراءات لتنفيذ وعد بلفور .

٢ - اهتمت ثورة ٢٣ يوليو ١٩٥٢ م بالصناعة في مصر .

٣ - لعب البترول العربى دورًا مهمًا كسلاح في حرب أكتوبر ١٩٧٣ م .

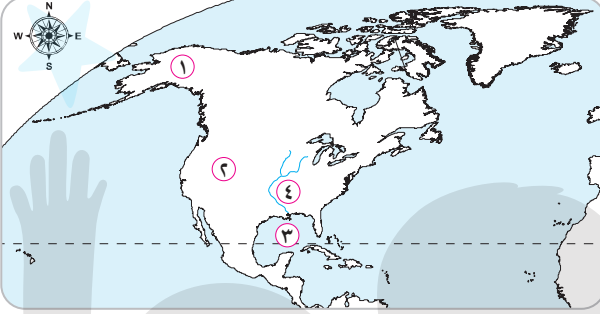
٤ - شهدت مرحلة الصمود والتصدى للاعتداءات الإسرائيلية بطولات رائعة للقوات المسلحة المصرية .

٥ - إنهاء الصراع العربى / الإسرائيلى وتحقيق السلام يعود بالنفع على وطننا العربى .

(٨) محافظة الدقهلية : مديرية التربية والتعليم

أولاً : الجغرافيا

١ (أ) أمامك خريطة صماء لقارة أمريكا الشمالية ، وضح مدلول الأرقام التي عليها :



- ١ - ولاية
- ٢ - هضبة
- ٣ - خليج
- ٤ - نهر

(ب) بم تفسر ... ؟

١ - أهمية البترول كمصدر للطاقة .

٢ - عدم وجود صناعة الألومنيوم بالدول النامية .

٣ - تركيز زراعة الشاي في دول شرق آسيا .

٤ - وفرة إنتاج الأسماك في غرب قارة أوروبا .

(ج) وضح العلاقة بين :

١ - مناطق الحشائش والنشاط الرعوى في العالم .

٢ - الظروف الجغرافية الطبيعية وتوزيع السكان في دولة نيجيريا .

٢ (أ) « يتنوع النشاط الزراعى والتعدينى والصناعى فى العالم » . فى ضوء العبارة وضح :

١ - مصادر توليد الطاقة الكهرومائية .

٢ - رأيك لکی تتطور الصناعات الحديثة في مصر تطورًا مذهبًا .

٣ - أثر الوحدة الاقتصادية الأوروبية على الصناعة في دول قارة أوروبا .

٤ - أسباب قلة العمالة في الزراعة التجارية والعلمية .

(ب) صوب ما تحته خط :

١ - لا تناسب الظروف الطبيعية زراعة قصب السكر في قارة

أمريكا الشمالية . ()

٢ - مدينة إبيادان هي العاصمة الاقتصادية لدولة نيجيريا . ()

٣ - من الدول النامية الإفريقية المصدرة للحديد دولة السودان . ()

٤ - تحتل الصين المركز الأول في إنتاج البترول على مستوى العالم . ()

(ج) اذكر استخدامًا واحدًا لكل من الموارد التالية مع ذكر أولى الدول إنتاجًا لكل منها :

١ - المطاط . ٢ - النحاس . ٣ - قصب السكر . ٤ - طاقة الرياح .

ثانيًا : التاريخ

٣ | (أ) اكتب كلمة (صح) أمام العبارة الصحيحة وكلمة (خطأ) أمام العبارة الخطأ :

١ - سيطر السادات على جميع قطاعات الجيش بموجب إعلان بيان ثورة ٢٣ يوليو ١٩٥٢ م . ()

٢ - صدر التحكيم الدولي لصالح مصر عام ١٩٨٨ م بشأن بعض علامات الحدود . ()

٣ - أدى التطبيق غير السليم لسياسة الخصخصة إلى ارتفاع الأسعار في المجتمع المصري . ()

٤ - تمثل سلطات الحكم في مصر ثلاث سلطات . ()

(ب) ما النتائج المترتبة على ... ؟

١ - عرض قضية فلسطين على هيئة الأمم المتحدة عام ١٩٤٧ م .

.....

٢ - دستور عام ١٩٥٦ م بالنسبة للمرأة .

.....

(ج) اكتب ما تشير إليه كل عبارة مما يأتي :

١ - مؤتمر أقر الانتداب البريطاني على فلسطين . (.....)

٢ - جمعيات المجتمعات المحلية والمنظمات غير الحكومية

والنقابات العمالية . (.....)

٣ - معركة انتصرت فيها القوات المصرية على القوات الإسرائيلية

عند بورفؤاد . (.....)

٤ - أسطورة إسرائيل الذي تم تدميره في ست ساعات في حرب

أكتوبر ١٩٧٣ م . (.....)

(أ) رتب الأحداث التاريخية التالية من الأقدم إلى الأحدث :

١ - إصدار قانون الإصلاح الزراعي الأول . (.....)

٢ - مؤتمر مدريد . (.....)

٣ - إنشاء مدرسة السنية للبنات . (.....)

٤ - إغلاق خليج العقبة في وجه الملاحة الإسرائيلية . (.....)

(ب) « اعلم أن التضحية من أجل الوطن والاستشهاد في سبيل رفعة وتقدمه وصيانة

كرامته واجب وطني » . في ضوء هذه العبارة :

١ - ما رأيك في : مبادرة الرئيس السادات بزيارة إسرائيل عام ١٩٧٧ م ؟

.....

٢ - اختر إحدى الشخصيات المضيئة في حرب أكتوبر ١٩٧٣ م مع توضيح المهام التي

قامت بها .

.....

٣ - اذكر أسباب كل مما يأتي :

• فشل العدوان الثلاثي على مصر عام ١٩٥٦ م .

• قيام الضباط الأحرار بثورة عام ١٩٥٢ م .

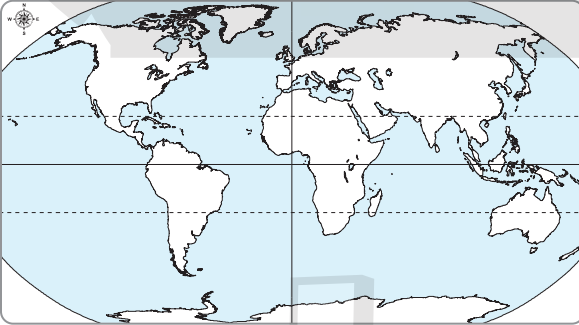
(ج) أيد بالأدلة التاريخية صحة العبارة التالية :

• ساندت مصر والدول العربية بعضها البعض عقب ثورة يوليو ١٩٥٢ م وفي حرب أكتوبر ١٩٧٣ م .

(٩) محافظة الإسماعيلية : مديرية التربية والتعليم

أولاً : الجغرافيا

(أ) أمامك خريطة صماء للعالم ، حدد عليها المناطق الآتية :



١ - القارة الأولى إنتاجاً

للقمح .

٢ - أولى دول العالم إنتاجاً

لقصب السكر .

٣ - أشهر دول العالم إنتاجاً

للأصواف من أغنام المارينو .

٤ - دولة عربية تحتل المركز الأول في إنتاج البترول .

٥ - هضبة كلورادو .

(ب) « إن الإنسان اتجه بالفطرة نحو إشباع حاجاته الضرورية لاستمرار حياته ، ولقد

مارس البشر العديد من الأنشطة الاقتصادية البدائية في الماضي وتطورت في

النهاية حتى وصلت إلى النشاط الصناعي » . في ضوء هذه العبارة :

١ - ما المقصود بـ : الزراعة الكثيفة ؟

٢ - اذكر : العوامل الطبيعية والبشرية التي تساعد على تطور حرفة صيد الأسماك .

٣ - بم تفسر ... ؟

• أهمية الثروة الحيوانية .

• توسع العالم فى استخدام الغاز الطبيعى كبديل لمصادر الطاقة الأخرى .

٢ (أ) اكتب كلمة (صح) أمام العبارة الصحيحة وكلمة (خطأ) أمام العبارة الخاطئة ،

مع التصويب :

- ١ - تُعد مصر من أكبر الدول المنتجة للألبان فى العالم . ()
- ٢ - يتم إنتاج الكهرباء الحرارية من حركة المد والجزر والشلالات والسدود . ()
- ٣ - التطور العلمى والسياسات الحكومية من العوامل البشرية لقيام الصناعة . ()
- ٤ - يُعد اقتصاد نيجيريا متقدمًا لاعتماده على الصناعة فى المقام الأول . ()
- ٥ - تعتبر الولايات المتحدة الأمريكية القوة الصناعية الأولى فى العالم . ()
- ٦ - سان فرانسيسكو أكبر الموانئ الأمريكية على ساحل المحيط الهادى . ()

(ب) ما النتائج المترتبة على ... ؟

١ - الوحدة الاقتصادية الأوروبية .

٢ - الموقع الفلكى لدولة نيجيريا مناخيًا .

٣ - اتساع مساحة الولايات المتحدة الأمريكية وتنوع تضاريسها .

ثانيًا : التاريخ

٣ (أ) اختر الإجابة الصحيحة من بين الإجابات الآتية :

١ - يُعد القضاء على الإقطاع أحد إنجازات ثورة ٢٣ يوليو ١٩٥٢ م فى المجال :

- أ الاقتصادي ب الاجتماعى ج السياسى د الاستراتيجى

٢ - وضعت فلسطين تحت الانتداب البريطاني بناء على نظام الانتداب الذي تم إقراره بواسطة :

أ الأمم المتحدة ب عصبة الأمم ج مجلس الأمن د مجلس الوصاية

٣ - تأكدت الدعوة لمبدأ الأرض مقابل السلام بين العرب وإسرائيل من خلال مؤتمر :

أ مدريد ب سان ريمو ج كامب ديفيد د باندونج

٤ - أقام مجلس المشورة .

أ الخديوى إسماعيل ب محمد على

ج جمال عبد الناصر د محمد نجيب

(ب) قارن بين :

• أسباب العدوان الثلاثى على مصر ١٩٥٦ م وأسباب اندلاع حرب أكتوبر ١٩٧٣ م .

(ج) ما العلاقة بين ... ؟

١ - حرب أكتوبر ١٩٧٣ م وأهمية سلاح البترول « النفط العربى » .

٢ - منظمات المجتمع المدني والعمل الحكومى .

٤ | (أ) أعد كتابة العبارات الآتية بعد تصويب الخطأ بها :

١ - أدى استمرار الاحتلال البريطانى لمصر إلى تأسيس اللواء محمد نجيب تنظيم الضباط الأحرار .

٢ - تُعد ثورة يوليو ١٩٥٢ م من الثورات الفريدة فى التاريخ بسبب مساهمة التكنولوجيا المتقدمة ووسائل الاتصال الحديثة فيها .

٣ - المنظمة الإقليمية هى التى تضم فى عضويتها دول العالم المستقلة وإن لم ترتبط ببعضها بروابط معينة .

٤ - حصلت المرأة المصرية على حق الانتخاب والترشح فى دستور ١٩٢٣ م .

(ب) « ل فلسطين مكانة خاصة فى قلب كل عربى نظرًا لأهميتها الدينية بالإضافة لما تتميز به من موقع جغرافى فكانت مطمئنًا للغزاة على مر العصور » . فى ضوء هذه العبارة وضح :

١ - موقف مجلس الأمن من العدوان الإسرائيلى فى ٥ يونيه ١٩٦٧ م .

٢ - كيف نجحت مصر فى تهيئة وإعداد الجبهة الداخلية استعدادًا للحرب أكتوبر ١٩٧٣ م ؟

(ج) ماذا كان سيحدث إذا ... ؟

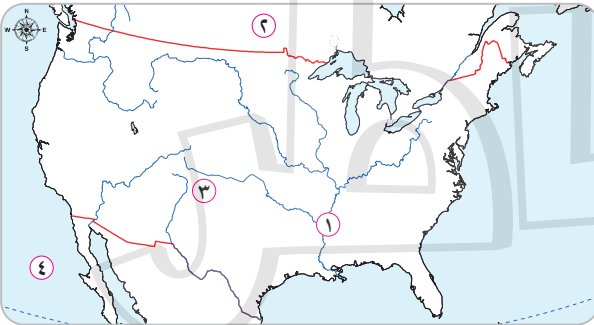
١ - تمكنت الجيوش العربية من تحقيق النصر فى حرب فلسطين عام ١٩٤٨ م .

٢ - لم يتخذ الرئيس السادات قرارًا بمبادرة السلام عام ١٩٧٧ م .

(١٠) محافظة السويس : مديرية التربية والتعليم

أولًا : الجغرافيا

١ (أ) أمامك خريطة صماء للولايات المتحدة الأمريكية ، وضح مدلول الأرقام التى عليها :



١ - نهر

٢ - دولة

٣ - جبال

٤ - المحيط

(ب) بم تفسر ... ؟

١ - يُعد النشاط الزراعى من الأنشطة الاقتصادية فى العالم .

٢ - يُزرع قصب السكر في كل قارات العالم ما عدا قارة أوروبا .

٣ - ارتفاع الكثافة السكانية في الغرب والسهول الشمالية وهضبة جوس بنيجيريا .

٤ - انخفاض أعداد العاملين بالرعى البدائي في شبه الجزيرة العربية .

(ج) حدد الدولة الأولى عالميًا في إنتاج ما يلي :

- ١ - الشاي . (.....) ٢ - النحاس . (.....)
٣ - قصب السكر . (.....) ٤ - الغاز الطبيعي . (.....)

(أ) دلل على صحة كل عبارة مما يأتي :

١ - يسبق عملية التعدين عدة عمليات .

٢ - يربط مصر بنيجيريا علاقات قوية .

(ب) اختر الإجابة الصحيحة من بين الإجابات الآتية :

١ - يُعد البوكسيت الخام الرئيسى لمعدن :

- ١ أ النحاس ب الحديد ج الألومنيوم د المنجنيز
٢ - تُعد قارة أولى قارات العالم إنتاجًا للطاقة النووية .
٣ - تشتهر دولة بإنتاج الأصواف من أغنام المارينو في العالم .
١ أ إفريقيا ب أوروبا ج آسيا د أمريكا الشمالية
١ أ أستراليا ب الهند ج الصين د الولايات المتحدة الأمريكية
٤ - تحتل المركز الأول في إنتاج الأسماك .
١ أ الهند ب كندا ج الصين د مصر

(ج) ما النتائج المترتبة على ... ؟

١ - الوحدة الاقتصادية الأوربية .

٢ - زيادة الطلب على البترول وتعدد استخداماته .

ثانيًا : التاريخ

(أ) اختر الإجابة الصحيحة من بين الإجابات الآتية :

١ - طالبت قوات الاحتلال البريطاني بتعيين رئيسًا للحكومة المصرية
في فبراير ١٩٤٢ م .

ب مصطفى النحاس

أ جمال عبد الناصر

د محمد نجيب

ج سعد زغلول

٢ - صدر قرار تقسيم فلسطين عام ١٩٤٧ م عن :

ب عصبة الأمم

أ جامعة الدول العربية

د الأمم المتحدة

ج مؤتمر باندونج

٣ - انسحبت إسرائيل من سيناء وفقًا لنصوص عام ١٩٧٩ م .

ب مؤتمر كامب ديفيد

أ مؤتمر سان ريمو

د اتفاقية أوسلو

ج معاهدة السلام

٤ - من الدول العربية التي قدمت دعمًا عسكريًا لمصر وسوريا في حرب أكتوبر ١٩٧٣ م
دولة :

د الجزائر

ج لبنان

ب الصومال

أ اليمن

(ب) بم تفسر ... ؟

١ - العدوان الثلاثي على مصر عام ١٩٥٦ م .

٢ - تدهور الأوضاع الاقتصادية بمصر قبل ثورة ٢٥ يناير ٢٠١١ م .

(ج) اكتب ما تشير إليه كل عبارة مما يأتي :

- ١ - تخلى عن حكم مصر في ١١ فبراير ٢٠١١م وسلم إدارة شؤون البلاد للمجلس الأعلى للقوات المسلحة .
(.....)
- ٢ - رئيس أركان حرب الجيش المصرى الذى استشهد فى حرب الاستنزاف .
(.....)

٤ | (أ) اكتب كلمة (صح) أمام العبارة الصحيحة وكلمة (خطأ) أمام العبارة الخطأ ،

مع التصويب :

- ١ - رفض الملك فاروق مغادرة البلاد فى الموعد الذى حدده له الضباط الأحرار .
()
- ٢ - قامت أول وحدة عربية عام ١٩٥٨م بين مصر والسودان .
()
- ٣ - رفضت إسرائيل قرار مجلس الأمن رقم ٢٤٢ .
()
- ٤ - ظهرت أول صحيفة نسائية مصرية على يد هدى شعراوى .
()
- ٥ - أنشئت أول مدرسة لتعليم البنات فى مصر فى عهد الخديوى إسماعيل .
()

(ب) اكتب ما تشير إليه كل عبارة مما يأتي :

- ١ - المرحلة الأولى لإعادة بناء القوات المسلحة بعد هزيمة ٥ يونيو ١٩٦٧م .
(.....)
- ٢ - الوثيقة الرسمية التى تحدد نظام الحكم فى الدولة وتحدد شكل اختصاصات المؤسسات الدستورية المختلفة .
(.....)
- ٣ - إحدى سلطات نظام الحكم فى مصر والمسئولة عن السلطة التشريعية .
(.....)
- ٤ - منظمات تُقدم الخدمات الاجتماعية وبرامج التنمية لتكملة عمل الحكومة .
(.....)

(ج) قارن بين :

- نتائج حرب فلسطين ١٩٤٨م ونتائج حرب أكتوبر ١٩٧٣م .
(يكتفى بثلاث نتائج لحرب أكتوبر)

إجابات اليوم السادس

اختبارات بعض المحافظات على الفصل الدراسي الثاني

(١) محافظة القاهرة : مديرية التربية والتعليم

أولاً : الجغرافيا

١ (أ) ١ - خط الاستواء ٢ - البرازيل ٣ - برازيليا ٤ - الأطلسي

(ب) ١ - الدواجن ٢ - الهند ٣ - البترولية ٤ - الألب

(ج) ١ - بسبب مصائدھا على المحيط الهادى والأنهار والبحيرات ووجود المزارع السمكية .

٢ - لتوافر الطاقة الكهربائية والخبرة العلمية والفنية والأسواق المحلية والخارجية .

٣ - لإحلال الزراعة محلها والزحف العمرانى .

٤ - لضيق مساحة الأراضى الزراعية .

٣ - د

٢ - ج

١ (أ) - ج

(ب) ١ - عملية استخراج المعادن ومصادر الطاقة من باطن الأرض أو بالقرب من سطح الأرض .

• هو الرعى الذى يعتمد على الأساليب العلمية الحديثة لإنتاج الألبان واللحوم .

٢ - تتمثل فى :

• هيئة التبادل العلمى الألمانية .

• المركز الثقافى الألمانى .

• الجامعة الألمانية بالقاهرة .

• معهد الآثار الألمانى .

٣ - أدت إلى تكامل إقليم غرب أوروبا اقتصادياً وحمايتها جمركياً .

• زيادة الإنتاج الزراعى ووجود فائض يسمح بالتصدير .

٤ - أجب بنفسك .

ثانياً : التاريخ

٣ (أ) ١ - عبد الفتاح السيسى ٢ - جمال عبد الناصر ٣ - عدلى منصور

٤ - كارتر ٥ - الفريق عبد المنعم رياض

(ب) ١ - تنفيذ وعد بلفور . ٢ - أجب بنفسك .

٣ - حماية مصر من الفيضان والجفاف وتوليد الكهرباء .

٤ (أ) ١ - لم تستطع إسرائيل احتلال شبه الجزيرة العربية .

٢ - كانت ستحدث عمليات سلب ونهب واعتداء على الممتلكات العامة والخاصة .

٣ - لم يتم حدوث مفاوضات بين مصر وإسرائيل ولم يتم عقد معاهدة السلام بينهما .

٤ - لم يتم القضاء على الإقطاع .

(ب) أجب بنفسك .

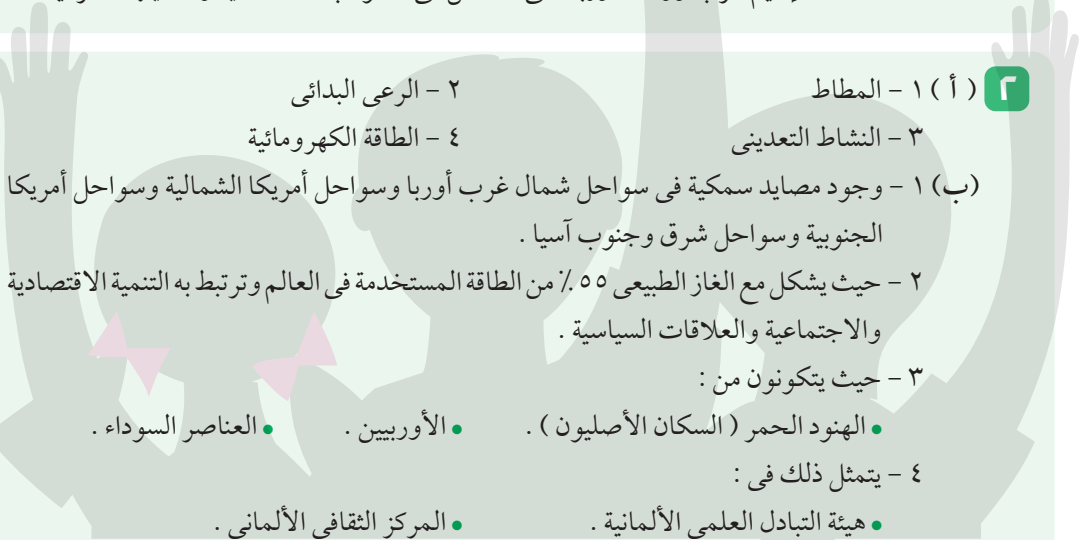
(٢) محافظة الجيزة : مديرية التربية والتعليم

أولاً : الجغرافيا

- ١ (أ) ١ - الألب ٢ - الدنمارك ٣ - الشمال ٤ - برلين
 (ب) ١ - خطأ ٢ - صح ٣ - صح ٤ - خطأ
 (ج) ١ - صعوبة استخدام الميكنة والآلات الزراعية في الزراعة .
 ٢ - ساعدت إقليم غرب ووسط أوروبا على التكامل في الجوانب الاقتصادية وحمايتها جمركياً .



١



- ٢ (أ) ١ - المطاط ٢ - الرعي البدائي ٣ - النشاط التعديني ٤ - الطاقة الكهرومائية
 (ب) ١ - وجود مصايد سمكية في سواحل شمال غرب أوروبا وسواحل أمريكا الشمالية وسواحل أمريكا الجنوبية وسواحل شرق وجنوب آسيا .
 ٢ - حيث يشكل مع الغاز الطبيعي ٥٥ ٪ من الطاقة المستخدمة في العالم وترتبط به التنمية الاقتصادية والاجتماعية والعلاقات السياسية .
 ٣ - حيث يتكونون من :
 • الهنود الحمر (السكان الأصليون) .
 • الأوربيين .
 • العناصر السوداء .
 ٤ - يتمثل ذلك في :
 • هيئة التبادل العلمي الألمانية .
 • المركز الثقافي الألماني .
 • الجامعة الألمانية بالقاهرة .
 • معهد الآثار الألماني .
 (ج) - البرازيل : • أهم الموانئ : ساوباولو على المحيط الأطلنطي .
 • أهم المحاصيل : البن / قصب السكر .
 - ألمانيا : • أهم الموانئ : هامبورج قريب من بحر الشمال .
 • أهم المحاصيل : القمح والشعير / بنجر السكر .

٢

ثانياً : التاريخ

- ٣ (أ) ١ - د ٢ - ب ٣ - ج ٤ - ا
 (ب) ١ - لوقف إطلاق النار بين مصر وإسرائيل تمهيداً لحل النزاع سلمياً .
 ٢ - لأن التكنولوجيا المتطورة ووسائل الاتصال ساهمت في اندلاع الثورة .
 ٣ - أجب بنفسك .
 (ج) ١ - عدم الانحياز : هو عدم الانضمام إلى أى من الكتلتين الشرقية والغربية .
 ٢ - مرحلة الصمود والتصدي : يقصد بها تصدى القوات المصرية للاعتداءات الإسرائيلية .
 ٣ - الحياة النيابية : قيام الشعب بانتخاب ممثلين لإدارة شؤون الحكم في البلاد وسن القوانين ومراقبة أعمال الحكومة نيابة عنه .

٣

اليوم الأول

اليوم الثاني

اليوم الثالث

اليوم الرابع

اليوم الخامس

اليوم السادس

اليوم السابع

- ٤ (أ) ١ - الفريق عبد المنعم رياض
٣ - الرئيس محمد أنور السادات
(ب) ١ - محمد نجيب ٢ - بريطانيا
(ج) ١ - لم تحدث ثغرة الدفرسوار .
٢ - لم يتم إنشاء وطن قومي لليهود في فلسطين .
- ٢ - المشير أحمد إسماعيل
٤ - الدكتورة آمال عثمان
٣ - العقبة ٤ - الدستورية العليا

(٣) محافظة الإسكندرية : مديرية التربية والتعليم

أولاً : الجغرافيا

- ١ (أ) ١ - روكي ٢ - دولة جنوب إفريقيا ٣ - أستراليا ٤ - قارة آسيا
(ب) ١ - لتوافر ظروف زراعته وهي التربة الخصبة الخفيفة والمناخ الحار والهواء الرطب والمطر الغزير .
٢ - تأتي في المركز الثاني في الأهمية بعد لاجوس وتعتبر مركزاً للتجارة والتعليم والمواصلات .
٣ - بسبب طول السواحل على البحار والمحيطات وتقدم وسائل الصيد .
٤ - بسبب اتساع المساحة وتنوع التضاريس .
(ج) ١ - صح ٢ - خطأ ٣ - خطأ ٤ - صح

- ٢ (أ) ١ - ب ٢ - ا ٣ - ج ٤ - ب
(ب) - الفحم : الأهمية : يستخدم في توليد الكهرباء - مصدر رئيسي للصناعة في الدول الكبرى .
• أهم الدول المنتجة : الصين/ الولايات المتحدة/ الهند .
- البترول : الأهمية : أهم مصادر الطاقة في العالم بسبب ارتباطه بالتنمية الاقتصادية والاجتماعية والعلاقات السياسية - يشكل مع الغاز الطبيعي ٥٥ ٪ من الطاقة المستخدمة في العالم .
• أهم الدول المنتجة : السعودية/ روسيا/ الولايات المتحدة الأمريكية .
(ج) ١ - لا تتطلب أيدي عاملة وفيرة . • تزرع الأرض أكثر من مرة في العام بأكثر من محصول .
• صغر مساحة الحقول الزراعية مما يصعب استخدام الآلات والميكنة الزراعية .
٢ - قلة عدد القائمين على حرفة الرعي البدائي في دول وسط آسيا . ٣ - أجب بنفسك .

ثانياً : التاريخ

- ٣ (أ) ١ - الحلفاء ٢ - تحطيم ٣ - المحافظ ٤ - الخصخصة ٥ - الجزائر
(ب) ١ - استعادت مصر طابا في مارس ١٩٨٩ م . ٢ ، ٣ - أجب بنفسك .
(ج) ١ - ظهر سلاح النفط العربي أثناء حرب أكتوبر ١٩٧٣ م عندما اجتمع وزراء النفط العربي وقرروا خفض إنتاج البترول وحظر الصادرات النفطية للولايات المتحدة .
٢ - بدأت الحياة النيابية الحقيقية بعد هذا الدستور الذي نص على حرية تكوين الأحزاب السياسية وإنشاء برلمان يمثل السلطة التشريعية والذي تكون من مجلسين هما مجلسا النواب والشيوخ .

- ٤ (أ) ١ - محمد أنور السادات ٢ - مصطفى النحاس ٣ - هدى شعراوي
٤ - المشير أحمد إسماعيل ٥ - روجرز
(ب)، (ج) أجب بنفسك .

(٤) محافظة القليوبية : مديرية التربية والتعليم

أولاً : الجغرافيا

- ١ (أ) ١ - الصين ٢ - الهند
٣ - شيلي ٤ - شمال شرق الولايات المتحدة
(ب) ١ - خطأ ٢ - صح ٣ - صح ٤ - صح
(ج) ١ - * القمح : الأهمية : محصول الغذاء الرئيسي في العالم .
• أولى الدول المنتجة : الصين/ الهند .
* المطاط الطبيعي : الأهمية : يصنع منه إطارات السيارات وصناعات أخرى .
• أولى الدول المنتجة : تايلاند .
٢ - • نيجيريا : الغرب/ السهول الشمالية/ هضبة جوس .
• ألمانيا : المدن الكبرى/ المناطق الصناعية/ الأودية على جانبي الأنهار لقيام الزراعة .

- ٢ (أ) ١ - الأبقار ٢ - موريتانيا ٣ - طاقة الرياح ٤ - إيبادان
(ب) ١ - بسبب انتشار التعليم بين القبائل وتغير نشاطهم للعمل بالصناعة والزراعة والخدمات .
٢ - لأنه المصدر الأول للطاقة في العالم ويرتبط بالتنمية الاقتصادية والاجتماعية والعلاقات السياسية ويشكل مع الغاز الطبيعي ٥٥ ٪ من الطاقة المستخدمة في العالم .
٣ - بسبب طول سواحلها على خليج غينيا ووجود أنهار وبحيرات بالداخل .
٤ - لوجود التلال والينابيع المائية وتغطيتها الغابات المخروطية .
(ج) ١ - تحتاج الزراعة الكثيفة إلى أيد عاملة وفيرة لصعوبة استخدام المكنة والآلات الزراعية .
٢ - تحتاج الشعوب إلى تطور الصناعة حتى تتقدم لذلك فالدول المتقدمة هي دول صناعية .

ثانياً : التاريخ

- ٣ (أ) ١ - سان ريمو ٢ - التصدى والصمود ٣ - باندونج ٤ - البرلمانية
(ب) ١ - مشاركة مصر بفاعلية في مؤتمر مدريد للسلام في عام ١٩٩١ م .
٢ - • إنشاء أول مدرسة لتعليم البنات عام ١٨٧٣ م وهي مدرسة السنية .
• قيام السيدة جميلة حافظ بإصدار مجلة الريحانة أول مجلة نسائية في مصر عام ١٩٠٧ م والتي تحولت لجريدة عام ١٩٠٨ م .
(ج) أجب بنفسك .

- ٤ (أ) ١ - الفريق عبد المنعم رياض
٣ - محكمة العدل الدولية
(ب) ، (ج) أجب بنفسك .
٢ - المشير أحمد إسماعيل
٤ - هدى شعراوي

(٥) محافظة الشرقية : مديرية التربية والتعليم

أولاً : الجغرافيا

- ١ (أ) ١ - بنين
(ب) أجب بنفسك .
(ج) ١ - إقليم غرب ووسط أوروبا الصناعي : بريطانيا/ فرنسا/ ألمانيا .
٢ - إقليم شرق آسيا الصناعي : جزيرة هنشو باليابان/ جمهورية كوريا/ مناطق عدة بالصين .
٢ - تتميز الصناعات الألمانية بالجودة والتنوع وأهمها صناعة :
• الحديد والصلب . • السيارات . • المنسوجات . • السفن .
(د) ١ - بسبب ملائمة ظروف المناخ والتربة الزراعية .
٢ - بسبب طول السواحل على البحار والمحيطات وتقديم وسائل الصيد .

- ٢ (أ) ١ - تايلاند
(ب) ١ - يعتبر خام البوكسيت هو المستخدم في صناعة الألومنيوم .
٢ - يتم توليد الكهرباء من خلال الرياح في بعض الدول ومنها مصر .
(ج) ١ - توسع العالم في استخدامه كبديل لمصادر الطاقة الأخرى .
٢ - تغطي الغابات الاستوائية والمدارية الجزء الجنوبي من نيجيريا .
٣ - أصبحت منطقة جذب سياحي .
(د) ١ - ١
٢ - ٢
٣ - ٣

ثانياً : التاريخ

- ٣ (أ) ١ - ١
(ب) ، (ج) أجب بنفسك .
٢ - ٢
٣ - ٣
٤ - ٤

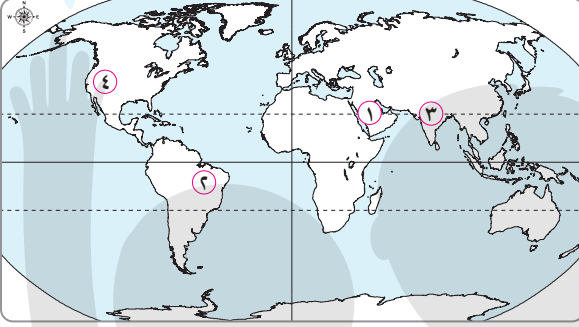
- ٤ (أ) ١ - خطأ
(ب) ١ - لمساعدة الولايات المتحدة وبعض الدول الأوروبية لإسرائيل والتفوق العسكري وخاصة سلاح الجو ، واستخدام إسرائيل عنصر المفاجأة في ضرب المطارات المصرية ، ونقص التدريب وعدم توافر أسلحة متطورة .
٢ ، ٣ ، ٤ - أجب بنفسك .
(ج) أجب بنفسك .
٢ - خطأ
٣ - خطأ
٤ - صح

اليوم السابع

(١١) محافظة بورسعيد : مديرية التربية والتعليم

أولاً : الجغرافيا

(أ) أمامك خريطة صماء للعالم ، وضح مدلول الأرقام التي عليها :



١ - أولى دول العالم إنتاجاً

للبنترول

٢ - أكبر دول العالم إنتاجاً

للسكر

٣ - أكبر دول العالم إنتاجاً

للألبان

٤ - أولى دول العالم إنتاجاً للغاز الطبيعي

(ب) « تمثل الأسماك غذاءً رئيسياً لكثير من سكان العالم فى المناطق الساحلية » .

فى ضوء دراستك وضح ما يلى :

١ - العوامل الطبيعية والبشرية اللازمة لتطور حرفة الصيد .

.....

٢ - أهم الدول المصدرة للأسماك فى العالم .

.....

(ج) اكتب ما تشير إليه كل عبارة مما يأتى :

١ - زراعة الأرض أكثر من مرة فى العام الواحد لإشباع حاجة

(.....)

السكان المحليين من الغذاء .

٢ - نشاط اقتصادى يمثل العمود الفقرى للاقتصاد الألماني

(.....)

ويعمل به ثلث القوى العاملة .

٣ - طاقة تولد منها الكهرباء فى خمس دول عربية تتقدمها مصر

(.....)

وتليها المغرب .

٢ | (أ) اكتب كلمة (صح) أمام العبارة الصحيحة وكلمة (خطأ) أمام العبارة الخاطئة ،

مع التصويب :

- ١ - تقع ألمانيا في شرق القارة الأوربية . ()
- ٢ - قُلت أعداد القائمين بحرفة الرعي البدائي في شبه الجزيرة العربية وبادية الشام نتيجة توطين البدو لتدفق البترول . ()
- ٣ - تُعد قارة أمريكا الشمالية الأولى إنتاجًا لمحصول الذرة . ()
- ٤ - المطاط الطبيعي يستخرج من عصارة أشجار مخروطية . ()

(ب) ما العلاقة بين ... ؟

- البوكسيت والألومنيوم .

(ج) ماذا يحدث إذا ... ؟

- أخذت الدول النامية بالأساليب العلمية في الصناعة .

(د) إلى أي الدول تنتمي الظواهر الآتية ... ؟

- ١ - هضبة جوس . (.....)
- ٢ - جبال الألب . (.....)
- ٣ - نهر النيجر . (.....)

ثانيًا : التاريخ

٣ | (أ) اختر الإجابة الصحيحة من بين الإجابات الآتية :

- ١ - من إنجازات ثورة ٢٣ يوليو ١٩٥٢ م السياسية :
- أ منح المرأة حق الانتخاب
- ب إصدار قوانين التأمينات الاجتماعية
- ج قانون الإصلاح الزراعي الأول
- د تأميم شركة قناة السويس
- ٢ - بعد فشل العدوان الثلاثي قامت إسرائيل بالانسحاب أوائل عام ١٩٥٧ م من :
- أ بورسعيد
- ب السويس
- ج غزة وسيناء
- د الضفة الغربية لنهر الأردن
- ٣ - « قيام الشعب بانتخاب ممثلين لإدارة شؤون الحكم في البلاد و سن القوانين ومراقبة أعمال الحكومة نيابة عنه » . يقصد به :
- أ النقابات العمالية
- ب الحياة النيابية
- ج البرلمان
- د الدستور

٤ - أول وزيرة للشئون الاجتماعية في مصر عام ١٩٦٢م كانت :

- أ عائشة راتب
ب هدى شعراوى
ج حكمت أبو زيد
د آمال عثمان

(ب) بم تفسر ... ؟

١ - قيام مصر وسوريا بالإعداد والتخطيط لحرب أكتوبر ١٩٧٣م .

٢ - تُعد ثورة ٢٥ يناير ٢٠١١م من الثورات الفريدة في التاريخ المصرى الحديث والمعاصر .

(ج) ما رأيك فى ... ؟

١ - وعد بلفور ١٩١٧م .

٢ - مبادرة الرئيس أنور السادات بزيارة إسرائيل من أجل السلام عام ١٩٧٧م .

٤ (أ) صوب ما تحته خط :

١ - أعلنت مصر وقوفها بجانب سوريا عام ١٩٦٧م تطبيقاً

(.....)

لاتفاقية السلام بينهما .

٢ - ساهمت مصر مع كل من الهند ويوغوسلافيا فى تشكيل حركة

(.....)

الضباط الأحرار .

٣ - تخلى الرئيس الأسبق حسنى مبارك عن الرئاسة وسلم إدارة

(.....)

شئون البلاد لرئيس المحكمة الدستورية العليا .

٤ - نص دستور ١٩٥٦م على أن السلطة التشريعية تكون فى يد

(.....)

مجلس منتخب هو مجلس المشورة .

(ب) « تعددت الحروب والمواجهات بين إسرائيل والعرب منذ عام ١٩٤٨م حتى

عام ١٩٧٣م » . فى ضوء هذه العبارة وضح :

١ - نتائج هزيمة العرب فى حرب ١٩٤٨م .

٢ - ماذا كان سيحدث إذا : وافقت إسرائيل على تنفيذ قرار مجلس الأمن رقم ٢٤٢ عام ١٩٦٧ م ؟

٣ - مظاهر تصدى القوات المصرية للاعتداءات الإسرائيلية فى مرحلة الصمود والتصدى .

(ج) أعط مثلاً لكل من :

١ - اهتمام ثورة ٢٣ يوليو ١٩٥٢ م بالتعليم .

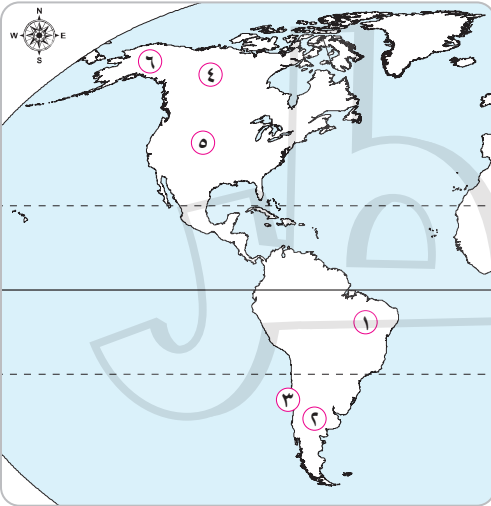
٢ - الدعم العربى لكل من مصر وسوريا أثناء حرب أكتوبر ١٩٧٣ م .

٣ - أنشطة منظمات المجتمع المدنى .

(١٢) محافظة دمياط : مديرية التربية والتعليم

أولاً : الجغرافيا

(أ) أمامك خريطة صماء للأمريكتين ، وضح مدلول الأرقام التى عليها :



١ - أكبر دول العالم إنتاجاً لقصب السكر

٢ - دولة يسود فيها الرعى التجارى

٣ - دولة منتجة للنحاس

٤ - دولة مصنعة للألومنيوم

٥ - أولى دول العالم إنتاجاً للغاز الطبيعى

٦ - ولاية أمريكية يقل فيها عدد السكان

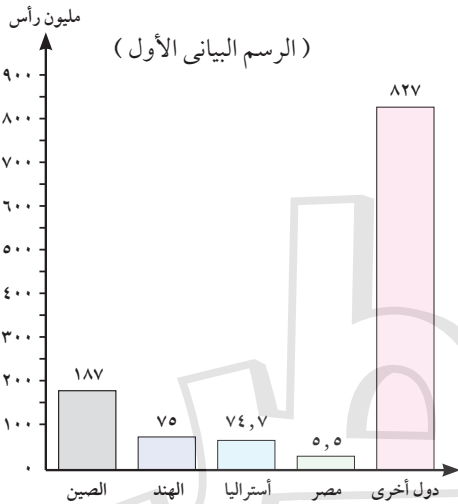
(ب) اكتب ما تشير إليه كل عبارة مما يأتي :

- ١ - حبوب غذائية يستخدم معظم إنتاجها كعلف للماشية في أمريكا الشمالية .
(.....)
- ٢ - جزيرة يابانية تمثل مركزًا صناعيًا بإقليم شرق آسيا .
(.....)
- ٣ - منطقة تمثل أكبر غابة استوائية في العالم .
(.....)

(ج) ما النتائج المترتبة على ... ؟

- ١ - الوحدة الاقتصادية الأوروبية .
.....
- ٢ - انتشار التعليم بين القائمين بحرفة الرعي في دول وسط آسيا .
.....
- ٣ - تميز الغاز الطبيعي برخص ثمنه وسهولة نقله وعدم تلويثه للبيئة .
.....
- ٤ - اتساع السهول الوسطى وامتدادها من الشمال للجنوب بالولايات المتحدة الأمريكية .
.....

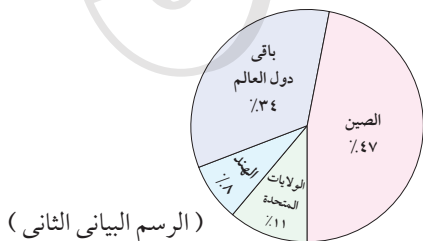
(أ) أمامك رسمان بيانيان يمثلان إنتاج نوعين من الموارد الاقتصادية في العالم ،



- ١ - ما المورد الحيواني الذي يمثله الرسم البياني الأول؟ وما سبب توافره في أولى الدول المنتجة له؟
.....

- ٢ - ما مصدر الطاقة الذي يمثله الرسم البياني الثاني؟
.....

- ٣ - ما المنتجات التي يوفرها كل مورد من الموردين؟
.....



(ب) أكمل المقارنة الآتية :

| وجه المقارنة | الموقع الجغرافي | الظواهر التضاريسية | أهم المدن |
|----------------------------|-------------------------|------------------------------|--|
| جمهورية البرازيل الاتحادية | • يحدها من الشرق المحيط | • تمتد في جنوبها ووسطها هضبة | • تُعد واحدة من أجمل مدن العالم مدينة |
| الولايات المتحدة الأمريكية | • يحدها من الغرب المحيط | • تمتد في شرقها جبال | • تُعد من أكبر مدن السهول الوسطى مدينة |

(ج) بم تفسر ... ؟

١ - صعوبة استخدام الآلات والميكنة الزراعية في الزراعة الكثيفة .

٢ - محصول القطن من محاصيل الألياف الهامة للإنتاج الصناعي .

٣ - انتشار مصايد الأسماك على سواحل القارات .

٤ - ارتفاع نسبة ما يدخل من الإنتاج العالمي للحديد في التجارة الدولية .

ثانيًا : التاريخ

(أ) أكمل العبارات الآتية بكلمات مناسبة :

٣

١ - من عوامل قيام ثورة ٢٣ يوليو ١٩٥٢م استمرار الاحتلال

٢ - عدم الانضمام إلى أي من الكتلتين الشرقية والغربية يسمى

٣ - نجحت القوات المصرية في هزيمة القوات الإسرائيلية عند محاولتها احتلال بورفؤاد في معركة

٤ - دعا الرئيس الأمريكي كلاً من رئيس مصر ورئيس وزراء إسرائيل عام ١٩٧٨م لعقد مؤتمر في

٥ - شكل المجتمع المصري أثناء ثورة ٢٥ يناير ٢٠١١م ما عرف بـ لحفظ الأمن والنظام .

٦ - يمثل رئيس مجلس الوزراء ونوابه والوزراء والإدارة المحلية السلطة

(ب) بم تفسر ... ؟

١ - مغادرة الملك فاروق البلاد قبل الموعد الذي حدده ضباط ثورة ٢٣ يوليو ١٩٥٢ م .

.....

٢ - عدوان ٥ يونيو ١٩٦٧ م .

.....

٣ - أهمية منظمات المجتمع المدني .

.....

(ج) دلل تاريخيًا على صحة كل عبارة من العبارات الآتية :

١ - اهتمت ثورة ٢٣ يوليو ١٩٥٢ م بالصناعة في مصر .

.....

٢ - اتخذت مصر عدة إجراءات لتهيئة وإعداد الجبهة العربية لحرب أكتوبر ١٩٧٣ م .

.....

٣ - جهود مصر لتحقيق السلام في القضية الفلسطينية بدءًا من عام ١٩٧٩ م .

.....

٤ - كان للمرأة المصرية دور رائد في العمل الوطني في فترة ما قبل ثورة ١٩١٩ م .

.....

٤ (أ) لمن تنسب الأعمال الآتية ... ؟

١ - أذاع البيان الأول لثورة ٢٣ يوليو ١٩٥٢ م من دار الإذاعة المصرية . (.....)

٢ - أحد الأعمدة الرئيسية في إعادة بناء وتنظيم القوات المسلحة

المصرية في حرب الاستنزاف . (.....)

٣ - قدم مبادرة لوقف إطلاق النار تمهيدًا لحل النزاع سلميًا بين مصر

وإسرائيل أثناء حرب الاستنزاف . (.....)

٤ - تولى القيادة العامة الموحدة للقوات المصرية والسورية في حرب

أكتوبر ١٩٧٣ م . (.....)

٥ - أنشأ مجلس شورى النواب في ديسمبر ١٨٦٦ م . (.....)

٦ - حصلت على منصب رئيس اللجنة التشريعية بمجلس الشعب المصرى .

(.....)

(ب) ما النتائج المترتبة على ... ؟

١ - توقيع معاهدة ١٩٣٦ م بالنسبة لمصر .

٢ - اللجوء إلى التحكيم الدولى لحل مشكلة طابا .

٣ - صدور دستور ١٩٥٦ م بالنسبة للمرأة فى مصر .

(ج) « وصف وعد بلفور عام ١٩١٧م بتعهد بريطانيا بإنشاء وطن قومى لليهود فى فلسطين

بأنه وعد من لا يملك لمن لا يستحق » . فى ضوء هذه العبارة أجب :

١ - ما رأيك فى مقولة : « وعد من لا يملك لمن لا يستحق » ؟ (مدلاً على ذلك)

٢ - ما الإجراءات التى اتخذتها بريطانيا لتنفيذ هذا الوعد ؟

٣ - قارن بين : الموقف العربى من إعلان قيام دولة إسرائيل عام ١٩٤٨م وأثناء حرب أكتوبر ١٩٧٣ م .

(١٣) محافظة كفر الشيخ : مديرية التربية والتعليم

أولاً : الجغرافيا

(أ) أكمل العبارات الآتية بكلمات مناسبة :

١ - أولى دول العالم إنتاجاً لقصب السكر هى

٢ - ثلث الإنتاج السمكى فى العالم يأتى من

٣ - تحتل قارة المركز الثانى فى إنتاج الطاقة النووية .

٤ - تنمو الغابات المخروطية والنفضية فى ألمانيا على منحدرات جبال

(ب) بم تفسر ... ؟

١ - القطن في مصر والسودان من أجود أنواع القطن في العالم .

٢ - أسعار البترول في زيادة مستمرة .

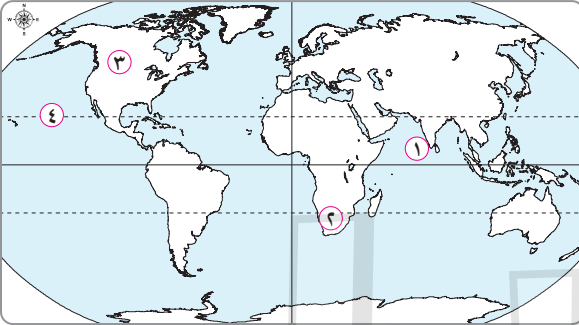
٣ - لجأت الهند لاستخدام الطاقة النووية والكهربائية .

٤ - انكماش مساحة الحشائش بالسهل الساحلى فى ألمانيا .

(ج) برهن على صحة العبارة التالية :

• أثر التعليم على نشاط قبائل وسط آسيا .

(أ) أمامك خريطة صماء للعالم ، وضح مدلول الأرقام التى عليها :



١ - سهل ساحلى

٢ - مركز صناعى حديث

٣ - نوع الزراعة السائد

٤ - دائرة عرض

(ب) إلى أى الدول تنتمى كل مدينة مما يأتى ؟ وما شهرتها ؟

١ - حيدر آباد . ٢ - ميونخ .

(ج) « الصناعة الحديثة مقياس لتطور الشعوب وازدهارها » . فى ضوء العبارة أجب :

١ - ما المقصود بـ : النشاط التعدينى ؟

٢ - ما النتائج المترتبة على : تحريم الديانة الهندوسية أكل لحوم الأبقار ؟

٣ - دلل على : وجود علاقات ثقافية وعلمية بين مصر وألمانيا .

٤ - ما مقترحاتك من أجل : تطوير الصناعة المصرية لتصبح مصر من الدول الصناعية ؟

ثانيًا : التاريخ

٣ | (أ) اختر الإجابة الصحيحة من بين الإجابات الآتية :

١ - تأسيس حركة عدم الانحياز من إنجازات ثورة ٢٣ يوليو ١٩٥٢م فى المجال :

أ الاقتصادية ب الاجتماعى ج الثقافى د الدولى

٢ - هزمت القوات المصرية القوات الإسرائيلية فى معركة رأس العش عند محاولتها احتلال مدينة :

أ بورفؤاد ب بورسعيد ج السويس د الإسماعيلية

٣ - أنهت حالة اللاسلم واللاحرب وأفسحت المجال للمفاوضات السياسية من منطلق القوة العربية .

أ حرب فلسطين ١٩٤٨م ب عدوان ٥ يونيه ١٩٦٧م

ج حرب الاستنزاف د حرب أكتوبر ١٩٧٣م

٤ - بموجب دستور ١٩٥٦م تم تشكيل مجلس عام ١٩٥٧م .

أ المشورة ب الأمة ج شورى النواب د شورى القوانين

(ب) بم تفسر ... ؟

١ - سوء الأحوال الاجتماعية فى مصر قبل ثورة ٢٣ يوليو ١٩٥٢م .

٢ - لفلسطين أهمية خاصة فى قلب كل عربى .

٣ - إحداهن ثغرة فى منطقة الدفرسوار أثناء حرب أكتوبر ١٩٧٣م .

٤ - تأييد مصر لاتفاقية أوسلو عام ١٩٩٣م .

(ج) أيد بالأدلة التاريخية صحة كل عبارة مما يأتي :

- ١ - التطبيق غير السليم لسياسة الخصخصة أدى لتدهور الأحوال الاقتصادية في مصر .
- ٢ - شهدت مرحلة ما بعد ثورة ١٩١٩م وحتى ثورة يوليو ١٩٥٢م نهضة نسائية في مختلف المجالات .

٤ (أ) اكتب كلمة (صح) أمام العبارة الصحيحة وكلمة (خطأ) أمام العبارة الخطأ :

- ١ - وافقت بريطانيا على قرار هيئة الأمم المتحدة بتقسيم فلسطين عام ١٩٤٧م . ()
 - ٢ - تحقيق عنصر المفاجأة في ضرب المطارات المصرية خلال العدوان الإسرائيلي عام ١٩٦٧م تم بمساعدة أمريكية . ()
 - ٣ - يمثل مجلس النواب السلطة التنفيذية في الدولة . ()
 - ٤ - أنشأ الخديوي إسماعيل مجلس شورى النواب عام ١٨٦٦م . ()
- (ب) ما النتائج المترتبة على ... ؟

- ١ - بناء حائط الصواريخ على الضفة الغربية لقناة السويس أثناء حرب الاستنزاف .
- ٢ - ثورة ٣٠ يونيو ٢٠١٣م .

(ج) « تحية إعزاز وفخر للمصريين وجيشهم ، ففى أقل من ثلاثة عقود خاضوا أربعة

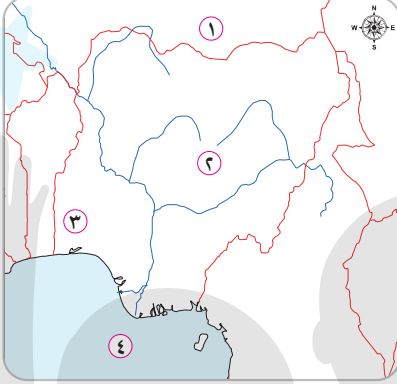
حروب لحماية وطنهم وأمتهم » . فى ضوء هذه العبارة وضع :

- ١ - نتائج فشل العدوان الثلاثى على مصر ١٩٥٦م .
- ٢ - أسباب إغلاق مصر لخليج العقبة فى وجه الملاحة الإسرائيلية مايو ١٩٦٧م .
- ٣ - كيف هيأت مصر الجبهة الداخلية لحرب أكتوبر ١٩٧٣م ؟
- ٤ - ما رأيك فى : سعى مصر الدائم مع جيرانها لتحقيق السلام ؟

(١٤) محافظة البحيرة : مديرية التربية والتعليم

أولاً : الجغرافيا

١ (أ) أمامك خريطة صماء لدولة نيجيريا الاتحادية ، وضح مدلول الأرقام التي عليها :



- ١ - دولة
- ٢ - هضبة
- ٣ - مدينة
- ٤ - خليج

(ب) « مارس البشر العديد من الأنشطة الاقتصادية البدائية في الماضي ، ومع

زيادة عدد السكان تنوعت الأنشطة وتطورت حتى وصلت لما هي عليه الآن » . في ضوء هذه العبارة أجب :

- ١ - اذكر نتيجة واحدة لكل مما يأتي :
 - تربية أغنام المارينو بأستراليا .

• كثرة التلال والينابيع المائية في المرتفعات الوسطى بألمانيا .

٢ - قارن بين : الزراعة الكثيفة والزراعة التجارية والعلمية من حيث الخصائص .

٣ - دلل على صحة العبارة الآتية : يُعد البترول أهم مصادر الطاقة في العالم .

(ج) اكتب كلمة (صح) أمام العبارة الصحيحة وكلمة (خطأ) أمام العبارة الخاطئة :

- ١ - يوجد الرعي البدائي في مناطق الحشائش في العالم ويعتمد على أحدث الأساليب العلمية . ()
- ٢ - تُعد الصين والنرويج وتايلاند من الدول الرئيسية المصدرة للأسماك . ()
- ٣ - يتركز إنتاج النحاس في عدد من دول العالم أهمها البرازيل في أمريكا الجنوبية . ()

- ٤ - تُعد الولايات المتحدة الأمريكية أكبر دول العالم إنتاجًا للألومنيوم . ()
- ٥ - تتركز الصناعات التكنولوجية في دول الخليج العربي . ()
- ٦ - مدينة ميونخ هي أهم موانئ ألمانيا وتقع بالقرب من بحر الشمال . ()

٢ | (أ) بم تفسر ... ؟

١ - يُعد النشاط الزراعي من الأنشطة الاقتصادية الأساسية في العالم .

٢ - انتشار مناطق الصيد على سواحل القارات .

٣ - توسع العالم في استخدام الغاز الطبيعي كبديل لمصادر الطاقة الأخرى .

٤ - تطور الصناعة في الدول المتقدمة تطورًا مذهلاً .

٥ - تركز سكان نيجيريا في الغرب والسهول الشمالية .

(ب) اختر الإجابة الصحيحة من بين الإجابات الآتية :

- ١ - ترتبط تربية بالمراعى التجارية الواسعة .
 أ الجاموس ب الإبل ج الأغنام د الماعز
- ٢ - تصدر الدول النامية مثل خام الحديد إلى الدول المتقدمة .
 أ الصين ب أستراليا ج روسيا د موريتانيا
- ٣ - أولى دول العالم في إنتاج الألبان دولة :
 أ الولايات المتحدة الأمريكية ب الهند
 ج الصين د اليابان
- ٤ - تتقدم دولة الدول العربية الخمس المنتجة للطاقة الكهربائية من الرياح .
 أ مصر ب تونس ج الأردن د المغرب

٥ - تمثل العمود الفقري للاقتصاد الألماني فيعمل بها نحو ثلث القوى العاملة .

- أ الزراعة ب الصناعة ج السياحة د التجارة

ثانيًا : التاريخ

٣ | (أ) صوب ما تحته خط :

- ١ - كان الفريق سعد الدين الشاذلي وزيرًا للحرية أثناء حرب أكتوبر ١٩٧٣ م . (.....)
- ٢ - نصت معاهدة السلام مارس ١٩٧٩ م على البدء بمفاوضات لإنشاء حكم ذاتي للفلسطينيين في الضفة الغربية والقدس . (.....)
- ٣ - تم توقيع اتفاقية أوسلو ١٩٩٣ م برعاية أمريكية بين إسرائيل ومنظمة الجهاد الفلسطينية . (.....)
- ٤ - تم عزل محمد مرسى فى الثالث من يوليو ٢٠١٣ م وتسليم السلطة إلى المستشار محمد عبد الغنى الجمسى رئيس المحكمة الدستورية العليا . (.....)
- ٥ - نص دستور ١٩٥٦ م على أن السلطة التشريعية تكون فى يد مجلس منتخب هو مجلس النواب . (.....)

(ب) دلل تاريخيًا على صحة العبارات الآتية :

- ١ - لم تؤدِّ معاهدة ١٩٣٦ م إلى استقلال حقيقى لمصر .
.....
- ٢ - اختلفت المواقف بشأن قرار تقسيم فلسطين عام ١٩٤٧ م .
.....
- ٣ - عملت الدولة على تدعيم مكانة المرأة المصرية على كافة المستويات فى الفترة من ١٩٨١ م حتى الآن .
.....

(ج) ماذا كان سيحدث إذا ... ؟

١ - قبلت إسرائيل تنفيذ قرار مجلس الأمن رقم ٢٤٢ بعد عدوان ١٩٦٧ م .

٢ - كان موقف الولايات المتحدة الأمريكية على الحياد ولم تدعم إسرائيل في حرب أكتوبر ١٩٧٣ م .

٤ (أ) اكتب ما تشير إليه كل عبارة مما يأتي :

١ - تصريح بريطاني يتضمن إنشاء وطن قومي لليهود في فلسطين . ()

٢ - عاصمة أوربية عقد فيها مؤتمر عام ١٩٩١ م الذي أكد على مبدأ الأرض مقابل السلام وحل الصراع العربي / الإسرائيلي على

ضوء قرارات مجلس الأمن . ()

٣ - لجان شكلها المجتمع المصري بكل فئاته لحماية المنشآت ومواجهة أعمال السرقة والحرق والترويع أثناء ثورة ٢٥ يناير

٢٠١١ م . ()

٤ - يُطلق على المجالس النيابية التي تتولى السلطة التشريعية في الدولة . ()

٥ - استجاب لدعوة رفاة الطهطاوى وأنشأ أول مدرسة لتعليم

البنات في مصر عام ١٨٧٣ م . ()

(ب) ما النتائج المترتبة على ... ؟

١ - حرب فلسطين عام ١٩٤٨ م .

٢ - نجاح الضربة الجوية ونيران المدفعية على طول القناة يوم السادس من أكتوبر ١٩٧٣ م .

(ج) « تنوعت أحداث ثورة ٢٣ يوليو ١٩٥٢م ما بين القضاء على سلبيات وإقامة

إيجابيات ». في ضوء هذه العبارة وضح :

١ - مطالب الثورة من الملك فاروق ، ولماذا وافق عليها ؟

.....

٢ - كيف تمكنت الثورة من القضاء على الإقطاع ؟

.....

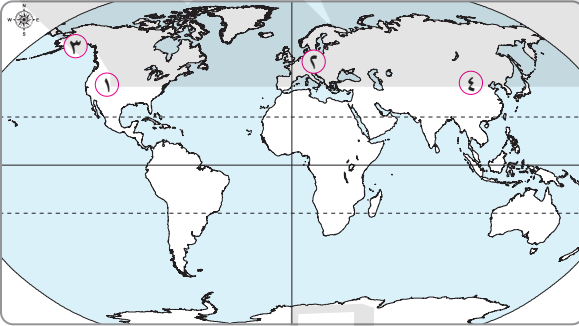
٣ - موقف الثورة من القضية الفلسطينية وحقوق الشعب الفلسطيني .

.....

(١٥) محافظة الفيوم : مديرية التربية والتعليم

أولاً : الجغرافيا

(أ) أمامك خريطة صماء للعالم ، وضح مدلول الأرقام التي عليها :



١ - سلاسل جبلية

.....

٢ - إقليم صناعي

.....

٣ - ولاية أمريكية

.....

٤ - أولى دول العالم في إنتاج الحديد

(ب) اكتب المصطلح الجغرافي لكل عبارة من العبارات الآتية :

١ - محصول تنتج مصر والسودان أجود أنواعه في العالم . (.....)

٢ - دولة شهيرة بإنتاج أصواف المارينو . (.....)

٣ - يستخدم في صناعة الأسلاك والأدوات الكهربائية وشيلي أولى

الدول إنتاجاً له . (.....)

٤ - الخام الرئيسي لمعدن الألومنيوم . (.....)

(ج) قارن بين :

- ١ - حشائش البراري وحشائش التندرا من حيث :
- نوع الرعى .
 - مناطق تركيز الرعى .

- ٢ - المطاط وقصب السكر من حيث :
- الدولة الأولى عالمياً في إنتاجه .
 - الأهمية الاقتصادية .

(أ) اختر الإجابة الصحيحة من بين الإجابات الآتية :

- ١ - زراعة الأرض بشكل مكثف لإشباع حاجة السكان المحليين من الغذاء تسمى زراعة :

- أ بدائية ب كثيفة ج علمية د كل ما سبق

- ٢ - يأتي نصف الإنتاج السمكي في العالم من مياه :

- أ الأنهار ب البحيرات ج البحار والمحيطات د المزارع السمكية

- ٣ - أكثر من $\frac{3}{4}$ إنتاج الفحم في العالم يأتي من :

- أ أوروبا وإفريقيا ب أوروبا وآسيا ج آسيا وأستراليا د أمريكا الشمالية وأوروبا

- ٤ - أهم المراكز الصناعية الحديثة في أمريكا الشمالية يوجد في دولة :

- أ كوبا ب شيلي ج بنما د المكسيك

(ب) « تتشابه السواحل الجنوبية للولايات المتحدة الأمريكية مع السواحل الجنوبية

لجمهورية نيجيريا الاتحادية » . في ضوء هذه العبارة وضع :

- ١ - الخليج الذي تطل عليه السواحل الجنوبية لكل منهما والنهر الذي يصب فيه .

- ٢ - عدد الولايات التي تتكون منها كل دولة من الدولتين .

(ج) دلل جغرافيًا على صحة كل عبارة مما يأتي :

١ - ترتبط مصر مع نيجيريا بعلاقات قوية .

٢ - تُعد الصناعة الحديثة مقياسًا لتطور الشعوب .

ثانيًا : التاريخ

(أ) رتب الأحداث التاريخية التالية من الأقدم إلى الأحدث :

- ١ - مؤتمر مدريد للسلام . (.....)
٢ - مؤتمر سان ريمو . (.....)
٣ - اتفاقية أوسلو . (.....)
٤ - مؤتمر كامب ديفيد . (.....)

(ب) أكمل العبارات الآتية بكلمات مناسبة :

- ١ - ساهمت مصر والهند ويوغوسلافيا في تشكيل حركة
٢ - أصدرت ثورة ٢٣ يوليو ١٩٥٢م قوانين لتحديد الملكية الزراعية سميت بقوانين
٣ - استطاع الجيش المصري تدمير في ست ساعات أثناء حرب أكتوبر ١٩٧٣م .
٤ - نجحت القوات المصرية في هزيمة القوات الإسرائيلية عندما حاولت احتلال مدينة بورفؤاد في معركة

(ج) ما رأيك في ... ؟

- ١ - قرار تأميم شركة قناة السويس ١٩٥٦م .
٢ - مساهمة التكنولوجيا المتطورة ووسائل الاتصال في اندلاع ثورة ٢٥ يناير ٢٠١١م .

(د) ما النتائج المترتبة على ... ؟

- حرب أكتوبر ١٩٧٣م بالنسبة لمصر وإسرائيل .

٤ | (أ) من أنا ... ؟

- ١ - توليت وزارة الشؤون الاجتماعية في مصر عام ١٩٦٢ م . (.....)
- ٢ - أول رئيس لجمهورية مصر العربية بعد ثورة ١٩٥٢ م . (.....)
- ٣ - بادرت بزيارة إسرائيل عام ١٩٧٧ م ودعيت للسلام العادل لشعوب المنطقة . (.....)
- ٤ - توليت رئاسة الجمهورية بعد ثورة ٣٠ يونيو ٢٠١٣ م لحين إجراء انتخابات رئاسية مبكرة وتعديل الدستور . (.....)

(ب) بم تفسر ... ؟

١ - أهمية فلسطين عند الشعوب العربية .

٢ - فشل العدوان الثلاثي على مصر ١٩٥٦ م .

(ج) ماذا كان سيحدث إذا ... ؟

١ - استجابت إسرائيل لقرار مجلس الأمن رقم ٢٤٢ .

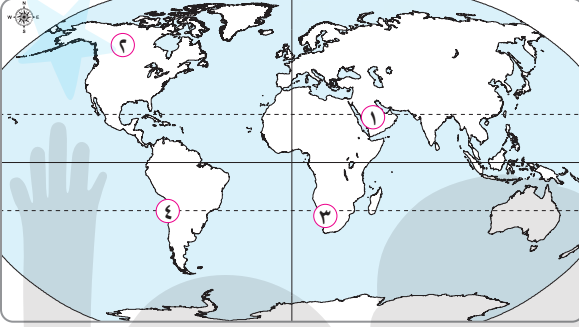
٢ - لم يتم إنشاء السد العالي في مصر ١٩٧١ م .

الشرائط

(١٦) محافظة بنى سويف : مديرية التربية والتعليم

أولاً : الجغرافيا

١ (أ) أمامك خريطة صماء للعالم ، وضح مدلول الأرقام التي عليها :



١ - منطقة رعى بدائي

٢ - أكبر القارات إنتاجاً للذرة

٣ - مركز صناعى حديث

٤ - أكبر الدول إنتاجاً للنحاس

(ب) اذكر أهمية كل مما يأتي :

١ - الغاز الطبيعي . ٢ - القطن . ٣ - الجلود .

(ج) اكتب ما تشير إليه كل عبارة مما يأتي :

١ - محصول يستخرج من عصارة أشجار استوائية ويدخل فى صناعة إطارات السيارات .

(.....)

٢ - المصدر الأول والرئيسى للطاقة فى العالم حتى أوائل القرن العشرين الميلادى .

(.....)

٣ - مدينة تمثل مركزاً للتجارة والمواصلات بدولة نيجيريا .

(.....)

(د) أجب عن الآتى فى ضوء ما درست :

١ - ما أهم الخصائص التى تتميز بها الزراعة البسيطة ؟

.....

٢ - اذكر أهم الخصائص المناخية لدولة ألمانيا .

.....

٢ (أ) اكتب كلمة (صح) أمام العبارة الصحيحة وكلمة (خطأ) أمام العبارة الخطأ ،

مع التصويب :

- ١ - تحتل الصين المركز الأول في إنتاج الأسماك في العالم . ()
٢ - يصنع الألومنيوم حيث يوجد خام البوكسيت . ()
٣ - تُعد قارة أوروبا أولى قارات العالم في إنتاج القمح . ()

(ب) « يُعد النشاط الصناعي قمة الأنشطة الاقتصادية المتطورة » . في ضوء هذه

العبارة وضح :

- ١ - العلاقة بين : الصناعة والدول المتقدمة .
.....
٢ - من وجهة نظرك : هل تتوافر المقومات التي تساعد على قيام نهضة صناعية كبرى
بمصر ؟
.....

(ج) دلل جغرافيًا على صحة كل عبارة من العبارات الآتية :

- ١ - يُعد النشاط الزراعي من الأنشطة الاقتصادية الأساسية في العالم .
.....
٢ - يسبق التعدين العديد من الخطوات المهمة .
.....
٣ - تشهد العلاقات الاقتصادية بين مصر وألمانيا تطورًا كبيرًا .
.....

(د) قارن بين : نيجيريا وألمانيا من حيث :

- أهم السهول المنتشرة في كل منهما .
.....

ثانيًا : التاريخ

٣ (أ) اختر الإجابة الصحيحة من بين الإجابات الآتية :

- ١ - وُضعت فلسطين تحت الانتداب البريطاني وفقًا لقرارات مؤتمر :
أ باندونج ب كامب ديفيد ج مدريد د سان ريمو

٢ - نجحت القوات المصرية في هزيمة القوات الإسرائيلية في معركة رأس العش عندما حاولت القوات الإسرائيلية احتلال مدينة :

أ بور سعيد ب السويس ج بورفؤاد د الإسماعيلية

٣ - أنشأ محمد علي مجلساً عُرف بـ :

أ مجلس الأمة ب مجلس المشورة

ج مجلس الشيوخ د الجمعية التشريعية

٤ - الريحانة أول مجلة نسائية أصدرتها عام ١٩٠٧ م .

أ هدى شعراوى ب جميلة حافظ ج عائشة راتب د آمال عثمان

(ب) ما النتائج المترتبة على ... ؟

١ - ظاهرة الإقطاع (سوء توزيع الأرض الزراعية) في مصر قبل ثورة يوليو ١٩٥٢ م .

٢ - اجتماع وزراء النفط العربى بالكويت أثناء حرب أكتوبر ١٩٧٣ م .

(ج) ماذا كان سيحدث إذا ... ؟

• لم تقم بريطانيا بإصدار وعد بلفور .

(د) ما رأيك فى ... ؟

• تُعد ثورة ٢٥ يناير ٢٠١١ م من الثورات الفريدة فى التاريخ المصرى الحديث والمعاصر .

٤ | (أ) اكتب كلمة (صح) أمام العبارة الصحيحة وكلمة (خطأ) أمام العبارة الخطأ ،

مع التصويب :

١ - حققت معاهدة ١٩٣٦ م الاستقلال الحقيقى لمصر . ()

٢ - امتنعت بريطانيا عن التصويت على قرار هيئة الأمم المتحدة بتقسيم

فلسطين عام ١٩٤٧ م . ()

٣ - يُعد توفير مناخ يحقق الوحدة الوطنية أحد أنشطة منظمات المجتمع المدني .

()

٤ - عُينت الدكتورة عائشة راتب أول وزيرة للشئون الاجتماعية عام ١٩٦٢ م .

()

(ب) دلل على صحة العبارة التالية :

• اختلفت الكتابات وتعددت الآراء حول ثورة ٢٣ يوليو ١٩٥٢ م .

(ج) بم تفسر ... ؟

• تدهور الأوضاع الاقتصادية في مصر قبل ثورة ٢٥ يناير ٢٠١١ م .

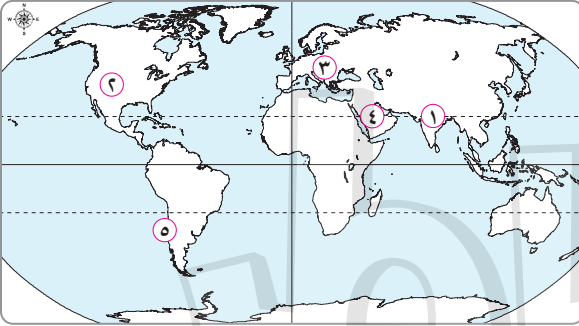
(د) ما العلاقة بين ... ؟

• محكمة العدل الدولية وطابا .

(١٧) محافظة المنيا : مديرية التربية والتعليم

أولاً : الجغرافيا

(أ) أمامك خريطة صماء للعالم ، وضح مدلول الأرقام التي عليها :



١ - هضبة

٢ - نوع الزراعة السائد

٣ - إقليم صناعي

٤ - أولى دول العالم إنتاجاً للبتترول

٥ - أهم الدول إنتاجاً للنحاس

(ب) اكتب ما تشير إليه كل عبارة مما يأتي :

١ - محصول يستخرج من عصارة أشجار استوائية ويدخل في

()

صناعة إطارات السيارات .

٢ - نبات دائم الخضرة موطنه الأصلي شرق آسيا يحتاج في زراعته إلى مناخ حار وهواء رطب ومطر غزير .
(.....)

(ج) اكتب اسم الدولة الأولى إنتاجاً لكل من :

- ١ - اللحوم الحمراء . (.....) ٢ - البوكسيت . (.....)
٣ - الغاز الطبيعي . (.....) ٤ - قصب السكر . (.....)
٥ - الألبان . (.....) ٦ - الأسماك . (.....)

(أ) اختر الإجابة الصحيحة من بين الإجابات الآتية :

- ١ - من المقومات الطبيعية للصناعة :
أ السياسة الحكومية ب الأيدي العاملة ج رأس المال د المادة الخام
٢ - تُعد الولايات المتحدة الأمريكية القوة الاقتصادية في العالم .
أ الأولى ب الثانية ج الثالثة د الرابعة
٣ - يزرع قصب السكر في كل قارات العالم ما عدا قارة :
أ أمريكا الجنوبية ب إفريقيا ج آسيا د أوروبا
٤ - أهم الدول المنتجة لصوف الأغنام :
أ الهند ب أستراليا ج الصين د الولايات المتحدة الأمريكية

(ب) بم تفسر ... ؟

- ١ - ارتفاع أسعار البترول عالمياً .
.....
٢ - اتجاه العالم إلى التوسع في استخدام الغاز الطبيعي كبديل لمصادر الطاقة الأخرى .
.....
٣ - قلة عدد السكان في ولاية ألاسكا .
.....
٤ - توطن صناعة الألومنيوم في الدول المتقدمة رغم قلة خام البوكسيت بها .
.....

(ج) وضح العلاقات الاقتصادية بين كل من :

١ - مصر والهند .

٢ - مصر والولايات المتحدة الأمريكية .

ثانيًا : التاريخ

(أ) أكمل العبارات الآتية بكلمات مناسبة مما بين القوسين :

(محمد على - محمد أنور السادات - مصطفى النحاس - محمد نجيب -

سعد الدين الشاذلي - أحمد إسماعيل)

١ - أذيع البيان الأول لثورة ٢٣ يوليو ١٩٥٢ م بصوت

٢ - حاصرت قوات الاحتلال البريطاني قصر عابدين في فبراير ١٩٤٢ م لإجبار الملك فاروق على تعيين رئيسًا للحكومة .

٣ - تم منح اسم وسام قلادة النيل العظمى في الذكرى الـ ٣٩ لنصر أكتوبر .

٤ - أنشأ مجلس المشورة .

(ب) صوب ما تحته خط :

١ - عُرف خط الدفاع الإسرائيلي في هضبة الجولان السورية باسم
خط بارليف .

(.....)

٢ - عُقد مؤتمر باندونج عام ١٩٥٥ م في دولة السويد .

(.....)

٣ - مجلة الريحانة أول مجلة نسائية مصرية أصدرتها عائشة راتب
عام ١٩٠٧ م .

(.....)

(ج) ما المقصود بالمفاهيم الآتية ... ؟

١ - عدم الانحياز . ٢ - منظمات المجتمع المدني . ٣ - دستور .

.....
.....
.....

٤ | (أ) « تعددت الحروب والمواجهات بين إسرائيل والعرب منذ ١٩٤٨م حتى ١٩٧٣م » .

فى ضوء هذه العبارة وضح :

١ - موقف الدول العربية من قرار تقسيم فلسطين عام ١٩٤٧م .

٢ - أسباب العدوان الثلاثى على مصر عام ١٩٥٦م .

٣ - مزايا تحقيق السلام وإنهاء الصراع العربى / الإسرائيلى .

(ب) اكتب كلمة (صح) أمام العبارة الصحيحة وكلمة (خطأ) أمام العبارة الخطأ :

١ - يمثل مجلس النواب السلطة التنفيذية فى الدولة . ()

٢ - استشهد الفريق أول عبد المنعم رياض فى حرب الاستنزاف . ()

٣ - ساهمت التكنولوجيا المتطورة ووسائل الاتصال فى اندلاع ثورة ٢٥ يناير ٢٠١١م . ()

٤ - تقلدت المرأة المصرية المناصب الوزارية فكانت هدى شعراوى أول وزيرة للشئون الاجتماعية عام ١٩٦٢م . ()

(ج) ما النتائج المترتبة على ... ؟

١ - قرار هيئة التحكيم بمحكمة العدل الدولية فى سبتمبر ١٩٨٨م .

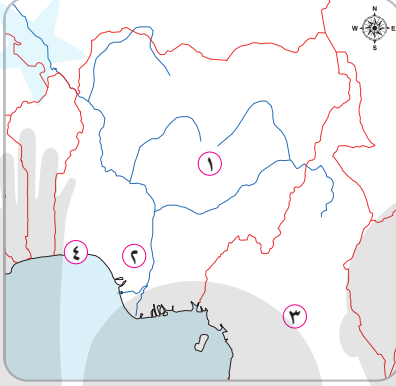
٢ - معركة رأس العش .

٣ - التطبيق غير السلمى لسياسة الخصخصة فى مصر قبل ثورة ٢٥ يناير ٢٠١١م .

(١٨) محافظة أسيوط : مديرية التربية والتعليم

أولاً : الجغرافيا

١ (أ) أمامك خريطة صماء لدولة نيجيريا الاتحادية ، وضح مدلول الأرقام التي عليها :



- ١ - هضبة
- ٢ - نهر
- ٣ - دولة
- ٤ - العاصمة القديمة

(ب) بم تفسر ... ؟

- ١ - يعتبر النشاط الزراعي من الأنشطة الاقتصادية الأساسية في العالم .

٢ - توسع العالم في استخدام الغاز الطبيعي كبديل لمصادر الطاقة .

٣ - انتشار مصايد الأسماك على سواحل شمال غرب أوروبا .

٤ - ازدهار صناعة الألومنيوم في الدول المتقدمة .

(ج) صوب ما تحته خط :

١ - تعتبر دولة ماليزيا من أهم الدول المنتجة لأصواف أغنام المارينو

(.....) الشهيرة ثم الصين .

٢ - يسود دولة ألمانيا الاتحادية مناخ استوائي ممطر طوال العام

(.....) خاصة في الشمال .

٣ - أكبر الأقاليم الصناعية في العالم الجديد إقليم شمال شرق فرنسا

(.....) الصناعي .

٤ - تحتل دولة أستراليا المركز الأول في إنتاج الفحم في العالم .

(.....)

٢ | (أ) اختر الإجابة الصحيحة من بين الإجابات الآتية :

- ١ - من المحاصيل التي تستخدم في تصنيع إطارات السيارات :
 أ المصطاك الطبيعي ب القطن ج الجوت د الذرة
- ٢ - تُعد الهند من أكبر دول العالم في تربية :
 أ الماعز ب الأبقار ج الإبل د الجاموس
- ٣ - أولى دول العالم إنتاجاً لمعدن الحديد دولة :
 أ الولايات المتحدة الأمريكية ب شيلي
 ج فرنسا د الصين
- ٤ - تأتي مصر في مقدمة خمس دول عربية تقوم بتوليد الكهرباء من :
 أ الرياح ب البترول ج الغاز الطبيعي د الفحم
- ٥ - تعتبر دولة بريطانيا من أهم المراكز الصناعية في إقليم الصناعي .
 أ شرق آسيا ب أمريكا الجنوبية
 ج غرب ووسط أوروبا د روسيا وأوكرانيا

(ب) « تنوع الموارد والأنشطة الاقتصادية في العالم » . في ضوء هذه العبارة أجب :

- ١ - دلل على صحة العبارة الآتية :
 • صعوبة زراعة قصب السكر في أوروبا .
- ٢ - اذكر نتيجة واحدة مترتبة على :
 • كثرة الغابات والتلال والينابيع المائية في المرتفعات الوسطى لجمهورية ألمانيا الاتحادية .
- ٣ - اذكر خصائص كل من :
 • الزراعة البسيطة (البدائية) .
 • الزراعة التجارية العلمية .

٤ - ما العلاقة بين ... ؟

- تدفق البترول وحرفة الرعى البدائي في شبه الجزيرة العربية .

ثانيًا : التاريخ

٣ | (أ) اكتب كلمة (صح) أمام العبارة الصحيحة وكلمة (خطأ) أمام العبارة الخطأ ،

مع التصويب :

- ١ - حاصرت قوات الاحتلال البريطاني قصر عابدين في فبراير ١٩٤٢ م . ()
- ٢ - قامت مصر بإغلاق خليج السويس أمام الملاحه الإسرائيلية في مايو ١٩٦٧ م . ()
- ٣ - من العوامل الاقتصادية لقيام ثورة ٢٥ يناير ٢٠١١ م استمرار العمل بقانون الطوارئ . ()
- ٤ - نصت معاهدة السلام في مارس ١٩٧٩ م على التطبيق الكامل لقرار مجلس الأمن الدولي رقم ٢٤٢ . ()

(ب) إلى من تنسب الأعمال الآتية ... ؟

- ١ - شارك في وضع خطة عبور قناة السويس وتحطيم خط بارليف بعد توليته رئيسًا لأركان حرب القوات المسلحة عام ١٩٧١ م . ()
- ٢ - تسلم قيادة السلطة المصرية بعد عزل الرئيس محمد مرسي في ٣ يوليو ٢٠١٣ م . ()
- ٣ - شغلت منصب رئيس اللجنة التشريعية بمجلس الشعب . ()

(ج) اذكر نتيجة واحدة ترتبت على :

- ١ - العمليات العسكرية التي قام بها سلاح الطيران والمدفعية على الجبهة المصرية أثناء حرب أكتوبر ١٩٧٣ م .

- ٢ - قيام مصر بتأميم شركة قناة السويس في يوليو ١٩٥٦ م .

٣ - هزيمة العرب في حرب فلسطين ١٩٤٨ م .

اليوم الأول

٤ (أ) أكمل العبارات الآتية بكلمات مناسبة مما بين القوسين :

(سوريا - عائشة راتب - سان ريمو - فلسطين - ألوان -

الاجتماعي - رفاة الطهطاوى)

١ - منح المرأة حق الانتخاب والترشح لمجلس الأمة من إنجازات ثورة ٢٣ يوليو ١٩٥٢ م في المجال

٢ - وُضعت فلسطين تحت الانتداب البريطاني طبقاً لقرارات مؤتمر

عام ١٩٢٠ م .

٣ - تحقيق أول تجربة للوحدة العربية في فبراير ١٩٥٨ م بين كل من مصر و

٤ - أنشأ الخديوى إسماعيل مدرسة لتعليم البنات استجابة لدعوة

عام ١٨٧٣ م .

٥ - وافقت هيئة الأمم المتحدة في عام ١٩٤٧ م على تقسيم

٦ - يُعرف خط الدفاع الإسرائيلي في هضبة الجولان باسم خط

(ب) « تجمع العديد من الأسباب لتمهد لاندلاع ثورة ٢٥ يناير ٢٠١١ م » . فى ضوء هذه

العبارة أجب :

١ - دلى : يُعد الجيش المصرى هو الضامن لثورة ٢٥ يناير ٢٠١١ م .

٢ - ما دور منظمات المجتمع المدني كعناصر فاعلة فى تقديم الخدمات الاجتماعية للمصريين ؟

٣ - ماذا كان سيحدث إذا لم : تقم مصر بإنشاء مشروع السد العالى ؟

٤ - ما رأيك فى : أن تحقيق السلام يعود بالنفع على الوطن العربى ؟

اليوم الثانى

اليوم الثالث

اليوم الرابع

اليوم الخامس

اليوم السادس

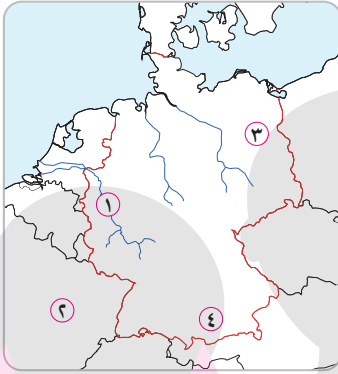
اليوم السابع

(١٩) محافظة سوهاج : مديرية التربية والتعليم

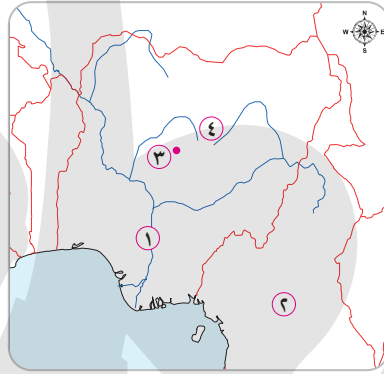
أولاً : الجغرافيا

١ | (أ) أمامك خريطتان ؛ الأولى لجمهورية نيجيريا والثانية لدولة ألمانيا الاتحادية ، وضح مدلول الأرقام التي عليهما :

خريطة (٢) :



خريطة (١) :



- ١ - نهر
- ٢ - دولة
- ٣ - مدينة
- ٤ - جبال

- ١ - نهر
- ٢ - دولة
- ٣ - مدينة
- ٤ - هضبة

(ب) اكتب ما تشير إليه كل عبارة مما يأتي :

- ١ - استخراج المعادن ومصادر الطاقة من باطن الأرض أو بالقرب من سطح الأرض .
(.....)
- ٢ - رعى يوجد في مناطق الحشائش القصيرة (البرارى) والإستبس والسافانا بقارات العالم .
(.....)
- ٣ - زراعة يعمل بها عدد قليل من السكان في مناطق صغيرة ومعزولة .
(.....)
- ٤ - أكبر الأقاليم الصناعية في العالم الجديد .
(.....)

(ج) بم تفسر ... ؟

- ١ - توسع العالم في استخدام الغاز الطبيعي كبديل لمصادر الطاقة الأخرى .
.....

٢ - انتشار مصايد الأسماك على طول سواحل قارتي أمريكا الشمالية والجنوبية .

٢ (أ) اكتب كلمة (صح) أمام العبارة الصحيحة وكلمة (خطأ) أمام العبارة الخاطئة ،

مع ذكر السبب :

- ١ - قارة آسيا أولى قارات العالم إنتاجًا للطاقة النووية . ()
- ٢ - توجد عدة عمليات تسبق عملية التعدين . ()
- ٣ - يتركز إنتاج النحاس في دولة شيلي بقارة إفريقيا . ()
- ٤ - دولة ألمانيا أولى دول العالم إنتاجًا لقصب السكر . ()

(ب) استخراج الكلمة المختلفة في المجموعتين الآتيتين ، ثم اذكر السبب :

١ - المطاط - الشاي - الجوت - البن .

٢ - التطور العلمي - رأس المال - المواد الخام - السياسات الحكومية .

(ج) قارن بين :

• الغابات في جمهورية نيجيريا والغابات في ألمانيا الاتحادية .

ثانيًا : التاريخ

٣ (أ) صوب ما تحته خط :

- ١ - قامت مصر ببناء حائط مدفعية على الضفة الغربية فيما بين عامي ١٩٦٩م و١٩٧٠م . ()
- ٢ - ساهمت منظمة اليونيسيف في إحياء مكتبة الإسكندرية . ()
- ٣ - استعادت مصر سيناء كاملة عام ١٩٨٢م ما عدا منطقة رفح . ()
- ٤ - يُعرف خط الدفاع الإسرائيلي على هضبة الجولان السورية باسم خط بارليف . ()

٥ - تم توقيع معاهدة السلام مارس ١٩٧٩ م بين مصر وألمانيا . (.....)

٦ - الدستور يطلق على المجالس النيابية التي تتولى السلطة التشريعية . (.....)

(ب) ما النتائج المترتبة على ... ؟

١ - هزيمة العرب في حرب فلسطين ١٩٤٨ م .

٢ - فشل العدوان الثلاثي على مصر أكتوبر ١٩٥٦ م .

٣ - دستور ١٩٥٦ م بالنسبة للمرأة في مصر .

٤ - معركة رأس العش في مصر .

٤ (أ) من أكون ... ؟

١ - أصدرت أول مجلة نسائية (الريحانة) فبراير ١٩٠٧ م . (.....)

٢ - تم اختياري رئيسًا لأركان حرب القوات المسلحة المصرية

عام ١٩٧١ م . (.....)

٣ - تخلت عن رئاسة مصر في ١١ فبراير ٢٠١١ م . (.....)

٤ - قمت بتأسيس مجلس شورى النواب ديسمبر ١٨٦٦ م . (.....)

(ب) دلل تاريخيًا على صحة كل عبارة مما يأتي :

١ - معاهدة ١٩٣٦ م لم تؤدِّ إلى الاستقلال الحقيقي لمصر .

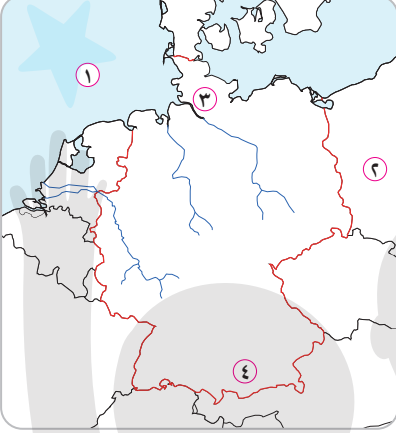
٢ - قام العرب بدور مهم في حرب أكتوبر ١٩٧٣ م .

(ج) اختر شخصية من زعماء ثورة ٢٣ يوليو ١٩٥٢ م أعجبتك ، وبين السبب ؟

(٢٠) محافظة قنا : مديرية التربية والتعليم

أولاً : الجغرافيا

(أ) أمامك خريطة صماء لدولة ألمانيا ، وضح مدلول الأرقام التي عليها :



١ - بحر

٢ - دولة

٣ - ميناء مهم

٤ - جبال

(ب) بم تفسر ... ؟

١ - صعوبة استخدام الآلات والميكنة الزراعية في الزراعة الكثيفة .

٢ - قلة عدد العاملين بحرفة الرعي البدائي في شبه الجزيرة العربية وبداية الشام .

٣ - توسع العالم في استخدام الغاز الطبيعي كبديل لمصادر الطاقة الأخرى .

(ج) صوب ما تحته خط :

١ - يحد دولة نيجيريا من الجنوب المحيط الهندي .

٢ - دولة النرويج أولى دول العالم في إنتاج الأسماك .

٣ - أكبر الأقاليم الصناعية في العالم الجديد إقليم

روسيا وأوكرانيا الصناعي .

(أ) قارن بين :

١ - القمح والذرة من حيث أولى قارات العالم في الإنتاج .

٢ - مدينة لاجوس ومدينة ميونخ من حيث الشهرة .

(ب) اختر الإجابة الصحيحة من بين الإجابات الآتية :

- ١ - معظم إنتاج الصين من اللحوم الحمراء يأتي من :
 أ الأبقار ب الأغنام ج الجاموس د الخنازير
- ٢ - من المقومات الطبيعية للصناعة توافر :
 أ المواد الخام ب الأسواق
 ج رأس المال د الأيدي العاملة الماهرة

٣ - تعتبر دولة أولى دول قارة آسيا في إنتاج المطاط .

- أ تايلاند ب نيجيريا ج السودان د المغرب

(ج) اكتب ما تشير إليه كل عبارة مما يأتي :

- ١ - يعد الخام الرئيسي لمعدن الألومنيوم .
 ٢ - المحصول الثاني لإنتاج السكر في العالم .
 ٣ - تنتج من الأمواج وحركة المد والجزر في بعض الدول المتقدمة .

ثانيًا : التاريخ

٣ | (أ) « مصر تناضل من أجل تحقيق السلام ، وتقوم بالثورات ضد الفساد

والاستبداد » . في ضوء هذه العبارة وضح :

- ١ - سببًا واحدًا من أسباب ثورة ٢٥ يناير ٢٠١١ م .

- ٢ - أهم مطالب ثورة يوليو ١٩٥٢ م من الملك فاروق .

- ٣ - أسباب اندلاع حرب أكتوبر ١٩٧٣ م .

- ٤ - مزايا تحقيق السلام لمصر والوطن العربي . (يكتفى باثنتين)

(ب) إلى من تنسب الأعمال الآتية ... ؟

- ١ - أنشأ مجلس شورى النواب ١٨٦٦ م .
 ٢ - أول وزيرة للشئون الاجتماعية في مصر .

- ٣ - الرئيس الأمريكى الذى دعا إلى عقد مؤتمر كامب ديفيد . (.....)
- ٤ - تولى القيادة العامة للموحدة للقوات المصرية السورية فى حرب أكتوبر ١٩٧٣م وحصل على وسام نجمة سيناء . (.....)
- (ج) أيد صحة كل عبارة مما يأتى :

١ - استطاعت ثورة ٢٣ يوليو ١٩٥٢م القضاء على الإقطاع .

٢ - كان للعرب دور كبير فى دعم مصر أثناء حرب أكتوبر ١٩٧٣م .

٤ (أ) اكتب كلمة (صح) أمام العبارة الصحيحة وكلمة (خطأ) أمام العبارة الخطأ ، مع التصويب :

- ١ - أثناء حرب الاستنزاف تدخلت روسيا فقدم وزير خارجيتها روجرز مبادرة لوقف إطلاق النار . ()
- ٢ - حاصرت قوات الاحتلال البريطانى قصر عابدين لإجبار الملك فاروق على تعيين سعد زغلول رئيساً للحكومة . ()
- ٣ - أثناء ثورة ٢٥ يناير ٢٠١١م شكل المجتمع المصرى بكل فئاته ما عرف باللجان الشعبية . ()
- ٤ - من أسباب عدوان إسرائيل على العرب فى يونيو ١٩٦٧م إغلاق الخليج العربى فى وجه الملاحة الإسرائيلية . ()

(ب) ما النتائج المترتبة على ... ؟

١ - عقد مؤتمر سان ريمو بإيطاليا .

٢ - هزيمة العرب فى حرب فلسطين ١٩٤٨م .

(ج) رتب الأحداث الآتية من الأقدم إلى الأحدث :

- ١ - ظهور أول مجلة نسائية مصرية وهى الريحانة . (.....)
- ٢ - تسلم المستشار عدلى منصور سلطة الحكم فى البلاد . (.....)
- ٣ - إنشاء مجلس المشورة . (.....) ٤ - عقد مؤتمر مدريد للسلام . (.....)

النموذج الأول

الدول المقررة : نيجيريا وألمانيا

أولاً : الجغرافيا

السؤال الأول:

(أ) أمامك خريطة صماء للعالم اكتب مدلول الأرقام الموقعة عليها :

- ١) أولي قارات العالم إنتاجا للقمح
- ٢) ثانيا قارات العالم في تربية الأبقار
- ٣) أولي دول العالم في إنتاج البوكسيت
- ٤) خليج

(ب) بم تفسر.....؟

- ١) تركيز زراعة البنجر في معظم دول أوروبا.
- ٢) التوسع في استخدام الغاز الطبيعي كمصدر من مصادر الطاقة.
- ٣) قلة سكان نيجيريا في دلتا نهر النيجر .
- ٤) تعد المرتفعات الوسطى بألمانيا مناطق جذب للسياح.

(ج) من خلال دراستك وضح : في أي الدول تقع هذه المدن وما شهرتها : برلين ، لاجوس

السؤال الثاني :

(أ) اختر الإجابة الصحيحة مما بين القوسين :

- ١) تتشابه الزراعة البسيطة مع الزراعة الكثيفة في
- (مناطق الانتشار - المحاصيل المزروعة - الهدف من الزراعة - الدورة الزراعية)
- ٢) تحتل دولة بأمريكا الجنوبية المرتبة الأولى في إنتاج النحاس .
- (البرازيل - شيلي - الأرجنتين - المكسيك)
- ٣) من العوامل الطبيعية لقيام الصناعة
- (رأس المال - مصادر الطاقة - الأيدي العاملة - السوق)
- ٤) يرتبط الرعي البدائي بمناطق الحشائش الباردة شمال قارة
- (آسيا - أمريكا الجنوبية - أفريقيا - أستراليا)
- ٥) يستخرج من هضبة جوس في نيجيريا
- (الفحم - البترول - القصدير - الحديد)

(ب) أكتب المفهوم أو المصطلح الذي تعبر عنه العبارات التالية:

- ١) زراعة الأرض بشكل مكثف وأكثر من مرة في السنة لإشباع حاجة السكان المحليين من الغذاء .
- ٢) نوع من الكهرباء يتم إنتاجها من السدود والأمواج وحركة المد والجزر .
- (ج) " تحتوى قشرة الأرض على العديد من المعادن ؛ وتستهلك الدول المتقدمة نحو ٨٥٪ من معادن العالم رغم أن بها نحو خمس سكان العالم فقط " في ضوء العبارة وضح :

- ١) العوامل اللازمة لقيام صناعة الألومنيوم .
- ٢) العلاقات الثقافية بين مصر وألمانيا .
- ٣) أسباب ارتفاع الحرارة وسقوط الأمطار طوال العام جنوب نيجيريا .

ثانياً : التاريخ

السؤال الثالث

(أ) اكتب كلمة (صح) أمام العبارات الصحيحة وكلمة (خطأ) أمام العبارات الخاطئة فيما يلي :

- () (١) ساندت ثورة ٢٣ يوليو ١٩٥٢ حركات التحرر الوطني في الجزائر ضد الاحتلال الفرنسي .
- () (٢) أعطي مؤتمر سان ريمو لبريطانيا حق الانتداب على فلسطين ١٩٢٠م .
- () (٣) تمكنت القوات الجوية المصرية من تدمير المدمرة الإسرائيلية إيلات أثناء حرب الاستنزاف .
- () (٤) استعادت مصر سياء كاملة بعد انسحاب إسرائيل منها في أبريل عام ١٩٨٢ م .
- () (٥) أنشأ محمد علي عدة مجالس استشارية منها مجلس شورى النواب ١٨٢٩ م .

(ب) ماذا كان يحدث إذا.....؟

- (١) لم تصدر بريطانيا وعد بلفور ١٩١٧م .
- (٢) انتصرت الجيوش العربية على إسرائيل عام ١٩٦٧م .
- (٣) لم يتضامن الجيش مع الشعب أثناء ثورة ٢٥ يناير ٢٠١١م .

(ج) أيد بالأدلة التاريخية صحة كل عبارة من العبارات الآتية :

- (١) تعد بريطانيا صانعة القضية الفلسطينية .
- (٢) حققت ثورة ٢٣ يوليو أهدافها في القضاء على الإقطاع .

السؤال الرابع:

(أ) ما النتائج التي ترتبت على :

- (١) عقد مؤتمر كامب ديفيد للسلام عام ١٩٧٨ م .
- (٢) فشل العدوان الثلاثي على مصر عام ١٩٥٦ م .
- (٣) تزوير الانتخابات البرلمانية لمجلس الشعب عام ٢٠١٠ م .
- (٤) إنجاز مصر مشروع السد العالي عام ١٩٧١ م .

(ب) لمن تنسب الأعمال التالية.....؟

- (١) أول رئيس لمصر بعد إلغاء الملكية و إعلان الجمهورية .
- (٢) عُينت أول وزيرة للشئون الاجتماعية في عهد الرئيس محمد أنور السادات .
- (٣) أحد الأعمدة الرئيسية التي اعتمد عليها جمال عبد الناصر لإعادة بناء القوات المسلحة .
- (٤) رئيس المحكمة الدستورية العليا الذي تسلم سلطة الحكم بعد عزل محمد مرسي .

(ج) ما رأيك في :

- (١) الموقف العربي أثناء حرب أكتوبر عام ١٩٧٣ م .
- (٢) لتحقيق السلام مزايا عديدة لمصر والمنطقة العربية .

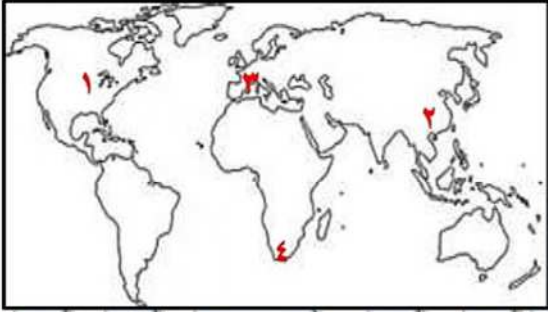
النموذج الثاني

الدول المقررة : نيجيريا وألمانيا

أولا : الجغرافيا

السؤال الأول:

أ) أمامك خريطة صماء للعالم - اكتب في كراسة إجابتك مدلول الأرقام الموقعة عليها:



(١) نوع الزراعة السائد

(٢) أولي دول العالم إنتاجا القمح

(٣) أولي قارات العالم إنتاجا للطاقة النووية.....

(٤) أحد المراكز الصناعية الحديثة دولة

ب) بم تفسر.....؟

(١) تعد نيجيريا أكبر دول أفريقيا في إنتاج المطاط .

(٢) ارتفاع استهلاك اللحوم في العالم .

(٣) يزرع قصب السكر في كل قارات العالم عدا قارة أوروبا .

(٤) تطور الصناعة الألمانية بعد الحرب العالمية الثانية .

ج) أكتب المفهوم أو المصطلح الذي تعبر عنه العبارات التالية:

(١) إقليم صناعي يبدو في شكل مناطق متباعدة أهمها مراكز الصناعة في موسكو.

(٢) عملية استخراج المعادن و مصادر الطاقة من باطن الأرض أو بالقرب من السطح .

السؤال الثاني:

أ) اختر الإجابة الصحيحة مما بين القوسين :

(١) من العوامل البشرية لقيام الصناعة

(رأس المال - مصادر الطاقة - المواد الخام - المحاصيل الزراعية)

(٢) أكبر الأقاليم الصناعية في العالم الجديد إقليم

(شمال شرق الولايات المتحدة - غرب ووسط أوروبا - شرق آسيا - روسيا و أوكرانيا)

(٣) أكثر الأنشطة الاقتصادية المؤثرة في النبات الطبيعي بألمانيا النشاط

(الرعوي - الزراعي - الصناعي - التعدين)

(٤) من الواردات المصرية من نيجيريا

(الأسمدة - إطارات السيارات - الأسلاك النحاسية - الحبوب الزيتية)

ب) " تمثل الأسماك غذاء رئيسيا لكثير من شعوب العالم " في ضوء العبارة السابقة وضح :

(١) العوامل الطبيعية والبشرية التي تساعد على تطور حرفة صيد الأسماك.

(٢) الدولة الأولى عالمياً في تربية الدواجن .

(٣) أسباب وجود أعداد كبيرة من الثروات الحيوانية في نيجيريا .

(٤) مقترحاتك لزيادة الإنتاج الزراعي في مصر .

ج) وضح المواد الخام التي تقوم عليها الصناعات الآتية :

(١) صناعة الألومنيوم

(٢) صناعة الأسلاك و الأدوات الكهربائية .

ثانياً : التاريخ

السؤال الثالث:

أ) اكتب كلمة (صح) أمام العبارات الصحيحة وكلمة (خطأ) أمام العبارات الخاطئة فيما يلي :

- () ١) قدمت الدول العربية دعماً عسكرياً ومالياً لمصر أثناء حرب أكتوبر ١٩٧٣م .
- () ٢) أقر مؤتمر كامب ديفيد إنهاء حالة الحرب بين مصر وإسرائيل .
- () ٣) تمثل المحاكم بأنواعها السلطة التنفيذية في مصر .
- () ٤) اتخذ الاتحاد السوفيتي موقفاً محايداً من العدوان الثلاثي على مصر عام ١٩٥٦م .

ب) ما النتائج التي ترتبت علي.....؟

- ١) سوء الأحوال الاجتماعية قبل ثورة ٢٣ يوليو ١٩٥٢م .
- ٢) هزيمة الجيوش العربية في حرب فلسطين ١٩٤٨م .
- ٣) الضربة الجوية الناجحة ل سلاح الطيران المصري أثناء حرب أكتوبر ١٩٧٣م .
- ٤) اتباع سياسة الخصخصة في مصر قبل ثورة يناير ٢٠١١م .

ج) رتب الأحداث التاريخية الآتية من الأقدم للأحدث :

- | | |
|--------------------------------|----------------------------|
| () صدور وعد بلفور | () عقد مؤتمر مدريد للسلام |
| () صدور قانون الإصلاح الزراعي | () معركة رأس العش |

السؤال الرابع:

أ) لمن تنسب الأعمال التالية.....؟

- ١) إنشاء مجلس شورى النواب في ١٨٦٦م .
- ٢) الدعوة لوقف الحرب بين مصر وإسرائيل أثناء حرب الاستنزاف تمهيداً لحل النزاع سلمياً .
- ٣) إصدار أول مجلة نسائية عام ١٩٠٧م .
- ٤) تولى رئاسة مصر بعد فوزه بالانتخابات الرئاسية عام ٢٠١٤م .

ب) دلل على صحة العبارات الآتية :

- ١) كان للولايات المتحدة دور في إحداث ثغرة الدفراسوار أثناء حرب أكتوبر .
- ٢) أضرت ثورة ٢٣ يوليو ١٩٥٢م بأهداف الدول الاستعمارية في المنطقة العربية .
- ٣) حقق الرئيس السادات أهدافه من زيارته لإسرائيل عام ١٩٧٩م .
- ٤) لم تكن انتخابات البرلمانية عام ٢٠١٠م معبرة عن إرادة الشعب المصري .

ج) من خلال دراستك وضح:

- ١) اختلفت ردود الأفعال للأطراف المعنية حول قرار تقسيم فلسطين ١٩٤٧م .
- ٢) دور المشير أحمد إسماعيل في حرب أكتوبر ١٩٧٣م .

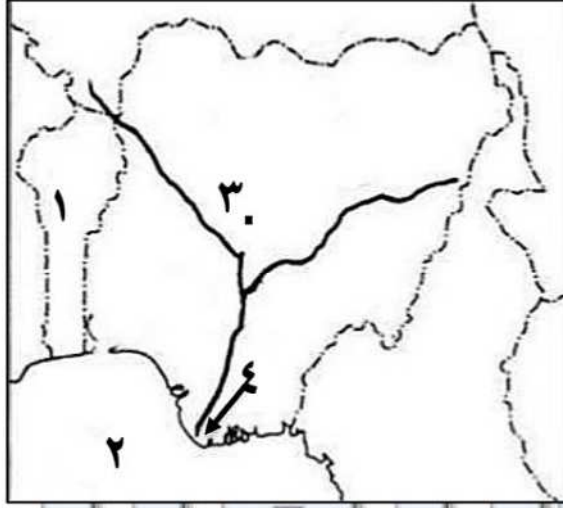
النموذج الثالث

الدول المقررة : نيجيريا وألمانيا

أولاً الجغرافيا

السؤال الأول:

أ) أمامك خريطة صماء لدولة الهند - اكتب مدلول الأرقام عليها :



١) دولة

٢) خليج

٣) مدينة

٤) يقل السكان في المناطق المشار إليها بسبب

ب) ما النتائج المترتبة على...؟

١) صغر مساحات الحقول الزراعية في الزراعة الكثيفة.

٢) انتشار التعليم بين قبائل وسط آسيا.

٣) تزايد الطلب على البترول وتعدد استخداماته.

٤) قيام الوحدة الاقتصادية الأوروبية.

ج) ما المقصود بالمصطلحات الجغرافية الآتية :

١) الرعى البدائي

٢) النشاط التعديني

السؤال الثاني:

أ) اكتب كلمة (صواب) أمام العبارات الصحيحة وكلمة (خطأ) أمام العبارات الخاطئة فيما يلي :

()

١) تعد مصر أكبر دول قارة أفريقيا في إنتاج البنجر.

()

٢) تتركز تربية الأغنام بالدول التي تتوافر بها الغابات.

()

٣) يتقاطع خط طول ٣° شرقاً مع دائرة عرض ٤° شمالاً في الجهات الغربية لنيجيريا.

()

٤) تعد دول الخليج من المراكز الصناعية لقيام الصناعات التحويلية بها.

()

٥) العاصمة السياسية لدولة ألمانيا مدينة هامبورج وهي قريبة من بحر الشمال.

ب) مارس الإنسان الأنشطة الاقتصادية البدائية مثل : الصيد , الزراعة , الرعى , تربية الحيوان بهدف إشباع حاجاته

الضرورية من مأكّل ومشرب ومأوى لاستمرار حياته . في ضوء العبارة السابقة وضح :

١) العلاقة بين الزراعة وقيام الحضارات القديمة.

٢) إلى أي الأقاليم الصناعية تنتمي دولة ألمانيا ؟

٣) ما مدى صحة العبارة : تنتشر مصايد الأسماك على سواحل القارات؟

ج) حدد المواد الخام اللازمة لقيام الصناعات الآتية

١) إطارات السيارات

٢) الأسلاك والأدوات الكهربائية

ثانياً : التاريخ

السؤال الثالث:

أ) اختر الإجابة الصحيحة مما بين القوسين :

- ١) بعد قيام ثورة ٢٣ يوليو ١٩٥٢ م غادر مصر قبل الموعد المحدد له .
(مصطفى النحاس - الخديو إسماعيل - الملك فاروق - محمد نجيب)
- ٢) دعا الرئيس الأمريكي كارتر كلا من السادات وبيجين لعقد مؤتمر
(باندونج - كامب ديفيد - مدريد - أوصلو)
- ٣) فشلت إسرائيل أثناء حرب الاستنزاف في احتلال مدينة
(الإسماعيلية - بورسعيد - السويس - بورفؤاد)
- ٤) القاسم المشترك بين ثورات المصريين في الفترة من عام ١٩٥٢م حتى عام ٢٠١٣م هو
(وجود الاحتلال - تدهور الأحوال الاقتصادية - العمل بقانون الطوارئ - قوة الأحزاب المصرية)

ب) بم تفسر.....؟

- ١) فشل العدوان الثلاثي على مصر عام ١٩٥٦ م .
- ٢) إصرار مصر وسوريا على خوض حرب أكتوبر ١٩٧٣ م .
- ٣) لم يكن هناك حياة نيابية في مصر أثناء حكم محمد على .
- ٤) صدور أول مجلة نسائية مصرية عام ١٩٠٧ م

ج) من خلال دراستك وضح :

- ١) إجراءات الرئيس مبارك لامتصاص غضب الشعب المصري أثناء ثورة يناير ٢٠١١ م
- ٢) العلاقة بين تحقيق السلام و الدخل القومي المصري .

السؤال الرابع:

أ) لمن تنسب الأعمال التالية.....؟

- ١) شغل منصب رئيس هيئة عمليات القوات المسلحة عام ١٩٧٢ م .
- ٢) أصبح مسيطراً على جميع قطاعات الجيش بعد صدور البيان الأول لثورة ٢٣ يوليو ١٩٥٢ م .
- ٣) انتخبت رئيساً للجنة الوفد المركزية للسيدات عام ١٩٢٠ م .
- ٤) أطلق مبادرة عُرفت باسمه لوقف إطلاق النار بين مصر وإسرائيل أثناء حرب الاستنزاف.

ب) أمامك صورة لأحد الأحداث الهامة في تاريخ مصر ! لاحظها جيداً ثم أجب :

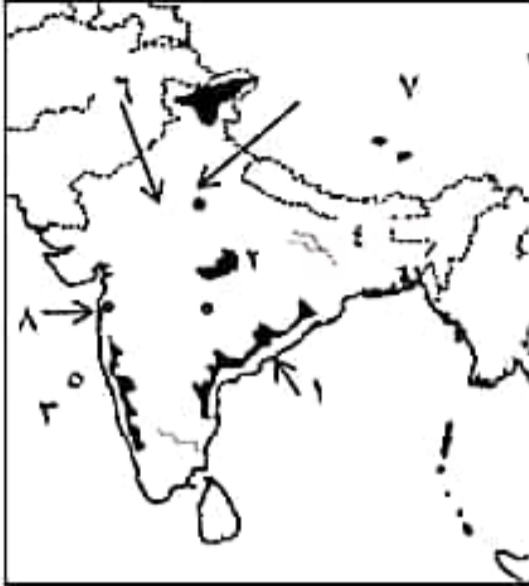
- ١) تمثل الصورة التي أمامك توقيع معاهدة
- ٢) حدد الآثار الاقتصادية الناتجة عن هذا الحدث .

ج) صوب ما تحته خط في العبارات الآتية :

- ١) يمثل مجلس النواب السلطة التنفيذية في البلاد .
- ٢) أعطى مؤتمر سان ريمو بفرنسا عام ١٩٢٠ لبريطانيا حق الانتداب على فلسطين .
- ٣) يعرف خط الدفاع الاسرائيلي على طول قناة السويس بخط ألوان .
- ٤) أول إنجازات ثورة ٢٣ يوليو عام ١٩٥٢ م صدور قانون التأمينات الاجتماعية .



النموذج الاول



١- أمامك خريطة صماء للهند وضع عليها مدلول الارقام التالية:

١- سهل كروماندل ٢- هضبة الدكن

٣- البحر العربي ٤- نهر الجانج

٥- سهول ملبار ٦- سهول الهندوستان

٧- مدينة نيودلهي ٨- مدينة بومباي

✳️ اكتب ما تشير اليه العبارات التالية /

١- الخام الرئيسي لمعدن الالومنيوم (البوكسيت)

٢- مدينة أنشأت علي هضبة البرازيل لإعادة توزيع السكان في البرازيل. (برازيليا)

٣- مصدر طاقه كان يمثل عماد الثورة الصناعية حتي بداية القرن العشرين (الفحم)

🌞 اختر الاجابة الصحيحة مما بين القوسين /

١- اولي دول العالم إنتاجا للمطاط (نيجيريا - الصين - النرويج - تايلاند)

٢- ينتج قصب السكر في كل قارات العالم ماعدا..... (آسيا - أوروبا - أفريقيا - أمريكا الشمالية)

🔪 مما التولة الاولي في إنتاج كلا من /

١- قصب السكر البرازيل ٢- الاغنام الصين ٣- الالبان الهند ٤- البوكسيت استراليا ٥- الفحم الصين

✳️ قارن بين /

١- الهند و الولايات المتحدة من حيث:

المناخ السائد * القارة التي تنتمي اليها * علاقة كل منها بمصر.

| وجه المقارنة | المناخ السائد | القاره | علاقتها بمصر |
|------------------|---|--------------------------------|---|
| الهند | امطار موحية صيفية في الشمال ، وامطار شتوية في الجنوب "مناخها موسمي" | تنتمي الي قارة آسيا | تصدر مصر الي الهند القطن الاصمغ المصنعة والجلود والنفوسات تستورد مصر من الهند غزل القطن والسم والنوابل والشاي |
| الولايات المتحدة | يتنوع المناخ * شبه المداري الحار * مناخ السهول الوسطي * المناخ الجبلي والهنسي | تنتمي الي قارة أمريكا الشمالية | علاقات قوية في جميع المجالات هناك تعاون اقتصادي وتكنولوجي وعلمي * اهم الاتفاقيات . إتفاقية التجارة الحرة . إتفاقية الكويز . تستورد مصر منها المنتجات التكنولوجية . الاسلحة . الطائرات |

📊 صمما النتائج المترتبة علي /

١- وقوع الهند في نطاق المناخ الموسمي ؟ ادي الي ارتفاع الحرارة جنوبا ، بينما تقل في الشمال .

٢- عدم تقدم الصناعة في نيجيريا ؟ أصبحت نيجيريا من الدول النامية التي تعتمد علي الزراعة

- المقومات الطبيعية لكل من الانتاج السمكي والصناعي في العالم.

| النشاط الصناعي | الانتاج السمكي |
|--|--|
| المواد الخام "زراعية - معدنية - حيوانية" مصادر الطاقة (متجددة او غير متجددة) الموقع المتميز. | ضخالة المياه التقاء التيارات الدفينة مع الباردة توافر الموافى الطبيعية |

← بيم تفسرا /

- ١- يعد النشاط الزراعي من الانشطة الاقتصادية الهامة في العالم؟
*مصدر رئيسي لغذاء الانسان.....*مصدر للمواد الخام اللازمة للصناعة.....*يرتبط بها تربية الحيوان.
- ٢- زيادة الاستهلاك العالمي من اللحوم؟..... بسبب ارتفاع مستوى المعيشة.
- ٣- التوسع في استخدام الغاز الطبيعي في الوقت الحالي؟- لانه مصدر طاقة نظيف - وغير ملوث للبيئة - سهولة نقله.
- ٤- تعد الولايات المتحدة القوة الصناعية الاولي في العالم؟
- لتوافر كل مقومات الصناعة.

* ما العلاقة بين.....؟

- ١- إنتاج الفحم - صناعة الحديد والصلب؟..... أدي توافر الفحم الي تطور الصناعة خاصة صناعة الحديد والصلب.
- ٢- الامطار - النبات الطبيعي في الهند؟..... أدت الامطار الي نمو الغابات الموسمية الكثيفة خاصة الساحل الغربي والساحل الشرقي.

❁ من جهة نظرك كيف يمكن جودة الانتاج الصناعي في مصر؟

- الاهتمام بتطوير التعليم الفني والصناعي - توفير رأس المال - اتجاه السياسة الحكومية للدولة نحو تطوير الصناعة

⊙ أعد كتابة العبارات التالية بعد تصويب الخطأ/

- ١- يزرع قصب السكر في كل قارات العالم ما عدا آسيا. (أوربا)
- ٢- تساهم الولايات المتحدة بربع المنتجات الكهربائية في العالم. (ثلث)
- ٣- يسود المناخ المعتدل في حوض الامزون في البرازيل. (الاستوائي)

⊙ ضع علامة (✓) أو علامة (x) مع التصويب /

- ١- عقد مؤتمر باندونج بأندونيسيا عام ١٩٥٥ (✓)
- ٢- قبلت مصر قرار مجلس الامن ٢٤٢ وامتنعت إسرائيل عن تنفيذه. (✓)
- ٣- كانت معاهدة السلام بين كلاً من مصر وإسرائيل عام ١٩٧٩ برعاية الاتحاد السوفيتي. (X) برعاية امريكية

⊙ اختر الاجابة الصحيحة مما بين القوسين /

- ١- عرف الدستور الذي أصدره الرئيس السادات بالدستور (المستديم - الموازي - النائم)
- ٢- إستجاب الخديوي إسماعيل لدعوة وأنشأ أول مدرسة لتعليم البنات ١٨٧٣ (الطهطاوي - محمد فريد - سعد زغلول)
- ٣- إمتنعت عن التصويت علي تقسيم فلسطين ١٩٤٧.... (فرنسا - الولايات - بريطانيا - الاتحاد السوفيتي)
- ٤- قررت دول وضع فلسطين تحت الانتداب البريطاني (الحلفاء - المحور - الكوميسا - حلف شمال الاطلنطي)

٦- أهمية مجلس الوصاية كأحد أهم أجهزة الأمم المتحدة؟

- ليرعى مصالح الشعوب والبلدان التي كانت تحت الاحتلال للنهوض بها.

🕒 قارن بين كلامن /

١- قرار مجلس الامن ٢٤٢ وقرار ٣٣٨

| | |
|--|---|
| قرار مجلس الامن ٢٤٢ | قرار مجلس الامن ٣٣٨ |
| نص علي إعادة إسرائيل جميع الاراضي العربية التي إستولت عليها بعد عدوان ٦٧ | نص علي وقف جميع العمليات الحربية بدءاً من يوم ٢٢ أكتوبر |

٢- دور المرأة قبل ثورة ١٩١٩ وبعد ثورة ١٩٥٢ م.

| | |
|--|--|
| دور المرأة قبل ثورة ١٩١٩ | دور المرأة بعد ثورة ١٩٥٢ |
| فيا إستجاب الخديوي إسماعيل لدعوة رفاة الطهطاوي فأنشأ مدرسة لتعليم البنات " المدرسة السنية" تم تأسيس اول مجلة نسائية " الريحانه" أسستها جميلة حافظ ١٩٠٧ | حصلت المرأة علي حق الترشح في المجالس النيابية ٥٦ اول وزيرة للشئون الاجتماعية حكمت أبو زيد ٦٢ وزيرة الشئون الاجتماعية في عهد السادات عائشة راتب آمال عثمان شغلت منصب رئيس الللجنة التشريعية بمجلس الشعب |

ما العلاقة بين /

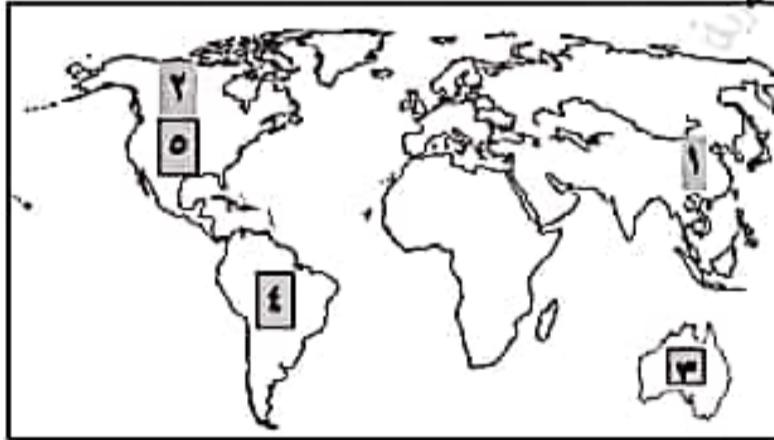
حرب الاستنزاف ومبادرة روجرز؟

نجاح مصر في إقامة حائط الصواريخ ادي الي تقديم الولايات المتحدة مبادرة روجرز لحل النزاع بالطرق السلمية

النموذج الثاني

أولاً : الجغرافيا

🗺 أمامك خريطة صماء للعالم أكتب مدلول الأرقام الموجودة عليها:



١- أكبر دولة منتجة للقمح الصين

٢- أكبر القارات انتاجاً للذرة أمريكا الشمالية

٣- أكثر دول العالم انتاجاً للأصواف أستراليا

٤- اولي دول العالم انتاجاً لقصب السكر البرازيل

٥- أولي دول العالم في إنتاج الغاز الطبيعي الولايات المتحدة

* بم تفسر ما يلي :

١- تطور الصناعة في الدول المتقدمة؟.....بسبب استخدام الاساليب العلمية واجراء الابحاث العلمية

٢- قلة عدد السكان في دلتا نهر النيجر؟.....لارتفاع درجة الحرارة ووجود الغابات

٣- تصدر الدول المنتجة لحام البوكسيت معظم انتاجها للخارج ؟

لعدم توافر متومات صناعته وهي: *طاقة كهربائيةخبرة علمية وفنية.....أسواق داخلية وخارجية تستوعب الانتاج.

٤- زيادة أهمية البترول في الوقت الحالي؟

- يرتبط بالتنمية الاقتصادية والاجتماعية العلاقات السياسية.....ويتم تكريره فيشتق منه البنزين والسولار.

📖 صوب ماتحته خط

١- من المحاصيل التي تزرع في نطاق الزراعة التجارية اليام والكسافا.....الزراعة البسيطة

٢- تعتبر الولايات المتحدة اولى دول العالم في انتاج البترول.....السعودية

٣- تعد جمهورية كوريا من دول اقليم غرب ووسط أوروبا الصناعي.....شرق آسيا

٤- تقع معظم مساحة دولة باكستان داخل الهند.....بنجلاديش

📖 اكل العبارات الآتية

١- اولى دول العالم في انتاج محصول الشاي دولة الصين

٢- من المحاصيل التي تستخدم في صناعة اطارات السيارات محصول المطاط

٣- تعتبر دولة الهند من أكبر دول العالم في تربية الأبقار.

٤- تعد لاجوس العاصمة الاقتصادية للنيجيريا.

٥- توجد إتفاقيات تجارية منها اتفاقية التجارة منطقة التجارة الحرة واتفاقية الكوميز

٦- تستورد مصر من نيجيريا الحبوب الزيتية

٧- واشنطن العاصمة السياسة للولايات المتحدة بينما سان فرانسيسكو أكبر الموانئ على المحيط الهادي.

ب (قارن بين دولتي نيجريا و الهند من حيث : ١- المناخ في كل منها ٢- عاصمة كل منها

| الهند | نيجيريا |
|--|---|
| تقع في الاقليم الموسمي حيث الامطار الصيفية نيودلهي العاصمة السياسية | تقع معظم نيجيريا في الاقليم المداري الحار ماعدا الاجزاء الجنوبية في الاقليم الاستوائي. العاصمة السياسية الحالية ابوجا |

ج (ما المقصود (بالنشاط التعدينى) هو إستخراج المعادن ومصادر الطاقة المختلفة من باطن الارض.

ما النتائج المترتبة على

١- إتساع الولايات المتحدة وتنوع تضاريسها؟.....تنوع الاقاليم المناخية بها.

٢- نظافة ورخص الغاز الطبيعي؟.....أدى ذلك الي توسع العالم في استخدامه.

٣- إنتشار التعليم بين القبائل في وسط آسيا بالنسبة للرعي البدائي؟.....أدى الي قلة العاملين في نشاط الرعي .

٤- زيادة الطلب على البترول؟.....أدى الي ارتفاع أسعاره عالميا.

الي أي الدول تنتمي المدن التالية وما شهرتها؟

٥- إبيادان

٣- نيويورك

١- لاجوس

ماذا يحدث إذا

- ١- تطوت الصناعة في نيجيريا؟....."أصبحت نيجيريا من الدول ذات الاقتصاد المرتفع.
 - ٢- توافرت مصادر الطاقة لدى الدول المنتجة للبوكسيت؟ أصبحت الدول المنتجة للبوكسيت هي الدول المصنعة للألومنيوم.
- ضع علامة (✓) أو علامة (x) مع التصويب /

- ١- يتركز نصف سكان الولايات المتحدة في إقليم نيو إنجلند (✓)
- ٢- تقع معظم نيجيريا في الاقليم الاستوائي (X) المداري
- ٣- توافر الخبرة العلمية والفنية أحد المقومات الطبيعية لصيد الاسماك (X) البشرية
- ٤- توجد العديد من المركز الاسلامية في مدينة حيدر أباد (✓)
- ٥- تنسم المرتفعات الشمالية الشرقية بالولايات المتحدة بندرة الامطار والحرارة المنخفضة (✓)

أكتب المصطلح التاريخي /

- ١- الوثيقة الرسمية التي تحدد نظام الحكم في الدولة. (الدستور)
- ٢- إنتخاب ممثلين عن الشعب لإدارة شئون البلاد ومراقبة أعمال الحكومة وسن القوانين. (الحياة النيابية)
- ٣- المجالس التي تتولي السلطة التشريعية في الدولة. (البرلمان)
- ٤- منظمات تضم جمعيات المجتمعات المحلية والمنظمات الغير حكومية. (منظمات المجتمع المدني)

ضع علامة (✓) أو علامة (x) مع التصويب /

- ١- الفت حكومة ثورة ٢٣ يوليو الاحزاب السياسية القائمة (✓)
- ٢- شكل مجلس الامة بناءا علي دستور ١٩٥٦ (✓)
- ٣- عادت طابا لسياده المصرية في عهد الرئيس الاسبق حسني مبارك (✓)
- ٤- من مزايا تحقيق السلام دفع عجلة التنمية الاقتصادية (✓)
- ٥- يعين الامين العام للجامعة العربية باغلبية الثلثين لمدة اربعة اعوام (X) خمسة أعوام
- ٦- وقع ميثاق جامعة الدول العربية عدد ٧ دول و عددها حاليا ٢٢ دولة (✓)
- ٧- جامعة الدول العربية منظمة إقليمية أنشئت عام ١٩٤٥ (✓)
- ٨- أنشئت منظمة الصحة العالمية عام ١٩٤٨ ومقرها روما في إيطاليا (✓)
- ٩- ساهمت منظمة اليونسكو في إنقاذ معابد سمبل ١٩٦٤م (✓)
- ١٠- مجلس الامن هو المسئول عن الشايط الاقتصادي والاجتماعي للأمم المتحدة (X) المجلس الاقتصادي والاجتماعي.

م تفسر

- ١- أهمية دور محكم العدل الدولية ؟- الفصل في القضايا الدوليةوتقديم الاستشارات القانونية.

٢- شهدت مصر نهضة نسائية في الفترة بعد عام ١٩٨١م؟

- تعيين أمال عثمان رئيسا للجنة التشريعية بمجلس النواب
- وإنشاء المجلس القومي للمرأة.

٣- صدور الدستور النائم لمصر عام ١٩٧١؟

ليؤكد على:.....١- سيادة القانون
٢- استقلال القضاء
٣- إقرار مبادئ التعددية الحزبية
٤- أهمية منظمة الأمم المتحدة؟

- تنمية العلاقات بين الدولتحقيق التعاون الإقتصادي بين الدول.....تعزيز إحترام حقوق الإنسان.

٥- مجلس الامن أحد أهم أجهزة الامم المتحدة؟.....لأنه المسئول عن حفظ الامن والسلام الدوليين

٦- الامم المتحدة منظمة دولية؟- لانها تضم في عضويتها جميع دول العالم المستقلة وإن لم ترتبط بعضها بروابط معينة
٧- إنشاء مجلس الوصاية؟

- ليرعى مصالح شعوب البلدان التي كانت مستعمرات والأخذ بيدها نحو الحكم الذاتي والاستقلال.

لللمن تنسب الاعمال الآتية/

١- شغل منصب رئيس المخابرات الحربية وقاد خطه لخداع اسرائيل عن التجهيزات الهجومية لحرب أكتوبر (أحمد اسماعيل)

٢- قدم مبادرة عرفت باسمه لوقف إطلاق النار في حرب الاستنزاف.(روجرز)

٣- ترأست نصب رئيس السلطة التشريعية لمجلس النواب(أمال عثمان)

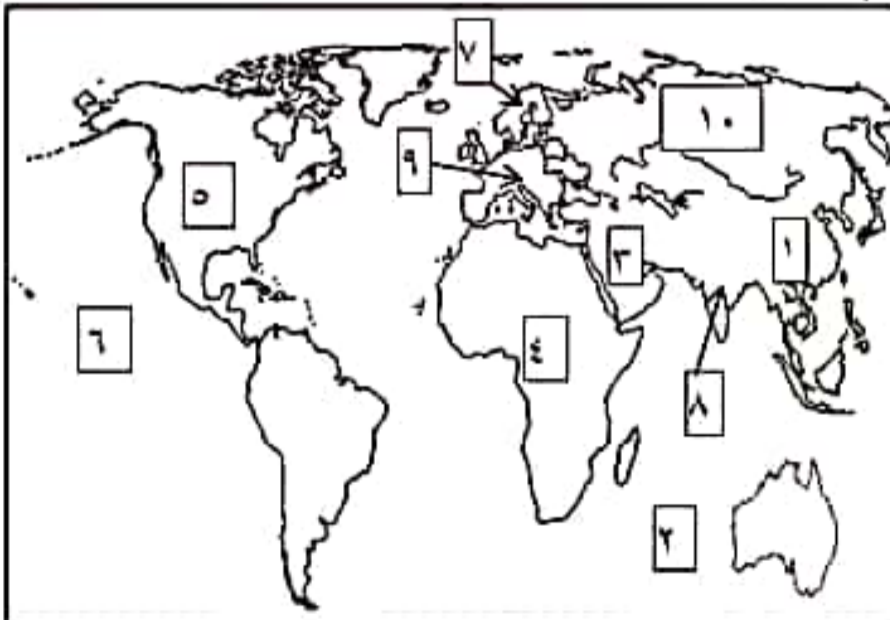
٤- تعيين عائشة راتب كوزيرة للشئون الإجتماعية ١٩٧١م.(السادات)

لماذا يحدث إذا...؟

١- نجح العدوان الثلاثي علي مصر؟.....بقاء القوات الفرنسية والانجليزية في بورسعيد والقوات الاسرائيلية في سيناء وعدم قيام الوحدة بين مصر واسرائيل.

النموذج الرابع

مامك خريطة صماء للعالم وضع عليها مدلول الأرقام التالية/



١- أولي دول العالم في إنتاج القمح الصين.

٢- أشهر دول العالم في إنتاج أصواف المارينو استراليا

٣- أكبر دول العالم في إنتاج البترول السعودية

٤- ثاني قارات العالم إنتاجا للقطن افريقيا

٥- أولي دول العالم إنتاجا للغاز الطبيعي usa

٦- المحيط الهادي

٧- ثاني دول العالم تصديرا للأسماك النرويج

٨- من أهم الدول الآسيوية المنتجة للابقار الهند

٩- قارة يتركز بها زراعة البنجر أوروبا

١٠- دولة روسيا تحتل المركز الثاني لإنتاج البترول.

- ٢- واشنطن / تقع في الولايات المتحدة.....العاصمة السياسية.
- ٣- إبيادان / نيجيريا.....مركزا للتعليم والمواصلات والتجارة.
- ٤- بومباي / الهند.....أهم الموانئ علي الساحل الغربي.
- ٥- نيويورك / الولايات المتحدة.....أهم الموانئ علي المحيط الاطلنطي.

✚ دلل علي صحة العبارة التالية /

١- تم عملية التعدين بعدة مراحل ؟

*البحث والكشف عن الخامات

*إعداد المنجم للتعدين

*مرحلة الإنتاج والنقل والتوزيع

٢- للفحم أهمية كبيرة كمصدر للطاقة قديما وحديثا؟

١- كان عماد الثورة الصناعية في أوروبا في أواخر القرن الـ ١٨

٢- المصدر الأول والرئيسي للطاقة المستخدمة في العالم حتى أوائل القرن العشرين

٣- ومازال الفحم مصدر رئيسي في الصناعة في الدول الكبرى

٤- يستخدم في توليد الكهرباء.

التاريخ

✚ يم تفسر:

١- فشل العدوان الثلاثي علي مصر ١٩٥٦م؟

١- مقاومة الجيش والشعب وصلابة القيادة

٢- وقوف الشعوب العربية بجانب مصر

٣- تهديد الاتحاد السوفيتي بالتدخل لوقف العدوان

٤- رفض الولايات المتحدة استخدام القوة في حل المنازعات

٥- تنديد الامم المتحدة بالعدوان

٢- عدوان ٥ يونيو ١٩٦٧م؟

١- اعلان مصر وقفها الى جانب سوريا تطبيقاً لاتفاقية الدفاع المشترك.

٣- اغلاق مصر خليج العقبة في وجه الملاحه الاسرائيلية في مايو ١٩٦٧م؟.

- إحكاما للحصار العربي الاقتصادي علي اسرئيل.

أكتب المصطلح الجغرافي الذي تدل عليه العبارات الاتية /

١- يعمل علي رعاية مصالح شعوب البلاد التي كانت مستعمرات ومساعدتها نحو الحكم الذاتي.(مجلس الوصاية)

٢- أحد المنظمات التابعة للأمم المتحدة مسئولة عن حماية حقوق الاطفال ورفاهيتهم.(اليونيسيف)

٣- خط دفاع إسرئيلي في هضبة الجولان شهد إندفاع الدبابات والمدفعات السورية في أكتوبر ١٩٧٣م.(ألوان)

٤- تسلم السلطة لحين إجراء إنتخابات رئاسية وتعديل دستور ٢٠١٣.(المستشار علي منصور)

٥- أحد المنظمات الدولية مسئولة عن القضاء علي الجوع وحماية مياه الشرب من التلوث.(الأغذية والزراعة)

❁ ما العلاقة بين كلا من /

١- الزراعة الكثيفة والايدي العاملة؟تعتمد الزراعة الكثيفة علي ايدي العاملة نظرا لتعدد مراحل الزراعة.
اكتب اسم الدولة الاولي لإنتاج لكلا من.

- ١- اللحوم الحمراء(الصين) ٢- النحاس (شيلي) ٣- الغاز الطبيعي(الولايات المتحدة)
٤- قصب السكر(البرازيل) ٥- الالبان(الهند) ٦- الاسماك(الصين) ٧- البواجن(الولايات المتحدة)

📖 ثم تفسر:

- ١- تفوق الهند في صناعة الحديد والصلب؟لتوافر إنتاج الفحم من هضبة الدكن حيث تحتل الهند المركز الثالث في إنتاج الفحم.
٢- قلة السكان في ولاية الاسكا؟بسبب شدة البرودة.
٣- تربي الولايات المتحدة أعداد كبيرة من الابقار والاعناب والمخازير؟لإنتاج اللحوم وتصدير جزء منها الي الخارج.
٤- تعد الولايات المتحدة القوة الاقتصادية الاولي في العالم؟
- لتوافر كل مقومات الصناعة بها.

📖 ما النتائج المترتبة علي /

- ١- وجود الغابات والظروف المناخية القاسية في دلتا نهر النيجر؟
- ادي ذلك الي قلة التركز السكاني
٢- الوحدة الاقتصادية الاوربية؟
- ادي الي تحقيق التكامل الاقتصادي وتدعيم الصناعة جبركيا من جانب الاتحاد الاوربي.
٣- ضيق مساحة الحقول في الزراعة الكثيفة؟
- ادي ذلك الي قلة استخدام الالات الحديثة والميكنة الزراعية.
٤- زيادة الطلب علي البترول؟
- ادي الي إرتفاع أسعاره عالميا.

📖 اختر الاجابة الصحيحة مما بين القوسين /

- ١- أكبر الدول المنتجة للأصواف.....(الولايات المتحدة و- الصين - أستراليا - مصر)
٢- تعتبر دول.....من أهم الدول في تصدير الاسماك.(بيرو - النرويج - البرازيل - الارجننتين)
٣- تعتبر دولةالاولي في إنتاج الالومنيوم(شيلي - استراليا - الولايات المتحدة)
٤- من المحاصيل ذات الطبيعة الخاصة.....(القمح - القطن - البن - الارز)

التاريخ

📖 ثم تفسر /

- ١- هزيمة الدول العربية في دوان ٥ يونيو ١٩٦٧؟
- تفوق اسرائيل العسكري.....استخدام اسرائيل عنصر المفاجأة..... مساندة الولايات المتحدة لاسرائيل عسكريا
٢- فشل الطائرات الاسرائيلية من الاقتراب من قناة السويس؟

- بسبب نجاح مصر في إقامة حائط الصواريخ علي الصفة الغربية للقناة.

٣- الاستعانة بالقوات المسلحة في ثورة ٢٥ يناير؟

- لحماية الممتلكات العامة والخاصة وامن المواطنين.

📖 اكل العبارات التالية/

١- يتم تعيين الامين العام للأمم المتحدة عن طريق الجمعية العامة

٢- اصبحت فلسطين تحت الانتداب البريطاني طبقا لقرارات مؤتمر سان ريمو

٣- قامت ثورة ١٩٣٦ برئاسة اللجنة العربية ، بينما كانت من اشبع المذاهب دير ياسين.

٤- تم توقيع إتفاقية أوسلو في النرويج ١٩٩٣م.

ما النتائج المترتبة علي/

١- وجود منظمات المجتمع المدني؟

- تثقيف المواطن بحقوقه السياسية

- توفير مناخ يحقق الوحدة الوطنية.

- توضيح العلاقة بين المواطن والدولة.

- تدعيم السياسة العامة للدولة.

٢- فوز المشير عبد الفتاح السيسي في الانتخابات الرئاسية؟

- بدأت فترة جديدة من تاريخ مصر يتطلع فيها الشعب الي تحقيق طموحاته وأحلامه.

٣- إصدار قانون الاصلاح الزراعي الاول سبتمبر ١٩٥٢م؟

- تحديد ملكية الاراضي الزراعية.

- القضاء علي الإقطاع.

٤- مؤتمر كامب ديفيد سبتمبر ١٩٧٨م؟

- تم التوصل الي غطار للسلام بين مصر واسرائيل.

📖 اكتب المفهوم او المصطلح التاريخي/

١- الجهاز القضائي للأمم المتحدة وله نشاط قضائي واسع.(محكمة العدل الدولية)

٢- عدم الانضمام الي اي من الكتلتين الشرقية والغربية.(عدم الانحياز)

٣- منظمة عالمية متخصصة في مجال الصحة ومقرها جنيف بسويسرا(منظمة الصحة العالمية)

٤- المجلس الذي يتكون من ممثلي جميع الدول العربية لاعضاء في جامعة الدول العربية.(مجلس الجامعة)

٥- الجهة المسئولة عن السلطة التشريعية في البلاد.(مجلس النواب)

"بموجب المعاهدة التي وقعت بين مصر واسرائيل تم رفع العالم المصري فوق شبه جزيرة سيناء فيما عدا المنطقة الواقعة علي

رأس خليج العقبة حيث حدث خلاف عليها واتفق الطرفان علي التحكيم".....علي ضوء العبارة السابقة وضع :

١- المنطقة التي حدث عليها الخلاف.(طابا)

٢- نصين من نصوص تلك المعاهدة.

(انسحاب اسرائيل الكامل من سيناء - إحترام حرية الملاحة في الممرات الدولية)



امتحانات على الفصل الدراسي الثاني

(من موقع وزارة التربية والتعليم)

أولاً

النموذج الأول

أولاً الجغرافيا

أجب عن الأسئلة الآتية:

١ (١) أمامك خريطة صماء للعالم، اكتب في كراسة الإجابة مدلول الأرقام الموقعة عليها ،

(١) أولى قارات العالم

إنتاجاً للقمح

(٢) ثاني قارات العالم

في تربية الأبقار

(٣) أولى قارات العالم

إنتاجاً للغاز الطبيعي

(٤) * أولى دول العالم

إنتاجاً للبوكسيت

(ب) بم تفسر ... ؟

(١) تركز زراعة البنجر في معظم دول أوروبا.

(٢) التوسع في استخدام الغاز الطبيعي كبديل لمصادر الطاقة الأخرى.

(٣) تُعد الصين من الدول الرئيسية المنتجة للأسمك.

٢ (١) اكتب المصطلح الذي تعبر عنه كل عبارة مما يأتي ،

(١) * زراعة الأرض أكثر من مرة في العام لإشباع حاجة السكان المحليين من الغذاء.

(٢) نوع من أنواع الرعي يمارسه سكان المناطق الصحراوية في مساحات واسعة في قارات العالم.

(ب) قارن بين ، الهند، وجمهورية ألمانيا الاتحادية، من حيث :

* المناخ. * الموقع الجغرافي.

(ج) «توجد علاقات مصرية مع كل من نيجيريا والولايات المتحدة الأمريكية».

في ضوء العبارة السابقة أجب عما يأتي ،

(١) ما مدى صحة العبارة السابقة ؟ ولماذا ؟

(٢) ما أوجه الاختلاف بين كل منهما من حيث أهم الصناعات ؟

الثاني التاريخ

- ٣ (١) اكتب كلمة (صواب) أمام العبارة الصحيحة، وكلمة (خطأ) أمام العبارة غير الصحيحة. مع التصويب ،
- (١) كان من أهداف قيام ثورة ٢٣ يوليو ١٩٥٢م التخلص من الاحتلال البريطاني. ()
- (٢) * أعطى مؤتمر سان ريمو لبريطانيا حق الانتداب على فلسطين ١٩٢٠م. ()
- (٣) أنشأ (محمد علي) عدة مجالس استشارية منها مجلس النواب. ()
- (٤) يقع مقر منظمة الأمم المتحدة في مدينة مدريد. ()

(ب) ما النتائج التي ترقبت على ... ؟

- (١) عقد مؤتمر مدريد للسلام عام ١٩٩١م.
- (٢) قيام ثورة ٢٣ يوليو ١٩٥٢م في مجال التجارة.
- (٣) تدهور الأوضاع الاجتماعية والاقتصادية في عهد مبارك.

٤ (١) من يكون ... ؟

- (١) أذاع أول بيان لثورة ٢٣ يوليو ١٩٥٢م.
- (٢) * قادت الثورة عام ١٩٣٦م بفلسطين.
- (٣) المنظمة التي ساهمت في إحياء مكتبة الإسكندرية وإنقاذ معابد أبو سمبل.
- (٤) الجهة المسئولة عن تولى السلطة التشريعية في الدولة.

(ب) ماذا كان يحدث إذا ... ؟

- (١) لم تصدر بريطانيا وعد بلفور ١٩١٧م.
- (٢) استجابت إسرائيل لنداءات السلام بالانسحاب من الأراضي التي احتلتها في عدوان ١٩٦٧م.
- (٣) لم يتضامن الجيش مع الشعب أثناء ثورة ٢٥ يناير ٢٠١١م.

حل نماذج كتاب الوزارة (النموذج الأول)

أولاً الجغرافيا: السؤال الأول: أ- أمامك خريطة صماء للعالم:

١- آسيا ٢- أمريكا الجنوبية ٣- أوروبا ٤- أستراليا.

ب- بم تفسر: ١- بسبب ملائمة المناخ والتربة لزراعته في قارة أوروبا.

٢- بسبب نظافته - رخص سعره - سهولة نقله - أقل تلويثاً للبيئة.

٣- بسبب طول سواحلها على البحار والمحيطات - تقدم وسائل الصيد وحفظ وتعليب الأسماك.

السؤال الثاني: أ- اكتب المفهوم:

١- الزراعة الكثيفة ٢- الرعي البدائي.

ب- قارن بين الهند وألمانيا من حيث الموقع الفلكي والجغرافي:

| وجه المقارنة المناخ | الهند | ألمانيا |
|---------------------|---|--|
| الموقع الجغرافي | تقع الهند في الإقليم الموسمي ويسود بها مناخ مداري حار يزيد المتوسط الحراري السنوي عن ٣٠ درجة مئوية وتسقط الأمطار الموسمية الغزيرة في فصل الصيف وتقل كمية الأمطار كلما اتجهنا شمالاً من الشمال: الصين - نيبال - بوتان الشمال الشرقي: ميانمار - الشمال الغربي: باكستان الشرق والجنوب الشرقي: خليج البنغال الغرب والجنوب الغربي: البحر العربي | تقع ألمانيا في إقليم غرب أوروبا درجة الحرارة تكون معتدلة صيفاً وترتفع كلما اتجهنا نحو الشرق وفي الشتاء تنخفض درجات الحرارة إلى ما دون الصفر المنوي تسقط الأمطار طول العام وخاصة في الأجزاء الشمالية متأثرة ببحر الشمال والمحيط الأطلنطي الشمال: البحر البلطي، الدنمارك، بحر الشمال الجنوب: النمسا و سويسرا الشرق: بولندا والتشيك الغرب: هولندا، بلجيكا، لوكسمبورج، فرنسا |

ج- العبارة صحيحة: حيث تصدر مصر إلى نيجيريا كلاً من الأسلاك النحاسية ومواسير الألومنيوم والمحولات الكهربائية والمعدات الثقيلة والإطارات وتستورد منها المحاصيل الزراعية وخاصة الأبنية.

أما بالنسبة لعلاقة مصر بالولايات المتحدة الأمريكية فقد وقعت مصر عدة اتفاقيات اقتصادية معها منها اتفاقية التجارة الحرة واتفاقية الكويز وتستورد مصر من الولايات المتحدة الأمريكية الطائرات والمنتجات التكنولوجية والأسلحة.

٢- الصناعة في نيجيريا ليست متطورة وتعتمد أغلبها على الصناعات الخفيفة الاستهلاكية مثل الصناعات النسيجية والغذائية وتكرير البترول أما في الولايات المتحدة الأمريكية فتعتبر أولى الدول الصناعية السبع ويوجد بها الصناعات الهندسية المتطورة مثل الطائرات والصناعات الكهربائية والإلكترونية وغيرها.

ثانياً التاريخ

السؤال الثالث: أ- ضع علامة (✓) أو علامة (X):

١- ✓ ٢- ✓ ٣- X مجلس المشورة ٤- X نيويورك

ب- ما النتائج المترتبة على: ١- حدوث مفاوضات اتسمت بالسرية بين دولة إسرائيل ومنظمة التحرير الفلسطينية في مدينة أوسلو النرويجية وأسفرت عن توقيع اتفاقية أوسلو عام ١٩٩٣م برعاية أمريكية.

٢- تمصير البنوك وشركات الاستيراد والتصدير والتأمين - فتح أسواق خارجية

٣- قيام ثورة ٢٥ يناير ٢٠١١م.

السؤال الرابع: أ- من يكون:

١- محمد أنور السادات ٢- اللجنة العربية ٣- اليونسكو ٤- البرلمان (مجلس النواب)

ب- ماذا كان يحدث إذا: ١- لم يتم إنشاء وطن قومي لليهود في فلسطين (دولة إسرائيل).

٢- لم تحدث حرب أكتوبر ١٩٧٣م. ٣- لم تنجح ثورة ٢٥ يناير ٢٠١١م.

النموذج الثاني

أولاً الجغرافيا

اجب عن الأسئلة الآتية:

١ (أ) أمامك خريطة صماء للعالم، اكتب في كراسه إجابتك مدلول الأرقام الموقعة عليها ،

(١) أولى قارات العالم إنتاجاً للذرة

(٢) * من الدول المربية

للأغنام

(٣) أولى قارات العالم إنتاجاً

للطاقة النووية

(٤) أولى قارات العالم إنتاجاً

للقطن



(ب) بم تفسر ... ؟

- (١) يُعد النشاط الزراعي من الأنشطة الاقتصادية الأساسية في العالم.
- (٢) نجاح الهند في مواجهة المشكلة السكانية.
- (٣) توسع دول العالم في استخدام الغاز الطبيعي كبديل لمصادر الطاقة الأخرى.

(١) اكتب المصطلح الذي تعبر عنه كل عبارة من العبارات الآتية :

- (١) الخام الرئيسي للألومنيوم.
- (٢) إقليم صناعي يبدو في شكل مناطق متباعدة أهمها المركز الصناعي في إقليم موسكو.
- (٣) نشاط اقتصادي يمثل العمود الفقري للاقتصاد الألماني ويعمل بها نحو ثلث القوى العاملة.

(ب) ماذا يحدث إذا ... ؟

- (١) تطورت الصناعة في نيجيريا.
- (٢) وقعت معظم أراضي البرازيل في المناطق القطبية والباردة.
- (٣) توافرت مصادر الطاقة والخبرة العلمية والفنية لدى الدول المنتجة للبوكسيت.

الثاني التاريخ

(١) اكتب كلمة (صواب) أمام العبارة الصحيحة، وكلمة (خطأ) أمام العبارة غير الصحيحة، مع التصويب :

- (١) قدمت الدول العربية دعماً عسكرياً ومالياً لمصر أثناء حرب أكتوبر ١٩٧٣ م. ()
- (٢) أقرت معاهدة السلام إنهاء حالة الحرب بين مصر وإسرائيل. ()
- (٣) استمرت حرب الاستنزاف لمدة خمس سنوات. ()
- (٤) * نص دستور ١٩٥٦ م أن تكون السلطة التشريعية في يد مجلس منتخب هو مجلس الأمة. ()

(ب) ما النتائج التي ترتبت على ... ؟

- (١) سوء الأحوال الاجتماعية قبل ثورة ٢٣ يوليو ١٩٥٢ م.
- (٢) إنشاء السد العالي.
- (٣) * التعاون بين مصر ومنظمة اليونسكو.

(١) قارن بين ، العدوان الثلاثي على مصر في ١٩٥٦ م، والعدوان الإسرائيلي على مصر في يونيو ١٩٦٧ م، من حيث : * الأسباب. * النتائج.

(ب) مارأيك في ، مبادرة الرئيس محمد أنور السادات بالذهاب إلى إسرائيل من أجل السلام ؟ (ج) إلى من ينسب كل عمل مما يأتي ... ؟

- (١) أنشأ مجلس شورى النواب في ١٨٦٦ م.
- (٢) دعا الرئيس السادات وبيجين إلى اجتماعات في كامب ديفيد للتوصل إلى إطار اتفاق للسلام بين مصر وإسرائيل.

(النموذج الثاني)

أولاً الجغرافياً: السؤال الأول: أ- أمامك خريطة صماء للعالم:

١- أمريكا الشمالية ٢- أستراليا ٣- أوروبا ٤- آسيا

ب- بم تفسر: ١- حيث أنه يعتبر مصدر رئيسي لغذاء الإنسان - توفر المادة الخام اللازمة للصناعة مثل القطن والكتان والمطاط الطبيعي - يرتبط به تربية الحيوان -

٢- حيث اعتمدت على السياسات التعموية مثل الاهتمام بالتعليم وتطوير البحث العلمي مما أدى إلى تطوير المزارعة والصناعة.

٣- بسبب نظافته - رخص سعره - سهولة نقله - أقل تلويثاً للبيئة.

السؤال الثاني: أ- أكتب المفهوم: ١- النيوكسيت ٢- إقليم روسيا وأوكرانيا ٣- الصناعة.

ب- ماذا يحدث إذا: ١- يصبح اقتصاد إنجلترا اقتصاداً متقدماً وليس نامياً ويرتفع المستوى الاقتصادي بها.

٢- اختفت منها حشائش السافانا والانتيس وقلت أعداد الثروة الحيوانية بها لم تصبح من الدول الرئيسية المنتجة للحوم.

٣- يتم تصنيع الألمنيوم بها بدلاً من تصدير النيوكسيت كمادة خام.

ثانياً التاريخ

السؤال الثالث: أ- ضع علامة (✓) أو علامة (X):

١- ✓ ٢- ✓ ٣- X سننان ٤- ✓

ب- ما النتائج المترتبة على: ١- زيادة الفوارق بين الطبقات - انتشار ظاهرة الإقطاع وسوء توزيع الأراضي

الزراعية - انتشار الفقر والجهل والمرض - قيام ثورة ٢٣ يوليو ١٩٥٢م

٢- تخزين المياه - توليد الكهرباء - حماية مصر من خطر الفيضان.

٣- إنقاذ معبد أبو سمبل من الغرق علم ١٩٦٤م و احياء مكتبة الإسكندرية.

السؤال الرابع: قارن بين:

عنوان ٥ يونيو ١٩٦٧م

العنوان الثلاثي ١٩٥٦م

وجه المقارنة
الأسباب

١- رغبة إسرائيل في القضاء على قوة مصر عسكرياً واستدراج العرب لحرب غير مستعدين لها فقامت بحشد قواتها على الحدود السورية - فأعلنت مصر وقفها بجانب سوريا تطبيقاً لاتفاقية الدفاع المشترك.

٢- طلبت مصر من قوات الطوارئ الدولية الانسحاب من بعض النقاط - أغلقت مصر خليج العقبة في وجه الملاحة الإسرائيلية لإحكام الحصار الاقتصادي على إسرائيل.

١- مساندة حركات التحرر الوطني في الجزائر ضد الاستعمار الفرنسي.

٢- تأميم قناة السويس ٢٦ يوليو ١٩٥٦

٣- عقد صفقة الأسلحة الشرقية ١٩٥٥م

النتائج

فشل العدوان و : ١- انسحبت إنجلترا وفرنسا من بورسعيد في ديسمبر ١٩٥٦

٢- انسحبت إسرائيل من سيناء أوائل عام ١٩٥٧ وتم وضع قوات طوارئ دولية بين مصر وإسرائيل.

٣- قيام الوحدة بين مصر وسوريا من ١٩٥٨ حتى ١٩٦١م

١- استولت إسرائيل على فلسطين كلها والضفة الغربية لنهر الأردن وشبه جزيرة سيناء من مصر وهضبة الجولان السورية.

ب- رأي أنها مبادرة عظيمة لأنها أنهت سلسلة طويلة من الحروب بين مصر وإسرائيل وأعدت الأراضي المحتلة إلى مصر بالسلام.

ج- لمن تتسبب الأعمال: ١- الخديو إسماعيل ٢- الرئيس الأمريكي كارتر

(النموذج الثالث)

أولاً الجغرافيا: السؤال الأول: أ- أمامك خريطة صماء لدول البرازيل:

١- هضبة البرازيل ٢- راودي جانيرو ٣- بوليفيا ٤- مدار الجدي

ب- قارن بين: ألمانيا والولايات المتحدة الأمريكية ونيجيريا:

| وجه المقارنة | ألمانيا | الولايات المتحدة الأمريكية |
|-----------------|---|---|
| أهم المدن | برلين: العاصمة السياسية للدولة يبلغ عدد سكانها نحو ٣,٤ مليون نسمة. ميونخ: عاصمة إقليم بافاريا جنوب ألمانيا * يوجد بها مقر عدد من الشركات والمصانع الألمانية المهمة هامبورج: أهم موانئ ألمانيا - قريبة من بحر الشمال | واشنطن: تطل على المحيط الأطلنطي هي العاصمة السياسية. نيويورك: ميناء هام تطل على المحيط الأطلنطي بها مقر الأمم المتحدة. شيكاغو: أكبر مدن السهول الوسطي تقع على بحيرة متشجن سان فرانسيسكو: أكبر الموانئ الأمريكية على ساحل المحيط الهادي |
| العلاقات مع مصر | علاقات ثقافية وعلمية بين البلدين تمثل في هيئة التبادل العلمي الألمانية والجامعة الألمانية بالقاهرة ومعهد الآثار الألماني وغيرها. * توجد العلاقات الاقتصادية مثل تمويل ألمانيا لمحطات توليد الكهرباء من الرياح * تصدر مصر إلى ألمانيا البترول والغاز الطبيعي والملابس وغيرها من المنتجات وتستورد مصر من ألمانيا الصناعات الكيماوية والآلات والسيارات | العلاقات قوية بين البلدين حيث توجد اتفاقيات بين البلدين اقتصادية وتكنولوجيا وثقافياً وعلمياً. توجد اتفاقيات تجارية في منطقة التجارة الحرة و اتفاقية الكويز . تستورد مصر : منتجات تكنولوجيا حثيثة ، أسلحة ، طائرات . |

السؤال الثاني: أ- حدد الدولة الأولى في إنتاج ما يلي:

١- اللحوم/ الصين ٢- الحديد / الصين ٣- البترول / السعودية ٤- قصب السكر/ البرازيل

ب- ما المقصود بكل من:

١- الزراعة البسيطة: زراعة تنتشر في المناطق الحارة على هوامش الغابات الاستوائية وحشائش المسافانا ويستخدم فيها الأدوات البدائية وتتميز بضيق المساحات المزروعة وتباعدها عن بعضها.

٢- الزراعة الكثيفة: زراعة الأرض أكثر من مرة خلال العام لإشباع حاجة السكان المحليين من الغذاء.

ج- لعل على صحة العبارات: ١- ارتفاع مستوى المعيشة والتقدم الاقتصادي - استهلاكها لـ ٨٥% من معادن العالم.

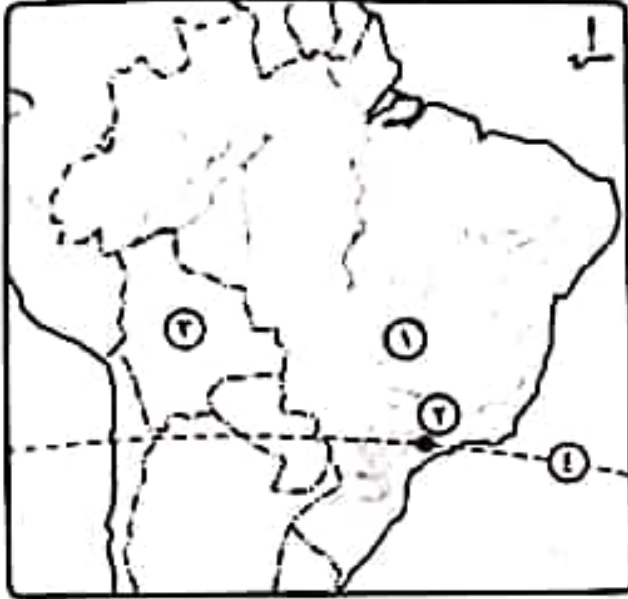
٢- حيث تصدر مصر إلى نيجيريا كلاً من: الأسمدة والمعدات الثقيلة والأسلاك النحاسية والإطارات والمحولات الكهربائية ومواسير الألمونيوم وتتحضر الواردات المصرية في السلع الزراعية وأهمها الحبوب الزيتية.

٣- لأن الماء يحيط بها من جميع الجهات ما عدا الجهة الشمالية. فمن الشرق والجنوب الشرقي خليج البنغال والغرب والجنوب الغربي البحر العربي.

النموذج الثالث

أولاً الجغرافيا

اجب عن الأسئلة الآتية،



١ (أ) أمامك خريطة لدولة البرازيل، اكتب في كراسة

اجابتك مدلول الأرقام الموقعة أمامك ،

(١) هضبة

(٢) مدينة

(٣) دولة

(٤) دائرة

(ب) قارن بين ، ألمانيا، والولايات المتحدة الأمريكية،

من حيث :

* أهم المدن. * علاقتهما بمصر.

٢ (أ) حدد الدولة الأولى في إنتاج ما يلي ،

(١) اللحوم الحمراء. (٢) الحديد. (٣) البترول. (٤) قصب السكر.

(ب) ما المقصود بكل من ... ؟

(١) الزراعة البسيطة. (٢) الزراعة الكثيفة.

(ج) دلل على صحة كل عبارة من العبارات الآتية ،

(١) تركز الصناعة في الدول المتقدمة. (٢) يربط مصر ونيجيريا علاقات قوية.

(٣) اعتبار جمهورية الهند شبه جزيرة. (٤) تنوع النبات الطبيعي في ألمانيا.

ثانياً التاريخ

٢ (أ) اكتب كلمة (صواب) أمام العبارة الصحيحة، وكلمة (خطأ) أمام العبارة غير الصحيحة، مع التصويب ،

(١) غادر الملك فاروق مصر قبل الموعد المحدد له. ()

(٢) وافقت الدول العربية على مشروع تقسيم فلسطين عام ١٩٤٧م. ()

(٣) تم انسحاب إسرائيل بالكامل من سيناء بعد توقيع معاهدة السلام ١٩٧٩م. ()

(٤) أصبح للمرأة حق الترشح في البرلمان وفق دستور ١٩٥٦م. ()

(ب) يم تفسر ... ؟

(١) إنشاء جامعة الدول العربية.

(٢) أهمية البترول العربي في حرب أكتوبر ١٩٧٣م.

(٣) العدوان الثلاثي على مصر عام ١٩٥٦م.



٤ (ا) ما النتائج التي ترقبت على ... ؟

(١) التعاون بين جمهورية مصر العربية ومنظمة اليونسكو.

(٢) حرب فلسطين عام ١٩٤٨م.

(٣) مؤتمر مدريد للسلام ١٩٩١م.

(ب) رتب الأحداث التاريخية الآتية من القديم إلى الحديث ،

• نشأة الأمم المتحدة. • إصدار ما عرف بـ «الدستور الدائم لمصر».

• مجلس شورى النواب. • اغتيال الرئيس السادات.

(ج) ما رأيك في ... ؟

(١) قرار تأميم شركة قناة السويس عام ١٩٥٦م.

(٢) الدعم العربي أثناء حرب أكتوبر ١٩٧٣م.

ب- رأي أنها مبادرة عظيمة لأنها أنهت سلسلة طويلة من الحروب بين مصر وإسرائيل وأعدت الأراضي المحتلة إلى مصر بالسلام.

ج- لمن تتسبب الأعمال: ١- الخديو إسماعيل ٢- الرئيس الأمريكي كارتر

(النموذج الثالث)

أولاً الجغرافيا: السؤال الأول: أ- أمامك خريطة صماء لدول البرازيل:

١- هضبة البرازيل ٢- راودي جانيرو ٣- بوليفيا ٤- مدار الجدي

ب- قارن بين: ألمانيا والولايات المتحدة الأمريكية ونيجيريا:

| وجه المقارنة | ألمانيا | الولايات المتحدة الأمريكية |
|-----------------|---|---|
| أهم المدن | برلين: العاصمة السياسية للدولة يبلغ عدد سكانها نحو ٣,٤ مليون نسمة. ميونخ: عاصمة إقليم بافاريا جنوب ألمانيا * يوجد بها مقر عدد من الشركات والمصانع الألمانية المهمة هامبورج: أهم موانئ ألمانيا - قريبة من بحر الشمال | واشنطن: تطل على المحيط الأطلنطي هي العاصمة السياسية. نيويورك: ميناء هام تطل على المحيط الأطلنطي بها مقر الأمم المتحدة. شيكاغو: أكبر مدن السهول الوسطي تقع على بحيرة متشجن سان فرانسيسكو: أكبر الموانئ الأمريكية على ساحل المحيط الهادي |
| العلاقات مع مصر | علاقات ثقافية وعلمية بين البلدين تمثل في هيئة التبادل العلمي الألمانية والجامعة الألمانية بالقاهرة ومعهد الآثار الألماني وغيرها. * توجد العلاقات الاقتصادية مثل تمويل ألمانيا لمحطات توليد الكهرباء من الرياح * تصدر مصر إلى ألمانيا البترول والغاز الطبيعي والملابس وغيرها من المنتجات وتستورد مصر من ألمانيا الصناعات الكيماوية والآلات والسيارات | العلاقات قوية بين البلدين حيث توجد اتفاقيات بين البلدين اقتصادية وتكنولوجيا وثقافياً وعلمياً. توجد اتفاقيات تجارية في منطقة التجارة الحرة و اتفاقية الكويز . تستورد مصر : منتجات تكنولوجيا حثيثة ، أسلحة ، طائرات . |

السؤال الثاني: أ- حدد الدولة الأولى في إنتاج ما يلي:

١- اللحوم/ الصين ٢- الحديد / الصين ٣- البترول / السعودية ٤- قصب السكر/ البرازيل

ب- ما المقصود بكل من:

١- الزراعة البسيطة: زراعة تنتشر في المناطق الحارة على هوامش الغابات الاستوائية وحشائش المسافانا ويستخدم فيها الأدوات البدائية وتتميز بضيق المساحات المزروعة وتباعدها عن بعضها.

٢- الزراعة الكثيفة: زراعة الأرض أكثر من مرة خلال العام لإشباع حاجة السكان المحليين من الغذاء.

ج- لعل على صحة العبارات: ١- ارتفاع مستوى المعيشة والتقدم الاقتصادي - استهلاكها لـ ٨٥% من معادن العالم.

٢- حيث تصدر مصر إلى نيغيريا كلاً من: الأسمدة والمعدات الثقيلة والأسلاك النحاسية والإطارات والمحولات الكهربائية ومواسير الألمونيوم وتتحضر الواردات المصرية في السلع الزراعية وأهمها الحبوب الزيتية.

٣- لأن الماء يحيط بها من جميع الجهات ما عدا الجهة الشمالية. فمن الشرق والجنوب الشرقي خليج البنغال والغرب والجنوب الغربي البحر العربي.

٤- حيث تنمو الحشائش في السهل الألعالي الشمالي وتنمو الغابات الصنوبرية في المرتفعات الوسطى أما الأجزاء الجنوبية على منحدرات جبال الألب تنمو الغابات النفضية والغابات الصنوبرية.

ثانياً التاريخ

السؤال الثالث: أ- ضع علامة (√) أو علامة (X):

١-√ X رفضت التقسيم ٢-√-٣ ٣-√-٤

ب- بم تفسر: ١- تسويق العلاقات بين الدول العربية - تسويق الخطط السياسية والاجتماعية والثقافية - التعاون وحماية الأمن القومي العربي - صيانة وحماية استقلال الدول العربية - تعزيز العمل العربي المشترك في جميع المجالات.

٢- حيث استخدمته الدول العربية كسلاح للضغط على الدول المساندة لإسرائيل فأجتمع وزراء النفط العربي في الكويت وقرروا: أ- خفض إنتاج الدول العربية من البترول ب- حظر تصدير البترول للولايات المتحدة الأمريكية والدول الأوروبية المساندة لإسرائيل.

٣- ١- مساندة حركات التحرر الوطني في الجزائر ضد الاستعمار الفرنسي. ٢- تأميم قناة السويس ٢٦ يوليو ١٩٥٦

٣- عقد حكومة الثورة في مصر صفقة الأسلحة الشرقية مع الاتحاد السوفيتي علم ١٩٥٥ م.

السؤال الرابع: أ- ما النتائج المترتبة على: ١- إنقاذ معابد أبو سميل من الغرق علم ١٩٦٤ م، إحياء مكتبة الإسكندرية عام ٢٠٠٢ م.

٢- هزيمة العرب و استيلاء إسرائيل على كل أراضي فلسطين ما عدا: قطاع غزة أصبح تحت إدارة مصرية، الضفة الغربية بها قوات أردنية وتم تقسيم لقتل بين العرب واليهود.

٣- حدوث مفاوضات التمسك بالمصرية بين دولة إسرائيل ومنظمة التحرير الفلسطينية في مدينة أوسلو النرويجية وأسفرت عن توقيع اتفاقية أوسلو علم ١٩٩٣ م برعاية أمريكية.

ب- الترتيب: ١- شوري النواب ١٨٦٦ ٢- الأمم المتحدة ١٩٤٥ ٣- الدستور الدائم ١٩٧١ ٤- اغتيال السادات ١٩٨١ م

ج- ما رأيك في: ١- قرار عظيم حيث جعل قناة السويس ملكاً لمصر.

٢- موقف عظيم من الدول العربية وكان من أسباب النصر في حرب أكتوبر.

(النموذج الرابع)

أولاً الجغرافيا: السؤال الأول: أ- أمامك خريطة لنيجيريا:

١- خليج غينيا ٢- دولة بنين ٣- دولة النيجر ٤- نهر النيجر

ب- ما مدى صحة العبارات التالية: ١- العبارة صحيحة: لأن النشاط الزراعي من الأنشطة الهامة حيث يمثل مصدراً رئيسياً لغذاء الإنسان - يعد مصدراً للمادة الخام المستخدمة في الصناعة مثل القطن والكتان والمطاط - يرتبط به تربية الحيوان.

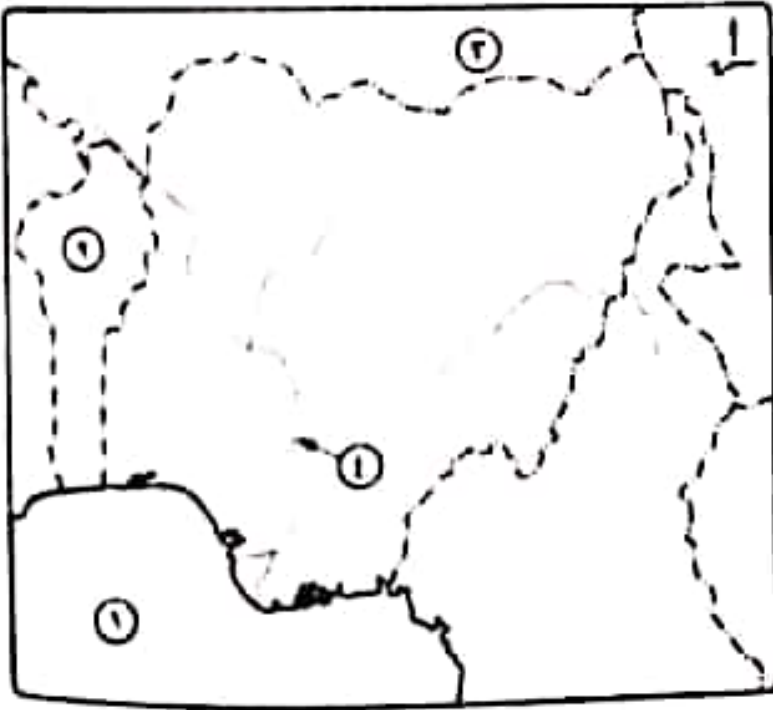
٢- عبارة صحيحة: حيث تتوفر الأراضي الخصبة حول نهر المسيسيبي والجنوب الشرقي وجوانب المرتفعات والوادي الأوسط من ولاية كاليفورنيا.

٣- عبارة صحيحة: حيث تتوفر بسواحل شمال غرب أوروبا العوامل التي تساعد على تطور حرفة الصيد ومنها ضخالة المياه الساحلية وغناها بالموارد الاقتصادية، كثرة العوائل لرسو السفن، توافر الخبرات الفنية والعلمية لصناعة مراكب الصيد.

النموذج الرابع

أولاً الجغرافيا

أجب عن الأسئلة الآتية،



١ (أ) أمامك خريطة لدولة نيجيريا .

اكتب في كراسة إجابتك مدلول

الأرقام الموقعة أمامك ،

(١) خليج

(٢) دولة

(٣) دولة

(٤) نهر

(ب) ما مدى صحة العبارات الآتية ... ؟

(١) النشاط الزراعى من الأنشطة

الاقتصادية المهمة.

(٢) اتساع الأراضى الزراعية الخصبة بالولايات المتحدة الأمريكية.

(٣) سواحل شمال غرب أوروبا من أهم مناطق صيد الأسماك فى العالم.

(ج) أمامك مجموعة من المدن حدد ما تشتهر به، والدولة التى تنتمى إليها ،

(١) ساوباولو.

(٢) ميونخ.

(٣) إيبادان.

٢ (١) صوب ما تحته خط ،

- (١) تستخدم الذرة الشامية في أمريكا الشمالية كغذاء للإنسان.
 - (٢) أوروبا أكثر قارات العالم إنتاجاً للقطن.
 - (٣) أستراليا أكبر دول العالم إنتاجاً لقصب السكر.
 - (٤) قارة أوروبا أكثر قارات العالم إنتاجاً للبتروك كمصدر للطاقة.
- (ب) قارن بين ،

- (١) الهند، وألمانيا، من حيث : * الموقع الجغرافي. * مناطق التركيز السكاني.
- (٢) إقليم غرب ووسط أوروبا الصناعي، وإقليم شرق آسيا الصناعي، من حيث أهم مراكز الصناعة.

ثالثاً التاريخ

٣ (١) اكتب كلمة (صواب) أمام العبارة الصحيحة، وكلمة (خطأ) أمام العبارة غير الصحيحة، مع التصويب ،

- (١) صدر أول قانون للإصلاح الزراعي في مصر عام ١٩٥٢م. ()
- (٢) * تشكلت لجنة الوفد المركزية للسيدات عام ١٩٢٠م برئاسة هدى شعراوي. ()
- (٣) حصلت مصر على طابا بالقوة العسكرية. ()
- (٤) وافق الملك فاروق على مغادرة البلاد قبل الموعد المحدد له. ()

(ب) قارن بين ، حرب فلسطين عام ١٩٤٨م ، وحرب أكتوبر ١٩٧٣م، من حيث الأسباب.

(ج) ما المقصود بكل من ... ؟

- (١) منظمة إقليمية.
- (٢) الحياة النيابية.

٤ (١) ماذا كان يحدث إذا ... ؟

- (١) لم يصدر تصريح بلفور في عام ١٩١٧م.
- (٢) * لم تشارك مصر في منظمة الوحدة الأفريقية.

(ب) من يكون ... ؟

- (١) إعطاء إشارة البدء لحرب أكتوبر ١٩٧٣م.
- (٢) أنشأ مجلس شورى النواب ١٨٦٦م.
- (٣) * قادت ثورة ١٩٣٦م بفلسطين.

٤- حيث تنمو الحشائش في السهل الألعالي الشمالي وتنمو الغابات الصنوبرية في المرتفعات الوسطى أما الأجزاء الجنوبية على منحدرات جبال الألب تنمو الغابات النفضية والغابات الصنوبرية.

ثانياً التاريخ

السؤال الثالث: أ- ضع علامة (✓) أو علامة (X):

١- ✓ ٢- X رفضت التقسيم ٣- ✓ ٤- ✓

ب- بم نفصرو: ١- تسويق العلاقات بين الدول العربية - تسويق الخطط السياسية والاجتماعية والثقافية - التعاون وحماية الأمن القومي العربي - صيانة وحماية استقلال الدول العربية - تعزيز العمل العربي المشترك في جميع المجالات.

٢- حيث استخدمته الدول العربية كسلاح للضغط على الدول المساندة لإسرائيل فأجتمع وزراء النفط العربي في الكويت وقرروا: أ- خفض إنتاج الدول العربية من البترول ب- حظر تصدير البترول للولايات المتحدة الأمريكية والدول الأوروبية المساندة لإسرائيل.

٣- ١- مساندة حركات التحرر الوطني في الجزائر ضد الاستعمار الفرنسي. ٢- تأميم قناة السويس ٢٦ يوليو ١٩٥٦

٣- عقد حكومة الثورة في مصر صفقة الأسلحة الشرقية مع الاتحاد السوفيتي علم ١٩٥٥ م.

السؤال الرابع: أ- ما النتائج المترتبة على: ١- إنقاذ معابد أبو سميل من الغرق علم ١٩٦٤ م، إحياء مكتبة الإسكندرية عام ٢٠٠٢ م.

٢- هزيمة العرب و استيلاء إسرائيل على كل أراضي فلسطين ما عدا: قطاع غزة أصبح تحت إدارة مصرية، الضفة الغربية بها قوات أردنية وتم تقسيم القدس بين العرب واليهود.

٣- حدوث مفاوضات اتسمت بالمصرية بين دولة إسرائيل ومنظمة التحرير الفلسطينية في مدينة أوسلو النرويجية وأسفرت عن توقيع اتفاقية أوسلو علم ١٩٩٣ م برعاية أمريكية.

ب- الترتيب: ١- شوري النواب ١٨٦٦ ٢- الأمم المتحدة ١٩٤٥ ٣- الدستور الدائم ١٩٧١ ٤- اغتيال السادات ١٩٨١ م

ج- ما رأيك في: ١- قرار عظيم حيث جعل قناة السويس ملكاً لمصر.

٢- موقف عظيم من الدول العربية وكان من أسباب النصر في حرب أكتوبر.

(النموذج الرابع)

أولاً الجغرافيا: السؤال الأول: أ- أمامك خريطة لنيجيريا:

١- خليج غينيا ٢- دولة بنين ٣- دولة النيجر ٤- نهر النيجر

ب- ما مدى صحة العبارات التالية: ١- العبارة صحيحة: لأن النشاط الزراعي من الأنشطة الهامة حيث يمثل مصدراً رئيسياً لغذاء الإنسان - يعد مصدراً للمادة الخام المستخدمة في الصناعة مثل القطن والكتان والمطاط - يرتبط به تربية الحيوان.

٢- عبارة صحيحة: حيث تتوفر الأراضي الخصبة حول نهر المسيسيبي والجنوب الشرقي وجوانب المرتفعات والوادي الأوسط من ولاية كاليفورنيا.

٣- عبارة صحيحة: حيث تتوفر بسواحل شمال غرب أوروبا العوامل التي تساعد على تطور حرفة الصيد ومنها ضخالة المياه الساحلية وغناها بالموارد الاقتصادية، كثرة العوائق لرسو السفن، توافر الخبرات الفنية والعلمية لصناعة مراكب الصيد.

ج- أماهك مجموعة من المدن:

| الدولة | المدينة |
|----------|-----------|
| البرازيل | ساو باولو |
| ألمانيا | ميونخ |
| نيجيريا | إبيدان |

السؤال الثاني: أ- صوب ما فوق الخط: ١- كطف للعاشية ٢- آسيا ٣- البرازيل ٤- الغاز الطبيعي

ب- قارن بين: ١- الصنوع والألمانيا من حيث: الموقع الجغرافي - مناطق التركيز السكاني.

الهند: أ- الموقع الجغرافي: من الشمال (الصين ونيبال و بوتان) الشمال الشرقي مياتمار - للشمال الغربي باكستان -

الشرق والجنوب الشرقي خليج البنغال - الغرب والجنوب الغربي البحر العربي.

ب- مناطق التركيز السكاني: يتركز السكان في السهول الساحلية والفيضية حيث المدن الكبرى مثل بومباي ونيودلهي.

ألمانيا: أ- الموقع الجغرافي: الشمال: (البحر البلطي، الشمال، بحر الشمال) - الجنوب: (النمسا و سويسرا) -

الشرق: (بولندا والتشيك) - الغرب: (هولندا، بلجيكا، لوكسمبورج، فرنسا)

ب- مناطق التركيز السكاني: يتركز السكان في المناطق الصناعية والمدن الكبرى والسهول الفيضية.

٢- قارن بين إقليم غرب ووسط أوروبا وشرق آسيا الصاعين من حيث أهم مراكز الصناعة.

إقليم غرب ووسط أوروبا: فرنسا - ألمانيا - بريطانيا

شرق آسيا: المناطق الصناعية في الصين، دولة كوريا، بعض الجزر اليابانية مثل جزيرة هونشو.

ثانياً التلويح

السؤال الثالث، أ- ضع علامة (✓) أو علامة (X):

١- ✓ ٢- ✓ ٣- X بالتحكيم الدولي ٤- ✓

ب- قارن بين: حرب اعم ١٩٤٨م، وحرب ١٩٧٣م من حيث الأسباب:

أسباب حرب فلسطين ١٩٤٨م: نصرة وإنقاذ الشعب الفلسطيني من بطش اليهود - مساعدة الشعب الفلسطيني على

إقامة حكومة وطنيه على أرضه.

أسباب حرب أكتوبر ١٩٧٣م: رفض إسرائيل كل نداءات السلام والانسحاب من الأراضي التي احتلتها عام ١٩٦٧ -

التصميم المصري السوري على إزالة آثار نكسة ١٩٦٧م.

ج- ما المقصود بكلاً من: ١- منظمة إقليمية: منظمة تجمع عدد من الدول المستقلة التي ترتبط ببعضها بروابط معينة

مثل جامعة الدول العربية

٢- حياة نيابية: أن يقوم الشعب بانتخاب ممثلين عنه لإدارة شئون الحكم ورسن القوانين ومراقبة أعمال الحكومة.

السؤال الرابع: أ- ماذا كان يحدث إذا: ١- لم يتم إنشاء وطن قومي لليهود في فلسطين (دولة إسرائيل).

٢- لم تستضيف مصر القمة الإفريقية على أرضها مرتين ولم يتم مساعدة الدول الإفريقية على التحرر ولم يتم إقرار

الامن والسلام في القارة الإفريقية.

ب- من يكون: ١- محمد أنور السادات. ٢- الخديو إسماعيل. ٣- اللجنة العربية.

النموذج الخامس

أولاً الجغرافيا

اجب عن الأسئلة الآتية،

١ (١) أمامك خريطة لجمهورية الهند، اكتب في كراسة

إجابتك مدلول الأرقام الموقعة أمامك ،

(١) مدينة (٢) دولة

(٣) هضبة (٤) البحر

(ب) بم تفسر ... ؟

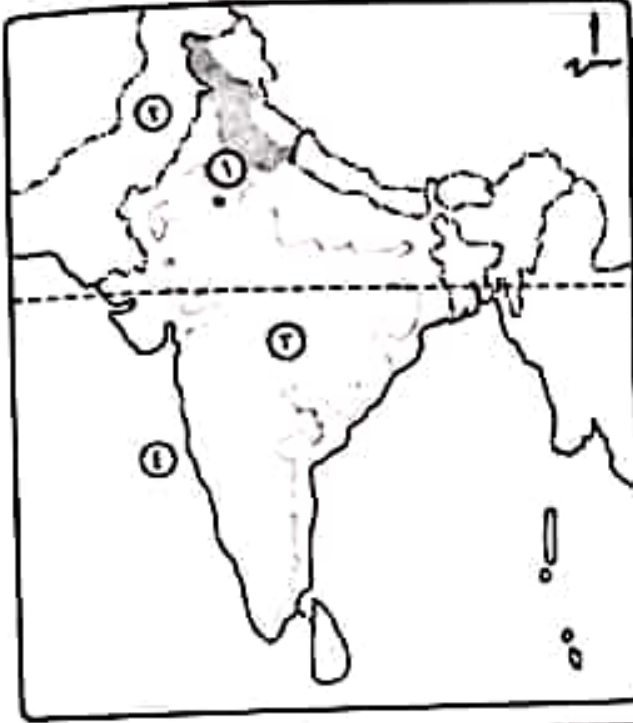
(١) إنشاء عدة مدن على هضبة البرازيل.

(٢) ينتج قصب السكر في كل قارات

العالم عدا أوروبا.

(٣) معظم الدول المنتجة للبوكسيت ليست

هي المنتجة للألومنيوم.



٢ (١) اكتب كلمة (صواب) أمام العبارة الصحيحة، وكلمة (خطأ) أمام العبارة غير الصحيحة، مع التصويب ،

(١) تمتد الولايات المتحدة الأمريكية جنوب دائرة الاستواء. ()

(٢) يعد القطن من المحاصيل المدارية. ()

(٣) تعتبر برازيليا العاصمة القديمة للبرازيل. ()

(٤) تأتي العراق في المركز الأول في الإنتاج العالمي من البترول. ()

(ب) قارن بين ، ألمانيا، ونيجيريا، من حيث :

* العاصمة السياسية. * نوع المناخ السائد. * ما تصدره مصر إليها.

(ج) حدد أولى دول العالم إنتاجاً لكل من ،

(١) القمح. (٢) الفحم.

(٣) المطاط.

ثانياً التاريخ

٢ (١) صوب ما تحته خط ،

(١) عقد المؤتمر الإسلامي عام ١٩٥٥م في باندونج.

(٢) أنهت حرب أكتوبر ١٩٧٣م حالة اللاسلم واللاحرب بين مصر وفرنسا.

(٣) اشترك في العدوان الثلاثي على مصر كل من فرنسا و الولايات المتحدة الأمريكية وإسرائيل.

(٤) أنيع أول بيان لثورة ٢٣ يوليو ١٩٥٢م باسم جمال عبدالناصر.

(ب) الى من ينسب كل عمل مما يأتى ... ؟

(١) هيئة تقوم بتقديم الاستشارات القانونية للهيئات الدولية.

(٢) أسس تنظيم الضباط الأحرار.

(٣) أنشأ مجلس شورى النواب عام ١٨٦٦م.

(١) اختر الإجابة الصحيحة مما بين القوسين :

(١) استمرت الوحدة بين مصر و حتى عام ١٩٦١م.

(اليمن - العراق - السعودية - سوريا)

(٢) وافقت هيئة الأمم المتحدة فى ١٩٤٧م على (تقسيم فلسطين -

ضم القدس للدولة اليهودية - الانتداب البريطانى على فلسطين - تقسيم السودان)

(٣) عُقد مؤتمر القمة الإسلامى عام ١٩٦٩م بمدينة

(الكويت - الرباط - الرياض - القاهرة)

(٤) استجاب الخديو إسماعيل لدعوة وأنشأ أول مدرسة لتعليم البنات ١٨٧٣م.

(رفاعة الطهطاوى - مصطفى كامل - سعد زغلول - أحمد لطفى السيد)

(ب) دلل تاريخياً على صحة كل عبارة من العبارات الآتية :

(١) شهدت مصر نهضة نسائية فى فترة ما قبل ثورة عام ١٩١٩م.

(٢) حققت مبادرة السلام للرئيس السادات عام ١٩٧٧م أهدافها.

(النموذج الخامس)

أولاً الجغرافيا: السؤال الأول: أ- أماهك خريطة للهند:

- ١- نيولهي ٢- باكستان ٣- الكن ٤- العربي

ب- يم تفسر: ١- لإعادة توزيع السكان نحو الداخل وفوق هضبة البرازيل.

٢- لأنه محصول مداري يحتاج إلى حرارة مرتفعة ومياه وفيرة بينما قارة أوروبا تقع في المنطقة المعتدلة.

٣- لأن صناعة الألمنيوم تحتاج إلى خبرات علمية وفنية وأسواق محلية وخارجية وطاقة كهربائية.

السؤال الثاني: أ- ضع علامة (✓) أو علامة (X):

- ١- X شمال الاستواء ٢- ٧ ٣- X ريودي جانيرو ٤- X المعودية.

ب- قارن بين ألمانيا وتيجيريا

| وجه المقارنة | ألمانيا | تيجيريا |
|-------------------|--|---|
| العاصمة السياسية | مدينة برلين | مدينة أبوجا |
| نوع المناخ السائد | مناخ غرب أوروبا | مناخ مداري واستوائي |
| ما تصدره مصر | البترول والغاز الطبيعي والملابس وغيرها من المنتجات | الأسمدة والمعدات الثقيلة والأسلاك النحاسية والإطارات والمحولات الكهربائية ومواسير الألمنيوم |

ج- حدد أولى دول العالم إنتاجاً لكل من: ١- الصين ٢- الصين ٣- تايلاند

ثانياً التاريخ

السؤال الثالث: أ- صوب ما تحته خط:

- ١- حركة عدم الانحياز ٢- و إسرائيل. ٣- وبريطانيا ٤- محمد نجيب

ب- لمن ينسب كل عمل: ١- محكمة العدل الدولية ٢- جمال عبد الناصر. ٣- الخديو إسماعيل

السؤال الرابع: أ- اختر من بين القوسين: ١- سوريا ٢- تقسيم فلسطين ٣- الرباط ٤- رفاة الطهطاوي

ب- دال تاريخياً: ١- حيث أنشأ الخديو إسماعيل أول مدرسة لتعليم البنات (المدرسة السنية) عام ١٨٧٣م -

ظهرت الصحافة السنانية في مصر - صدرت أول مجلة نسائية عام ١٩٠٧ وهي مجلة الريحانة على يد جميلة حافظ

وفي العام التالي تحولت إلى جريدة.

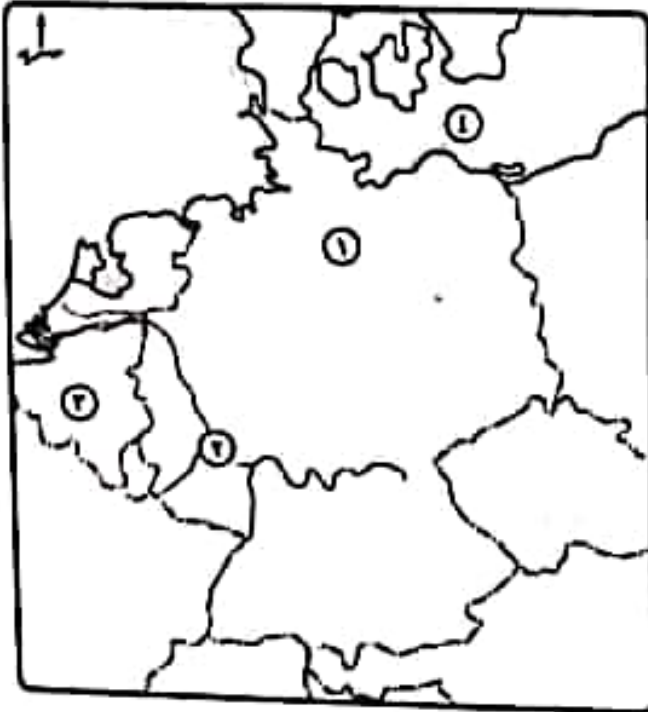
٢- حيث تم توقيع معاهدة السلام بين مصر وإسرائيل واستعادت مصر كل أراضيها بالسلام وانسحبت إسرائيل من كل

الأراضي المصرية..

النموذج السادس

أولاً الجغرافيا

أجب عن الأسئلة الآتية:



١ (١) أمامك خريطة لدولة ألمانيا ، اكتب

في كراسة إجابتك مدلول الأرقام

الموقعة أمامك :

(١) السهل

(٢) نهر

(٣) دولة

(٤) البحر

- (ب) قارن بين ،
 (١) القطن، والذرة، من حيث : * الأهمية.
 * أولى القارات المنتجة.
 (٢) * الأغنام، والأبقار، من حيث أهم دول العالم المربية.
 (ج) ماذا يحدث إذا ، لم تتوافر مقومات الصناعة في الولايات المتحدة الأمريكية ؟

- (١) اختر الإجابة الصحيحة مما بين القوسين ،
 (١) تعد قارة آسيا أولى قارات العالم إنتاجاً لـ
 (القمح - الغاز الطبيعي - الطاقة النووية - البنجر)
 (٢) يطلق على المرتفعات الشرقية بالولايات المتحدة الأمريكية اسم جبال
 (الأبلش - روكي - سيرانيغادا - كسكيد)
 (٣) تنتمي دولة نيجيريا لقارة (آسيا - أفريقيا - أمريكا الشمالية - أستراليا)
 (٤) أكبر الأقاليم الصناعية في العالم الجديد إقليم
 (غرب ووسط آسيا - شمال شرق الولايات المتحدة الأمريكية - روسيا - شرق آسيا)
 (ب) دلل على صحة كل عبارة من العبارات الآتية ،

- (١) * توسع العالم في استخدام الغاز الطبيعي كبديل لمصادر الطاقة الأخرى.
 (٢) غنى نيجيريا بمصادر الطاقة.
 (٣) تختلف الزراعة البسيطة عن الزراعة المتقدمة.

الثالث

- (١) اختر الإجابة الصحيحة مما بين القوسين ،
 (١) استمرت ثورة ٢٥ يناير ٢٠١١ م
 (إحدى عشر يوماً - ثمانية عشر يوماً - شهرًا - شهرين)
 (٢) * أحد أجهزة الأمم المتحدة والمسئول عن حفظ السلام والأمن الدوليين هو
 (الجمعية العامة - المجلس الاقتصادي والاجتماعي - مجلس الأمن - الأمانة العامة)
 (٢) تحققت أول وحدة عربية عام ١٩٥٨ م بين كل من مصر و
 (العراق - السعودية - سوريا - اليمن)
 (٤) وضعت فلسطين تحت الانتداب البريطاني طبقاً لقرارات مؤتمر
 (مدريد - باندونج - كامب ديفيد - سان ريمو)
 (ب) ما العلاقة بين ... ؟

- (١) سياسة الانفتاح الاقتصادي، والأحوال الاقتصادية في مصر قبل ثورة ٢٥ يناير ٢٠١١ م.
 (٢) حرب فلسطين، وتنظيم الضباط الأحرار.
 (ج) ماذا كان يحدث إذا ، استجابت إسرائيل لقرار مجلس الأمن رقم (٢٤٢) ؟

٤ (أ) إلى من ينسب كل عمل مما يأتي ... ؟

(١) حكم مصر قبل قيام ثورة ٢٣ يوليو ١٩٥٢م.

(٢) * قدم مبادرة لوقف إطلاق النار خلال حرب الاستنزاف.

(ب) بم تفسر ... ؟ (١) فشل العدوان الثلاثي على مصر عام ١٩٥٦م.

(٢) إنشاء مجلس المشورة.

(٣) اندلاع حرب السادس من أكتوبر ١٩٧٣م.

(ج) ما رأيك في ... ؟ (١) إنشاء جامعة الدول العربية. (٢) قرار تأميم شركة قناة السويس.

(النموذج السادس)

أولاً الجغرافيا: السؤال الأول: أ- أما مك خويطة لألمانيا:

- ١- السهل الألماني الشمالي ٢- الراين ٣- بلجيكا ٤- البلطي
ب- قارن بين:

| وجه المقارنة | أولى قارات العالم إنتاجاً | الأهمية |
|--------------|----------------------------|--|
| القطن | آسيا | يصنع منه أجود أنواع الملابس ويستخرج منه الزيوت ويصنع من مخلفاته أعلاف للحيوانات |
| الذرة | أمريكا الشمالية | يستخدم في أمريكا الشمالية كأعلاف للحيوانات |
| الأغنام | الصين ثم الهند ثم أستراليا | |
| الأبقار | الهند | |

ج- ماذا يحدث إذا: - لم تصبح القوة الاقتصادية الأولى في العالم ولا أولى الدول الصناعية السبع

السؤال الثاني: أ- اختر الإجابة من بين القوسين:

- ١- القمح ٢- الألبان ٣- إفريقيا ٤- شمال شرق الولايات المتحدة الأمريكية
ب- دال على صحة العبارات: ١- حيث يمثل نحو ٢٥% من مصادر الوقود في العالم ويستخدم في توليد الكهرباء
والصناعة والاستخدمات المنزلية ووقود للسيارات للحد من التلوث.
٢- حيث تنتج الفحم من المنطقة الشرقية وتنتج كميات كبيرة من البترول ويصل إنتاجها لحوالي ٣% من الإنتاج
العالمي وتنتج من الساحل الجنوبي الشرقي.
٣- الزراعة البسيطة: تتميز بطبق المساحة المزروعة - يصعب استخدام الآلات الزراعية بها - تمارس لإشباع
حاجات السكان من الغذاء. أما الزراعة الراقية (التجارية والعلمية) تمارس في مزارع واسعة تستخدم فيها أحدث
الآلات الزراعية - قلة الأيدي العاملة وقلة التكاليف - تهدف إلى الإنتاج التجاري الضخم مع وجود فائض للتصدير.

ثانياً التاريخ:

السؤال الثالث: أ- اختر الإجابة من بين القوسين:

- ١- ثمانية عشر يوماً ٢- مجلس الأمن ٣- سوريا ٤- سان ريمو
ب- ما العلاقة بين: ١- أدت سياسة الانفتاح الاقتصادي إلى سوء الأحوال الاقتصادية وقيام ثورة ٢٥ يناير ٢٠١١ م
٢- هزيمة الجيش المصري في حرب فلسطين ١٩٤٨ م كتي إلى تكوين تنظيم الضباط الأحرار الذي قام بثورة ٢٣
يوليو ١٩٥٢ م.

ج- ماذا كان يحدث إذا: كانت انسحبت من سيناء ولم تحدث حرب أكتوبر ١٩٧٣ م.

السؤال الرابع: أ- لمن تنسب الأعمال التالية: ١- الملك فاروق ٢- روجرز.

ب- بم تفسر: ١- بسبب شدة المقاومة صلابة القيادة وقوف جميع الدول العربية بجانب مصر - تهديد الاتحاد
السوفيتي بالتدخل لوقف العدوان - رفض الولايات المتحدة استخدام القوة في حل المنازعات - تنديد الأمم المتحدة
بالعدوان.

٢- للنظر في المسائل الإدارية. (معلومة محذوفة هذا العام)

٣- بسبب رفض إسرائيل كل نداءات السلام والانسحاب من الأراضي التي احتلتها عام ١٩٦٧ م - التصميم المصري
السوري على إزالة آثار النكسة.

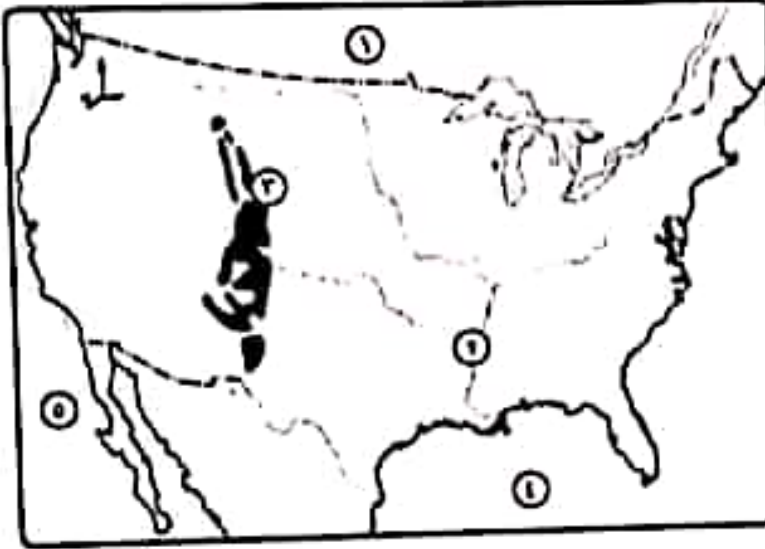
ج- ما رأيك في: ١- عمل جيد حيث أدت إلى تنسيق العلاقات والخطط بين الدول العربية في جميع المجالات.

٢- قرار عظيم حيث جعل قناة السويس ملكاً لمصر.

النموذج السابع

أولاً الجغرافيا

اجب عن الأسئلة الآتية،



١ (١) أمامك خريطة للولايات المتحدة

الأمريكية، اكتب في كراسة إجابتك مدلول الأرقام الموقعة أمامك ،

- (١) دولة (٢) نهر
 (٣) جبال (٤) خليج
 (٥) المحيط

(ب) ما النتائج المترتبة على ... ؟

- (١) الموقع الفلكي لدولة نيوجيريا.
 (٢) انتشار الديانة الهندوسية بالهند.

(ج) ما المقصود بكل من ... ؟ (١) الزراعة الكثيفة. (٢) * النشاط التعديني.

٢ (١) اختر من المجموعة (ب) ما يناسب المجموعة (١) ،

| (ب) | (١) |
|--|--------------|
| (١) أولى الدول إنتاجاً له جنوب أفريقيا. | (١) الشاي |
| (ب) كان عماد الثورة الصناعية في أوروبا أواخر القرن الـ ١٨ م. | (٢) اللحم |
| (ج) تعد أوروبا أولى قارات العالم إنتاجاً لها. | (٣) الفحم |
| (د) الصين أكبر دول العالم إنتاجاً لها. | (٤) * الطاقة |
| (هـ) الولايات المتحدة الأمريكية ثاني دول العالم إنتاجاً له. | النوية |

(ب) قارن بين ،

- (١) البترول، والغاز الطبيعي، من حيث : * الأهمية.
 (٢) ألمانيا، والبرازيل، من حيث : * العاصمة.
 * أولى القارات إنتاجاً.
 * أحد الموانئ.

(ج) أين تنتشر كل حرفة مما ياتي ... ؟ (١) صيد الأسماك. (٢) الزراعة البدائية.



التاريخ

٢ (١) اكتب كلمة (صواب) أمام العبارة الصحيحة، وكلمة (خطأ) أمام العبارة غير الصحيحة، مع التصويب،

- (١) أقر ميثاق إنشاء جامعة الدول العربية بتوقيع سبع دول عربية. ()
- (٢) * كان من العوامل الاقتصادية لقيام ثورة ٢٥ يناير ٢٠١١ ارتفاع الأسعار. ()
- (٣) استمرت حرب الاستنزاف لمدة خمس سنوات. ()
- (٤) رحبت مصر بقرار مجلس الأمن رقم (٢٣٨). ()

(ب) «شارك بصوتك ولا تكن سلبياً، شعاراً يرفعه الإعلام المصري خلال فترة الانتخابات».

هي ضوء هذه العبارة أجب عما يلي،

- (١) قارن بين : الحياة النيابية أثناء الاحتلال البريطاني، وبعد ثورة ١٩٥٢م.
- (٢) ماذا تقول لمن لا يشاركون بأصواتهم في الانتخابات ؟

٤ (١) رتب الأحداث التاريخية الآتية من القديم إلى الحديث،

- * العدوان الثلاثي على مصر. * مشروع الأمم المتحدة لتقسيم فلسطين.
- * توقيع اتفاقية أوسلو. * حرب السادس من أكتوبر.

(ب) ما المقصود بالمصطلحات الآتية ... ؟

- (١) الضباط الأحرار. (٢) الحياة النيابية. (٣) الدستور.

ثانياً التاريخ

السؤال الثالث: أ- ضع علامة (√) أو علامة (X)

١- √ ٢- √ ٣- X لمدة عامين ٤- √

١- قارن بين: الحياة النيابية في عهد الاحتلال البريطاني : كانت صورية حيث أنشأ الاحتلال البريطاني عام

١٨٨٣م مجلسين صوريين وهما مجلس شورى القوانين والجمعية العمومية ثم في عام ١٩١٣م أنشأ الجمعية التشريعية. وفي عام ١٩٢٣م صدر أول دستور لمصر الذي تضمن حرية تكوين الأحزاب وجعل السلطة التشريعية في يد البرلمان الذي تكون من مجلسين وهما مجلس النواب ومجلس الشيوخ.

بعد ثورة ١٩٥٢م: قامت الثورة بحل الأحزاب السياسية وإلغاء دستور ١٩٢٣م وصدر أول دستور بعد الثورة وهو ١٩٥٦م والذي جعل السلطة التشريعية في يد مجلس واحد هو مجلس الأمة الذي تم انتخابه عام ١٩٥٧م - وبعد ذلك أصدر الرئيس السادات الدستور الدائم لمصر عام ١٩٧١م والذي أكد على سيادة القانون واستقلال القضاء وأقر مبادئ التعددية الحزبية.

٢- أقول لهم : شارك بصوتك ولا تكن سلبياً

السؤال الرابع: أ- رتب الأحداث: ١- تقسيم فلسطين ١٩٤٧م ٢- العدوان الثلاثي ١٩٥٦م

٣- حرب السويس من أكتوبر ١٩٥٣م ٤- توقيع اتفاقية أوسلو ١٩٩٣م.

ب- ما المقصود بالمصطلحات التالية: ١- الضباط الأحرار: مجموعة من ضباط الجيش تزعمهم جمال عبد الناصر رأوا ضرورة القيام بثورة تقضي على الفساد وتحرر الوطن من الاستعمار.

٢- الحياة النيابية: أن يقوم الشعب بانتخاب ممثلين عنه لإدارة شؤون الحكم في البلاد ومن القوانين ومراقبة أعمال الحكومة.

٣- الدستور: الوثيقة الرسمية التي تحدد نظام الحكم في الدولة وتحدد شكل واختصاصات المؤسسات المختلفة.

النموذج الثامن

أولاً الجغرافيا

أجب عن الأسئلة الآتية،



١ (أ) أمامك خريطة لقارات العالم القديم ، اكتب في

كراسة إجابتك مدلول الأرقام الموقعة عليها ،

(١) * أولى دول العالم في تربية الأغنام

(٢) من أهم الدول الآسيوية المنتجة للقطن

(٣) أولى دول العالم إنتاجاً للبترول

(٤) قارة تتركز بها زراعة البنجر

(ب) قارن بين ، الزراعة البدائية، والزراعة التجارية والعلمية، من حيث :
* مناطق الانتشار. * أهم الخصائص.

(ج) استخراج الكلمة المخالفة مما يلي واكتبها في كراسة إجابتك، مع ذكر السبب ،
(١) واشنطن - هامبورج - نيويورك - شيكاغو.
(٢) حيدر أباد - نيودلهي - نيويورك - بومباي.

٢ (١) صوب ما تحته خط ،

(١) يطلق على المرتفعات الشرقية بالولايات المتحدة الأمريكية اسم جبال روكي.
(٢) يشكل الفحم وطاقة الرياح نحو ٥٥٪ من الطاقة المستخدمة في العالم.

(ب) بم تفسر ... ؟

(١) قلة السكان في دلتا النيجر.
(٢) * تنوع المناخ في الولايات المتحدة الأمريكية.
(٣) تحتل الصين المركز الأول في إنتاج الأسماك.
(٤) * يعد النشاط الزراعي من الأنشطة الاقتصادية الأساسية في العالم.

٣ التاريخ

٢ (١) اكتب ما تشير إليه كل عبارة من العبارات الآتية ،

(١) قانون صدر للقضاء على الإقطاع بتحديد الملكية الزراعية في سبتمبر ١٩٥٢م.
(٢) منظمة متخصصة في المجال الزراعي للقضاء على الجوع ومساعدة البلدان النامية.
(٣) خط عسكري منيع حطمته القوات المصرية في حرب أكتوبر ١٩٧٣م.
(٤) تصريح أصدرته بريطانيا يتضمن إنشاء وطن قومي لليهود في فلسطين ١٩١٧م.

(ب) دلل على صحة كل عبارة من العبارات الآتية ،

(١) لفلسطين أهمية خاصة في قلب كل عربي.
(٢) الأمم المتحدة منظمة عالمية في أهدافها.
(٣) لمنظمة اليونسكو دور ثقافي رائد في مصر.



٤ (١) اكتب كلمة (صواب) أمام العبارة الصحيحة، وكلمة (خطأ) أمام العبارة غير الصحيحة.

مع التصويب :

- () (١) ظهرت أول مجلة نسائية مصرية عام ١٩٠٧م تحت عنوان الريحانة.
- () (٢) نصت معاهدة السلام ١٩٧٩م على التطبيق الكامل لقرار مجلس الامن الدولي رقم ٢٤٢
- () (٣) * شاركت مصر في تأسيس الاتحاد الأفريقي وعُقد بها أول قمة أفريقية.
- () (٤) من الإنجازات الاجتماعية لثورة ٢٣ يوليو ١٩٥٢م مساندة الدول العربية في الحصول على الاستقلال.

(ب) ما النتائج التي ترتبت على ... ؟

- (١) * هزيمة الدول العربية في عدوان ٥ يونيو ١٩٦٧م.
- (٢) * وضع فلسطين تحت الانتداب البريطاني.
- (٣) قيام حكومة ثورة ٢٣ يوليو ١٩٥٢م ببناء السد العالي.

النموذج التاسع

أولاً الجغرافيا

اجب عن الأسئلة الآتية،



- ١ (أ) أمامك خريطة للأمريكتين ، اكتب في كراسة
اجابتك مدلول الأرقام الموقعة عليها ،
(١) ثانی قارات العالم إنتاجاً للقطن
(٢) أكبر دول أمريكا الجنوبية مساحة
(٣) أولى دول العالم إنتاجاً للغاز الطبيعي
(٤) المحيط

(ب) بم تفسر... ؟

- (١) تركز زراعة البنجر في قارة أوروبا.
(٢) * قلة عدد السكان في البرازيل رغم أنهم
يمثلون نصف سكان أمريكا الجنوبية.
(٣) تُعد الولايات المتحدة الأمريكية القوة الأولى اقتصادياً في العالم.

(ج) ماذا يحدث إذا ، لم تنتشر الديانة الهندوسية في الهند ؟

٢ (١) حدد القارة الأولى في إنتاج ما يلي :

(١) الفحم. (٢) الطاقة النووية. (٣) الذرة.

(ب) قارن بين : نيجيريا، والولايات المتحدة الأمريكية، من حيث :

* مناطق التركيز السكاني. * المناخ.

(ج) ما النتائج المترتبة على ... ؟

(١) تحيط الهند محيطات وخليجان بجبهات ساحلية طويلة.

(٢) توافر الموارد المعدنية والزراعية بالبرازيل.

الثالث التاريخ

٢ (١) أعد كتابة العبارات الآتية بعد تصويب ما تحته خط :

(١) أدى توقيع معاهدة ١٩٢٦م إلى الاستقلال الحقيقي لمصر.

(٢) وافقت هيئة الأمم المتحدة عام ١٩٤٧م على تقسيم السودان

(٣) تعرف المرحلة الثانية من إعادة بناء القوات المسلحة عقب عدوان عام ١٩٦٧م

بالحرب الإلكترونية.

(٤) تم التوقيع على ميثاق الجامعة العربية في مارس ١٩٤٥م بعدد خمس دول عربية.

(ب) بم تفسر ... ؟

(١) مشاركة مصر بفاعلية في مؤتمر مدريد للسلام ١٩٩١م.

(٢) يُعد مجلس الأمن أهم أجهزة الأمم المتحدة.

(٣) فشل العدوان الثلاثي على مصر ١٩٥٦م.

٤ (١) اشتكرت ثورتى مصر (٢٣ يوليو ١٩٥٢م و ٢٥ يناير ٢٠١١م) في هدف أساسى هو

القضاء على الفساد وتحقيق العدالة الاجتماعية. في ضوء العبارة السابقة وضع :

(١) سببين لكل من ثورة ٢٣ يوليو ١٩٥٢م ، وثورة ٢٥ يناير ٢٠١١م.

(٢) * نتائج ثورة ٣٠ يونيو ٢٠١٣م.

(ب) رتب الأحداث التاريخية الآتية من القديم الى الحديث :

* إنشاء جامعة الدول العربية.

* إعلان قيام الجمهورية فى مصر.

* انتصار مصر على إسرائيل فى حرب أكتوبر.

* تأميم شركة قناة السويس.

* حصار القوات الإنجليزية لقصر عابدين.

(النموذج التاسع)

أولا الجغرافيا: السؤال الأول، أ- أمامك خريطة للأمريكتين:

- ١- أمريكا الشمالية ٢- دولة البرازيل ٣- الولايات المتحدة الأمريكية ٤- الهادي

ب- يم تفسر: ١- بسبب ملائمة التربة والمناخ لشروط زراعته.

٢- بسبب مساحتها الواسعة ووجود مناطق تكاد تكون شبه خالية مثل سهول الأمازون.

٣- بسبب تنوع الموارد الطبيعية بها وتعدد الأنشطة الاقتصادية وضخامة الإنتاج الاقتصادي بها.

ج- ماذا يحدث إذا، ترتفع القيمة الاقتصادية للأبقار في الهند وتصبح أولى دول العالم في إنتاج اللحوم.

السؤال الثاني: أ- حدد القارة الأولى في الإنتاج:

- ١- الفحم / آسيا ٢- الطاقة النووية / أوروبا ٣- الذرة / أمريكا الشمالية.

ب- قارن بين: نيجيريا والولايات المتحدة الأمريكية

| وجه المقارنة | نيجيريا | الولايات المتحدة الأمريكية |
|-----------------------|----------------------------|--|
| مناطق التركيز السكاني | في الغرب والشمال وهضبة جوس | إقليم نيو انجلند (الشمال الشرقي) و السهول الوسطى و الغرب |
| المناخ | مداري واستوائي | يتنوع المناخ بسبب اتساع المساحة وتنوع التضاريس |

ج- ما النتائج المترتبة على: ١- زيادة إنتاج الهند من الأسماك ٢- تنم الصناعة في دولة البرازيل.

ثانياً التاريخ

السؤال الثالث: أ- صوب ما تحته خط: ١- استقلال صوري ٢- فلسطين ٣- حرب الاستنزاف ٤- ٧ دول

ب- يم تفسر: ١- لحل الصراع العربي الإسرائيلي على ضوء قرارات الأمم المتحدة وعلى أساس مبدأ الأرض مقابل السلام.

٢- لأنه المعنول عن حفظ السلام والأمن الدوليين وسلطته قانونية على حكومات الدول الأعضاء.

٣- بسبب شدة المقاومة صلابة القيادة- وقوف جميع الدول العربية بجانب مصر- تهديد الاتحاد السوفيتي بالتدخل لوقف العدوان - رفض الولايات المتحدة استخدام القوة في حل المنازعات- تنديد الأمم المتحدة بالعدوان.

السؤال الرابع: أ- أجب عما يلي: ١- سبب لثورة ٢٣ يوليو ١٩٥٢م: استمرار الاحتلال البريطاني وتدخله في

شئون مصر الداخلية - هزيمة الجيش المصري في حرب فلسطين ١٩٤٨م.

سبب لثورة ٢٥ يناير: تدهور الأحوال الاقتصادية أواخر عهد مبارك - تدهور الأحوال الصحية والخدمية والتعليمية

٢- عزل محمد مرسي وتكليف المستشار علي منصور بإدارة البلاد لحين إجراء الانتخابات- إصدار الدستور الجديد

لمصر في يناير ٢٠١٤م - أجريت الانتخابات الرئاسية وفاز فيها المرشح عبد الفتاح السيسي.

ب- رتب الأحداث: حصار القوات الإنجليزية لقصر عابدين - إنشاء جامعة الدول العربية - إعلان قيام الجمهورية في

مصر - تأميم قناة السويس - انتصار مصر على إسرائيل في حرب أكتوبر.

النموذج العاشر

اجب عن الأسئلة الآتية، **أولاً** الجغرافيا

١ (١) أمامك خريطة للعالم، اكتب في كراسة إجابتك مدلول الأرقام الموقعة عليها،

(١) أولى دول العالم إنتاجاً للقمح



(٢) أشهر دول العالم إنتاجاً للأصواف

من أغنام المارينو

(٣) أكبر دول أمريكا الجنوبية

مساحة

(٤) أكبر دول العالم إنتاجاً

للبنترول

(ب) اذكر أهمية كل مما يأتي،

(١) المطاط. (٢) النحاس. (٣) الغاز الطبيعي.

(ج) ما النتائج المترتبة على ... ؟

(١) اتساع مساحة الولايات المتحدة الأمريكية.

(٢) وجود البنترول في دول الخليج العربي.

٢ (١) اكتب كلمة (صواب) أمام العبارة الصحيحة، وكلمة (خطأ) أمام العبارة غير الصحيحة،

مع التصويب،

(١) من أهم المناطق الصناعية في إقليم روسيا وأوكرانيا جزيرة هنشو. ()

(٢) تحتل البرازيل المركز الأول في تربية الدواجن. ()

(٣) القطن من محاصيل الألياف التي يتركز إنتاجها في قارة آسيا. ()

(٤) يتركز سكان نيجيريا في الشمال. ()

(ب) قارن بين،

(١) ألمانيا، والبرازيل، من حيث :

* القارة التي تنتمي إليها. * العاصمة. * ما تستورده مصر منها.

(٢) أحد المحاصيل الغذائية، وأحد محاصيل الألياف، من حيث أهم دول الإنتاج.

ثانياً التاريخ

٣ (١) اختر الإجابة الصحيحة مما بين القوسين ،

- (١) من أهم إنجازات ثورة ٢٣ يوليو ١٩٥٢م فى المجال الاجتماعى
- (إلغاء الملكية - حل الأحزاب السياسية - مجانية التعليم - إنشاء السد العالى)
- (٢) يوجد مقر الأمانة العامة للأمم المتحدة فى مدينة
- (جنيف - روما - لندن - نيويورك)
- (٣) أعطى الرئيس إشارة بدء حرب ١٩٧٣م.
- (محمد نجيب - جمال عبدالناصر - السادات - مبارك)
- (٤) * امتنعت عن التصويت على مشروع تقسيم فلسطين عام ١٩٤٧م.
- (فرنسا - الولايات المتحدة - بريطانيا - الاتحاد السوفيتى)

(ب) ما النتائج التى ترتبت على ... ؟

- (١) قرار محكمة العدل الدولية فى مارس ١٩٨٩م.
- (٢) إنشاء منظمة الصحة العالمية.
- (٣) انهيار خط بارليف.

٤ (١) من أكون ... ؟

- (١) أنا أهم أجهزة الأمم المتحدة المسئول عن حفظ الأمن والسلام الدوليين.
- (٢) * قدمت مبادرة عرفت باسمى لوقف حرب الاستنزاف بين مصر وإسرائيل.
- (٣) أنا من أذاع أول بيان لثورة ٢٣ يوليو ١٩٥٢م.
- (٤) قمت بإصدار أول مجلة نسائية مصرية (الريحانة) ١٩٠٧م.

(ب) عبر برأيك فيما يلى ،

- (١) موقف الدول العربية أثناء حرب أكتوبر عام ١٩٧٣م.
- (٢) موقف الجيش المصرى فى ثورة ٢٥ يناير ٢٠١١م.
- (٣) * إنجازات ثورة ٢٣ يوليو ١٩٥٢م فى المجال العربى والدولى.

(النموذج العاشر)

أولا الجغرافيا: السؤال الأول: أ- أماهك خريطة للعالم:

- ١- الصين ٢- استراليا ٣- البرازيل ٤- السعودية
 ب- أذكر أهمية كل من: ١- العطاء: صناعة إطارات السيارات. ٢- النحاس: صناعة الأسلاك والأدوات الكهربائية.
 ٣- الغاز الطبيعي: يمثل ٢٥% من مصادر الوقود في العالم - يستخدم في توليد الكهرباء - يستخدم في الصناعة والاستخدامات المنزلية - يستخدم كوقود للسيارات للحد من التلوث.
 ج- ما النتائج المترتبة على: ١- تنوع التضاريس - تنوع المناخ - تنوع النبات الطبيعي.
 ٢- ارتفاع المستوى الاقتصادي والاجتماعي لدول الخليج العربي - أصبحت من المراكز الصناعية الحديثة في العالم التي تعتمد على الصناعات البترولية.

السؤال الثاني: أ- ضع علامة (✓) أو علامة (X) مع التصويب

- ١- إقليم شرق آسيا X ٢- الولايات المتحدة الأمريكية ✓
 ب- قارن بين: ١- ألمانيا والبرازيل

| | | |
|----------------|--------------------------------------|--|
| وجه المقارنة | ألمانيا | البرازيل |
| القارة | أوروبا | أمريكا الجنوبية |
| العاصمة | برلين | برازيليا |
| ما تستورده مصر | الآلات والسيارات والصناعات الكيماوية | اللحوم والحديد و البن والسكر و المحاصيل الزيتية مثل السمسم |

٢- أحد المحاصيل الغذائية وأحد المحاصيل النسيجية

| | | |
|-----------------|---|--------------------------------------|
| وجه المقارنة | القطن | القمح |
| الأهمية | يصنع منه أجود أنواع الملابس - يصنع منه الزيوت - تستخدم مخلفاته كعلف للحيوانات | يصنع منه الخبز - المكرونه - الحلويات |
| أهم دول الإنتاج | الصين - الهند | الصين - الهند |

ثانياً التاريخ

السؤال الرابع: أ- اختر الإجابة من بين القوسين:

- ١- مجانية التعليم ٢- نيويورك ٣- السادات ٤- بريطانيا
 ب- ما النتائج المترتبة على:
 ١- عودة مدينة طابا إلى السيادة المصرية - وبذلك استعادت مصر آخر جزء من أراضيها.
 ٢- نشر الرعاية الصحية بين دول العالم وحماية مياه الشرب من التلوث.
 ٣- انتهاء نظرية الأمن الإسرائيلي و استطاعت مصر الانتصار في حرب أكتوبر وتحطيم أسطورة الجيش الإسرائيلي الذي لا يقهر.

السؤال الرابع: أ- من أكون:

- ١- مجلس الأمن ٢- روجرز ٣- محمد أنور السادات ٤- جميلة حافظ
 ب- عبّر بـ رأيك:
 ١- موقف رائع حيث أن مساعدات الدول العربية أدت إلى الانتصار في حرب أكتوبر.
 ٢- موقف عظيم حيث أثبتت أحداث الثورة أن الجيش قوة مساندة للشعب وليس أداة لقمع المتظاهرين وأنه الضامن الحقيقي لنجاح ثورة ٢٥ يناير.
 ٣- إنجازات رائعة حيث ساهمت ثورة ٢٣ يوليو في تحرير الكثير من الدول العربية والإفريقية كما ساهمت في تشكيل حركات سياسية مازت موجودة حتى الآن مثل حركة عم الاحتياز وكسرت احتكار السلاح العملي.