

### الاختبار الأول



#### ١ أ أمامك خريطة صماء لمصر لاحظها ثم أجب:

- ١ - يشير رقم (١) للبحر .....
- ٢ - يشير رقم (٢) لجبل .....
- ٣ - يشير رقم (٣) لأحد عناصر الخريطة وهو .....
- ٤ - اختر: يشير رقم (٤) لمحافظة (الوادي الجديد - دمياط - البحر الأحمر - مطروح)
- ٥ - صواب أم خطأ: يشير رقم (٥) لمفتاح الخريطة. ( )

#### ب أعط مثالًا واحدًا لكل من:

- ١ - حقوق الأطفال.
- ٢ - أدوات قياس الطقس.

#### ٢ أ اكتب كلمة (صواب) أمام العبارة الصحيحة، وكلمة (خطأ) أمام العبارة غير الصحيحة:

- ١ - أشاد الدكتور طه حسين بموقع مصر الجغرافي في كتابه «شخصية مصر». ( )
- ٢ - تُعد النقوش الأثرية من المصادر الأولية للمعلومات التاريخية. ( )
- ٣ - تصنع الخلايا الشمسية من الرمال البيضاء. ( )
- ٤ - يشرف بنك مصر على جميع البنوك المصرية. ( )
- ٥ - لحن سيد درويش النشيد الوطني لمصر. ( )
- ٦ - مبادرة اتحضر للأخضر إحدى مبادرات الدولة لتحقيق الحياة المستدامة. ( )

#### ب ماذا كان يحدث إذا؟:

- ١ - لم تُنشئ الدولة البنوك.
- ٢ - كان مناخ مصر حارًا وممطرًا طول العام.

#### ٣ أ اختر الإجابة الصحيحة مما بين القوسين:

- ١ - "احتلت بريطانيا مصر لفترة من الزمن" ترتبط العبارة بأحد ألوان علم مصر وهو .....  
(الأصفر - الأحمر - الأسود - الأبيض)
- ٢ - المتحف المصري الكبير يعد من الخدمات .....  
(الثقافية - الصحية - التعليمية - الأمنية)
- ٣ - مؤسس بنك مصر هو .....  
(طه حسين - محمد يونس القاضي - جمال حمدان - محمد طلعت حرب)



- ٤ - أحد أسباب تلوث الهواء .....
- (دخان المصانع - زراعة النباتات - استخدام الدراجات - الصرف الصحي)
- ٥ - "مرسى علم أجمل المدن الساحلية في مصر" تعبر العبارة السابقة عن .....
- (رأي - خبر - حقيقة - ادعاء)

### ب فسر العبارات الآتية:

- ١ - أهمية الخريطة للجيش.
- ٢ - قامت الدولة بإنشاء العاصمة الإدارية الجديدة.

### ٤ ١ أكمل العبارات التالية بما يناسبها:

- ١ - المساحة الواسعة من الأرض المرتفعة مستوية أو شبه مستوية تسمى .....
- ٢ - تنص اتفاقية حقوق الطفل على حقه في المشاركة برأيه والحماية و.....
- ٣ - تقع مصر في الركن الشمالي الشرقي من قارة .....
- ٤ - مؤسس مدينة القاهرة هو القائد .....
- ٥ - يمر نهر النيل في البيئة .....
- ٦ - المبادرة التي تهتم بالكشف المبكر عن الأمراض والصحة العامة للمصريين هي .....

### ب قارن بين كل من:

- صناعة الخيامية وصناعة النسيج والسجاد اليدوي من حيث: أهم الخامات وأهم المراكز.

## الاختبار الثاني

٣٠

### ١ ١ أمامك خريطة صماء لمصر لاحظها ثم أجب:



- ١ - يشير رقم (١) لأحد عناصر الخريطة وهي .....
- ٢ - يشير رقم (٢) للبيئة .....
- ٣ - يشير رقم (٣) لأكبر محافظات مصر وهي .....
- ٤ - يشير رقم (٤) لقناة .....
- ٥ - صواب أم خطأ: يشير رقم (٥) لقرية جراح بالدقهلية التي تشتهر بصناعة الزجاج التراثية.
- ( )

### ب اكتب عملاً واحداً لكل من:

- ١ - جواهر الصقلي.
- ٢ - محمد طلعت حرب باشا.

### ٢ ١ اكتب كلمة (صواب) أمام العبارة الصحيحة، وكلمة (خطأ) أمام العبارة غير الصحيحة:

- ١ - أدى حفر قناة سيزوستريس لزيادة أهمية موقع مصر الجغرافي حديثاً. ( )
- ٢ - معرفة أحوال طقس محافظتك يساعدك في اختيار ملابسك. ( )



- ٣ - يدل النسر في علم مصر على قوة مصر وعراقة حضارتها. ( )
- ٤ - تنص اتفاقية الطفل على أن كل طفل له حق الرعاية والحماية والمشاركة. ( )
- ٥ - تلون خريطة مستويات ارتفاعات سطح مصر بلون واحد. ( )
- ٦ - ينتمي منخفض الفيوم للبيئة الزراعية. ( )

ب ما المقصود بكل من؟:

- ١ - السلع. ٢ - الحياة المستدامة.

٣ ا اختر الإجابة الصحيحة مما بين القوسين:

- ١ - يمكننا التقاط الصور الجوية باستخدام .....  
(المحطات الفضائية - الطائرات - الأقمار الصناعية - الغواصات)
- ٢ - مورد طبيعي يتعرض للنفاذ نتيجة الإسراف في استخدامه .....  
(التربة - الشمس - البترول - الهواء)
- ٣ - قام بتلحين النشيد الوطني لمصر .....  
(سيد درويش - أحمد شوقي - جمال حمدان - طه حسين)
- ٤ - تستخدم مادة الطين في صناعة .....  
(الزجاج - الفخار - الخيامية - النسيج)
- ٥ - يستخدم الأنيمومتر في قياس .....  
(كمية الأمطار - سرعة الرياح - اتجاه الرياح - درجة الحرارة)

ب أجب عما يلي:

- ١ - اكتب دليلاً واحداً على اهتمام الدولة المصرية بالطفل المصري.
- ٢ - اكتب نتيجة واحدة ترتبت على: حفر قناة السويس الجديدة؟

٤ ا أكمل العبارات التالية بما يناسبها:

- ١ - لوحة نعمر (ميناء) من المصادر .....
- ٢ - عند كتابة بحث عن أهمية موقع مصر الجغرافي يمكنك الاستعانة بمؤلفات الجغرافي .....
- ٣ - توفير سيارات الإسعاف يُعد من الخدمات .....
- ٤ - تنقسم مصر إلى عدة محافظات بسبب اتساع .....
- ٥ - اللون المعبر عن النضال ودماء الشهداء في علم مصر هو اللون .....
- ٦ - تنتشر المنخفضات في مصر بالصحراء .....

ب ما الفرق بين: الرغبات والحاجات؟



## الاختبار الثالث

٣٠



## ١ أ أمامك خريطة صماء لمصر لاحظها ثم أجب:

- ١ - اختر: توجد قرية الحرائية في المحافظة رقم .....  
( ١ - ٢ - ٥ - ٦ )
- ٢ - صوب: يشير رقم (٢) للقناطر الخيرية.
- ٣ - يشير رقم (٣) إلى .....
- ٤ - يشير رقم (٤) لمحافظة .....
- ٥ - صواب أم خطأ: يشير رقم (٦) لجبل العوينات. ( )

## ب اكتب دليلاً واحداً على ما يلي:

- ١ - تقدم مصر العديد من الخدمات الصحية للمواطنين.
- ٢ - يختلف مناخ مصر عن بعض دول وسط إفريقيا.

## ٢ أ اكتب كلمة (صواب) أمام العبارة الصحيحة، وكلمة (خطأ) أمام العبارة غير الصحيحة:

- ١ - اهتم محمد يونس القاضي بدراسة أهمية موقع مصر الجغرافي. ( )
- ٢ - النقوش على جدران المعابد من المصادر الأولية. ( )
- ٣ - جزيرة شدون يحيط بها الماء من جميع الجهات. ( )
- ٤ - تعقد الدولة البرامج التدريبية لإحياء الحرف التراثية. ( )
- ٥ - ألف سيد درويش النشيد الوطني لمصر. ( )
- ٦ - أنشأت الدولة محطة الكريما في الجيزة لتوليد الكهرباء من الرياح. ( )

## ب ما النتائج المترتبة على؟:

- ١ - زيادة الضغط السكاني في القاهرة.
- ٢ - اهتمام الدولة بذوي الاحتياجات الخاصة.

## ٣ أ اختر الإجابة الصحيحة مما بين القوسين:

- ١ - المساحة الواسعة من الماء المالح ذات الأعماق الكبيرة تسمى .....  
(القارة - المحيط - البحيرة - المنخفض)
- ٢ - بناء الجامعات والمعاهد من الخدمات .....  
(الصحية - الأمنية - التعليمية - البيئية)
- ٣ - يساعدنا جوب الرياح في تحديد .....  
(درجة الحرارة - اتجاه الرياح - كمية المطر - سرعة الرياح)



- ٤ - أطلقت الدولة المصرية مبادرة لحماية البيئة وهي مبادرة .....
- (اتحضر للأخضر - حياة كريمة - قادرون باختلاف - نور حياة)
- ٥ - حُفرت قناة سيزوستريس في عهد الملك .....
- (خوفو - سنوسرت الثالث - منكاورع - رمسيس الثاني)

### ب فسر العبارات الآتية:

- ١ - قيام محمد طلعت حرب باشا بتأسيس بنك مصر.
- ٢ - يعتبر الادخار ضرورة في الوقت الحالي.

### أ أكمل العبارات التالية بما يناسبها:

- ١ - أصيب الدكتور طه حسين منذ صغره بإعاقة فقدان .....
- ٢ - تلتقط الصور الفضائية بواسطة .....
- ٣ - يحيط اليابس مصر من اتجاهين هما الغرب و.....
- ٤ - يقدم البريد المصري الخدمات المصرفية ومنها حسابات التوفير و.....
- ٥ - تستخدم الرمال السوداء في صناعة .....
- ٦ - إقامة معرض تراثنا يعد من الخدمات .....

### ب ما الفرق بين: الشعار والعلم؟

## الاختبار الرابع

٣٠



### أ أمامك خريطة صماء لمصر لاحظها ثم أجب:

- ١ - يشير رقم (١) للبحر .....
- ٢ - يشير رقم (٢) للبيئة .....
- ٣ - يشير رقم (٣) لمحافظة .....
- ٤ - هضبة .....
- ٥ - صواب أم خطأ: يقع رقم (٥) في البيئة الصحراوية.

( )

### ب أجب عما يلي:

- ١ - سجل أحد مظاهر احتفال محافظتك بعيدها القومي.
- ٢ - ما العلاقة بين السيارات التي تستخدم الغاز الطبيعي - الهواء؟

### أ اكتب كلمة (صواب) أمام العبارة الصحيحة، وكلمة (خطأ) أمام العبارة غير الصحيحة:

- ١ - يشير مقياس الرسم إلى الموضوع الذي تتناوله الخريطة.
- ٢ - نستخدم الأنيمومتر في تحديد اتجاه الرياح.

( )  
( )



- ٣ - أطلقت الدولة خط نجدة الطفل للإبلاغ عن حالات العنف. ( )
- ٤ - تصنع السلال والأطباق الملونة من الخوص. ( )
- ٥ - تلون بحيرة البرلس على الخريطة باللون البني. ( )
- ٦ - تقع محافظتك ضمن محافظات الوجه البحري. ( )

ب ما المقصود بكل من؟:

- ١ - الخدمات. ٢ - البنك.

٣ أ اختر الإجابة الصحيحة مما بين القوسين:

- ١ - يمتد الوطن العربي في قارتين هما .....  
(أوروبا وإفريقيا - آسيا وأستراليا - آسيا وأوروبا - آسيا وإفريقيا)
- ٢ - تتميز البيئة الساحلية في البحر الأحمر بوجود .....  
(المنخفضات - الشعاب المرجانية - البحيرات العذبة - الكثبان الرملية)
- ٣ - أحد نماذج ذوي الاحتياجات الخاصة ولقب بعميد الأدب العربي .....  
(جمال حمدان - طه حسين - محمد طلعت حرب - محمد يونس القاضي)
- ٤ - حماية حدود الوطن ضد أي اعتداء يعد من الخدمات .....  
(الثقافية - الصحية - التعليمية - الأمنية)
- ٥ - الادخار يعتمد على تقليل نفقاتك على .....  
(الإنتاج - الرغبات - الحاجات - الاستثمار)

ب بم تفسر؟:

- ١ - أهمية دراسة الطقس.  
٢ - أهمية الخريطة للفلاح.

٤ أ أكمل العبارات التالية بما يناسبها:

- ١ - تُعد بردية إيبرس من المصادر .....  
٢ - مذاكرتك وأداء واجباتك المدرسية يعتبر من .....  
٣ - يوجد أطول أنهار العالم بمصر في البيئة .....  
٤ - الغاز الطبيعي أحد مصادر الطاقة .....  
٥ - يتخذ علم مصر شكل .....  
٦ - مساحة من اليابس تحيط بها المياه من ثلاث جهات هي .....

ب وضح بأسلوبك ما يلي:

- ١ - دلالة اللون الأحمر في علم مصر.  
٢ - أهمية إنشاء بنك مصر عام ١٩٢٠ م.

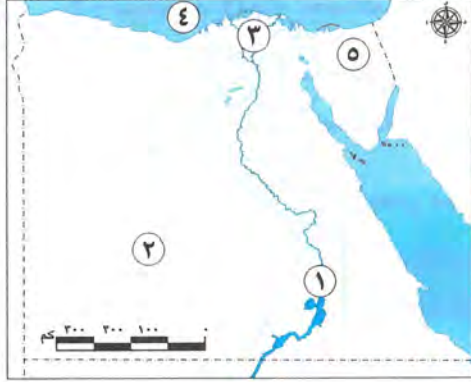




## إدارة المعصرة التعليمية

## محافظه القاهرة

١



### ١ ا لاحظ الخريطة، ثم اكتب مدلول الأرقام:

- ١ - يشير رقم (١) على الخريطة إلى محطة توليد كهرباء مائية.....
- ٢ - يشير رقم (٢) إلى محافظة.....
- ٣ - يشير رقم (٣) إلى البيئه.....
- ٤ - يشير رقم (٤) إلى البحر.....
- ٥ - يشير رقم (٥) إلى محافظة حدودية هي.....

### ب حدد سببين ل: معرفتك لأحوال الطقس يومياً.

### ٢ ا اختر الإجابة الصحيحة مما بين القوسين:

- ١ - يتخذ علم مصر شكل .....  
(مربع - مثلث - مستطيل - دائرة)
- ٢ - بحيرة ناصر يحيط بها اليابس من ..... جهات.  
(ثلاث - أربع - خمس - ست)
- ٣ - افتتاح الدولة للملاهي تُعد خدمات .....  
(ترفيهية - بيئية - صحية - تعليمية)
- ٤ - الحرفة التي يوجد شارع باسمها بالقاهرة .....  
(النسيج - الخيامية - الزجاج - الفخار)
- ٥ - تقع مصر في الركن الشمالي الشرقي لقارة .....  
(إفريقيا - آسيا - أوروبا - أستراليا)
- ٦ - ينتشر في الصحراء الغربية معدن .....  
(النحاس - المنجنيز - الذهب - الفوسفات)

### ب دلل على صحة العبارة: اهتمام الدولة بذوي الاحتياجات الخاصة.

### ٣ ا أكمل العبارات الآتية بما يناسبها من كلمات:

- ١ - إذا أردت إنشاء مصنع للزجاج فأنت تحتاج إلى الرمال.....
- ٢ - الهواء من الموارد.....
- ٣ - البحر الذي يقع شمال مصر هو.....
- ٤ - الأداة التي يستخدمها الجيش لتحديد المواقع الحربية هي.....
- ٥ - النسر في علم مصر يدل على.....

### ب ما النتائج المترتبة على: الإسراف في المبيدات الحشرية والأسمدة الكيميائية؟



## ٤ اكتب كلمة (صواب) أمام العبارة الصحيحة، وكلمة (خطأ) أمام العبارة غير الصحيحة:

- ١ - سيناء شبه جزيرة تحيط بها المياه من ثلاث جهات. ( )
- ٢ - محافظة الأقصر من محافظات الوجه البحري. ( )
- ٣ - اللون الأزرق بخريطة مصر يدل على المرتفعات. ( )
- ٤ - تستخدم الأقمار الصناعية لالتقاط الصور الجوية. ( )
- ٥ - صناعة الجلود من الحرف التراثية. ( )
- ٦ - من أمثلة الموارد المعدنية الأخشاب. ( )

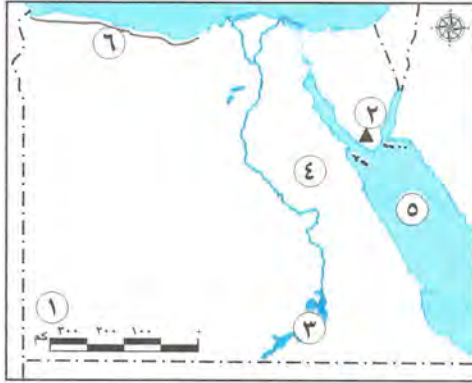
ب ماذا كان يحدث إذا: لم يؤسس محمد طلعت حرب بنك مصر؟

## إدارة جنوب التعليمية

## محافظة الجيزة

٣

## ١ اكتب ما تشير إليه الأرقام على الخريطة:



- ١ - هضبة .....
- ٢ - جبل .....
- ٣ - بحيرة .....
- ٤ - الصحراء .....
- ٥ - البحر .....
- ٦ - البيئة .....

ب اكتب تفسيرًا واحدًا: لأهمية الخريطة عند الجيش.

## ٢ اختر الإجابة الصحيحة مما بين القوسين:

- ١ - الشعاب المرجانية توجد في مصر على ساحل .....  
(نهر النيل - البحر المتوسط - بحيرة ناصر - البحر الأحمر)
- ٢ - تقع أرض شدوان بكاملها داخل البحر الأحمر فهي بذلك تُعد .....  
(جزيرة - شبه جزيرة - هضبة - منخفضًا)
- ٣ - لمعرفة درجة الحرارة اليوم فإننا نستخدم .....  
(دوارة الرياح - الأنيمومتر - الترمومتر - جوب الرياح)
- ٤ - من الخدمات التي تقدمها الدولة .....  
(الزراعة - الصناعة - الصحة - التجارة)
- ٥ - من الموارد الطبيعية غير المتجددة .....  
(الهواء - الماء - التربة - البترول)
- ٦ - أي من التالي يُعد حقًا من حقوق الطفل في مصر؟ .....  
(الرعاية الصحية - أداء الواجبات المدرسية - المحافظة على البيئة - مساعدة أفراد الأسرة)

ب ما النتائج المترتبة على: وجود المياه الجوفية في الصحراء الغربية؟





٣ اكتب كلمة (صواب) أمام العبارة الصحيحة، وكلمة (خطأ) أمام العبارة غير الصحيحة:

- ١ - وردة البوصلة توضح مدلول الألوان والرموز على الخريطة. ( )
- ٢ - طريق رأس الرجاء الصالح ساعد على توفير الوقت والمال والجهد. ( )
- ٣ - قلعة صلاح الدين الأيوبي من المعالم الأثرية لمحافظة القاهرة. ( )
- ٤ - أنشأ طلعت حرب بنك مصر عام ١٩٢٠ م. ( )
- ٥ - من أشهر مؤلفات طه حسين كتاب «البحث عن الذات». ( )
- ٦ - الإحساس الفني للصانع إحدى مشكلات صناعة الفخار. ( )

ب ما رأيك في: اتجاه مصر إلى استخدام مصادر الطاقة المتجددة؟

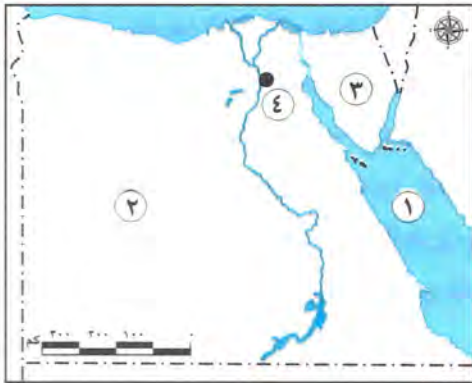
٤ اكتب ما تحته خط:

- ١ - مقياس الرسم يساعد على تحديد الاتجاهات.
- ٢ - قامت الدولة بإنشاء مدينة الروبيكي لتشجيع صناعة النسيج.
- ٣ - المنتجات التي نصنعها تسمى الخدمات.
- ٤ - يُعتبر سيد درويش عالمًا جغرافيًا وكاتبًا معروفًا بحبه لوطنه مصر.
- ٥ - مناخ مصر معتدل وممطر في فصل الصيف.
- ٦ - إصدار العملات الورقية من مهام البريد المصري.

ب ما العلاقة بين: نهر النيل والبيئة الزراعية؟

٣ محافظة الإسكندرية إدارة العجمي التعليمية

١ اتمامك خريطة صماء لمصر، اكتب مدلول الأرقام التالية:



- ١ - البحر .....
- ٢ - الصحراء .....
- ٣ - شبه جزيرة .....
- ٤ - محافظة .....

ب حدد سببًا واحدًا: لأهمية رسم وردة البوصلة على الخريطة.

ج صوب ما تحته خط:

- تربط قناة السويس بين البحر الأحمر ونهر النيل.

## ٢ اُ أكمل العبارات الآتية بما يناسبها من بنك الكلمات:

- (الصحراوي - غير المتجددة - الإدارية - النيل - البحر المتوسط)
- ١ - الحدود ..... تفصل المحافظة عن جيرانها.
  - ٢ - يسود المناخ ..... معظم الأراضي المصرية.
  - ٣ - الفحم من مصادر الطاقة .....
  - ٤ - تقع الصحراء الغربية غرب نهر .....

ب اكتب نتيجة واحدة ترتبت على: تقديم الخدمات الإلكترونية للمواطنين.

## ج حدد المختلف في عناصر المجموعة التالية:

(آسيا - إفريقيا - أستراليا - أوروبا)

## ٣ اُ اختر الإجابة الصحيحة مما بين القوسين:

- ١ - إحدى محافظات الحدود الصحراوية ..... (السويس - مطروح - المنوفية - البحيرة)
- ٢ - تدخل الرمال البيضاء في صناعة ..... (الخيامية - السجاد اليدوي - الفخار - الخلايا الشمسية)
- ٣ - تتميز الصحراء الغربية بعدة ظاهرات تضاريسية أهمها ..... (الشعاب المرجانية - بحر الرمال العظيم - البحر الأحمر - البحيرات المالحة)
- ٤ - حماية المواطنين وتوفير الأمن والاستقرار لهم يُعد من الخدمات ..... (التعليمية - الأمنية - الثقافية - الرقمية)
- ٥ - تقع مصر في الركن الشمالي الشرقي في قارة ..... (أوروبا - إفريقيا - أستراليا - أمريكا الجنوبية)

ب بم تفسر: أهمية نهر النيل؟

## ٤ اُ اكتب كلمة (صواب) أمام العبارة الصحيحة وكلمة (خطأ) أمام العبارة غير الصحيحة:

- ١ - يشرف البنك المركزي المصري على جميع المؤسسات المصرفية في مصر. ( )
- ٢ - لوحة الملك نعرمر (ميناء) من المصادر الثانوية. ( )
- ٣ - يؤدي انتشار الحرف اليدوية إلى ارتفاع نسب البطالة. ( )
- ٤ - يجب أن يستمع الصيادون للنشرة الجوية قبل الخروج في رحلات الصيد. ( )
- ٥ - تسعى الدولة إلى إنشاء الطرق والكباري وتطوير العشوائيات. ( )
- ٦ - لكل محافظة شعار يعبر عن نشاط سكانها أو جزء من تاريخها. ( )

## ب اكتب ما تشير إليه العبارة التالية:

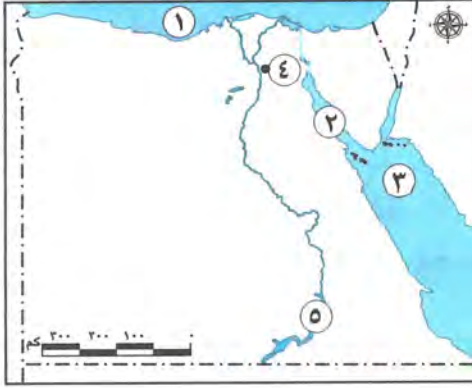
- كل ما يتم إنتاجه ونقوم بشرائه. (.....)



## إدارة بنها التعليمية

## محافظة القليوبية

E



١ أ أمامك خريطة صماء لمصر، اكتب مدلول الأرقام

الموقعة عليها:

- ١ - البحر .....
- ٢ - خليج .....
- ٣ - البحر .....
- ٤ - مدينة .....
- ٥ - بحيرة .....

ب بر تفسر: أهمية الخريطة بالنسبة للجيش؟

٢ أ اكتب كلمة (صواب) أمام العبارة الصحيحة وكلمة (خطأ) أمام العبارة غير الصحيحة:

- ١ - تُعد النقوش والبرديات من المصادر الثانوية. ( )
- ٢ - يدل اللون البني على الخريطة على الهضاب والجبال. ( )
- ٣ - تُقاس كمية المطر بجهاز الترمومتر. ( )
- ٤ - تنتشر الرمال السوداء على طول ساحل خليج السويس. ( )
- ٥ - من أهم مصادر الطاقة المتجددة في مصر الشمس. ( )
- ٦ - تعتمد صناعة الخيامية على الإبرة والخيط. ( )

ب ما النتائج المترتبة على: اقتراب الجبال من ساحل البحر الأحمر؟

٣ أ اختر الإجابة الصحيحة مما بين القوسين:

- ١ - تقع مصر في الركن ..... لقارة إفريقيا.
- (الجنوبي الشرقي - الشمالي الغربي - الشمالي الشرقي - الجنوبي الغربي)
- ٢ - يُستخدم ..... لقياس سرعة الرياح.
- (دوارة الرياح - الترمومتر - الأنيمومتر - مقياس المطر)
- ٣ - تُلون السهول على الخريطة باللون .....
- (البني - الأصفر - الأخضر - الأحمر)
- ٤ - يُعد ..... من مصادر الطاقة الحفرية.
- (المياه - البترول - الرياح - الشمس)
- ٥ - تُعد ..... من الخدمات البيئية.
- (الرعاية الصحية - نظافة الشوارع - الأندية - المدارس)

ب ما المقصود بالمصطلحات الآتية؟:

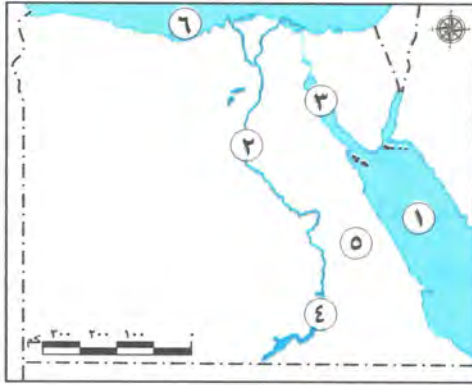
- ١ - الجزيرة. ٢ - السلع.

٤ ا صل من عبارات العمود (أ) بما يناسبها من عبارات العمود (ب):

(ب)	(أ)
١ تتواجد في وادي النيل ودلتاه.	١ - اللون الأحمر في علم مصر
٢ تقوم فيها الزراعة اعتماداً على المياه الجوفية.	٢ - قرية جراح
٣ أكدت على حق الطفل في الرعاية والتعليم والصحة.	٣ - الصحراء الغربية
٤ يعبر عن النضال ودماء الشهداء من أجل الحرية.	٤ - محمد طلعت حرب باشا
٥ تنتشر فيها صناعة الزجاج.	٥ - المادة ٨٠ من دستور عام ٢٠١٤ م
٦ قام بتأسيس بنك مصر عام ١٩٢٠ م.	٦ - البيئة الزراعية

ب ماذا كان يحدث إذا لم يتم تأسيس بنك مصر؟

### ٥ محافظة المنوفية إدارة أشمون التعليمية



١ ا أمامك خريطة صماء لمصر، اكتب ما تشير إليه الأرقام:

- ١ - البحر .....
- ٢ - نهر .....
- ٣ - خليج .....
- ٤ - بحيرة .....
- ٥ - الصحراء .....
- ٦ - البحر .....

ب بم تفسر: أهمية سلوكيات احترام العلم المصري؟

٢ ا اكتب كلمة (صواب) أمام العبارة الصحيحة وكلمة (خطأ) أمام العبارة غير الصحيحة:

- ١ - أدى دخان عوادم السيارات إلى زيادة نسبة تلوث المياه في البحر والنهر. ( )
- ٢ - مناخ مصر حار وممطر طول العام. ( )
- ٣ - تساعد الخريطة الجيش في تحديد الأماكن السياحية والأثرية. ( )
- ٤ - تُعد قارتا أستراليا وأمريكا الشمالية من قارات العالم القديم. ( )
- ٥ - أشهر شخصيات ذوي الاحتياجات الخاصة عميد الأدب العربي الدكتور طه حسين. ( )
- ٦ - صناعة النسيج من الحرف المدرجة على قائمة التراث العالمي في منظمة اليونسكو. ( )
- ٧ - تصل قناة السويس بين البحرين الأحمر والمتوسط. ( )

ب ما النتائج المترتبة على:

- إلقاء نفايات المصانع في مياه النيل؟



٣ اختر الإجابة الصحيحة مما بين القوسين:

- ١ - يدل اللون الأحمر في العلم المصري على ..... (الحرب - السلام - الاستعمار - التضحية)
- ٢ - من محافظات الوجه القبلي في مصر ..... (شمال سيناء - المنوفية - أسوان - البحر الأحمر)
- ٣ - من حقي كطفل أن ..... (أساعد أسرتي - أذاكر دروسي - أحمي البيئة - أشعر بالأمان)
- ٤ - أبو الاقتصاد المصري ..... (أحمد عرابي - سعد زغلول - طلعت حرب - مصطفى كامل)
- ٥ - يوجد جبل سانت كاترين في البيئة ..... (الصحراوية - الزراعية - الساحلية - الصناعية)
- ٦ - يُقاس اتجاه الرياح بجهاز ..... (الترمومتر - دوارة الرياح - مقياس المطر - الأنيومتر)

ب ما رأيك في: استخدام المبيدات الحشرية للتربة الزراعية؟

٤ أ أكمل العبارات الآتية بما يناسبها من كلمات:

- ١ - تُعد ..... من أكبر البحيرات الصناعية في العالم.
- ٢ - ملحن نشيد "بلادي بلادي" هو .....
- ٣ - نظافة الشوارع والميادين وتجميلها من الخدمات .....
- ٤ - تُعد النقوش والأفلام التسجيلية من المصادر .....
- ٥ - تولد محطة الزعفرانة الكهرباء من طاقة .....
- ٦ - إنفاق النقود لشراء الحاجات والرغبات هو .....
- ٧ - يتسبب حرق قش الأرز في تلوث .....

ب أجب عما يلي:

ما المقصود بالحياة المستدامة؟

٦ محافظة الشرقية إدارة ديب نجم التعليمية



١ من خلال الخريطة الصماء لمصر، اكتب ما تدل عليه الأرقام:

- ١ - محافظة .....
- ٢ - البحر .....
- ٣ - نهر .....
- ٤ - الصحراء .....
- ٥ - جبل .....

ب اكتب ما تشير إليه العبارتان الآتيتان:

- ١ - مجار مائية عذبة. (.....)
- ٢ - أرض مصرية يطلق عليها أرض الفيروز. (.....)

## ٢ أ أكمل العبارات الآتية بما يناسبها من بنك الكلمات:

(القارة - القبلي - الخريطة - الفخار - الزجاج)

- ١ - من أدوات تحديد المواقع .....
- ٢ - مساحة واسعة من اليابس تضم عددًا من الدول بداخلها تعرف بـ .....
- ٣ - إحدى الحرف التي يُستخدم الطين في صناعتها .....
- ٤ - محافظة القاهرة تتوسط الموقع بين محافظات الوجهين البحري و.....

## ب صوب ما تحته خط:

- ١ - يمكن معرفة الاتجاهات الأصلية والفرعية عن طريق مفتاح الخريطة.
- ٢ - يتوسط علم مصر الحالي النجوم.
- ٣ - المصادر الثانوية تتميز بأنها معاصرة للأحداث.
- ٤ - محافظة الإسكندرية تقع على البحر الأحمر.

## ٣ أ اختر الإجابة الصحيحة مما بين القوسين:

- ١ - تختلف الصور الفضائية عن الصور الجوية في أنها تلتقط عن طريق .....
- (الطائرات - الأقمار الصناعية - السفن البحرية - القطارات)
- ٢ - يتشابه كل من قناة السويس ونهر النيل في أن لهما أهمية .....
- (صناعية - زراعية - تجارية - حضارية)
- ٣ - تقع مصر في قارة إفريقيا .....
- (رأي - حقيقة - خيال - ادعاء)
- ٤ - البنك الذي يشرف على جميع البنوك المصرية هو .....
- (البنك الأهلي - بنك مصر - البنك المركزي المصري - بنك قناة السويس)
- ٥ - إذا أردت شراء العديد من منتجات الحرف التراثية فعليك زيارة معرض .....
- (ديارنا - الكتاب - تراثنا - الملابس)

## ب اكتب تفسيرًا واحدًا لكل مما يأتي:

- ١ - لكل دولة علم.
- ٢ - إنشاء العاصمة الإدارية الجديدة.

## ٤ أ اكتب كلمة (صواب) أمام العبارة الصحيحة وكلمة (خطأ) أمام العبارة غير الصحيحة:

- ١ - تلون المسطحات المائية على الخريطة باللون البني. ( )
- ٢ - القاهرة هي عاصمة جمهورية مصر العربية. ( )
- ٣ - أسس طه حسين بنك مصر. ( )
- ٤ - حملة ١٠٠ مليون صحة من الخدمات الثقافية. ( )
- ٥ - تستخدم الرمال البيضاء في صناعة الخلايا الشمسية والخزف. ( )
- ٦ - أكد الدستور المصري على حقوق ذوي الاحتياجات الخاصة. ( )



ب بم تفسر؟

- ١ - تسمية الصحراء السوداء بهذا الاسم.
- ٢ - ضيق أراضي البيئة الساحلية عند البحر الأحمر.

٧ محافظة الغربية إدارة كفر الزيات التعليمية



١ ا لاحظ الخريطة التالية وأجب عما يأتي:

- ١ - يشير رقم (١) على الخريطة إلى محطة توليد الطاقة الكهرومائية .....
- ٢ - يشير رقم (٢) إلى البحر .....
- ٣ - يشير رقم (٣) على الخريطة إلى قناة .....

ب اكتب تفسيرا واحدا لكل من:

- ١ - تقسيم مصر إلى محافظات.
- ٢ - مراقبة الدولة لنشاط المصانع والنشاط الزراعي.

٢ ا اكتب كلمة (صواب) أمام العبارة الصحيحة وكلمة (خطأ) أمام العبارة غير الصحيحة:

- ١ - تسقط الأمطار طوال العام على بعض دول وسط إفريقيا. ( )
- ٢ - استخدام السيارات بدلاً من الدراجات يسهم في خفض نسب التلوث. ( )
- ٣ - يؤدي انتشار الحرف اليدوية إلى ارتفاع نسب البطالة. ( )
- ٤ - ينتشر الذهب والنحاس في الصحراء الشرقية. ( )

ب اكتب دليلاً واحداً على صحة العبارات التالية:

- ١ - مصر دولة بحرية.
- ٢ - اهتمام الدولة بذوي الاحتياجات الخاصة.

٣ ا اختر الإجابة الصحيحة مما بين القوسين:

- ١ - الحرفة التي يوجد شارع باسمها في محافظة القاهرة .....
- (النسيج - الخيامية - السجاد اليدوي - الزجاج)
- ٢ - لمعرفة مدلول الألوان والرموز الموجودة على الخريطة فإننا ننظر إلى .....
- (عنوان الخريطة - مقياس الخريطة - مفتاح الخريطة - وردة البوصلة)
- ٣ - إحدى محافظات الحدود الصحراوية .....
- (مطروح - السويس - المنوفية - البحيرة)

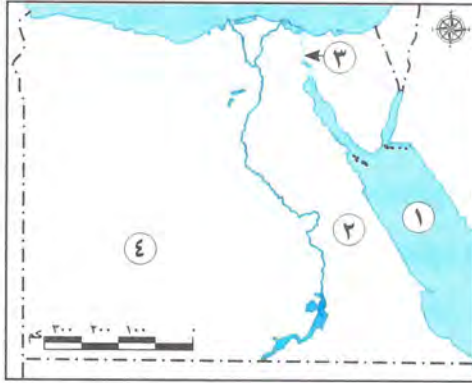
ب اكتب نتيجة واحدة ترتبت على:

- ١ - سوء استخدامنا للموارد الطبيعية.
- ٢ - وجود المياه الجوفية في الصحراء الغربية.

## أ أكمل العبارات الآتية بكلمات مناسبة:

- ١ - نستخدم نظام تحديد المواقع العالمي (GPS) في تحديد .....
  - ٢ - في وسط العلم المصري نسر يرمز إلى قوة مصر وعراقة .....
  - ٣ - تمتلك مصر العديد من مصادر الطاقة المتجددة مثل .....
  - ٤ - تنحصر الصحراء الشرقية بين نهر النيل شرقًا و..... غربًا.
- ب ١ - حدد أوجه التشابه بين: الصحراء الشرقية وشبه جزيرة سيناء.
- ٢ - اكتب: مظهرين من مظاهر احتفال محافظتك ب: عيدها القومي.

## ٨ محافظة الدقهلية إدارة بلماس التعليمية



## أ لاحظ الخريطة المقابلة وكتب مدلول الأرقام عليها:

- ١ - يشير رقم (١) إلى البحر .....
- ٢ - يشير رقم (٢) إلى الصحراء .....
- ٣ - يشير رقم (٣) إلى ممر ملاحى عالمى .....
- ٤ - يشير رقم (٤) إلى أكبر محافظات مصر مساحة .....

## ب اكتب ما تشير إليه العبارة:

إحدى المبادرات التي تهتم بصحة المواطن واستهدفت الكشف المبكر للإصابة ببعض الأمراض.  
(.....)

## ج اكتب تفسيرًا واحدًا: لإنشاء محطة الكريما بالجزيرة.

## أ أكمل العبارات الآتية بما يناسبها من بنك الكلمات:

(الجلود - الزجاج - حرق قش الأرز - إلقاء المخلفات)

- ١ - تشتهر مدينة الروبيكي بصناعة .....
- ٢ - تتلوث مياه النيل نتيجة .....

## ب أمامك صورتان تأملهما جيدًا ثم أجب:



الصورة (ب) تعبر عن البيئة .....



الصورة (أ) تعبر عن البيئة .....

## ج ما العلاقة بين: الطائرات ورسم الخرائط؟





٣ اكتب كلمة (صواب) أمام العبارة الصحيحة وكلمة (خطأ) أمام العبارة غير الصحيحة:

- ١ - يمكن معرفة موقع مدينة القاهرة باستخدام مقياس الرسم. ( )
- ٢ - النقوش على جدران المعابد والوثائق الرسمية من المصادر الثانوية. ( )
- ٣ - تعتبر محافظة البحر الأحمر من محافظات الحدود الصحراوية. ( )
- ٤ - لمعرفة اتجاه الرياح فإننا نستخدم الأنيمومتر. ( )
- ٥ - تمثل البيئة الزراعية معظم مساحة مصر. ( )

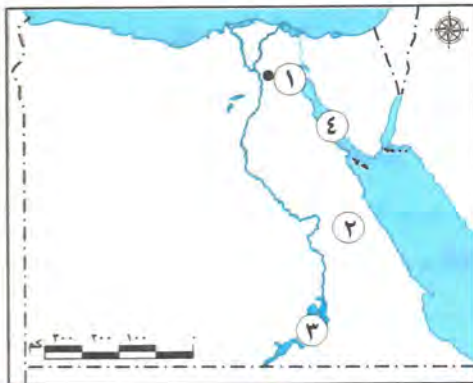
ب اكتب تشابهاً واحداً بين: المصدر الأولي والمصدر الثانوي.

٤ اختر الإجابة الصحيحة مما بين القوسين:

- ١ - من مشروعات تطوير العاصمة في الفترة الراهنة مشروع .....  
(محور كلابشة - محور روض الفرج - استصلاح الألف فدان - بناء مصدات للأمواج)
- ٢ - إذا أردت تلوين بحيرة قارون على الخريطة فإنك تختار اللون .....  
(الأخضر - البني - الأزرق - الأصفر)
- ٣ - توفير الطعام اللازم للأطفال يُعد من حقوق الأطفال في .....  
(الرعاية الصحية - السكن - الترفيه - التغذية الأساسية)
- ٤ - لحن النشيد الوطني الحالي لمصر .....  
(سيد درويش - يونس القاضي - علي مبارك - طلعت حرب)
- ٥ - إحدى الخدمات الإلكترونية .....  
(بناء المستشفيات - إنشاء المتاحف - استخراج الوثائق - بناء المدارس)
- ٦ - إذا أردت استخدام مصدر طاقة فإنك سوف تعتمد على .....  
(الحديد - الشمس - الفوسفات - المتجنيز)

ب حدد اثنين من: مظاهر احتفال محافظتك بعيدها القومي.

٩ محافظة البحيرة إدارة أبو المطامير التعليمية



١ اتمامك خريطة صماء لمصر اكتب ما تدل عليه الأرقام:

- ١ - يشير رقم (١) إلى محافظة .....
- ٢ - يشير رقم (٢) إلى الصحراء .....
- ٣ - يشير رقم (٣) إلى بحيرة .....
- ٤ - يشير رقم (٤) إلى خليج .....

## ب اكتب ما تشير إليه كل عبارة:

- ١ - مدلول ومعنى الألوان والرموز الموجودة على الخريطة. (.....)
- ٢ - مساحة صغيرة من الماء يحيط بها اليابس من جميع الجهات. (.....)
- ٣ - وصف حالة الجو من حيث الحرارة والرياح والأمطار في فترة زمنية قصيرة. (.....)

## ٢ اأكمل الجمل التالية من بنك الكلمات:

(البحر المتوسط - الهواء - الترمومتر - الفخار - البحر الأحمر)

- ١ - من أقدم الصناعات اليدوية في مصر .....
- ٢ - من الموارد التي لا تنفذ رغم استخدامنا المستمر لها .....
- ٣ - من أدوات قياس الحرارة .....
- ٤ - تتسع السهول الساحلية بالقرب من .....

## ب بم تفسر؟

- ١ - اتخاذ كل محافظة من محافظات مصر شعارًا خاصًا بها.
- ٢ - أهمية الطاقة المتجددة.

## ٣ اكتب كلمة (صواب) أمام العبارة الصحيحة وكلمة (خطأ) أمام العبارة غير الصحيحة:

- ١ - تضم البيئة الزراعية نهر النيل أطول أنهار العالم. ( )
- ٢ - تقوم الزراعة في وادي النيل على المياه الجوفية. ( )
- ٣ - من أمثلة حقوق الطفل الحق في الاسم المناسب. ( )
- ٤ - من الخدمات التي تقدمها الدولة الخدمات التعليمية والصحية والأمنية. ( )
- ٥ - قام مصطفى كامل باشا عام ١٩٢٠ م بتأسيس بنك مصر. ( )

## ب ما النتائج المترتبة على: حفر قناة السويس الجديدة عام ٢٠١٥ م؟

## ٤ اضع خطأ تحت الإجابة الصحيحة فيما بين القوسين:

- ١ - أحد الموارد المتجددة ..... (المياه - الذهب - النحاس - الحديد)
- ٢ - نحدد موقع القاهرة على الخريطة بالنسبة للمدن الأخرى باستخدام ..... (مقياس الرسم - مفتاح الخريطة - وردة البوصلة - عنوان الخريطة)
- ٣ - من مظاهر احترام علم بلدنا ..... (ابتلاله بالماء - لمس الأرض - الوقوف عليه - رفعه عاليًا)
- ٤ - من المحافظات الصحراوية في مصر ..... (أسوان - البحر الأحمر - الإسكندرية - الجيزة)

## ب صف المصادر التالية إلى مصادر أولية ومصادر ثانوية:

(أبحاث - الكتب - النقوش - كتابات المؤرخين)

- ١ - مصادر أولية .....
- ٢ - مصادر ثانوية .....



١٠ محافظة دمياط إدارة كفر سعد التعليمية



١ الاحظ الخريطة المقابلة واكتب مدلول الأرقام

على الخريطة:

- ١ - يشير رقم (١) إلى نهر .....
- ٢ - يشير رقم (٢) إلى البحر .....
- ٣ - يشير رقم (٣) إلى خليج .....
- ٤ - يشير رقم (٤) إلى البيئة .....
- ٥ - يشير رقم (٥) إلى البحر .....

ب أجب عن الأسئلة التالية:

- ١ - حدد سبباً واحداً لأهمية رسم وردة البوصلة على الخريطة.
- ٢ - اكتب تفسيراً واحداً لوجود النسر في علم مصر.

٢ اكتب كلمة (صواب) أمام العبارات الصحيحة وكلمة (خطأ) أمام العبارات الخاطئة:

- ١ - تُستخدم الأقمار الصناعية في التقاط الصور الجوية. ( )
- ٢ - تقع مصر في الركن الشمالي الغربي لقارة إفريقيا. ( )
- ٣ - يستفيد الطيار من شبكة خطوط الطول ودوائر العرض في تحديد الموقع. ( )
- ٤ - تساعد المياه الجوفية على قيام الزراعة في الصحراء الغربية. ( )
- ٥ - تتسبب مشكلة حرق قش الأرز في تلوث المياه. ( )
- ٦ - ساعد بنك مصر على ازدهار الاقتصاد المصري. ( )

ب أجب عن السؤال التالي:

اكتب نتيجة واحدة للإفراط في استخدام مصادر الطاقة غير المتجددة.

٣ اضع خطأ تحت الإجابة الصحيحة فيما بين القوسين:

- ١ - تعتمد الزراعة على مياه النيل في منطقة .....
- (الوادي والدلتا - الصحراء الغربية - السهل الساحلي - الصحراء الشرقية)
- ٢ - من الحرف المدرجة على قائمة التراث العالمي .....
- (ورق البردي - الفخار - الزجاج - السجاد اليدوي)
- ٣ - اللون الذي يدل على السلام في علم مصر هو .....
- (الأبيض - الأحمر - الأسود - الأخضر)
- ٤ - آسيا مساحة شاسعة من اليابس تضم عدة دول فهي بذلك تكون .....
- (محافظة - دولة - قارة - جزيرة)
- ٥ - التحاق الطفل بالمدرسة يُعد حقاً من حقوقه في .....
- (التعليم - الصحة - السكن - الأمن)



ب حدد اختلافًا واحدًا بين السهل الساحلي والسهل الفيضي في الجدول التالي:

وجه المقارنة	السهل الساحلي	السهل الفيضي
الاختلاف	.....	.....

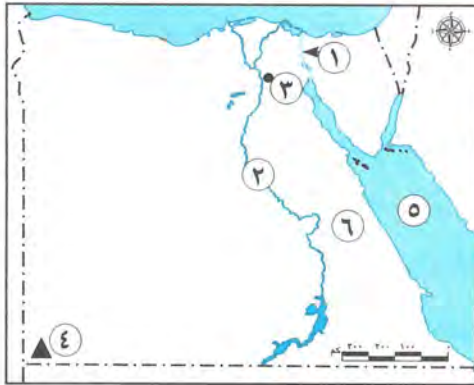
٤ أ أكمل العبارات التالية من بنك الكلمات:

(الوجه البحري - مقياس الرسم - مبادرة حياة كريمة - الصحة - البرديات - المنخفض - الوجه القبلي - الحدود الصحراوية)

- ١ - من المصادر الأولية .....
- ٢ - أحد أهم عناصر الخريطة .....
- ٣ - محافظتي من محافظات .....
- ٤ - أرض منخفضة عن مستوى سطح البحر .....
- ٥ - تهدف إلى التخفيف عن المواطنين في المجتمعات الأكثر احتياجًا .....
- ٦ - دستور مصر عام ٢٠١٤ م أكد على حق الطفل في الرعاية والتعليم و .....

ب اكتب تفسيرًا واحدًا ل: وجود الزراعة في الصحراء الغربية.

## ١١ محافظة كفر الشيخ إدارة دسوق التعليمية



١ أ لاحظ الخريطة، ثم أجب:

- ١ - ممر ملاحى مهم .....
- ٢ - نهر .....
- ٣ - عاصمة مصر .....
- ٤ - جبل .....
- ٥ - البحر .....
- ٦ - الصحراء .....

ب قارن بين: المصادر الأولية والمصادر الثانوية من حيث التعريف.

٢ أ أكمل العبارات الآتية بكلمات مناسبة:

- ١ - يدل النسب في وسط العلم المصري على .....
- ٢ - دراسة الجو في ماليزيا لمدة عام تُعد دراسة لحالة .....
- ٣ - أول بنك وطنى مصرى هو .....
- ٤ - تقع مصر في قلب قارات العالم .....
- ٥ - مساحة من اليابس تحيط بها المياه من ثلاث جهات هي .....



ب **بم تفسر:** أهمية الحرف التراثية للاقتصاد المصري؟

٣ ا **اكتب كلمة (صواب) أمام الإجابة الصحيحة وكلمة (خطأ) أمام الإجابة غير الصحيحة:**

- ١ - محطة الزعفرانة تُولّد الكهرباء من الرياح. ( )
- ٢ - يوضح عنوان الخريطة مدلول ومعنى الألوان والرموز على الخريطة. ( )
- ٣ - المكتبات العامة تُعد من الخدمات الثقافية. ( )
- ٤ - يزيد الاستثمار كلما قل الاستهلاك وزاد الادخار. ( )
- ٥ - يُعد طه حسين من النماذج المشرفة لذوي الاحتياجات الخاصة. ( )

ب **ما النتيجة المترتبة على:**

٤ - إسراف المزارعين في استخدام المبيدات الحشرية؟

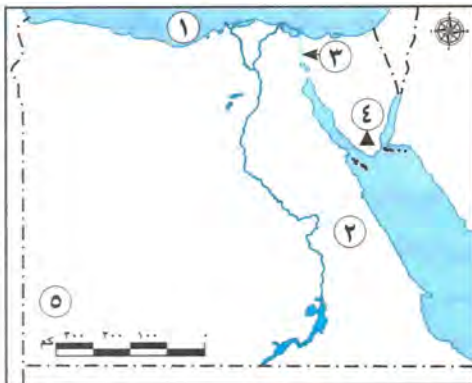
٤ ا **اختر الإجابة الصحيحة مما بين القوسين:**

- ١ - التطعيم الذي يحصل عليه طلاب المدارس يُعد من الخدمات .....  
(الصحية - التعليمية - الأمنية - البيئية)
  - ٢ - تنتشر صناعة الزجاج التراثية في قرية "جراح" بمحافظة .....  
(السويس - الدقهلية - الشرقية - القليوبية)
  - ٣ - ملحن النشيد الوطني لمصر هو .....  
(سيد درويش - محمد يونس القاضي - طه حسين - طلعت باشا حرب)
  - ٤ - اللون المناسب للدلتا على خريطة التضاريس هو .....  
(الأخضر - الأصفر - البني - الأزرق)
  - ٥ - العبارة التي تعبر عن حقيقة هي .....  
(الغردقة أجمل مدن مصر - البحر الأحمر أجمل البحار - الطقس في الجيزة رائع - الهرم الأكبر موقعه الجيزة)
  - ٦ - تدخل الرمال البيضاء في صناعة .....  
(الفخار - الزجاج - الحلي - السجاد)
- ب **دلل:** مصر دولة بحرية.

### مديرية التربية والتعليم

### محافظة بورسعيد

١٣



١ ا **أمامك خريطة صماء لمصر اكتب مدلول الأرقام:**

- ١ - يشير رقم (١) على الخريطة إلى البحر .....
- ٢ - يشير رقم (٢) على الخريطة إلى الصحراء .....
- ٣ - يشير رقم (٣) على الخريطة إلى قناة .....
- ٤ - يشير رقم (٤) إلى جبل .....
- ٥ - يشير رقم (٥) إلى هضبة .....

## ب حدد سببًا واحدًا لكل من:

- ١ - وجود النسر في علم مصر.  
٢ - أهمية قناة السويس الجديدة.

## ٢ اكتب كلمة (صواب) أمام العبارات الصحيحة وكلمة (خطأ) أمام العبارات غير الصحيحة:

- ١ - إذا أردت معرفة موقع مدينة القاهرة على الخريطة فإنك تنظر إلى مقياس الرسم. ( )  
٢ - لكل محافظة شعار يعبر عن نشاط سكانها أو جزء من تاريخها. ( )  
٣ - تُعد الكتب والمقالات والأبحاث من المصادر الأولية. ( )  
٤ - الحدود الإدارية مساحة من الأرض تضم مجموعة من المراكز أو الأحياء. ( )  
٥ - يرفع العلم على وسائل النقل الدولية مثل الطائرات. ( )

## ب أجب عن الأسئلة التالية:

- ١ - اكتب نصيحة واحدة للفلاح للمحافظة على التربة من التلوث.  
٢ - دلل على جهود الدولة لدعم الحرف التراثية.  
٣ - اكتب نتيجة واحدة لإنشاء البنك المركزي المصري.

## ٣ ا اختر الإجابة الصحيحة مما بين القوسين:

- ١ - تقاس سرعة الرياح باستخدام جهاز .....  
(الترمومتر - الأنيومتر - جوب الرياح - طواحين الهواء)  
٢ - معظم الأراضي المصرية يسودها المناخ .....  
(الاستوائي - المداري الحار - الصحراوي الحار - الموسمي)  
٣ - الكثبان الرملية تنتشر في البيئة .....  
(الزراعية - الصناعية - الصحراوية - الساحلية)  
٤ - أحد أهم المعادن في الصحراء الغربية معدن .....  
(النحاس - الذهب - الحديد - المنجنيز)  
٥ - تستخدم محطة الزعفرانة في محافظة البحر الأحمر لتوليد الكهرباء من طاقة .....  
(الشمس - الرياح - المياه - البترول)

## ب من أكون؟:

- ١ - لقب بـ «أبو الاقتصاد» المصري وأسس بنك مصر. (.....)  
٢ - عالم جغرافي وكاتب معروف بحبه الشديد لوطنه وألّف أكثر من ٢٥ كتابًا. (.....)

## ٤ ا صوب ما تحته خط:

- ١ - صناعة الفخار يتم إنتاجها في منطقة بالأزهر.  
٢ - إنشاء الدولة للأندية الرياضية والحدائق من الخدمات التعليمية.  
٣ - للإبلاغ عن الحالات التي يتعرض لها الأطفال للعنف وانتهاك الحقوق خط الإسعاف رقم (١٦٠٠٠).  
٤ - تنتشر الشعاب المرجانية في سواحل البحر المتوسط.  
٥ - تدخل في صناعة الزجاج والخلايا الشمسية الرمال السوداء.



ب أجب عن الأسئلة الآتية:

- ١ - اكتب نتيجة واحدة ترتبت على توفير خدمات الإنترنت للمواطنين.
- ٢ - ما المقصود بالبنك؟
- ٣ - وضح أسباب تلوث الهواء.

١٣ محافظة السويس مديرية التربية والتعليم



١ أ لاحظ الخريطة ثم أجب:

- ١ - الصحراء .....
- ٢ - جبل .....
- ٣ - البحر .....
- ٤ - البيئة .....

ب حدد سببًا واحدًا لكل من:

- ١ - وجود اللون الأبيض في علم مصر.
- ٢ - أهمية الخريطة للجيش.

٢ أ أكمل العبارات التالية:

- ١ - تقع مصر في شمال شرق قارة .....
- ٢ - قام محمد طلعت حرب باشا بتأسيس بنك .....
- ٣ - زادت أهمية موقع مصر بعد حفر قناة .....
- ٤ - محافظة الشرقية من محافظات الوجه .....
- ٥ - بناء الدولة المدارس من الخدمات .....
- ٦ - لوحة الملك نعرمر (ميناء) أحد المصادر .....

ب اكتب نتيجة واحدة ترتبت على: استخدام وسائل ري قديمة.

٣ أ اكتب كلمة (صواب) أمام العبارات الصحيحة وكلمة (خطأ) أمام العبارات غير الصحيحة:

- ١ - يتكون علم مصر من ثلاثة ألوان. ( )
- ٢ - يقوم رجال الشرطة بالقبض على الخارجين عن القانون. ( )
- ٣ - يعبر شعار محافظتي عن نشاط السكان. ( )
- ٤ - صناعة الفخار من أقدم الحرف التراثية في مصر. ( )
- ٥ - تقع بحيرة ناصر شمال نهر النيل في مصر. ( )

ب وضح استخدام كل من:

- مقياس المطر. - جوب الرياح.

## ٤ اختر الإجابة الصحيحة مما بين القوسين:

- ١ - كاتب ومفكر مصري لقب بعميد الأدب العربي هو الدكتور .....  
(طه حسين - جمال حمدان - طلعت حرب - سيد درويش)
- ٢ - توفير الدولة لخط نجدة الطفل يعبر عن حق الطفل في .....  
(التعليم - الصحة - اللعب - الحماية)
- ٣ - البنك الذي يشرف على جميع البنوك المصرية هو .....  
(بنك مصر - البنك المركزي المصري - بنك القاهرة - البنك الأهلي المصري)
- ٤ - توفير الدولة المستشفيات والأدوية من الخدمات .....  
(الصحة - التعليمية - الترفيهية - الأمنية)
- ٥ - مدينة العريش هي أجمل مدينة في مصر .....  
(واقع - خيال - حقيقة - رأي)
- ٦ - يشير اللون الأزرق على الخريطة إلى .....  
(التل - البحر - الهضبة - المنخفض)
- ب اكتب مقترحًا واحدًا لما يلي: ترشيد استهلاك الطاقة.

## ١٤ محافظة الإسماعيلية مديرية التربية والتعليم



## ١ لاحظ الخريطة المقابلة وأجب عن الأسئلة:

- ١ - يشير رقم (١) إلى أحد عناصر الخريطة .....
- ٢ - يشير رقم (٢) إلى .....
- ٣ - أكبر محافظات مصر مساحة .....
- ٤ - يشير رقم (٤) إلى البيئة .....

ب حدد سببًا واحدًا ل: وجود اختلاف بين الحقائق والآراء.

ج اكتب ما تشير إليه العبارة التالية:

- مساحة شاسعة من المياه المالحة ذات أعماق كبيرة. (.....)





٢ أ أمامك صورتان تأملهما جيدًا، ثم أجب:



شكل رقم (١) جهاز يستخدم في ..... شكل رقم (٢) يعبر عن .....

ب أكمل الجمل التالية من بنك الكلمات: (المنخفضات - البحار - المرتفعات - السهول)

- ١ - يلون جنوب غرب مصر باللون البني بسبب .....
- ٢ - يُستخدم اللون الأزرق على خريطة مستويات الارتفاعات ليشير إلى .....

ج فسر: وجود اللون الأحمر بعلم مصر.

٣ أ اكتب كلمة (صواب) أمام العبارة الصحيحة وكلمة (خطأ) أمام العبارة غير الصحيحة:

- ١ - تفصل الحدود الدولية بين محافظتي والمحافظات المجاورة. ( )
- ٢ - يؤدي توليد الكهرباء من الرياح إلى تلوث الهواء. ( )
- ٣ - يرتبط العيد القومي لمحافظة بذكرى تاريخية. ( )
- ٤ - يساعد الاهتمام بالحرف اليدوية على ازدهار الاقتصاد المصري. ( )
- ٥ - لقب الأديب طه حسين بعميد الأدب العربي. ( )

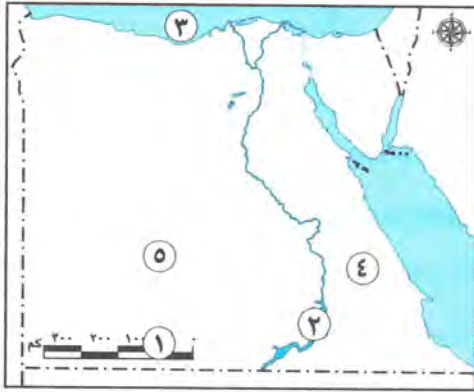
ب اكتب تفسيرًا لـ: وجود الزراعة في الصحراء الغربية.

٤ أ اختر الإجابة الصحيحة مما بين القوسين:

- ١ - إذا أردت تحديد موقعك بدقة فإنك تحتاج إلى استخدام .....  
(خريطة - صورة جوية - صورة فضائية - صورة فوتوغرافية)
- ٢ - تخلو مصر من البيئة .....  
(الزراعية - القطبية - الصحراوية - الساحلية)
- ٣ - يمكنك ترشيد استهلاكك من المياه العذبة من خلال .....  
(حفر الآبار - بناء السدود - حفر الترغ - غلق الصنبور)
- ٤ - تُعد من أقدم الصناعات وتنتشر في العديد من القرى المصرية .....  
(صناعة الزجاج - صناعة الفخار - صناعة الخيامية - صناعة النسيج)
- ٥ - التحاق الطفل المصري بالمدرسة يُعد من حقوقه في .....  
(التعليم - الصحة - السكن - الأمن)
- ٦ - البنك الذي يشرف على جميع البنوك المصرية هو .....  
(بنك القاهرة - بنك مصر - البنك الأهلي المصري - البنك المركزي المصري)

ب اكتب نتيجة واحدة ترتبت على: تقديم الخدمات الإلكترونية للمواطنين.

## ١٥ محافظة الفيوم إدارة يوسف الصديق التعليمية



١ أملك خريطة صماء لمصر وضح عليها ما يلي:

- ١ - يشير رقم (١) إلى عنصر من عناصر الخريطة وهو .....
- ٢ - يشير رقم (٢) إلى بحيرة صناعية وهي بحيرة .....
- ٣ - يشير رقم (٣) إلى البحر .....
- ٤ - يشير رقم (٤) إلى البيئة .....
- ٥ - يشير رقم (٥) إلى أكبر محافظات مصر مساحة وهي .....

ب اكتب تفسيرًا واحدًا ل:

أهمية وجود علم لكل دولة.

٢ اختر الإجابة الصحيحة مما بين القوسين:

- ١ - إذا أردت تلوين السهل الفيضي على الخريطة تختار اللون .....  
(الأزرق - الأصفر - البني - الأخضر)
- ٢ - المورد الطبيعي المتجدد الذي لا ينفد باستخدام الإنسان .....  
(الحديد - الشمس - البترول - المنجنيز)
- ٣ - تخلو مصر من البيئة .....  
(الزراعية - القطبية - الصحراوية - الساحلية)
- ٤ - إذا أردت كتابة بحث عن أهمية موقع مصر فإنك تستعين بمؤلفات .....  
(جمال حمدان - طه حسين - محمد يونس - سيد درويش)
- ٥ - المعلومات التي تم التأكد من صحتها هي .....  
(آراء - حقائق - وجهات نظر - معتقدات)

ب اذكر نتيجة واحدة: لتلوث المياه.

٣ اكتب ما تشير إليه العبارة:

- ١ - أراضٍ تحيط بها المياه من جميع الجهات. ....
- ٢ - وصف حالة الجو في فترة زمنية طويلة. ....
- ٣ - الأشياء التي يجب أن نحصل عليها لنعيش. ....
- ٤ - جهاز يستخدم لقياس سرعة الرياح. ....
- ٥ - من الحرف المدرجة على قائمة التراث العالمي في منظمة اليونسكو. ....



ب صنف الخدمات الآتية إلى الشخص الذي يقدمها.

( المعلم - عامل النظافة - الطبيب )

الصحة	التعليمية	البيئة
.....	.....	.....

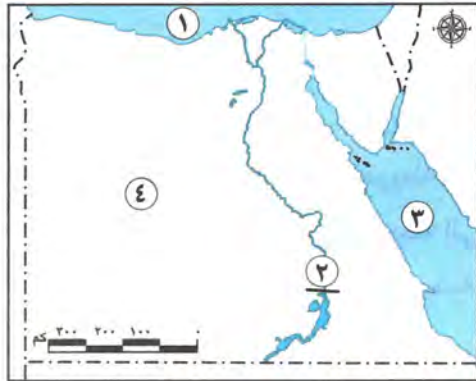
أ صوب ما تحته خط في العبارات الآتية:

- ١ - الحرف التراثية من أهميتها تقليل فرص عمل الشباب.
- ٢ - نشاط تقوم به الدولة لتلبية حاجات أو رغبات المواطنين يقصد به السلع.
- ٣ - قام سيد درويش بكتابة كلمات النشيد الوطني لبلادي.
- ٤ - تقع أرض شدوان داخل البحر الأحمر فهي بذلك تُعد شبه جزيرة.
- ٥ - تقع الصحراء الشرقية بين خليجي السويس والعقبة.

ب اذكر العلم الذي اهتم به كل من الشخصيات الآتية:

- ١ - جمال حمدان. (.....)
- ٢ - طه حسين. (.....)
- ٣ - طلعت حرب. (.....)

١٦ محافظة بني سويف إدارة إهناسيا التعليمية



أ أمامك خريطة صماء لمصر اكتب مدلول الأرقام عليها:

- ١ - البحر .....
- ٢ - السد .....
- ٣ - البحر .....
- ٤ - البيئة .....

ب اذكر سببا:

إنشاء العاصمة الإدارية الجديدة.

أ اكتب كلمة (صواب) أمام العبارة الصحيحة، وكلمة (خطأ) أمام العبارة غير الصحيحة:

- ١ - يتكون العالم من خمس قارات. ( )
- ٢ - يرتبط العيد القومي لمحافظة بني سويف بتاريخية. ( )
- ٣ - البترول أحد مصادر الطاقة المتجددة. ( )
- ٤ - الطقس هو وصف حالة الجو في فترة زمنية قصيرة. ( )

ب ما النتائج المترتبة على:

وجود المياه الجوفية في الصحراء الغربية؟



## ٣ اُ صوب ما تحته خط:

١ - المصادر التأنيوية تتميز بأنها معاصرة للحدث.٢ - قلت أهمية موقع مصر بعد حفر قناة السويس.٣ حرق قش الأرز يؤدي إلى تلوث التربة.٤ - محطة الزعفرانة تولد الكهرباء من الشمس.

ب ما المقصود بـ المناخ؟

## ٤ اُ اختر الإجابة الصحيحة مما بين القوسين:

١ - يدل اللون الأبيض في علم مصر على .....

٢ - يتخذ علم مصر شكل .....

٣ - يسود معظم الأراضي المصرية مناخ .....

(صحراوي - استوائي - مداري - قطبي)

٤ - أحد نماذج ذوي الاحتياجات الخاصة الناجحة هو .....

(جمال حمدان - طه حسين - مجدي يعقوب - أحمد زويل)

ب ما هي مقترحاتك لـ: توفير المياه في مصر؟

## ١٧ محافظة المنيا إدارة أبو قرقاص التعليمية

## ١ اُ لاحظ خريطة مصر جيدًا، ثم استنتج مدلول الأرقام:



١ - يشير رقم (١) على الخريطة إلى البيئة .....

٢ - يشير رقم (٢) على الخريطة إلى البيئة .....

٣ - يشير رقم (٣) على الخريطة إلى البيئة .....

٤ - يشير رقم (٤) على الخريطة إلى بحيرة صناعية

هي بحيرة .....

٥ - يشير رقم (٥) على الخريطة إلى .....

ب أجب عما يأتي:

١ صوب ما المقصود بالحياة المستدامة؟

٢ - اكتب تفسيرًا واحدًا لتلوين منطقة جنوب سيناء على خريطة سطح مصر باللون البني.

## ٢ اُ اختر الإجابة الصحيحة مما بين القوسين:

١ - اللون الذي يدل على السلام في علم مصر هو .....

(الأبيض - الأحمر - الأصفر - الأخضر)

- ٢ - إحدى محافظات الحدود الصحراوية ..... (مطروح - السويس - المنوفية - البحيرة)  
 ٣ - يحد البحر الأحمر مصر من جهة ..... (الغرب - الشمال - الشرق - الجنوب)  
 ٤ - من أكبر البحيرات الصناعية في مصر والعالم بحيرة ..... (قارون - ناصر - إدكو - المنزلة)  
 ٥ - يتسبب حرق قش الأرز في تلوث ..... (المياه - الهواء - التربة - الفضاء)  
 ٦ - يمكنك ترشيد استهلاكك من المياه العذبة من خلال .....  
 (حفر الآبار - بناء السدود - حفر الترغ - غلق الصنبور)

**ب اكتب ما تشير إليه العبارة:**

- ١ - وصف حالة الجو من حيث الحرارة والرياح والأمطار لفترة زمنية قصيرة. (.....)  
 ٢ - مجرى مائي عذب. (.....)

**٣ ا اكتب كلمة (صواب) أمام العبارات الصحيحة وكلمة (خطأ) أمام العبارات غير الصحيحة:**

- ١ - البترول والفحم من مصادر الطاقة التي تحتاج لآلاف السنين لتكوينها. ( )  
 ٢ - تقوم الزراعة على المياه الجوفية في الصحراء الغربية. ( )  
 ٣ - تُعد بحيرة السد العالي من البحيرات الطبيعية. ( )  
 ٤ - يؤدي انتشار الحرف التراثية إلى ارتفاع نسب البطالة. ( )  
 ٥ - لكل طفل الحق في الرعاية والتعليم والصحة. ( )

**ب أجب عما يلي:**

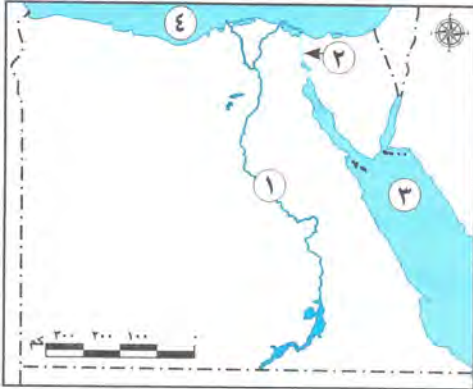
- ١ - حدد اثنين من مظاهر احتفال محافظتك بعيدها القومي.  
 ٢ - اكتب نتيجة واحدة ترتبت على حفر قناة السويس الجديدة.

**٤ ا اكمل العبارات بما يناسبها من بنك الكلمات:**

- (الطاقة - السجاد اليدوي - المتوسط - سطحها - الأحمر - الأولية - حدث تاريخي - ذكرى مهمة)  
 ١ - تطل مصر من جهة الشمال على البحر .....  
 ٢ - لوحة الملك نعرمر (ميناء) أحد المصادر .....  
 ٣ - يرتبط العيد القومي في محافظتي ب .....  
 ٤ - تتميز البيئة الزراعية باستواء .....  
 ٥ - إطفاء المصابيح يساعد على ترشيد استهلاك .....  
 ٦ - تتميز قرية الحرائية بالجيزة بصناعة .....

**ب اذكر:**

- ١ - دليلاً على اهتمام الدولة بذوي الاحتياجات الخاصة.  
 ٢ - اختلافًا واحدًا بين السهل الفيضي والسهل الساحلي.



## ١ أمامك خريطة صماء لمصر اكتب مدلول الأرقام:

- ١ - يشير رقم (١) على الخريطة إلى نهر .....
- ٢ - يشير رقم (٢) على الخريطة إلى قناة .....
- ٣ - يشير رقم (٣) على الخريطة إلى البحر .....
- ٤ - يشير رقم (٤) على الخريطة إلى البحر .....

## ب حدد شيئاً واحداً:

- ١ - لإنشاء العاصمة الإدارية الجديدة.
- ٢ - أهمية معرفة الطقس في حياتنا.

## ٢ اختر الإجابة الصحيحة مما بين القوسين:

- ١ - محافظتي من محافظات .....  
(الوجه البحري - الوجه القبلي - الحدود الصحراوية - القطبية)
- ٢ - يدل النسر في وسط علم مصر على .....  
(الضعف - الثورة - اليأس - القوة)
- ٣ - إذا أردت تلوين السهل الفيضي على خريطة مصر فإنك تختار اللون .....  
(الأخضر - الأصفر - البنّي - الأزرق)
- ٤ - " يتم التقاط الصور الفضائية بواسطة الأقمار الصناعية " تعبر هذه العبارة عن .....  
(رأي - خيال - حقيقة - وجهة نظر)
- ٥ - إذا أردت زيارة أكبر محافظات مصر مساحة فعليك بالتوجه إلى محافظة .....  
(دمياط - المنوفية - الغربية - الوادي الجديد)

## ب بم تفسر: وجود النسر في وسط علم مصر؟

## ٣ أ اكتب كلمة (صواب) أمام العبارة الصحيحة وكلمة (خطأ) أمام العبارة غير الصحيحة:

- ١ - أدى حفر قناة السويس الجديدة إلى زيادة زمن مرور السفن بالقناة. ( )
- ٢ - تقع مصر شمال شرق قارة آسيا. ( )



- ٣ - ساعد نهر النيل قديمًا على زيادة التجارة بين مصر ودول وسط إفريقيا. ( )
- ٤ - تحتفل جميع محافظات مصر بعيد قومي واحد. ( )
- ٥ - الكتب والموسوعات من المصادر الثانوية. ( )

ب حدد الرمز الصحيح لمفتاح الخريطة:

(  )

٤ ا صف العبارات التالية إلى حقوق وواجبات:

- ١ - مذاكرة دروسي والتفوق في دراستي. (.....)
- ٢ - توفير مقاعد لذوي الاحتياجات الخاصة داخل المواصلات العامة. (.....)
- ٣ - وجود مسكن لأعيش فيه حياة كريمة. (.....)

ب الصور التي أمامك تعبر عن بعض الخدمات التي تقدمها الدولة للمواطنين. اذكر الخدمة

التي تعبر عنها كل صورة:



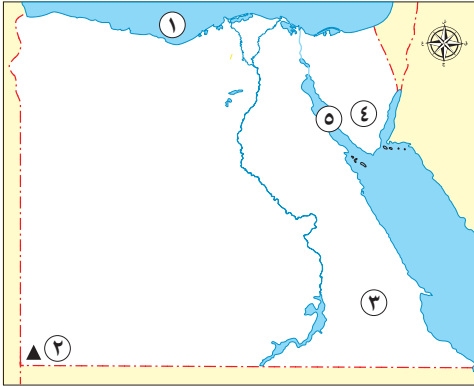
١ - الصورة تعبر عن الخدمات .....



٢ - الصورة تعبر عن الخدمات .....



## السؤال الأول ١ لاحظ الخريطة، ثم أجب:



- ١ يشير رقم (١) إلى البحر .....
- ٢ يشير رقم (٢) إلى جبل .....
- ٣ صواب أم خطأ: يشير رقم (٣) إلى البيئة الصحراوية. ( )
- ٤ يشير رقم (٤) إلى محافظة حدود هي .....
- ٥ يشير رقم (٥) إلى خليج .....

## ب اكتب تفسيرًا واحدًا للعبارات التالية:

- ١ أهمية وجود مفتاح خريطة.
- ٢ أهمية قناة السويس.

## السؤال الثاني ١ اكتب كلمة (صواب) أمام العبارة الصحيحة، وكلمة (خطأ) أمام العبارة غير الصحيحة:

- ١ تُعد لوحة نعرمر مصدرًا أوليًا. ( )
- ٢ يمتد الوطن العربي بين قارتي أوروبا وإفريقيا. ( )
- ٣ تقع محافظات الوجه القبلي في شمال مصر. ( )
- ٤ يدل اللون الأحمر في علم مصر على السلام. ( )
- ٥ النهر هو مجرى مائي عذب. ( )
- ٦ تؤثر حالة الطقس على قراراتك اليومية. ( )

## ب أجب عما يأتي:

- ١ اكتب صناعة واحدة تعتمد على الرمال البيضاء.
- ٢ اكتب مقترحًا واحدًا لترشيد استهلاك المياه.

## السؤال الثالث ١ اختر الإجابة الصحيحة مما بين القوسين:

- ١ يسود معظم الأراضي المصرية مناخ ..... (استوائي - صحراوي - مداري - قطبي)
- ٢ النشيد الوطني لمصر من تلحين ..... (طه حسين - سيد درويش - محمد يونس القاضي - محمد عبد الوهاب)
- ٣ تم إدراج صناعة السجاد اليدوي على قائمة التراث العالمي من منظمة ..... (الصحة العالمية - الفاو - اليونسكو - التجارة العالمية)
- ٤ إصدار النقود من مهام البنك ..... (الأهلي - المركزي المصري - التجاري الدولي - العربي)
- ٥ حماية حدود البلاد ضد أي اعتداء يُعد من الخدمات ..... (الصحية - التعليمية - الأمنية - الثقافية)





## ب حدد نتيجة واحدة ترتبت على ما يلي:

- ١ صعوبة الحصول على المصادر الأولية.
- ٢ موقع مصر الجغرافي المتميز.

## السؤال الرابع أ أكمل العبارات الآتية بما يناسبها من كلمات:

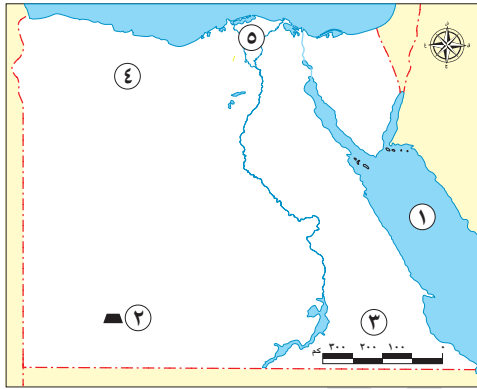
- ١ عانى الدكتور طه حسين من فقدان .....
- ٢ استخدم المصريون نهر النيل في التجارة مع دول وسط .....
- ٣ مسجد عمرو بن العاص أحد المعالم الأثرية في محافظة .....
- ٤ يُلون جبل شايب البنات على الخريطة بلون .....
- ٥ الشعاب المرجانية أحد مميزات ساحل البحر .....
- ٦ أنشأت مصر محطة لتوليد الكهرباء من طاقة الرياح في محافظة .....

## ب دلل على صحة العبارة التالية:

- تعدد حقوق الأطفال التي أكدت عليها الأديان السماوية والمواثيق الدولية.

## الاختبار ٢

## السؤال الأول أ لاحظ الخريطة، ثم أجب:



- ١ يشير رقم (١) إلى البحر .....
- ٢ يشير رقم (٢) إلى هضبة .....
- ٣ يشير رقم (٣) لأحد عناصر الخريطة هو .....
- ٤ اختر: يشير رقم (٤) لمحافظة .....
- ٥ يشير رقم (٥) إلى البيئة .....

## ب أجب عما يأتي:

- ١ اكتب دليلاً واحداً على: تميز القاهرة عن غيرها من المحافظات.
- ٢ ما الذي يعبر عنه اللون الأسود في علم مصر؟

## السؤال الثاني أ أكمل العبارات الآتية بما يناسبها من كلمات:

- ١ وفرت الدولة خط نجدة الطفل رقم ١٦٠٠٠ للتأكيد على حق الطفل في .....
- ٢ يُعد دور الدولة في تنظيف الشوارع والميادين من الخدمات .....
- ٣ عملية إنفاق النقود لشراء الحاجات والرغبات تسمى .....
- ٤ تتركز صناعة النسيج والسجاد اليدوي في محافظة .....



٥ يتم توليد الكهرباء من محطة الكريما في الجيزة عن طريق .....

٦ تنتشر المنخفضات والكثبان الرملية في الصحراء .....

### ب قارن بين:

- الطقس والمناخ: من حيث التعريف.

### السؤال الثالث ١ اكتب كلمة (صواب) أمام العبارة الصحيحة، وكلمة (خطأ) أمام العبارة غير الصحيحة:

- ١ تحيط المياه بجزيرة شدوان من ثلاث جهات. ( )
- ٢ تتخذ جميع محافظات مصر شعارًا واحدًا. ( )
- ٣ يمكن تحديد موقع مكان ما باستخدام الـ GPS. ( )
- ٤ تم حفر قناة سيزوستريس في عهد الملك سنوسرت الثالث. ( )
- ٥ يتكون الماء على كوكب الأرض من ستة محيطات. ( )

### ب بم تفسر؟:

١ أهمية تقييم المعلومات التي تحصل عليها.

٢ تقسيم مصر إلى عدة محافظات.

### السؤال الرابع ١ اختر الإجابة الصحيحة مما بين القوسين:

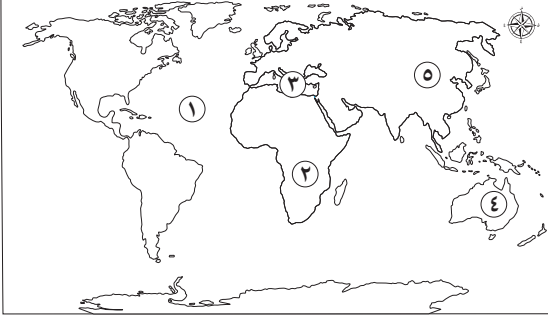
- ١ النسر الذهبي الذي يتوسط علم مصر مأخوذ من نسر .....  
(سيف الدين قطز - جوهر الصقلي - صلاح الدين الأيوبي - المعز لدين الله)
- ٢ "أرض منخفضة تحت مستوى سطح البحر" ينطبق هذا التعريف على .....  
(السهل الفيضي - الهضبة - السهل الساحلي - المنخفض)
- ٣ تقاس كمية المطر باستخدام .....  
(دوارة الرياح - الأنيمومتر - مقياس المطر - الترمومتر)
- ٤ يُستخرج من شبه جزيرة سيناء معدن .....  
(الحديد - المنجنيز - الفوسفات - النحاس)
- ٥ يُعد حرق قش الأرز أحد أسباب تلوث .....  
(التربة - الماء - الهواء - الغذاء)

### ب اكتب نتيجة واحدة ترتبت على:

- ١ إنشاء معرض تراثنا.
- ٢ توافر التربة الخصبة في البيئة الزراعية.



## السؤال الأول أ لاحظ خريطة العالم، ثم أجب:



- ١ يشير رقم (١) إلى المحيط .....
- ٢ يشير رقم (٢) إلى قارة .....
- ٣ يشير رقم (٣) إلى البحر .....
- ٤ صواب أم خطأ: يشير رقم (٤) إلى إحدى قارات العالم القديم. ( )
- ٥ صوب ما تحته خط: يشير رقم (٥) إلى قارة أوروبا.

## ب أجب عما يأتي:

- ١ ماذا يحدث: إذا تم رسم الخريطة بدون مقياس رسم؟
- ٢ ما النتائج المترتبة على: إنشاء البريد المصري؟

## السؤال الثاني أ اختر الإجابة الصحيحة مما بين القوسين:

- ١ تحتفل محافظة القاهرة بعيدها القومي في شهر .....
  - ٢ يتميز سطح البيئة الزراعية بأنه .....
  - ٣ مورد طبيعي لا ينفد رغم كثرة استخدامنا له هو .....
  - ٤ تريد معرفة الكثير عن موقع مصر الجغرافي عليك قراءة مؤلفات .....
  - ٥ تستخدم مادة الطين في صناعة .....
  - ٦ تقدم البنوك للمواطنين خدمات .....
- (يونيو - يوليو - أغسطس - سبتمبر)  
(متعرج - مستو - منخفض - صخري)  
(الفحم - النحاس - البترول - التربة)  
(جمال حمدان - محمد يونس القاضي - طه حسين - محمد طلعت حرب)  
(الزجاج - الفخار - السجاد اليدوي - الخيامية)  
(مصرفية - تجارية - صناعية - سياحية)

## ب بم تفسر؟:

- ١ أهمية مبادرات الدولة للتطوير العمراني.
- ٢ اهتمام الدولة بحقوق ذوي الاحتياجات الخاصة.

## السؤال الثالث أ أكمل العبارات الآتية بما يناسبها من كلمات:

- ١ اتجاه الشمال من الاتجاهات .....
- ٢ يقع منخفض القطارة في الصحراء .....
- ٣ زادت أهمية موقع مصر الجغرافي حديثاً بعد حفر .....
- ٤ الحدود الفاصلة بين المحافظات تسمى .....
- ٥ يدل اللون الأبيض في علم مصر على .....

## ب قارن بين:

– المصادر الأولية والمصادر الثانوية من حيث التعريف.



## السؤال الرابع

أ اكتب كلمة (صواب) أمام العبارة الصحيحة، وكلمة (خطأ) أمام العبارة غير الصحيحة:

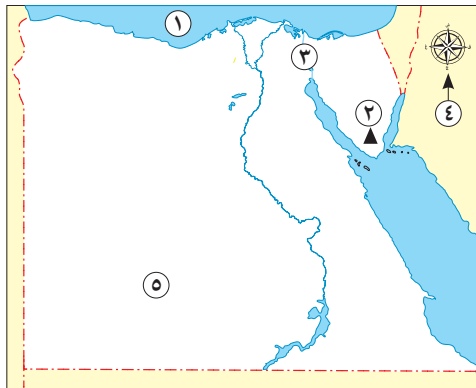
- ( ) ١ يساعد معرفة المناخ في تحديد نوع الملابس اليومية.
- ( ) ٢ تُعد بحيرة ناصر أكبر البحيرات الصناعية في العالم.
- ( ) ٣ تحلية مياه البحر تساعد في توفير مصدر جديد للمياه العذبة.
- ( ) ٤ الكتان من الخامات التي يمكن أن نصنع منها السجاد اليدوي.
- ( ) ٥ يُشرف بنك مصر على جميع البنوك المصرية حالياً.
- ( ) ٦ اهتمام الدولة بإقامة المعارض يُعد من الخدمات الصحية.

ب دل على صحة العبارات التالية:

- ١ يُعد طه حسين نموذجاً مشرفاً لذوي الاحتياجات الخاصة.
- ٢ أهمية الخريطة بالنسبة للسائح.

## الاختبار ٤

السؤال الأول أ لاحظ الخريطة، ثم أجب:



- ١ يشير رقم (١) إلى البحر .....
- ٢ يشير رقم (٢) إلى جبل .....
- ٣ صواب أم خطأ: يشير رقم (٣) إلى قناة السويس. ( )
- ٤ يشير رقم (٤) إلى أحد عناصر الخريطة هو .....
- ٥ اختر: يشير رقم (٥) إلى إحدى محافظات الحدود الصحراوية وهي .....
- (البحر الأحمر - شمال سيناء - جنوب سيناء - الوادي الجديد)

ب ما المقصود بكل مما يأتي؟:

- ١ الشعار. ....
- ٢ التل. ....

السؤال الثاني أ اكتب كلمة (صواب) أمام العبارة الصحيحة، وكلمة (خطأ) أمام العبارة غير الصحيحة:

- ( ) ١ يُستخدم البارومتر لمعرفة اتجاه الرياح.
- ( ) ٢ تُمثل البيئة الزراعية معظم مساحة مصر.
- ( ) ٣ يؤدي سوء استخدام الموارد إلى تعرضها للنفاذ.



- ٤ تُساهم الحرف التراثية في زيادة الدخل القومي لمصر.
- ٥ إنشاء المدارس يُعد من الخدمات البيئية.
- ٦ الالتزام بالقواعد والقوانين من واجباتك.

### ب أجب عما يأتي:

- ١ ما العلاقة بين الاقتصاد المصري ومحمد طلعت حرب باشا؟
- ٢ ما الفرق بين الرأي والحقيقة؟

### السؤال الثالث أ اختر الإجابة الصحيحة مما بين القوسين:

- ١ مساحة كبيرة من الياوس تضم عددًا من الدول تسمى ..... (المحافظة - القارة - المدينة - المحيط)
- ٢ تضمنت خطة تطوير العاصمة إنشاء حي ..... (المطرية - مصر القديمة - الأسمرات - الزيتون)
- ٣ أحد مكونات شعار محافظة القاهرة ..... (مركب شراعي - الأهرامات الثلاثة - جامع السلطان حسن - الجامع الأزهر الشريف)
- ٤ تُلون دلتا النيل باللون الأخضر على الخريطة بسبب وجود ..... (السهول الفيضية - الهضاب - الجبال - السهول الساحلية)
- ٥ يقع بحر الرمال العظيم في البيئة ..... (الزراعية - الساحلية - الصحراوية - الصناعية)

### ب حدد نتيجة واحدة ترتبت على ما يلي:

- ١ إلقاء مياه الصرف الصحي في نهر النيل.
- ٢ اهتمام الدولة بعقد دورات تدريبية للصناع.

### السؤال الرابع أ أكمل العبارات الآتية بما يناسبها من كلمات:

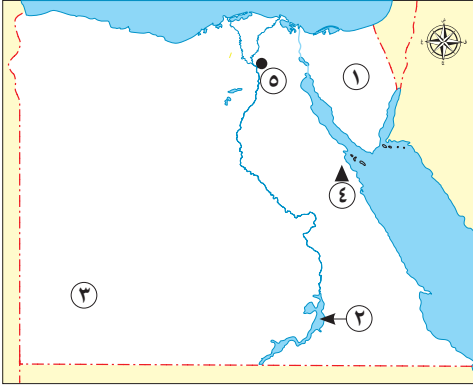
- ١ أرض الفيروز هو اسم يطلق على .....
- ٢ الاستعلام عن فواتير الكهرباء عبر الإنترنت من الخدمات .....
- ٣ يدور طريق رأس الرجاء الصالح حول قارة .....
- ٤ ينتشر الحديد والفوسفات في الصحراء .....
- ٥ حُفرت قناة السويس تحت إشراف مهندسين .....
- ٦ تتركز صناعة الخيامية بالقاهرة في منطقة .....

### ب بم تفسر؟:

- ١ تقسيم مصر إلى عدد من المحافظات.
- ٢ تركز سكان البيئة الصحراوية في الواحات.



السؤال الأول ١ لاحظ الخريطة، ثم أجب:



- ١ يشير رقم (١) إلى شبه جزيرة .....
- ٢ يشير رقم (٢) إلى بحيرة .....
- ٣ صواب أم خطأ: يشير رقم (٣) إلى البيئة الزراعية. ( )
- ٤ يشير رقم (٤) إلى جبل .....
- ٥ يشير رقم (٥) إلى محافظة .....

ب قارن بين:

– الصور الجوية والصور الفضائية من حيث المميزات.

السؤال الثاني ١ أكمل العبارات الآتية بما يناسبها من كلمات:

- ١ تُعد المخاطبات والوثائق الرسمية من المصادر .....
- ٢ «مساحة من الماء المالح ذات أعماق كبيرة» تشير العبارة إلى .....
- ٣ محافظة الأقصر من محافظات الوجه .....
- ٤ مؤسس مدينة القاهرة هو القائد .....
- ٥ يقع في شرق مصر البحر .....
- ٦ يُمكن قياس درجة الحرارة باستخدام .....

ب اكتب تفسيرًا واحدًا لكل مما يلي:

- ١ تنوع البيئات المصرية.
- ٢ قيام الدولة ببناء السدود وحفر الآبار.

السؤال الثالث ١ صوب ما تحته خط:

- ١ تشتهر قرية جراح بصناعة الفخار.
- ٢ تُعد الهواتف المحمولة باهظة الثمن من الحاجات.
- ٣ إقامة الدولة معرض «تراثنا» يُعد من الخدمات الأمنية.
- ٤ التزامك بقواعد المرور في الشارع هو أحد حقوقك.
- ٥ تولى الدكتور طه حسين منصب وزير الصحة.



## ب أجب عما يأتي:

١ دال على صحة العبارة: يختلف مناخ مصر عن مناخ بعض الدول الإفريقية.

٢ ما المقصود بـ: شبه الجزيرة؟

## السؤال الرابع أ اختر الإجابة الصحيحة مما بين القوسين:

١ أصغر محافظات مصر مساحة هي .....

(قنا - دمياط - الشرقية - سوهاج)

٢ كلمات النشيد الوطني المصري من تأليف .....

(أحمد شوقي - حافظ إبراهيم - محمد يونس - محمد عبد الوهاب)

٣ تساعدنا دوارة الرياح في تحديد .....

(كمية المطر - سرعة الرياح - درجة الحرارة - اتجاه الرياح)

٤ المصدر الرئيسي للمياه العذبة في مصر هو .....

(البحر الأحمر - البحر المتوسط - نهر النيل - بحيرة البرلس)

٥ أحد مصادر الطاقة التي لا تنفذ بكثرة الاستهلاك .....

(البتترول - الغاز الطبيعي - الفحم - الرياح)

٦ إنشاء الدولة للمتحف المصري الكبير يُعد من الخدمات .....

(الثقافية - الصحية - التعليمية - الأمنية)

## ب اكتب نتيجة واحدة ترتبت على:

١ اقتراب الجبال من ساحل البحر الأحمر.

٢ سوء استخدام الموارد الطبيعية.



## إجابة الاختبار ١

### السؤال الأول:

- أ ١ المتوسط. ٤ جنوب سيناء. ١ يوضح مدلول الرموز والألوان على الخريطة.
- ٢ العوينات. ٥ السويس. ٢ ساعدت على أن تحتل مصر دورًا مهمًا في التجارة الدولية - تقليص مدة الإبحار بين آسيا وأوروبا - توفير الوقت والمال والجهد مقارنة بالطرق القديمة.

### السؤال الثاني:

- أ ١ صواب. ٤ خطأ. ١ صناعة الزجاج - الخلايا الشمسية.
- ٢ خطأ. ٥ صواب. ٢ أحب بنفسك.

### السؤال الثالث:

- أ ١ صحراوي. ٤ المركزي المصري. ١ استخدام المصادر الثانوية لسهولة الحصول عليها.
- ٢ سيد درويش. ٥ الأمنية. ٢ قديمًا: سهل اتصال مصر بجيرانها تجاريًا وحضاريًا وكانت مصر مركزًا للتجارة بين الشرق والغرب. حديثًا: تضاعف أهمية موقع مصر بعد حفر قناة السويس.

### السؤال الرابع:

- أ ١ البصر. ٤ بنى. ٢ إفريقيا. ٥ الأحمر.
- ٣ القاهرة. ٦ البحر الأحمر. ١ - إجابة استرشادية: حيث له الحق في الاسم المناسب - المسكن اللائق - الحماية - الرعاية الصحية - التغذية الأساسية - التعليم والترفيه.

## إجابة الاختبار ٢

### السؤال الأول:

- أ ١ الأحمر. ٤ مطروح. ١ لأنها مركز تجاري وصناعي وثقافي.
- ٢ الجلف الكبير. ٥ الزراعية. ٢ يعبر عن الظلم الذي تعرضت له مصر في فترات الاستعمار.
- ٣ مقياس الرسم.





### السؤال الثاني:

- أ ١ الحماية. ٢ البيئية. ٣ الاستهلاك.  
٤ الجيزة. ٥ الطاقة الشمسية. ٦ الغربية.  
ب الطقس: هو وصف حالة الجو من حيث الحرارة والرياح والأمطار خلال فترة زمنية قصيرة.  
المناخ: هو وصف حالة الجو من حيث الحرارة والرياح والأمطار خلال فترة زمنية طويلة.

### السؤال الثالث:

- أ ١ خطأ. ٢ خطأ. ٣ صواب.  
٤ صواب. ٥ خطأ. ٦ بسبب اتساع مساحة مصر.  
ب ١ للتأكد من مدى صحة المعلومات.

### السؤال الرابع:

- أ ١ صلاح الدين الأيوبي. ٢ المنخفض. ٣ مقياس المطر.  
٤ المنجنيز. ٥ الهواء. ٦ المنخفض.  
ب ١ ساعد على تسويق منتجات الحرف التراثية.  
٢ تُزرع فيها جميع المحاصيل الزراعية الصيفية والشتوية.

## إجابة الاختبار ٣

### السؤال الأول:

- أ ١ الأطلنطي. ٢ إفريقيا. ٣ المتوسط.  
٤ خطأ. ٥ آسيا. ٦ المتوسط.  
ب ١ لن نستطيع معرفة النسبة بين المسافة على الخريطة وما يقابلها على الطبيعة.  
٢ تقديم الخدمات المصرفية للمواطنين مثل: حسابات التوفير والادخار.

### السؤال الثاني:

- أ ١ يوليو. ٢ مستو. ٣ التربة.  
٤ جمال حمدان. ٥ الفخار. ٦ مصرفية.  
ب ١ لتحسين مستوى معيشة المواطنين.  
٢ لإيمان الدولة بأحقيتهم في الرعاية التي تساعد على أن يكون لهم دور في المجتمع.

### السؤال الثالث:

- أ ١ الأصلية. ٢ الغربية. ٣ قناة السويس.  
٤ حدود إدارية. ٥ السلام. ٦ الغربية.



ب - المصادر الأولية: هي كل ما تم نقشه أو تدوينه سواء من قبل أشخاص عاصروا الحدث أو شاركوا فيه وترتبط بزمن وقوع الحدث.

المصادر الثانوية: هي كل ما تم تدوينه بعد مرور زمن طويل من وقوع الحدث وفي الغالب تستند إلى المصادر الأولية.

### السؤال الرابع:

- أ ١ خطأ. ٢ صواب. ٣ صواب. ٤ صواب.
- ب ١ لأنه تحدى إعاقة فقد البصر و استطاع الحصول على الدكتوراة و تأليف العديد من الكتب والحصول على العديد من الجوائز. ٢ يستخدمها في الوصول للأماكن السياحية والأثرية.

## إجابة الاختبار ٤

### السؤال الأول:

- أ ١ المتوسط. ٢ سانت كاترين. ٣ صواب. ٤ وردة البوصلة.
- ب ١ راية تتخذها المحافظة رمزاً لها تعبر عن نشاط سكانها أو جزء من تاريخها. ٢ أرض مرتفعة قليلاً ولها قمة يقل ارتفاعها عن ١٠٠٠ متر.

### السؤال الثاني:

- أ ١ خطأ. ٢ خطأ. ٣ صواب. ٤ صواب.
- ب ١ أسس محمد طلعت حرب باشا بنك مصر الذي ساعد على دعم المشروعات في المجالات المختلفة وتحرير الاقتصاد المصري من تبعية الاقتصاد الأجنبي. ٢ الحقيقة هي معلومات أو أحداث تم إثبات صحتها والتأكد من دقتها سواء بالبحث أو التجربة. أما الرأي يعبر عما يشعر به أو يفكر فيه شخص ما تجاه موضوع معين.

### السؤال الثالث:

- أ ١ القارة. ٢ الأسمرات. ٣ الجامع الأزهر الشريف. ٤ السهول الفيضية.
- ب ١ يؤدي إلى تلوث المياه والإضرار بصحة الإنسان. ٢ تساعد في توفير فرص عمل للشباب.



### السؤال الرابع:

- أ ١ شبه جزيرة سيناء.  
٤ الغربية.  
ب ١ بسبب اتساع مساحة مصر.  
٢ لوجود المياه الجوفية.
- ٢ الإلكترونية.  
٥ فرنسيين.
- ٣ إفريقيا.  
٦ الأزهر.

## ٥ إجابة الاختبار

### السؤال الأول:

- أ ١ سيناء.  
٤ شايب البنات.  
ب ١ الصور الجوية: تعطينا صورة حقيقية لسطح الأرض ومعالمها مما ساعد في رسم خرائط أكثر دقة وتفصيلاً.  
٢ الصور الفضائية: تغطي مساحات أكبر ومواقع أكثر من الصور الجوية.
- ٢ ناصر.  
٥ القاهرة.
- ٣ خطأ.

### السؤال الثاني:

- أ ١ الأولية.  
٤ جواهر الصقلي.  
ب ١ اتساع مساحة مصر.  
٢ لتوفير مصادر جديدة للمياه العذبة.
- ٢ المحيط.  
٥ الأحمر.
- ٣ القبلي.  
٦ الترمومتر.

### السؤال الثالث:

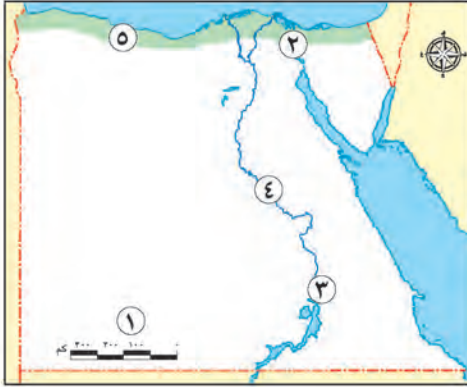
- أ ١ الزجاج.  
٤ واجباتك.  
ب ١ يسود المناخ الصحراوي الحار معظم أراضي مصر بينما بعض دول وسط إفريقيا يسودها مناخ حار وممطر طوال العام.  
٢ مساحة من اليابس تحيط بها المياه من ثلاث جهات.
- ٢ الرغبات.  
٥ المعارف.
- ٣ الترفيهية والثقافية.

### السؤال الرابع:

- أ ١ دمياط.  
٤ نهر النيل.  
ب ١ ضيق البيئة الساحلية عند البحر الأحمر.  
٢ ظهور مشكلات تهدد صحة الإنسان وحياة الكائنات الحية على سطح الأرض.
- ٢ محمد يونس.  
٥ الرياح.
- ٣ اتجاه الرياح.  
٦ الثقافية.



### السؤال الأول (أ) لاحظ الخريطة ثم أجب:



- ١ أحد عناصر الخريطة .....
- ٢ ممر ملاحي هام .....
- ٣ إحدى محافظات الوجه القبلي .....
- ٤ نهر .....
- ٥ بيئة .....

(ب) قارن بين: الصور الجوية والصور الفضائية، من حيث التعريف.

### السؤال الثاني (أ) أكمل العبارات التالية بما يناسبها من كلمات:



زهريّة من الخزف

- ١ يُعد كتاب موسوعة مصر القديمة مصدرًا .....
  - ٢ يتم صناعة المنتج الموجود في الصورة المقابلة من .....
  - ٣ نستخدم الأنيمومتر لقياس .....
  - ٤ يتسبب حرق قش الأرز في تلوث .....
  - ٥ يُعد إنشاء المدارس والجامعات من الخدمات .....
- (ب) حدد: ثلاثة من مظاهر احتفال محافظتك بعيدها القومي.

### السؤال الثالث (أ) اكتب كلمة (صواب) أمام العبارة الصحيحة، وكلمة (خطأ) أمام العبارة غير الصحيحة:

- ١ ربطت قناة سيزوستريس بين البحرين الأحمر والمتوسط عن طريق نهر النيل قديمًا. ( )
- ٢ المحيط الهادي يُعتبر مساحة واسعة من المياه المالحة ذات أعماق كبيرة. ( )
- ٣ يتوسط علم مصر الحالي نجمتان باللون الأخضر. ( )
- ٤ أنشأت الدولة مدينة لصناعة الجلود في الروبيكي. ( )
- ٥ يُعد الدكتور طه حسين من النماذج المشرفة لذوي الاحتياجات الخاصة. ( )

(ب) بم تفسر: ظلت القاهرة عاصمة لمصر عبر العصور؟



- ١ أحد ألوان علم مصر ويدل على السلام .....  
(الذهبي - الأسود - الأحمر - الأبيض)
- ٢ يشير اللون الأزرق على خريطة التضاريس إلى .....  
(الهضاب - الجبال - السهول - البحار)
- ٣ أكبر البحيرات الصناعية في العالم بحيرة .....  
(قارون - ناصر - إدكو - المنزلة)
- ٤ أحد مصادر الطاقة المتجددة .....  
(الشمس - الفحم - البترول - الغاز الطبيعي)
- ٥ الخبير الاقتصادي الذي أسس بنك مصر عام ١٩٢٠ م .....  
(جمال حمدان - سيد درويش - طلعت حرب - محمد فريد)



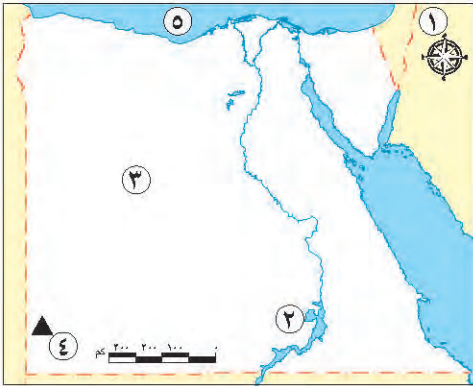
(ب) لاحظ الصورة ثم أجب:

- ١ ما اسم مهنة صاحب الصورة؟ .....
- ٢ هل هي مهنة قديمة أم حديثة؟ .....
- ٣ هل سيزداد الطلب عليها في المستقبل؟ .....



## الاختبار ٢

### السؤال الأول ( أ ) لاحظ الخريطة، ثم أجب:



- ١ أحد عناصر الخريطة .....
- ٢ بحيرة .....
- ٣ بيئة .....
- ٤ جبل .....
- ٥ مورد مياه مالحة .....

### (ب) صوب ما تحته خط:

- ١ تُعد لوحة نارمر من المصادر الثانوية.
- ٢ مساحة واسعة من الأرض المرتفعة مستوية أو شبه مستوية السطح هي الجبل.

### السؤال الثاني ( أ ) أكمل العبارات التالية بما يناسبها من كلمات:

- ١ يعمل سكان المناطق الفيضية بحرفة .....
  - ٢ إحدى الحرف المدرجة على قائمة التراث العالمي لليونسكو هي .....
  - ٣ دراسة حالة الجو لفترة زمنية طويلة يسمى .....
  - ٤ تعد محافظة مطروح من محافظات .....
  - ٥ تقع مصر في شمال شرق قارة .....
- (ب) حدد: ثلاثة أسباب لإطلاق الدولة مبادرة «اتحضر للأخضر».

### السؤال الثالث ( أ ) اكتب كلمة (صواب) أمام العبارة الصحيحة، وكلمة (خطأ) أمام العبارة غير الصحيحة:

- ١ الحدود التي تفصل بين محافظتي والمحافظات المجاورة تسمى حدوداً إدارية. ( )
- ٢ تحتفل محافظة القاهرة بعيدها القومي في ذكرى رحيل الإنجليز عن مصر. ( )
- ٣ يُعد الحديد والمنجنيز من الموارد المتجددة. ( )
- ٤ التعليم والترفيه من الحقوق التي توفرها لك الدولة. ( )
- ٥ يُعد كتاب شخصية مصر من أشهر مؤلفات الجغرافي جمال حمدان. ( )

### (ب) بم تفسر: أهمية الخريطة في حياتنا؟ يكتفى باثنين.



## السؤال الرابع (أ) اختر الإجابة الصحيحة مما بين القوسين:

- ١ اللون المناسب للدلتا على خريطة التضاريس هو .....  
(الأخضر - الأصفر - البني - الأزرق)
- ٢ إحدى المهن التي سنحتاج إليها في المستقبل .....  
(بائع شرائط الفيديو - بائع شرائط الكاست - ساعي البريد - خبير طاقة شمسية)
- ٣ البنك الذي من مهامه إصدار النقود هو .....  
(بنك القاهرة - البنك الأهلي المصري - بنك مصر - البنك المركزي المصري)
- ٤ بناء المستشفيات يُعد من الخدمات .....  
(التعليمية - الصحية - الأمنية - الثقافية)
- ٥ تتلوث مياه نهر النيل نتيجة .....  
(حرق قش الأرز - الصرف الزراعي - دخان المصانع - عوادم السيارات)

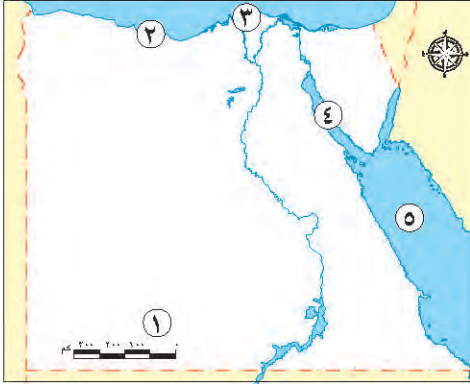
## (ب) حلل علم مصر وأكمل مكان النقاط:

١ - اللون .....  
٢ - طائر .....  
٣ - يدل هذا اللون على .....



## الاختبار ٣

### السؤال الأول (أ) لاحظ الخريطة ثم أجب:



١ صواب أم خطأ: يشير رقم (١) إلى أحد عناصر الخريطة. ( )

٢ البيئة .....

٣ يستخرج من المنطقة رقم ٣ الرمال .....

٤ منطقة لاستخراج البترول .....

٥ البحر .....

(ب) صف مما يتكون شعار محافظتك.

### السؤال الثاني (أ) أكمل العبارات التالية بما يناسبها من كلمات:

١ تُلْتَقَط الصور الجوية بواسطة .....

٢ احترام علم بلدنا مصر واجب وطني لأنه .....

٣ تعتمد الحياة في البيئة الصحراوية على المياه .....

٤ يُعَد المتحف المصري من أنواع الخدمات .....

٥ عملية إنفاق النقود لشراء الحاجات والرغبات تسمى .....

٦ أُطْلِق لقب أبي الاقتصاد المصري على .....

(ب) قارن بين:

- الرأي والحقيقة من حيث التعريف.

### السؤال الثالث (أ) اكتب كلمة (صواب) أمام العبارة الصحيحة، وكلمة (خطأ) أمام العبارة غير الصحيحة:

١ تُعد قارة إفريقيا من قارات العالم القديم. ( )

٢ أصغر المحافظات المصرية من حيث المساحة هي كفر الشيخ. ( )

٣ تُلون الجبال على خريطة التضاريس باللون البني. ( )

٤ تنتشر صناعة الفخار في العديد من القرى المصرية. ( )

٥ نقطة التقاء الوجه البحري والقبلي التي تم اختيارها عاصمة لمصر هي الإسكندرية. ( )

(ب) ما رأيك في؟:

- الخدمات التي تقدمها الدولة للمواطن المصري.





- ١ تنصح صديقك الأجنبي الراغب في التعرف على موقع مصر الجغرافي بقراءة مؤلفات .....  
(سيد درويش - محمد يونس القاضي - جمال حمدان - المسيو فرديناد ديليسبس)
- ٢ إحدى المهن التي سنحتاج إليها في المستقبل .....  
(بائع شرائط الفيديو - بائع شرائط الكاسيت - مهندس معماري مبدع - مشغل المحولات الهاتفية)
- ٣ الطقس والمناخ يختلفان في .....  
(الفترة الزمنية - درجة الحرارة - سرعة الرياح - كمية الأمطار)
- ٤ أكثر البيئات المصرية التي تنتشر بها مشكلة حرق قش الأرز هي البيئة .....  
(الصحراوية - الزراعية - الساحلية - الصناعية)
- ٥ (لم تكن الإعاقة مانعًا من حصوله على لقب عميد الأدب العربي) تنطبق هذه العبارة على .....  
(سيد درويش - جمال حمدان - طه حسين - محمد علي)
- ٦ ملحن النشيد الوطني لمصر هو .....  
(سيد درويش - محمد يونس القاضي - طه حسين - طلعت باشا حرب)

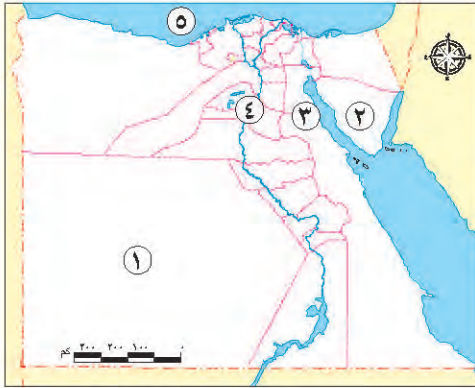
(ب) ما العلاقة بين كل من؟:

- التكنولوجيا والمناخ.



## الاختبار ٤

### السؤال الأول (أ) لاحظ الخريطة ثم أجب:



- ١ محافظة .....
- ٢ جبل .....
- ٣ محطة لتوليد الكهرباء من .....
- ٤ نهر .....
- ٥ البحر .....

### (ب) ما النتائج المترتبة على؟

– حفر قناة السويس الجديدة.

### السؤال الثاني (أ) أكمل العبارات التالية بما يناسبها من كلمات:

- ١ مؤلف كلمات النشيد الوطني لجمهورية مصر العربية هو .....
- ٢ مؤسس مدينة القاهرة هو القائد .....
- ٣ تُعد جزيرة شيدوان من أهم الجزر في البحر .....
- ٤ تنتمي دولة مالوي إلى مناخ الإقليم المداري الحار، وبالتالي فإن أمطارها تكون في فصل .....
- ٥ يُعد اللون الأحمر مهمًا في علم مصر لأنه يرمز إلى .....
- ٦ قيام الدولة بتنظيف الشوارع في منطقتك السكنية يعد من الخدمات .....

### (ب) وضح ما يلي:

– كيف تقيّم المعلومات التاريخية التي تحصل عليها؟

### السؤال الثالث (أ) اكتب كلمة (صواب) أمام العبارة الصحيحة، وكلمة (خطأ) أمام العبارة غير الصحيحة:

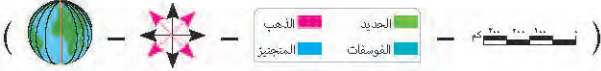
- ١ استخدم المصريون القدماء طريق رأس الرجاء الصالح للتجارة بين شمال مصر وجنوبها. ( )
- ٢ يُعد طه حسين من النماذج المشرفة لذوي الاحتياجات الخاصة. ( )
- ٣ تقوم مصر حاليًا بإنشاء عاصمة جديدة لتقليل الضغط السكاني وتكسب الخدمات بالعاصمة الحالية. ( )
- ٤ تستخدم الرمال البيضاء في صناعة الخزف. ( )
- ٥ تُعد ودة البوصلة أحد أهم عناصر الخريطة. ( )

### (ب) أجب عما يلي:

– اكتب سببًا واحدًا لأهمية البنوك في المجتمع.



١ الرمز الصحيح لمفتاح الخريطة هو .....



٢ إحدى المناطق التابعة للبيئة الصحراوية في مصر .....

(دلتا النيل - وادي النيل - منخفض الفيوم - جبل العوينات)

٣ يتوقع الخبراء أن يزيد الطلب مستقبلاً على وظيفة .....

(ساعي البريد - خبير طاقة شمسية - بائع اللبن - مشغل المحولات الهاتفية)

٤ الحرفة التراثية التي يوجد شارع باسمها في منطقة الأزهر بمحافظة القاهرة هي حرفة صناعة .....

(الفخار - الزجاج - الخيامية - الجلود)

٥ قيام الدولة بإنشاء الجامعات في المحافظات يعد من الخدمات .....

(الثقافية - الصحية - الأمنية - التعليمية)

٦ تشير الشمس في شعار محافظة القاهرة إلى أهمية .....

(موقع القاهرة - الجامع الأزهر الشريف - مناخ القاهرة - قلعة صلاح الدين)

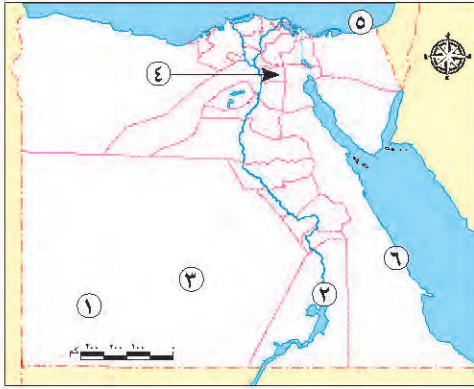
(ب) حدد أوجه الشبه والاختلاف بين كل من:

- الطقس والمناخ.



## الاختبار ٥

### السؤال الأول (أ) لاحظ الخريطة ثم أجب:



- ١ هضبة .....
- ٢ تُعد المحافظة رقم ٢ من محافظات الوجه .....
- ٣ البيئة .....
- ٤ محافظة .....
- ٥ تجذب الشعاب المرجانية السائحين لزيارة المنطقة رقم .....

### (ب) فسر ما يلي:

– يتوسط علم مصر نسر ذهبي.

### السؤال الثاني (أ) أكمل العبارات التالية بما يناسبها من كلمات:

- ١ يُستخدم لقياس سرعة الرياح جهاز .....
- ٢ تحتفل محافظتي بعيدها القومي بمناسبة .....
- ٣ تدخل الرمال البيضاء في صناعة الخلايا الشمسية و .....
- ٤ تُلون السهول على خريطة التضاريس باللون .....
- ٥ تأسس بنك مصر على يد .....
- ٦ عميد الأدب العربي وأحد النماذج المشرفة لذوي الاحتياجات الخاصة هو الدكتور .....

### (ب) ما المقصود بكل من؟:

– المحيط.

### السؤال الثالث (أ) اكتب كلمة (صواب) أمام العبارة الصحيحة، وكلمة (خطأ) أمام العبارة غير الصحيحة:

- ١ تُستخدم الأقمار الصناعية في التقاط الصور الفضائية. ( )
- ٢ تقيم الدولة معرض "تراثنا" من أجل إحياء الحرف التراثية. ( )
- ٣ يدل اللون الأبيض على الظلم الذي تعرضت له مصر في فترات الاستعمار. ( )
- ٤ أشاد عالم الجغرافيا المصري جمال حمدان بموقع مصر الجغرافي. ( )
- ٥ تُعتبر المصادر الأولية أقل دقة من المصادر الثانوية. ( )

### (ب) ما واجبك تجاه؟:

– مشكلة تلوث المياه.



- ١ «يمر نهر النيل داخل مصر»، تعد العبارة السابقة .....  
(رأياً - حقيقة - خيالاً - ادعاءً)
- ٢ التطعيم الذي يحصل عليه طلاب المدارس يُعد من الخدمات .....  
(الصحية - التعليمية - الأمنية - البيئية)
- ٣ يستفيد التلميذ من الخريطة في .....  
(تحديد خط سير السفينة - الترجمة - تحديد طرق سير السيارات - المذاكرة)
- ٤ المورد الطبيعي الذي يتعرض للنفاذ نتيجة الإسراف في استخدامه .....  
(التربة - الشمس - البترول - الهواء)
- ٥ إحدى المهن المطلوبة مستقبلاً بسبب زيادة استخدام الروبوتات هي .....  
(المهندس المعماري - خبراء الطاقة الشمسية - عمال البناء المهرة - متخصص الذكاء الاصطناعي)
- ٦ وضع الأساس لمدينة القاهرة عام ٩٦٩ م القائد .....  
(جوهر الصقلي - صلاح الدين الأيوبي - محمد علي - سيف الدين قطز)

(ب) وضح دليلاً واحداً على:

- اهتمام الدستور المصري بحقوق الأطفال وذوي الاحتياجات الخاصة.



## إجابة الاختبار ١

### السؤال الأول:

(أ)

- ١ مقياس الرسم. ٢ قناة السويس. ٣ أسوان. ٤ النيل. ٥ ساحلية.

(ب)

الصورة الجوية	الصورة الفضائية
- صور للأماكن يتم التقاطها من مكان مرتفع باستخدام الطائرات.	- صور للأماكن يتم التقاطها باستخدام الأقمار الصناعية.

### السؤال الثاني:

(أ)

- ١ ثانويًا. ٢ الرمال السوداء. ٣ سرعة الرياح. ٤ الهواء. ٥ التعليمية.

(ب)

- (يجيب الطالب في ضوء ما تم دراسته في مظاهر الاحتفال بالعيد القومي للمحافظة).

### السؤال الثالث:

(أ)

- ١ صواب. ٢ صواب. ٣ خطأ. ٤ صواب. ٥ صواب.

(ب)

- بسبب موقعها المتميز حيث إنها نقطة التقاء الوجه البحري والوجه القبلي.

### السؤال الرابع:

(أ)

- ١ الأبيض. ٢ البحار. ٣ ناصر. ٤ الشمس. ٥ طلعت حرب.

(ب)

- ١ رائد فضاء. ٢ حديثة. ٣ نعم، سيزداد الطلب عليها.



## إجابة الاختبار ٢

### السؤال الأول:

(أ)

- ١ ورده البوصلة. ٢ ناصر. ٣ صحراوية. ٤ العوينات. ٥ البحر المتوسط.

(ب)

- ١ الأولية. ٢ الهضبة.

### السؤال الثاني:

(أ)

- ١ الزراعة. ٢ صناعة النسيج والسجاد اليدوي. ٣ المناخ. ٤ الحدود الصحراوية. ٥ إفريقيا.

(ب)

- أطلقتها الدولة لتشجع المواطنين على:  
- المشاركة في الحفاظ على البيئة.  
- التشجير وإعادة تدوير المخلفات.  
- ترشيد استهلاك الغذاء والطاقة.

### السؤال الثالث:

(أ)

- ١ صواب. ٢ خطأ. ٣ خطأ. ٤ صواب. ٥ صواب.

(ب)

- يستخدمها كل من:  
- التلميذ في المذاكرة.  
- الفلاح في تحديد ملكية الأراضي الزراعية.



## السؤال الرابع:

(أ)

- ١ الأخضر. ٢ خبير طاقة شمسية. ٣ البنك المركزي المصري.  
٤ الصحية. ٥ الصرف الزراعي.

(ب)

- ١ الأحمر. ٢ النسر.  
٣ الظلم الذي تعرضت له مصر في فترات الاستعمار.

## إجابة الاختبار ٣

### السؤال الأول:

(أ)

- ١ صواب. ٢ الساحلية. ٣ السودان.  
٤ خليج السويس. ٥ الأحمر.

(ب)

– يصف التلميذ الرموز الموجودة في شعار محافظته. (تقبل كافة الإجابات الصحيحة)

### السؤال الثاني:

(أ)

- ١ الطائرات. ٢ رمز للدولة. ٣ الجوفية.  
٤ الثقافية. ٥ الاستهلاك. ٦ محمد طلعت باشا حرب.

(ب)

– الرأي هو تعبير عما يشعر به أو يفكر فيه شخص ما تجاه موضوع معين.  
الحقيقة هي معلومات أو أحداث تم إثبات صحتها والتأكد من دقتها سواء من خلال البحث أو التجريب.  
(تقبل إجابات الطلاب المتوافقة مع التعريفات السابقة)





### السؤال الثالث:

(أ)

- ١ صواب. ٢ خطأ. ٣ صواب. ٤ صواب. ٥ خطأ.

(ب)

- يعبر التلميذ عن رأيه مدعماً إياه بالأدلة في ضوء أن الدولة تقدم العديد من الخدمات للمواطن المصري منها الخدمات التعليمية والثقافية والترفيهية والصحية والأمنية والبيئية، بالإضافة لبعض الخدمات الرقمية. (تقبل كافة الإجابات الصحيحة والمنطقية)

### السؤال الرابع:

(أ)

- ١ جمال حمدان. ٢ مهندس معماري مبدع. ٣ الفترة الزمنية. ٤ الزراعة. ٥ طه حسين. ٦ سيد درويش.

(ب)

- تعمل الأقمار الصناعية على جمع بيانات دقيقة عن عناصر الطقس ويقوم الخبراء بتجميعها واستخدام أجهزة الكمبيوتر في تحليلها وتوقع حالة الطقس، كما يمكننا تحميل أحد برامج الطقس على أجهزة الهواتف المحمولة ومتابعة حالة الطقس، وبالتالي هناك علاقة وثيقة بين المناخ والتكنولوجيا حيث تساعد التكنولوجيا في دراسة المناخ. (تقبل جميع الإجابات الصحيحة)

## إجابة الاختبار ٤

### السؤال الأول:

(أ)

- ١ الوادي الجديد. ٢ سانت كاترين. ٣ الرياح. ٤ النيل. ٥ المتوسط.

(ب)

- أدى إلى: زيادة أهمية موقع مصر الجغرافي - تقليل زمن مرور السفن في القناة - استيعاب سفن أكبر حجماً وحمولة - السماح بمرور السفن في الاتجاهين. (يكتفى بإثنتين)



## السؤال الثاني:

(أ)

- ١ محمد يونس القاضي. ٢ جواهر الصقلي.  
٣ الأحمر. ٤ الصيف.  
٥ مرحلة النضال ودماء الشهداء من أجل الحرية. ٦ البيئية.

(ب)

- عن طريق معرفة اسم المؤلف وتخصصه ومعرفة مكانته العلمية وتحديد هل شارك في الحدث وقت حدوثه وتحديد هدف المؤلف من النص والمقارنة بين المعلومات الواردة في المصدر بمصادر أخرى للتأكد من صحتها. (تقبل كافة الإجابات الصحيحة)

## السؤال الثالث:

(أ)

- ١ خطأ. ٢ صواب. ٣ صواب.  
٤ خطأ. ٥ صواب.

(ب)

- حيث تقدم البنوك عدة خدمات منها قبول الودائع - وفتح الحسابات المختلفة - وإعطاء الأموال (القروض) للمستثمرين مما يساهم في دعم مئات المشروعات على مستوى الجمهورية. (يكتفى بإجابة واحدة)

## السؤال الرابع:

(أ)

- ١ الذهب المنجيز ٢ جبل العوينات. ٣ خبير طاقة شمسية.  
٤ الخيامية. ٥ التعليمية. ٦ الجامع الأزهر الشريف.

(ب)

وجه المقارنة	الطقس	المناخ
أوجه الشبه	كلاهما وصف لحالة الجو من حيث الحرارة والرياح والأمطار وغيرها.	
أوجه الاختلاف	وصف حالة الجو لفترة زمنية قصيرة يوم أو أسبوع أو شهر.	وصف لحالة الجو لفترة زمنية طويلة فصل أو سنة ...



## إجابة الاختبار ٥

### السؤال الأول:

(أ)

- ١ الجلف الكبير. ٢ القبلي. ٣ الصحراوية. ٤ القاهرة. ٥ .٦

(ب)

- حيث يرمز إلى قوة مصر وعراقة حضارتها.

### السؤال الثاني:

(أ)

- ١ الأنيومتر. ٢ يجيب التلميذ بحسب محافظته. ٣ الزجاج. ٤ الأخضر. ٥ محمد طلعت باشا حرب. ٦ طه حسين.

(ب)

- هو مساحة واسعة من المياه المالحة ذات أعماق كبيرة.

### السؤال الثالث:

(أ)

- ١ صواب. ٢ صواب. ٣ خطأ. ٤ صواب. ٥ خطأ.

(ب)

- عدم تلويث المياه (تقبل كافة الإجابات الصحيحة والمنطقية ويكتفى بإجابة واحدة في ضوء أن المياه تتعرض للتلوث من المصانع والصرف الصحي ومياه الصرف الزراعي).

### السؤال الرابع:

(أ)

- ١ حقيقة. ٢ الصحية. ٣ المذاكرة. ٤ البترول. ٥ متخصص الذكاء الاصطناعي. ٦ جوهر الصقلي.

(ب)

- الدليل وجود مادة (٨٠) من الدستور والتي أكدت على حق الطفل في الرعاية والتعليم والصحة والمسكن وغير ذلك، كما يوجد في الدستور أيضاً المادة (٨١) والتي تتضمن مواد تتعلق بحماية ذوي الاحتياجات الخاصة.



### السؤال الأول أكمل العبارات التالية بما يناسبها من كلمات:

- ١ لُقِبَ محمد طلعت حرب باشا بـ .....
- ٢ أكدت المادة (٨٠) من الدستور على ..... الأطفال.
- ٣ تُعد محافظتك جزءًا من البيئة .....
- ٤ سُميت الصحراء السوداء بهذا الاسم لأن سطحها يغطيه بقايا .....

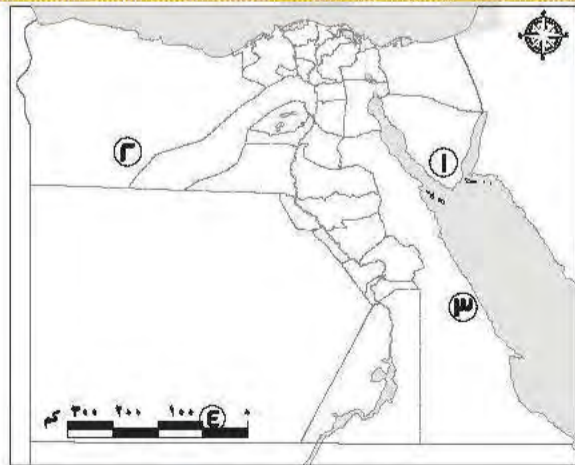
### السؤال الثاني اكتب كلمة (صواب) أمام العبارة الصحيحة، وكلمة (خطأ) أمام العبارة غير الصحيحة:

- ١ الصورتان الجوية والفضائية مختلفتان. ( )
- ٢ يختلف مناخ مصر عن مالوي. ( )
- ٣ جميع الموارد الطبيعية متجددة. ( )
- ٤ يزيد الادخار كلما زاد معدل الاستهلاك. ( )

### السؤال الثالث اختر الإجابة الصحيحة مما بين القوسين:

- ١ يعد المحيط الهادي جزءًا من .....  
(الماء - التلال - الجبال - الهضاب)
- ٢ يدل النسر الذهبي في علم مصر على .....  
(دماء الشهداء - ظلم الاستعمار - القوة - التضحية)
- ٣ توجد السهول الفيضية في البيئة .....  
(الساحلية - الزراعية - الصحراوية - الصناعية)
- ٤ تسعى الدولة المصرية لحماية البيئة فأطلقت مبادرة .....  
(نور الحياة - حياة كريمة - اتحضر للأخضر - قادرون باختلاف)

### السؤال الرابع أمامك خريطة صماء لمصر، اكتب مدلول الأرقام عليها:



محافظات مصر

- ١ جبل .....
- ٢ البيئة .....
- ٣ مكان يُستخرج منه معدن .....
- ٤ أحد عناصر الخريطة .....



## السؤال الخامس أجب عما يلي:

١) وضح كيف يمكنك ترشيد استهلاك المياه.

.....

.....

.....

٢) ما النتائج المترتبة على حفر قناة السويس الجديدة؟ (يُكتفى باثنتين)

.....

.....

.....

٣) فسر سبب تنوع سطح مصر.

.....

.....

.....

٤) صنف الأماكن التالية حسب نوع الخدمة.

(هيئة المصل واللقاح - المتحف المصري - قسم الشرطة)

خدمة أمنية	خدمة صحية	خدمة ترفيهية وثقافية



## الاختبار ٢

### السؤال الأول أكمل العبارات التالية بما يناسبها من كلمات:

- ١ نحدد الاتجاه الصحيح على الخريطة باستخدام .....
- ٢ التعبير عن وجهات النظر الشخصية والتي قد تكون صحيحة أو خطأ يسمى .....
- ٣ أنشأت الدولة مدينة لصناعة الجلود في .....
- ٤ تنتشر مناجم الحديد في الصحراء .....

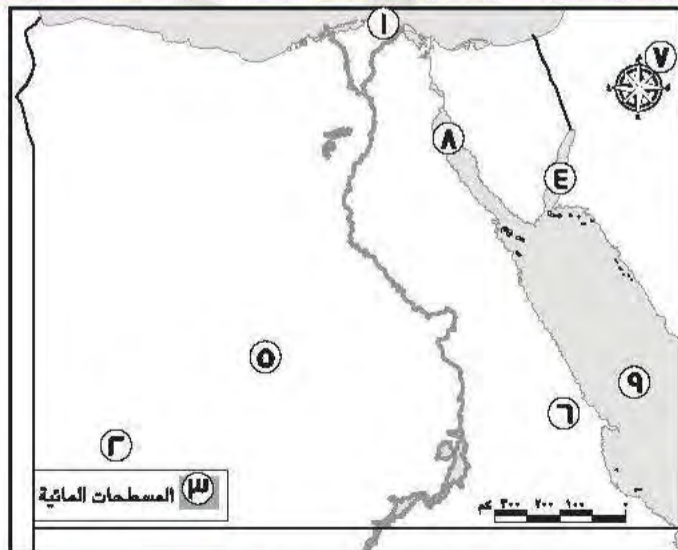
### السؤال الثاني اكتب كلمة (صواب) أمام العبارة الصحيحة، وكلمة (خطأ) أمام العبارة غير الصحيحة:

- ١ ظهرت مهنة مُشغّل المحولات الهاتفية مع ظهور الهواتف الذكية. ( )
- ٢ أقر طه حسين حق التعليم المجاني لكل المصريين. ( )
- ٣ يلون منخفض القطارة على الخريطة باللون البنّي الفاتح. ( )
- ٤ تساهم العاصمة الإدارية في تخفيف الضغط عن محافظة القاهرة. ( )

### السؤال الثالث اختر الإجابة الصحيحة مما بين القوسين:

- ١ إحدى قارات العالم الجديد وتقع جنوب آسيا .....  
(أوروبا - أمريكا الشمالية - أمريكا الجنوبية - أستراليا)
- ٢ يقع بحر الرمال في البيئة .....  
(الساحلية - الزراعية - الصحراوية - الصناعية)
- ٣ أحد مصادر الطاقة التي تنفذ باستخدامنا لها .....  
(الرياح - الشمس - البترول - الأمواج)
- ٤ البنك المسئول عن إصدار النقود الورقية هو .....  
(بنك مصر - بنك القاهرة - البنك المركزي المصري - البنك العربي الإفريقي)

### السؤال الرابع لاحظ الخريطة التالية واختر الرقم الدال على كل جملة:



جمهورية مصر العربية

- ١ أصغر محافظات مصر مساحة رقم (.....)
- ٢ هضبة الجلف الكبير رقم (.....)
- ٣ خليج السويس رقم (.....)
- ٤ الصحراء الغربية رقم (.....)



## السؤال الخامس أجب عما يلي:

(يكتفى باثنين)

١ كيف يمكنك تقييم المعلومات التي تجدها في كتاب ما ؟

---

---

---

٢ حدد اثنين من الأنشطة الاقتصادية التي تتأثر بحالة الطقس.

---

---

---

٣ فسر سبب ظهور السحابة السوداء.

---

---

---

٤ وضح كيف تهتم الدولة بالحرف التراثية.

---

---

---

التعلم



## الاختبار ٣

### السؤال الأول أكمل العبارات التالية بما يناسبها من كلمات:

- ١ تدخل الرمال البيضاء في صناعة الزجاج و .....
- ٢ يُلون جبل "كليمنجارو" على خريطة التضاريس باللون .....
- ٣ أنشأ ..... بنك مصر عام ١٩٢٠ م.
- ٤ يريد أحد السياح التمتع بالشعاب المرجانية في مصر، إذن فعليه زيارة سواحل .....

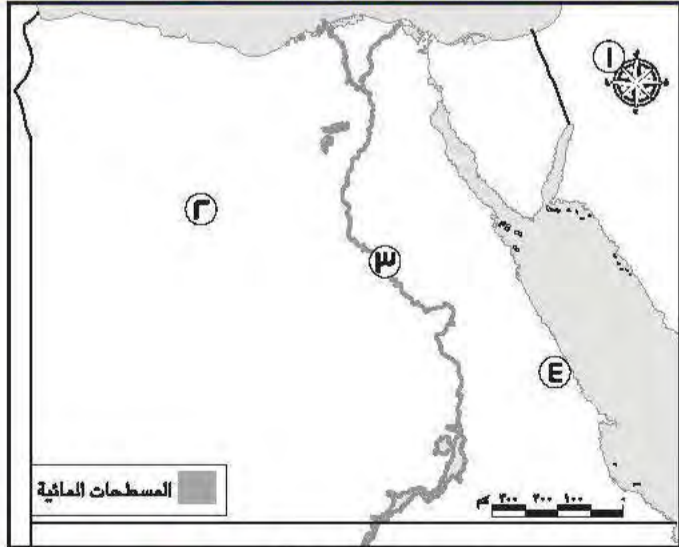
### السؤال الثاني اكتب كلمة (صواب) أمام العبارة الصحيحة، وكلمة (خطأ) أمام العبارة غير الصحيحة:

- ١ يجب أن أحافظ على نظافة البيئة التي أعيش فيها. ( )
- ٢ تُعد لوحة نارمر أحد المصادر الثانوية التي يمكن الاعتماد عليها. ( )
- ٣ أوروبا هي مساحة واسعة من اليابس تضم عددًا من الدول بداخلها. ( )
- ٤ طه حسين هو أحد الشخصيات الشهيرة التي تكلمت عن أهمية موقع مصر الجغرافي. ( )

### السؤال الثالث اختر الإجابة الصحيحة مما بين القوسين:

- ١ البنك المسئول عن إصدار النقود في مصر هو .....  
(البنك المركزي المصري - بنك مصر - بنك القاهرة - البنك التجاري الدولي)
- ٢ أحد المنتجات التي نحصل عليها من مدينة الروبيكي هي .....  
(حذاء جلدي - قُلة فخار - سجادة يدوية - سلة خوص)
- ٣ من مصادر الطاقة التي لا تنفذ بكثرة استخدامنا لها .....  
(البتترول - الفحم - الشمس - الغاز الطبيعي)
- ٤ يمكنك معرفة اتجاه الرياح في محافظتك باستخدام .....  
(الترمومتر - دوارة الرياح - الأنيموميتر - مقياس المطر)

### السؤال الرابع لاحظ الخريطة التالية، ثم أجب:



جمهورية مصر العربية



- ١ أحد عناصر الخريطة .....
- ٢ معدن ينتشر في الصحراء الغربية .....
- ٣ مجرى من الماء العذب .....
- ٤ البيئة .....



## السؤال الخامس أجب عما يلي:

١ صنف الأماكن التالية حسب نوع الخدمة التي تقدمها: ( جامعة القاهرة - ساقية الصاوي - قسم شرطة قصر النيل )

خدمة أمنية	خدمة تعليمية	خدمة ثقافية

٢ حدد مظهرين من مظاهر احتفال محافظتك بالعيد القومي.

.....

.....

.....

٣ وضح سبب وجود النسر وسط علم مصر.

.....

.....

.....

٤ وضح أهمية الخريطة للسائحين.

.....

.....

.....



## الاختبار ٤

### السؤال الأول أكمل العبارات التالية بما يناسبها من كلمات:

- ١ تقع مصر في الركن الشمالي الشرقي لقارة .....
- ٢ يرتبط العيد القومي لمحافظةتي بذكرى .....
- ٣ يقوم خبراء الأرصاد الجوية بقياس سرعة الرياح باستخدام جهاز .....
- ٤ أحد النماذج المشرفة لذوي الاحتياجات الخاصة، وأقر مجانية التعليم هو الدكتور .....

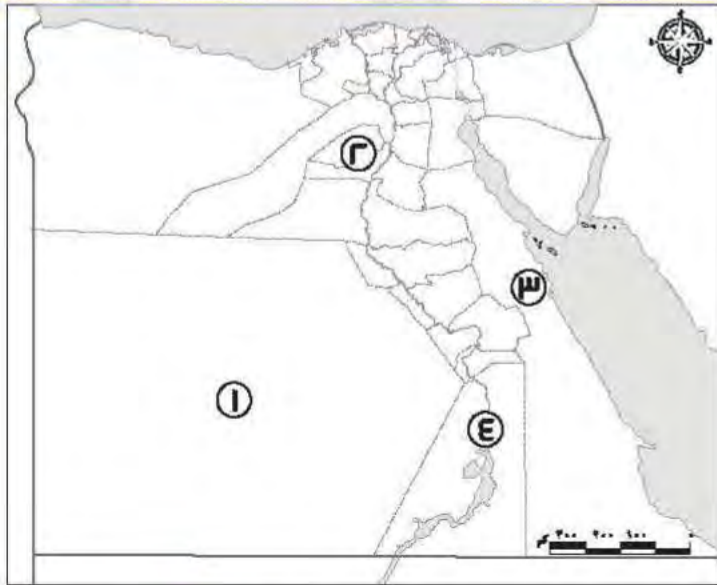
### السؤال الثاني اكتب كلمة (صواب) أمام العبارة الصحيحة، وكلمة (خطأ) أمام العبارة غير الصحيحة:

- ١ تُعتبر بردية إيبريس في الطب مصدرًا أوليًا. ( )
- ٢ يتوسط علم مصر نسر لونه أحمر يدل على قوة مصر وعراقة حضارتها. ( )
- ٣ الاستخدام السيئ للطاقة المتجددة يعرضها للتلوث. ( )
- ٤ تقل نسبة تلوث الهواء في القاهرة. ( )

### السؤال الثالث اختر الإجابة الصحيحة مما بين القوسين:

- ١ تقوم الزراعة على المياه الجوفية في .....  
(وادي النيل - الصحراء الغربية - منخفض الفيوم - دلتا النيل)
- ٢ أدى التقدم الإعلامي بداية القرن العشرين إلى اختفاء وظيفة .....  
(المنادي ناقل الأخبار - بائع الصحف والمجلات - محرر صحفي بجريدة - مسئول طباعة الجرائد)
- ٣ إحدى الحرف التراثية المنتشرة في منطقة الأزهر بالقاهرة هي .....  
(الزجاج - السجاد اليدوي - الخيامية - الفخار)
- ٤ تُعتبر سيارة الإسعاف من الخدمات .....  
(الأمنية - التعليمية - الثقافية - الصحية)

### السؤال الرابع أمامك خريطة صماء لمصر، اكتب مدلول الأرقام عليها:



محافظات مصر

- ١ محافظة .....
- ٢ بيئة .....
- ٣ جبل .....
- ٤ السد .....



## السؤال الخامس اجب عما يلي:

١ حدد اثنين من أهم أعمال محمد طلعت باشا حرب.

---

---

---

٢ ما هو واجبك تجاه أفراد أسرتك؟

---

---

---

٣ ما أوجه التشابه بين البنوك المصرية والبريد المصري؟

---

---

---

٤ هات دليلاً على صحة هذه العبارة: كان جمال حمدان عالماً جغرافياً محباً لوطنه.

---

---

---



## الاختبار ٥

### السؤال الأول أكمل العبارات التالية بما يناسبها من كلمات:

- ١ النشيد الوطني الرائع لبلادنا مصر هو من ألحان الفنان المبدع .....
- ٢ تعد محافظتك من محافظات .....
- ٣ يتسبب حرق قش الأرز في تلوث .....
- ٤ دراسة حالة الجو العام الماضي هي دراسة لحالة .....

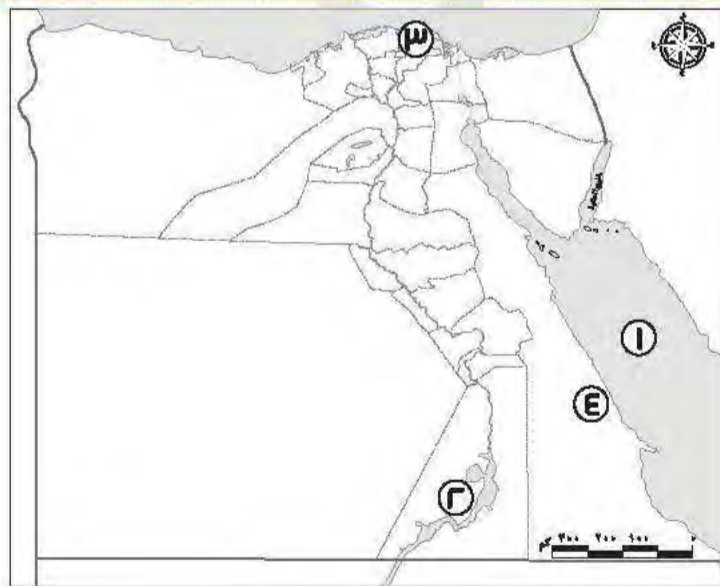
### السؤال الثاني صوب ما تحته خط:

- ١ أقر طه حسين التعليم المدفوع.
- ٢ الراية التي تعبر عن محافظتي تسمى علمًا.
- ٣ تربط قناة سيزوستريس حاليًا بين البحرين الأحمر والمتوسط.
- ٤ مؤلف كتاب شخصية مصر هو طلعت حرب.

### السؤال الثالث اختر الإجابة الصحيحة مما بين القوسين:

- ١ نرّمز للشهداء في علم مصر باللون .....
  - ٢ "شواطئ مرسى علم هي أجمل شواطئ مصر" تعبر العبارة السابقة عن .....
  - ٣ البيئة الأكبر مساحة في مصر هي البيئة .....
  - ٤ تتعدد الجهود الدولية لحماية الأطفال ومنها .....
- (الأحمر - الأبيض - الأسود - الذهبي)
- (حقيقة - رأي - خيال - قصة)
- (الزراعية - الصحراوية - الصناعية - الساحلية)
- (مبادرة ١٠٠ مليون صحة - قانون الطفل المصري - اتفاقية حقوق الطفل - مبادرة حياة كريمة)

### السؤال الرابع أمامك خريطة صماء لمصر، لاحظها ثم أجب:



محافظات مصر

- ١ يشير رقم (.....) لمنطقة لاستخراج الذهب.
- ٢ يشير رقم (.....) لقرية جراح بمحافظة الدقهلية.
- ٣ يشير رقم (.....) للبحر الأحمر.
- ٤ يشير رقم (.....) لأكبر البحيرات الصناعية في العالم.



## السؤال الخامس أجب عما يلي:

١ لماذا تعد الخريطة مهمة لبعض الطيارين؟

---

---

---

٢ بم تفسر : أهمية البنك المركزي المصري؟

---

---

---

٣ ما العلاقة بين التكنولوجيا وتطور الوظائف في المستقبل؟

---

---

---

٤ ما الفرق بين الجزيرة والبحيرة؟

البحيرة	الجزيرة



## إجابة الاختبار ١

### السؤال الأول:

- ١ أبي الاقتصاد المصري.
- ٢ حقوق.
- ٣ تُترك للتلميذ حسب محافظته.
- ٤ الحمم البركانية.

### السؤال الثاني:

- ١ صواب.
- ٢ صواب.
- ٣ خطأ.
- ٤ خطأ.

### السؤال الثالث:

- ١ الماء.
- ٢ القوة.
- ٣ الزراعية.
- ٤ اتحضر للأخضر.

### السؤال الرابع:

- ١ سانت كاترين.
- ٢ الصحراوية.
- ٣ الذهب.
- ٤ مقياس الرسم.

### السؤال الخامس:

- ١ اجابة استرشادية: يمكنني غلق صنوبر المياه أثناء تنظيف أسناني.
- ٢ اجابة استرشادية:  
- تقليل زمن مرور السفن.  
- السماح بمرور السفن في الاتجاهين.
- ٣ لأنه يتنوع بين المناطق المرتفعة والمناطق السهلية والمناطق المنخفضة.
- ٤

خدمة أمنية	خدمة صحية	خدمة ترفيهية وثقافية
قسم الشرطة	هيئة المصل واللقاح	المتحف المصري



## إجابة الاختبار ٢

### السؤال الأول:

- ١ ورده البوصلة.  
٢ رأي.  
٣ الروبيكي بمدينة بدر.  
٤ الغربية.

### السؤال الثاني:

- ١ خطأ.  
٢ صواب.  
٣ خطأ.  
٤ صواب.

### السؤال الثالث:

- ١ أستراليا.  
٢ الصحراوية.  
٣ البترول.  
٤ البنك المركزي المصري.

### السؤال الرابع:

- ١ (١)  
٢ (٢)  
٣ (٨)  
٤ (٥)

### السؤال الخامس:

- ١ - إجابة استرشادية: عن طريق:  
- معرفة اسم المؤلف وتخصصه ومكانته العلمية.  
- التأكد من مشاركة وقت حدوث الحدث.  
٢ - إجابة استرشادية: الزراعة - النقل.  
٣ - بسبب حرق قش الأرز.  
٤ - تقوم الدولة برعاية مصالح العمال.  
- إجابة استرشادية: تسويق المنتجات عن طريق المعارض والمهرجانات.  
- إعداد البرامج التدريبية.  
- إنشاء مدن مُخصصة لبعض الصناعات.



## إجابة الاختبار ٣

### السؤال الأول:

- ١ الخليا الشمسية.  
٣ طلعت حرب.

- ٢ البُني.  
٤ البحر الأحمر.

### السؤال الثاني:

- ١ صواب.  
٣ صواب.

- ٢ خطأ.  
٤ خطأ.

### السؤال الثالث:

- ١ البنك المركزي المصري.  
٣ الشمس.

- ٢ حذاء جلدي.  
٤ دوارة الرياح.

### السؤال الرابع:

- ١ وردة البوصلة.  
٣ نهر النيل.

- ٢ الحديد.  
٤ الساحلية.

### السؤال الخامس:

- ١

#### خدمة ثقافية

ساقية الصاوي

#### خدمة تعليمية

جامعة القاهرة

#### خدمة أمنية

قسم شرطة قصر النيل

- ٢ إجابة استرشادية: تزيين الشوارع - رفع علم مصر وشعار المحافظة.  
٣ لأن النسر يرمز إلى قوة مصر وعراقة حضارتها.  
٤ يستخدمها السائحون للوصول إلى الأماكن الأثرية والسياحية.





## إجابة الاختبار ٤

### السؤال الأول:

- ١ إفريقيا.
- ٢ يجيب عنها التلميذ بحسب محافظته.
- ٣ الأنيمومتر.
- ٤ طه حسين.

### السؤال الثاني:

- ١ صواب.
- ٢ خطأ.
- ٣ صواب.
- ٤ خطأ.

### السؤال الثالث:

- ١ الصحراء الغربية.
- ٢ المنادي ناقل الأخبار.
- ٣ الخيامية.
- ٤ الصحية.

### السؤال الرابع:

- ١ الوادي الجديد.
- ٢ زراعية.
- ٣ شايب البنات ( الشايب).
- ٤ وردة البوصلة.

### السؤال الخامس:

- ١ إجابة استرشادية: أسس بنك مصر عام ١٩٢٠م - ألف العديد من الكتب التي ناقشت بعض قضايا مصر والعالم الإسلامي.
- ٢ إجابة استرشادية : أن أساعدهم في أعمال المنزل.
- ٣ إجابة استرشادية: كلاهما يقدم خدمات مالية وكلاهما منتشر في أنحاء الجمهورية.
- ٤ إجابة استرشادية: حيث قدم كتابه الرائع " شخصية مصر " والذي يتحدث فيه عن مميزات موقع مصر الجغرافي بشيء من التفصيل، والذي احتاج لإتمامه إلى عشر سنوات من العمل والجهد مما يدل على مثابرتة من أجل تحقيق هدفه وبالتالي حبه لوطنه مصر .



## إجابة الاختبار ٥

### السؤال الأول:

- ١ سيد درويش.
- ٢ يجيب التلميذ بحسب محافظته بإحدى هذه الإجابات (الوجه البحري - الوجه القبلي - الحدود).
- ٣ الهواء.
- ٤ المناخ.

### السؤال الثاني:

- ١ المجاني.
- ٢ شعار.
- ٣ السويس.
- ٤ جمال حمدان.

### السؤال الثالث:

- ١ الأحمر.
- ٢ رأي.
- ٣ الصحراوية.
- ٤ اتفاقية حقوق الطفل.

### السؤال الرابع:

- ١ (٤)
- ٢ (٣)
- ٣ (١)
- ٤ (٢)

### السؤال الخامس:

- ١ إجابة استرشادية: لأنها تساعدهم في تحديد المواقع ومعرفة خط سير الطائرات.
- ٢ حيث يقوم بإصدار النقود، والإشراف على جميع البنوك المصرية، والإشراف على المؤسسات المصرفية الأخرى بما في ذلك البريد المصري.
- ٣ إجابة استرشادية: أدى التطور التكنولوجي إلى استحداث مهن جديدة مثل متخصصي الذكاء الاصطناعي وذلك بسبب الحاجة إلى استخدام الروبوت.
- ٤

البحيرة	الجزيرة
هي مساحة من المياه يحيط بها اليابس من جميع الجهات.	هي مساحة من الأرض تحيط بها المياه من جميع الجهات.





# امتحانات المحافظات والإدارات ٢٠٢٢/٢٠٢٣ م

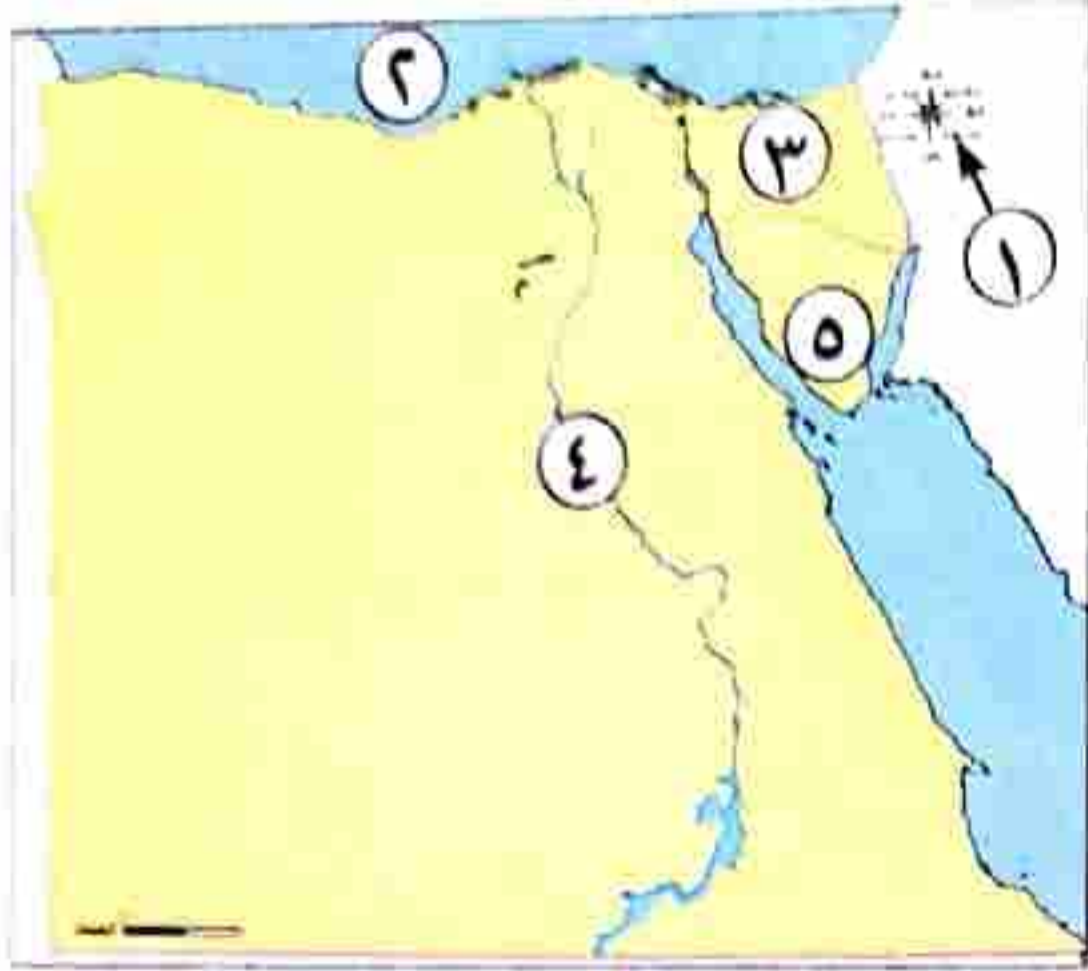
(\*) تم تعديل الامتحانات طبقاً لأحدث تعديلات وزارة لسنة ٢٠٢٤ م

امتحانات  
2024

مجاب عليه

١ محافظة القاهرة (إدارة المعادى التعليمية)

(١) لاحظ الخريطة، ثم أجب:



- عنصر من عناصر الخريطة .....
- البحر .....
- إحدى محافظات الحدود .....
- مورد للمياه العذبة .....
- شبه جزيرة .....

أجب عن السؤالين الآتيين:

اكتب تفسيراً: للرمال البيضاء أهمية اقتصادية\* .

اكتب نتيجة واحدة تترتب على وجود المياه الجوفية في الصحراء الغربية\* .

١) اختر الإجابة الصحيحة مما بين القوسين:

- المعلومات التي تم التأكد من صحتها هي .....
- (حقائق - آراء - خيال - معتقدات)
- مساحة شاسعة من المياه المالحة ذات أعماق كبيرة، تنطبق هذه العبارة على .....
- (نهر النيل - البحر المتوسط - المحيط الهادى - بحيرة ناصر)
- يدل اللون .....
- (الذهبي - الأسود - الأحمر - الأبيض)
- تحتفل العاصمة المصرية بعيدها القومى فى ذكرى .....
- (بناء مدينة القاهرة - بناء الجامع الأزهر - حفر قناة السويس - جلاء القوات الإنجليزية)
- إنشاء الحدائق والمنتزهات، يعتبر من الخدمات .....
- (الترفيهية - الثقافية - الأمنية - الصحية)
- مساحة واسعة من اليابس تضم عددًا من الدول، تنطبق هذه العبارة على .....
- (إفريقيا - مصر - أسبوط - الدلتا)

صوب ما تحته خط:

لمعرفة اتجاه الرياح نستخدم الترمومتر.

يقوم البنك الأهلى بإصدار النقود الورقية.



**السؤال الثالث** ( ١ ) اكتب كلمة (صواب) أمام العبارة الصحيحة، وكلمة (خطأ) أمام العبارة غير الصحيحة:

- ١ تلون بحيرة البرلس على الخريطة باللون البنى.
- ٢ يتم توليد الطاقة الكهربائية من السد العالى.
- ٣ تنتشر صناعة الفخار فى شارع الخيامية فى القاهرة.
- ٤ لكل محافظة شعاري عبر عن نشاط سكانها أو جزء من تاريخها.
- ٥ البترول والفحم من مصادر الطاقة التى تحتاج لآلاف السنين لتكوينها.

(ب) صنف المصدرين التاليين داخل الجدول:

- موسوعة التاريخ الحديثة - خطاب رسمى للملك فاروق

مصدر ثانوى

مصدر اولى

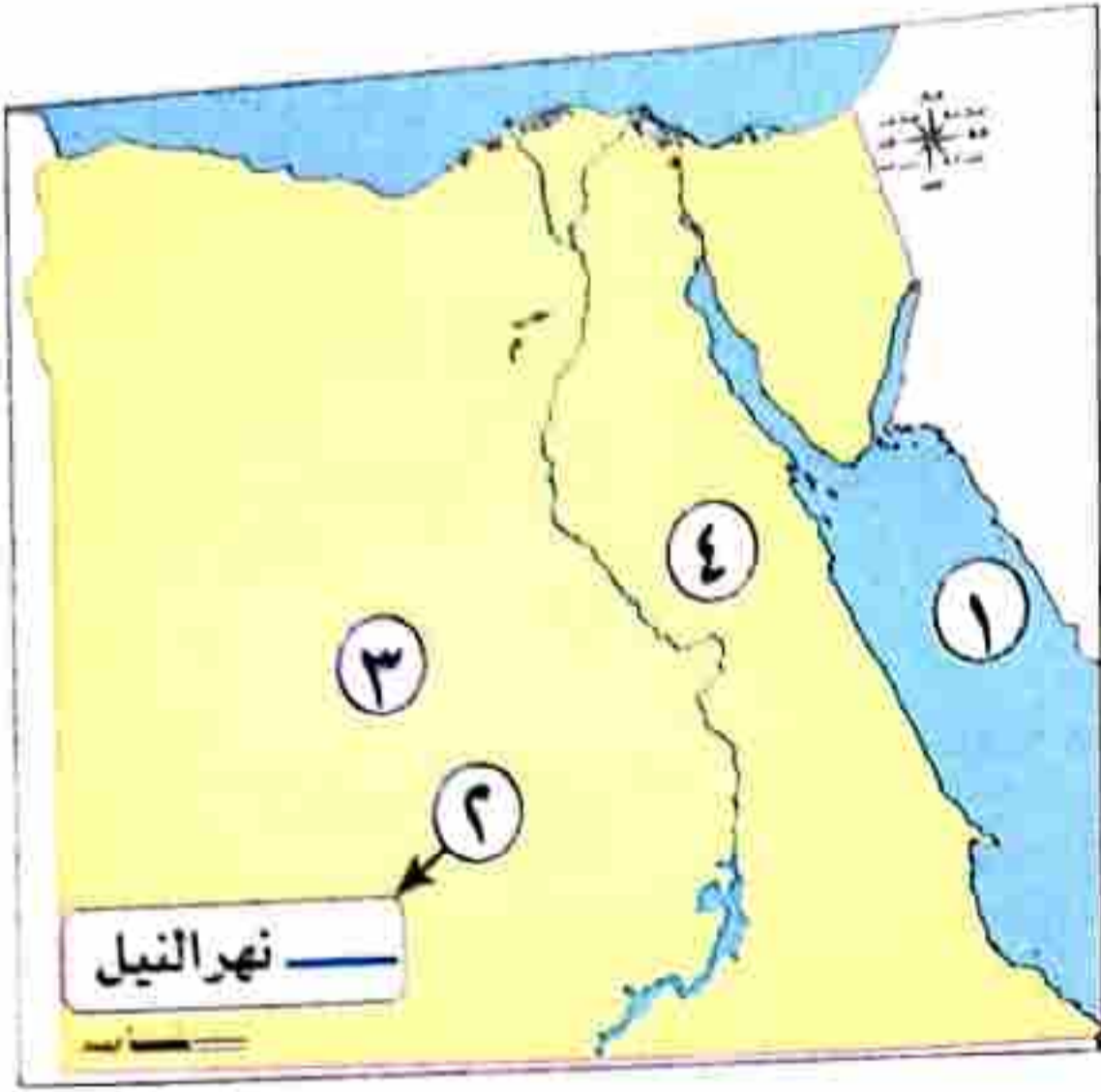
**السؤال الرابع** ( ١ ) صل من العمود ( أ ) ما يناسب العمود ( ب ):

(ب)	(أ)
أ- حق التغذية السليمة	١- يقوم بتصغير المسافات الحقيقية لرسمها على الخريطة
ب- تخزين مياه الأمطار*	٢- السجاد اليدوى من الحرف
ج - مقياس الرسم	٣- حصول الأطفال الرضع على الألبان المليئة بالفيتامينات.
د- المدرج على قائمة التراث العالمى	٤- تسعى الدولة لتوفير المياه من خلال*

(ب) أكمل العبارات الآتية بما يناسبها من كلمات:

- ١ تلتقط الصور الجوية بواسطة.....
- ٢ تعد محافظة الأقصر من محافظات الوجه.....
- ٣ أطول أنهار العالم يقع فى البيئة.....
- ٤ يسبب حرق قش الأرز تلوثًا.....

(أ) أمامك خريطة صماء لمصر، وضح مدلول الأرقام عليها:



يشير رقم (١) إلى البحر .....

يشير رقم (٢) إلى .....

يشير رقم (٣) إلى محافظة .....

الصحراء .....

اصل الجمل الآتية بما يناسبها من العمود الآخر:

(ب)	(أ)
الخريطة	١- جزيرة تقع في البحر الأحمر
القطارة	٢- تستخدم في تحديد المواقع
شدوان	٣- أكبر المنخفضات في مصر

(أ) صنف العلاقات المتشابهة:

الأنيمومتر - الأزهر - الهواء - البنك المركزي

تقوم بإصدار النقود	تُقاس سرعة الرياح بـ	* أدخنة المصانع تلوث	توجد صناعة الخيامية في

١- صوب ما تحته خط فيما يلي:

١- يعبر اللون الأسود في علم مصر عن السلام.

٢- من مصادر الطاقة الحفرية الشمس.

٣- من الخدمات الصحية بناء المدارس.

٤- لحل مشكلة تلوث المياه استخدام الدراجات.

### السؤال الثالث ( ١ ) اختر الإجابة الصحيحة مما بين القوسين:

- ١ من الحرف المدرجة على قائمة التراث العالمي لليونسكو صناعة .....  
( ورق البردي - الفخار - الزجاج - السجاد المصري )
  - ٢ «قناة السويس تصل بين البحر الأحمر والبحر المتوسط». هذه العبارة تعبر عن .....  
( حقيقة - رأى - وجهة نظر - مقول )
  - ٣ آسيا هي مساحة واسعة من اليابسة، تضم عدة دول، فهي بذلك تكون .....  
( محافظة - دولة - قارة - جزيرة )
  - ٤ عند كتابة بحث عن أهمية موقع مصر الجغرافي، يمكنك الاستعانة بأحد مؤلفات .....  
( طه حسين - جمال حمدان - محمد يونس - سيد درويش )
  - ٥ وضع حجر الأساس لمدينة القاهرة .....  
( أحمد بن طولون - عمرو بن العاص - خالد بن الوليد - جوهر الحظي )
- (ب) اكتب سببًا واحدًا لإطلاق الدولة حملة ١٠٠ مليون صحة.

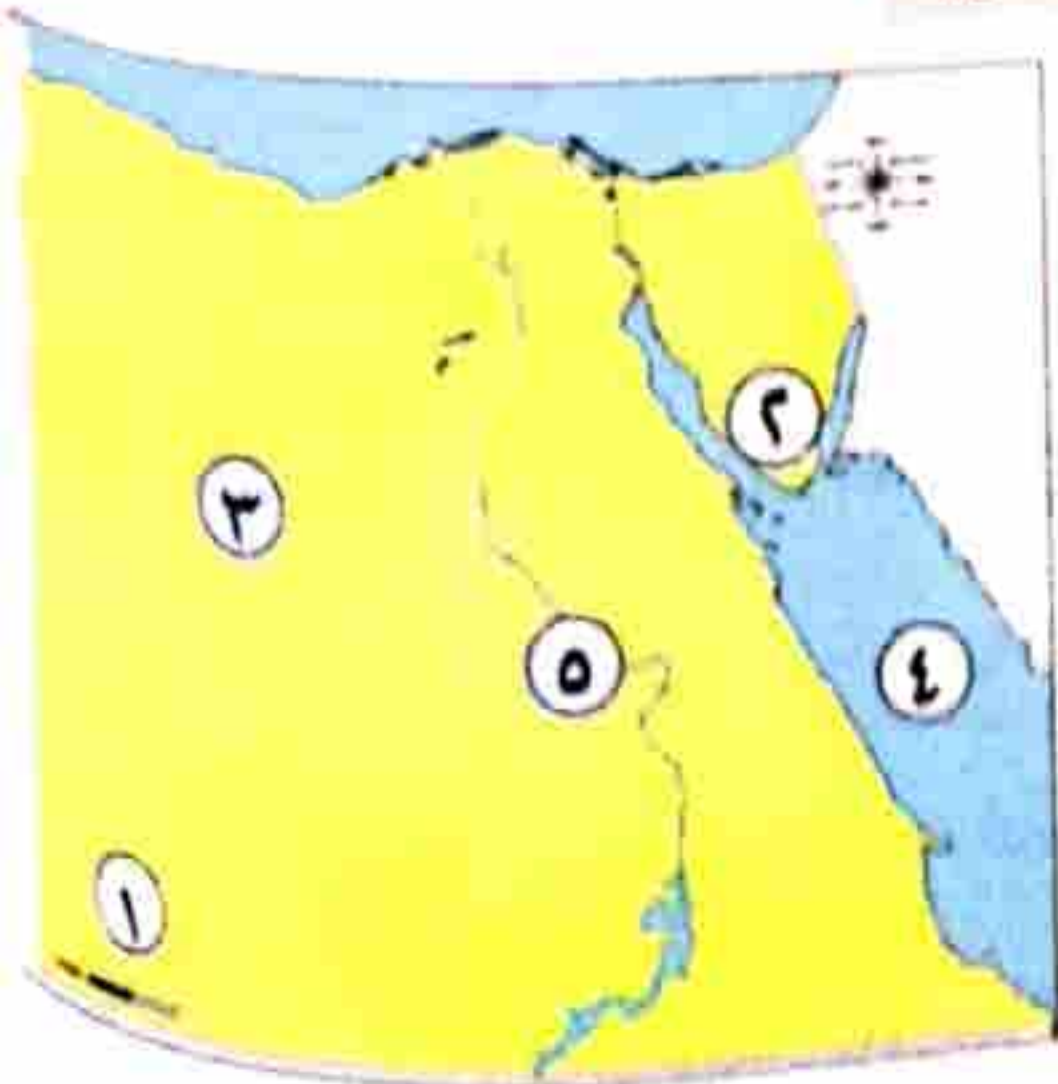
### السؤال الرابع ( ١ ) اكتب كلمة (صح) أمام العبارات الصحيحة، وكلمة (خطأ) أمام العبارات غير الصحيحة:

- ١ يتكون العالم من سبع قارات وثلاثة محيطات. )
- ٢ الحياة المستدامة هي أسلوب حياة يهدف إلى التعامل بشكل مسنول مع موارد بيئتنا وترشيد استهلاكنا لها\* . )
- ٣ استخدم نهر النيل كطريق للتجارة بين مصر ودول آسيا. )
- ٤ أنت تتمتع بحقوق، ولديك واجبات لا بد من القيام بها. )
- ٥ نعرف المسافة بين القاهرة والإسكندرية من عنوان الخريطة. )
- ٦ تعتبر محافظة الجيزة من محافظات الحدود. )

(ب) ما النتائج المترتبة على : سوء استخدامنا للموارد الطبيعية ؟

### ٣ محافظة الجيزة (إدارة الشيخ زايد التعليمية) غير مجاب عنه

### السؤال الأول ( ١ ) أمامك خريطة صماء لمصر، وضح مدلول الأرقام عليها:



- ١ هضبة .....
- ٢ جبل .....
- ٣ الصحراء .....
- ٤ البحر .....
- ٥ نهر .....

أجب عن السؤالين الآتيين:  
ما سبب تلوث الهواء؟

حدد سببًا واحدًا لأهمية الخريطة.

**السؤال الثاني** (1) ضع علامة (✓) أمام العبارة الصحيحة، وعلامة (X) أمام العبارة غير الصحيحة فيما يلي:

- لكل طفل الحق في الرعاية والتعليم والصحة. ( )  
يمكنك الاستمتاع بالشعاب المرجانية عند زيارتك لسواحل البحر المتوسط. ( )  
يتغير المناخ من يوم إلى آخر كما يتغير عدة مرات في اليوم الواحد. ( )  
إطفاء المصابيح غير المستخدمة يعد من أشكال ترشيد استهلاك الطاقة. ( )

أبم تفسر...؟

أهمية قناة السويس.

الأهمية الاقتصادية للرمال البيضاء.

**السؤال الثالث** (1) اختر الإجابة الصحيحة مما بين القوسين فيما يلي:

تقع مصرفي الركن ..... من قارة إفريقيا.  
(الشمالي الغربي - الشمالي الشرقي - الجنوبي الغربي - الشمالي)

عاصمة جمهورية مصر العربية .....  
(الجيزة - الدقهلية - أسيوط - القاهرة)

يوجد في شعار الخاص بمحافظة القاهرة جامع .....  
(عمرو بن العاص - أحمد بن طولون - الأزهر الشريف - السلطان حسن)

ما النتائج المترتبة على...؟

حرق قش الأرز.

وجود المياه الجوفية في الصحراء الغربية\* .

**السؤال الرابع** ( ١ ) أكمل العبارات التالية بكلمات مناسبة من بين القوسين:

(الزعفرانة - السجاد اليدوي - مصر - ١٠٠ مليون صحة)

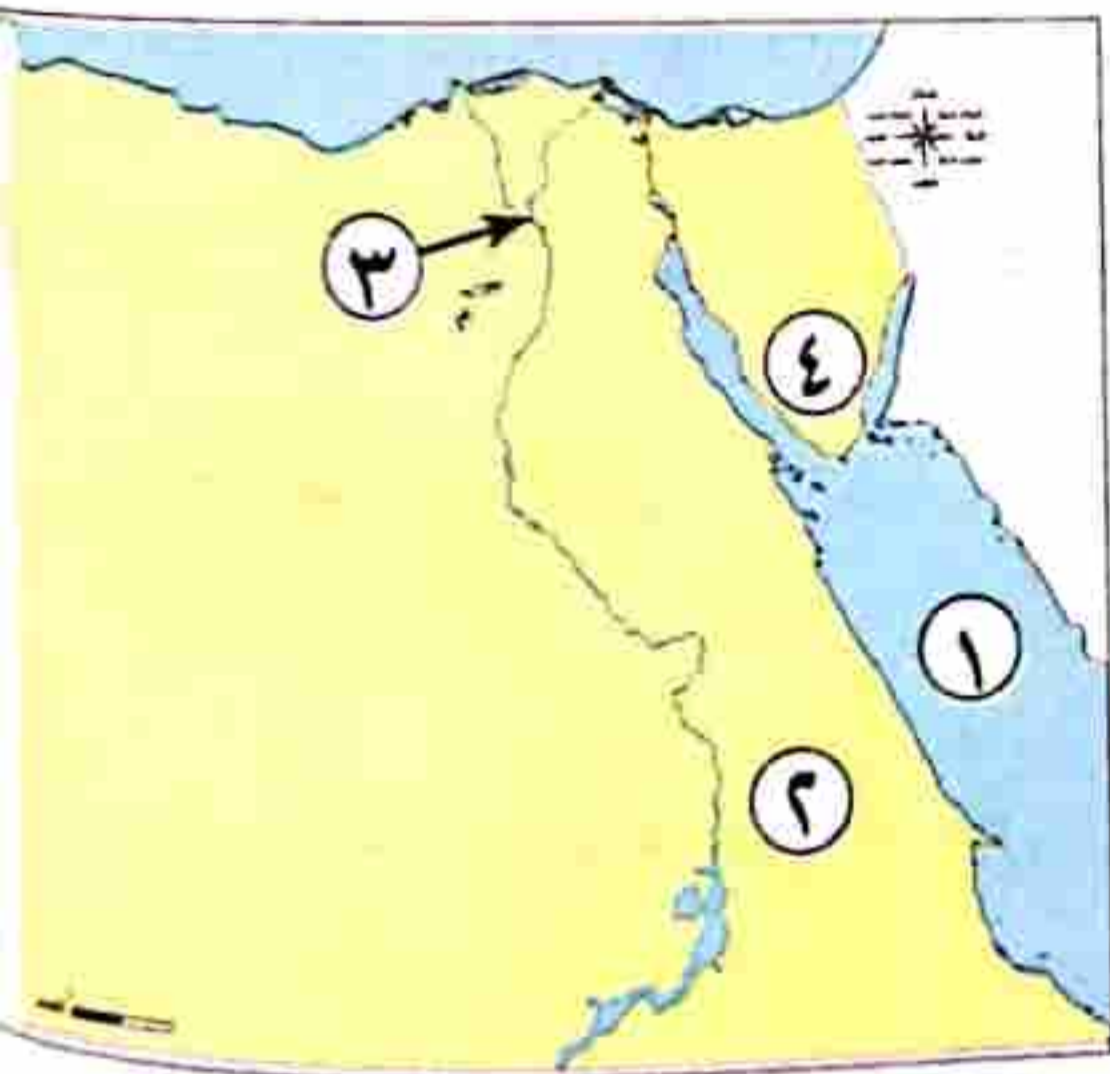
- ١ أول بنك وطني في تاريخ مصر هو بنك .....
- ٢ صناعة ..... من الصناعات التي وضعتها منظمة اليونسكو على قائمة التراث العالمي.
- ٣ تهدف مبادرة ..... إلى الكشف المبكر عن الأمراض.
- ٤ يتم توليد الكهرباء من الرياح في محطة .....

(ب) صوب ما تحته خط في العبارات التالية:

- ١ تنتشر حرفة الزراعة وتربية الحيوانات في البيئة الصحراوية.
- ٢ يتوسط علم مصر صقر لونه أصفر ذهبي.
- ٣ تطل مصر من الشمال على البحر الأحمر.
- ٤ الحاجات هي الأشياء التي سيكون من الجيد الحصول عليها ، ولكنك تستطيع العيش بدونها.

**٤** محافظة الجيزة (إدارة بولاق الدكرور التعليمية) **مجاب عنه**

**السؤال الأول** ( ١ ) أمامك خريطة صماء لمصر، وضح مدلول الأرقام عليها:



- ١ البحر .....
- ٢ الصحراء .....
- ٣ محافظة بها محطة الكريما .....
- ٤ جبل .....

(ب) حدد سببًا واحدًا لكل من:

- ١ إنشاء العاصمة الإدارية الجديدة.
- ٢ وجود النسرفى وسط علم مصر.

**السؤال الثاني** ( ١ ) اكتب كلمة (صواب) أمام العبارة الصحيحة، وكلمة (خطأ) أمام العبارة غير الصحيحة:

- ١ مقياس الرسم من العناصر الأساسية في الخريطة.
- ٢ تتميز الحقيقة بالدقة والموضوعية.
- ٣ محافظة الإسكندرية من محافظات الوجه القبلى.



٤ يرتبط العيد القومي للمحافظة بحدث تاريخى أو ذكرى.

٥ نهر النيل من موارد المياه المالحة فى مصر.

٦ تنتشر الكثبان الرملية فى الصحراء الغربية.

(ب) اكتب نتيجة واحدة:

- وجود المياه الجوفية فى الصحراء الغربية\* .

**السؤال الثالث** (١) اختر الإجابة الصحيحة مما بين القوسين:

١ البيئة التى تشغل معظم مساحة مصر هى البيئة ..... (الساحلية - الزراعية - الصحراوية - الصناعية)

٢ الإسراف فى استخدام الأسمدة الكيماوية فى الزراعة يؤدى إلى تلوث ..... (الهواء - البحار - التربة - المحيطات)

٣ يعد من الموارد الطبيعية المتجددة ..... (الفحم - الماء - البترول - الحديد)

٤ صناعة السجاد اليدوى تنتشر فى محافظة ..... (القاهرة - الجيزة - الدقهلية - أسوان)

٥ حماية جيشنا المصرى للحدود تعد ضمن الخدمات ..... (الثقافية - البيئية - الصحية - الأمنية)

(ب) ماذا يحدث إذا...؟

- لم توجد وردة البوصلة على الخريطة .

**السؤال الرابع** (١) أكمل العبارات الآتية بكلمات مناسبة:

١ تقع مصر فى الركن الشمالى الشرقى من قارة .....

٢ الحدود التى تفصل المحافظات عن بعضها تسمى حدودًا .....

٣ الصحراء البيضاء فى مصر جزء من الصحراء .....

٤ اتجهت مصر إلى استخدام مصادر الطاقة .....

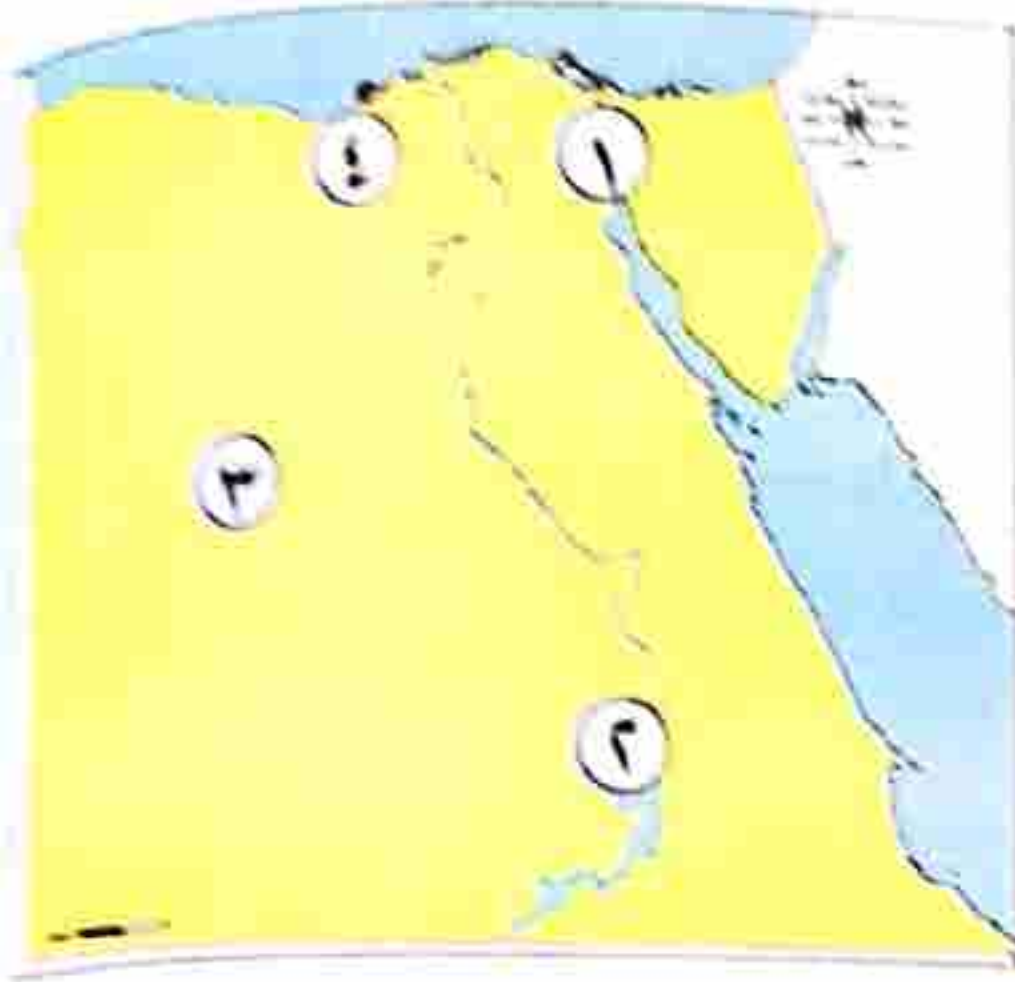
٥ الأطباق والسلال الملونة تصنع من .....

٦ اتفاقية حقوق الطفل التى صدرت عن الأمم المتحدة تعد من الجهود .....

(ب) دال على صحة العبارة الآتية:

- تنوع مظاهر السطح فى مصر.

السؤال الأول (١) أمامك خريطة صماء لمصر، وضع مدلول الأرقام عليها:



- ١ قناة .....
- ٢ بحيرة .....
- ٣ الصحراء .....
- ٤ محافظة .....

(ب) اكتب ثلاثة أماكن ترى علم مصر يرفرف بها.

(ج) صوب ما تحته خط:

- السهول الفيضية تمتد على طول ساحل البحر.

السؤال الثاني (١) أكمل العبارات التالية مما بين القوسين:

(الفخار - الخريطة - الشعاب المرجانية - الدولية)

- ١ من أدوات تحديد المواقع .....
- ٢ تنتشر على ساحل البحر الأحمر .....
- ٣ اتفاقية حقوق الطفل من الجهود .....
- ٤ أقدم الصناعات اليدوية، وتنتشر في العديد من القرى المصرية هي صناعة .....

(ب) اكتب ما تشير إليه العبارة الآتية:

- هي رسم توضيحي لسطح الأرض أو جزء منه باستخدام مجموعة من الرموز والألوان ومقياس رسم محدد.

(ج) صوب ما تحته خط:

- محطة الزعفرانة تولد الكهرباء من الشمس.

السؤال الثالث (١) اكتب كلمة (صواب) أمام العبارة الصحيحة، وكلمة (خطأ) أمام العبارة غير الصحيحة:

- ١ تعد حملة ١٠٠ مليون صحة من الخدمات الثقافية التي توفرها الدولة. )
- ٢ الرمال البيضاء تدخل في صناعة السيارات. )
- ٣ تمر السفن في الاتجاهين بقناة السويس بعد حفر قناة السويس الجديدة. )
- ٤ يستخدم مقياس الرسم في تحديد الاتجاهات على الخريطة. )
- ٥ يتخذ علم مصر شكل المستطيل \* . )

(ب) اكتب تفسيرًا واحدًا لاهتمام الدولة بذوى الاحتياجات الخاصة.

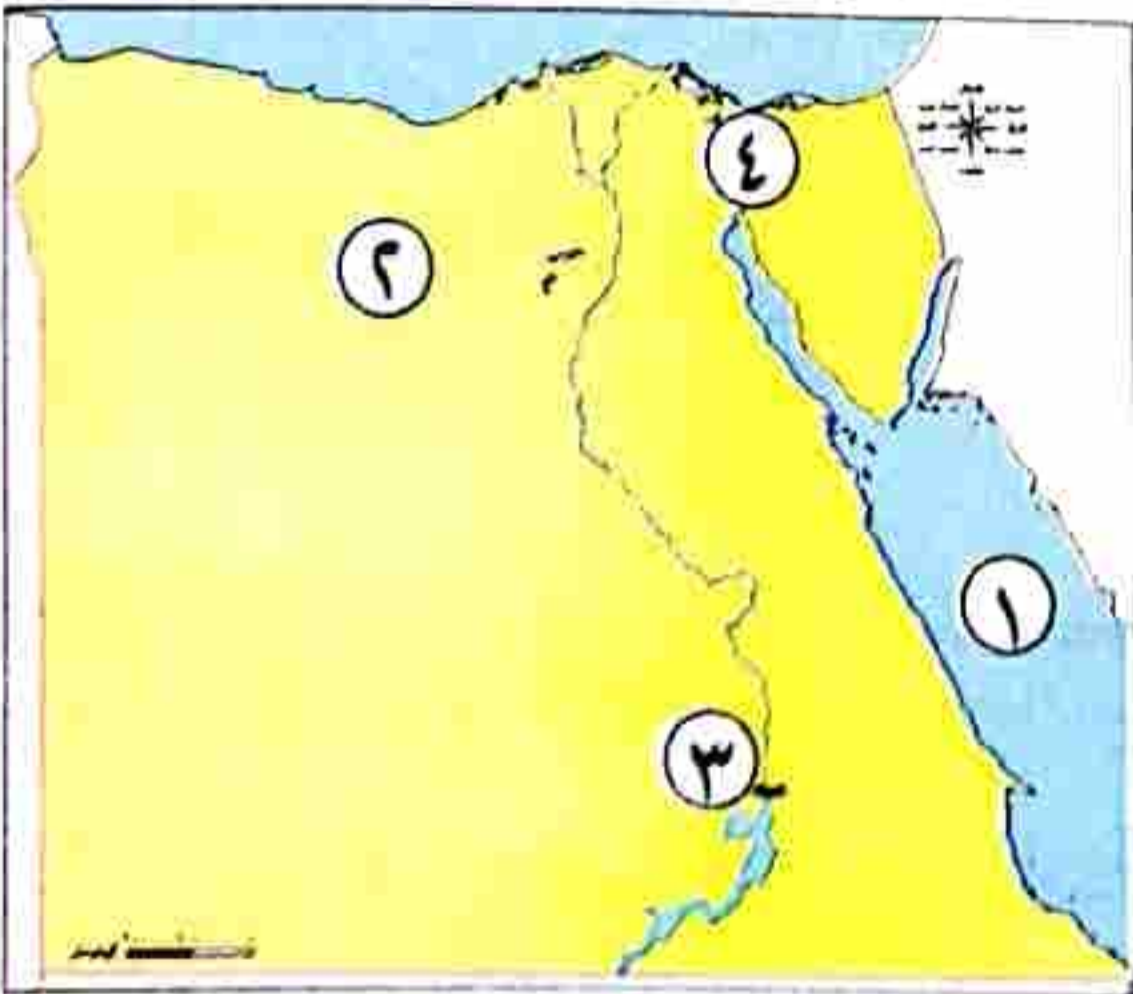
### السؤال الرابع ( ١ ) اختر الإجابة الصحيحة مما بين القوسين:

- ١ إذا أردت الذهاب إلى عاصمة مصر فعليك التوجه إلى محافظة .....  
(الإسكندرية - القاهرة - الجيزة - أسوان)
  - ٢ لمعرفة درجة الحرارة في اليوم فإننا نستخدم .....  
(دوارة الرياح - الترمومتر - الأنيمومتر - مقياس المطر)
  - ٣ يمكننا تقليل نسبة تلوث الهواء من خلال استخدام السيارات التي تسيرب .....  
(البنزين - السولار - الغاز الطبيعي - الفحم)
  - ٤ يلون جبل سانت كاترين على الخريطة باللون .....  
(الأخضر - البنى - الأصفر - الأزرق)
  - ٥ عند التقاط صورة حقيقية تفصيلية لجزء من سطح الأرض فإننا نستخدم .....  
(الطائرة - القمر الصناعي - الصاروخ - سفينة الفضاء)
  - ٦ الحرفة التي يوجد باسمها شارع في محافظة القاهرة .....  
(الزجاج - النسيج - الخيامية - السجاد اليدوى)
- (ب) اكتب نصيحة للفلاح للمحافظة على التربة من التلوث.

مجاب عنه

### ٦ محافظة القليوبية (إدارة العبور التعليمية)

(١) أمامك خريطة صماء لمصر، وضح مدلول الأرقام عليها:



- ١ البحر .....
- ٢ بيئة .....
- ٣ محطة لتوليد الكهرباء من المياه .....
- ٤ قناة .....

(ب) اكتب ما تشير إليه العبارات الآتية:

- ١ مساحات واسعة من اليابس تضم عددًا من الدول.
- ٢ تجمعات كبيرة من الرمال مثل بحر الرمال العظيم.
- ٣ وصف حالة الجو من حيث الحرارة والرياح والأمطار في فترة زمنية طويلة.

(.....)

(.....)

(.....)

(أ) ضع خطًا تحت الإجابة الصحيحة فيما بين القوسين:

- ١ تقع مصرفى الركن الشمالى الشرقى لقارة ..... (إفريقيا - آسيا - أوروبا - أستراليا)
- ٢ توجد أرض شدوان بكاملها داخل البحر الأحمر فهى بذلك ..... (جزيرة - شبه جزيرة - منخفض - هضبة)
- ٣ الحرفة التى يوجد شارع باسمها فى محافظة القاهرة هى ... (النسيج - السجاد اليدوى - الخيامية - الزجاج)
- ٤ التحاق الطفل بالمدرسة يعد من حقوق الطفل فى ..... (الصحة - السكان - الأمن - التعليم)
- ٥ من محافظات الحدود محافظة ..... (الإسكندرية - الجيزة - مطروح - الأقصر)

(ب) أجب عن الأسئلة التالية:

١ اذكر أحد السلوكيات التى تعبر عن احترامك لعلم مصر.

٢ اكتب تفسيراً لأهمية الخريطة للفلاح.

(أ) اكتب كلمة (صواب) أمام العبارة الصحيحة، وكلمة (خطأ) أمام العبارة غير الصحيحة:

- ١ يستخدم مقياس الرسم فى تحديد الاتجاهات على الخريطة. )
  - ٢ المخاطبات الرسمية والنقوش على جدران المعابد من المصادر الأولية. )
  - ٣ يدل النسر الذى يتوسط علم مصر على القوة والشجاعة. )
  - ٤ يرتبط العيد القومى للمحافظة بحدث تاريخى أو ذكرى مهمة. )
  - ٥ تعتمد الحياة فى البيئة الصحراوية على مياه نهر النيل. )
  - ٦ تسعى الدولة إلى إنشاء الطرق والكبارى وتطوير العشوائيات. )
- (ب) اكتب نتيجة واحدة تترتب على حرق قش الأرز.

(أ) صوب ما تحته خط:

- ١ تزرع المحاصيل الصيفية والشتوية فى البيئة الساحلية.
- ٢ محطة الزعفرانة تولد الكهرباء من الشمس.
- ٣ الصور الفضائية يتم التقاطها باستخدام الطائرات.\*
- ٤ مسجد عمرو بن العاص يقع فى محافظة الجيزة.

(ب) صنف المظاهر الطبيعية التالية في الجدول التالي:

(سانت كاترين - الجلف الكبير - ساحل البحر المتوسط - العوينات)

سهول

هضاب

جبال

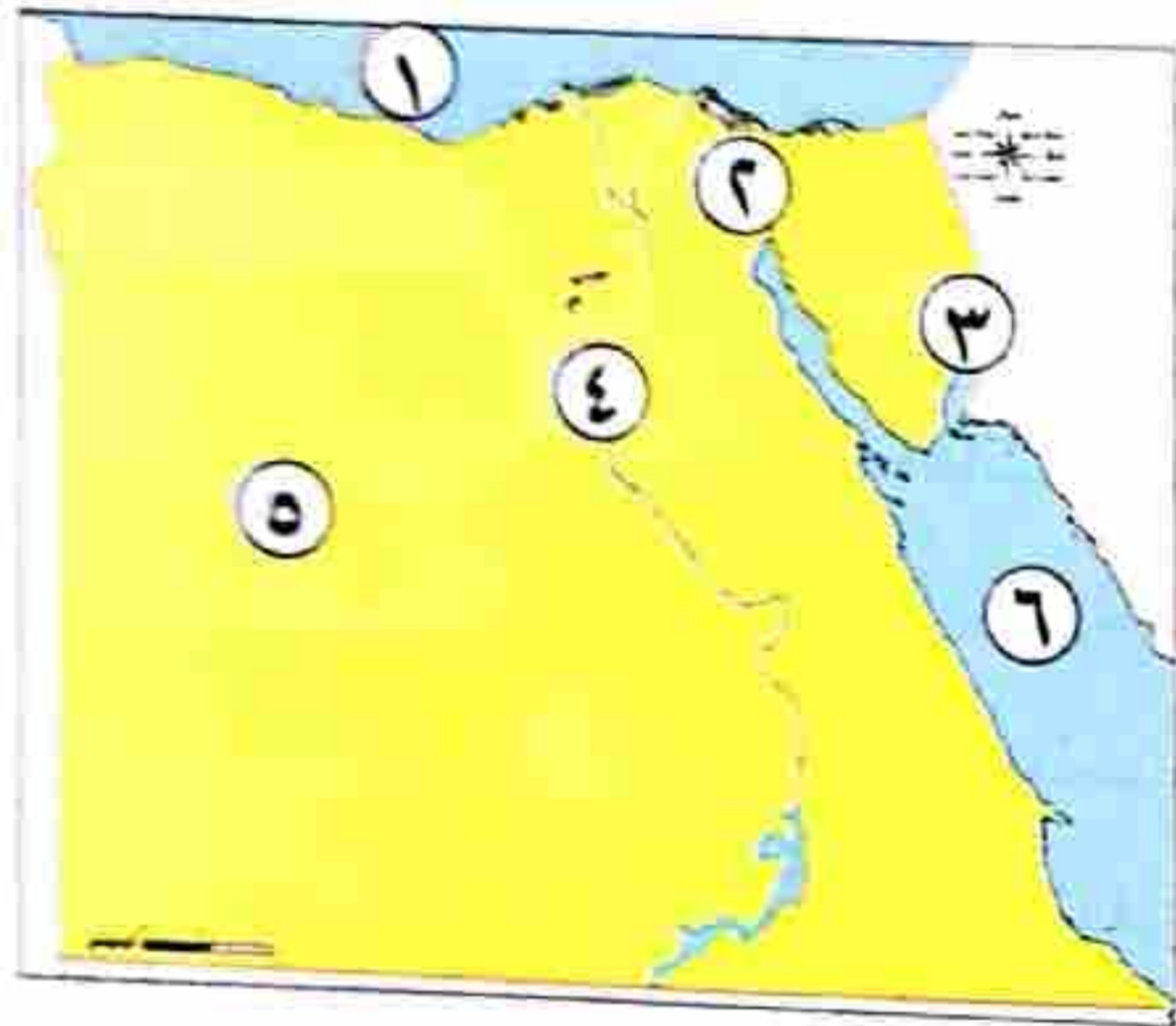
غير مجاب عنه

محافظة المنوفية (إدارة الشؤون التعليمية)

٧

(١) أمامك خريطة صماء لمصر، وضح مدلول الأرقام عليها:

السؤال الأول



- ١ البحر .....
- ٢ قناة .....
- ٣ خليج .....
- ٤ نهر .....
- ٥ الصحراء .....
- ٦ البحر .....

(ب) بم تفسر...؟

- أهمية مبادرة حياة كريمة من الدولة.

السؤال الثاني (١) ضع علامة (✓) أمام العبارة الصحيحة، وعلامة (X) أمام العبارة غير الصحيحة:

- ١ أدى حرق قش الأرز إلى زيادة نسبة تلوث الهواء \* ( )
- ٢ يسود المناخ الصحراوي الحار معظم الأراضي المصرية \* ( )
- ٣ تساعد الخريطة الفلاح في تحديد الأماكن السياحية والأثرية. ( )
- ٤ تعد إفريقيا وأوروبا وأمريكا الجنوبية من قارات العالم الجديد. ( )
- ٥ تبذل الدولة جهودًا كبيرة لضمان حصول الأطفال ذوي الاحتياجات الخاصة على حقوقهم. ( )
- ٦ صناعة الزجاج من الحرف المدرجة على قائمة التراث العالمي في منظمة اليونسكو. ( )
- ٧ نهر النيل من أهم مصادر المياه العذبة في مصر. ( )

(ب) فسر:

- ضيق السهل الساحلي للبحر الأحمر.

### السؤال الثالث (١) اختر الإجابة الصحيحة مما بين الأقواس:

- ١ يدل اللون الأبيض في العلم المصرى على .....  
(الحرب - السلام - الاستعمار - التضحية)
  - ٢ من محافظات الوجه البحرى فى مصر.....  
(شمال سيناء - المنوفية - أسوان - البحر الأحمر)
  - ٣ من حقوق الطفل .....  
(الرعاية - الحماية - المشاركة - كل ما سبق)
  - ٤ أبو الاقتصاد المصرى .....  
(أحمد عرابى - سعد زغلول - طلعت حرب - مصطفى كامل)
  - ٥ تمثل معظم مساحة مصر البيئة .....  
(الصحراوية - الزراعية - الساحلية - الصناعية)
  - ٦ تقاس سرعة الرياح بجهاز.....  
(الترمومتر - دوازة الرياح - مقياس المطر - الأنيمومتر)
- (ب) وضح الأسباب:  
- التى أدت إلى تلوث الهواء.

### السؤال الرابع (١) أكمل العبارات الآتية بكلمة مناسبة:

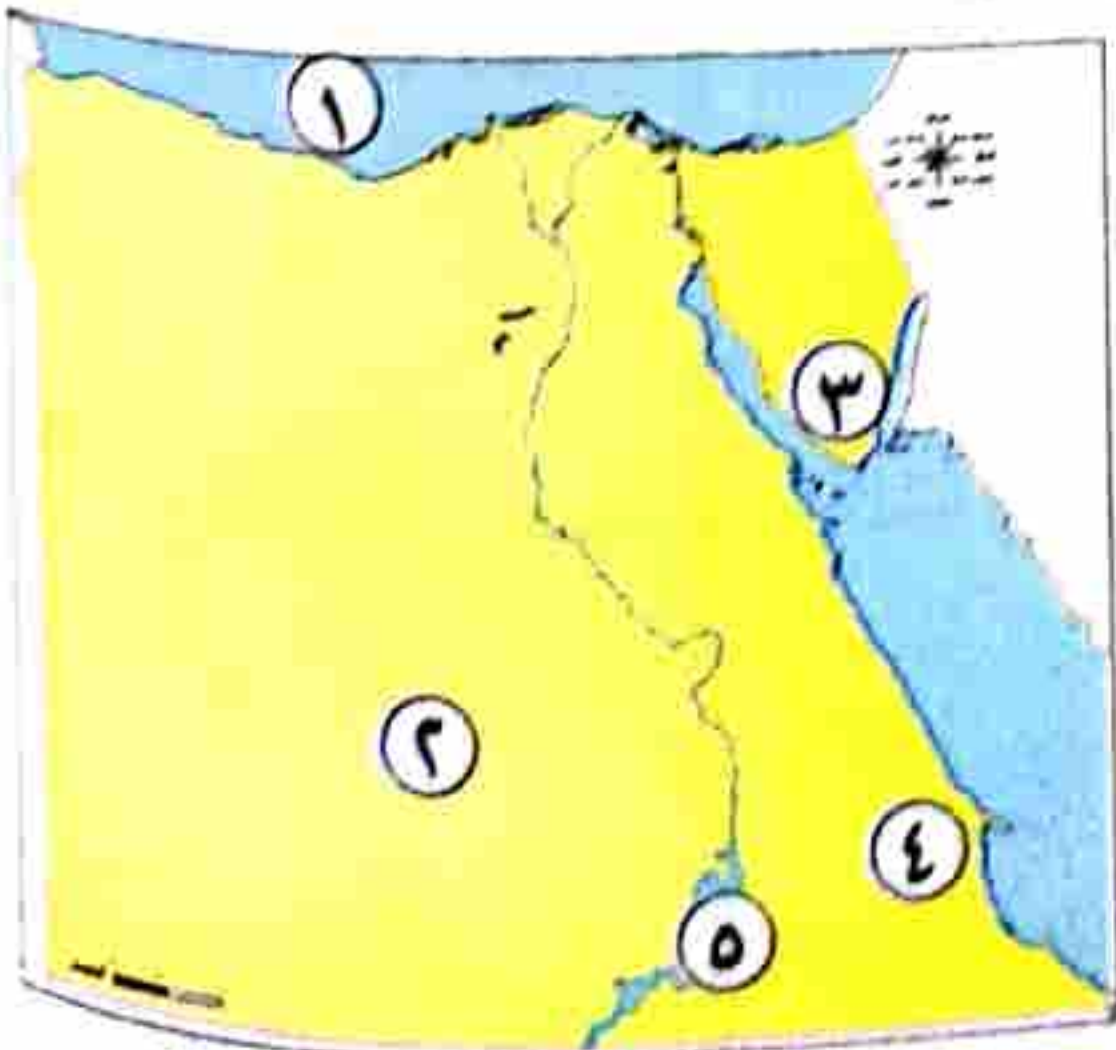
- ١ توضح ..... الاتجاهات الأصلية والاتجاهات الفرعية.
  - ٢ تعد محطة ..... من أهم المحطات لتوليد الكهرباء من الرياح فى البحر الأحمر.
  - ٣ استخراج الوثائق الرسمية من الخدمات.....
  - ٤ تعد الكتب والمقالات والأبحاث من المصادر.....
  - ٥ من البحيرات المالحة فى مصر.....
  - ٦ الأشياء التى يجب أن تحصل عليها لتعيش هى.....
  - ٧ يلون جبل العوينات على الخريطة باللون.....
- (ب) أجب عما يلى:  
- اذكر مصدرًا للمياه العذبة فى مصر\*.

غير مجاب عنه

### محافظة المنوفية (إدارة تلى التعليمية)

٨

### السؤال الاول (١) أمامك خريطة صماء لمصر، اكتب ما تشير إليه الأرقام:



- ١ يشير رقم (١) إلى بحر.....
- ٢ يشير رقم (٢) إلى أكبر محافظات مصر مساحة هى.....
- ٣ يشير رقم (٣) إلى جبل.....
- ٤ يشير رقم (٤) إلى منطقة استخراج الذهب.....
- ٥ يشير رقم (٥) إلى أكبر بحيرة صناعية فى العالم.....

(ب) ما أوجه الشبه بين الصور الجوية والصور الفضائية؟

**السؤال الثاني** ( ١ ) اكتب كلمة (صواب) أو (خطأ) أمام العبارات الآتية:

- ١ مصر نقطة التقاء قارتى إفريقيا وأوروبا. ( )  
٢ تحتفل جميع محافظات مصر بعيد قومي واحد. ( )  
٣ الحرف التراثية لها أهمية في دعم الاقتصاد المصري. ( )  
٤ حرق قش الأرز يلوث الهواء\* . ( )

(ب) حدد سببًا واحدًا لكل مما يأتي:

١- أهمية الصحراء البيضاء والسوداء للاقتصاد المصري.

٢- طرح الدولة مبادرة «حياة كريمة».

**السؤال الثالث** ( ١ ) أكمل العبارات الآتية:

- ١ عند رسم البحر الأحمر في ورقة صغيرة نستخدم.....  
٢ «مدينة شرم الشيخ من أجمل المدن المصرية» هذه المقولة تعبر عن.....  
٣ اللون الأحمر في العلم يشير إلى مرحلة.....  
٤ يقوم..... بإصدار النقود والإشراف على جميع البنوك.

(ب) دلل على: وجود نماذج مشرفة من ذوى الاحتياجات الخاصة في بلدنا.

**السؤال الرابع** ( ١ ) اختر الإجابة الصحيحة مما بين القوسين:

- ١ يوضح مدلول الألوان الموجودة على الخريطة.....\*  
(مقياس الرسم - عنوان الخريطة - مفتاح الخريطة - وردة البوصلة)  
٢ الكهرباء المولدة من خلف السد العالي تعتمد على.....  
(الرياح - المياه - الشمس - البترول)  
٣ الطقس والمناخ يختلفان في.....  
(درجات الحرارة - سرعة الرياح - كمية الأمطار - الفترة الزمنية)  
٤ هضبة الجلف الكبير في مصر تقع بالجزء.....  
(الشمال الشرقي - الجنوب الشرقي - الشمال الغربي - الجنوب الغربي)

(ب) ما النتائج المترتبة على...؟

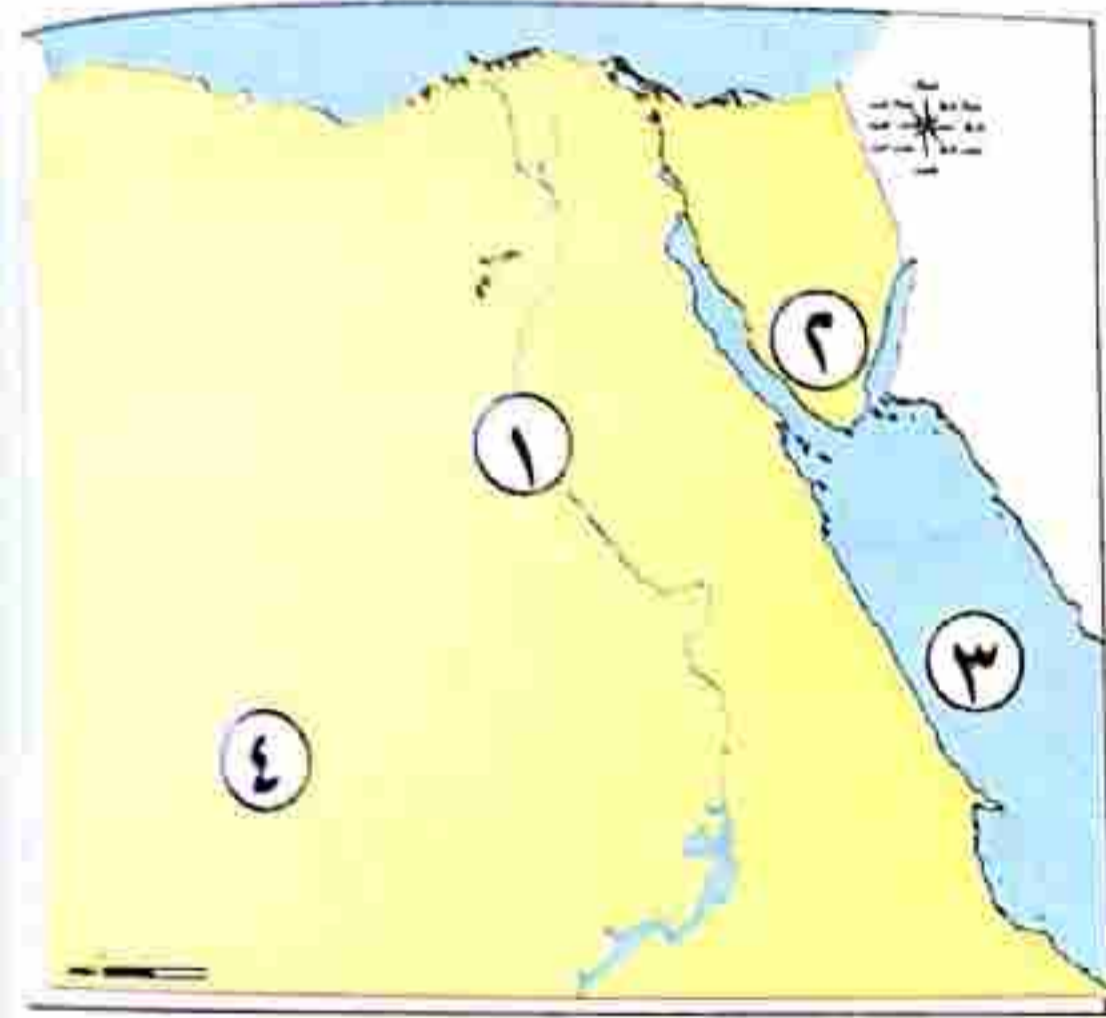
١- وجود مياه جوفية في الصحراء الغربية\*.

٢- دعم الاقتصاد المصرى للحرف التراثية.

مجاب عليه

## ٩ محافظة الغربية (إدارة شرق طنطا التعليمية)

السؤال الأول (١) انظر إلى الخريطة التي أمامك، ثم أجب:



١ يشير رقم (١) إلى نهر .....

٢ يشير رقم (٢) إلى جبل .....

٣ يشير رقم (٣) إلى البحر .....

٤ يشير رقم (٤) إلى أكبر المحافظات مساحة .....

(ب) اكتب ما تشير إليه كل عبارة من العبارات التالية:

١ مساحة واسعة من الأرض مرتفعة مستوية أو شبه مستوية. (.....)

٢ وصف حالة الجو من حيث الحرارة والرياح والأمطار خلال فترة زمنية طويلة «فصل، سنة». (.....)

٣ تجمعات كبيرة من الرمال مثل بحر الرمال العظيم. (.....)

السؤال الثاني (١) اكتب كلمة (صح) أمام العبارة الصحيحة، وكلمة (خطأ) أمام العبارة غير الصحيحة:

١ الطاقة الحفزية هي طاقة غير متجددة تحتاج لآلاف السنين لتشكيلها. ( )

٢ يستخدم مقياس الرسم في تحديد الاتجاهات على الخريطة. ( )

٣ مؤلف النشيد الوطنى هو سيد درويش\*. ( )

٤ تعد محافظة البحر الأحمر من محافظات الحدود الصحراوية. ( )

(ب) بم تفسر...؟

١ اتخاذ كل محافظة شعارًا خاصًا بها .....

٢ إنشاء الدولة العاصمة الإدارية الجديدة .....

السؤال الثالث (١) تخير الإجابة الصحيحة مما بين القوسين:

١ من الحرف المدرجة على قائمة التراث العالمى لليونسكو صناعة .....

(الخيامية - الفخار - السجاد اليدوى - الزجاج)



إنشاء الدولة للأندية الرياضية والحدائق من الخدمات .....

(التعليمية - الصحية - الأمنية - الترفيهية والثقافية)

«مدينة الفردقة هي أجمل مدينة في مصر»، هذه العبارة تعبر عن ..... (حقيقة - رأى - خيال - مقترح)

يعبر عن فترة السلام في العلم المصرى اللون ..... (الأسود - الأحمر - الأبيض - الأصفر)

صوب ماتحته خط:

محطة الزعفرانة تولد الكهرباء من الشمس.

تربط قناة بنما بين البحر الأحمر والبحر المتوسط.

(١) أكمل العبارات التالية من الكلمات الموجودة بين القوسين:

سؤال الرابع

(الأنيمومتر - الموارد الطبيعية - الرعاية الصحية - سيد درويش)

من حقوق الطفل الحصول على .....

ملحن النشيد الوطنى «بلادى بلادى» هو .....

يستخدم جهاز ..... لقياس سرعة الرياح.

..... خلقها الله لنا لتساعدنا على الحياة ونستخدمها فى إشباع حاجاتنا.

ما النتائج المترتبة على ....؟

حرق قش الأرز .....

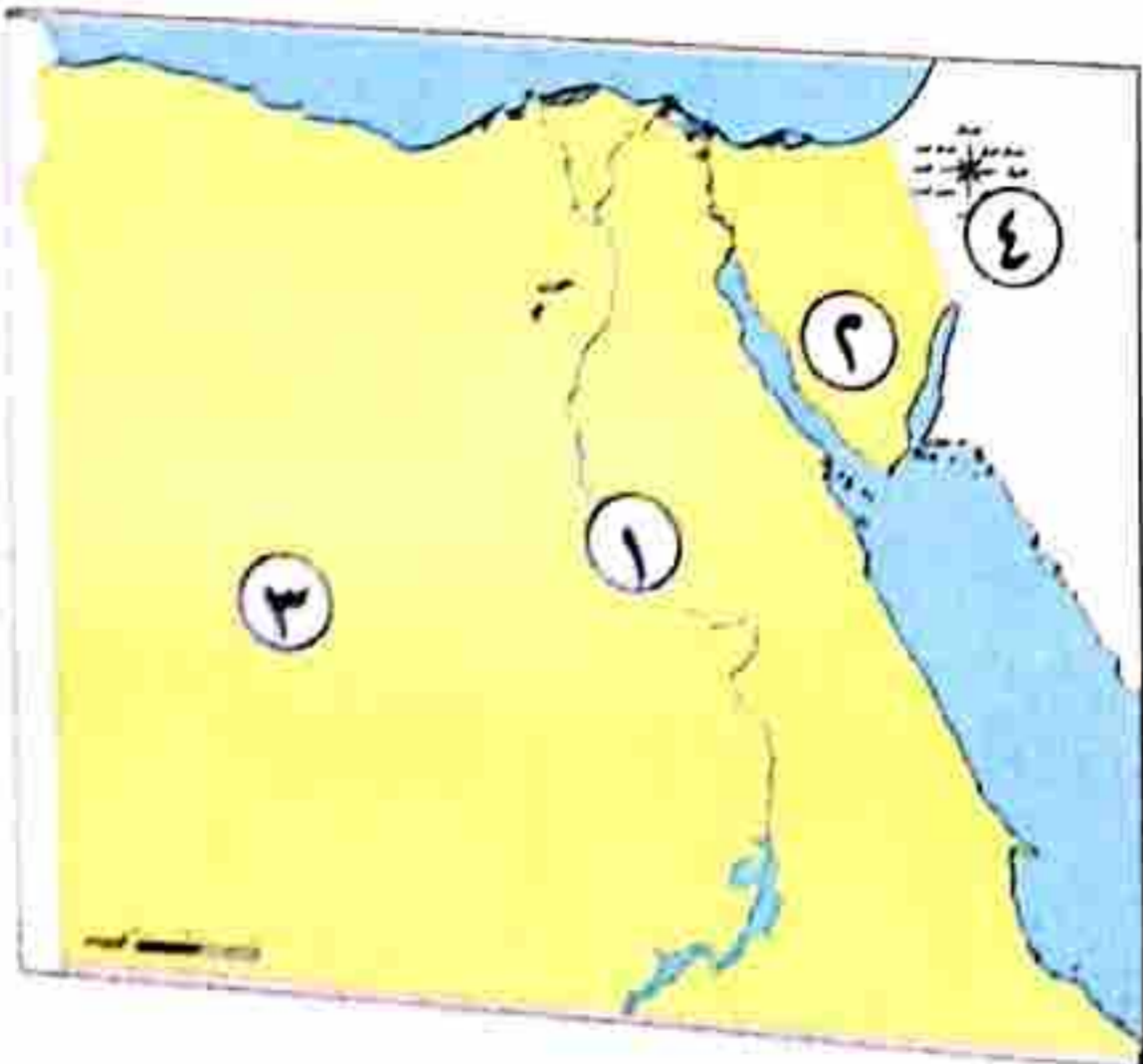
وجود المياه الجوفية فى الصحراء الغربية\* .....

غير مجاب عنه

١٠ محافظة الدقهلية (إدارة غرب المنصورة التعليمية)

(١) لاحظ الخريطة، ثم أجب:

سؤال الأول



بشير رقم (١) إلى مورد للمياه العذبة .....

بشير رقم (٢) إلى شبه جزيرة .....

بشير رقم (٣) إلى البيئة .....

بشير رقم (٤) إلى عنصر من عناصر الخريطة وهو .....

حدد الكلمة غير المناسبة: (الدقهلية - الشرقية - الغربية - الأقصر).

سب تفسيراً واحداً لتلوين منطقة جنوب سيناء على خريطة سطح مصر باللون البنى.

**السؤال الثاني** ( ١ ) تعبر الصورتان عن حرفتين تراثيتين هما:

٢ تعبر الصورة (٢) عن حرفة .....



(٢)

١ تعبر الصورة (١) عن حرفة .....



(١)

(ب) أكمل العبارتين الآتيتين من بين الكلمات: (الصحراوية - الزراعية - الهواء - البنوك)

١ حرق قش الأرز وأدخنة المصانع تؤدي إلى تلوث\* .....

٢ مؤسسات تقدم خدمات مالية للأفراد والشركات\* .....

(ج) اكتب مقترحين لترشيد استهلاكك للكهرباء.

**السؤال الثالث** ( ١ ) تخير الإجابة الصحيحة من بين القوسين:

١ آسيا مساحة شاسعة من اليابس تضم عدة دول فهي بذلك تكون ..... (محافظة - دولة - قارة - جزيرة)

٢ «مدينة شرم الشيخ أجمل المدن المصرية»، تُعبر هذه العبارة عن ..... (رأى - خيال - حقيقة - واقع)

٣ يتخذ علم مصر شكل ..... (دائرة - مثلث - مستطيل - مربع)

٤ إنشاء الحدائق يعد من الخدمات ..... (الترفيهية - الثقافية - الأمنية - الصحية)

٥ توفير منزل ملائم للطفل يشير لحق الطفل في ..... (التعليم - السكن - الترفيه - العمل)

(ب) اكتب نتيجة واحدة ترتبت على تقديم الخدمات الإلكترونية للمواطنين.

**السؤال الرابع** ( ١ ) اكتب كلمة (صواب) أمام العبارة الصحيحة، وكلمة (خطأ) أمام العبارة غير الصحيحة:

١ تستخدم الأقمار الصناعية في التقاط الصور الجوية. ( )

٢ يدل اللون الأبيض في علم مصر على السلام. ( )

٣ يُعبر شعار محافظة القاهرة عن جزء من نشاط سكانها. ( )

٤ لكل مستوى من مستويات ارتفاعات سطح مصر لون مختلف. ( )

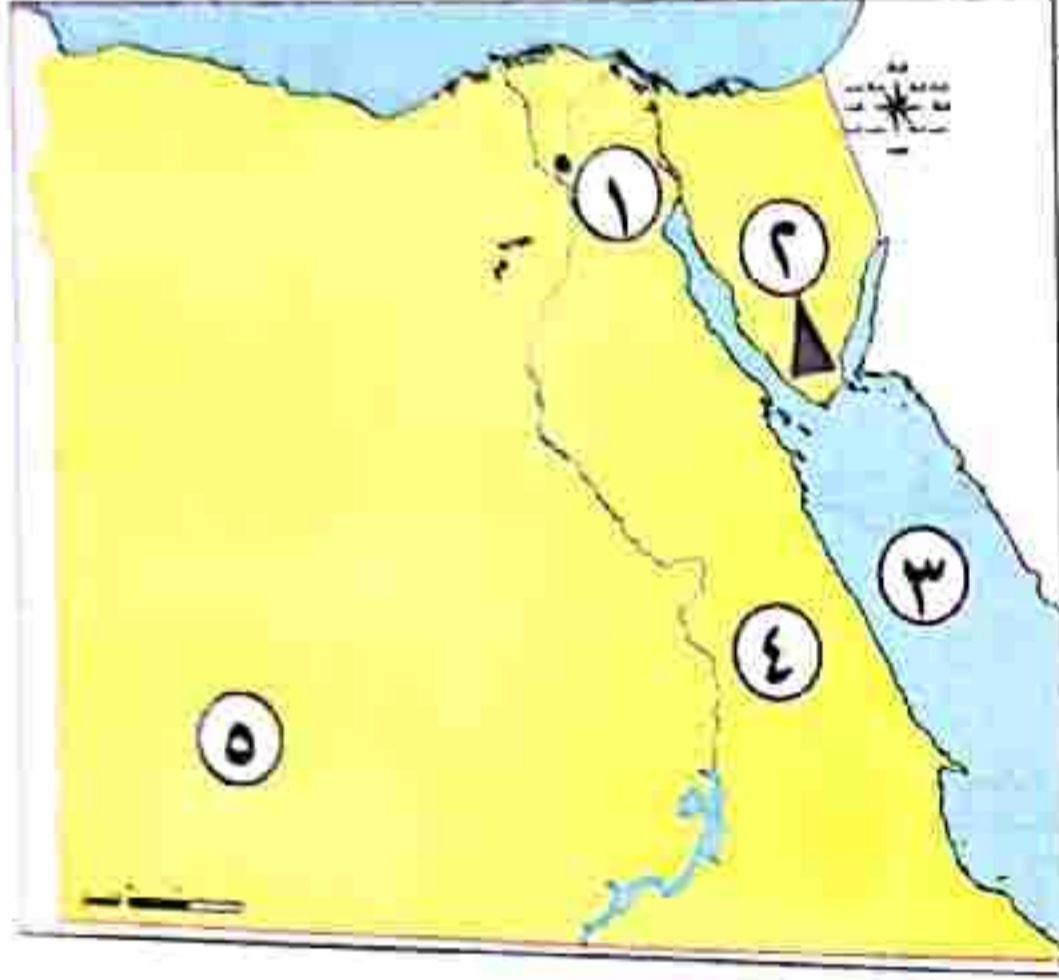
يحدد مناخ الدولة نوع المحاصيل الزراعية .  
يمكنك الاستمتاع بالشعاب المرجانية عند زيارتك لسواحل البحر المتوسط .

( )  
( )

غير مجاب عنه

## محافظة البحيرة (إدارة المحمودية التعليمية)

(١) أمامك خريطة اكتب مدلول الأرقام عليها فيما يلي:



يمثل الرقم (١) عاصمة مصر

يمثل الرقم (٢) جبل

يمثل الرقم (٣) البحر

يمثل الرقم (٤) الصحراء

يمثل الرقم (٥) هضبة

اكتب سببًا واحدًا لـ:

إنشاء الدولة العاصمة الإدارية الجديدة

(١) ضع كلمة (صح) أمام العبارة الصحيحة، وكلمة (خطأ) أمام العبارة غير الصحيحة:

( )  
( )  
( )  
( )  
( )  
( )

يتميز ساحل البحر الأحمر في شرق مصر بالاتساع .

تستخدم الرمال البيضاء بالصحاري في صناعة الزجاج .

تبذل الدولة جهودًا كبيرة للحفاظ على البيئة ومواردها .

صناعة الفخار وضعتها منظمة اليونسكو على قائمة التراث العالمي .

الالتزام بالقواعد والقوانين من واجبات الطفل .

أثرت شخصية طه حسين على الاقتصاد المصري .

أما النتائج التي ترتبت على ...؟ (يكتفى باثنتين):

خزف قناة السويس التي تصل البحر الأحمر بالبحر المتوسط .

(١) تخير الإجابة الصحيحة مما بين القوسين فيما يلي:

(أولية - اقتصادية - اجتماعية - ثانوية)

(البحر المتوسط - البحر الأحمر - نهر النيل - قناة السويس)

(الشرقية - البحيرة - جنوب سيناء - المنيا)

تعد من محافظات الوجه القبلي محافظة

- ٤ اللون الذي يعبر عن النضال من أجل الحرية اللون ..... (الأحمر - الأبيض - الأسود - الأصفر الذهبي)
- ٥ الطقس والمناخ يختلفان في .....
- (ب) وضع: أهمية الخريطة للفلاح المصري .....

**السؤال الرابع** (١) صوب ما تحته خط فيما يلي:

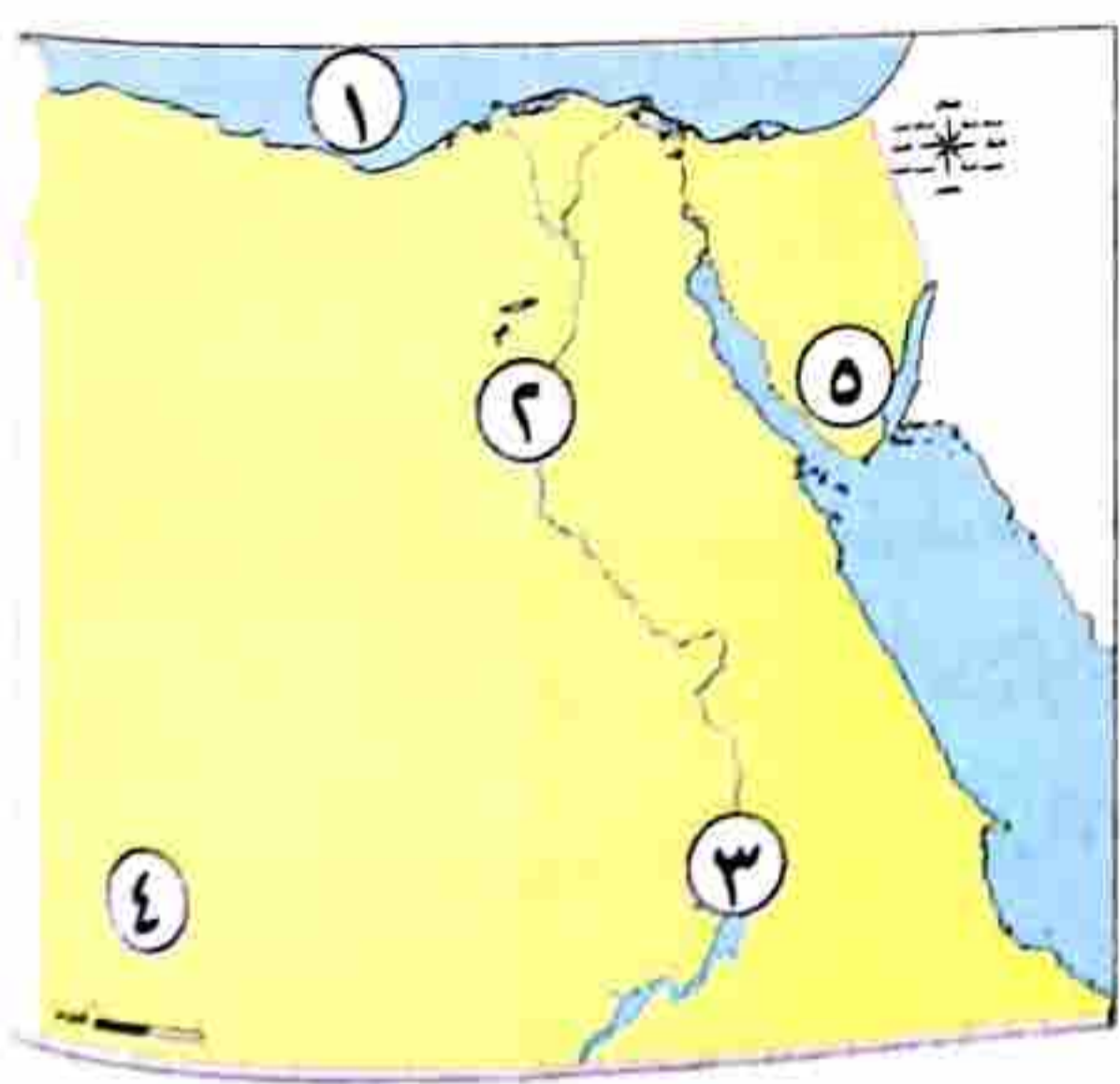
- ١ تعد من أكبر البحيرات العذبة في العالم بحيرة البرلس .
- ٢ يعد دخان المصانع من أسباب تلوث التربة .
- ٣ قام بتلحين النشيد الوطني « بلادى بلادى » محمد يونس القاضى .
- ٤ يتم توليد الكهرباء من محطة كهرباء السد العالى من الرياح .
- ٥ حملة « ١٠٠ مليون صحة » تهدف إلى تحقيق خدمات بيئية .
- ٦ مناخ مصر معتدل ممطر في فصل الصيف \* .

(ب) اكتب ما تشير إليه كل عبارة:

- ١ راية تتخذها المحافظة رمزاً لها لتعبر عن نشاط سكانها أو تاريخها. (.....)
- ٢ مساحة من المياه المالحة أقل مساحة من المحيط . (.....)

**١٢ محافظة دمياط (إدارة الزرقا التعليمية) مجاب عنه**

**السؤال الأول** (١) أمامك خريطة صماء، اكتب مدلول الأرقام التي عليها:



- ١ البحر .....
- ٢ نهر .....
- ٣ بحيرة .....
- ٤ هضبة .....
- ٥ جبل .....

(ب) اذكر سبباً واحداً:

- إنشاء العاصمة الإدارية الجديدة.

**السؤال الثاني** (١) اختر الإجابة الصحيحة مما بين القوسين:

- ١ أكبر محافظات مصر مساحة .....
- ٢ إذا أردت تحديد المسافة بين مدينة الأقصر وأسوان فاستخدم .....  
(دمياط - المنوفية - الغربية - الوادى الجديد)
- ٣ تقع تلال المقطم في محافظة .....
- ٤ تقاس سرعة الرياح باستخدام .....  
(وردة البوصلة - مقياس الرسم - مفتاح الخريطة - عنوان الخريطة)
- (القاهرة - الجيزة - دمياط - قنا)
- (الترمومتر - مقياس المطر - الأنيمومتر - جوب الرياح)

البنك الذي يشرف على جميع البنوك المصرية .....

(بنك القاهرة - البنك الأهلي - بنك مصر - البنك المركزي)

(النسيج - الخيامية - الفخار - الزجاج)

حرفة تنتشر في العديد من القرى المصرية .....

(ب) اكتب ما تشير إليه العبارة الآتية:

- رمز يتخذ كل بلد ليعبر عن تاريخه .

(.....)

**السؤال الثالث** ( ١ ) ضع كلمة (صح) أمام العبارة الصحيحة، وكلمة (خطأ) أمام العبارة غير الصحيحة:

١ يعبر شعار محافظتى على نشاط السكان .

( )

٢ يسود معظم سطح مصر فى الإقليم الصحراوى .

( )

٣ يؤدى انتشار الحرف اليدوية إلى ارتفاع نسبة البطالة .

( )

٤ تعتمد الزراعة فى الصحراء الغربية على المياه الجوفية \* .

( )

٥ تحرص الدولة على تمتع الأطفال بحقوقهم .

( )

(ب) اذكر نتيجة واحدة لـ:

- اقتراب الجبال فى بعض الجهات على ساحل البحر الأحمر .....

**السؤال الرابع** ( ١ ) أكمل العبارات الآتية بما يناسبها :

١ يحد مصر من جهة الشمال .....

٢ حرق قش الأرز يلوث .....

٣ كلما قل الاستهلاك زاد .....

٤ الكشف المبكر لمرض الالتهاب الكبدى من الخدمات .....

٥ مبادرة تهتم بصحة المواطن وأطلقتها الدولة عام ٢٠١٨م .....

٦ لكل محافظة حدود .....

(ب) من يكون ...؟

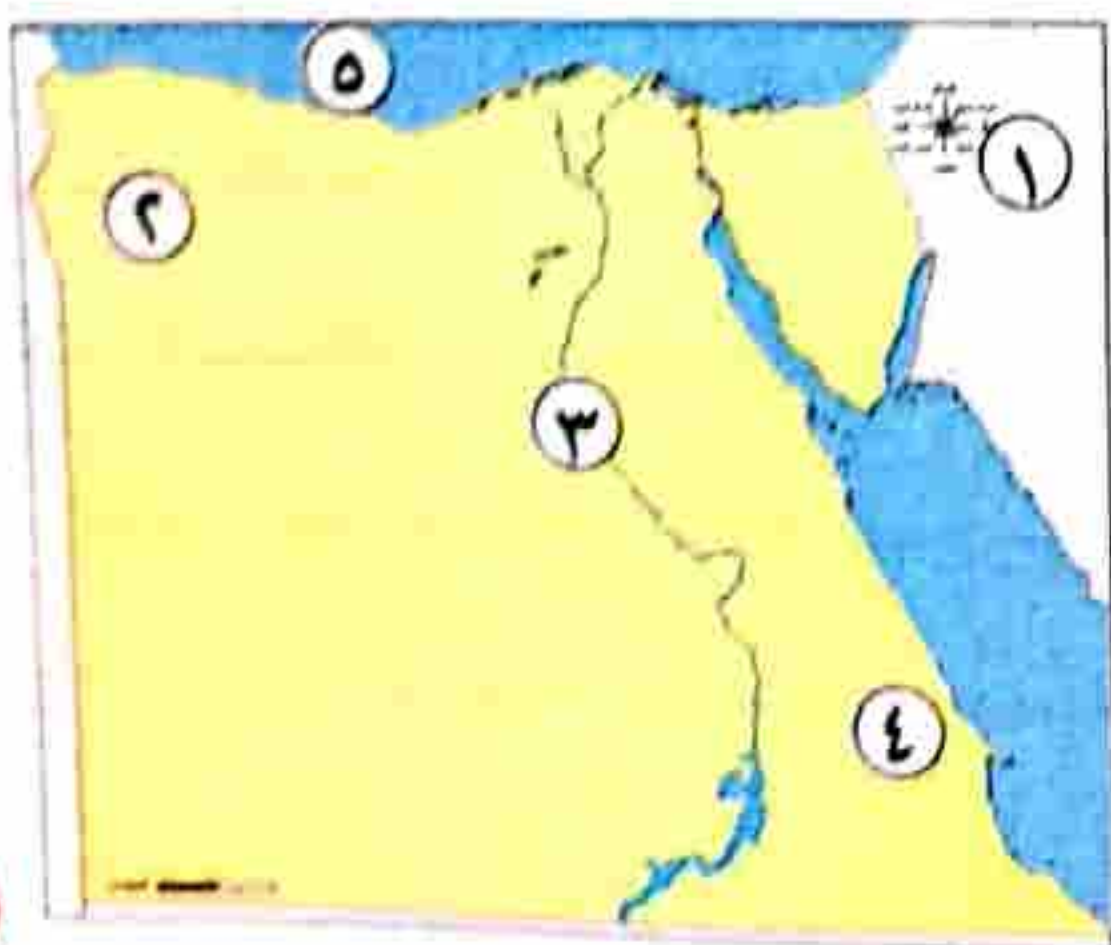
- لقب بـ «أبو الاقتصاد المصرى» .

(.....)

**غير مجاب عنه**

**١٣ محافظة دمياط (إدارة الروضة التعليمية)**

**السؤال الاول** ( ١ ) أمامك خريطة صماء، اكتب ما تشير إليه الأرقام الموقعة عليها:



١ من عناصر الخريطة .....

٢ محافظة من محافظات الحدود .....

٣ نهر .....

٤ الصحراء .....

٥ البحر .....

(ب) اذكر سببًا واحدًا لما يأتي:

١- تقسيم مصر إلى عدة محافظات.

٢- أهمية الرمال البيضاء.

**السؤال الثاني** (١) اكتب كلمة (صواب) أمام العبارة الصحيحة، وكلمة (خطأ) أمام العبارة غير الصحيحة:

- ١ ) تعد المصادر الأولية والثانوية مصادر لتوثيق المعلومات والأحداث.
- ٢ ) ساعد موقع مصر على تسهيل الاتصال بجيرانها تجاريًا فقط.
- ٣ ) تتعرض التربة الزراعية للتلوث نتيجة الإسراف في استخدام الأسمدة والمبيدات.
- ٤ ) استخدام الغاز الطبيعي في السيارات بدلًا من البنزين يقلل من تلوث الهواء.
- ٥ ) كل ما يتم إنتاجه ونقوم بشرائه هو خدمات.
- ٦ ) يقوم البنك المركزي بإصدار النقود والإشراف على جميع البنوك والمؤسسات المصرفية.

(ب) صنف ما يلي (حالة الجو في فترة طويلة - حالة الجو في فترة قصيرة):

المناخ

الطقس

**السؤال الثالث** (١) اختر الإجابة الصحيحة مما بين القوسين:

- ١ ) يعبر اللون الأبيض في علم مصر عن ..... (السلام - الظلم - الرخاء الاقتصادي - النضال)
- ٢ ) من الموارد الطبيعية المتجددة التي لا تنفذ ..... (المعادن - البترول - المياه - الفحم)
- ٣ ) تتركز صناعة السجاد اليدوي في قرية ..... (الحرانية - الخيامية - جراح - الزعفران)
- ٤ ) الأشياء التي يجب أن نحصل عليها لنعيش هي ..... (رغبات - حاجات - استثمار - ادخار)
- ٥ ) أسس بنك مصر ..... (سيد درويش - طلعت حرب - السادات - طه حسين)

(ب) اكتب المصطلح الذي تشير إليه العبارات التالية:

- ١ ) راية تتخذها المحافظة رمزًا لها لتعبر عن نشاط سكانها أو جزء من تاريخها.
- ٢ ) أهم ممر ملاحى يربط بين البحر المتوسط والبحر الأحمر.

(أ) صل من المجموعة ( أ ) ما يناسبه من المجموعة (ب):

( أ )

١- تقع مصرفى قارة

٢- مؤلف كلمات النشيد الوطنى

٣- أقدم الصناعات اليدوية

(ب)

الفخار

الرعاية والتعليم

إفريقيا

محمد يونس القاضى

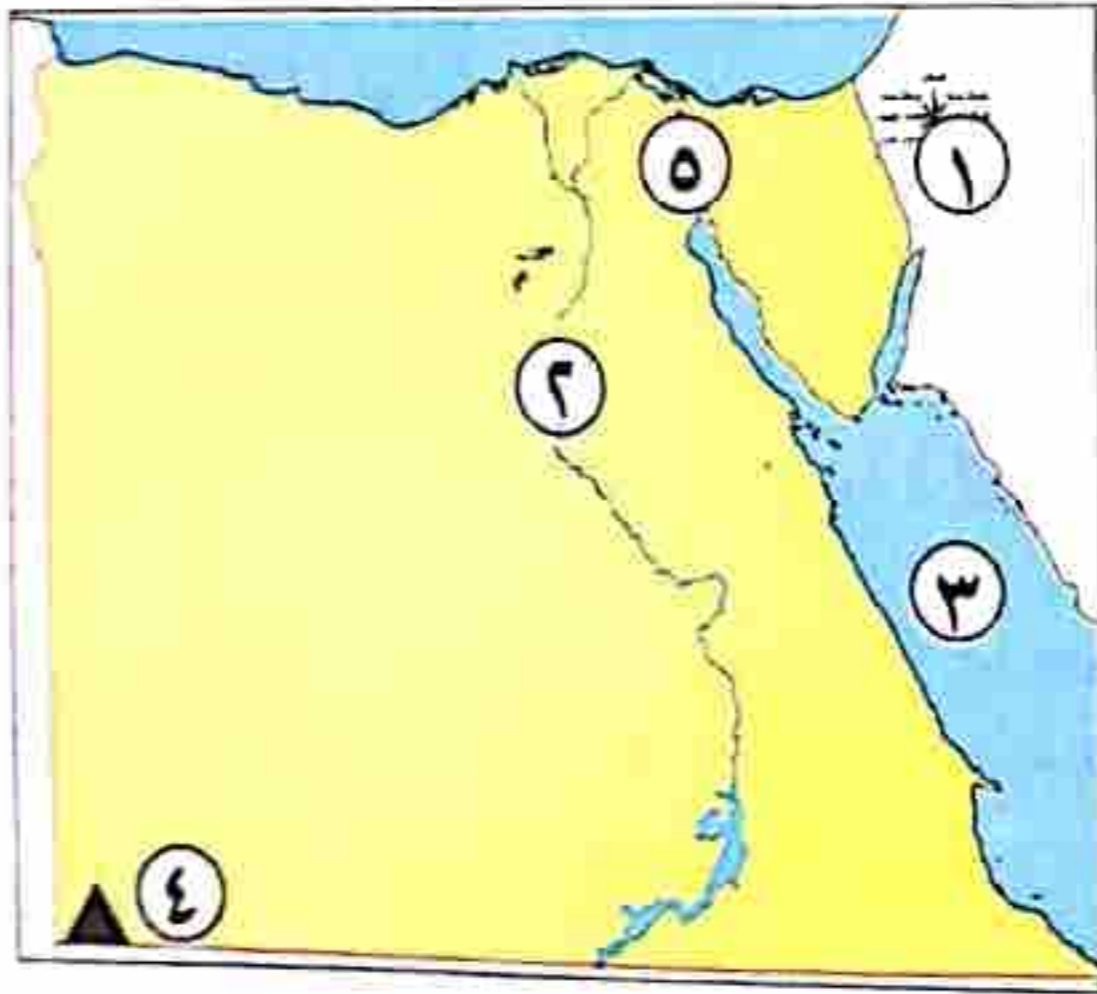
أكمل العبارات التالية من الكلمات الموجودة بين القوسين:  
(الخريطة - المصادر الأولية - المناطق الصحراوية)

١- يحتاج الفلاح لتحديد ملكية الأرض الزراعية إلى .....

٢- مصادر توثيق المعلومات والأحداث وتكون معاصرة للحدث هي .....

### ١٤ محافظة الشرقية (إدارة الحسينية التعليمية) غير مجاب عنه

(أ) لاحظ الخريطة، ثم أجب:



١- أحد عناصر الخريطة .....

٢- نهر .....

٣- البحر .....

٤- جبل .....

٥- مرملحى هام .....

٦- اكتب سببًا واحدًا لكل من:

أ- أهمية الخريطة للسائح.

ب- تلوث الهواء.

(أ) أكمل العبارات التالية بما يناسبها باستخدام هذه الكلمات:

طلعت حرب - السجاد اليدوى - الرغبات - المناخ - القاهرة - الحدود - الرعى - آسيا -

الزجاج - جمال حمدان - دوارة الرياح - إفريقيا

١- أشياء سيكون من الجيد الحصول عليها، ولكن تستطيع العيش بدونها .....

٢- تعد محافظة مطروح من محافظات .....

٣- تقع مصرفى شمال شرق .....

٤- دراسة حالة الجولفترة زمنية طويلة يسمى .....

٥ إحدى الحرف المدرجة على قائمة التراث العالمى لليونسكو.....

٦ أطلق لقب «أبو الاقتصاد المصرى» على.....

(ب) حدد اثنين من: حقوق الطفل المصرى.

٢

١

**السؤال الثالث** (١) اكتب كلمة (صواب) أمام العبارة الصحيحة، وكلمة (خطأ) أمام العبارة غير الصحيحة:

١ يعد الحديد والمنجنيز من الموارد المتجددة.

٢ التعليم والترفيه من الحقوق التى توفرها لك الدولة.

٣ يعد كتاب شخصية مصر من أبرز مؤلفات الجغرافى جمال حمدان.

٤ الحدود التى تفصل محافظتى عن المحافظات المجاورة حدود سياسية.

٥ تحتفل محافظة القاهرة بعيدها القومى فى ذكرى رحيل الإنجليز عن مصر.

(ب) اكتب ما تشير إليه كل عبارة من العبارات الآتية:

١ الأشياء التى يجب أن تحصل عليها لتعيش.

٢ راية تتخذها المحافظة رمزاً لها وتعبّر عن جزء من تاريخها.

**السؤال الرابع** (١) اختر الإجابة الصحيحة مما بين القوسين:

١ اللون المناسب للدلتا على خريطة التضاريس ..... (الأخضر - الأصفر - البنى - الأزرق)

٢ الأشياء التى يكون من الجيد الحصول عليها ولكن يمكن العيش بدونها تسمى ..... \*

٣ البنك الذى من مهامه إصدار النقود ..... (البنك المصرى - البنك المركزى - بنك القاهرة - البنك الأهلى)

٤ لحن النشيد الوطنى لمصر ..... (يونس القاضى - طه حسين - سيد درويش - محمد عبدالوهاب)

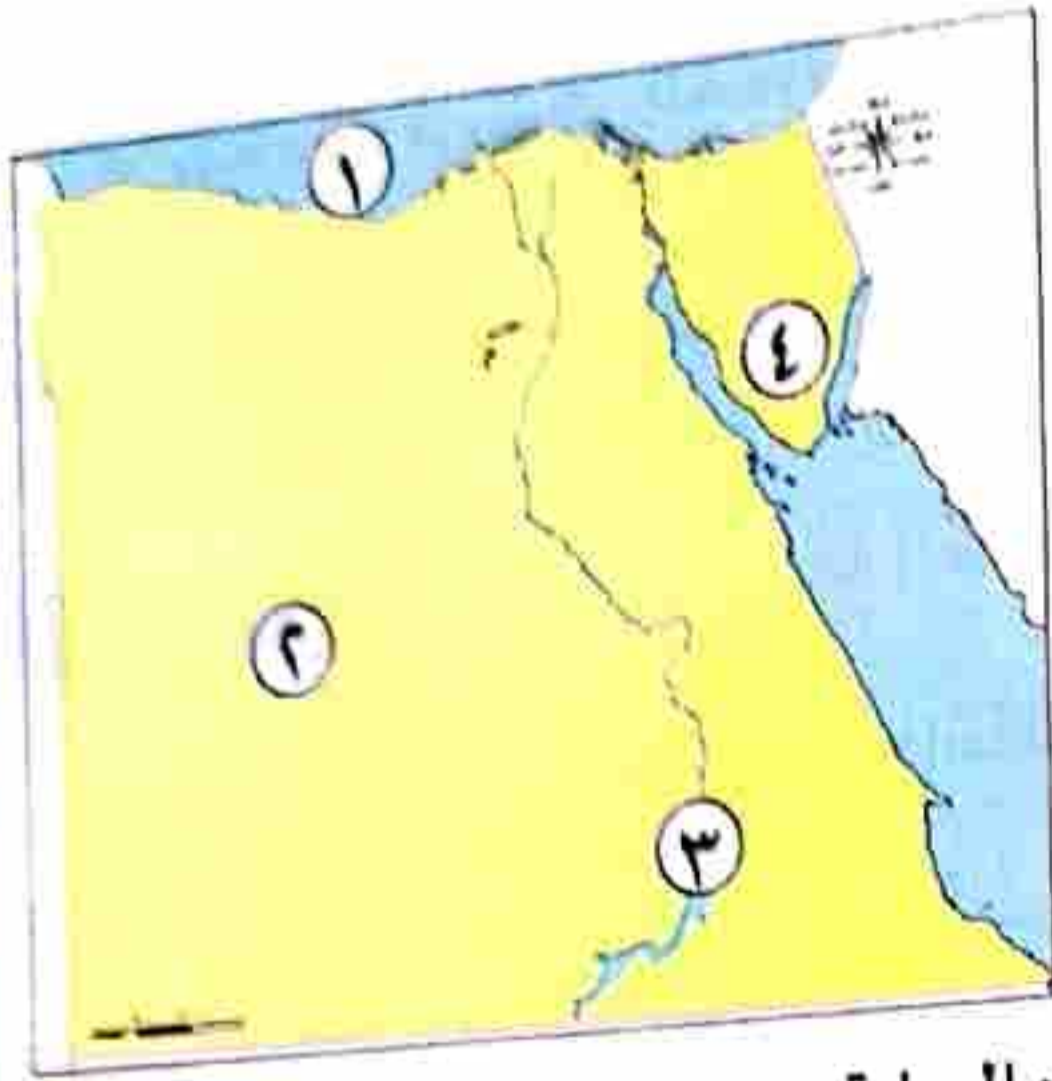
٥ أكبر البحيرات الصناعية فى العالم بحيرة ..... (المنزلة - إدكو - قارون - ناصر)

٦ أحد ألوان علم مصر يدل على السلام ..... (الذهبى - الأحمر - الأبيض - الأسود)

(ب) حدد نتيجة واحدة ل: حفر قناة السويس الجديدة.



(١) انظر إلى الخريطة التي أمامك ثم أجب:



بشير رقم (١) إلى البحر .....

بشير رقم (٢) إلى الصحراء .....

بشير رقم (٣) إلى بحيرة .....

بشير رقم (٤) إلى جبل .....

(١) هي مساحة واسعة من المياه المالحة ذات أعماق كبيرة». تعبر هذه العبارة عن مصطلح هو:

أحدى المبادرات التي تهدف للتخفيف عن المواطنين في المجتمعات الأكثر احتياجًا بتوفير كافة المرافق.

(١) أكمل الجمل التالية من بين الكلمات:


(البنى - المياه الجوفية - نهر النيل - أخضر)

تعتمد الزراعة في الصحراء الغربية على .....

بلون جبل الشايب على الخريطة باللون .....

في ضوء ما درست : أي الصورتين التاليتين يؤثر على المناخ بشكل إيجابي؟ وأيها يؤثر بشكل سلبي؟

(٢)



تؤثر بشكل .....

(١)



تؤثر بشكل .....

كتب تفسيرًا واحدًا لأهمية قناة السويس. ....

( )

( )

نشأ محمد طلعت حرب باشا بنك مصر\*.

غند زيارتك للبيئة الزراعية يمكنك ملاحظة الكثبان الرملية فيها\*.

٣ يرتبط العيد القومي بمحافظتى بذكرى تاريخية .

٤ تنتشر صناعة الخيامية فى مدينة أسوان .

٥ تقع مصرفى الركن الشمالى الغربى لقارة إفريقيا .

(ب) ما النتائج المترتبة على ...؟ سوء استخدام الموارد الطبيعية .

### السؤال الرابع (١) تخير الإجابة الصحيحة من بين القوسين:

١ لمعرفة درجات الحرارة اليوم فإننا نستخدم ..... (الترمومتر - دواراة الرياح - الأنيمومتر - جورب الرياح)

٢ البنك الذى يشرف على جميع البنوك المصرية هو .....

(البنك الأهلى - بنك القاهرة - بنك مصر - البنك المركزى)

٣ «نهر النيل أطول أنهار العالم»، تعد هذه العبارة .....

(حقيقة - رأياً - ادعاء - خيالاً)

٤ إحدى قارات العالم القديم ولا توجد بها مصرهى .....

(إفريقيا - آسيا - أستراليا - أوربا)

٥ إذا أردت استخدام مصدر طاقة فإنك سوف تعتمد على .....

(الشمس - الحديد - الفوسفات - النحاس)

٦ الطائر الموجود وسط علم مصر .....

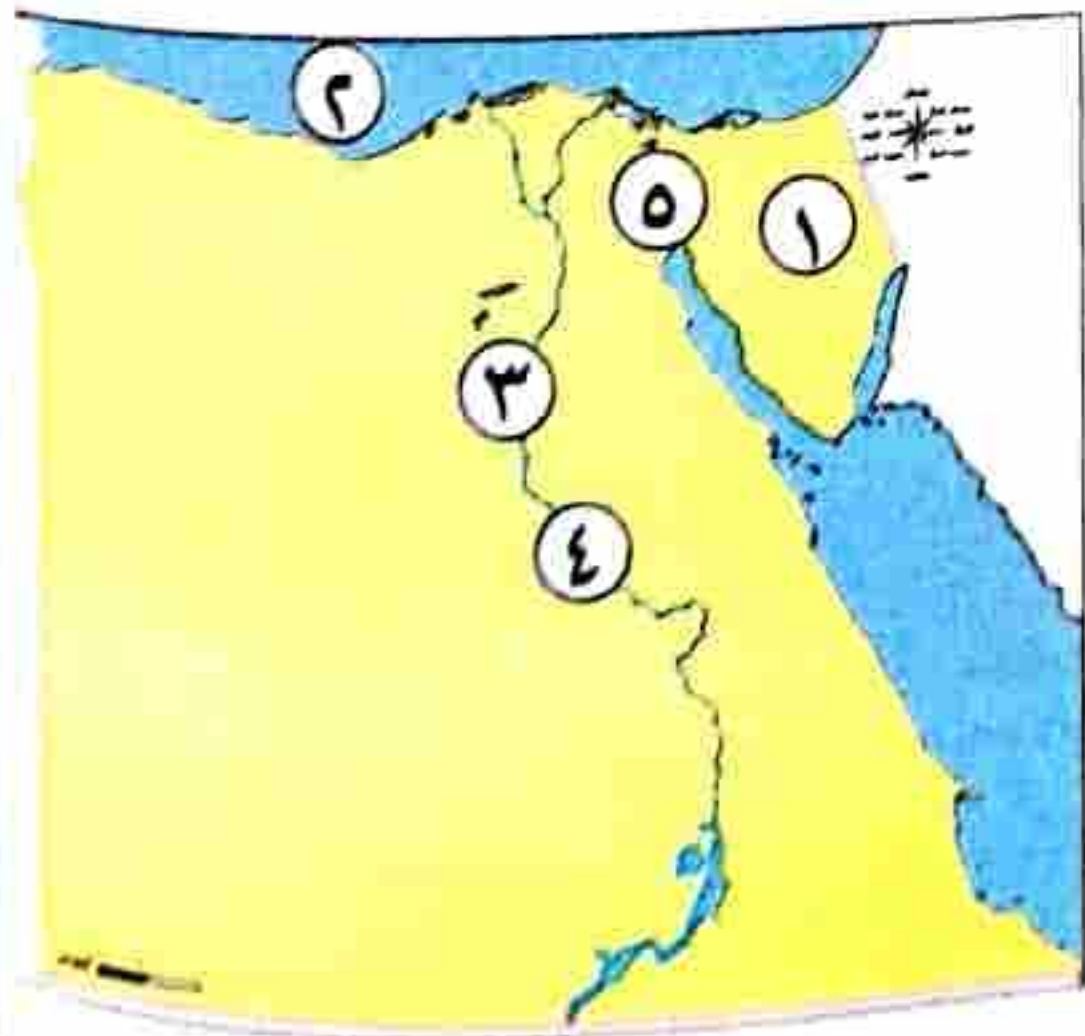
(الصقر - الحمامة - الطاووس - النسر)

(ب) بم تفسر: أهمية موقع مصر الجغرافى؟ .....

غير مجاب عنه

### ١٦ محافظة بورسعيد (إدارة شمال التعليمية)

السؤال الأول (١) لاحظ الخريطة المقابلة واكتب مدلول الأرقام عليها:



١ يشير رقم (١) إلى شبه جزيرة .....

٢ يشير رقم (٢) إلى البحر .....

٣ يشير رقم (٣) إلى البيئة .....

٤ يشير رقم (٤) إلى مصدر المياه العذبة فى مصر .....

٥ يشير رقم (٥) إلى قناة .....

(ب) اكتب سبباً واحداً لكل من:

١ أهمية الخريطة للفلاح .

٢ أهمية الحرف التراثية فى دعم الاقتصاد .

السؤال الثاني

(أ) اكتب كلمة (صواب) أمام العبارة الصحيحة، وكلمة (خطأ) أمام العبارة غير الصحيحة:

- ١ يعبر شعار محافظة القاهرة عن نشاط سكانها. ( )
  - ٢ لشراء منتجات الخيامية فإنك تذهب إلى منطقة الأزهر بالقاهرة. ( )
  - ٣ عند شرائك بعض المنتجات من السوق فأنت بذلك تشتري سلعة. ( )
  - ٤ التحاق الطفل بالمدرسة دليل على تمتعه بحقه في التعليم. ( )
  - ٥ تستخدم الأقمار الصناعية في التقاط الصور الجوية. ( )
  - ٦ تشجع الدولة استخدام السيارات الخاصة لتقليل تلوث الهواء. ( )
- (ب) اكتب اثنين من الأماكن التي ترى علم مصر يرفرف بها.

السؤال الثالث

(أ) تخير الإجابة الصحيحة من بين القوسين:

- ١ «مدينة شرم الشيخ أجمل المدن المصرية»، تعبر هذه العبارة عن ..... (رأى - خيال - واقع - حقيقة)
  - ٢ إذا أردت الذهاب إلى عاصمة مصر فعليك التوجه إلى محافظة ..... (الجيزة - الإسكندرية - القاهرة - أسوان)
  - ٣ إنشاء الحدائق والمتنزهات يعد من الخدمات ..... (الأمنية - الصحية - الثقافية - الترفيهية)
  - ٤ المورد الطبيعي الذي يتعرض للنفاذ نتيجة الإسراف في استخدامه ..... (الشمس - المياه - البترول - الهواء)
  - ٥ من الحرف المدرجة على قائمة التراث العالمي لليونسكو صناعة ..... (ورق البردي - الفخار - السجاد اليدوي - الزجاج)
  - ٦ تحتفل القاهرة بعيدها القومي في ذكرى ..... (بناء مدينة القاهرة - بناء الجامع الأزهر - حفر قناة السويس - جلاء الإنجليز)
- (ب) ماذا تقول لزميلك الذي يترك صنبور المياه مفتوحًا؟

السؤال الرابع

(أ) حدد أوجه التشابه والاختلاف بين الجزيرة وشبه الجزيرة في الجدول التالي مستخدمًا الكلمات بين القوسين:

(شدوان - سيناء - اليابس - ثلاث جهات - أربع جهات)

الجزيرة	شبه الجزيرة	أوجه المقارنة
	مساحة من .....	أوجه الشبه
تحيط بها المياه من .....	تحيط بها المياه من .....	أوجه الاختلاف
جزيرة .....	شبه جزيرة .....	مثال

(ب) أجب عن الأسئلة الآتية:

١ اكتب تشابهاً واحداً بين المصدر الأول والثانوي.

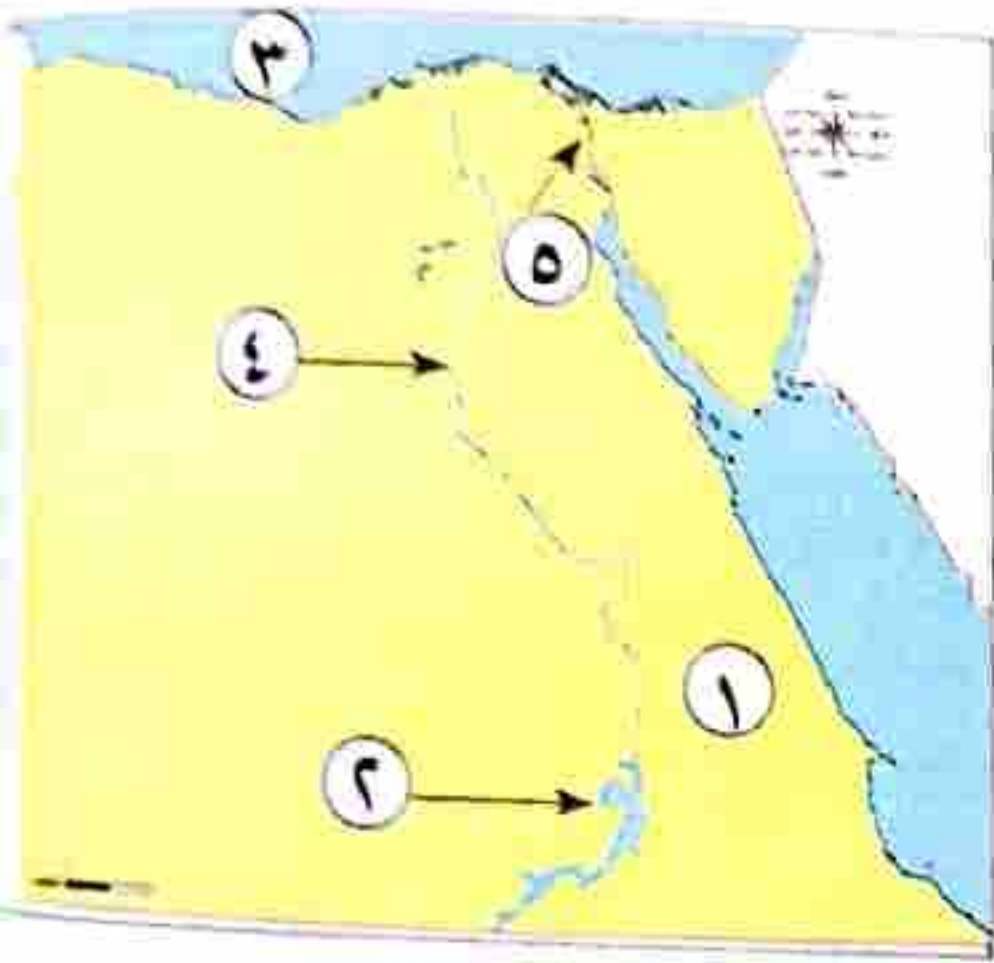
٢ اكتب سبباً واحداً لضرورة استخدام المصاييح الموفرة للطاقة.

٣ اكتب تفسيراً واحداً لوجود النسرفى وسط علم مصر.

غير مجاب عنه

### ١٧ محافظة السويس (إدارة شمال السويس التعليمية)

(١) انظر إلى الخريطة التي أمامك، ثم أجب:



السؤال الأول

١ الصحراء

٢ بحيرة

٣ البحر

٤ وادى

٥ قناة

(ب) حدد سبباً واحداً لإنشاء الدولة للعاصمة الإدارية الجديدة.

(١) أكمل العبارات التالية بكلمات مناسبة:

السؤال الثانى

١ يطلق على خطوط الطول ودوائر العرض اسم .....

٢ هو وصف حالة الجو فى فترة زمنية قصيرة.

٣ حرق قش الأرز يؤدي إلى تلوث .....

(ب) اذكر المصطلح الذى تشير إليه العبارة التالية:

- صناعات تعتمد على الأيدي العاملة وقد عرفتها مصر منذ القدم.

(١) ضع علامة (✓) أمام العبارة الصحيحة، وعلامة (X) أمام العبارة غير الصحيحة:

السؤال الثالث

١ تعد الكتب والمؤلفات من المصادر الأولية.

٢ سيناء شبه جزيرة يحيط بها الماء من ثلاث جهات.

- بحيرة السد العالي من البحيرات الطبيعية في العالم.
- بعد معرض تراثنا دليلاً على اهتمام الدولة بإحياء الحرف التراثية.
- تعد حملة ١٠٠ مليون صحة من الخدمات الثقافية التي تقدمها الدولة.
- (ب) حدد المختلف في عناصر المجموعة:
- (وردة البوصلة - عنوان الخريطة - مقياس الرسم - الصور الجوية)

### السؤال الرابع (١) تخير الإجابة الصحيحة مما بين القوسين:

- ١ تقع مصرفى الركن الشمالى الشرقى من قارة .....
- ٢ من الموارد الطبيعية غير المتجددة .....
- ٣ تشتهر قرية الحرائية بصناعة .....
- (إفريقيا - أوروبا - أستراليا - آسيا)
- (الهواء - الماء - الفحم - الشمس)
- (الزجاج - الفخار - السجاد اليدوى - الجلود)

(ب) أكمل الجدول التالى لتحديد أيها من قارات العالم القديم أو الجديد مستخدماً الكلمات التالية:

(أمريكا الشمالية - إفريقيا - آسيا - أستراليا)

من قارات العالم الجديد

من قارات العالم القديم

.....  
.....

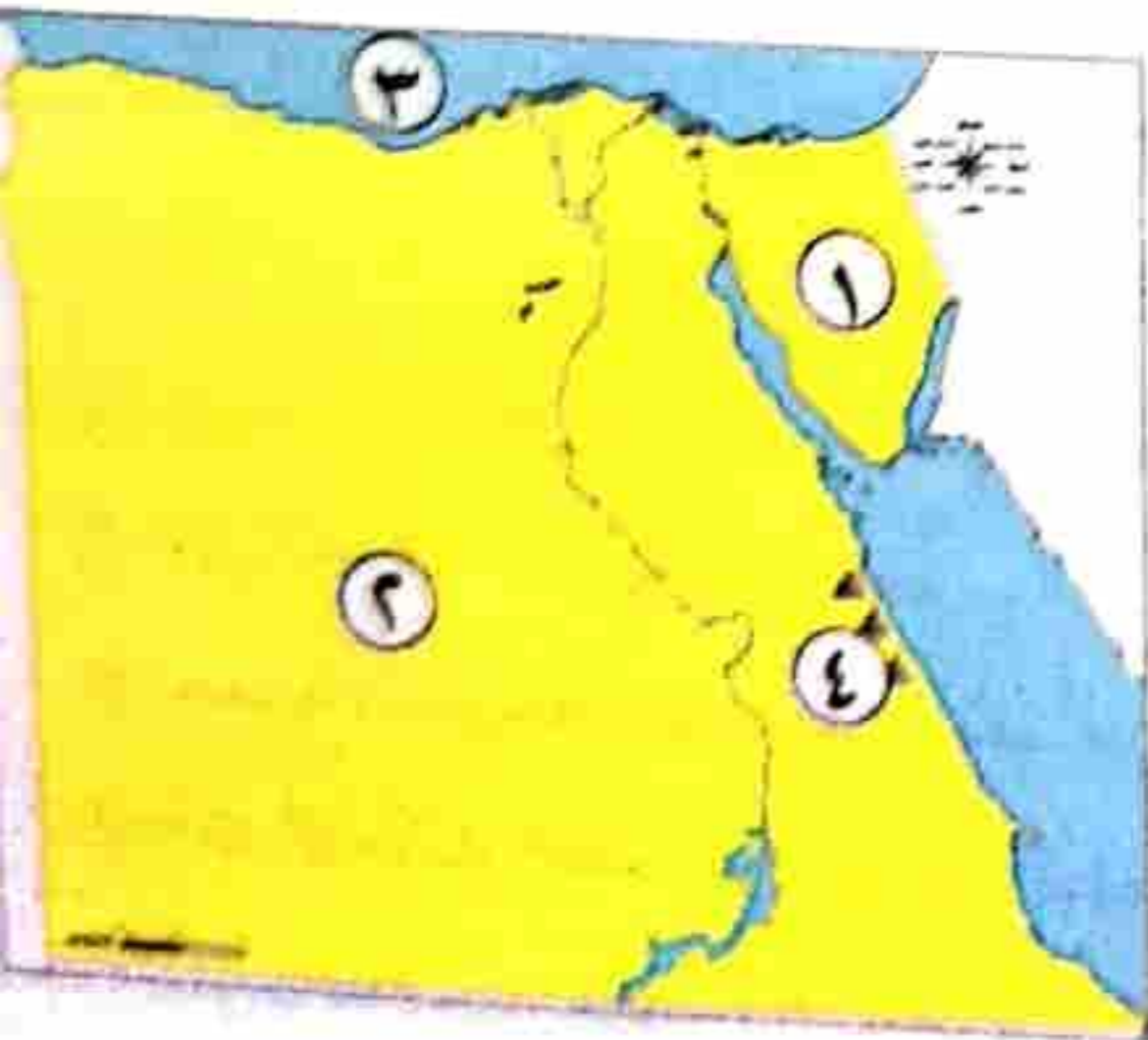
.....  
.....

مجاب عنه

محافظة المنيا (ادارة المنيا التعليمية)

١٨

السؤال الاول (١) اكتب ما تدل عليه الأرقام على الخريطة:



- ١ شبه جزيرة .....
- ٢ الصحراء .....
- ٣ البحر .....
- ٤ جبال .....

(ب) اكتب ما تشير إليه العبارتان:

- ١ رسم توضيحي لسطح الأرض أو جزء منه باستخدام الرموز والألوان.
- ٢ أرض شديدة الارتفاع ولها قمة وجوانبها شديدة الانحدار.
- (.....)
- (.....)

**السؤال الثاني** ( ١ ) اكتب كلمة (صح) أمام العبارة الصحيحة ، وكلمة (خطأ) أمام العبارة غير الصحيحة:

١ المصادر الأولية أكثر دقة من المصادر الثانوية .

٢ تعتبر قارة أستراليا من قارات العالم القديم .

٣ تتكون مصر من ٢٧ محافظة .

٤ يدل اللون الأحمر في علم مصر على السلام .

(ب) لمن ينسب العملان الآتيان ؟...

١ ألف كتاب «شخصية مصر» . (.....)

٢ أسس بنك مصر عام ١٩٢٠م . (.....)

**السؤال الثالث** ( ١ ) اختر الإجابة الصحيحة مما بين القوسين:

١ أحد مظاهر الاحتفال بالعيد القومي للمحافظة هو .....

(تزيين الشوارع - إقامة صلاة العيد - غلق الأسواق - ذبح الأضحية)

٢ تقاس درجة الحرارة ب.....

(الترمومتر - الأنيمومتر - البارومتر - جوب الوياح)

٣ تعد بحيرة ..... من أكبر البحيرات الصناعية في العالم .

(البردويل - المنزلة - البرلس - ناص)

٤ تنتشر في الصحارى المصرية العديد من مصادر الطاقة مثل .....

(الحديد - البترول - الفوسفات - النحاس)

(ب) بم تفسر...؟

١ تلوث الهواء .

٢ استخدام أساليب الري الحديثة .

**السؤال الرابع** ( ١ ) أكمل العبارات الآتية بما يناسبها من الكلمات التالية:

(السجاد البدوي - السلع - التعليم - الأمنية - البنك)

١ ..... هي كل ما يتم إنتاجه ونقوم بشرائه .

٢ من الحرف التراثية في مصر .....

٣ حماية الشرطة للمؤسسات تعد من الخدمات .....

٤ أكد الدستور المصري على حق الطفل في .....

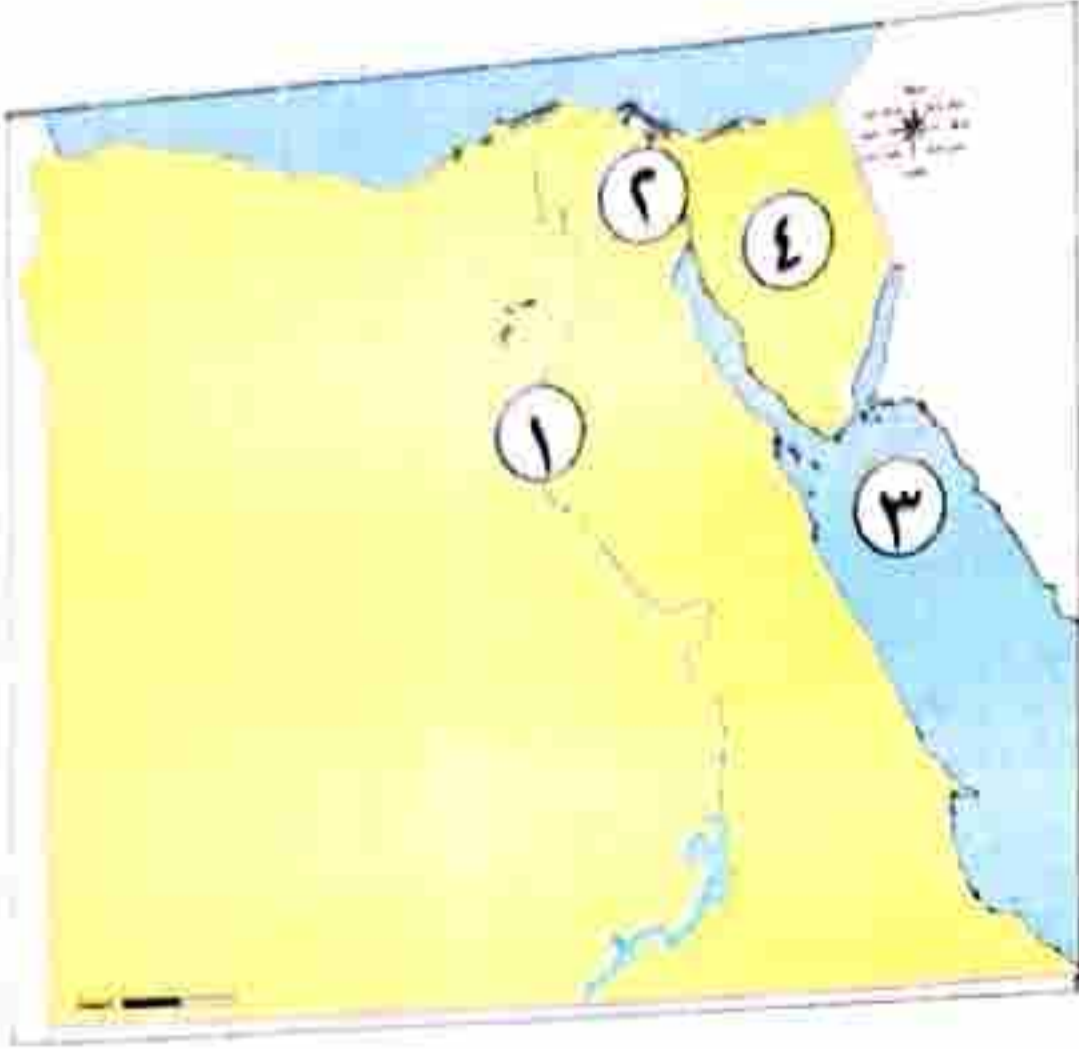
(ب) صوب ما تحته خط:

١ يقوم بنك مصر بإصدار النقود

٢ الطقس هو حالة الجو في فترة زمنية طويلة .

(١) أمامك خريطة صماء لمصر، لاحظها جيدًا، ثم أجب:

سؤال الأول



- ..... نهر
- ..... قناة
- ..... البحر
- ..... شبه جزيرة
- اكتب تفسيرًا واحدًا لـ:

تأسيس بنك مصر عام ١٩٢٠م.

إقامة الدولة حملة «١٠٠ مليون صحة».

سؤال الثاني (١) اكتب كلمة (صواب) أمام العبارة الصحيحة، وكلمة (خطأ) أمام العبارة غير الصحيحة:

- ( ) ساعد نهر النيل قديمًا على زيادة التجارة بين مصر ودول وسط إفريقيا.
- ( ) موقع الماء في الجزيرة هو نفسه موقع الماء في البحيرة.
- ( ) الكتب والموسوعات والمقالات من المصادر الأولية.
- ( ) يرتبط العيد القومي لمحافظة المنيا بذكرى تاريخية.

ما النتائج المترتبة على ...؟

وجود المياه الجوفية في الصحراء الغربية\*.

سوء استخدام الموارد الطبيعية.

سؤال الثالث (١) اختر الإجابة الصحيحة مما بين القوسين:

(خدمة - سلعة - نشاط - مبادرة)

(الأبيض - الأحمر - الأسود - الأخضر)

الأزرق الذي تشتريه عبارة عن .....

اللون الذي يدل على نضال الشعب المصري هو .....

أراد قبطان السفينة معرفة السرعة التي يتحرك بها الهواء؛ لذا فعلية استخدام .....

(البارومتر - دوارة الرياح - جورب الرياح - الأنيمومتر)



٤ من الحرف المدرجة على قائمة التراث العالمى لليونسكو صناعة .....

(ورق البردى - الفخار - السجاد اليدوى - الزجاج)

(ب) اكتب ما تشير إليه العبارات التالية:

١ كل ما يتم إنتاجه، ونقوم بشرائه مثل المنتجات الغذائية.

٢ أرض مرتفعة قليلاً ولها قمة يقل ارتفاعها عن ١٠٠٠ متر.

**السؤال الرابع** (١) أكمل العبارات بما يناسبها من الكلمات التالية:

(ناصر - دمياط - القاهرة - الأقمار الصناعية - الطائرات)

١ تلتقط الصور الجوية بواسطة .....

٢ تعتبر محافظة ..... هي عاصمة مصر.

٣ أصغر محافظات مصر من حيث المساحة محافظة .....

٤ من أكبر البحيرات الصناعية فى العالم بحيرة .....

(ب) صوب ما تحته خط:

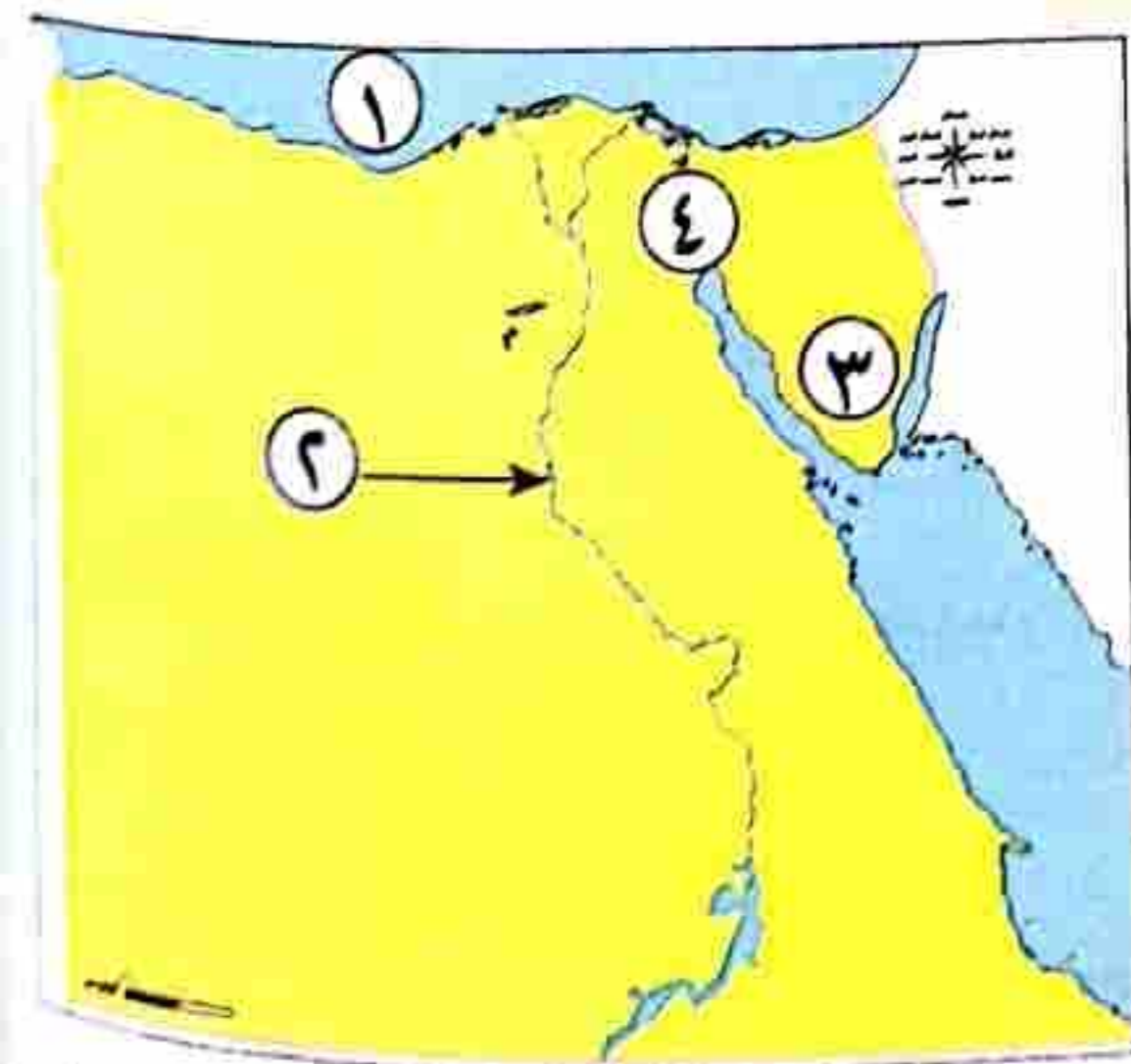
١ تقع معظم الأراضى المصرية فى الإقليم الاستوائى.

٢ الصور الفضائية تلتقط بالطائرات \*.

مجاب عنه

**٢٠** محافظة أسيوط (إدارة أسيوط التعليمية)

**السؤال الأول** (١) أمامك خريطة لمصر، اكتب مدلول الأرقام التى عليها:



١ البحر .....

٢ نهر .....

٣ شبه جزيرة .....

٤ قناة .....

(ب) اكتب تفسيراً واحداً لأهمية الخريطة للفلاح.

**السؤال الثانى** (١) اكتب كلمة (صح) أمام العبارة الصحيحة، وكلمة (خطأ) أمام العبارة غير الصحيحة:

١ الحقائق هى معلومات تم إثبات صحتها والتأكد منها.

٢ المحيط الهادى يمثل مساحة واسعة من الماء المالح قليلة العمق.



محافظة الوادى الجديد أكبر محافظات مصر من حيث المساحة.  
يؤدي انتشار الحرف اليدوية إلى توفير فرص العمل.  
اكتب تفسيراً واحداً لوجود اللون الأحمر فى علم مصر.

( )  
( )

(1) اختر الإجابة الصحيحة مما بين القوسين:

بعد بناء المستشفيات وتوفير الأدوية للمواطنين من الخدمات .....

(التعليمية - الصحية - الثقافية - الرقمية)

يمكننا تحديد اتجاه الرياح باستخدام ..... (الترمومتر - مقياس المطر - طواحين الهواء - جوب الرياح)

ينتسب حرق قش الأرز فى تلوث ..... (التربة - المياه - الهواء - الفضاء)

من أكبر البحيرات الصناعية فى مصر والعالم بحيرة ..... (قارون - ناصر - إدكو - المنزلة)

دلل على: اهتمام الدولة بأحقية الطفل فى التعليم\* .

(1) اكتب المصطلح الجغرافى للعبارات التالية:

(.....) فى مساحة واسعة من المياه المالحة ذات أعماق كبيرة.

(.....) الصور التى يتم التقاطها باستخدام الأقمار الصناعية.

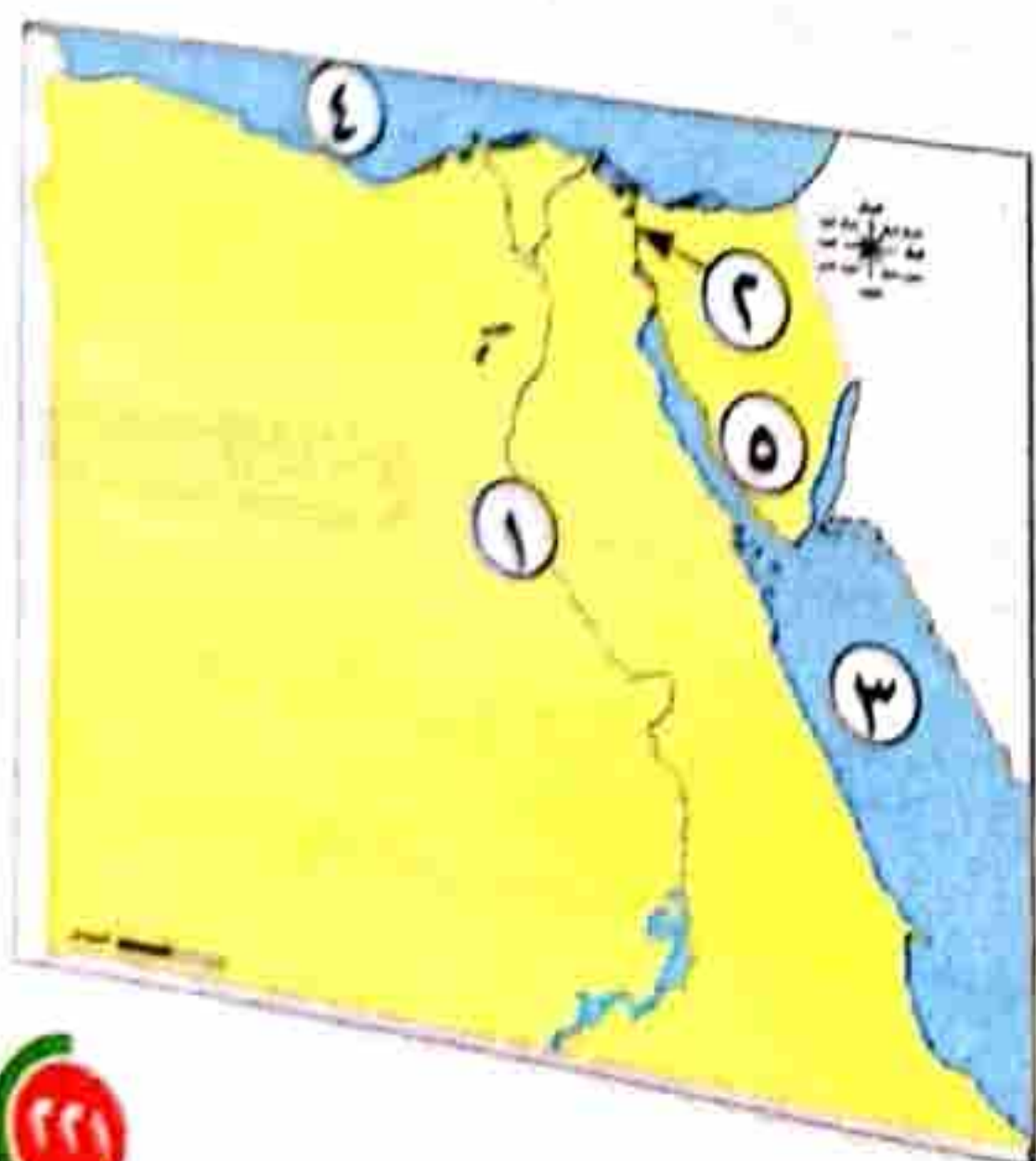
(.....) وصف حالة الجو من حيث الرياح والأمطار ودرجة الحرارة لفترة زمنية طويلة.

(.....) أرض شديدة الارتفاع ولها قمة وجوانبها شديدة الانحدار.

سر: تعد مدينة الرويكي مدينة صديقة للبيئة\* .

مجاب عنه

(2) محافظة قنا (إدارة نجع حمادى التعليمية)



(1) لاحظ الخريطة، ثم أجب:

.....  
.....  
.....  
.....  
.....  
.....  
.....

(ب) بم تفسر...؟

١ وجود الزراعة فى الصحراء الغربية.

٢ وجود النسرفى علم مصر.

**السؤال الثانى** (١) اختر الإجابة الصحيحة مما بين القوسين:

- ١ من الخدمات التعليمية بناء ..... (المستشفيات - المدارس - النوادى - السينما)
- ٢ اللون الذى يدل على السلام فى علم مصر هو ..... (الأبيض - الأحمر - الأسود - الذهبى)
- ٣ التحاق الطفل بالمدرسة من حقوقه فى ..... (الصحة - الأمن - التعليم - المسكن)
- ٤ تقع مصر فى الركن الشمالى الشرقى لقارة ..... (آسيا - أوربا - إفريقيا - أستراليا)
- ٥ يتسبب حرق قش الأرز فى تلوث ..... (التربة - الماء - الغذاء - الهواء)

(ب) ما المقصود بالحياة المستدامة؟

**السؤال الثالث** (١) اكتب كلمة (صواب) أمام العبارات الصحيحة، وكلمة (خطأ) أمام العبارات غير الصحيحة:

- ١ يدل اللون الأحمر فى علم مصر على الظلم. ( )
- ٢ المناخ حالة الجو لفترة طويلة. ( )
- ٣ يعبر شعار المحافظة عن نشاط سكانها. ( )
- ٤ من الخدمات الترفيهية إنشاء الحدائق. ( )
- ٥ يستخدم مقياس الرسم فى تحديد المسافات. ( )

(ب) حدد سبباً واحداً لأهمية رسم وردة البوصلة على الخريطة.

**السؤال الرابع** (١) اكتب المفهوم الجغرافى الدال على:

- ١ أرض شديدة الارتفاع ولها قمة. ( )
- ٢ الأشياء التى يجب أن تحصل عليها لتعيش آمناً. ( )
- ٣ كل ما يتم إنتاجه ونقوم بشرائه. ( )

(.....)

(.....)

٤ موارد لا تنفذ رغم استخدامنا المستمر لها.

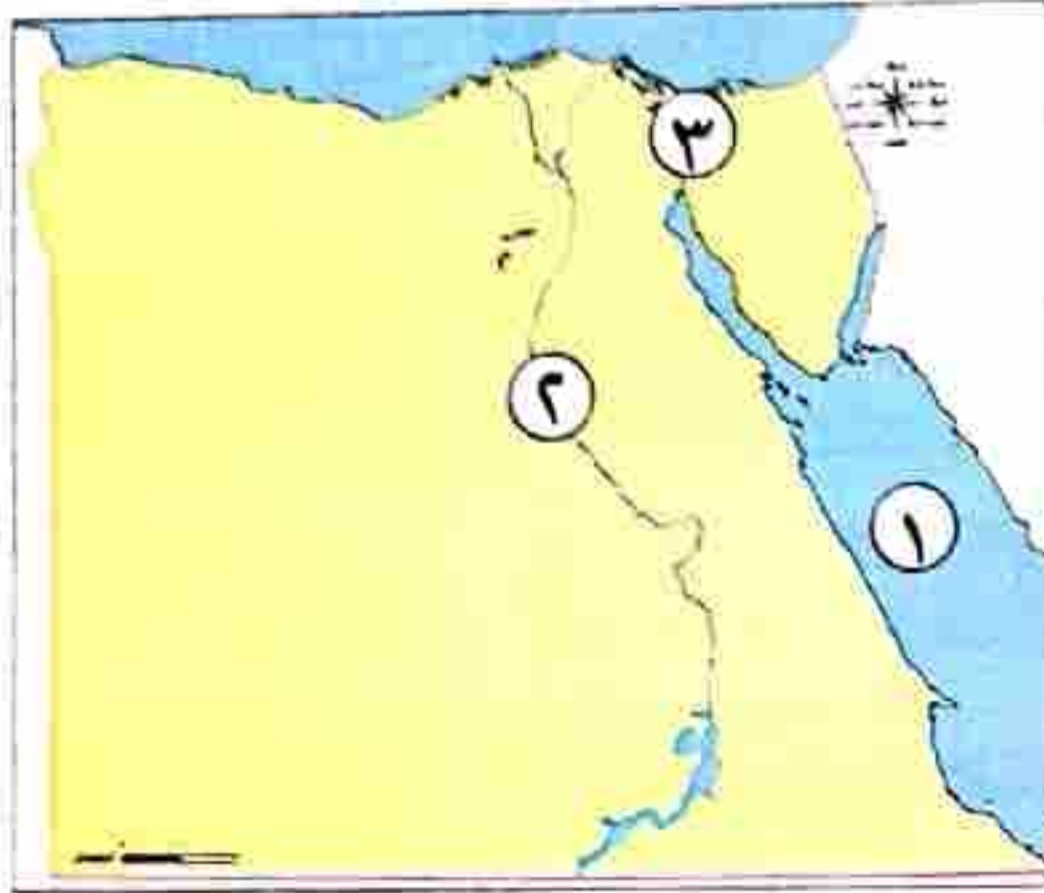
٥ موارد خلقها الله لتساعدنا على الحياة.

(ب) فسر: قيام الزراعة فى الصحراء الغربية \*

غير مجاب عنه

## ٢٢ محافظة سوهاج (إدارة طهطا التعليمية)

السؤال الأول (١) لاحظ الخريطة التالية، وأجب عن الأسئلة:



١ يشير الرقم (١) إلى البحر.....

٢ يشير الرقم (٢) إلى نهر.....

٣ يشير الرقم (٣) إلى قناة.....

(ب) اكتب تفسيراً واحداً لأهمية الخريطة للفلاح.

.....  
.....

السؤال الثانى (١) اختر الإجابة الصحيحة مما بين الأقواس:

(البيئية - التعليمية - الصحية - الفنية)

١ تطعيم أطفال المدارس يعد من الخدمات .....

(الاستوائى - الصحراوى - المدارى - القطبى)

٢ يسود معظم الأراضى المصرية المناخ .....

(الفخار - الأجهزة الكهربائية - السيارات - الدواء)

٣ من الحرف التراثية فى مصر صناعة .....

(ب) أكمل الجدول الآتى: (علم مصر)

يدل على	اللون
	الأبيض
	الأحمر

السؤال الثالث (١) اكتب كلمة (صح) أمام العبارة الصحيحة، وكلمة (خطأ) أمام العبارة غير الصحيحة:

( )

١ يحتوى الدستور المصرى على مواد تؤكد حقوق الطفل.

( )

٢ أسس طلعت حرب باشا بنك مصر ١٩٢٠م.

( )

٣ توليد الكهرباء من الرياح يؤدى إلى تلوث الهواء.

(ب) اذكر سببًا واحدًا لقيام الزراعة في بعض المناطق الصحراوية.

**السؤال الرابع** (١) صنف الموارد الآتية إلى موارد متجددة وغير متجددة:

(البتروول - الرياح - الشمس - الفحم)

موارد غير متجددة

موارد متجددة

(ب) وضح: أى من العبارتين الآتيتين ( حقيقى ) وأيهما ( رأى )؟

(.....)

١ جبل سانت كاترين أعلى قمة جبلية فى مصر.

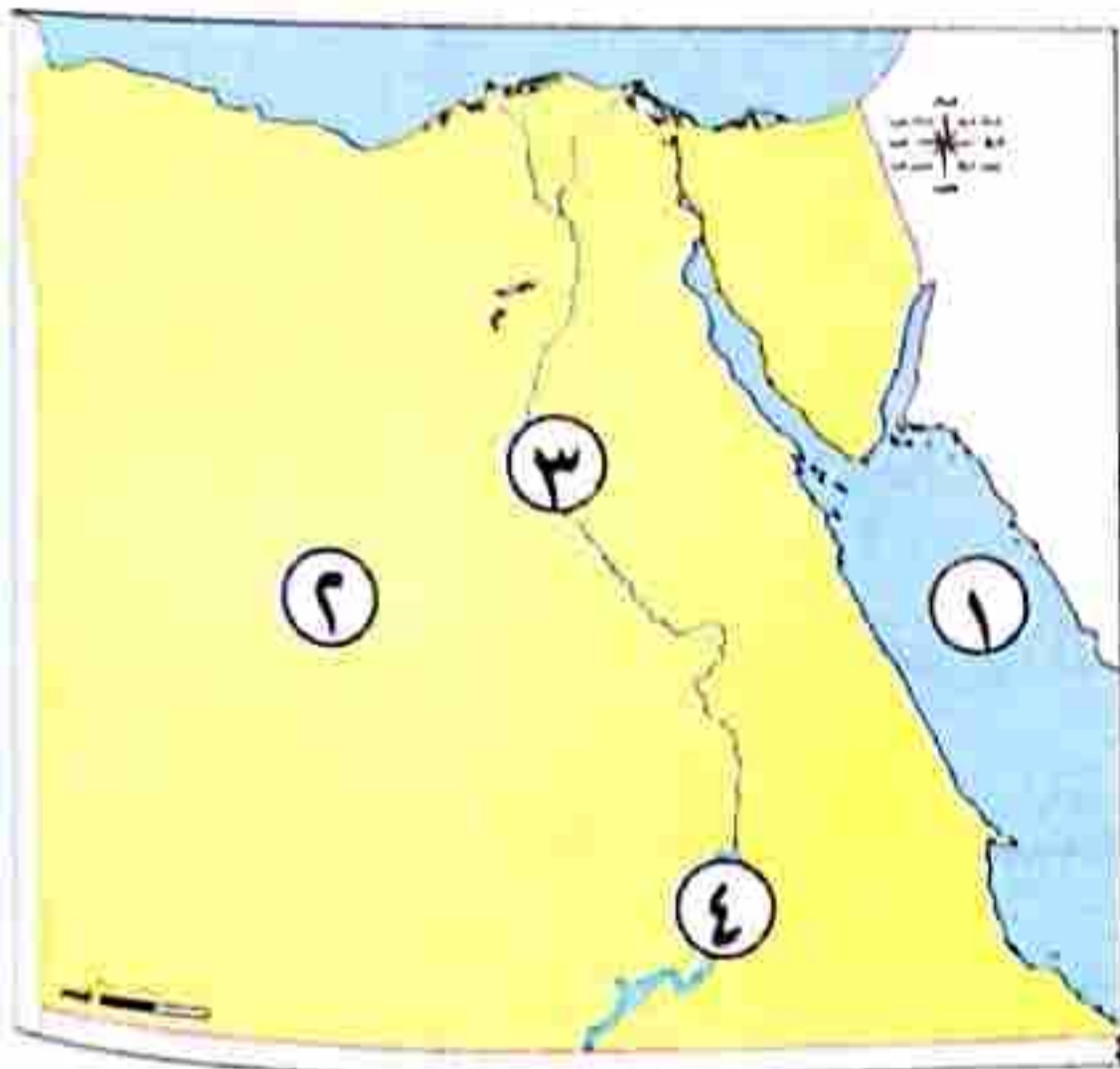
(.....)

٢ هذه صورة رائعة للريف المصرى.

مجاب عنه

**٢٣** محافظة الأقصر (مديرية التربية والتعليم)

**السؤال الأول** (١) اكتب ما تدل عليه الأرقام على الخريطة:



١ البحر.....

٢ الصحراء.....

٣ نهر.....

٤ بحيرة.....

(ب) اكتب ما تدل عليه العبارات الآتية:

(.....)

١ مساحة واسعة من المياه المالحة ذات أعماق كبيرة.

(.....)

٢ أرض شديدة الارتفاع ولها قمة وجوانبها شديدة الانحدار.

(.....)

٣ هى الأشياء التى يجب أن نحصل عليها لنعيش.

**السؤال الثالث** (١) ضع علامة (✓) أمام العبارة الصحيحة، وعلامة (X) أمام العبارة غير الصحيحة:

( )

١ تستخدم الأقمار الصناعية فى التقاط الصور الجوية.

( )

٢ لوحة الملك نارمر أحد المصادر الثانوية.

( )

٣ محافظة الإسكندرية تقع على البحر الأحمر.

( )

٤ ملحن النشيد الوطنى (بلادى بلادى) هو طه حسين.

( )

٥ تعد بحيرة ناصر أصغر بحيرة صناعية فى العالم.

(ب) صوب ما تحته خط:

- ١ قامت الزراعة في الصحراء الغربية بسبب وفرة مصادر الطاقة\* .
- ٢ أرض تحيط بها المياه من ثلاث جهات تسمى الجزيرة.

(السؤال الثالث) (١) تخير الإجابة الصحيحة مما بين القوسين فيما يلي:

- ١ تقع مصرفى الركن الشمالى الشرقى لقارة ..... (إفريقيا - أستراليا - أوروبا - آسيا)
- ٢ الكثبان الرملية تنتشر فى البيئة ..... (الزراعية - الصناعية - الصحراوية - الساحلية)
- ٣ الرمال السوداء تدخل فى صناعة .....\* (الحلى - الخزف - الزجاج - الصلب)
- ٤ يتسبب حرق قش الأرز فى تلوث ..... (التربة - المياه - الهواء - الفضاء)
- ٥ قرية الحرائية تعد مقصدًا لكثير من السياح، لتمييزها بصناعة ..... (النسيج - الفخار - الزجاج - الخيامية)
- ٦ التطعيم الذى يحصل عليه أطفال المدارس يعد من الخدمات ..... (البيئية - الصحية - الأمنية - التعليمية)

(ب) اكتب تفسيرًا واحدًا لـ:

- ١ وجود النسرفى وسط علم مصر. ....
- ٢ أهمية الخريطة للفلاح. ....

(السؤال الرابع) (١) صنف العناصر الآتية على حسب الحاجات والرغبات:

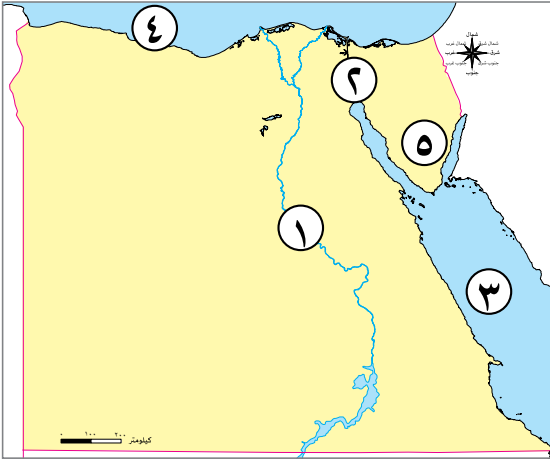
(الخبز- الذهاب إلى الملاهى - الملابس - التليفزيون - المسكن المناسب - زيارة المتاحف)

الرغبات	الحاجات
.....	.....
.....	.....
.....	.....

(ب) أكمل العبارتين الآتيتين بما يناسبهما:

- ١ الأمطار تسقط على مصرفى فصل .....
- ٢ عاصمة مصرهى محافظة .....

### السؤال الأول



(١) أمامك خريطة صماء لمصر، اكتب مدلول الأرقام عليها:

- ١ يشير رقم (١) على الخريطة إلى نهر.....
  - ٢ يشير رقم (٢) على الخريطة إلى قناة.....
  - ٣ يشير رقم (٣) على الخريطة إلى البحر.....
  - ٤ يشير رقم (٤) على الخريطة إلى البحر.....
  - ٥ يشير رقم (٥) على الخريطة إلى شبه جزيرة.....
- (ب) بم تفسر... أهمية رسم وردة البوصلة على الخريطة.

### السؤال الثاني

(١) اختر الإجابة الصحيحة مما بين الأقواس:

- ١ « مدينة شرم الشيخ أجمل المدن المصرية ». تعبر هذه العبارة عن ..... ( رأى - خيال - حقيقة - واقع )
- ٢ القناة التي تعد شريان التجارة العالمي الذي يربط بين البحرين المتوسط والأحمر بشكل مباشر هي قناة ..... ( بنما - السويس - سيزوستيريس - جونجلي )
- ٣ قامت الدولة ببناء العاصمة الإدارية الجديدة لتخفيف الضغط السكاني عن ..... ( الدقهلية - القاهرة - الإسكندرية - الجيزة )
- ٤ تعتمد الزراعة على المياه الجوفية في ..... ( وادي النيل - الصحراء الغربية - الصحراء الشرقية - الدلتا )

(ب) صنف المصادر الآتية إلى مصادر أولية ومصادر ثانوية في الجدول التالي:

( الأفلام التسجيلية - المقالات - الأبحاث - الأهرامات )

مصادر أولية	مصادر ثانوية
.....	.....
.....	.....

### السؤال الثالث

( ١ ) اكتب كلمة (صواب) أمام العبارة الصحيحة، وكلمة (خطأ) أمام العبارة غير الصحيحة:

- ( ) ١ تستخدم الأقمار الصناعية في التقاط الصور الجوية.
- ( ) ٢ يجب أن يستمع الصيادون للنشرة الجوية قبل الخروج في رحلات الصيد.
- ( ) ٣ أنشأت الدولة محطة الزعفرانة لتوليد الكهرباء من الشمس.

(ب) أمامك صورتان: اكتب ما تدل عليه كل منهما، ثم حدد أوجه الشبه والاختلاف بينهما:



(٢)



(١)

٣ وجه الشبه:

٤ وجه الاختلاف:

### السؤال الرابع

( ١ ) أكمل العبارات الآتية بما يناسبها من كلمات:

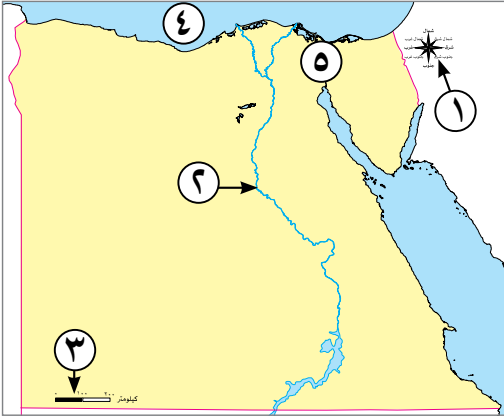
- ١ رسم توضيحي لسطح الأرض أو جزء منه .....
- ٢ عاصمة مصر هي محافظة .....
- ٣ يعبر اللون الأبيض في علم مصر عن .....
- ٤ يمكننا قياس سرعة الرياح بـ .....
- ٥ مدينة أنشأتها الدولة لتشجيع صناعة الجلود .....
- ٦ كل ما يتم إنتاجه ونقوم بشرائه يسمى .....

(ب) اكتب نتيجة واحدة ترتب على: الإفراط في استخدام مصادر الطاقة غير المتجددة.

## نموذج (٢)

### السؤال الأول

(١) أمامك خريطة صماء لمصر، اكتب مدلول الأرقام عليها:



- ١ وردة .....
- ٢ نهر .....
- ٣ مقياس .....
- ٤ البحر .....
- ٥ قناة .....

(ب) أجب عن السؤال التالي: اكتب نتيجة واحدة تترتب على حرق قش الأرز.

### السؤال الثاني

(١) أكمل العبارات الآتية بما يناسبها من كلمات:

- ١ تشغل معظم مساحة مصر البيئة .....
- ٢ من أهم مصادر المياه العذبة في مصر .....
- ٣ إسراف المزارعين في استخدام الأسمدة الكيماوية يؤدي إلى تلوث .....
- ٤ أقدم الصناعات اليدوية وتنتشر في العديد من القرى المصرية، هي صناعة .....

(ب) أمامك صورة لشعار محافظة القاهرة وضع:



١ يتكون شعار محافظة القاهرة من عدة رموز:

..... (أ) ..... (ب) .....

٢ حدد سبب احتفال كل محافظة بعيد قومي خاص بها.



### السؤال الثالث

( ١ ) صوب ما تحته خط:

- ١ قامت الدولة بإنشاء مدينة الروبيكي لتشجيع صناعة النسيج.
  - ٢ اتجهت دول العالم إلى استخدام مصادر الطاقة المتجددة مثل الرياح والفحم.
  - ٣ مناجم الذهب تنتشر في الدلتا.
  - ٤ من الخدمات الصحية بناء المدارس.
  - ٥ أنشأت الدولة محطة الزعفرانة لتوليد الكهرباء من الشمس.
- (ب) أجب عن السؤال التالي: اكتب تفسيراً لأهمية الخريطة للجيش.

### السؤال الرابع

( ١ ) اكتب كلمة (صواب) أمام العبارة الصحيحة، وكلمة (خطأ) أمام العبارة غير الصحيحة:

- ١ البترول والفحم من مصادر الطاقة التي تحتاج لآلاف السنين لتكوينها. ( )
- ٢ صناعة السجاد والنسيج اليدوي من الحرف المدرجة على قائمة التراث العالمي في منظمة اليونسكو. ( )
- ٣ تعد حملة « ١٠٠ مليون صحة » من الخدمات الثقافية التي توفرها الدولة. ( )
- ٤ يؤدي انتشار الحرف اليدوية إلى ارتفاع نسبة البطالة. ( )
- ٥ يستخدم مقياس الرسم في تحديد الاتجاهات على الخريطة. ( )
- ٦ يدل النسرا الذي يتوسط العلم على القوة والشجاعة. ( )

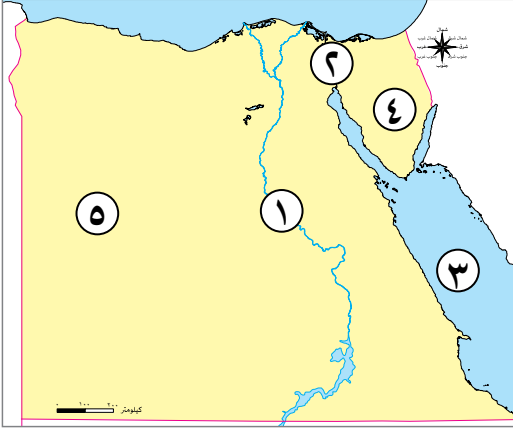
(ب) حدد اختلافاً واحداً بين السهل الساحلى والسهل الفيضى:

وجه الاختلاف	السهل الساحلى	السهل الفيضى
الاختلاف	.....	.....

## نموذج (٣)

### السؤال الأول

(١) أمامك خريطة صماء لمصر، اكتب مدلول الأرقام عليها:



- ١ نهر .....
- ٢ قناة .....
- ٣ البحر .....
- ٤ شبه جزيرة .....
- ٥ الصحراء .....

(ب) اكتب دليلاً على صحة العبارة التالية: تتعرض التربة لأخطار متعددة.

.....

### السؤال الثاني

(١) اختر الإجابة الصحيحة مما بين الأقواس:

- ١ تقع مصر في الركن الشمالي الشرقي من قارة ..... (إفريقيا - أستراليا - أوروبا - أمريكا الجنوبية)
- ٢ يمكننا تحديد اتجاه الرياح باستخدام ..... (جورب الرياح - طواحين الهواء - مقياس المطر - الأنيمومتر)
- ٣ يتخذ علم مصر شكل ..... (مثلث - دائرة - مستطيل - مربع)
- ٤ يدل النسرفي وسط علم مصر على ..... (الضعف - الثورة - النضال - القوة)

(ب) بم تفسر...؟

١ أهمية الخريطة للفلاح.

.....

٢ طرح الدولة مبادرة حياة كريمة.

.....

### السؤال الثالث

( ١ ) اكتب ما تشير إليه العبارات الآتية:

- ١ راية تتخذها محافظة رمزاً لها لتعبر عن نشاط سكانها أو جزء من تاريخها. (.....)
  - ٢ أرض شديدة الارتفاع ولها قمة وجوانبها شديدة الانحدار تزيد على ١٠٠٠ م. (.....)
  - ٣ يشير إلى المعلومات الواردة على الخريطة. (.....)
  - ٤ معلومات أو أحداث تم إثبات صحتها والتأكد من دقتها. (.....)
  - ٥ رمز يتخذه كل بلد ليعبر عن تاريخه وتراثه. (.....)
- (ب) ما العلاقة بين ...؟ مصروفات العالم القديم.
- .....

### السؤال الرابع

( ١ ) اكتب كلمة (صواب) أمام العبارة الصحيحة، وكلمة (خطأ) أمام العبارة غير الصحيحة:

- ١ للتأكد من صحة المعلومات الواردة عن الهرم نستخدم المصادر الأولية والثانوية. ( )
- ٢ المحيط الهادى يمثل مساحة شاسعة من الماء المالح قليلة العمق. ( )
- ٣ للطفل الحق في المشاركة في اتخاذ القرارات التي تؤثر في حياته. ( )
- ٤ يرتبط العيد القومي للمحافظة بحدث تاريخي أو ذكرى مهمة. ( )

(ب) ما المقصود ب...؟

١ الخدمات.

.....

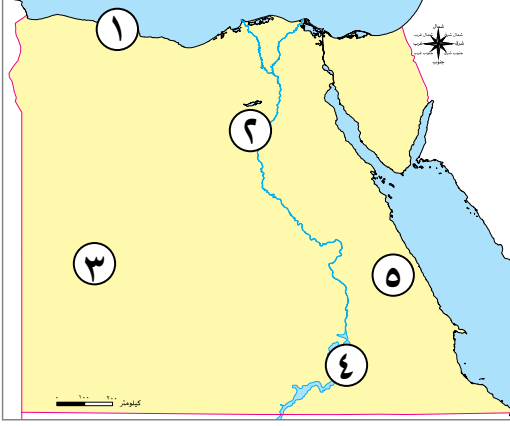
٢ الطاقة الحفزية.

.....

## نموذج (٤)

### السؤال الأول

(١) أمامك خريطة صماء لمصر، اكتب مدلول الأرقام عليها:



١ يشير رقم (١) على الخريطة إلى البيئة .....

٢ يشير رقم (٢) على الخريطة إلى البيئة .....

٣ يشير رقم (٣) على الخريطة إلى الصحراء .....

٤ يشير رقم (٤) على الخريطة إلى بحيرة صناعية هي بحيرة .....

٥ يشير رقم (٥) على الخريطة إلى محافظة يوجد بها محطة

الزعفرانة .....

(ب) حدد سبب واحدًا لأهمية مفتاح الخريطة:

### السؤال الثاني

(١) أكمل العبارات الآتية بما يناسبها من كلمات:

١ الحدود التي تفصل المحافظات عن بعضها تسمى حدودًا .....

٢ الترمومتر يستخدم في قياس درجات .....

٣ تشمل البيئة الزراعية في مصر وادي النيل و .....

٤ المصدر الرئيسي لمياه الشرب في الواحات .....

٥ حماية المواطنين وتوفير الأمن والاستقرار لهم يعد من الخدمات .....

٦ التحاق الطفل بالمدرسة يعد من حقوق الطفل في .....

(ب) صنف العوامل المؤثرة على التغير المناخي إلى طبيعية وبشرية في الجدول التالي:

وجه الاختلاف	الجبل	التل
الاختلاف	.....	.....
	.....	.....

### السؤال الثالث

( ١ ) صوب ما تحته خط:

- ١ محطة الزعفرانة تولد الكهرباء من الشمس.
  - ٢ صناعة الفخار يتم إنتاجها في شوارع الخيامية بالأزهر.
  - ٣ تستخدم السيارات التي تعمل بالبنزين لحماية الهواء من التلوث.
  - ٤ الجبال والهضاب المغطاة بالمسحوق الأسود توجد في الصحراء البيضاء.
  - ٥ بحر الرمال العظيم يوجد في الصحراء الشرقية.
- (ب) دلل على صحة العبارة الآتية: لنظام تحديد المواقع العالمي GPS أهمية كبيرة.

### السؤال الرابع

( ١ ) اختر الإجابة الصحيحة مما بين الأقواس:

- ١ عند كتابتك لبحث عن أهمية موقع مصر تستخدم المصادر الثانوية مثل: .....  
(المخاطبات الرسمية - البرديات - الوثائق الرسمية - الكتب)
- ٢ تقع مصرفي الركن الشمالي الشرقي في قارة .....  
(إفريقيا - أستراليا - أمريكا الجنوبية - أوروبا)
- ٣ اللون الذي يدل على فترات الاستعمار في علم مصر هو .....  
(الأبيض - الأحمر - الأسود - الأخضر)
- ٤ تخلو مصر من البيئة .....  
(الزراعية - القطبية - الصحراوية - الصحية)

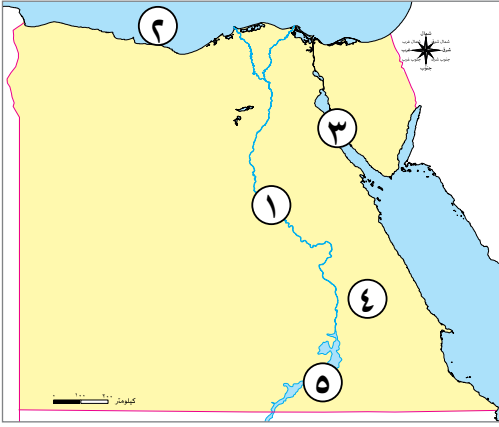
(ب) أمامك صورة تعبر عن صناعة الخزف أكمل:

- ١ يتم صناعة هذا المنتج من .....
- ٢ تنتشر هذه الرمال على سواحل البحر .....



## نموذج (هـ)

### السؤال الأول



( أ ) أمامك خريطة صماء لمصر، اكتب مدلول الأرقام عليها:

- ١ يشير رقم ( ١ ) إلى مورد للمياه العذبة .....
- ٢ يشير رقم ( ٢ ) إلى مورد للمياه المالحة .....
- ٣ يشير رقم ( ٣ ) لمنطقة ينتشر بها البترول .....
- ٤ يشير رقم ( ٤ ) إلى الصحراء .....
- ٥ يشير رقم ( ٥ ) إلى بحيرة .....

( ب ) ما العلاقة بين ... المياه الجوفية والزراعة في الصحراء.

### السؤال الثاني

( أ ) أكمل العبارات الآتية بما يناسبها من كلمات:

- ١ عند التقاط صورة حقيقية تفصيلية لجزء من سطح الأرض فإننا نستخدم .....
- ( الطائرة - القمر الصناعي - الصاروخ - سفينة الفضاء )
- ٢ إذا أردت أن تستخدم مصدرًا أوليًا لإجراء بحث عن قناة السويس فإنك تستخدم .....
- ( موسوعة عن القناة - وثائق رسمية عن القناة - مقالاً عن القناة عام ٢٠٠٠ م - كتاباً عن القناة عام ٢٠١٤ م )
- ٣ اللون الذى يدل على نضال الشعب المصرى هو .....
- ( الأبيض - الأحمر - الأسود - الأخضر )
- ٤ يمكننا تحديد اتجاه الرياح باستخدام .....
- ( جوب الرياح - طواحين الهواء - مقياس المطر - الأنيمومتر )

( ب ) صنف العبارات التالية إلى رأى وحقيقة في الجدول التالى:

( مدينة الغردقة أنشئت عام ١٩٠٥ م - تبلغ مساحة الغردقة ٤٠ كم - مدينة الغردقة أجمل مدن مصر -

مناخ الغردقة صحراوى جاف )

حقيقة	رأى
.....	.....

### السؤال الثالث

( ١ ) اكتب كلمة (صواب) أمام العبارة الصحيحة ، وكلمة (خطأ) أمام العبارة غير الصحيحة:

- ١ ) يستخدم مقياس الرسم في تحديد الاتجاهات على الخريطة. ( )
- ٢ ) تقع محافظة القاهرة ضمن محافظات الوجه البحرى. ( )
- ٣ ) يدل اللون الأبيض في علم مصر على السلام. ( )
- ٤ ) يلون البحر المتوسط على الخريطة باللون الأخضر. ( )
- ٥ ) لكل طفل الحق في الرعاية والتعليم والصحة. ( )

( ب ) بم تفسر...؟ أهمية الصحراء البيضاء للاقتصاد المصرى.

### السؤال الرابع

( ١ ) صوب ما تحته خط:

- ١ ) ساحل البحر الأحمر يتميز بالإتساع.
- ٢ ) ما تقوم به الدولة لتلبية احتياجات السكان يطلق عليه سلعة.
- ٣ ) الموارد المتجددة هى الموارد التى تنفذ باستخدام الإنسان لها.
- ٤ ) مساعدة أفراد الأسرة في بعض الأعمال تعد من حقوق الطفل.

( ب ) وضع:

١ ) تشير الصورة المقابلة إلى إحدى الصناعات ، اذكرها واذكر المورد الطبيعى الذى تعتمد عليه.



٢ ) استخدام اخر لهذا المورد.

## إجابة نموذج (١)

### السؤال الأول

(١)

- ١ (النيل)
- ٢ (السويس)
- ٣ (الأحمر)
- ٤ (المتوسط)
- ٥ (شبه جزيرة سيناء)

(ب) توضح الاتجاهات الأصلية والاتجاهات الفرعية، وتساعدنا في تحديد موقع معين على الخريطة بالنسبة إلى للمواقع الأخرى .

### السؤال الثاني

(١)

- ١ رأى
- ٢ السويس
- ٣ القاهرة
- ٤ الصحراء الغربية

(ب)

مصادر ثانوية	مصادر أولية
الأبحاث المقالات	الأفلام التسجيلية الأهرامات

### السؤال الثالث

(١)

- ١ (خطأ)
- ٢ (صواب)
- ٣ (خطأ)



(ب)

١ علم مصر.

٢ شعار محافظة القاهرة.

٣ العلم هو رمز يتخذه كل بلد ليعبر عن تاريخه وتراثه - الشعار رمز تتخذه المحافظة رمزاً لها لتعبر عن نشاط سكانها.

### السؤال الرابع

(أ)

١ الخريطة.

٢ القاهرة.

٣ السلام.

٤ الأنيمومتر.

٥ الروبيكي.

٦ سلعة.

(ب) يعرضها للنقاد.

## إجابة نموذج (٢)

### السؤال الأول

(١)

- ١ (البوصلة)
- ٢ (النيل)
- ٣ (الرسم)
- ٤ (المتوسط)
- ٥ (السويس)

(ب) زيادة نسبة تلوث الهواء.

### السؤال الثاني

(١)

- ١ الصحراوية.
- ٢ نهر النيل.
- ٣ التربة.
- ٤ الفخار.

(ب)

- ١ (١) شمس ساطعة. (ب) الجامع الأزهر الشريف.
- ٢ لأنه يرتبط بحدث تاريخي أو ذكرى مهمة مرت بها المحافظة.

### السؤال الثالث

(١)

- ١ الجلود
- ٢ الشمس
- ٣ الصحراء الشرقية
- ٤ التعليمية
- ٥ الرياح

(ب) تستخدم في تحديد المواقع الحربية.

## السؤال الرابع

(أ)

١ (صواب)

٢ (صواب)

٣ (خطأ)

٤ (خطأ)

٥ (خطأ)

٦ (صواب)

(ب)

وجه المقارنة	السهل الساحلي	السهل الفيضي
الاختلاف	تمتد على طول ساحل البحر	تمتد على جانبي النهر

## إجابة نموذج (٣)

### السؤال الأول

(١)

- ١ (النيل)
- ٢ (السويس)
- ٣ (الأحمر)
- ٤ (سيناء)
- ٥ (الغربية)

(ب) تتعرض لإسراف كثير من المزارعين في استخدام الأسمدة الكيماوية لزيادة خصوبة التربة - استخدام المبيدات الحشرية لقتل الآفات الضارة بالمحاصيل الزراعية.

### السؤال الثاني

(١)

- ١ إفريقيا
- ٢ جوب الرياح
- ٣ مستطيل
- ٤ القوة

(ب)

- ١ تستخدم في تحديد ملكية الأرض الزراعية.
- ٢ للتخفيف عن المواطنين في المجتمعات الأكثر احتياجًا.

### السؤال الثالث

(١)

- ١ (الشعار)
- ٢ (الجبل)
- ٣ (عنوان الخريطة)
- ٤ (حقائق)
- ٥ (العلم)

(ب) تقع مصر في الركن الشمالي الشرقي لقارة إفريقيا؛ وبذلك فهي تقع في قلب العالم القديم.

## السؤال الرابع

(أ)

١ (صواب)

٢ (خطأ)

٣ (صواب)

٤ (صواب)

(ب)

١ هي أى عمل أو نشاط تقوم به الدولة لتلبية حاجات أو رغبات المواطنين مثل: المدارس والمستشفيات.

٢ الطاقة التي نستخرجها من باطن الأرض، مثل: البترول، الفحم، الغاز الطبيعي.

## إجابة نموذج (٤)

### السؤال الأول

(١)

- ١ (الساحلية)
- ٢ (الزراعية)
- ٣ (الغربية)
- ٤ (ناصر)
- ٥ (محافظة البحر الأحمر)

(ب) يوضح مدلول ومعنى الألوان والرموز الموجودة على الخريطة.

### السؤال الثاني

(١)

- ١ إدارية.
- ٢ الحرارة.
- ٣ الدلتا.
- ٤ المياه الجوفية.
- ٥ الأمانة.
- ٦ التعليم.

(ب)

وجه المقارنة	الجبل	التل
الاختلاف	أرض شديدة الارتفاع وجوانبها شديدة الانحدار.	أرض مرتفعة قليلاً ويقل ارتفاعها عن ١٠٠٠ متر.

### السؤال الثالث

(١)

- ١ الرياح.
- ٢ الخيامية.
- ٣ بالغاز الطبيعي.
- ٤ السوداء.
- ٥ الغربية.

(ب) يساعدك هذا النظام في تحديد مواقع الأماكن .

## السؤال الرابع

(أ)

١. الكتب.
٢. إفريقيا.
٣. الأسود.
٤. القطبية.

(ب)

١. الرمال السوداء.
٢. البحر المتوسط.

## إجابة نموذج (هـ)

### السؤال الأول

(أ)

- ١ (نهر النيل)
- ٢ (البحر المتوسط)
- ٣ (خليج السويس)
- ٤ (الشرقية)
- ٥ (ناصر)

(ب) ساعدت المياه الجوفية في البيئة الصحراوية على قيام الزراعة وتركز السكان حولها .

### السؤال الثاني

(أ)

- ١ الطائرة.
- ٢ وثائق رسمية عن القناة
- ٣ الأحمر
- ٤ جوب الرياح

(ب) لـ:

حقيقة	رأى
- مدينة الغردقة أنشئت عام ١٩٠٥ م. - تبلغ مساحة الغردقة ٤٠ كم. - مناخ الغردقة صحراوي جاف.	- مدينة الغردقة أجمل مدن مصر.

### السؤال الثالث

(أ)

- ١ (خطأ)
- ٢ (صواب)
- ٣ (صواب)
- ٤ (خطأ)
- ٥ (صواب)

(ب) تجذب السياح لأنها تعتبر متحفًا مفتوحًا لدراسة المظاهر التضاريسية والحفريات والحياة البرية.



## السؤال الرابع

(أ)

١ (الضيقة)

٢ (خدمة)

٣ (غير المتجددة)

٤ (واجبات)

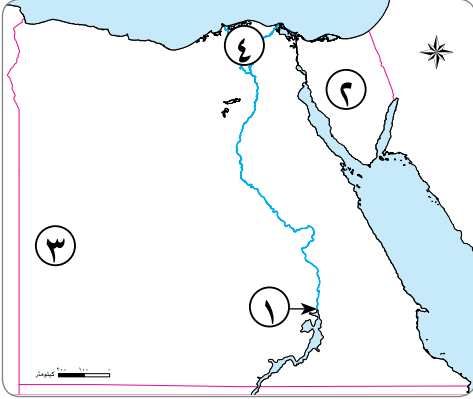
(ب)

١ صناعة الزجاج - الرمال البيضاء.

٢ صناعة الخلايا الشمسية.

## نموذج (١)

### السؤال الأول



(١) أمامك خريطة صماء لمصر، ادرسها ثم اختر ما تشير إليه الأرقام مما بين الأقواس:

- ١ مدينة رقم (١) تشتهر بوجود الحرف اليدوية التراثية .....  
(الجيزة - بورسعيد - القاهرة - النوبة)
- ٢ يشير رقم (٢) إلى ذ .  
(شبه الجزيرة العربية - شبه جزيرة سيناء - الصحراء الشرقية -  
الصحراء الغربية)
- ٣ يشير رقم (٣) إلى .....  
(شبه جزيرة سيناء - الصحراء الشرقية - الصحراء الغربية - وادي النيل)
- ٤ تشير رقم (٤) إلى منطقة زراعية .....  
(الوادي - الدلتا - الفيوم - القطارة)

(ب) بم تفسر...؟ اذكر سببين.

١ الحرف التراثية لها أهمية للاقتصاد المصري.

٢ للخريطة أهمية كبيرة.

### السؤال الثاني

(١) ضع دائرة حول الإجابة الصحيحة:

- ١ تتجه الدول لإنتاج سيارات تعمل بالغاز الطبيعي بدلاً من .....  
( أ ) البنزين . ( ب ) الشمس . ( ج ) الفحم . ( د ) الرياح .
- ٢ الخطوط الرأسية والدوائر الأفقية على الخريطة تسمى .....  
( أ ) مفتاح الخريطة . ( ب ) عنوان الخريطة . ( ج ) مقياس الرسم . ( د ) شبكة الإحداثيات .
- ٣ أكبر بحيرة صناعية في مصر تكونت نتيجة لبناء .....  
( أ ) سد الروافعة . ( ب ) السد العالي . ( ج ) سد الروصيرص . ( د ) سد الكفرة .
- ٤ اختيار محافظة القاهرة عاصمة للبلاد يرجع إلى .....  
( أ ) اتساع مساحتها . ( ب ) كثرة موانئها . ( ج ) موقعها المتميز . ( د ) ازدهارها صناعياً .
- ٥ يجد الماء مصر من .....  
( أ ) الشمال والشرق . ( ب ) الشمال والغرب . ( ج ) الجنوب والشرق . ( د ) الجنوب والغرب .

(ب) حدد العلاقة بين:

- خدمات الأرصاد الجوية والأنشطة.

.....  
.....

### السؤال الثالث

(أ) اكتب كلمة (صواب) أمام العبارة الصحيحة، وكلمة (خطأ) أمام العبارة غير الصحيحة:

- ١ الطاقة الحفزية هي طاقة متجددة تحتاج لآلاف السنين لتكوينها. ( )
- ٢ نقوش معبد أبو سمبل تعد مصادر أولية. ( )
- ٣ مبادرة « ١٠٠ مليون صحة » تدعو إلى التوعية البيئية وزراعة الأشجار. ( )
- ٤ الصحراء البيضاء تنتشر في صحراء مصر الشرقية. ( )

(ب) صنف الموارد الآتية إلى موارد متجددة وموارد غير متجددة:

(الفحم - الشمس - البترول - الرياح)

موارد غير متجددة	موارد متجددة
.....	.....
.....	.....

### السؤال الرابع

(أ) أكمل العبارات الآتية بكلمات مناسبة:

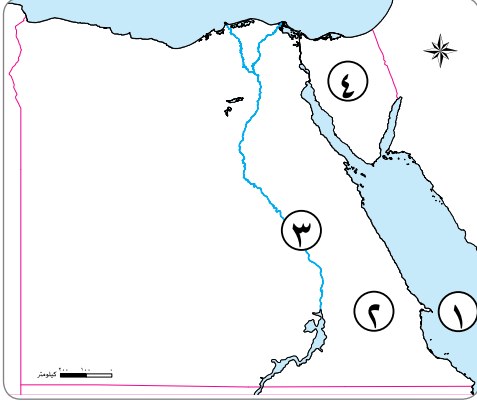
- ١ محطة تستخدم في توليد الكهرباء من طاقة الرياح.....
- ٢ كل ما يقوم الإنسان بإنتاجه أو شرائه هو.....
- ٣ تنتشر صناعة الخيامية في محافظة.....
- ٤ خبراء الأرصاد الجوية في مصر يصفون..... خلال فصل الصيف بأنه حار.
- ٥ لمناطق الفيضية تشتهر بانتشار حرفة.....

(ب) حدد اثنتين من الخدمات التعليمية التي تقدمها الدولة.

.....  
.....

## نموذج (٢)

### السؤال الأول



(١) أمامك خريطة صماء لمصر، ادرسها ثم اختر ما تشير إليه الأرقام مما بين الأقواس:

١ يشير رقم (١) إلى .....

(البحر الأحمر - البحر المتوسط - بحيرة ناصر - نهر النيل)

٢ يشير رقم (٢) إلى .....

(الصحراء الشرقية - الصحراء الغربية - شبه جزيرة سيناء - وادي النيل)

٣ يشير رقم (٣) إلى .....

(خليج السويس - خليج العقبة - قناة السويس - نهر النيل)

٤ يشير رقم (٤) إلى محافظة من محافظات .....

(الوجه البحري - الحدود - الزراعية - الوجه القبلي)

(ب) صنف المصادر التالية إلى مصادر أولية ومصادر ثانوية في الجدول التالي:

(كتابات المؤرخين - الأبحاث - الكتب - النقوش)

مصادر أولية	مصادر ثانوية
.....	.....
.....	.....

### السؤال الثاني

(١) ضع علامة (✓) أمام العبارة الصحيحة، وعلامة (X) أمام العبارة غير الصحيحة:

- ١ احترام علمنا واجب وطني، لأنه رمز الدولة. ( )
- ٢ الحياة المستدامة ليست مسئولية الحكومة وحدها. ( )
- ٣ معرفة المناخ تساعد على اتخاذ القرارات لممارسة الأنشطة اليومية مثل السفر. ( )
- ٤ تم حفر قناة السويس بأيدي مصريين. ( )
- ٥ نظام تحديد المواقع العالمي يتم باستخدام الأقمار الصناعية. ( )

(ب) حدد المختلف من المجموعتين التاليتين:

- ١ (السيارات - الفخار - الآلات - الطائرات) .....
- ٢ (الجيزة - أسيوط - شمال سيناء - الأقصر) .....

### السؤال الثالث

(أ) اختر الإجابة الصحيحة مما بين الأقواس:

- ١ أنشأت الدولة مدينة الجلود في منطقة ..... (الرويكي - العبور - الشيخ زايد - السادس من أكتوبر)
- ٢ تواجه الطاقة الحفزية خطر ..... (النفاد - الاستمرار - التجدد - البقاء)
- ٣ مؤلف النشيد الوطني «بلادي بلادي» هو ..... (طه حسين - جمال حمدان - محمد يونس القاضي - طلعت حرب)
- ٤ الطقس والمناخ يختلفان في ..... (درجات الحرارة - سرعة الرياح - كمية المطر - الفترة الزمنية)

(ب) قارن بين: اثنين من حقوق الطفل واثنين من واجباته:

واجبات الطفل	حقوق الطفل
١- .....	١- .....
٢- .....	٢- .....

### السؤال الرابع

(أ) أكمل باختيار الإجابة الصحيحة مما بين القوسين:

(الصحراوية - الصحراء الغربية - الهواء - التنمية المستدامة - السجاد اليدوي)

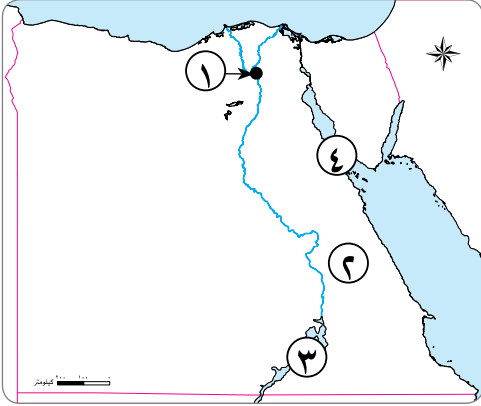
- ١ الكتان من المواد الخام التي تستخدم في صناعة .....
- ٢ تنقل الإنسان بواسطة الدراجات يساعد على تقليل تلوث .....
- ٣ يوجد بحر الرمال العظيم في .....
- ٤ تشغل معظم مساحة مصر البيئة .....
- ٥ الصوبات الزراعية مشروع الغرض منه تحقيق .....

(ب) فسر بذكر السبب:

- وجود اللون الأحمر بعلم مصر.

## نموذج (٣)

### السؤال الأول



(١) أمامك خريطة صماء لمصر، ادرسها ثم اختر ما تشير إليه الأرقام مما بين الأقواس:

١ يشير رقم (١) إلى محافظة .....

(الجيزة - القاهرة - أسوان - المنيا)

٢ يشير رقم (٢) إلى .....

(الصحراء الغربية - الصحراء الشرقية - وادي النيل - خليج السويس)

٣ يشير رقم (٣) إلى .....

(بحيرة ناصر - بحيرة البرلس - خليج العقبة - خليج السويس)

٤ يشير رقم (٤) إلى .....

(خليج العقبة - خليج السويس - دلتا النيل - وادي النيل)

(ب) حدد أوجه الشبه والاختلاف بين المصادر الأولية والمصادر الثانوية.

.....  
.....

### السؤال الثاني

(١) ضع دائرة حول الإجابة الصحيحة:

١ مورد غير متجدد ينفذ باستخدامنا له .....

(١) المياه. (ب) التربة. (ج) الهواء. (د) الحديد.

٢ ممر مائي ساعد على التواصل التجاري بين مصر ودول وسط إفريقيا قديماً .....

(١) قناة السويس. (ب) نهر النيل. (ج) بحيرة البرلس. (د) خليج العقبة.

٣ مساحة صغيرة من المياه يحيط بها اليابس من كل الجهات .....

(١) البحر. (ب) المحيط. (ج) النهر. (د) البحيرة.

٤ معرض تقيمه الدولة من أجل إحياء الحرف التراثية .....

(١) معرض الكتاب. (ب) معرض تراثنا. (ج) معرض ديارنا. (د) معرض الزهور.

٥ يتميز مناخ مصر صيفاً بأنه .....

(١) معتدل ممطر. (ب) حار جاف. (ج) حار ممطر. (د) معتدل جاف.

(ب) ما النتائج المترتبة على ...؟

- انتشار الأدخنة الناتجة عن عوادم السيارات.

### السؤال الثالث

(أ) أكمل العبارات الآتية بكلمات مناسبة:

- ١ من أهم مصادر المياه العذبة .....
- ٢ الأسمدة الكيميائية من ملوثات .....
- ٣ الرمال البيضاء تستخدم في صناعة .....
- ٤ تتخذ المحافظة ..... لتعبر عن نشاط سكانها.

(ب) صنف الجمل الآتية إلى حقيقة ورأى:

(العاصمة الإدارية الجديدة من مشروعات الدولة - محمية رأس محمد من أجمل المحميات -  
جبل سانت كاترين أعلى قمة جبلية في مصر- هذه صورة رائعة للريف المصرى)

رأى	حقيقة
.....	.....
.....	.....
.....	.....
.....	.....

### السؤال الرابع

(أ) ضع علامة (✓) أمام العبارة الصحيحة، وعلامة (X) أمام العبارة غير الصحيحة:

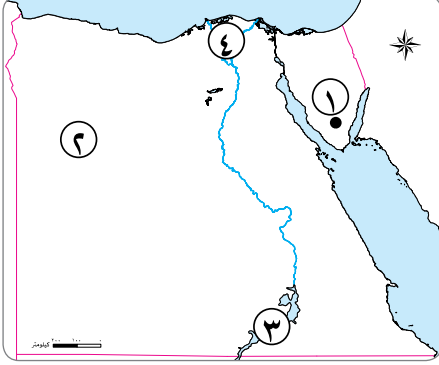
- ١ يتوسط علم مصر نسر لونه أحمر. ( )
- ٢ تم تقسيم مصر إلى محافظات بسبب صغر مساحتها. ( )
- ٣ بحيرة ناصر تقع في محافظة البحيرة. ( )
- ٤ مصر تحيط بها الماء من جهة الشمال والشرق. ( )
- ٥ بحر الرمال العظيم يوجد في غرب مصر. ( )

(ب) اقترح اثنين من الطرق التي يمكن من خلالها مواجهة مشكلة نقص المياه.

.....  
.....

## نموذج (٤)

### السؤال الأول



(١) أمامك خريطة صماء لمصر، أكمل ما تشير إليه الأرقام التي عليها:

- ١ أعلى جبال مصر .....
- ٢ منطقة تنتشر بها الواحات والمنخفضات .....
- ٣ أكبر بحيرة صناعية في العالم .....
- ٤ منطقة تنتشر فيها مناطق زراعية .....

(ب) أجب عن الأسئلة الآتية:

١ اذكر سببين لتعدد البيئات في مصر.

.....

٢ حدد نتيجتين لاختيار محافظة القاهرة عاصمة لمصر.

.....

### السؤال الثاني

(١) أكمل باختيار الإجابة مما بين القوسين:

(المتجددة - الأنهار - دوائر العرض - ممطر - الحقيقة)

- ١ تتكون شبكة الإحداثيات من خطوط الطول و .....
- ٢ تتكون السهول الفيضية على جانبي .....
- ٣ المياه من الموارد الطبيعية .....
- ٤ معلومات تم إثبات صحتها والتأكد منها .....
- ٥ يتميز مناخ مصر شتاءً بأنه .....

(ب) صنف الموارد الآتية إلى الصناعات التي تعتمد عليها:

(الكتان - النحاس - الذهب - الرمال)

صناعة النسيج	صناعة الزجاج	صناعة الحلى
.....	.....	.....
.....	.....	.....
.....	.....	.....
.....	.....	.....



### السؤال الثالث

(أ) اختر الإجابة الصحيحة مما بين القوسين:

- ١ طريق تجارى قديم كانت تبحر فيه السفن حول قارة إفريقيا .....  
(قناة السويس - نهر النيل - خليج السويس - رأس الرجاء الصالح)
- ٢ الصحراء السوداء والبيضاء من الظاهرات الطبيعية التى تنتمى إلى البيئة .....  
(الزراعية - الصناعية - الصحراوية - الساحلية)
- ٣ الكهرباء المولدة من محطة السد العالى تعتمد على .....  
(الرياح - الشمس - المياه - البترول)
- ٤ توضح الألوان والرموز الموجودة على الخريطة .....  
(خطوط الطول - دوائر العرض - وردة البوصلة - مفتاح الخريطة)

(ب) قارن بين المصادر الأولية والثانوية من حيث (المفهوم ومثال لكل منهما):

وجه المقارنة	المصادر الأولية	المصادر الثانوية
المفهوم	.....	.....
الأمثلة	.....	.....

### السؤال الرابع

(أ) اكتب كلمة (صواب) أمام العبارة الصحيحة، وكلمة (خطأ) أمام العبارة غير الصحيحة:

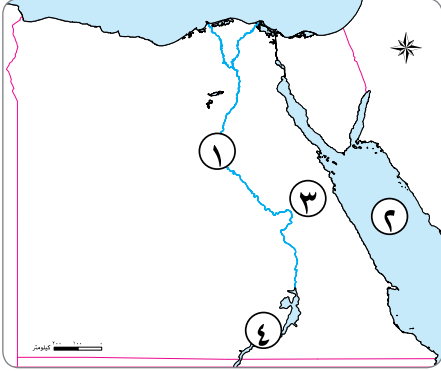
- ١ معرفة طقس اليوم تساعد على اتخاذ القرارات لممارسة الأنشطة اليومية. ( )
- ٢ قامت منظمة اليونسكو بوضع صناعة الفخار على قائمة التراث العالمى. ( )
- ٣ تتوسط مصر قارات العالم القديم آسيا وإفريقيا وأوروبا. ( )
- ٤ الدولة تقوم بتقديم خدمات صحية من خلال بناء مدارس وجامعات للطلاب. ( )
- ٥ تنتشر الشعاب المرجانية على ساحل البحر الأحمر. ( )

(ب) ما العلاقة بين ...؟

- نهر النيل والبيئة الزراعية.

## نموذج (هـ)

### السؤال الأول



(أ) أمامك خريطة صماء لمصر، ادرسها ثم اختر ما تشير إليه الأرقام مما بين الأقواس:

١ يشير رقم (١) إلى .....

(خليج السويس - خليج العقبة - نهر النيل - البحر الأحمر).

٢ يشير رقم (٢) إلى .....

(البحر المتوسط - البحر الأحمر - نهر النيل - قناة السويس).

٣ يشير رقم (٣) إلى .....

(الصحراء الغربية - الصحراء الشرقية - شبه جزيرة سيناء - وادي النيل).

٤ يشير رقم (٤) إلى .....

(بحيرة البرلس - خليج العقبة - خليج السويس - بحيرة ناصر).

(ب) صنف الظواهر الطبيعية التالية إلى البيئات التي تنتمي إليها في الجدول التالي:

(وادي النيل - ساحل البحر الأحمر - بحر الرمال العظيم - دلتا النيل)

البيئة الزراعية	البيئة الساحلية	البيئة الصحراوية
.....	.....	.....
.....	.....	.....
.....	.....	.....
.....	.....	.....

### السؤال الثاني

(أ) صوب ما تحته خط:

١ الإسراف في استخدام الأسمدة الكيميائية يؤدي إلى تلوث الهواء. (.....)

٢ تولد الكهرباء في محطة السد العالي من الرياح. (.....)

٣ المصادر الأولية تسجل الأحداث بعد زمن طويل على وقوعها. (.....)

٤ بحيرة البرلس من البحيرات المائية العذبة. (.....)

٥ قناة السويس استخدمها المصريون كطريق تجارى بين شمال وجنوب مصر. (.....)

(ب) دلل على اهتمام الدولة بحقوق الطفل.

.....  
.....

### السؤال الثالث

(أ) اختر الإجابة الصحيحة:

- ١ تنتشر تربية الحيوانات وحرفة الزراعة في المناطق .....  
(أ) الساحلية. (ب) الفيضية. (ج) الصحراوية. (د) الصناعية.
- ٢ أكبر بحيرة صناعية في العالم وموطن لكثير من الأسماك .....  
(أ) بحيرة قارون. (ب) بحيرة ناصر. (ج) بحيرة البردويل. (د) بحيرة البرلس.
- ٣ قرية الحرائية تعد مقصدًا لكثير من السياح لتمييزها بصناعة .....  
(أ) النسيج. (ب) الزجاج. (ج) الفخار. (د) الخيامية.
- ٤ قلعة صلاح الدين الأيوبي من المعالم الأثرية لمحافظة .....  
(أ) الجيزة. (ب) القليوبية. (ج) القاهرة. (د) المنيا.

(ب) اقترح اثنين من الحلول لكل من المشكلات البيئية التالية:

١ تلوث المياه.

.....  
.....

٢ تلوث الهواء.

.....  
.....

### السؤال الرابع

(أ) أكمل العبارات الآتية باختيار الكلمات المناسبة مما بين القوسين:

(السلام - التربة - قش الأرز - الأعمال المنزلية - العطور)

- ١ الموارد النباتية تستخدم في صناعة .....
- ٢ اللون الأبيض في العلم المصرى يدل على .....
- ٣ مورد متجدد هام لزراعة المحاصيل .....
- ٤ السحابة السوداء تتكون نتيجة حرق .....
- ٥ من واجبات الطفل تجاه أسرته المساعدة في .....

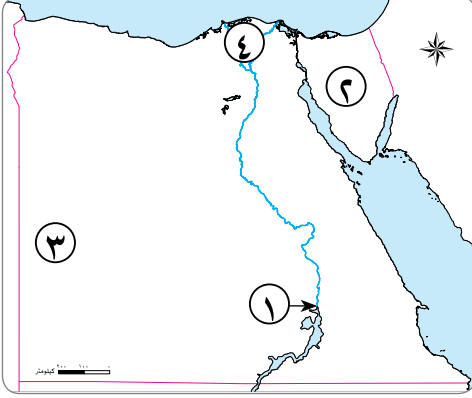
(ب) فسر السبب:

- إنشاء مدينة للجلود في الروبيكى.

.....

## إجابة نموذج (١)

### السؤال الأول



(١) أمامك خريطة صماء لمصر، ادرسها ثم اختر ما تشير إليه الأرقام مما بين الأقواس:

- ١ مدينة رقم (١) تشتهر بوجود الحرف اليدوية التراثية .....  
(الجيزة - بورسعيد - القاهرة - النوبة)
  - ٢ يشير رقم (٢) إلى .....  
(شبه الجزيرة العربية - شبه جزيرة سيناء - الصحراء الشرقية - الصحراء الغربية)
  - ٣ يشير رقم (٣) إلى .....  
(شبه جزيرة سيناء - الصحراء الشرقية - الصحراء الغربية - وادي النيل)
  - ٤ تشير رقم (٤) إلى منطقة زراعية .....  
(الوادي - الدلتا - الفيوم - القطارة)
- (ب) بم تفسر...؟ اذكر سببين.

- ١ الحرف التراثية لها أهمية للاقتصاد المصرى.  
لأنها: توفر فرص عمل للشباب - تدعم السياحة المستدامة.
- ٢ للخريطة أهمية كبيرة.  
حيث يستخدمها الفلاح في تحديد ملكية الأرض الزراعية - ويستخدمها الجيش في تحديد المواقع الحربية.

### السؤال الثاني

(١) ضع دائرة حول الإجابة الصحيحة:

- ١ تتجه الدول لإنتاج سيارات تعمل بالغاز الطبيعي بدلاً من .....  
( أ ) البنزين . ( ب ) الشمس . ( ج ) الفحم . ( د ) الرياح .
- ٢ الخطوط الرأسية والدوائر الأفقية على الخريطة تسمى .....  
( أ ) مفتاح الخريطة . ( ب ) عنوان الخريطة . ( ج ) مقياس الرسم . ( د ) شبكة الإحداثيات .
- ٣ أكبر بحيرة صناعية في مصر تكونت نتيجة لبناء .....  
( أ ) سد الروافعة . ( ب ) السد العالى . ( ج ) سد الروصيرص . ( د ) سد الكفرة .
- ٤ اختيار محافظة القاهرة عاصمة للبلاد يرجع إلى .....  
( أ ) اتساع مساحتها . ( ب ) كثرة موانئها . ( ج ) موقعها المتميز . ( د ) ازدهارها صناعياً .
- ٥ يجد الماء مصر من .....  
( أ ) الشمال والشرق . ( ب ) الشمال والغرب . ( ج ) الجنوب والشرق . ( د ) الجنوب والغرب .

(ب) حدد العلاقة بين:

- خدمات الأرصاد الجوية والأنشطة.  
تستفيد العديد من الأنشطة، مثل: السياحة والصناعة والصيد من خدمات الأرصاد الجوية.

### السؤال الثالث

(أ) اكتب كلمة (صواب) أمام العبارة الصحيحة، وكلمة (خطأ) أمام العبارة غير الصحيحة:

- ١ الطاقة الحفزية هي طاقة متجددة تحتاج لآلاف السنين لتكوينها. (خطأ)
- ٢ نقوش معبد أبو سمبل تعد مصادر أولية. (صواب)
- ٣ مبادرة « ١٠٠ مليون صحة » تدعو إلى التوعية البيئية وزراعة الأشجار. (خطأ)
- ٤ الصحراء البيضاء تنتشر في صحراء مصر الشرقية. (خطأ)

(ب) صنف الموارد الآتية إلى موارد متجددة وموارد غير متجددة:

(الفحم - الشمس - البترول - الرياح)

موارد غير متجددة	موارد متجددة
الفحم - البترول	الشمس - الرياح

### السؤال الرابع

(أ) أكمل العبارات الآتية بكلمات مناسبة:

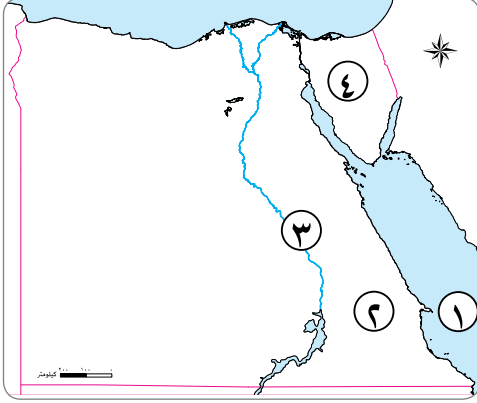
- ١ محطة تستخدم في توليد الكهرباء من طاقة الرياح ..... (الزعفرانة)
- ٢ كل ما يقوم الإنسان بإنتاجه أو شرائه هو ..... (السلعة)
- ٣ تنتشر صناعة الخيامية في محافظة ..... (القاهرة)
- ٤ خبراء الأرصاد الجوية في مصر يصفون ..... خلال فصل الصيف بأنه حار. (المناخ)
- ٥ لمناطق الفيضية تشتهر بانتشار حرفة ..... (الزراعة)

(ب) حدد اثنتين من الخدمات التعليمية التي تقدمها الدولة.

تبنى المدارس والجامعات - توفر المنح والبعثات الدراسية للطلاب.

## إجابة نموذج (٢)

### السؤال الأول



(١) أمامك خريطة صماء لمصر، ادرسها ثم اختر ما تشير إليه الأرقام مما بين الأقواس:

١ يشير رقم (١) إلى .....

(البحر الأحمر - البحر المتوسط - بحيرة ناصر - نهر النيل)

٢ يشير رقم (٢) إلى .....

(الصحراء الشرقية - الصحراء الغربية - شبه جزيرة سيناء - وادي النيل)

٣ يشير رقم (٣) إلى .....

(خليج السويس - خليج العقبة - قناة السويس - نهر النيل)

٤ يشير رقم (٤) إلى محافظة من محافظات .....

(الوجه البحرى - الحدود - الزراعية - الوجه القبلى)

(ب) صنف المصادر التالية إلى مصادر أولية ومصادر ثانوية في الجدول التالي:

(كتابات المؤرخين - الأبحاث - الكتب - النقوش)

مصادر أولية	مصادر ثانوية
كتابات المؤرخين النقوش	الأبحاث الكتب

### السؤال الثانى

(١) ضع علامة (✓) أمام العبارة الصحيحة، وعلامة (X) أمام العبارة غير الصحيحة:

- ١ احترام علمنا واجب وطنى، لأنه رمز الدولة. (✓)
- ٢ الحياة المستدامة ليست مسئولية الحكومة وحدها. (✓)
- ٣ معرفة المناخ تساعد على اتخاذ القرارات لممارسة الأنشطة اليومية مثل السفر. (X)
- ٤ تم حفر قناة السويس بأيدى مصريين. (✓)
- ٥ نظام تحديد المواقع العالمى يتم باستخدام الأقمار الصناعية. (✓)

(ب) حدد المختلف من المجموعتين التاليتين:

- ١ (السيارات - الفخار - الآلات - الطائرات) ..... (الفخار)
- ٢ (الجيزة - أسيوط - شمال سيناء - الأقصر) ..... (شمال سيناء)

### السؤال الثالث

(أ) اختر الإجابة الصحيحة مما بين الأقواس :

- ١ أنشأت الدولة مدينة الجلود في منطقة ..... ( الروبيكي - العبور - الشيخ زايد - السادس من أكتوبر )
- ٢ تواجه الطاقة الحفزية خطر ..... ( النفاد - الاستمرار - التجدد - البقاء )
- ٣ مؤلف النشيد الوطني «بلادي بلادي» هو ..... ( طه حسين - جمال حمدان - محمد يونس القاضي - طلعت حرب )
- ٤ الطقس والمناخ يختلفان في ..... ( درجات الحرارة - سرعة الرياح - كمية المطر - الفترة الزمنية )

(ب) قارن بين: اثنين من حقوق الطفل واثنين من واجباته:

واجبات الطفل	حقوق الطفل
١- المذاكرة وأداء الواجبات المدرسية. ٢- مساعدة أفراد الأسرة في بعض الأعمال المنزلية.	١- الحق في الاسم المناسب. ٢- الرعاية الأسرية والصحية.

### السؤال الرابع

(أ) أكمل باختيار الإجابة الصحيحة مما بين القوسين :

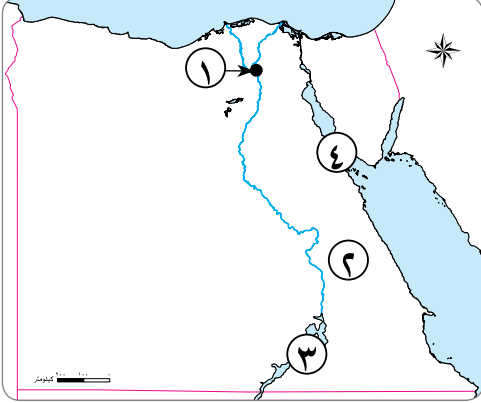
- (الصحراوية - الصحراء الغربية - الهواء - التنمية المستدامة - السجاد اليدوي)
- ١ الكتان من المواد الخام التي تستخدم في صناعة ..... (السجاد اليدوي)
  - ٢ تنقل الإنسان بواسطة الدراجات يساعد على تقليل تلوث ..... (الهواء)
  - ٣ يوجد بحر الرمال العظيم في ..... (الصحراء الغربية)
  - ٤ تشغل معظم مساحة مصر البيئة ..... (الصحراوية)
  - ٥ الصوبات الزراعية مشروع الغرض منه تحقيق ..... (التنمية المستدامة)

(ب) فسر بذكر السبب:

- وجود اللون الأحمر بعلم مصر.  
لأنه يدل على مرحلة النضال ودماء الشهداء من أجل الحرية.

## إجابة نموذج (٣)

### السؤال الأول



(١) أمامك خريطة صماء لمصر، ادرسها ثم اختر ما تشير إليه الأرقام مما بين الأقواس:

١ يشير رقم (١) إلى محافظة .....

(الجيزة - القاهرة - أسوان - المنيا).

٢ يشير رقم (٢) إلى .....

(الصحراء الغربية - الصحراء الشرقية - وادي النيل - خليج السويس).

٣ يشير رقم (٣) إلى .....

(بحيرة ناصر - بحيرة البرلس - خليج العقبة - خليج السويس).

٤ يشير رقم (٤) إلى .....

(خليج العقبة - خليج السويس - دلتا النيل - وادي النيل).

(ب) حدد أوجه الشبه والاختلاف بين المصادر الأولية والمصادر الثانوية.

تشابه المصادر في توثيق المعلومات والأحداث، ولكن تختلف عن بعضها في الحصول على المعلومات؛ حيث إن المصادر الثانوية يسهل الحصول عليها، أما المصادر الأولية فيصعب الحصول عليها.

### السؤال الثاني

(١) ضع دائرة حول الإجابة الصحيحة:

١ مورد غير متجدد ينفذ باستخدامنا له .....

(١) المياه. (ب) التربة. (ج) الهواء. (د) الحديد.

٢ ممرائي ساعد على التواصل التجاري بين مصر ودول وسط إفريقيا قديماً .....

(١) قناة السويس. (ب) نهر النيل. (ج) بحيرة البرلس. (د) خليج العقبة.

٣ مساحة صغيرة من المياه يحيط بها اليابس من كل الجهات .....

(١) البحر. (ب) المحيط. (ج) النهر. (د) البحيرة.

٤ معرض تقيمه الدولة من أجل إحياء الحرف التراثية .....

(١) معرض الكتاب. (ب) معرض تراثنا. (ج) معرض ديارنا. (د) معرض الزهور.

٥ يتميز مناخ مصر صيفاً بأنه .....

(١) معتدل ممطر. (ب) حار جاف. (ج) حار ممطر. (د) معتدل جاف.

(ب) ما النتائج المترتبة على ...؟

- انتشار الأبخرة الناتجة عن عوادم السيارات.

أدت إلى تلوث الهواء.



### السؤال الثالث

(أ) أكمل العبارات الآتية بكلمات مناسبة:

- ١ من أهم مصادر المياه العذبة ..... (نهر النيل)
- ٢ الأسمدة الكيميائية من ملوثات ..... (التربة)
- ٣ الرمال البيضاء تستخدم في صناعة ..... (الزجاج)
- ٤ تتخذ المحافظة ..... لتعبر عن نشاط سكانها. (الشعار)

(ب) صنف الجمل الآتية إلى حقيقة ورأى:

- (العاصمة الإدارية الجديدة من مشروعات الدولة - محمية رأس محمد من أجمل المحميات -  
جبل سانت كاترين أعلى قمة جبلية في مصر- هذه صورة رائعة للريف المصرى)

رأى	حقيقة
- محمية رأس محمد من أجمل المحميات. - هذه صورة رائعة للريف المصرى.	- العاصمة الإدارية الجديدة من مشروعات الدولة. - جبل سانت كاترين أعلى قمة جبلية في مصر.

### السؤال الرابع

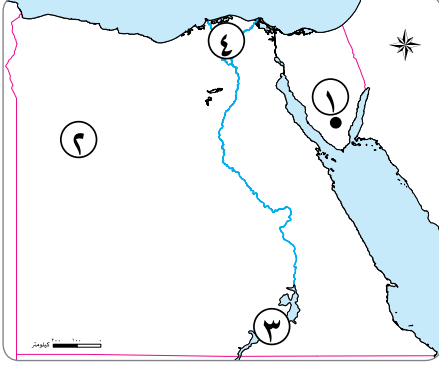
(أ) ضع علامة (✓) أمام العبارة الصحيحة، وعلامة (X) أمام العبارة غير الصحيحة:

- ١ يتوسط علم مصر نسر لونه أحمر. (X)
- ٢ تم تقسيم مصر إلى محافظات بسبب صغر مساحتها. (X)
- ٣ بحيرة ناصر تقع في محافظة البحيرة. (X)
- ٤ مصر تحيط بها الماء من جهة الشمال والشرق. (✓)
- ٥ بحر الرمال العظيم يوجد في غرب مصر. (✓)

(ب) اقترح اثنين من الطرق التي يمكن من خلالها مواجهة مشكلة نقص المياه.  
تلية مياه البحر - إعادة تدوير مياه الصرف الصحى.

## إجابة نموذج (٤)

### السؤال الأول



(أ) أمامك خريطة صماء لمصر، أكمل ما تشير إليه الأرقام التي عليها:

- ١ أعلى جبال مصر ..... (جبل سانت كاترين)
- ٢ منطقة تنتشر بها الواحات والمنخفضات ..... (الصحراء الغربية)
- ٣ أكبر بحيرة صناعية في العالم ..... (بحيرة ناصر)
- ٤ منطقة تنتشر فيها مناطق زراعية ..... (الدلتا)

(ب) أجب عن الأسئلة الآتية:

- ١ اذكر سببين لتعدد البيئات في مصر.  
تتنوع البيئات بسبب اتساع مساحة مصر - وتنوع أشكال سطح الأرض.
- ٢ حدد نتيجتين لاختيار محافظة القاهرة عاصمة لمصر.  
أصبح يتركز بها معظم الوزارات - يوجد بها العديد من المعالم الأثرية.

### السؤال الثاني

(أ) أكمل باختيار الإجابة مما بين القوسين:

- (المتجددة - الأنهار - دوائر العرض - ممطر - الحقيقة)
- ١ تتكون شبكة الإحداثيات من خطوط الطول و ..... (دوائر العرض)
  - ٢ تتكون السهول الفيضية على جانبي ..... (الأنهار)
  - ٣ المياه من الموارد الطبيعية ..... (المتجددة)
  - ٤ معلومات تم إثبات صحتها والتأكد منها ..... (الحقيقة)
  - ٥ يتميز مناخ مصر شتاءً بأنه ..... (ممطر)

(ب) صنف الموارد الآتية إلى الصناعات التي تعتمد عليها:

(الكتان - النحاس - الذهب - الرمال)

صناعة النسيج	صناعة الزجاج	صناعة الحلى
الكتان	الرمال	النحاس الذهب

### السؤال الثالث

(أ) اختر الإجابة الصحيحة مما بين القوسين:

- ١ طريق تجارى قديم كانت تبخر فيه السفن حول قارة إفريقيا.....  
( قناة السويس - نهر النيل - خليج السويس - رأس الرجاء الصالح )
  - ٢ الصحراء السوداء والبيضاء من الظاهرات الطبيعية التى تنتمى إلى البيئة.....  
( الزراعية - الصناعية - الصحراوية - الساحلية )
  - ٣ الكهرباء المولدة من محطة السد العالى تعتمد على.....  
( الرياح - الشمس - المياه - البترول )
  - ٤ توضح الألوان والرموز الموجودة على الخريطة.....  
( خطوط الطول - دوائر العرض - وردة البوصلة - مفتاح الخريطة )
- (ب) قارن بين المصادر الأولية والثانوية من حيث (المفهوم ومثال لكل منهما):

وجه المقارنة	المصادر الأولية	المصادر الثانوية
المفهوم	هى كل ما تم نقشه أو تدوينه سواء من قبل أشخاص عاصروا الحدث أو شاركوا فيه، ويرتبط بزمن وقوع الحدث	هى كل ما تم تدوينه بعد مرور زمن طويل منذ وقوع الحدث، وغالبًا ما يستند إلى المصادر الأولية
الأمثلة	كتابات المؤرخين	الكتب

### السؤال الرابع

(أ) اكتب كلمة (صواب) أمام العبارة الصحيحة، وكلمة (خطأ) أمام العبارة غير الصحيحة:

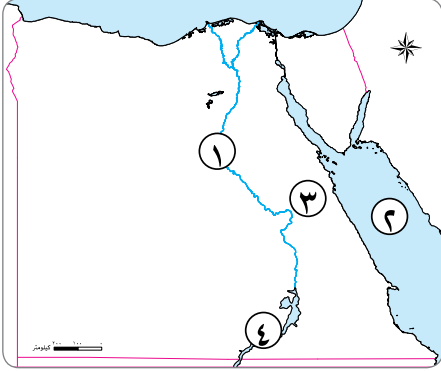
- ١ معرفة طقس اليوم تساعد على اتخاذ القرارات لممارسة الأنشطة اليومية. (صواب)
- ٢ قامت منظمة اليونسكو بوضع صناعة الفخار على قائمة التراث العالمى. (خطأ)
- ٣ تتوسط مصر قارات العالم القديم آسيا وإفريقيا وأوروبا. (صواب)
- ٤ الدولة تقوم بتقديم خدمات صحية من خلال بناء مدارس وجامعات للطلاب. (خطأ)
- ٥ تنتشر الشعاب المرجانية على ساحل البحر الأحمر. (صواب)

(ب) ما العلاقة بين ...؟

- نهر النيل والبيئة الزراعية.  
ساعد نهر النيل على قيام حرفة الزراعة.

## إجابة نموذج (هـ)

### السؤال الأول



(أ) أمامك خريطة صماء لمصر، ادرسها ثم اختر ما تشير إليه الأرقام مما بين الأقواس:

١ يشير رقم (١) إلى .....

(خليج السويس - خليج العقبة - نهر النيل - البحر الأحمر).

٢ يشير رقم (٢) إلى .....

(البحر المتوسط - البحر الأحمر - نهر النيل - قناة السويس).

٣ يشير رقم (٣) إلى .....

(الصحراء الغربية - الصحراء الشرقية - شبه جزيرة سيناء - وادي النيل).

٤ يشير رقم (٤) إلى .....

(بحيرة البرلس - خليج العقبة - خليج السويس - بحيرة ناصر).

(ب) صنف الظواهر الطبيعية التالية إلى البيئات التي تنتمي إليها في الجدول التالي:

(وادي النيل - ساحل البحر الأحمر - بحر الرمال العظيم - دلتا النيل)

البيئة الزراعية	البيئة الساحلية	البيئة الصحراوية
وادي النيل دلتا النيل	ساحل البحر الأحمر	بحر الرمال العظيم

### السؤال الثاني

(أ) صوب ما تحته خط:

١ الإسراف في استخدام الأسمدة الكيميائية يؤدي إلى تلوث الهواء. (التربة)

٢ تولد الكهرباء في محطة السد العالي من الرياح. (المياه)

٣ المصادر الأولية تسجل الأحداث بعد زمن طويل على وقوعها. (الثانوية)

٤ بحيرة البرلس من البحيرات المائية العذبة. (ناصر)

٥ قناة السويس استخدمها المصريون كطريق تجارى بين شمال وجنوب مصر. (نهر النيل)

(ب) دلل على اهتمام الدولة بحقوق الطفل.

قامت الدولة بوضع دستور مصر ٢٠١٤، حيث أكدت المادة رقم ٨٠ على حق الطفل في الرعاية والتعليم والصحة، كما وضعت الدولة قانوناً للطفل المصرى يشير إلى حقوق الطفل وحمايته من أى نوع من أنواع التمييز.

### السؤال الثالث

(أ) اختر الإجابة الصحيحة:

- ١ تنتشر تربية الحيوانات وحرفة الزراعة في المناطق .....  
(أ) الساحلية. (ب) الفيضية. (ج) الصحراوية. (د) الصناعية.
- ٢ أكبر بحيرة صناعية في العالم وموطن لكثير من الأسماك .....  
(أ) بحيرة قارون. (ب) بحيرة ناصر. (ج) بحيرة البردويل. (د) بحيرة البرلس.
- ٣ قرية الحمرانية تعد مقصدًا لكثير من السياح لتمييزها بصناعة .....  
(أ) النسيج. (ب) الزجاج. (ج) الفخار. (د) الخيامية.
- ٤ قلعة صلاح الدين الأيوبي من المعالم الأثرية لمحافظة .....  
(أ) الجيزة. (ب) القليوبية. (ج) القاهرة. (د) المنيا.

(ب) اقترح اثنين من الحلول لكل من المشكلات البيئية التالية:

- ١ تلوث المياه.  
عدم إلقاء نفايات المصانع في المياه - وضع القوانين التي تجرم تلوث المياه.
- ٢ تلوث الهواء.  
وضع فلاتر على مداخن المصانع - استخدام سيارات تعمل بالطاقة النظيفة (غاز طبيعي - كهرباء).

### السؤال الرابع

(أ) أكمل العبارات الآتية باختيار الكلمات المناسبة مما بين القوسين:

(السلام - التربة - قش الأرز - الأعمال المنزلية - العطور)

- ١ الموارد النباتية تستخدم في صناعة ..... (العطور)
- ٢ اللون الأبيض في العلم المصرى يدل على ..... (السلام)
- ٣ مورد متجدد هام لزراعة المحاصيل ..... (التربة)
- ٤ السحابة السوداء تتكون نتيجة حرق ..... (قش الأرز)
- ٥ من واجبات الطفل تجاه أسرته المساعدة في ..... (الأعمال المنزلية)

(ب) فسر السبب:

- إنشاء مدينة للجلود في الروبيكى.

قامت الدولة بإنشائها لتشجيع هذه الصناعة.

# امتحانات 2024

الصف الرابع الابتدائي

نماذج اختبارات نصف العام



## الاختبار الأول - نصف العام



هجاب  
عنه

**السؤال الأول:** ( أ ) اكتب كلمة (صح) أمام العبارة الصحيحة وكلمة (خطأ) أمام العبارة غير الصحيحة:

- 1- تمر السفن في الاتجاهين بقناة السويس بعد حفر قناة السويس الجديدة. ( )
- 2- يجب علينا تحرى دقة المعلومات قبل نشرها. ( )
- 3- معرفة أحوال طقس محافظتك يساعدك في تحديد نوع الملابس الواجب ارتدائها. ( )
- 4- لكل مستوى من مستويات الارتفاع لون مختلف. ( )
- 5- يمكن قياس المسافة بين مدينتين على الخريطة باستخدام مفتاح الخريطة. ( )

(ب) حدد سببًا واحدًا :

- لضرورة كتابة عنوان للخريطة .....

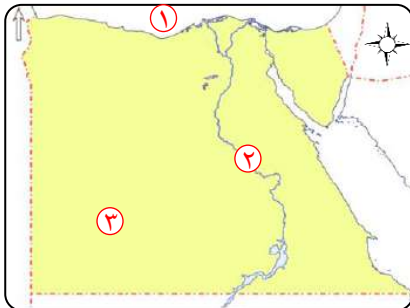
**السؤال الثاني:** ( أ ) ضع خطًا تحت الإجابة الصحيحة مما بين القوسين:

- 1- أي من العناصر الآتية للخريطة يستخدم عند رسم محافظة الأقصر على ورقة صغيرة ؟  
( عنوان الخريطة - مفتاح الخريطة - مقياس الرسم - وردة البوصلة )
- 2- "مدينة شرم الشيخ أجمل المدن المصرية" تعبر هذه العبارة عن ..... ( رأى - حقيقة - مقترح - خيال )
- 3- القناة التي تعد شريان التجارة العالمي الذي يربط بين البحرين الأحمر والمتوسط هي قناة .....  
( بنما - السويس - سيزوستريس - جونجلي )
- 4- يشير اللون الأزرق على خريطة مستويات ارتفاعات سطح مصر إلى .....  
( البحر - المنخفض - الهضبة - الجبل )
- 5- يسود معظم الأراضي المصرية مناخ .....  
( صحراوي - استوائي - مداري - قطبي )

(ب) دلل على صحة العبارات الآتية :

- 1- مصر دولة بحرية .....
- 2- للبنك المركزي أهمية كبيرة .....

**السؤال الثالث:** ( أ ) أمامك خريطة صماء لمصر. اكتب مدلول الأرقام التالية عليها :



(1) البحر ..... (2) نهر ..... (3) الصحراء .....

(ب) ما النتائج المترتبة على ؟

- طرح الدولة مبادرة حياة كريمة .....

**السؤال الرابع:** ( أ ) أجب عن الأسئلة التالية :

- اكتب اختلافًا واحدًا بين الجبل والتل في الجدول التالي :

وجه المقارنة	الجبل	التل
الاختلاف	.....	.....

(ب) اكتب ثلاثة أماكن ترى علم مصر يرفرف بها .....

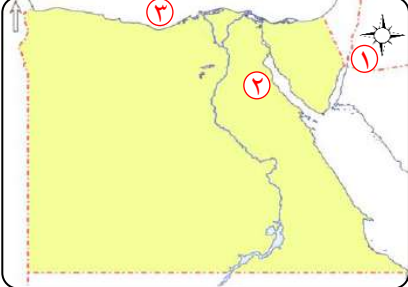


الاختبار الثاني - نصف العام



هجاب  
عنه

السؤال الأول: ( أ ) أمامك خريطة صماء لمصر اكتب ما تشير إليه الأرقام الموضحة عليها:



- ١- يشير رقم (١) إلى أحد عناصر الخريطة .....
- ٢- يشير رقم (٢) إلى خليج .....
- ٣- يشير رقم (٣) إلى مسطح مائي .....

( ب ) ما النتائج المترتبة على .....

- ١- حفر قناة السويس الجديدة .....
- ٢- سوء استخدامنا للموارد الطبيعية .....

السؤال الثاني: ( أ ) اكتب كلمة (صح) أمام العبارة الصحيحة وكلمة (خطأ) أمام العبارة غير الصحيحة:

١- إذا أردت الذهاب إلى العاصمة الإدارية الجديدة لأول مرة فأنت تحتاج إلى (GPS)

- ( )  
( )  
( )  
( )

- لتحديد اتجاهاتك .  
٢- يتغير المناخ من يوم إلى آخر ، كما يتغير عدة مرات في اليوم الواحد .  
٣- يخلو الدستور المصري من مواد لحقوق ذوى الاحتياجات الخاصة .  
٤- يمكننا تقليل نسبة تلوث الهواء من خلال زيادة استخدام الدراجات .

( ب ) ماذا يحدث إذا ؟

- ١- لم يكن هناك علمًا للدولة .....
- ٢- لم يقم محمد طلعت حرب باشا بإنشاء بنك مصر .....

السؤال الثالث: ( أ ) ضع خطأ تحت الإجابة الصحيحة مما بين القوسين:

- ١- تقع مصر في الركن الشمالي الشرقي لقارة .....
- ٢- المعلومات التي تم التأكد من صحتها هي .....
- ٣- توفير منزل مناسب للطفل يشير لحق الطفل في .....

( ب ) بم تفسر ؟

اهتمام الدولة بإحياء الحرف التراثية .....

السؤال الرابع: ( أ ) أكمل الجدول التالي لتحديد أوجه التشابه والاختلاف بين الطقس والمناخ مستخدمًا الكلمات الآتية:

( سنة - قصيرة - طويلة - أسبوع - الأمطار - الرياح )

وجه المقارنة	الطقس	المناخ
أوجه التشابه	يقيس كلاً منهما الحرارة و..... و.....	و..... و.....
أوجه الاختلاف	وصف حالة الجو في فترة زمنية .....	وصف حالة الجو في فترة زمنية .....
	قد تكون يوم أو.....	قد تكون فصل أو.....

( ب ) اكتب ما تشير إليه العبارات الآتية:

- ١- أرض شديدة الارتفاع وجوانبها شديدة الانحدار ولها قمة .
- ٢- مساحة من الماء العذب أو المالح يحيط بها اليابس من جميع الجهات .



## الاختبار الثالث - نصف العام

مجاب  
عنه

**السؤال الأول:** (أ) اكتب كلمة (صح) أمام العبارة الصحيحة وكلمة (خطأ) أمام العبارة غير الصحيحة:

- ١- يجب أن يستمع الصيادين إلى النشرة الجوية قبل الخروج في رحلات الصيد. ( )
- ٢- يعد استثمار مدخرات المصريين هدفاً من أهداف إنشاء بنك مصر. ( )
- ٣- يعد افتتاح المتحف المصرى الكبير من الخدمات الثقافية التي تقدمها مصر. ( )
- ٤- ساعد طريق رأس الرجاء الصالح على توفير الوقت والمال والجهد. ( )

(ب) وضح :

- أهم المشروعات التي أقامتها الدولة لتنمية العاصمة .....

**السؤال الثاني:** (أ) اختر الإجابة الصحيحة مما بين القوسين:

- ١- إذا أردت زيارة معظم الوزارات فعليك التوجه إلى محافظة .....  
( القاهرة - جنوب سيناء - الوادى الجديد - المنيا )



- ٢- يضم شعار محافظة القاهرة رمز من رموزها وهو .....

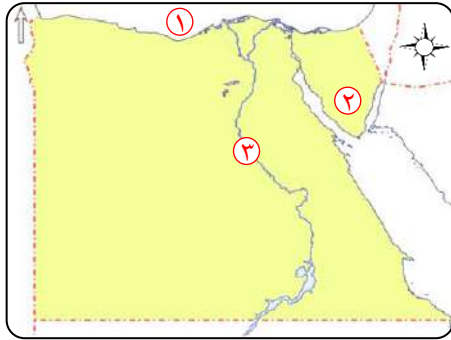
( جامع عمرو بن العاص - الجامع الأزهر الشريف - جامعة القاهرة - قلعة صلاح الدين )

- ٣- تعد حرفة ..... من الحرف اليدوية المنتشرة في شارع الأزهر بالقاهرة.

( الفخار - الخيامية - الزجاج - الجلود )

(ب) ماذا يحدث إذا لم ؟

- ١- يتم إنشاء الهيئة العامة للأرصاد الجوية. ....
- ٢- رسمت خريطة بدون عنوان الخريطة. ....



**السؤال الثالث:** (أ) أمامك خريطة صماء لمصر.

اكتب مدلول الأرقام التالية عليها:

- ١- البحر .....
- ٢- شبه جزيرة .....
- ٣- أحد موارد المياه العذبة في مصر .....

(ب) اكتب نتيجة واحدة ترتبت على :

- حرق قش الأرز .....

**السؤال الرابع:** (أ) أكمل العبارات الآتية:

- ١- يتم توليد الطاقة الكهربائية في مصر من .....
- ٢- تسمى أحد الأشياء التي يجب أن تحصل عليها لتعيش ب .....
- ٣- المقالات الحديثة من مصادر المعلومات .....

(ب) بم تفسر؟

- ١- ضيق سواحل البحر الأحمر. ....
- ٢- خطاب سعيد باشا حاكم مصر لفرديناند دليسبس يعد من المصادر الأولية. ....





## الاختبار الرابع – نصف العام

مجاب  
عنه

## السؤال الأول: ( أ ) أكمل العبارات التالية بما يناسبها من كلمات:

- ١- الموارد الطبيعية التي تنفذ باستخدامنا المستمر لها تسمى موارد .....
- ٢- تعد دراسة درجة الحرارة خلال أسبوع هي دراسة لحالة .....
- ٣- استخراج شهادة الميلاد عبر الإنترنت تعد من الخدمات .....
- ٤- تسهم الحرف التراثية في دعم .....

## (ب) ما رأيك في ؟

- ..... معلم يستخدم الخريطة دائماً في شرح الدروس.

## السؤال الثاني: ( أ ) اكتب كلمة (صح) أمام العبارة الصحيحة وكلمة (خطأ) أمام العبارة غير الصحيحة:

- ١- تستخدم شبكة خطوط الطول ودوائر العرض في تحديد الاتجاهات على الخريطة. ( )
- ٢- يقصد بالخدمات أي عمل أو نشاط موجه لتلبية حاجات أو رغبات المواطنين. ( )
- ٣- تعد مراكز الشباب الرياضية من الخدمات الأمنية التي تقدمها الدولة للمواطنين. ( )
- ٤- تدخل الرمال البيضاء في العديد من الصناعات منها صناعة السيارات. ( )

## (ب) قارن بين :

- ..... الموارد المتجددة والموارد غير المتجددة من حيث (التعريف) مع ذكر مثال.

## السؤال الثالث: ( أ ) اختر الإجابة الصحيحة مما بين القوسين:

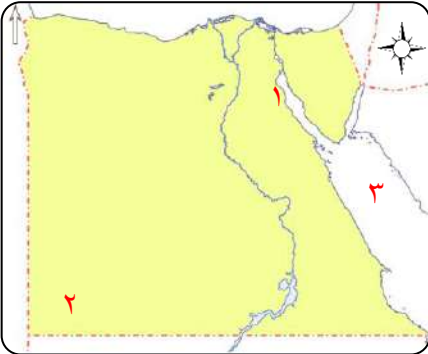
- ١- النقوش الفرعونية على جدران معبد الكرنك تعد من المصادر .....  
(الأولية - الثانوية - الحديثة - المكتبية)
- ٢- تقع أرض شدوان بكاملها داخل البحر الأحمر فهي بذلك تعد .....  
( هضبة - جزيرة - شبه جزيرة - منخفض )
- ٣- لمعرفة اتجاه الرياح اليوم فإننا نستخدم ..... ( الترمومتر - الأنيمومتر - دارة الرياح - مقياس المطر )

## (ب) أجب عما يلي:

- ١- ماذا يحدث إذا لم نعرف استخدام وردة البوصلة؟ .....
- ٢- لماذا تعد المصادر الأولية مصدراً موثوقاً للمعلومات؟ .....

## السؤال الرابع: ( أ ) أمامك خريطة صماء لمصر.

## اكتب مدلول الأرقام الموقعة عليها :



- ١- خليج .....
- ٢- هضبة .....
- ٣- البحر .....

## (ب) ما النتائج المترتبة على؟

- ١- اهتمام الدولة بالحرف التراثية. ....
- ٢- اهتمام الدولة بالخدمات الإلكترونية. ....

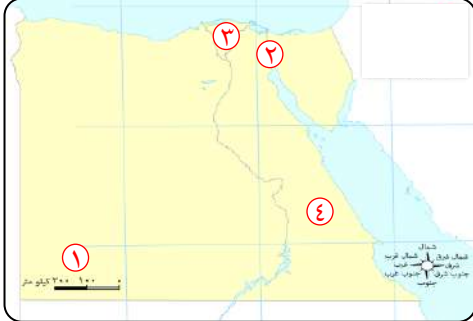


الاختبار الخامس - نصف العام



مجاب  
عنه

السؤال الأول: (أ) أمامك خريطة صماء لمصر. اكتب مدلول الأرقام التالية عليها:



- ١- أحد عناصر الخريطة .....
- ٢- قناة .....
- ٣- منطقة زراعية .....
- ٤- الصحراء .....

(ب) اذكر:

- ١- اثنان من مظاهر الاحتفال بالعيد القومي للمحافظة .
- ٢- ثلاثة من الخدمات الصحية التي تقدمها الدولة للمواطنين .

السؤال الثاني: (أ) اكتب كلمة (صح) أمام العبارة الصحيحة وكلمة (خطأ) أمام العبارة غير الصحيحة:

- ١- تتشابه المصادر الأولية والثانوية في توثيق الأحداث والمعلومات. ( )
- ٢- يستفيد قبطان السفينة من إحدائيات الخريطة في تحديد موقعه بالبحر. ( )
- ٣- تعتمد الحياة في البيئة الصحراوية على مياه نهر النيل. ( )
- ٤- يؤدي الإسراف في استخدام المبيدات الحشرية إلى تلوث الهواء. ( )

(ب) اكتب دليلاً على:

- ١- اهتمام الدولة بتطوير القاهرة عاصمة البلاد .
- ٢- اهتمام الدولة بذوي الاحتياجات الخاصة .

السؤال الثالث: (أ) صنف الظواهر الآتية حسب نوع الظاهرة في الجدول التالي:

(شدران - القطارة - شايب البنات - الجلف الكبير - البرلس)

منخفض	جزيرة	بحيرة	هضبة	جبل
.....	.....	.....	.....	.....

(ب) وضح العلاقة بين:

- ١- الادخار والاستثمار .
- ٢- النشيد الوطني وسيد درويش .

السؤال الرابع: (أ) اكتب ما تشير إليه العبارات الآتية:

- ١- الأشياء التي يجب أن تحصل عليها لتعيش .
- ٢- إنفاق النقود لشراء الحاجات والرغبات .

(ب) أجب عن الأسئلة التالية:

- ١- اكتب تفسيراً لأهمية الحرف التراثية للاقتصاد المصري. (يكتفى بسببين)
- ٢- اكتب مقترحاً واحداً لترشيد استهلاك المياه والكهرباء .

## الإجابات النموذجية

## إجابة الاختبار الأول ( نصف العام )

**السؤال الأول: ( أ )** اكتب كلمة (صح) أمام العبارة الصحيحة وكلمة (خطأ) أمام العبارة غير الصحيحة:

- ١- (صح).  
٢- (صح).  
٣- (صح).  
٤- (صح).  
٥- (خطأ).

**(ب) حدد سبباً واحداً :**

- لأنه يشير إلى الموضوع الذى تتناوله الخريطة .

**السؤال الثاني: ( أ )** ضع خطاً تحت الإجابة الصحيحة مما بين القوسين :

- ١- مقياس الرسم .  
٢- رأى .  
٣- السويس .  
٤- البحر .  
٥- صحراوي .

**(ب) دلل على صحة العبارات الآتية :**

١- **الدليل:** أنه يحدها من الشمال البحر المتوسط ومن الشرق البحر الأحمر.

٢- **الدليل:** الإشراف على جميع البنوك ، كما يشرف على مصلحة البريد المصري وحق إصدار النقود.

**السؤال الثالث: ( أ )** أمامك خريطة صماء لمصر. اكتب مدلول الأرقام التالية عليها :

- ١- المتوسط .  
٢- النيل .  
٣- الغربية .

**(ب) ما النتائج المترتبة على ؟**

- يساهم ذلك في توفير حياة كريمة للقري والأسر الفقيرة من خدمات مختلفة .

**السؤال الرابع: ( أ )** أجب عن الأسئلة التالية :

- الجبل ← أرض شديدة الارتفاع يزيد ارتفاعها عن ١٠٠٠م، أما التل يقل ارتفاعه عن ١٠٠٠م.

**(ب) اكتب ثلاثة أماكن ترى علم مصر يرفرف بها.**

- المدارس - المواقع السياحية - المؤسسات الحكومية وغيرها.

إجابة الاختبار الثاني (نصف العام)

السؤال الأول: ( أ ) أمامك خريطة صماء لمصر اكتب ما تشير إليه الأرقام الموضحة عليها:

- ١- وردة البوصلة . ٢- السويس . ٣- البحر المتوسط .

( ب ) ما النتائج المترتبة على ..... ؟

- ١- ساعدت على تقليل زمن مرور السفن في القناة ، واستيعاب أكبر عدد من السفن حجمًا وحمولة ، والسماح بمرور السفن في الاتجاهين .  
٢- يؤدي إلى ظهور عديد من المشكلات البيئية التي تضر بالموارد الطبيعية مما يعرضها للنفاذ .

السؤال الثاني: ( أ ) اكتب كلمة (صح) أمام العبارة الصحيحة وكلمة (خطأ) أمام العبارة غير الصحيحة:

- ١- (صح) . ٢- (خطأ) . ٣- (خطأ) . ٤- (صح) .

( ب ) ماذا يحدث إذا ؟

- ١- لن يرمز لتاريخ الدولة وحضارتها ولم يتم تمييزها بين الأمم .  
٢- لن تتخلص مصر من تبعيتها الاقتصادية ولن تقوم الدولة بالعديد من المشاريع الاقتصادية برؤوس أموال مصرية .

السؤال الثالث: ( أ ) ضع خطًا تحت الإجابة الصحيحة مما بين القوسين:

- ١- إفريقيا . ٢- حقائق . ٣- السكن .

( ب ) بم تفسر ؟

- ١- لأنها : تمثل دعمًا للاقتصاد المصري فهي توفر فرص عمل للشباب وتدعم السياحة المستدامة .  
٢- تساعد على حماية البيئة باستخدام بعض المخلفات في صناعة الحرف التراثية .

السؤال الرابع : ( أ ) أكمل الجدول التالي لتحديد أوجه التشابه والاختلاف بين الطقس والمناخ مستخدمًا

الكلمات الآتية:

وجه المقارنة	الطقس	المناخ
أوجه التشابه	يقيس كلاً منهما الحرارة والرياح والأمطار .	
أوجه الاختلاف	وصف حالة الجو في فترة زمنية قصيرة قد تكون يوم أو أسبوع .	وصف حالة الجو في فترة زمنية طويلة قد تكون فصل أو سنة .

( ب ) اكتب ما تشير إليه العبارات الآتية:

- ١- الجبل . ٢- البحيرة .

إجابة الاختبار الثالث ( نصف العام )

السؤال الأول: ( أ ) اكتب كلمة (صح) أمام العبارة الصحيحة وكلمة (خطأ) أمام العبارة غير الصحيحة:

- ١- (صح). ٢- (صح). ٣- (صح). ٤- (خطأ).

(ب) وضع :

- اهتمت الدولة بتطوير محافظة القاهرة من خلال عدد من المشروعات ، مثل :

( مشروع حي الأسمرات - مشروع تطوير حي السيدة زينب - مشروع محور روض الفرج ) .

السؤال الثاني: ( أ ) اختر الإجابة الصحيحة مما بين القوسين:

- ١- القاهرة. ٢- الجامع الأزهر الشريف. ٣- الخيامية.

(ب) ماذا يحدث إذا لم ؟

١- لم نستطع توقع الأحوال الجوية في المستقبل القريب ولن تستفيد من الأنشطة المختلفة ، مثل :

( صيد الأسماك - الزراعة - الصناعة - الاتصالات - السياحة وغيرها ) .

٢- لن نستطيع التعرف على الموضوع الذي تتناوله الخريطة .

السؤال الثالث : ( أ ) أمامك خريطة صماء لمصر. اكتب مدلول الأرقام التالية عليها:

- ١- المتوسط. ٢- سيناء. ٣- نهر النيل.

(ب) اكتب نتيجة واحدة ترتبت على :

- يؤدي إلى : تلوث الهواء مما يؤثر على صحة الإنسان.

السؤال الرابع: ( أ ) أكمل العبارات الآتية:

- ١- المياه خلف السدود والقناطر. ٢- الحاجات.

٣- الثانوية.

(ب) بم تفسر ؟

١- بسبب : اقتراب جبال البحر الأحمر من الساحل .

٢- لأن الخطاب موجه في زمن وقوع الحدث ولذلك هو من المصادر الأولية .

إجابة الاختبار الرابع (نصف العام)

**السؤال الأول:** ( أ ) أكمل العبارات التالية بما يناسبها من كلمات:

- ١- غيرمتجددة.                      ٢- الطقس.  
٣- الإلكترونية.                    ٤- الاقتصاد المصري.

**(ب) ما رأيك في ؟**

- تصرف صحيح ، لأنه يساعد المعلم في شرح الدرس والطالب على فهمه ومذاكرة دروسه .

**السؤال الثاني:** ( أ ) اكتب كلمة (صح) أمام العبارة الصحيحة وكلمة (خطأ) أمام العبارة غير الصحيحة:

- ١- (خطأ).                      ٢- (صح).                      ٣- (خطأ).                      ٤- (خطأ).

**(ب) قارن بين :**

- الموارد المتجددة : هي الموارد التي لا تنفذ رغم استخدامها المستمر لها ، **مثل :** (المياه - الهواء - التربة ) .

- الموارد غيرالمتجددة : هي الموارد التي تنفذ باستخدامنا لها ، **مثل :** (الموارد المعدنية - مصادر الطاقة ) .

**السؤال الثالث:** ( أ ) اخترالإجابة الصحيحة مما بين القوسين:

- ١- الأولية.                      ٢- جزيرة.                      ٣- دوارة الرياح.

**(ب) أجب عما يلي :**

١- لم نستطع تحديد الاتجاهات الأصلية والفرعية على الخريطة .

٢- لأنها مصادر عاصرت زمن وقوع الحدث .

**السؤال الرابع:** ( أ ) أمامك خريطة صماء لمصر. اكتب مدلول الأرقام الموقعة عليها :

- ١- السويس .                      ٢- الجلف الكبير.                      ٣- الأحمر.

**(ب) ما النتائج المترتبة على؟**

١- أدى إلى : دعم الاقتصاد المصري وتوفيرفرص عمل للشباب والحفاظ على التراث المصري .

٢- أدى إلى : توفيرالوقت والجهد على المواطنين .

**إجابة الاختبار الخامس ( نصف العام )**

**السؤال الأول:** ( أ ) أمامك خريطة صماء لمصر. اكتب مدلول الأرقام التالية عليها:

- ١- مقياس الرسم. ٢- السويس. ٣- الدلتا. ٤- الشرقية.

**(ب) اذكر:**

- ١- تزيين وتجميل الميادين والشوارع.  
٢- إقامة الاحتفالات والمهرجانات والمسابقات.  
٣- توفير المستشفيات - الرعاية الصحية - الأدوية والأمصال.

**السؤال الثاني:** ( أ ) اكتب كلمة (صح) أمام العبارة الصحيحة وكلمة (خطأ) أمام العبارة غير الصحيحة:

- ١- (صح). ٢- (صح). ٣- (خطأ). ٤- (خطأ).

**(ب) اكتب دليلاً على:**

- ١- تهتم الدولة بتطوير محافظة القاهرة من خلال عدد من المشروعات ، مثل :  
( حي الأسمرات - تطوير حي السيدة زينب - محور روض الفرج ).  
٢- وضعت الدولة المادة رقم (٨١) من دستور مصر عام ٢٠١٤م وتنص على حق ذوى الاحتياجات الخاصة في : ( التعليم - الرعاية الصحية - الخدمات لتلبية احتياجاتهم في الأماكن العامة ).

**السؤال الثالث:** ( أ ) صنف الظاهرات الآتية حسب نوع الظاهرة في الجدول التالي:

( شنوان - القطار - شايب البنات - الجلف الكبير - البرلس )

منخفض	جزيرة	بحيرة	هضبة	جبل
القطار	شنوان	البرلس	الجلف الكبير	شايب البنات

**(ب) وضح العلاقة بين:**

- ١- كلما زاد الادخار زاد الاستثمار وازدهر الاقتصاد.  
٢- حيث قام الفنان سيد درويش بتلحين النشيد الوطني ( بلادي بلادي ).

**السؤال الرابع:** ( أ ) اكتب ما تشير إليه العبارات الآتية:

- ١- الحاجات ٢- الاستهلاك.

**(ب) أجب عن الأسئلة التالية:**

- ١- تساعد في دعم الاقتصاد المصري - توفير فرص عمل للشباب.  
٢- غلق مياه الصنبور أثناء استخدام المياه لغسل الأسنان - إطفاء المصابيح الغير مستخدمة لتوفير الكهرباء.

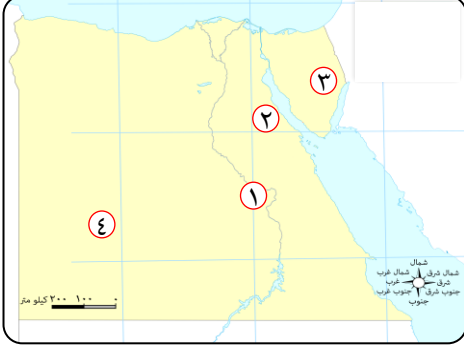


## الاختبار الأول



مجاب عنه

١ (أ) أمامك خريطة صماء لمصر. اكتب مدلول الأرقام الموقعة عليها:



- ١- يشير الرقم (١) إلى نهر .....
- ٢- يشير الرقم (٢) إلى خليج .....
- ٣- يشير الرقم (٣) إلى شبه جزيرة .....
- ٤- يشير الرقم (٤) إلى أكبر محافظات مصر مساحة  
هي محافظة .....

(ب) حدد أوجه التشابه والاختلاف بين (الموارد المائية العذبة والمياه المالحة) مع ذكر مثال.

المياه المالحة	المياه العذبة	وجه المقارنة
.....	.....	أوجه التشابه
.....	.....	أوجه الاختلاف
.....	.....	مثال

(ج) حدد سبباً واحداً لأهمية رسم وردة البوصلة على الخريطة.

٢ (أ) أمامك صورتين تأملهما جيداً ، ثم وضح أي منها صورة فضائية أو صورة جوية:



(ب)



(أ)

- ١- تعبر الصورة ( أ ) عن صورة .....
- ٢- تعبر الصورة (ب) عن صورة .....



(ب) ضع خطًا تحت الإجابة الصحيحة مما بين القوسين:

١- الحرفة التي يوجد شارع باسمها في محافظة القاهرة هي .....

( الزجاج - الخيامية - السجاد اليدوى - النسيج )

٢- تنتشر مشكلة حرق قش الأرز في البيئة .....

( الزراعية - الصحراوية - الساحلية - الصناعية )

(ج) اكتب نتيجة واحدة ترتبت على إنشاء البنك المركزى المصرى.

٣ ( أ ) اكتب كلمة (صواب) أمام العبارة الصحيحة وكلمة (خطأ) أمام العبارة غير الصحيحة:

١- إذا أردت الذهاب في رحلة إلى مدينة الغردقة فعليك الاتجاه إلى غرب مصر. ( )

٢- تتميز البيئة الصحراوية في مصر بوجود الجبال والكثبان الرملية. ( )

٣- معرفة أحوال الطقس في محافظتك يساعدك على تحديد نوع الملابس التي ترتديها. ( )

٤- تعد بحيرة ناصر من البحيرات الطبيعية في مصر. ( )

(ب) اكتب ثلاثة أماكن ترى علم مصر يرفرف بها.

١- ..... ٢- ..... ٣- .....

٤ ( أ ) أكمل العبارات الآتية بكلمات مناسبة من بنك المصطلحات:

( استهلاك - ادخار - حقوق - واجبات - الحقائق - قناة السويس - الثقافية - الآراء )

١- يعد إنشاء المتحف القومى للحضارة المصرية من الخدمات ..... التي تقدمها الدولة.

٢- المعلومات التي تم التأكد من صحتها تسمى .....

٣- زادت أهمية موقع مصر بعد حفر .....

٤- يعتبر الاسم المناسب والرعاية الصحية من ..... الطفل.

٥- يعد إنفاق النقود على شراء الحاجات يسمى .....

(ب) ما العلاقة بين المبيدات الحشرية والتربة الزراعية؟

.....

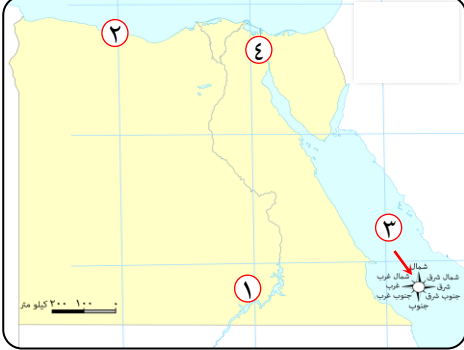


## الاختبار الثاني



مجاب عنه

١ (أ) أمامك خريطة صماء لمصر. اكتب مدلول الأرقام التالية:



- ١- يشير الرقم (١) على الخريطة إلى بحيرة .....
- ٢- يشير الرقم (٢) على الخريطة إلى البيئة .....
- ٣- يشير الرقم (٣) على الخريطة إلى .....
- ٤- يشير الرقم (٤) على الخريطة إلى قناة .....

(ب) اكتب ما تشير إليه العبارة الآتية :

- مساحات واسعة من اليابس تضم عددًا من الدول .

.....

(ج) حدد سببًا واحدًا لأهمية نبات الخروع.

.....

٢ (أ) لاحظ الصورتين التاليتين جيدًا ثم أجب:



الصورة (ب)



الصورة (أ)

- ١- تعبر الصورة ( أ ) عن تلوث .....
- ٢- تعبر الصورة (ب) عن تلوث .....
- ٣- ترتب على التلوث في الصورة ( أ ) تكون ما يعرف ب .....

(ب) اكتب كلمة (صواب) أمام العبارة الصحيحة وكلمة (خطأ) أمام العبارة غير الصحيحة:

- ١- البترول والغاز الطبيعي من مصادر الطاقة المتجددة التي لا تنفذ باستخدام الإنسان لها. ( )
- ٢- يرتبط العيد القومي للمحافظة بحدث تاريخي أو ذكرى مهمة. ( )
- ٣- يجب أن يستمع الصيادون للنشرة الجوية قبل الخروج في رحلات الصيد. ( )

(ج) اكتب دليلًا واحدًا على صحة العبارة التالية :

- تنوع مظاهر السطح في مصر .....

٣ ( أ ) أكمل العبارات التالية بكلمات مناسبة من بنك الكلمات:

( عنوان الخريطة - السجاد اليدوي - مقياس الرسم - شبه جزيرة - الأبيض - خبراء الطاقة الشمسية )

- ١- تحيط المياه بأرض سيناء من ثلاث جهات لذلك فهي .....
  - ٢- تعد صناعة ..... من الحرف المدرجة على قائمة التراث العالمى لليونسكو.
  - ٣- عند رسم محافظة الإسكندرية في ورقة صغيرة فإننا نستخدم .....
  - ٤- لون في علم مصر يعبر عن السلام هو اللون .....
  - ٥- من المهن المستقبلية للحفاظ على البيئة .....
- ( ب ) اكتب تفسيراً واحداً لإنشاء الدولة للعاصمة الإدارية الجديدة.

٤ ( أ ) اختر الإجابة الصحيحة مما بين القوسين:

- ١- محافظة من محافظات الحدود الصحراوية تقع بين خليجي السويس والعقبة هي .....
  - ( مطروح - الوادى الجديد - جنوب سيناء - الجيزة )
  - ٢- يمكنك ترشيد استهلاكك من المياه العذبة عن طريق .....
  - ( بناء السدود - غلق الصنبور - حفر الآبار - حفر الترع )
  - ٣- التحاق الطفل بالمدرسة يعد من حقوق الطفل في .....
  - ( التعليم - الصحة - الأمن - السكن )
- ( ب ) حدد أوجه التشابه والاختلاف بين الطقس والمناخ مستخدماً بنك الكلمات.
- ( سنة - قصيرة - طويلة - أسبوع - الأمطار )

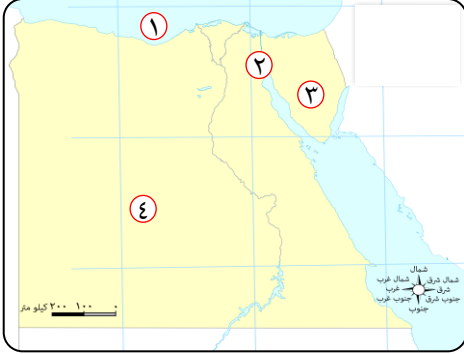
وجه المقارنة	الطقس	المناخ
أوجه التشابه	- يقيس كل منهما الحرارة والرياح و .....	.....
أوجه الاختلاف	- وصف حالة الجو في فترة زمنية .....	- وصف حالة الجو في فترة زمنية .....
	قد تكون يوم أو .....	قد تكون فصل أو .....



### الاختبار الثالث



١ (أ) أمامك خريطة صماء لمصر. اكتب مدلول الأرقام التالية:



- ١- يشير الرقم (١) على الخريطة إلى البحر .....
- ٢- يشير الرقم (٢) على الخريطة إلى قناة .....
- ٣- يشير الرقم (٣) على الخريطة إلى شبه جزيرة .....
- ٤- يشير الرقم (٤) على الخريطة إلى الصحراء .....

(ب) حدد أوجه التشابه والاختلاف بين : (المصادر الأولية والمصادر الثانوية)

المصادر الثانوية	المصادر الأولية	وجه المقارنة
.....	.....	أوجه التشابه
.....	.....	أوجه الاختلاف

(ج) اكتب مقترحاً واحداً لما يلي:

- إحياء الحرف التراثية في مصر. ....

٢ (أ) اختر الإجابة الصحيحة مما بين القوسين:

- ١- ( مدينة شرم الشيخ أجمل المدن المصرية ) تعبر هذه العبارة عن .....  
( رأى - خيال - حقيقة - واقع )
- ٢- تخلو البيئة الصحراوية في مصر من ..... ( المنخفضات - الهضاب - الجبال - الجزر )
- ٣- توفير الدولة لخط نجدة الطفل رقم ١٦٠٠٠ يعبر عن حق الطفل في .....  
( التعليم - الحماية - المشاركة - الترفيه )

(ب) اكتب نتيجة واحدة ترتبت على ما يلي:

- تقديم الخدمات الإلكترونية للمواطنين.

(ج) في ضوء ما درست ، حدد أسماء البيئات التالية وأماكن انتشارها في مصر:



الصورة (ب)



الصورة (أ)

- ١- تدل الصورة (أ) على البيئة ..... وتوجد في .....
- ٢- تدل الصورة (ب) على البيئة ..... وتوجد في .....

(أ) أكمل العبارات الآتية بما يناسبها من كلمات:

- ١- تقع مصر شمال شرق قارة .....
- ٢- يشرف البنك ..... على جميع البنوك المصرية.
- ٣- الأشياء التي يكون من الجيد الحصول عليها ولكن يمكن العيش بدونها تسمى .....
- ٤- أنشأت الدولة مدينة الروبيكي لصناعة .....
- ٥- يعد استخراج شهادة الميلاد عبر الإنترنت من الخدمات .....
- (ب) اكتب تفسيراً واحداً لأهمية وجود علم لكل دولة .....

(أ) حدد أوجه التشابه والاختلاف بين خطوط الطول ودوائر العرض مستخدماً بنك الكلمات.

( شرقاً - غرباً - شمالاً - جنوباً - المواقع - أفقيًا - رأسيًا )

وجه المقارنة	خطوط الطول	دوائر العرض
أوجه التشابه	- تستخدم في تحديد .....	.....
أوجه الاختلاف	- تتخذ شكلاً ..... - تقسم الكرة الأرضية إلى نصفين .....	- تتخذ شكلاً ..... - تقسم الكرة الأرضية إلى نصفين .....

(ب) حدد سبباً واحداً لتلوث الهواء في مصر.



## إجابة الاختبار الأول

١ (أ) أمامك خريطة صماء لمصر. اكتب مدلول الأرقام الموقعة عليها:

- ١- النيل .  
٢- السويس .  
٣- سيناء .  
٤- الوادى الجديد .

		(ب)
المياه المالحة	المياه العذبة	وجه المقارنة
كلاهما من الموارد الطبيعية الموجودة في مصر.		وجه التشابه
غير صالحة للشرب .	صالحة للشرب والأغراض المنزلية .	أوجه الاختلاف
البحران الأحمر والمتوسط .	نهر النيل .	مثال

(ج) حدد سبباً واحداً : لتحديد الاتجاهات الأصلية والفرعية على الخريطة .

٢ (أ) أمامك صورتين تأملهما ، ثم أجب :

- ١- جوية .  
٢- فضائية .

(ب) ضع خطاً تحت الإجابة الصحيحة مما بين القوسين :

- ١- الخيامية .  
٢- الزراعية .

(ج) اكتب نتيجة واحدة : الإشراف على جميع البنوك والمؤسسات المصرفية في مصر .

٣ (أ) اكتب كلمة (صواب) أمام العبارة الصحيحة وكلمة (خطأ) أمام العبارة غير الصحيحة :

- ١- (خطأ) .  
٢- (صواب) .  
٣- (صواب) .  
٤- (خطأ) .

(ب) ثلاث أماكن ترى علم مصر يرفرف بها :

- ١- المدرسة - المواقع السياحية .  
٢- الوزارات والمؤسسات الحكومية .  
٣- وسائل النقل الدولية ( كالتائرات والسفن ) .

٤ (أ) أكمل العبارات الآتية بكلمات مناسبة :

- ١- الثقافية .  
٢- الحقائق .  
٣- قناة السويس .  
٤- حقوق .  
٥- استهلاك .

(ب) ما العلاقة :

- يؤدي الإسراف في استخدام المبيدات الحشرية إلى تدهور التربة الزراعية في مصر .



## إجابة الاختبار الثاني

١ ( أ ) أمامك خريطة صماء لمصر. اكتب مدلول الأرقام التالية:

- ١- ناصر. ٢- الساحلية.  
٣- وردة البوصلة. ٤- السويس.

( ب ) اكتب ما تشير إليه العبارة الآتية : القارة.

( ج ) حدد سببًا واحدًا: يدخل في صناعة الأدوية والعطور ومستحضرات التجميل.

٢ ( أ ) لاحظ الصورتين جيدًا ثم أجب:

- ١- الهواء. ٢- التربة. ٣- السحابة السوداء.

( ب ) اكتب كلمة ( صواب ) أمام العبارة الصحيحة وكلمة ( خطأ ) أمام العبارة غير الصحيحة:

- ١- ( خطأ ). ٢- ( صواب ). ٣- ( صواب ).

( ج ) اكتب دليلاً واحدًا : يوجد في مصر المرتفعات والمنخفضات والسهول الفيضية والساحلية،

كما توجد الجزر وأشباه الجزر بالإضافة إلى البحار والبحيرات ونهر النيل.

٣ ( أ ) أكمل العبارات التالية بكلمات مناسبة مما بين القوسين:

- ١- شبه جزيرة. ٢- السجاد اليدوي.  
٣- مقياس الرسم. ٤- الأبيض.  
٥- خبراء الطاقة الشمسية.

( ب ) اكتب تفسيراً واحدًا : لتقليل الضغط السكاني وتكديس الخدمات بالعاصمة الحالية.

٤ ( أ ) ضع خطأً تحت الإجابة الصحيحة مما بين القوسين:

- ١- جنوب سيناء. ٢- غلق الصنبور. ٣- التعليم.

( ب )

وجه المقارنة	الطقس	المناخ
وجه التشابه	يقيس كلاً منهما الحرارة والرياح والأمطار.	
أوجه الاختلاف	يصف حالة الجو في فترة زمنية قصيرة قد تكون يوم أو أسبوع.	يصف حالة الجو في فترة زمنية طويلة قد تكون فصل أو سنة.



## إجابة الاختبار الثالث

١ (أ) أمامك خريطة صماء لمصر. اكتب مدلول الأرقام التالية:

- ١- المتوسط. ٢- السويس.  
٢- سيناء. ٤- الغربية.

وجه المقارنة	المصادر الأولية	المصادر الثانوية
وجه التشابه	كلاهما يستخدم لتوثيق المعلومات والأحداث.	
أوجه الاختلاف	أكثر دقة ومعاصرة للأحداث ولكن يصعب الحصول عليه.	متوفرة ويسهل الحصول عليها عكس المصادر الأولية.

٢ (ج) اكتب مقترحاً واحداً لما يلي:

إعداد برامج تدريبية لتعليم الحرفيين المهارات الخاصة ببعض الحرف - ورعاية مصالح العمال وتسويق المنتجات.

٣ (أ) اختر الإجابة الصحيحة مما بين القوسين:

- ١- رأى. ٢- الجزر. ٣- الحماية.

٤ (ب) اكتب نتيجة واحدة ترتبت على ما يلي:

أدى إلى توفير المزيد من الوقت والجهد والمال على المواطنين.

٥ (ج) حدد أسماء البيئات وأماكن انتشارها في مصر:

- ١- الساحلية - البحر الأحمر والبحر المتوسط. ٢- الزراعية - الوادى والدلتا.

٦ (أ) أكمل العبارات الآتية بما يناسبها من كلمات:

- ١- إفريقيا. ٢- المركزى المصرى. ٣- الرغبات.  
٤- الجلود. ٥- الإلكترونية.

٧ (ب) لأنه رمز للدولة وتاريخها وتراثها.

٨ (أ) حدد أوجه التشابه والاختلاف بين خطوط الطول ودوائر العرض.

وجه المقارنة	خطوط الطول	دوائر العرض
وجه التشابه	تستخدم في تحديد المواقع.	
أوجه الاختلاف	- تتخذ شكلاً رأسياً. - تقسم الكرة الأرضية إلى نصفين شرقاً وغرباً.	- تتخذ شكلاً أفقياً. - تقسم الكرة الأرضية إلى نصفين شمالاً وجنوباً.

٩ (ب) بسبب : ١- حرق قش الأرز في البيئة الزراعية.

٢- زيادة الدخان الناتج عن عوادم السيارات ودخان المصانع.



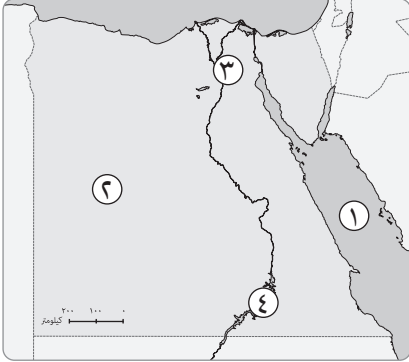
## اختبارات عامة

### الاختبار الأول

٣٠

٤

س ١ ( أ ) أمامك خريطة صماء لمصر ، وضح مدلول الأرقام الآتية :



- ١ - مسطح مائي توجد به الشعاب المرجانية .....
- ٢ - بيئة .....
- ٣ - عاصمة مصر .....
- ٤ - بحيرة عذبة .....

٣

(ب) ما العلاقة بين ...؟

- ١ - وردة البوصلة والاتجاهات على الخريطة .
- ٢ - نوع الملابس التي نرتديها وحالة الطقس .
- ٣ - الطاقة المتجددة والبيئة النظيفة .

٤

س ٢ ( أ ) صوب ما تحته خط :

- (.....)
- (.....)
- (.....)
- (.....)

- ١ - البحر المتوسط يحيط بمصر من جهة الجنوب .
- ٢ - بحر الرمال العظيم يقع في نطاق البيئة الساحلية .
- ٣ - الرغبات هي أشياء يجب أن نحصل عليها لنعيش .
- ٤ - اللون الأسود في علم مصر يدل على السلام .

٤

(ب) اذكر سببًا واحدًا لكل من :

- ١ - تكوّن السحابة السوداء في البيئة الزراعية .

٢ - وجود اللون الأحمر في علم مصر .

٣ - أهمية الخريطة للجيش .

٤ - ضرورة الادخار .

س ٣ ( أ ) اختر الإجابة الصحيحة مما بين القوسين :

٤

- ١ - ..... من عناصر الخريطة . ( الترمومتر - الأنيمومتر - مقياس الرسم - حالة الطقس )
- ٢ - وضع القائد ..... حجر الأساس لبناء مدينة القاهرة عام ٩٦٩ م .
- ٣ - ..... هي أرض تحيط بها المياه من جميع الجهات . ( البحيرة - الجزيرة - الجبل - التل )
- ٤ - من الخدمات الأمنية التي تقدمها الدولة :
- ( إنشاء المتاحف - القبض على الخارجين عن القانون - إنشاء الأندية الرياضية - إرسال البعثات التعليمية )

٣

( ب ) اذكر نتيجة واحدة لكل من :

- ١ - الإفراط في استخدام الأسمدة الكيميائية والمبيدات الحشرية في التربة .
- ٢ - إنشاء قناة السويس الجديدة .
- ٣ - إنشاء العاصمة الإدارية الجديدة .

٣

س ٤ ( أ ) ما هي الحرفة السائدة في المناطق الآتية ... ؟

- ١ - المناطق الفيضية .
  - ٢ - المناطق الصحراوية .
  - ٣ - المناطق الساحلية .
- ( ..... )  
( ..... )  
( ..... )

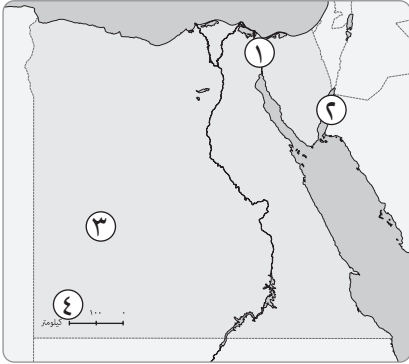
(ب) صنف المحافظات التالية إلى :

(وجه قبلي - وجه بحري - محافظات حدود)

- ١ - أسوان . (.....) ٢ - البحيرة . (.....)
- ٣ - مرسى مطروح . (.....) ٤ - الوادي الجديد . (.....)
- ٥ - قنا . (.....)

## الاختبار الثاني

س ١ ( أ ) أمامك خريطة صماء لمصر ، وضح مدلول الأرقام الآتية :



- ١ - قناة .....  
٢ - خليج .....  
٣ - أكبر محافظات مصر مساحة .....  
٤ - جبل .....

(ب) اكتب ما تشير إليه كل عبارة مما يلي :

- ١ - مساحة من اليابس تحيط بها المياه من جميع الجهات .  
٢ - مجرى من الماء العذب .  
٣ - وصف حالة الجو في فترة زمنية طويلة .  
٤ - راية تتخذها المحافظة رمزاً لها لتعبر عن نشاط سكانها أو جزء من تاريخها .

س ٢ ( أ ) اذكر نتيجة واحدة لكل من :

١ - التوسع في استخدام الطاقة الحفورية .

٢ - انتشار الشعاب المرجانية في مياه البحر الأحمر .

٣ - استخدام الجيش للخريطة .

٤ - معرفة الإنسان لحالة الطقس .

٣

(ب) اذكر استخدامًا واحدًا لكل من :

١ - الرمال السوداء . ٢ - نبات الصبار . ٣ - الرمال البيضاء .

٤

س ٣ ( أ ) حدد أوجه الشبه والاختلاف بين :

١ - الصور الجوية والصور الفضائية .

٢ - المصادر الأولية والمصادر الثانوية .

٣

(ب) اقترح حلًّا واحدًا لكل من :

١ - مشكلة تلوث مياه البحر المتوسط .

٢ - مشكلة السحابة السوداء في البيئة الزراعية .

٣ - مشكلة تدهور التربة الزراعية .

٣

س ٤ ( أ ) من هو ...؟

١ - أسس بنك مصر عام ١٩٢٠ م .

٢ - وضع حجر الأساس لبناء مدينة القاهرة عام ٩٦٩ م .

٣ - قام بتأليف النشيد الوطني المصري .

(.....)

(.....)

(.....)

(ب) أجب عما يلي :

١ - ما هو العيد القومي لمحافظةك ؟

٢ - ما رأيك في معرض تراثنا للحرف اليدوية الذي أقيم بالقاهرة عام ٢٠٢٠ م ؟

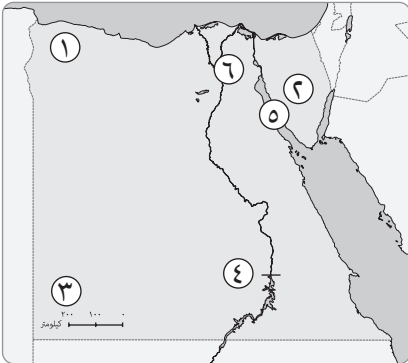
٣ - ما العلاقة بين العيد القومي للمحافظة والمشروعات الجديدة ؟

٤ - أيهما تفضل : أن تعيش في البيئة الزراعية أم الساحلية ؟ ولماذا ؟

٥ - ماذا يحدث إذا لم يتم إنشاء العاصمة الإدارية الجديدة ؟

## الاختبار الثالث

س ١ ( أ ) أمامك خريطة صماء لمصر ، وضح مدلول الأرقام الآتية :



- ١ - محافظة من محافظات الحدود الصحراوية .....
- ٢ - شبه جزيرة .....
- ٣ - جبل .....
- ٤ - سد لتوليد الكهرباء .....
- ٥ - خليج يكثر فيه البترول .....
- ٦ - عاصمة مصر .....

(ب) اختر الإجابة الصحيحة مما بين القوسين :

- ١ - تنتشر مناجم الفوسفات في : ( الصحراء الشرقية - الدلتا - الصحراء الغربية - خليج العقبة )
- ٢ - لمعرفة المسافة بين أسوان والمنيا على الطبيعة نستخدم : ( وردة البوصلة - عنوان الخريطة - مقياس الرسم - مفتاح الخريطة )
- ٣ - أكثر بحار العالم تلوثاً . ( البحر الأحمر - البحر المتوسط - بحر العرب - البحر الأسود )
- ٤ - هو مجرى مائي عذب . ( البحر - المحيط - القارة - النهر )

س ٢ ( أ ) اكتب كلمة ( صح ) أمام العبارة الصحيحة ، وكلمة ( خطأ ) أمام العبارة الخاطئة :

٤

- ١ - تم حفر قناة سيزوستريس في عهد الملك سنوسرت الثالث .  
 ٢ - من المصادر الأولية للمعلومات الأبحاث العلمية .  
 ٣ - محافظة الوادي الجديد جزء من البيئة الساحلية .  
 ٤ - الأراضي التي على جانبي النهر تسمى سهولاً فيضية .

٣

( ب ) اذكر نتيجة واحدة لكل من :

١ - قلة الاستهلاك .

٢ - إنشاء قناة السويس الجديدة .

٣ - معرفة حالة الطقس .

٤

س ٣ ( أ ) أكمل العبارات الآتية بكلمات مناسبة :

- ١ - نقيس سرعة الرياح ب.....  
 ٢ - قام الفنان.....بتلحين النشيد الوطني المصري .  
 ٣ - تقع مصر في الركن الشمالي الشرقي لقارة.....  
 ٤ - الحدود بين المحافظات تسمى حدوداً.....

٤

( ب ) صل من العمود ( أ ) ما يناسبه من العمود ( ب ) :

( أ )	( ب )
١ - اللون الأحمر :	● تلون به المناطق المرتفعة على الخريطة .
٢ - اللون الأبيض :	● تلون به المناطق المنخفضة مثل السهول والمنخفضات على الخريطة .
٣ - اللون البني :	● يعبر عن السلام في علم مصر .
٤ - اللون الأخضر :	● يعبر عن التضحية من أجل الوطن في علم مصر .

س ٤ ( أ ) في أي المحافظات توجد الظواهر الآتية ... ؟

١ - تلال المقطم .

٢ - جبل سانت كاترين .

٣ - بحيرة ناصر .

٤ - هضبة الجلف الكبير .

( ب ) أجب عما يلي :

١ - ما رأيك في استخدام الطاقة المتجددة بدلاً من الطاقة غير المتجددة ؟

٢ - ما العلاقة بين ... ؟

( أ ) الترمومتر ودرجة الحرارة .

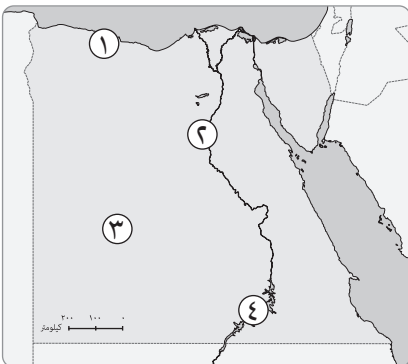
( ب ) الخرائط التفصيلية والصور الجوية .

٣ - فسر ما يلي :

- لقناة السويس الجديدة أهمية كبيرة .

## الاختبار الرابع

س ١ أمامك خريطة صماء لمصر ، وضح مدلول الأرقام الآتية :



١ - بيئة .....

٢ - بيئة .....

٣ - بيئة .....

٤ - بحيرة .....

## س ٢ اختر الإجابة الصحيحة مما بين القوسين :

- ١٠
- ١ - تقع مصر في الركن الشمالي الشرقي لقارة : ( إفريقيا - أستراليا - أمريكا الجنوبية - أوروبا )
  - ٢ - محافظتي من محافظات : ( الحدود الصحراوية - الوجه القبلي - الوجه البحري - القطبية )
  - ٣ - إذا أردت الذهاب لعاصمة مصر فعليك بالتوجه إلى محافظة : ( الإسكندرية - القاهرة - الجيزة - أسوان )
  - ٤ - تتميز الصحراء الغربية بعدة ظاهرات تضاريسية أهمها : ( البحيرات المالحة - البحر الأحمر - الشعاب المرجانية - بحر الرمال العظيم )
  - ٥ - يتسبب حرق قش الأرز في تلوث : ( التربة - المياه - الهواء - الفضاء )

## س ٣ اكتب كلمة ( صح ) أمام العبارة الصحيحة ، وكلمة ( خطأ ) أمام العبارة الخاطئة :

- ٦
- ١ - تمر السفن في الاتجاهين بقناة السويس بعد حفر قناة السويس الجديدة . ( )
  - ٢ - اتخذ عَلم مصر شكلاً واحداً على مر التاريخ . ( )
  - ٣ - كل الموارد الطبيعية لا تنفذ باستخدام الإنسان لها . ( )
  - ٤ - يرتبط العيد القومي لمحافظة بذكرى تاريخية . ( )

## س ٤ أجب عن السؤالين التاليين :

١ - حدد سبباً واحداً لأهمية وجود عَلم لكل دولة .

٢ - ماذا تقول لزميلك الذي يترك صنوبر المياه مفتوحاً .

## الاختبار الخامس

## س ١ اكتب كلمة ( صح ) أمام العبارة الصحيحة ، وكلمة ( خطأ ) أمام العبارة الخاطئة :

- ٣٠
- ١٠
- ١ - للتأكد من صحة المعلومات الواردة عن الأهرامات نستخدم المصادر الأولية والثانوية . ( )
  - ٢ - المحيط الهادي يمثل مساحة شاسعة من الماء المالح قليلة العمق . ( )
  - ٣ - اتخذ عَلم مصر شكلاً واحداً على مر التاريخ . ( )



- ٤ - يرتبط العيد القومي للمحافظة بحدث تاريخي أو ذكرى مهمة . ( )
- ٥ - يجب أن يستمع الصيادون للنشرة الجوية قبل الخروج في رحلات الصيد . ( )

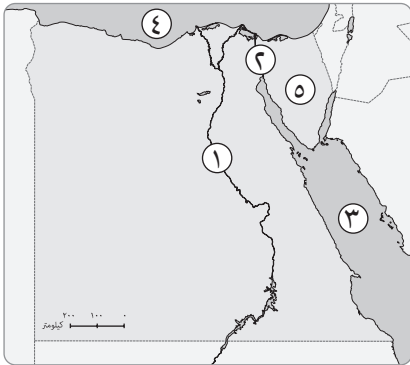
١٠

س ٢ اختر الإجابة الصحيحة مما بين القوسين :

- ١ - تخلو مصر من البيئة : (الزراعية - القطبية - الصحراوية - الساحلية)
- ٢ - تنتشر مشكلة حرق قش الأرز في البيئة : (الزراعية - الصحراوية - الساحلية - الصناعية)
- ٣ - يمكنك ترشيد استهلاكك من المياه العذبة من خلال : (حفر الآبار - بناء السدود - حفر الترع - غلق الصنبور)
- ٤ - حماية المواطنين وتوفير الأمن والاستقرار لهم من الخدمات : (التعليمية - الأمنية - الثقافية - الرقمية)
- ٥ - التحاق الطفل بالمدرسة من حقوق الطفل في : (التعليم - الصحة - السكان - الأمن)

١٠

س ٣ أمامك خريطة صماء لمصر ، وضع مدلول الأرقام الآتية :



- ١ - نهر .....
- ٢ - قناة .....
- ٣ - البحر .....
- ٤ - البحر .....
- ٥ - شبه جزيرة .....

٣٠

## الاختبار السادس

١٠

س ١ اكتب كلمة (صح) أمام العبارة الصحيحة ، وكلمة (خطأ) أمام العبارة الخاطئة :

- ١ - يساعد مقياس الرسم في حساب المسافة الحقيقية بين مدينتي السويس وبورسعيد . ( )
- ٢ - ساعد موقع مصر على قيام الحضارة المصرية القديمة وهذه العبارة تعبر عن وجهة نظر . ( )
- ٣ - زادت أهمية موقع مصر في العصر الحديث بعد حفر قناة سيزوستريس . ( )
- ٤ - اتخذ علم مصر شكلاً واحداً على مر التاريخ . ( )
- ٥ - تحتفل جميع محافظات مصر بعيد قومي واحد . ( )
- ٦ - تقع هضبة الجلف الكبير بمصر بالركن الجنوبي الشرقي . ( )

## س ٢ اختر الإجابة الصحيحة مما بين القوسين :

١٤

- ١ - إذا أردت زيارة معظم الوزارات فعليك التوجه إلى محافظة :  
( القاهرة - جنوب سيناء - الوادي الجديد - المنيا )
- ٢ - إذا أردت تلوين السهل الفيضي على خريطة مصر فإنك تختار اللون :  
( البني - الأزرق - الأخضر - الأصفر )
- ٣ - يسود معظم مصر مناخ :  
( صحراوي - استوائي - مداري - قطبي )
- ٤ - تخلو البيئة الصحراوية في مصر من :  
( المنخفضات - الهضاب - الجبال - الجزر )
- ٥ - إذا أردت بناء مصنع لتشكيل الذهب فإنك تحتاج إلى استخراج معدن ينتشر في :  
( وادي النيل - الصحراء الشرقية - الصحراء الغربية - شبه جزيرة سيناء )
- ٦ - تتعرض التربة للتلوث في البيئة الزراعية نتيجة لـ :  
( حرق قش الأرز - دخان المصانع - إلقاء النفايات البلاستيكية - الإسراف في استخدام الأسمدة الكيميائية )
- ٧ - يمكننا تقليل نسبة تلوث الهواء من خلال استخدام السيارات التي تسير بـ :  
( البترول - الغاز الطبيعي - البنزين - السولار )

## س ٣ أجب عن السؤالين التاليين :

٦

- ١ - ما النتائج المترتبة على اهتمام الدولة بإقامة المعارض والمهرجانات الخاصة بالحرف التراثية ؟  
.....
- ٢ - اكتب تفسيراً واحداً لاهتمام الدولة بذوي الاحتياجات الخاصة .  
.....

## إجابات اختبارات عامة

### الاختبار الأول

السؤال الأول: ( أ )

- ١ - البحر الأحمر
- ٢ - صحراوية
- ٣ - القاهرة
- ٤ - بحيرة ناصر

( ب )

- ١ - نستطيع تحديد الاتجاهات على الخريطة باستخدام وردة البوصلة
- ٢ - حالة الطقس تحدد نوع الملابس التي سوف نرتديها ، فإذا كان الجو بارداً نلبس الملابس الثقيلة ، وإذا كان حاراً نلبس الملابس الخفيفة
- ٣ - الطاقة المتجددة طاقة نظيفة غير ملوثة للبيئة

السؤال الثاني: ( أ )

- ١ - الشمال
- ٢ - الصحراوية
- ٣ - الحاجات
- ٤ - الأبيض

( ب )

- ١ - بسبب حرق قش الأرز .
- ٢ - ليدل على التضحية وبذل الدماء في سبيل الوطن .

## السؤال الثالث : ( أ )

الصور الفضائية	الصور الجوية	١ -
تتم من خلال أجهزة لا تلامس سطح الأرض ، وتصور الأرض .		الشبه
يتم التقاطها بواسطة الأقمار الصناعية .	يتم التقاطها بالبطائرات .	الاختلاف
٢ -	المصادر الأولية	المصادر الثانوية
كل ما تم تدوينه بعد مرور زمن طويل من وقوع الحدث .	كل ما تم نقشه أو تدوينه سواء من قبل أشخاص عاصروا الحدث أو شاركوا فيه .	الاختلاف
هي مصادر لتوثيق المعلومات والأحداث .		الشبه

( ب ) تترك الإجابة للتلميذ .

## السؤال الرابع : ( أ )

- ١ - محمد طلعت حرب ٢ - جوهر الصقلي
- ٣ - محمد يونس القاضي

( ب )

- ١ - تترك الإجابة للتلميذ حسب محافظته .
- ٢ - يوضح التلميذ رأيه .
- ٣ - يتم في العيد القومي للمحافظة افتتاح المشروعات الجديدة .
- ٤ - تترك الإجابة للتلميذ .
- ٥ - سوف يبقى التكديس والازدحام ويزيد في العاصمة الحالية .

## الاختبار الثالث

## السؤال الأول : ( أ )

- ١ - مرسى مطروح ٢ - سيناء ٣ - العيونات
- ٤ - السد العالي ٥ - خليج السويس ٦ - القاهرة

( ب )

- ١ - الصحراء الغربية ٢ - مقياس الرسم
- ٣ - البحر المتوسط ٤ - النهر

## السؤال الثاني : ( أ )

- ١ - صح ٢ - خطأ
- ٣ - خطأ ٤ - صح

( ب )

- ١ - يؤدي إلى زيادة الادخار وبالتالي حدوث التنمية الاقتصادية .

٣ - لأنها تحدد المواقع الحربية .

٤ - لأن الادخار يؤدي إلى التنمية الاقتصادية .

## السؤال الثالث : ( أ )

- ١ - مقياس الرسم ٢ - جوهر الصقلي
- ٣ - الجزيرة ٤ - القبض على الخارجين عن القانون

( ب )

- ١ - يؤدي ذلك إلى تدهور التربة الزراعية .
- ٢ - أدى إلى تقليل زمن مرور السفينة في القناة .
- ٣ - سوف يؤدي إلى تخفيف الضغط والتكديس على العاصمة الحالية .

## السؤال الرابع : ( أ )

- ١ - حرفة الزراعة ٢ - حرفة الرعي وحرفة التعدين
- ٣ - حرفة الصيد

( ب )

- ١ - وجه قبلي ٢ - وجه بحري
- ٣ ، ٤ - محافظات الحدود الصحراوية .
- ٥ - وجه قبلي

## الاختبار الثاني

## السؤال الأول : ( أ )

- ١ - السويس ٢ - العقبة
- ٣ - الوادي الجديد ٤ - العيونات

( ب )

- ١ - الجزيرة ٢ - النهر
- ٣ - المناخ ٤ - شعار المحافظة

## السؤال الثاني : ( أ )

- ١ - يؤدي ذلك إلى كثرة تلوث البيئة .
- ٢ - يؤدي ذلك إلى جذب السياح لمشاهدتها .
- ٣ - يؤدي إلى قيام الجيش بتحديد المواقع الحربية .
- ٤ - يؤدي إلى معرفة الملابس التي سوف ترتديها وأحوال الطرق السريعة .

( ب )

- ١ - صناعة الخزف .
- ٢ - صناعة مستحضرات التجميل .
- ٣ - صناعة الخلايا الشمسية .

## الاختبار الرابع

## السؤال الأول :

- ١ - ساحلية  
٢ - زراعية  
٣ - صحراوية  
٤ - ناصر

## السؤال الثاني :

- ١ - إفريقيا  
٢ - أجب بنفسك  
٣ - القاهرة  
٤ - بحر الرمال العظيم  
٥ - الهواء

## السؤال الثالث :

- ١ - صح  
٢ - خطأ  
٣ - خطأ  
٤ - صح

## السؤال الرابع :

- ١ - لأنه يعتبر رمزاً للدولة .  
٢ - أقول له يجب المحافظة على المياه لأهميتها في حياتنا .  
٣ - الطاقة المتجددة طاقة نظيفة غير ملوثة للبيئة .

## الاختبار الخامس

أجب بنفسك .

## الاختبار السادس

أجب بنفسك .

٢ - يقلل من زمن عبور السفينة في القناة .

٣ - نستطيع تحديد نوع الملابس التي سوف نرتديها .

## السؤال الثالث : ( أ )

- ١ - جهاز الأنيومتر  
٢ - سيد درويش  
٣ - إفريقيا  
٤ - إدارية

## ( ب )

- ١ - يعبر عن التضحية من أجل الوطن في علم مصر .  
٢ - يعبر عن السلام في علم مصر .  
٣ - تلون به المناطق المرتفعة على الخريطة .  
٤ - تلون به المناطق المنخفضة مثل السهول والمنخفضات على الخريطة .

## السؤال الرابع : ( أ )

- ١ - القاهرة  
٢ - جنوب سيناء  
٣ - أسوان  
٤ - الوادي الجديد

## ( ب )

- ١ - ترك الإجابة للتلميذ .  
٢ - أ - يتم قياس درجة الحرارة بجهاز الترمومتر .  
ب - يتم عمل الخرائط التفصيلية باستخدام الصور الجوية .  
٣ - لأنها تقلل من زمن عبور السفينة في القناة ، وتسمح بمرور السفن في الاتجاهين ، واستيعاب سفن أكبر حجماً وحمولة .

تم بحمد الله وعونه ، مع أطيب التمنيات بالنجاح والتفوق

# الدراسات الاجتماعية

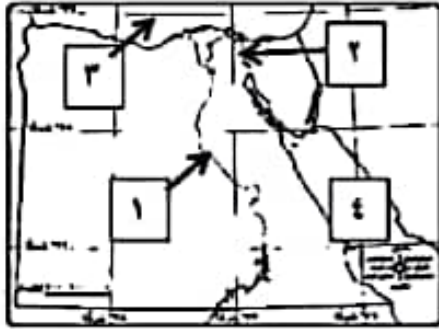
نماذج استرشادية مجانية

الصف الرابع الابتدائي

الفصل الدراسي الأول

الورقة الأولى

٧



السؤال الأول: ( أ ) انظر الى الخريطة التي أمامك ثم أجب :

- ١- يشير رقم (١) على الخريطة إلى نهر .....
- ٢- يشير رقم (٢) على الخريطة إلى قناة .....
- ٣- يشير رقم (٣) على الخريطة إلى البحر .....
- ٤- يشير رقم (٤) على الخريطة إلى البحر .....

(ب) (مساحة من اليابس تضم مجموعة من المراكز أو الأحياء) تعبر هذه العبارة عن مصطلح هام هو .....

(ج) اكتب ما يدل علي : تنوع مظاهر السطح في مصر

.....

٨

السؤال الثاني: (أ) ضع خطأ تحت الإجابة الصحيحة مما بين القوسين:

- ١- يتسبب حرق قش الأرز في تلوث ..... (التربة- العياء- الهواء- الصحراء).
- ٢- تخلو مصر من البيئة ..... (الزراعية - الصحراوية - القطبية - الساحلية).

(ب) في ضوء ما درست : أي من الصورتين التاليتين تسهم بشكل ايجابي وأيهما بشكل سلبي على المناخ :



تؤثر بشكل .....



تؤثر بشكل .....

(ج) اكتب نتيجة واحدة : لإنشاء العاصمة الإدارية الجديدة

.....

## الورقة الثانية

السؤال الثالث: (أ) اكتب كلمة (صواب) أمام العبارة الصحيحة وكلمة (خطأ) أمام العبارة غير الصحيحة:

٧

- ١- تُعد بحيرة المد العالي من البحيرات الطبيعية في العلم. ( )
- ٢- إذا أردت الذهاب في رحلة إلى ساحل البحر الأحمر فعليك الاتجاه إلى غرب مصر ( )
- ٣- تستخدم الأقمار الصناعية في التقاط الصور الجوية . ( )
- ٤- كلما زاد عدد السكان في المدينة زادت نسبة تلوث الهواء بها . ( )
- ٥- يساعد الاهتمام بالحرف اليدوية على ازدهار الاقتصاد المصري . ( )

(ب) حدد اثنين من : السلوكيات المعبرة عن احترامك لعلم مصر

١- .....

٢- .....

السؤال الرابع: ( أ ) أكمل الجدول التالي

حدد أوجه الشبه والاختلاف بين الموارد المتجددة والموارد غير المتجددة مستخدماً تلك الكلمات (لا تفتد- تفتد- موارد طبيعية- التربة- الحديد- المياه-البترو- الشمس- المنجيز)

الموارد غير المتجددة	الموارد المتجددة	من حيث
		الشبه
		الاختلاف
		أمثلة

( ب ) : أمامك صورة لإحدى الحرف التراثية في مصر اكتب مقترحاً لإحيائها .

المقترح هو :

.....



انتهت الأسئلة مع أطيب التمنيات بالتوفيق



نموذج إجابة امتحان الصف الرابع ( الامتحان الأول )

إجابة السؤال الأول : ٧ درجات

( أ ) ٤ درجات

١- نهر النيل ٢- قناة السويس ٣- المتوسط ٤- البحر الأحمر

( ب ) درجة واحدة

المحافظة

( ج ) درجتان

حيث توجد الجبال والتلال والهضاب والسهول والأودية والمنخفضات والبحار ( أي امثلة يكتبها الطالب منطقياً وعلمية تقدر صحیحة ويكتفى بأربعة لمظاهر المسطح في مصر )

إجابة السؤال الثاني : ٨ درجات

( أ ) درجتان لكل مفردة درجة

١- الهواء ٢- القطبية

( ب ) اربع درجات لكل مفردة درجتان

١- طاقة الرياح تسهم بشكل إيجابي ٢- دخان المصانع يسهم بشكل سلبي

( ج ) درجتان

لتخفيف الضغط السكاني وتكسب الخدمات عن القاهرة ( أي اجابة منطقية علمية سليمة )

إجابة السؤال الثالث : ٧ درجات

( أ ) ٥ درجات لكل مفردة درجة

١- خطأ ٢- خطأ ٣- خطأ ٤- صواب ٥- صواب

( ب ) درجتان

الوقوف باحترام أثناء تحية العلم ، عدم الكتابة أو الرسم عليه ( أي اجابة منطقية علمية سليمة )

إجابة السؤال الرابع : ٨ درجات

( أ ) ٦ درجات ( يكتفى بمثل واحد)

الموارد غير المتجددة	الموارد المتجددة	
موارد طبيعية	موارد طبيعية	التشابه
تنفذ	لا تنفذ	الاختلاف
البترول	الرياح	امثلة

( ب ) درجتان

اجابة استرشادية

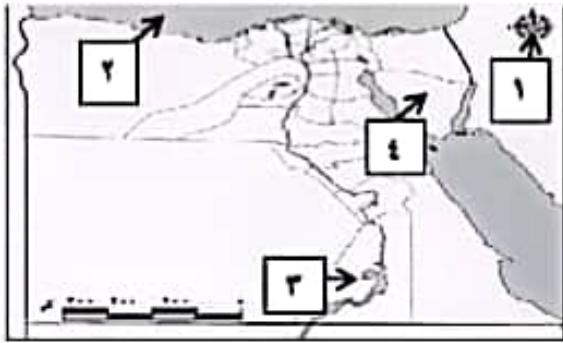
اعداد برامج تدريبية للعمال لتعليمهم المهارات الخاصة ببعض الحرف ، عمل مهرجانات واحتفالات سنوية للحرف التراثية

( أي اجابة منطقية علمية سليمة )

### الورقة الأولى

س ١: (أ) لاحظ الخريطة المقابلة وأجب عن الأسئلة:

- ١- يشير رقم (١) إلى .....
- ٢- يشير رقم (٢) إلى .....
- ٣- يشير رقم (٣) إلى بحيرة .....
- ٤- يشير رقم (٤) إلى محافظة .....



(ب) حدد أوجه الشبه والاختلاف بين

- المصادر الأولية والمصادر الثانوية

من حيث	المصادر الأولية	المصادر الثانوية
الشبه		
الاختلاف		

(ج) اكتب ما تشير إليه العبارة :

" إحدى المبادرات التي تهتم بصحة المواطن واستهدفت الكشف المبكر عن الإصابة ببعض الأمراض "

.....

س ٢: ( أ ) أمامك صورتين تأملهما جيداً ثم أجب :

(٢)



(١)



- ١- الصورة ( أ ) تعبر عن تلوث .....
- ٢- الصورة ( ب ) تعبر عن تلوث .....

( ب ) اكمل الجمل التالية من بنك الكلمات : ( الأبيض - التعليم - الأسود - الترفيه )

- ١- لون في علم مصر يدل على ما تعرضت له من ظلم في فترات الاستعمار هو اللون .....
- ٢- تلص اتفاقية حقوق الطفل على حقه في المشاركة والرعاية و .....

(ج) حدد سببا لأهمية معرفتك لأحوال لطقس يومنا ؟

.....

## الورقة الثانية

٧

السؤال الثالث:

- (أ) اكتب كلمة (صواب) أمام العبارة الصحيحة وكلمة (خطأ) أمام العبارة غير الصحيحة :
- ١- توفر الخدمات الإلكترونية المزيد من الوقت والجهد والمال. ( )
  - ٢- اتخذ علم مصر شكل واحدًا على مر التاريخ. ( )
  - ٣- يجب علينا تحري دقة المعلومات قبل نشرها. ( )
  - ٤- يساعد الاهتمام بالحرف اليدوية على ازدهار الاقتصاد المصري. ( )
  - ٥- لك حقوق وعليك أيضا واجبات تزيديها. ( )
- (ب) اكتب تفسيراً لوجود الزراعة في الصحراء الغربية؟

٨

السؤال الرابع :ضع خطاً تحت الإجابة الصحيحة فيما بين القوسين

- ١- إذا أردت زيارة معظم الوزارات فعليك التوجه إلى محافظة ..... .  
(الإسماعيلية - القاهرة - الإسكندرية - الفيوم )
  - ٢- تخيل أنك من سكان محافظة بورسعيد وتريد السفر إلى مدينة مرسى مطروح فإليك تتجه نحو ..... .  
(الشمال- الجنوب- الشرق - الغرب)
  - ٣- إذا أردت تلوين بحيرة قارون على الخريطة فإليك تختار اللون ..... .  
( البني - الأخضر- الأزرق- الأصفر )
  - ٤- المورد الطبيعي الذي يتعرض للنفاد نتيجة الإسراف في استخدامه ..... .  
( المياه - الشمس - الهواء - البترول )
  - ٥- الحرفة التي يوجد شارع باسمها في محافظة القاهرة هي ..... .  
(النسيج - الخيامية - الزجاج - السجاد)
  - ٦- أطلقت الدولة المصرية مبادرة لحماية البيئة والحفاظ على الموارد هي مبادرة : ..... .  
(تحضر للأخضر - تحضر للمستقبل - التنمية الاقتصادية - ١٠٠ مليون صحة )
- (ب) اكتب مقترحاً واحداً: لتطوير بعض الخدمات في محافظتك؟

انتهت الأسئلة مع اطيب التمنيات بالتوفيق

نموذج إجابة امتحان الصف الرابع ( الامتحان الثاني )

إجابة السؤال الأول : ٧ درجات

( أ ) ٤ درجات

٢- البحر المتوسط

١- وردة البوصلة

٤- جنوب سيناء

٣ - بحيرة ناصر ( المد )

( ب ) درجتان

المصادر الثانوية	المصادر الأولية	البيان
نحصل منهما على المعلومات		التشابه
تم تدوينه بعد مرور زمن طويل من وقت الحدث	تم تدوينه زمن وقوع الحدث	الاختلاف

( ج ) درجة واحدة ١٠٠ مليون صحة

إجابة السؤال الثاني : ٨ درجات

( أ ) ٤ درجات

٢ - تلوث الهواء

١- تلوث المياه

( ب ) درجتان

٢- التعليم

١- الأسود

( ج ) درجتان

لأن معرفة حالة الطقس تساعدنا على اتخاذ قرارات يومية مثل نوع الملابس والتنزه والسفر بأي أنواع المواصلات

إجابة السؤال الثالث : ٧ درجات

( أ ) ٥ درجات

٣- صواب

٢- خطأ

١ - صواب

٥- صواب

٤ - صواب

( ب ) درجتان وجود المياه الجوفية في الواحات

إجابة السؤال الرابع : ٨ درجات

( أ ) ٦ درجات

٣- الأزرق

٢- الغرب

١ - القاهرة

٦- اتحضر للأخضر

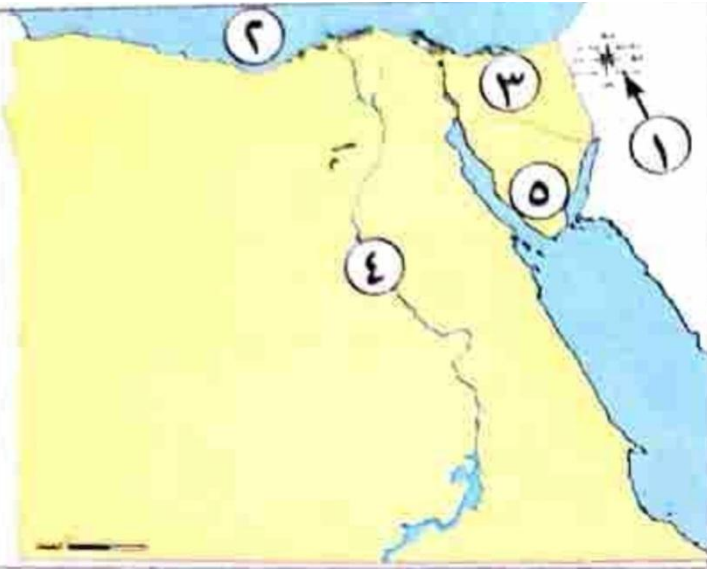
٥- الخيامية

٤- البترول

( ب ) درجتان

( أي إجابة منطقية علمية سليمة في ضوء احتياجات المحافظة )

اسم الطالب / ..... نموذج ( ١ ) دراسات



السؤال الأول (١) لاحظ الخريطة، ثم أجب:

- ١ - عنصر من عناصر الخريطة .....
- ٢ - البحر .....
- ٣ - إحدى محافظات الحدود .....
- ٤ - مورد للمياه العذبة .....
- ٥ - شبه جزيرة .....

اكتب تفسيرا : للرمال البيضاء أهمية اقتصادية .....

اكتب نتيجة واحدة تترتب على وجود المياه الجوفية في الصحراء الغربية .....

السؤال الثاني (١) اختر الإجابة الصحيحة مما بين القوسين

- ١ - المعلومات التي تم التأكد من صحتها هي ..... ( حقائق - آراء - خيال - معتقدات )
- ٢ - مساحة شاسعة من المياه المالحة ذات أعماق كبيرة ، تنطبق هذه العبارة على .....  
(نهر النيل - البحر المتوسط - المحيط الهادي - بحيرة ناصر)
- ٣ - يدل اللون ..... في علم مصر على السلام. (الذهبي - الأسود - الأحمر - الأبيض )
- ٤ - تحتفل العاصمة المصرية بعيدها القومي في ذكرى .....  
(بناء مدينة القاهرة - بناء الجامع الأزهر - حفر قناة السويس - جلاء القوات الإنجليزية)
- ٥ - إنشاء الحدائق والمنتزهات، يعتبر من الخدمات ..... ( الترفيهية - الثقافية - الأمنية - الصحية )
- ٦ - مساحة واسعة من اليابس تضم عدداً من الدول، تنطبق هذه العبارة على .....  
(إفريقيا - مصر - اسبوت - الدلتا)

( ب ) صوب ما تحته خط

- ١ - لمعرفة اتجاه الرياح نستخدم الترمومتر. ....
- ٢ - يقوم البنك الأهلي بإصدار النقود الورقية.....

السؤال الثالث (١) اكتب كلمة ( صواب ) أمام العبارة الصحيحة، وكلمة ( خطأ ) أمام العبارة غير الصحيحة

- ١ - تلون بحيرة البرلس على الخريطة باللون البني. ( )
- ٢ - يتم توليد الطاقة الكهرومائية من السد العالي. ( )
- ٣ - تنتشر صناعة الفخار في شارع الخيامية في القاهرة. ( )
- ٤ - لكل محافظة شعار يعبر عن نشاط سكانها أو جزء من تاريخها. ( )
- ٥ - البترول والفحم من مصادر الطاقة التي تحتاج لآلاف السنين لتكوينها. ( )

(ب) صنف المصدرين التاليين داخل الجدول

خطاب رسمي للملك فاروق

موسوعة التاريخ الحديثة

مصدر أولي	مصدر ثانوي

السؤال الرابع صل من العمود ( أ ) ما يناسب العمود ( ب )

( ب )

( أ )

- ١- يقوم بتصغير المسافات الحقيقية لرسمها على الخريطة
- ٢ - - السجاد اليدوي من الحرف
- ٣- حصول الأطفال الرضع على الألبان المليئة بالفيتامينات.
- ٤ - تسعى الدولة لتوفير المياه من خلال .
- أ - حق التغذية السليمة
- ب - تخزين مياه الامطار
- ج - مقياس الرسم
- د - المدرج على قائمة التراث العالمي

(ب) أكمل العبارات الآتية بما يناسبها من كلمات:

- ١ - تلتقط الصور الجوية بواسطة.....
- ٢ - محافظة الأقصر من محافظات الوجه.....
- ٣ - نهر النيل يقع في البيئة.....
- ٤ - يسبب حرق قش الأرز تلوثاً.....

اسم الطالب / ..... نموذج ( ٢ ) دراسات

السؤال الأول (١) أمامك خريطة صماء لمصر، وضح مدلول الأرقام عليها:



١ - يشير رقم (١) إلى البحر .....

٢ - يشير رقم (٢) إلى .....

٣ - يشير رقم (٣) إلى محافظة.....

٤ - الصحراء .....

صل الجمل الآتية بما يناسبها من العمود الآخر:

(ب)

(١)

الخريطة

١ - جزيرة تقع في البحر الأحمر

القطارة

٢ - تستخدم في تحديد المواقع

شدوان

٣ - أكبر المنخفضات في مصر

السؤال الثاني (١) صنف العلاقات المتشابهة :

الأنيمومتر - الأزهر - الهواء - البنك المركزي

توجد صناعة الخيامية في	ادخنة المصانع تلوث	تقاس سرعة الرياح بـ	تقوم بإصدار النقود

( ب ) صوب ما تحته خط فيما يلي:

١ - يعبر اللون الأسود في علم مصر عن السلام .....

٢ - من مصادر الطاقة الحفرية الشمس .....

٣ - من الخدمات الصحية بناء المدارس .....

٤ - لحل مشكلة تلوث المياه استخدام الدراجات .....

## السؤال الثالث (١) اختر الإجابة الصحيحة . مما بين القوسين

- ١ - من الحرف المدرجة على قائمة التراث العالمي لليونسكو صناعة .....  
 (ورق البردى - الفخار - الزجاج - السجاد اليدوي)
- ٢ - " قناة السويس تصل بين البحر الأحمر والبحر المتوسط " هذه العبارة تعبر عن .....  
 (حقيقة - رأي - وجهة نظر -
- ٣ - آسيا هي مساحة واسعة من اليابسة، تضم عدة دول فهي .....(محافظة - دولة - قارة - جزيرة)
- ٤ - عند كتابة بحث عن أهمية موقع مصر الجغرافي ، يمكنك الاستعانة بأحد مؤلفات .....  
 ( طه حسين - جمال حمدان - محمد يونس - سيد درويش )
- ٥ - وضع حجر الأساس لمدينة القاهرة .....(أحمد بن طولون - عمرو بن العاص - جوهر الصقلي)

(ب) اكتب سبباً واحداً لإطلاق الدولة حملة ١٠٠ مليون صحة

## السؤال الرابع : ضع علامة ( ✓ ) أو علامة ( × ) أمام العبارات التالية

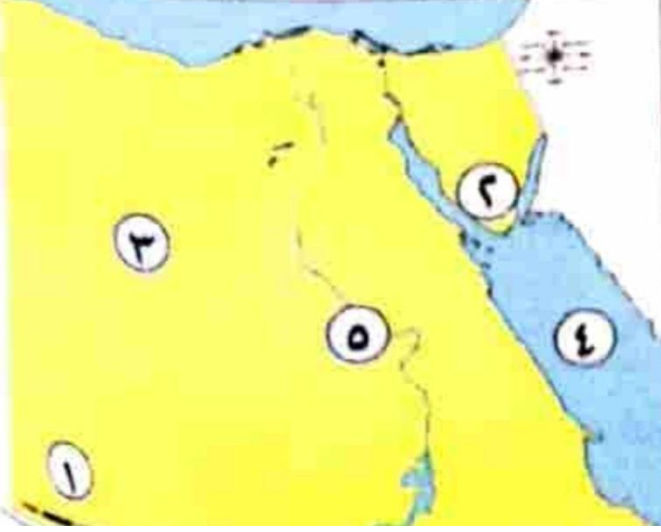
- ١ - يتكون العالم من سبع قارات وثلاثة محيطات. ( )
- ٢ - الحياة المستدامة هي أسلوب حياة يهدف إلى التعامل بشكل مسئول مع موارد بيئتنا ( )
- ٣ - استخدم نهر النيل كطريق للتجارة بين مصر ودول آسيا. ( )
- ٤ - أنت تتمتع بحقوق، ولديك واجبات لا بد من القيام بها. ( )
- ٥ - نعرف المسافة بين القاهرة والإسكندرية من عنوان الخريطة. ( )
- ٦ - تعتبر محافظة الجيزة من محافظات الحدود. ( )

(ب) ما النتائج المترتبة على : سوء استخدامنا للموارد الطبيعية ؟



اسم الطالب / ..... نموذج ( ٣ ) دراسات

السؤال الأول (١) امامك خريطة صماء لمصر، وضح مدلول الأرقام عليها:



١ - هضبة .....

٢ - جبل .....

٣ - الصحراء .....

٤ - البحر .....

ما سبب تلوث الهواء ؟ .....

حدد سببا واحدا لأهمية الخريطة .....

السؤال الثاني (١) ضع علامة (√) أمام العبارة الصحيحة، وعلامة (X) غير الصحيحة

١ - لكل طفل الحق في الرعاية والتعليم والصحة . ( )

٢ - يمكنك الاستمتاع بالشعاب المرجانية عند زيارتك لسواحل البحر المتوسط. ( )

٣ - يتغير المناخ من يوم إلى آخر كما يتغير عدة مرات في اليوم الواحد. ( )

٤ - إطفاء المصابيح غير المستخدمة يعد من أشكال ترشيد استهلاك الطاقة. ( )

بم تفسر...؟

أهمية قناة السويس .....

الأهمية الاقتصادية للرمال البيضاء .....

السؤال الثالث ( ١ ) اختر الإجابة الصحيحة ما بين القوسين فيما يلى :

- ١ - تقع مصر في الركن ..... من قارة إفريقيا.  
( الشمالي الغربي - الشمالي الشرقي - الجنوبي الغربي - الشمالي )
- ٢ - عاصمة جمهورية مصر العربية .....  
( الجيزة - الدقهلية - أسيوط - القاهرة )
- ٣ - يوجد في شعار الخاص بمحافظة القاهرة جامع .....  
( السلطان حسن - عمرو بن العاص - أحمد بن طولون - الأزهر الشريف )

( ب ) ما النتائج المترتبة على ...؟

- حرق قش الأرز .....
- وجود المياه الجوفية في الصحراء الغربية .....

السؤال الرابع ( ١ ) أكمل العبارات التالية بكلمات مناسبة من بين القوسين

(الزعرانة - السجاد اليدوي - مصر - ١٠٠ مليون صحة )

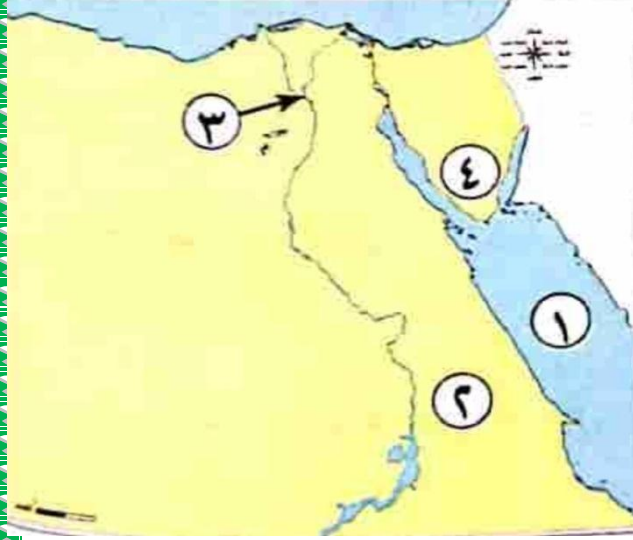
- ١ - صناعة ..... من الصناعات التي وضعتها منظمة اليونسكو على قائمة التراث العالمي.
- ٢ - أول بنك وطني في تاريخ مصر هو بنك .....
- ٣ - تهدف مبادرة ..... إلى الكشف المبكر عن الأمراض.
- ٤ - يتم توليد الكهرباء من الرياح في محطة .....

(ب) صوب ما تحته خط في العبارات التالية :

- ١ - تنتشر حرفة الزراعة وتربية الحيوانات في البيئة الصحراوية .....
- ٢ - يتوسط علم مصر صقر لونه أصفر ذهبي . .....
- ٣ - تطل مصر من الشمال على البحر الأحمر. .....
- ٤ - الحاجات هي الأشياء التي سيكون من الجيد الحصول عليها ، ولكنك تستطيع العيش بدونها.

اسم الطالب / ..... نموذج ( ٤ ) دراسات

السؤال الأول (١) أمامك خريطة صماء لمصر، وضح مدلول الأرقام عليها :



١ - البحر .....

٢ - الصحراء.....

٣ - محافظة بها محطة الكريماث .....

٤ - جبل.....

(ب) حدد سببا واحدا لكل من:

إنشاء العاصمة الإدارية الجديدة .....

وجود النسر في وسط علم مصر .....

السؤال الثاني (١) اكتب كلمة (صواب) أمام العبارة الصحيحة، وكلمة (خطأ) أمام العبارة غير الصحيحة:

١ - مقياس الرسم من العناصر الأساسية في الخريطة. ( )

٢ - تتميز الحقيقة بالدقة والموضوعية. ( )

٣ - محافظة الإسكندرية من محافظات الوجه القبلي. ( )

٤ - يرتبط العيد القومي للمحافظة بحدث تاريخي أو ذكرى . ( )

٥ - نهر النيل من موارد المياه المالحة في مصر . ( )

٦ - تنتشر الكثبان الرملية في الصحراء الغربية . ( )

(ب) اكتب نتيجة واحدة :

وجود المياه الجوفية في الصحراء الغربية " .....

## السؤال الثالث (١) اختر الإجابة ال الصحيحة مما بين القوسين

- ١ - البيئة التي تشغل معظم مساحة مصر هي البيئة ( الساحلية - الزراعية . الصحراوية - الصناعية )
- ٢ - الإسراف في استخدام الأسمدة الكيماوية في الزراعة يؤدي إلى تلوث .....
- ( الهواء - البحار - التربة - المحيطات )
- ٣ - يعد من الموارد الطبيعية المتجددة ..... ( الفحم - الماء - البترول - الحديد )
- ٤ - صناعة السجاد اليدوي تنتشر في محافظة ..... (القاهرة - الجيزة - الدقهلية - أسوان)
- ٥ - حماية جيشنا المصري تعد ضمن الخدمات..... ( - البيئية - الصحية - الأمنية - الثقافية )

## (ب) ماذا يحدث إذا...؟

- لم توجد وردة البوصلة على الخريطة.....

## السؤال الرابع (١) أكمل العبارات الآتية بكلمات مناسبة :

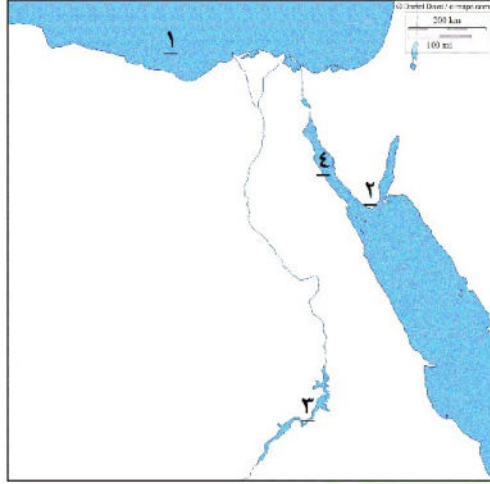
- ١ - تقع مصر في الركن الشمالي الشرقي من قارة .....
- ٢ - الحدود التي تفصل المحافظات عن بعضها تسمى حدوداً .....
- ٣ - الصحراء البيضاء في مصر جزء من الصحراء .....
- ٤ - اتجهت مصر إلى استخدام مصادر الطاقة.....
- ٥ - الأطباق والسلال الملونة تصنع من .....
- ٦ - اتفاقية حقوق الطفل التي صدرت عن الأمم المتحدة تعد من الجهود .....

## (ب) دلل على صحة العبارة الآتية:

تتنوع مظاهر السطح في مصر .....



**أمتحان (١) شامل المنهج كله**



**السؤال الأول (أ) الخريطة**

- ١- البحر .....
- ٢- جبل .....
- ٣- بحيرة .....
- ٤- خليج .....

**(ب) مالمقصود بكلا من :**

- السلع: .....
- المحافظة: .....

**السؤال الثاني: اختر الإجابة الصحيحة:**

- ١- أي من التالي يعد من حقوق الطفل في مصر .....
- (الرعاية الصحية - المحافظة على البيئة - مساعدة افراد الأسرة)
- ٢- يحصل الطفل علي التعليم المناسب في.....
- (المستشفيات - المدارس - الشوارع)
- ٣- اختصار نظام تحديد المواقع العالمي هو ..
- ( GPC - CPC - GPS - PGS )
- ٤- يعتمد نظام تحديد المواقع العالمي علي صور.....
- ( الخرائط - الأقمار الصناعية - هيئة المساحة - الأرصاد )
- ٥- نهر النيل و بحيرة ناصر يتشابهان في ان كليهما يتكون من .....
- ( مياه مالحة - مياه عذبة -اليابس - المحيط )
- ٦- اي من البحيرات التاليه يوجد بها مياه عذبه ؟
- ( ناصر - ادكو- البرلس - قارون )





**بم تفسر :**

١- وجود نهر النيل بأرض مصر

.....

٢- اختيار القاهرة عاصمة لمصر ؟

.....

س: ما اهمية الثروه النباتيه ؟

.....

**السؤال الرابع (أ) ضع علامة (✓) أمام العبارات الصحيحة أو علامة (\*) أمام العبارات غير الصحيحة**

٢ - محافظة الاسكندرية هي عاصمة مصر الحالية ( )

٢ - تقع محافظة دمياط ضمن محافظات الوجه القبلي ( )

٣- احترام علمنا واجب وطني لأنه رمز للدولة ( )

٤- مع التقدم التكنولوجي ظهرت مهن لم تكن موجودة ( )

٥- الأنشطة التجارية تنتشر في المناطق الساحلية ( )

**(ب) حدد المختلف في المجموعة**

الاسم المناسب - المسكن اللائق - المحافظة على البيئة - التعليم المناسب

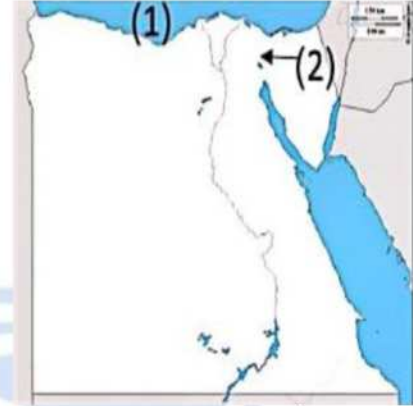
Egyptian Virtual School





### اختبار ٢

السؤال الاول امامك خريطة صماء لمصر لاحظها ثم حدد ما تشير اليه الارقام في السؤالين التاليين



- يشير رقم ١ الي البحر .....
- يشير رقم ٢ الي قناة .....

### (ب) ما المقصود بكل من :

- ..... الموارد الطبيعية
- ..... الجبال
- ..... شبكة الاحداثيات

### السؤال الثاني: اختر الإجابة الصحيحة:

- يعد بناء المستشفيات من الخدمات .....
- (الأمنية - التعليمية - الصحية)

- المياه الجوفية توجد في واحات الصحراء .....
- أ. الشرقية
- ب. الغربية
- ج. العربية
- د. الشمالية

- اي من البحيرات التاليه يوجد بها مياه عذبه ؟
- ( ناصر - ادكو - البرلس - قارون )

- نهر النيل و بحيرة ناصر يتشابهان في ان كليهما يتكون من .....
- أ- مياه مالحة
- ب- اليابس
- ج- مياه عذبه
- د- المحيط





**السؤال الثالث بم تفسر :**

(١) اختفاء مهن وظهور مهن أخرى؟

.....

.....

(٢) تسمية الصحراء البيضاء بهذا الاسم؟

.....

.....

(٣) تلوث المياه في مصر؟

.....

.....

**السؤال الرابع (أ) ضع علامة (✓) أمام العبارات الصحيحة أو علامة (✗) أمام العبارات غير الصحيحة**

- يؤثر عدد سكان الدولة علي تحديد الأنشطة الاقتصادية ( )

- مصادر الطاقه تنتشر في الصحاري المصريه ( )

- اللون الاحمر في العلم المصري يعبر عن الظلم في فترة الاستعمار ( )

- الأنشطة التجارية تنتشر في المناطق الساحلية ( )

- محافظة الاسكندرية هي عاصمة مصر الحالية ( )

(ب) اشرح اثنين من اسباب تلوث الهواء في مصر

.....

.....

Egyptian Virtual School

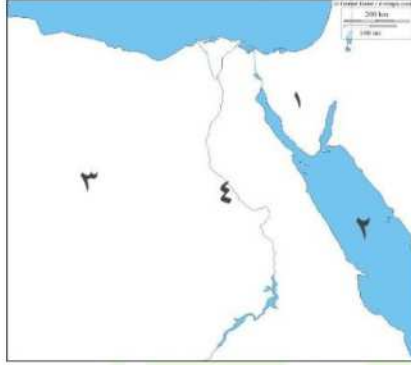






### اختبار ( ٣ )

#### ١- امامك خريطة صماء لمصر اكتب مدلول الأرقام:



- ١- تقع بين خليج العقبة وخليج السويس.....
- ٢- بحر يقع شرق مصر.....
- ٣- أراض صحراوية غرب مصر.....
- ٤- نهر يجري في مصر.....

#### ثانيا: صوب ما تحته خط

- ١- مقياس الرسم يساعد على تحديد الاتجاهات ( )
- ٢- تربط قناة السويس بين البحر المتوسط ونهر النيل ( )
- ٣- الجيزة هي عاصمة مصر ( )

#### ثالثا: اكمل العبارات الآتية

- اوروبا - الاحداثيات - العلم - تحديد المواقع العالمي - الإدارية
- ١- خطوط الطول ودوائر العرض من مكونات شبكة.....
  - ٢- قناة السويس اختصرت المسافة بين اسيا و.....
  - ٣- الخطوط التي تفصل بين المحافظات على الخريطة تسمى حدود.....
  - ٤- نظام يساعد على تحديد اتجاهات السير في الأماكن.....
  - ٥- رمز يتخذ كل بلد ويرمز لتاريخها.....





الإجابة الصحيحة

١- مصادر تتميز بدقة المعلومات ومعاصرتها للأحداث هي المصادر.....

(الأولية - البيانية - الثانوية)

٢- ادخنة المصانع تؤدي الي تلوث.....

(التربة - المياه - الهواء)

٣- الرمال المستخدمة في صناعة الخزف هي رمال.....

(البيضاء- السوداء- الذهبية)

خامسا: ما النتائج المترتبة على؟

١- حرق قش الأرز.....

٢- اتساع مساحة مصر.....

٣- انتشار الادخنة الناتجة عن عوادم السيارات.....

Egyptian Virtual School

